

Nom :

Prénoms :

Contacts :

Classe :

Établissement :

Proverbe :

Au GEA :

Lieu de bosse :

Groupe de bosse :

**J'aurai mon BEPC 2023
inch'ALLAH.**

Avant - propos

La « **COLLECTION LE VALIDEUR** » est un document des collectifs des enseignants **du GEA (Groupe Excellence Académique)**, structure d'encadrement des élèves en classe d'examen (**BEPC et BAC**) qui organise **des cours en présentiel et en ligne**. Ce document a pour but de préparer efficacement nos candidats(es) au BEPC. Ce document est conçu à partir de devoirs, de sujets de BEPC blanc de plusieurs établissements et de sujets de BEPC national de la Côte d'Ivoire.

En espérant que vous en ferez bon usage, tous nos vœux de bonheur vous accompagne et que l'obtention de votre « **BEPC 2023** » soit la récompense de vos efforts.

Le GEA vous remercie pour la confiance et vous souhaite une très bonne chance au BEPC 2023.

Auteur :
**LE COLLECTIF DES
ENSEIGNANTS DU GEA**

Contacts : 0564827464/0779815387

SOMMAIRE

Parties	Pages
PARTIE 1 : MATHÉMATIQUES	5 à 24
PARTIE 2 : PHYSIQUE – CHIMIE	26 à 49
PARTIE 3 : COMPOSITION FRANÇAISE	51 à 60
PARTIE 4 : HISTOIRE GÉOGRAPHIE	62 à 74



PARTIE 1
MATHEMATIQUES

Groupe Excellence

Académique



MATHÉMATIQUES

Coefficient : 3

Durée : 2h

SUJET 1

Cette épreuve comporte deux (02) pages numérotées 1/2 et 2/2.

L'usage de la calculatrice scientifique est autorisé.

EXERCICE 1 (2 points)

Ecris sur ta copie le numéro de chacune des affirmations ci – dessous suivi de **VRAI** si l'affirmation est vraie ou de **FAUX** si l'affirmation est fausse. **Exemple : 5 – VRAI**

N°	AFFIRMATIONS
1	Si les vecteurs \overrightarrow{EF} et \overrightarrow{AI} sont opposés, alors $\overrightarrow{EF} = -\overrightarrow{AI}$.
2	$\overrightarrow{BC} = -4\overrightarrow{ST}$, alors $BC = 4ST$.
3	Si POQR est un parallélogramme, alors $\overrightarrow{PO} = \overrightarrow{RQ}$.
4	Pour vérifier que les vecteurs $\overrightarrow{AB} \begin{pmatrix} 2 \\ 4 \end{pmatrix}$ et $\overrightarrow{EF} \begin{pmatrix} -8 \\ 4 \end{pmatrix}$ sont orthogonaux, on calcule $2 \times (-8) - 4 \times 4$.

EXERCICE 2 (2 points)

Pour chacune des affirmations ci – dessous, trois réponses A, B et C sont données dont une seule est juste. Recopie sur ta feuille, le numéro de l'affirmation suivie de la lettre correspondant à la réponse juste.

Exemple : 6 - A

		A	B	C
1	x étant un nombre réel, $x \in [-2 ; 3[$ équivaut à	$-2 < x < 3$	$-2 < x \leq 3$	$-2 \leq x < 3$
2	L'amplitude de l'intervalle $[1 ; \sqrt{5}]$ est égale à	$\sqrt{5} - 1$	$\sqrt{5} + 1$	$1 - \sqrt{5}$
3	Le nombre $\sqrt{(-3)^2}$ est égale à	-3	9	3
4	L'équation $(2x - 8)(x + 8) = 0$ a pour solution :	$x = -8$ et $x = 4$	$x = 8$ et $x = -4$	$x = 8$ et $x = 4$

EXERCICE 3 (4 points)

On donne $A = (3x + 2)(x - 7) - (x - 7)^2$

- 1- Développe, réduis puis ordonne A suivant les puissances décroissantes de x .
- 2- En utilisant la factorisation, justifie que : $A = (x - 7)(2x + 9)$
- 3- On pose la fraction rationnelle $F = \frac{(x-7)(x+1)}{(x-7)(2x+9)}$
 - a) Détermine les valeurs de x pour lesquelles F existe.
 - b) Lorsque F existe, démontre que : $F = \frac{(x+1)}{(2x+9)}$.
 - c) Calcule la valeur numérique de F pour $x = -5$.

EXERCICE 4 (4 points)

On donne : $A = 2 - \sqrt{5}$ et $B = \frac{2-\sqrt{5}}{9-4\sqrt{5}}$

- 1- Montre que A est négatif.

- 2- Calcule A^2
- 3- Calcule $A \times B$ puis en - déduis que A et B sont inverse l'un de l'autre
- 4- Justifie que $B = -2 - \sqrt{5}$.
- 5- Sachant que $2,23 < \sqrt{5} < 2,24$, détermine un encadrement de B par deux décimaux consécutifs d'ordre 2.

EXERCICE 5 (4 points)

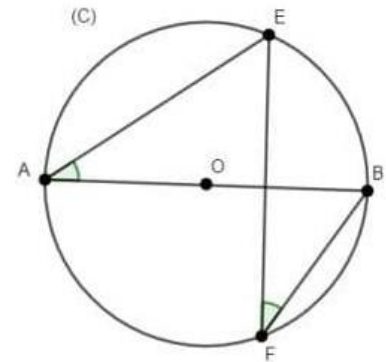
L'unité de mesure est le centimètre

Sur la figure ci-contre qui n'est pas en vraies grandeurs.

(C) est le cercle de centre O et de rayon 4cm.

[AB] est un diamètre de cercle (C).

On donne $BE = 6$; $AB = 8$



- 1-
 - a- Justifie que le triangle ABE est rectangle en E
 - b- Calcule la longueur AE
- 2- Justifie que : $mes \widehat{BAE} = mes \widehat{BFE}$
- 3- Démontre que : $\sin \widehat{BAE} = 0,75$
- 4- A l'aide de l'extrait de la trigonométrie suivante, détermine un encadrement de la mesure de l'angle \widehat{BAE} par deux nombre entiers naturels consécutifs.

Extrait de la table trigonométrique.

Mesure α°	47°	48°	49°	50°
$\sin \alpha^\circ$	0.731	0.743	0.755	0.766
$\cos \alpha^\circ$	0.682	0.669	0.656	0.643

EXERCICE 6 (4 points)

Lors de la célébration de la fête de l'indépendance, une course à pied a été organisée par une mairie de la région de la NAWA. Le plan du trajet DFOBA est représenté par les flèches sur la figure ci-dessous.

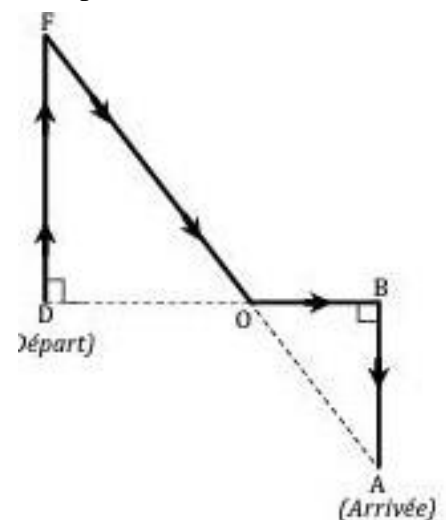
Deux élèves qui participent à la course, débattent de la distance totale à parcourir. Le premier élève affirme que la distance à parcourir est inférieur à 3km, tandis que le deuxième dit que cette distance est supérieure à 3 Km, Ils te sollicitent pour les départager.

Sur cette représentation qui n'est pas en dimension réelles :

- Les supports de segments [FO] et [OB] sont sécants en O
- Les triangle FOD et BOA sont respectivement rectangles en D et B
- Les supports de segment [DF] et [AB] sont parallèles.

L'unité étant le mètre on donne : $OF = 1000$; $OA = 500$; $\cos \widehat{DFO} = \frac{4}{5}$

- 1- Justifie que : $DF = 800$
- 2- Justifie que : $AB = 400$
- 3- On donne $OB = 300$
 - a) Détermine la distance totale à parcourir.
 - b) Dis, en justifiant ta réponse, lequel des deux élèves à raison.



Groupe Excellence
Académique



MATHEMATIQUES

Coefficient : 3
Durée : 2h
SUJET 2

Cette épreuve comporte deux (02) pages numérotées 1/2 et 2/2.
L'usage de la calculatrice scientifique est autorisé.

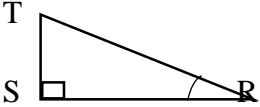
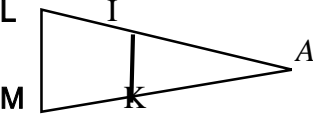
EXERCICE 1 (2 points)

Écris sur ta feuille de copie le numéro de chacune des affirmations ci-dessous suivies de VRAI si l'affirmation est vraie ou de FAUX si l'affirmation est fausse. **Exemple 1. VRAI**

- 1) Le nombre $\sqrt{(-3)^2}$ est égal à 3.
- 2) $\frac{m}{2} = \frac{5}{3}$ équivaut à $2m=15$
- 3) L'amplitude de l'intervalle $[\sqrt{2}; 3\sqrt{2}]$ est égale à $\sqrt{2}$

EXERCICE 2 (2 points)

Pour chaque ligne du tableau, une seule affirmation est juste. Écris sur ta copie, le numéro de la ligne et la lettre correspondant à l'affirmation juste. **Exemple 5-A**

N°	Affirmations	A	B	C
1	La réciproque de la propriété de Thalès sert à	Justifier que deux droites sont parallèles	Calculer une distance	Justifier que deux droites sont perpendiculaires
2	EFG est un triangle rectangle en E. D'après la propriété de Pythagore, on a :	$FG^2 = EF^2 + EG^2$	$EF^2 = EG^2 + FG^2$	$EG^2 = EF^2 + FG^2$
3	RST est un triangle rectangle en S. on a : 	$\cos \widehat{SRT} = \frac{RT}{RS}$	$\cos \widehat{SRT} = \frac{ST}{RT}$	$\cos \widehat{SRT} = \frac{RS}{RT}$
4	 (IK) // (LM). La propriété de Thalès permet d'écrire	$\frac{AI}{AL} = \frac{AM}{AK}$	$\frac{AI}{AL} = \frac{AK}{AM}$	$\frac{AI}{AM} = \frac{AL}{AK}$

EXERCICE 3 (4 points)

On donne : $A = [-4; 3[$ et $B = [0 ; 7]$

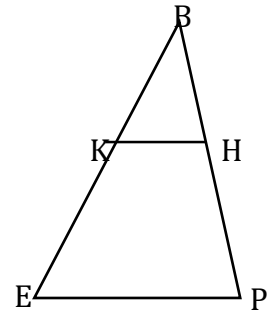
- 1) Représente les intervalles A et B sur une même droite graduée.
- 2) Écris plus simplement $A \cup B$ et $A \cap B$.

EXERCICE 4 (4 points)

L'unité de longueur est le centimètre (cm).

La figure ci-contre qui n'est pas en vraie grandeur.

On donne : $BE = 60$; $EP = 54$; $BK = 40$; $BH = 24$ et $HP = 12$.



- 1) Justifie que les droites (KH) et (ep) sont parallèles
- 2) Calcule KH.

EXERCICE 5 (4 points)

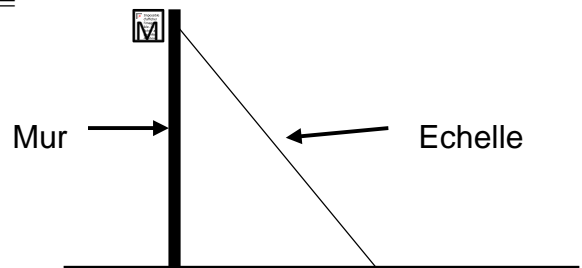
On donne les expressions F et G suivants : $F = (x - 3)^2 + (x - 3)(x + 4)$ et $G = \frac{14x+7}{(x-3)^2+(x-3)(x+4)}$

- 1) Justifie que : $F = (x - 3)(2x + 1)$
- 2-a) Déterminé les valeurs de x pour lesquelles G existe.
- b) Lorsque G existe, justifie que : $G = \frac{7}{x-3}$
- 3) Calcule la valeur numérique de G pour $x = \sqrt{2}$. (On écrira le résultat sans radical au dénominateur)

EXERCICE 6 (4 points)

Pour monter sur le toit de sa maison en vue d'une réparation, monsieur Bêma pose une échelle contre le mur comme l'indique le schéma ci-dessous. Pour que l'échelle ne glisse pas, il faut que la mesure de l'angle d'inclinaison de l'échelle par rapport à l'horizontale soit comprise entre 42° et 46° . Monsieur Bêma veut savoir si l'inclinaison de son échelle est bonne. On donne :

- la distance du pied de l'échelle au mur est $AB = 2,5$ mètres
- la longueur de l'échelle est $AM = 3,5$ mètres.



- 1) Justifie que $\cos \widehat{BAM} = \frac{5}{7}$.
- 2) On donne : $\frac{5}{7} = 0,7142$. En utilisant la table Trigonométrique ci-dessous, encadre la mesure de l'angle \widehat{BAM} par deux nombres entiers naturels consécutifs.
- 3) Dis en le justifiant, si l'inclinaison de l'échelle de Monsieur Bêma est bonne ou pas.

α°	41	42	43	44	45	46	47	48
$\cos \alpha^\circ$	0,755	0,743	0,731	0,719	0,707	0,695	0,682	0,669
$\sin \alpha^\circ$	0,656	0,669	0,682	0,695	0,707	0,719	0,731	0,743

Groupe Excellence
Académique



MATHEMATIQUES

Coefficient : 3
Durée : 2h
SUJET 3

Cette épreuve comporte deux (02) pages numérotées 1/2 et 2/2.
L'usage de la calculatrice scientifique est autorisé.

EXERCICE 1 (2 points)

Observe le tableau et réponds en choisissant la bonne réponse. **Exemple : 1-R1**

N°	AFFIRMATIONS	R1	R2	R3
1	$]1;5[\cap]1; \rightarrow[=$	$]1; 5[$	$]0; 1]$	$]0; \rightarrow[$
2	$\sqrt{9} + \sqrt{16}$	$\sqrt{25}$	7	12
3	Comparaison de $3\sqrt{5}$ et $5\sqrt{3}$	$3\sqrt{5} > 5\sqrt{3}$	$3\sqrt{5} = 5\sqrt{3}$	$3\sqrt{5} < 5\sqrt{3}$
4	La traduction sous la forme d'inégalité de $x \in]-2; 5[$ est	$-2 \leq x \leq 5$	$-2 < x < 5$	$-2 \leq x < 5$

EXERCICE 2 (2 points)

Écris sur ta copie le numéro correspondant à la ligne suivie de Vrai si l'affirmation est vraie ou Faux si l'affirmation est fausse. **Par exemple 1-Faux.**

N°	AFFIRMATIONS
1	ABC est un triangle rectangle en C. D'après la propriété de Pythagore on a : $AC^2 = AB^2 + BC^2$
2	La réciproque de la propriété de THALES permet de justifier qu'un triangle est rectangle.
3	AEN est un triangle rectangle en N, $\cos \widehat{AEN} = \frac{NE}{AN}$.

EXERCICE 3 (4 points)

On donne les nombres réels A et B tels que : $A = 2x(3 - x) - 4x^2$ et $B = \frac{1-x}{A}$.

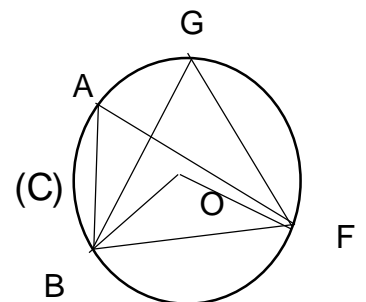
- Justifie que $A = 6x(1 - x)$.
- Détermine les valeurs de x pour lesquelles B existe.
- Simplifie B.
- Calcule la valeur numérique de B pour $x = 2\sqrt{3}$.

EXERCICE 4 (4 points)

Sur la figure ci-contre qui n'est pas en grandeurs réelles :

- ABF et BGF sont des triangles inscrits dans le cercle (C) de centre O.
- $mes \widehat{BOF} = 126^\circ$

- Justifie que $mes \widehat{BAF} = 63^\circ$
- a) Justifie que $mes \widehat{BGF} = mes \widehat{BAF}$
b) En déduis $mes \widehat{BGF}$



EXERCICE 5 (4 points)

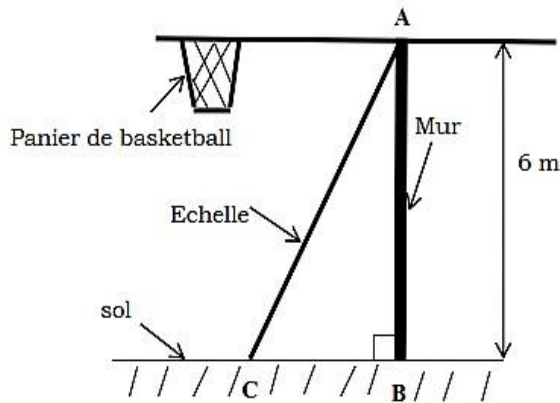
On donne : $A = \sqrt{45} + 2\sqrt{5} - \sqrt{500}$, $B = 9 + 4\sqrt{5}$ et $C = 9 - 4\sqrt{5}$

- 1- Écris A sous la forme $a\sqrt{5}$.
- 2- Justifie que B et C sont inverses l'un de l'autre
- 3- Trouve le signe de C.
- 4- Sachant que : $2,236 < \sqrt{5} < 2,237$, encadre C par deux décimaux consécutifs d'ordre 2.

EXERCICE 6 (4 points)

Pour participer à un tournoi communal de basketball organisé par le maire, le président des jeunes veut installer un panier de basket pour l'entraînement de l'équipe du quartier. Le Président des jeunes veut fixer le panier de basket sur un mur à 6 m du sol. Il dispose d'une échelle qui mesure 6,5 m de long. Un maçon indique que le panier sera bien placé si l'angle formé par l'échelle et le sol est compris entre 60° et 70° .

- 1) Détermine la distance entre le pied du mur et le point d'appui de l'échelle (distance BC).
- 2) Calcule le sinus de l'angle formé par l'échelle et le sol ($\sin \widehat{ACB}$).
- 3) Dis si le panier sera bien placé.



Extrait de la table trigonométrique

Angles	65	66	67	68	69	70
cos	0,423	0,407	0,391	0,375	0,358	0,342
sin	0,906	0,914	0,921	0,927	0,934	0,940

Groupe Excellence
Académique



MATHEMATIQUES

Coefficient : 3
Durée : 2h
SUJET 4

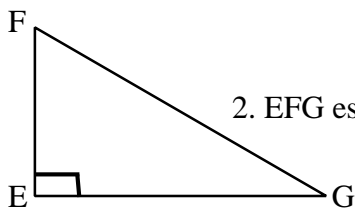
Cette épreuve comporte deux (02) pages numérotées 1/2 et 2/2.
L'usage de la calculatrice scientifique est autorisé.

EXERCICE 1 (2 points)

Pour chacune des affirmations suivantes, écris sur ta copie le numéro de la ligne puis Vrais si l'affirmation est vraie ou Faux si l'affirmation est fausse. **Par exemple : 3-VRAI**

1) 1. Pour les points M (2 ; a) et N (b ; 5), le coefficient directeur de la droite (MN) est : $\frac{5-a}{b-2}$.

2)



2. EFG est un triangle rectangle en E ; $\tan \widehat{EFG} = \frac{EF}{EG}$.

EXERCICE 2 (2 points)

Pour chaque ligne du tableau ci-dessous, une seule affirmation est vraie. Ecris sur ta copie le numéro de la ligne et la lettre de la colonne permettant d'avoir l'affirmation vraie.

Par exemple pour la ligne 1 la réponse est : 5-C

		A	B	C
1	La forme factorisée de $x^2 - 36$	$(x-6)^2$	$(x+6)^2$	$(x-6)(x+6)$
2	La médiane de la série 3-3-4-4-5-6-6-6-7	9	5	6
3	L'équation $2x - y + 1 = 0$ admet pour solution	$(-2 ; 3)$	$(1 ; 4)$	$(0 ; 1)$
4	L'inéquation $2x - 1 > x + 5$ a pour ensemble de solutions	{6}	$]6 ; \rightarrow[$	$[6 ; \rightarrow[$

EXERCICE 3 (4 points)

Une enquête est faite auprès de 40 élèves d'une classe de 3^{ème} selon la note obtenue à un devoir surveillé de français. Les résultats sont enregistrés dans le tableau-ci-dessous.

Notes	7	8	9	10	12	15	16
Effectifs	5	15	5	9	4	2	3

- 1) Quelle est la nature du caractère étudié de cette série statistique ?
- 2) Quel est le mode de cette série statistique ?
- 3) Détermine la note moyenne des élèves.
- 4) Etablis le tableau des fréquences et des fréquences cumulées croissantes.
- 5) Construis le diagramme circulaire des fréquences.

EXERCICE 4 (4 points)

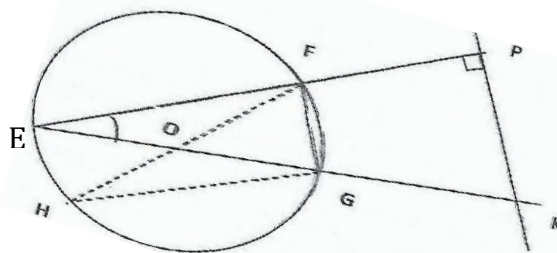
Dans le plan muni d'un repère orthonormé (O, I, J), on donne les points A (-3 ; 0), B (3 ; 9) et le point C tel que $\vec{BC} = \begin{pmatrix} 2 \\ 3 \end{pmatrix}$.

- 1) Démontre que les points A, B et C sont alignés.
- 2) Détermine une équation de la droite (Δ) passant par le point B et perpendiculaire à la droite (BC).

EXERCICE 5 (4 points)

On ne demande pas de reproduire la figure sur ta copie.

- (C) est un cercle de O et de rayon 6,5.
- [EG] est un diamètre du cercle (C)
- Les droites (EF) et (PK) sont perpendiculaires
- Les points F et H appartiennent à (C)
mes $\widehat{FEG} = 30^\circ$; EF = 12 et EP = 15.



- 1- a) Justifie que le triangle EFG est rectangle en F.
b) Montre que FG = 5
- 2- a) Montre que mes $\widehat{FOG} = 60^\circ$.
b) Démontre que le triangle FOG est équilatéral.
- 3- Justifie que mes $\widehat{FHG} = 30^\circ$.
- 4- a) Montre que les droites (FG) et (PK) sont parallèles.
b) Justifie que $PK = \frac{25}{4}$.

EXERCICE 6 (4 points)

La coopérative du Collège Saint-Moïse d'Abobo-Avocatier a organisé une séance de cinéma. Il y a eu 250 entrées et la recette totale est de 49 375 F CFA. Le prix d'une place est de 300 F CFA pour un adulte et de 175 F CFA pour un enfant. Afin de faire la statistique pour le choix de la prochaine séance, la coopérative désigne pour trouver le nombre d'adultes et le nombre d'enfants ayant assisté à cette séance.

On désigne par x le nombre d'adulte et par y le nombre d'enfant

1) Traduis par une équation chacune des phrases suivantes :

- a- « le nombre total d'entrée est de 250 »
- b- « la recette totale est égale à 49 375 F CFA »

2. a- Résous le système d'équations suivant par la méthode de substitution :
$$\begin{cases} x + y = 250 \\ 300x + 175y = 49375 \end{cases}$$

b- Détermine le nombre d'adultes et celui d'enfants ayant assisté à la séance de cinéma.

Groupe Excellence

Académique



MATHEMATIQUES

Coefficient : 3

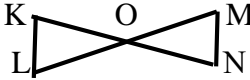
Durée : 2h

SUJET 5

Cette épreuve comporte deux (02) pages numérotées 1/2 et 2/2.
L'usage de la calculatrice scientifique est autorisé.

EXERCICE 1 (2 points)

Recopie le numéro de l'affirmation puis écrit **VRAI (V)** si l'affirmation est Vraie ou **Faux (F)** si elle est fausse. **Exemple : 5-F**

N°	AFFIRMATIONS
1	Si ABC est un triangle rectangle en B alors $\sin\hat{C} = \cos\hat{B}$
2	 <p>OMN est un triangle, $K \in (ON)$, $L \in (OM)$ et $(KL) \parallel (MN)$. La propriété de Thalès s'écrit : $\frac{OM}{OL} = \frac{OK}{ON}$.</p>
3	Si ABC est un triangle rectangle en B alors d'après la propriété de Pythagore, on a : $AB^2 = AC^2 + BC^2$
4	La propriété de Thalès permet de justifier que deux droites sont parallèles.

EXERCICE 2 (2 points)

Pour chacune des affirmations, une seule réponse est vraie. Recopie le numéro de l'affirmation puis écrit la lettre correspondant à la réponse exacte. **Exemple : 5 -K**

	I	J	K
1	Deux nombres réels non nuls x et y sont inverses l'un et l'autre si $x+y = 0$	$x \times y = 1$	$x+y = 1$
2	La forme développée de $(2m+10)(2m-10)$ est égale à $(2m)^2 - (10)^2$	$(2m)^2 - 2 \times 2m \times 10 + 10^2$	$(2m)^2 + (10)^2$
3	$ -3 $ est égale à -3	3	$\sqrt{3}$
4	$x^2 = 25$ équivaut à $x = \sqrt{5}$ ou $x = -\sqrt{5}$	$x = 5$ ou $x = -5$	$x = 3$ ou $x = 5$

EXERCICE 3 (4 points)

On définit par A l'ensemble des nombres réels x tels que $x \leq 3$ et par B l'ensemble des nombres réels x tels que $-2 \leq x < 5$

1-a) Écris chacun des ensembles A et B sous la forme d'un intervalle.

1-b) Détermine l'amplitude et le centre de l'intervalle $[-2 ; 5[$.

On donne les intervalles I et J tels que : $I =]\leftarrow ; 3]$ et $J = [2 ; 5[$

2-a) Représente I et J sur une même droite graduée.

2-b) Détermine sous forme d'intervalle I .

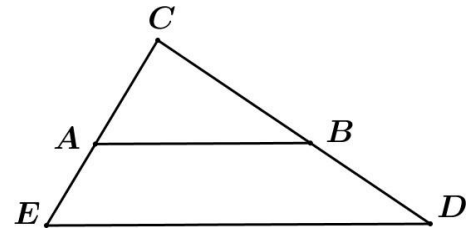
EXERCICE 4 (4 points)

L'unité de longueur est le centimètre.

Sur la figure ci-dessous qui n'est pas en vraie grandeur, on donne :

$AB = 6$; $CA = 3$; $CE = 5$;

$CD = 7,5$ et $CB = 4,5$.



- 1) Justifier que les droites (AB) et (ED) sont parallèles.
- 2) Calcule ED.

EXERCICE 5 (4 points)

On considère les nombres réels : $A = 4 - 2\sqrt{3}$ et $B = \sqrt{28 - 16\sqrt{3}}$ et un encadrement de $\sqrt{3}$:

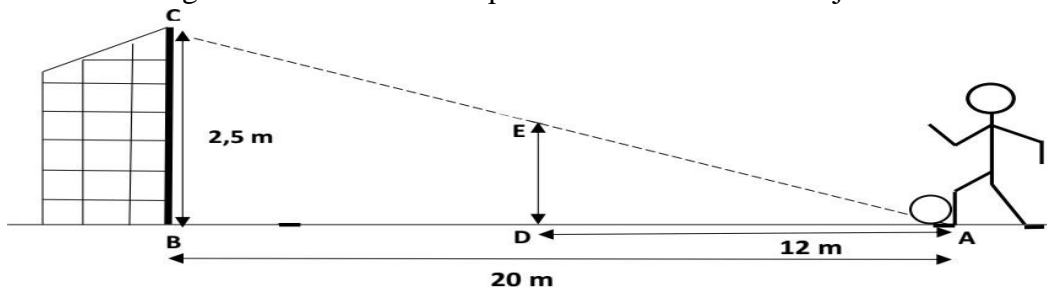
$1,732 < \sqrt{3} < 1,733$.

1. Justifier que $A^2 = 28 - 16\sqrt{3}$.
2. a) Compare les nombres réels 4 et $2\sqrt{3}$.
b) Déduis-en que le nombre réel A est positif.
3. Justifie que : $\sqrt{28 - 16\sqrt{3}} = 4 - 2\sqrt{3}$
4. Détermine un encadrement du nombre réel $4 - 2\sqrt{3}$ par deux nombres décimaux consécutifs d'ordre 2.

EXERCICE 6 (4 points)

L'unité de longueur est le mètre.

A quelques jours du début des compétitions OISSU, le professeur d'EPS, entraîneur de l'équipe de football de ton établissement veut former deux élèves Yao et Paul aux coups Frans directs. Pour cela, YAO se place au point à **20 m** du but pour un essai. Le gardien de but place le défenseur PAUL à **12 m** du ballon au point D pour former le mur. YAO va frapper si fort le ballon que sa trajectoire sera considérée comme une droite. Le professeur d'EPS indique que pour que le tir soit cadré, il faut que l'angle \widehat{CAB} du tir soit compris entre **7° et 8°**. La figure ci-dessous est la représentation de l'action de jeu.



On donne : $AD = 12$; $AB = 20$; $BC = 2,5$; (BC) et (DE) sont perpendiculaire à (AB).

- 1-a) Justifie que les droites (DE) et (BC) sont parallèles.
 - 1-b) Démontrer que la hauteur ED du mur est 1,5 m.
 - 2-a) Justifie que $\tan \widehat{CAB} = 0,125$.
 - 2-b) Détermine un encadrement de la mesure de l'angle \widehat{CAB} par deux nombres entiers consécutifs.
- (On utilisera l'extrait de la table trigonométrique ci-contre.)**
- 3) Le professeur d'EPS a-t-il raison ? Justifie ta réponse.

Degrés	sin	cos	tan
6°	0,105	0,995	0,105
7°	0,122	0,993	0,123
8°	0,139	0,990	0,141
9°	0,156	0,988	0,158
10°	0,174	0,985	0,176

Groupe Excellence

Académique



MATHÉMATIQUES

Coefficient : 3

Durée : 2h

SUJET 6

Cette épreuve comporte deux (02) pages numérotées 1/2 et 2/2.

L'usage de la calculatrice scientifique est autorisé.

EXERCICE 1 (2 points)

Pour chacune des questions, trois réponses sont proposées, indique sur ta copie le numéro de la question et la lettre de la bonne réponse. (O, I, J) est un repère et les points A et B sont tels que A (2 ; -4) et B (-2 ; 8).

Exemple : 1-A

N°	Question	Réponse A	Réponse B	Réponse C
1	Le milieu de [AB] a pour coordonnées	(0 ; 2)	(-2 ; 6)	(-4 ; 4)
2	Le vecteur \overrightarrow{AB} a pour coordonnées :	$\begin{pmatrix} -4 \\ 12 \end{pmatrix}$	$\begin{pmatrix} 0 \\ 4 \end{pmatrix}$	$\begin{pmatrix} -4 \\ -32 \end{pmatrix}$
3	Une équation de (AB) est :	$y = \frac{1}{3}x + 5$	$y = 2x$	$3x + y - 2 = 0$
4	La droite parallèle à (AB) a pour coefficient directeur	- 3	-2	$\frac{1}{2}$

EXERCICE 2 (2 points)

Écris sur ta copie le numéro correspondant à la ligne suivie de **Vrai** si l'affirmation est vraie ou **Faux** si l'affirmation est fautive. Par exemple **1-Faux**.

1. $(3\sqrt{12})^2 = 12$

2. L'équation $-2x - 9 = 0$ a pour solution $\frac{9}{2}$.

3. L'intervalle représentant l'ensemble des solutions de l'inéquation $x - 5 \leq 3x - 4$ est $\left[-\frac{1}{2}; +\infty\right]$.

4. $\left(x - \frac{1}{3}\right)^2 = x^2 + 2x + \frac{1}{9}$.

EXERCICE 3 (4 points)

L'unité de longueur est le centimètre (cm).

La partie supérieure du verre représenté ci-contre a la forme d'un cône de hauteur 18 et dont la base a pour rayon 4,5.

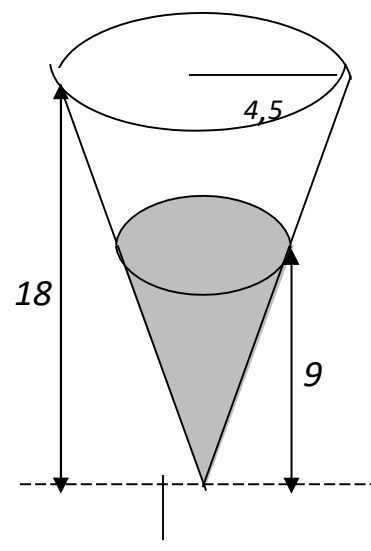
1) Justifie que le volume du verre est $381,51\text{cm}^3$.

(On prendra 3,14 comme valeur approchée de π)

2) On remplit ce verre jusqu'à son bord avec du lait puis, après en avoir bu, René constate que la hauteur du liquide restant est 9 cm.

a) Calcule le volume de lait restant.

b) Calcule le volume de lait bu par René



EXERCICE 4 (4 points)

1) On donne $A = \frac{-3}{3+2\sqrt{3}}$ et $B = 2\sqrt{3} - 3$

- Justifie que : $A + B = 0$
- Que peut-on dire des nombres A et B .

2) On donne a et b deux nombres réels tels que : $a = 2 - \sqrt{2}$ et $b = \frac{a}{6-4\sqrt{2}}$

- Calcule a^2
- Démontre que $b = 1 + \frac{\sqrt{2}}{2}$
- Justifie que a et b sont inverses l'un de l'autre.

EXERCICE 5 (4 points)

Dans le plan muni d'un repère (O, I, J) , on donne les applications affines f et g telles que :

- $f(2) = -1 ; f(3) = 2$
- $g(x) = -\frac{1}{3}x + \frac{1}{3}$.

On appelle (D) la représentation graphique de f et (L) la représentation graphique de g

- Justifie que : $f(x) = 3x - 7$.
- Calcule $f\left(\frac{1}{\sqrt{3}}\right)$, (on écrira le résultat sans radical au dénominateur).
- Justifie que (D) et (L) sont perpendiculaires.
- Résous le système d'équation suivant :
$$\begin{cases} y = 3x - 7 \\ y = -\frac{1}{3}x + \frac{1}{3} \end{cases}$$
 - Déduis-en le couple de coordonnées de A, point d'intersection de (D) et (L).

EXERCICE 6 (4 points)

A la fin de l'année scolaire, le club de mathématiques du Collège Saint-Moïse d'Abobo Avocatier invite ses membres à une excursion. Pour le déplacement, le président du club se renseigne auprès de deux compagnies A et B de transport de la place.

- La compagnie A propose 500 F à payer par kilomètre parcouru.
 - La compagnie B propose 300 F à payer par kilomètre parcouru et 24 000 F pour le carburant
- Le club décide de choisir la compagnie qui présente l'offre la plus moins chère.

On désigne par x la distance parcourue.

- Exprime en fonction de x :
 - Le prix à payer si la compagnie A est choisie.
 - Le prix à payer si la compagnie B est choisie.
- Détermine la distance à partir de laquelle l'offre de la compagnie A est la meilleure à celle de la compagnie B.

Groupe Excellence
Académique



MATHÉMATIQUES

Coefficient : 3
Durée : 2h
SUJET 7

Cette épreuve comporte deux (02) pages numérotées 1/2 et 2/2.
L'usage de la calculatrice scientifique est autorisé.

EXERCICE 1 (2 points)

Pour chaque ligne du tableau ci-dessous, une seule affirmation est vraie.

Écris sur ta copie le numéro de chaque ligne et la lettre de la colonne permettant d'obtenir l'affirmation vraie. **Par exemple, pour la ligne 1, la réponse est : 1-B**

		A	B	C												
1	Le nombre $\sqrt{25^2}$ est égal à	25	5	10												
2	L'amplitude de l'intervalle $[1 ; \sqrt{7}]$ est égale à	$1 + \sqrt{7}$	$1 - \sqrt{7}$	$\sqrt{7} - 1$												
3	L'application linéaire f définie par : $f(x) = 10x$ est	croissante	décroissante	constante												
4	On donne le tableau des effectifs d'une série statistique : <table border="1" style="margin: 5px auto; border-collapse: collapse;"> <thead> <tr> <th>Notes</th> <th>$[0; 5[$</th> <th>$[5; 10[$</th> <th>$[10; 15[$</th> <th>$[10; 20]$</th> <th>Total</th> </tr> </thead> <tbody> <tr> <td>Effectifs</td> <td style="text-align: center;">19</td> <td style="text-align: center;">18</td> <td style="text-align: center;">18</td> <td style="text-align: center;">5</td> <td style="text-align: center;">60</td> </tr> </tbody> </table> La classe modale de cette série statistique est	Notes	$[0; 5[$	$[5; 10[$	$[10; 15[$	$[10; 20]$	Total	Effectifs	19	18	18	5	60	$[0; 5[$	19	$[15 ; 20]$
Notes	$[0; 5[$	$[5; 10[$	$[10; 15[$	$[10; 20]$	Total											
Effectifs	19	18	18	5	60											

EXERCICE 2 (2 points)

Complète les phrases ci-dessous par l'une des expressions suivantes : **Colinéaires ; orthogonaux ; vecteur directeur ; la même direction ; vecteurs directeurs**

- 1) L'égalité $\vec{AB} = -\frac{2}{3}\vec{CD}$ signifie que les vecteurs \vec{AB} et \vec{CD} ont --- et sont deux vecteurs ----
- 2) Un vecteur non nul dont le support est parallèle à une droite donnée est un -----de cette droite.
- 3) Deux vecteurs sont dits -----lorsqu'ils sont des -----de deux droites perpendiculaires.

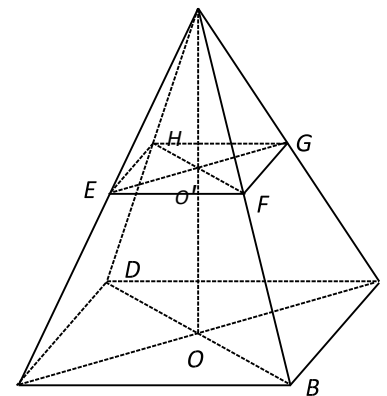
EXERCICE 3 (4 points)

Sur la figure ci-contre, SABCD est une pyramide régulière de base le carré ABCD, de sommet S et de hauteur [SO]

On donne $AB = 6\sqrt{2}$ et $SO = 8$.

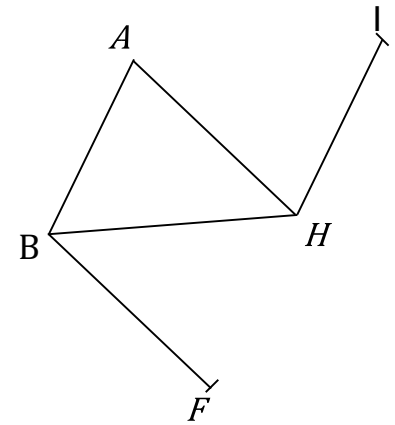
- 1- Justifie que le volume de la pyramide est 192 cm^2
- 2- On réalise une section parallèle au plan de la base telle que $SE = \frac{3}{4}SA$

- a) Justifie que $EF = \frac{9}{2}\sqrt{2}$
- b) Calcule l'aire du carré AFGHA
- c) Calcule le volume de SEFGH



EXERCICE 4 (4 points)

Soit la figure ci-contre.



1. Reproduis la figure en vraie grandeur, sachant que :
 - ABC est un triangle,
 - $\vec{HI} = \vec{BA}$ et $\vec{AF} = \vec{AB} + \vec{AH}$
2. Justifie que : $\vec{AB} = \vec{HF}$
3. Justifie que le point H est le milieu du segment [IF].

EXERCICE 5 (4 points)

ABC est un triangle tel que : $AB = 8$, $AC = 10$ et $BC = 6$.

1. Justifie que le triangle ABC est rectangle.
2. a) Justifie que $\cos \widehat{ABC} = 0,8$.
 b) Utilise l'extrait de la table trigonométrique ci-dessous encadrer la mesure de l'angle \widehat{ABC} par deux nombres entiers consécutifs.

Extrait de la table trigonométrique

a°	35°	36°	37°	38°
$\sin a^\circ$	0,5744	0,588	0,602	0,616
$\cos a^\circ$	0,819	0,809	0,779	0,788

EXERCICE 6 (4 points)

Dans le souci d'améliorer leurs prestations, les créateurs d'un site réalisent une enquête de satisfaction auprès des internautes clients. Ils estiment qu'une enquête est jugée satisfaisante si 55% des internautes ont donné une note supérieure ou égale à 14. Ils demandent alors d'attribuer une note sur 20 au site.

Le tableau suivant donne les notes de 50 internautes. Le responsable du site sollicite son fils en classe de 3ème pour l'aider à se prononcer sur les résultats de l'enquête.

Note	6	8	10	12	14	15	17
Effectif	1	5	7	8	12	8	8

- 1) Détermine la note médiane de cette série.
- 2) Dresse le tableau des fréquences cumulées croissantes.
- 3) L'enquête est-elle jugée satisfaisante ? Justifie ta réponse.

Groupe Excellence

Académique



MATHÉMATIQUES

Coefficient : 3

Durée : 2h

SUJET 8

Cette épreuve comporte deux (02) pages numérotées 1/2 et 2/2.
L'usage de la calculatrice scientifique est autorisé.

EXERCICE 1 (02 points)

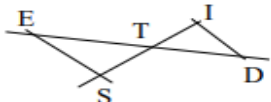
Écris, sur ta feuille de copie, le numéro de chacune des propositions ci-dessous suivi de **Vrai** si la proposition est vraie ou de **Faux** si elle est fausse.

N°	Propositions
1	La forme factorisée de $x^2 - 25$ est $(x - 5)^2$.
2	La distance de -2 à 3 est égale à $ -2 + 3 $.
3	Une fraction rationnelle existe si et seulement si son dénominateur est différent de zéro.
4	L'expression conjuguée de $3 - \sqrt{7}$ est $3 + \sqrt{7}$.

EXERCICE 2 (03 points)

Pour chaque énoncé du tableau ci-dessous, les colonnes A, B et C permettent d'obtenir trois affirmations dont une seule est correcte.

Écris, sur ta feuille de copie, le numéro de l'énoncé suivi de la lettre de la colonne qui donne l'affirmation correcte.

N°	Énoncés	A	B	C
1	Dans un triangle LMT rectangle en M on a	$\sin \hat{M} = \cos \hat{T}$	$\cos \hat{L} = \sin \hat{T}$	$\cos \hat{L} = \sin \hat{M}$
2	ABC est un triangle. Si $AB^2 + AC^2 = BC^2$, alors...	ABC est un triangle rectangle en B	ABC est un triangle rectangle en C	ABC est un triangle rectangle en A
3	 <p>Les droites (IS) et (ED) sont sécantes en T et $(ID) \parallel (ES)$. D'après la propriété de Thalès on a :</p>	$\frac{TI}{TS} = \frac{TD}{TE}$	$\frac{TI}{TS} = \frac{TE}{TD}$	$\frac{TS}{TI} = \frac{TD}{TE}$

EXERCICE 3 (03 points)

On donne : $A = 1 - \sqrt{5}$ et $B = 4 - 3\sqrt{5}$.

- 1) Montre que $3 - 2\sqrt{5}$ est un nombre négatif.
- 2) a) Justifie que $B - A = 3 - 2\sqrt{5}$.
b) Déduis-en une comparaison de A et B .

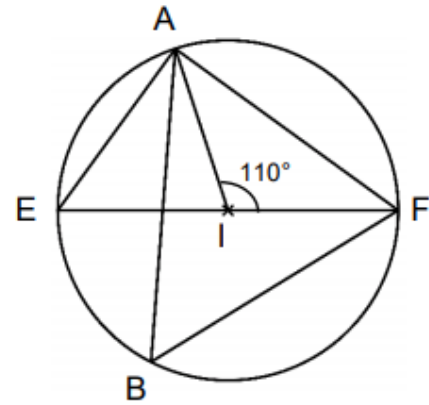
EXERCICE 4 (04 points)

L'unité de longueur est le centimètre (cm).

Sur la figure ci-contre qui n'est pas en vraies grandeurs :

- (C) est un cercle de centre I et de rayon 4 ;
- [EF] est un diamètre du cercle (C) ;
- A et B sont deux points de (C).

On donne : $AE = 4$ et $\text{mes}\widehat{AIF} = 110^\circ$.



- 1) a) Justifie que le triangle AEF est rectangle en A.
b) Calcule AF.
- 2) a) Justifie que $\text{mes}\widehat{AEF} = 55^\circ$.
b) Sans faire de calcul, donne $\text{mes}\widehat{ABF}$. Justifie ta réponse.

EXERCICE 5 (04 points)

On donne la fraction rationnel E tel que $E = \frac{(x+1)^2-4}{(x+3)(2x+1)}$

- 1) Justifie que $(x + 1)^2 - 4 = (x - 1)(x + 3)$.
- 2) a) Détermine les valeurs de la variable x pour lesquelles E existe.
b) Montre que pour $x \neq -3$ et $x \neq -\frac{1}{2}$, $E = \frac{x-1}{2x+1}$.
- 3) Calcule la valeur numérique de E pour $x = \sqrt{2}$.

EXERCICE 6 (04 points)

L'unité de longueur est le mètre.

Pour participer à un tournoi régional de basketball organisé par le préfet de la région du Gontougo, le président des jeunes de Tanda veut installer un panier de basket pour l'entraînement de l'équipe de la ville.

Le président des jeunes veut fixer le panier de basket sur un mur à 6 m du sol.

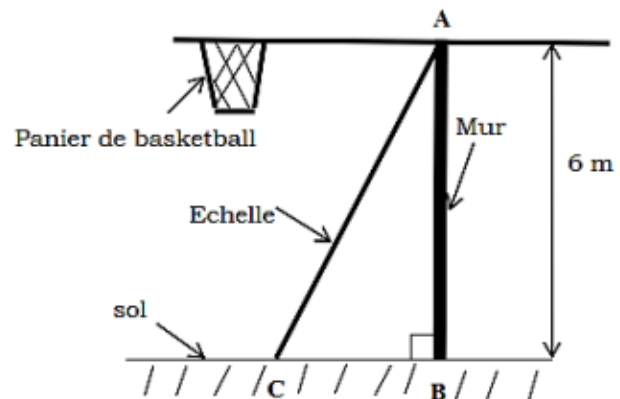
Il dispose d'une échelle qui mesure 6,5 m de long.

Un maçon indique que le panier sera bien placé si l'angle formé par l'échelle et le sol est compris entre 60° et 70° .

On donne $AB = 6$ et $AC = 6,5$

Pour te prononcer suit les consignes suivantes :

- 1) Démontre que $BC = 2,5$
- 2) Justifie que la valeur au millième près de $\sin \widehat{ACB}$ est égale à 0,923.
- 3) À l'aide de l'extrait de la table trigonométrique ci-dessous.
 - a) Encadre la mesure de l'angle \widehat{ACB} par deux nombres entiers naturels consécutifs.
 - b) Dis si le panier sera bien placé.



Extrait de la table trigonométrique

Angles	66°	67°	68°	69°
cos	0,407	0,391	0,375	0,358
sin	0,914	0,921	0,927	0,940

Groupe Excellence

Académique



MATHEMATIQUES

Coefficient : 3

Durée : 2h

SUJET 9

Cette épreuve comporte deux (02) pages numérotées 1/2 et 2/2.
L'usage de la calculatrice scientifique est autorisé.

EXERCICE 1 (2 points)

Pour chaque ligne du tableau ci-dessous, une seule réponse est vraie. Écris sur ta feuille de copie le numéro de chaque ligne et la lettre de la colonne permettant d'avoir l'affirmation vraie. **Exemple: 4-C**

		A	B	C
1	À quoi sert la propriété de Thalès ?	Justifier que deux droites sont parallèles	Justifier que deux droites ne sont pas parallèles	Calculer une longueur
2	MNP est un triangle rectangle en N, le rapport $\frac{MN}{NP}$	$\cos \widehat{MNP}$	$\tan \widehat{MNP}$	$\sin \widehat{MNP}$
3	Si ABC est un triangle rectangle en C alors $BA^2 = CA^2 + BC^2$	$BA^2 = CA^2 + BC^2$	$AC^2 = BA^2 + BC^2$	$CB^2 = AB^2 + AC^2$
4	La $(x - 9)^2$ forme développée de est	$x^2 - 9$	$x^2 - 6x + 9$	$x^2 - 6x - 9$

EXERCICE 2 (2 points)

Pour chacune des affirmations, une seule réponse est vraie. Recopie le numéro de l'affirmation puis écrit V si l'affirmation est Vraie ou F si l'affirmation est Fausse. **Exemple : 5-F**

- 1) L'équation $2x^2 + 6y + 9 = 0$ est une équation de droite.
- 2) Dans le plan muni du repère (O, I, J) : $A \begin{pmatrix} -1 \\ -2 \end{pmatrix}$ et $B \begin{pmatrix} 2 \\ 3 \end{pmatrix}$ alors $\overrightarrow{AB} \begin{pmatrix} 3 \\ 5 \end{pmatrix}$.
- 3) I est le milieu de [AB] équivaut à $\overrightarrow{AI} = \overrightarrow{BI}$.
- 4) Soit A(4 ; -6) et B(1 ; 2). La droite (AB) a pour équation $8x - 3y - 14 = 0$.

EXERCICE 3 (4 points)

On donne les polynômes B, C et la fraction rationnelle R tels que :

$$B = x^2 + (x - 3)(x - 4) - 9 ; C = 4x^2 - 4x + 1 \text{ et } R = \frac{B}{C}$$

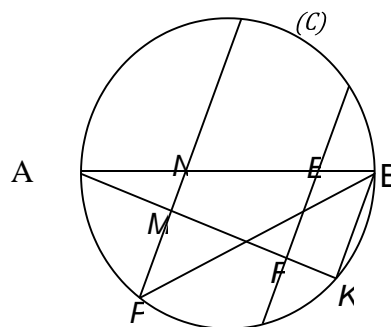
- 1) Démontre que : $B = (x - 3)(2x - 1)$
- 2) Ecris sous la forme d'un produit de facteurs du premier degré l'expression C.
- 3) Détermine la condition d'existence d'une valeur numérique de R.
- 4) Simplifie R.
- 5) Calcule la valeur numérique de R pour $x = \frac{3}{4}$.

EXERCICE 4 (4 points)

ALIDEUR »

On ne demande pas de reproduire la figure sur ta copie.
Sur la figure ci-contre qui n'est pas en dimensions réelles,

- (C) est un cercle de diamètre [AB]
- K et P sont deux points de (C)
- E est le point de [AB] tel que $AE = 4$
- F est le point de [AK] tel que $AF = 3,2$
- M est le point de [AK] tel que $AM = 1,6$
 - N est le point de [AB] tel que $AN = \frac{1}{3} AB$.

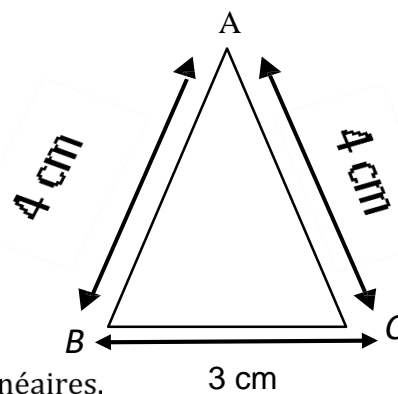


On donne $AB = 6$ et $EF = 2,4$.

1. a) Démontre que le triangle AEF est rectangle en F.
b) Justifie que $\cos \widehat{EAF} = 0,8$.
2. Justifie que : $mes\widehat{BPK} = mes\widehat{BAK}$.
3. Justifie que le triangle ABK est rectangle en K.
4. a) Démontre que les droites (EF) et (BK) sont parallèles.
b) Démontre que $AK = 4,8$
5. Démontre que les droites (MN) et (BK) sont parallèles.

EXERCICE 5 (4 points)

- 1) Reproduis en vraies dimensions le triangle ABC.
- 2) Sur la figure que tu viens de réaliser,
 - a- Construis le point D du plan tel que $\vec{AD} = -2\vec{BC}$.
 - b- Construis le point E du plan tel que $\vec{CE} = \vec{BA}$.
3. a- Justifie que $\vec{AE} = \vec{BC}$



- b) Déduis des questions 2.a) et 3.a) que les vecteur \vec{AE} et \vec{AD} sont colinéaires.

EXERCICE 6 (4 points)

Un industriel voudrait installer une usine de traitement de fèves de cacao dans une ville. L'usine sera implantée si les planteurs de cette ville produisent en moyenne plus de 5 tonnes de cacao par an. Pour en avoir une idée, il demande à 50 planteurs la quantité de cacao qu'ils produisent par an. Voici les résultats consignés dans le tableau ci-après :

Nombre de tonnes de cacao par an	1	2	6	9	12	13
Nombre de planteurs	4	8	7	10	13	

1. Détermine la production moyenne annuelle de ces planteurs.
2. Dis si oui ou non l'industriel va t-t-il installer son usine dans cette ville.

Groupe Excellence

Académique



MATHEMATIQUES

Coefficient : 3

Durée : 2h

SUJET 10

Cette épreuve comporte deux (02) pages numérotées 1/2 et 2/2.
L'usage de la calculatrice scientifique est autorisé.

EXERCICE 1 (2 points)

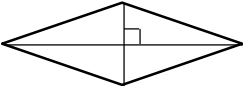
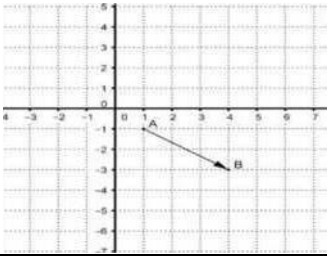
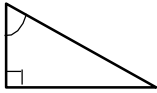
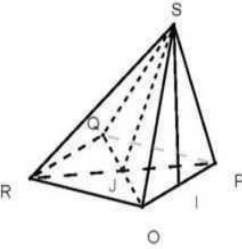
Pour chacune des affirmations suivantes, écris sur ta copie le numéro de la ligne puis VRAI si l'affirmation est vraie ou FAUX si l'affirmation est fausse.

Par exemple: 1-FAUX

1. Pour tout nombre réel x , on a : $(x^5)^2 = x^7$.
2. $\sqrt{64} = 8$.
3. L'expression $\frac{x-9}{3x-1}$ est un polynôme.

EXERCICE 2 (2 points)

Pour chaque ligne du tableau ci-dessous, une seule affirmation est vraie. Écris sur ta feuille de copie le numéro de chaque ligne et la lettre de la colonne permettant d'obtenir l'affirmation vraie. Par exemple, pour la ligne 1, la réponse est : 1 - C

		Colonne A	Colonne B	Colonne C
1	 <p>Le parallélogramme ABCD est un</p>	carré	losange	rectangle
2	 <p>Sur la figure ci-contre, le couple de coordonnées du vecteur \vec{AB} est</p>	(3 ; -2)	(4 ; -3)	(-3 ; 4)
3	 <p>M OMN étant un triangle rectangle en O, $\sin \widehat{OMN}$ est O N égal à</p>	$\frac{ON}{OM}$	$\frac{OM}{MN}$	$\frac{ON}{MN}$
4	 <p>La hauteur de la pyramide régulière SOPQR de sommet S et de base le carré OPQR de centre J est</p>	SI	SJ	SO

EXERCICE 3 (4 points)

Un libraire a vendu 60 livres dans les genres littéraires suivants : Théâtre, Roman, Bande Dessinée et Poésie. Le tableau ci-dessous donne la répartition des ouvrages vendus et les mesures dans angles correspondants.

Genre littéraire	Théâtre	Roman	Bande dessinée	Poésie
Nombre d'ouvrages vendus	5	10	20	25
Mesure d'angle (en degrés)	30	60	120	150

- Détermine la classe modale de cette série statistique
- Construis sur ta feuille de copie le diagramme circulaire de cette série statistique.

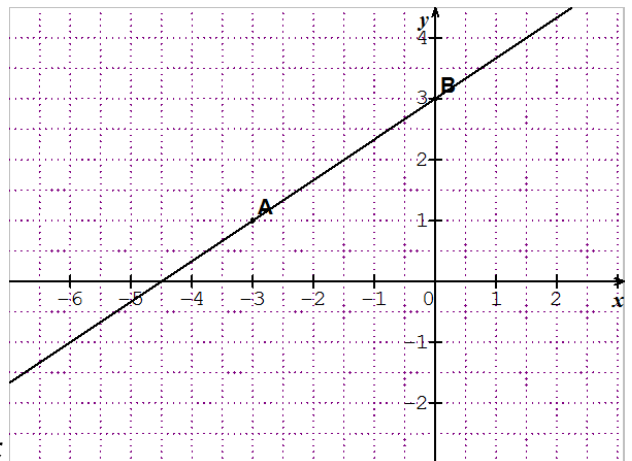
Tu utiliseras un cercle de rayon 3 centimètres.

EXERCICE 4 (4 points)

Les parties I et II sont indépendantes.

I/ Dans le plan muni du repère orthonormé (O, I, J) ci-contre :

A et B sont les points de couples de coordonnées respectives $(-3; 1)$ et $(0; 3)$. La droite (AB) est la représentation graphique d'une application affine f .



1) A partir d'une lecture graphique, donne :

- $f(-6)$
- Le nombre x tel que : $f(x) = 4$

2) On pose $f(x) = ax + b$ où a et b sont des nombres réels. Calcule a et b .

II/ On donne l'application affine f définie par : $f(x) = 4 - \frac{1}{2}x$

- Justifie que : $f(2) = 3$ et $f(6) = 1$
- Calcule le nombre réel x tel que : $f(x) = 0$
- Représente dans le plan muni du repère orthonormé (O, I, J), l'application affine f .

EXERCICE 5 (4 points)

Dans le plan muni d'un repère orthonormé (O, I, J), on donne : les points $A(-3; 0)$; $B(3; 9)$ et le point C tel que $\vec{BC} \begin{pmatrix} 2 \\ 3 \end{pmatrix}$.

- Démontre que les points A, B et C sont alignés.
- Détermine une équation de la droite (Δ) passant par le point B et perpendiculaire à la droite (BC).

EXERCICE 6 (4 points)

Les élèves d'une classe de troisième d'un établissement scolaire organisent une sortie-détente. Pour cela, le chef de classe a acheté des bouteilles de jus de Bissap et de jus d'orange. Les bouteilles de jus coûtent au total 20 000 francs sachant que la bouteille de jus de Bissap vaut 100 francs et celle de jus d'orange 200 francs. Le nombre total de bouteilles de jus est 126. Le chef veut faire le bilan de la sortie, mais il a oublié le nombre de bouteilles de jus de chaque type. On désigne par x le nombre de bouteilles de jus de Bissap et par y le nombre de bouteilles de jus d'orange.

- Traduis par une équation chacune des phrases suivantes :
 - « Le nombre total de bouteilles de jus est 126 ».
 - « Les bouteilles de jus coûtent au total 20 000 francs sachant que la bouteille de jus de Bissap vaut 100 francs et celle de jus d'orange 200 francs ».
- Résous le système d'équations suivants :
$$\begin{cases} x + y = 126 \\ 100x + 200y = 20\,000 \end{cases}$$
 - Détermine le nombre de bouteilles de jus de chaque type.



PARTIE 2
PHYSIQUE - CHIMIE

Groupe Excellence

Académique

**PHYSIQUE CHIMIE**

Coefficient : 2

Durée : 2h

SUJET 1

*Cette épreuve comporte deux (02) pages numérotées 1/2 et 2/2.**L'usage de la calculatrice scientifique est autorisé.***EXERCICE 1 (8 points)****PHYSIQUE (5 points)****A. Recopie le numéro de chaque proposition suivie de la lettre correspondant à la bonne réponse.**

1. Ton camarade ne voit pas bien les objets éloignés.

Le défaut de ses yeux est :

- la presbytie ;
- la myopie ;
- l'hypermétropie.

2. Les verres correcteurs pour corriger l'hypermétropie sont des lentilles :

- convergentes ;
- convergentes et divergentes ;
- divergentes.

B.

1. Définis la puissance mécanique d'une force.

2. Donne l'expression du travail du poids d'un corps.

C.**Recopie le numéro de chaque proposition suivie de V si la proposition est vraie ou de F si elle est fausse.**

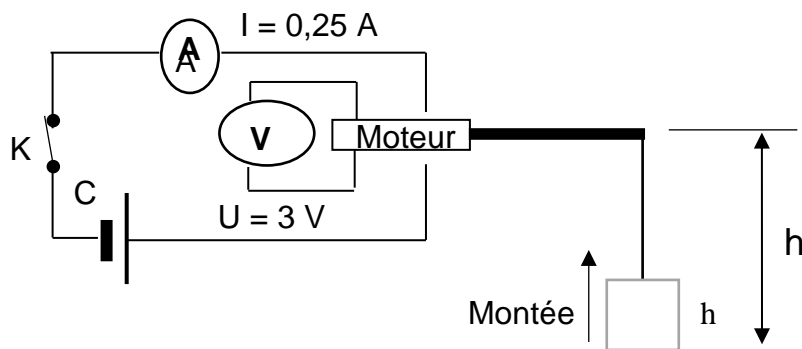
- Un objet soumis à deux forces est en équilibre.
- L'unité internationale de la valeur d'une force est le Newton par kilogramme.
- Un objet posé au sol possède une énergie potentielle de pesanteur par rapport au sol.
- Tout corps animé d'une vitesse possède une énergie cinétique.

CHIMIE (3 points)

- Ecris la formule brute du propane.
- Recopie parmi les formules chimiques brutes ci-dessous, celles qui correspondent à des alcanes :
 C_2H_6O ; C_4H_{10} ; C_2H_2 ; C_4H_8 ; CH_4 ; C_3H_7Cl .
- Nomme le gaz produit lors de la combustion complète du butane qui trouble l'eau de chaux.

EXERCICE 2 (7 points)

Lors d'une séance de travaux pratiques, un élève de troisième, aidé par son professeur de physique-chimie, réalise l'expérience schématisée comme suit :



La charge de masse $m = 0,2 \text{ kg}$, monte d'une hauteur $h = 1 \text{ m}$ pendant 5 secondes grâce au moteur lorsque le circuit électrique est fermé.

Tu es sollicité pour aider ton camarade à déterminer le rendement du dispositif réalisé.

On donne $g = 10 \text{ N/kg}$.

1. Donne l'unité internationale de l'énergie électrique.
2. Donne les expressions de :
 - 2.1 l'énergie électrique consommée par le moteur ;
 - 2.2 l'énergie mécanique nécessaire à la montée de la charge.
3. Calcule :
 - 3.1 l'énergie électrique E_e consommée par le moteur ;
 - 3.2 l'énergie mécanique E_m nécessaire à la montée de la charge.
4. Détermine le rendement r du dispositif réalisé.

EXERCICE 3 (5 points)

Lors d'une journée scientifique organisée dans ton établissement, ton groupe veut obtenir du fer. Pour cela, il brûle un mélange d'oxyde ferrique (Fe_2O_3) et d'aluminium (Al) dans un creuset. Il se forme une poudre blanche et un métal fer.

Tu es sollicité pour expliquer la formation du métal fer au cours de cette combustion.

1. Nomme les corps formés au cours de la réaction chimique entre l'oxyde ferrique et l'aluminium.
2. Ecris :
 - 2.1 les formules chimiques des produits formés ;
 - 2.2 l'équation-bilan de cette réaction chimique.
3. Indique pour cette réaction chimique :
 - 3.1 le corps oxydé ;
 - 3.2 le corps réduit.
4. Explique la formation du fer.

Groupe Excellence

Académique



PHYSIQUE CHIMIE

Coefficient : 2

Durée : 2h

SUJET 2

*Cette épreuve comporte deux (02) pages numérotées 1/2 et 2/2.
L'usage de la calculatrice scientifique est autorisé.*

EXERCICE 1 : (8 points)

PHYSIQUE (5 points)

A/

Recopie le numéro de la question et écris en face la lettre V si la proposition est vraie et F si elle est fausse. Exemple : 5 – V

1. Le poids d'un objet augmente dans l'eau.
2. Un objet déposé sur une table de hauteur 1 m possède une énergie potentielle.
3. Lorsque la résistance de l'air est négligée, l'énergie mécanique se conserve le long du trajet.
4. Un corps soumis à deux forces est en équilibre lorsque ces deux forces ont des intensités différentes.

B/ Un objet flottant en équilibre sur l'eau a un poids $P = 50 \text{ N}$.

La valeur de la poussée d'Archimède exercée par l'eau sur ce corps est :

- a) P_A est inférieure à 50 N ;
- b) P_A est égale à 50 N ;
- c) P_A est supérieure à 50 N.

Recopie la bonne réponse.

C/ Donne l'expression :

1. de l'énergie potentielle de pesanteur ;
2. du travail d'une force ;
3. de la puissance mécanique.

CHIMIE (3 points)

Recopie et relie par une flèche chaque élément du tableau A à son correspondant dans le tableau B.

Tableau

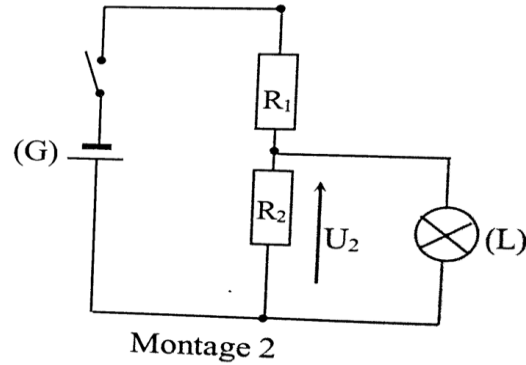
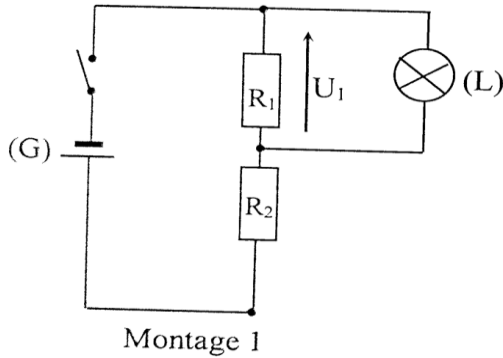
Attire un aimant	*
Décolore le permanganate de potassium	*
Produit une poudre blanche	*
Produit une poudre noire	*
Rouille	*

Tableau B

* Fe_2O_3
* CuO
* CO_2
* Fe_3O_4
* Al_2O_3
* SO_2

EXERCICE 2 (7 points)

Au cours d'une séance de travaux pratiques, votre professeur de Physique – Chimie vous demande de réaliser un montage pour faire fonctionner normalement une lampe électrique (L). Pour cela, il met à la disposition de ton groupe : un générateur (G) de tension électrique $U = 12 \text{ V}$; la lampe (L) de tension nominale 3 V ; deux conducteurs ohmiques de résistance $R_1 = 25 \Omega$ et $R_2 = 75 \Omega$ et des fils de connexion. Deux membres du groupe vous proposent de réaliser les deux montages suivants :



Tu dois identifier le montage à réaliser pour faire briller normalement la lampe (L).

- 1- Donne le nom de ce type de montage.
- 2- Exprime en fonction de U , R_1 et R_2 la tension aux bornes de la lampe électrique :
 - 2-1- pour le montage 1 ;
 - 2-2- pour le montage 2.
- 3- Détermine :
 - 3-1- la tension U_1 aux bornes de R_1 ;
 - 3-2- la tension U_2 aux bornes de R_2 .
- 4- Indique le montage à réaliser pour faire briller normalement la lampe électrique sans risque de la détériorer.

EXERCICE 3 (5 points)

Un test, réalisé en salle labo sur les solutions aqueuses par un groupe d'élèves d'une classe de 3^e, a donné les résultats contenus dans le tableau ci – dessous :

Liquide	Jus de Tomate	Eau de javel	Jus de citron	Eau de mer	Pamplemousse	Coca – cola
pH	4	11	2,5	8	3	2,5

Il s'agissait d'étudier la nature de quelques solutions aqueuses. Tu veux vérifier tes acquis sur le sujet.

1. Définis une solution aqueuse.
2. Indique l'information que donne le pH d'une solution.
3. Classe les liquides du tableau du plus basique au plus acide.
4. Donne le nom de l'ion qui donne le caractère basique à une solution.
5. Indique si un verre d'eau de javel contient plus ou moins d'ions OH^- que d'ions H^+ . Justifie.

Groupe Excellence

Académique



PHYSIQUE CHIMIE

Coefficient : 2

Durée : 2h

SUJET 3

Cette épreuve comporte deux (02) pages numérotées 1/2 et 2/2.

L'usage de la calculatrice scientifique est autorisé.

EXERCICE 1 (8 points)

PHYSIQUE (5 points)

A/

1. Définis le travail mécanique.
2. Définis la puissance mécanique.

B/ Réarrange les mots et groupes de mots ci-dessous afin d'obtenir une phrase correcte.

/ à deux forces / Un solide soumis / la même droite d'action, / est en équilibre / ces forces ont / des sens opposés. / si / la même valeur et /

C/ L'expérience schématisée ci-dessous est réalisée en vue de déterminer la valeur de la poussée d'Archimède exercée par l'eau sur un solide.

1) L'instrument de mesure utilisé est :

- a- la balance
- b- le dynamomètre
- c- le densimètre

2) Le poids réel du solide est :

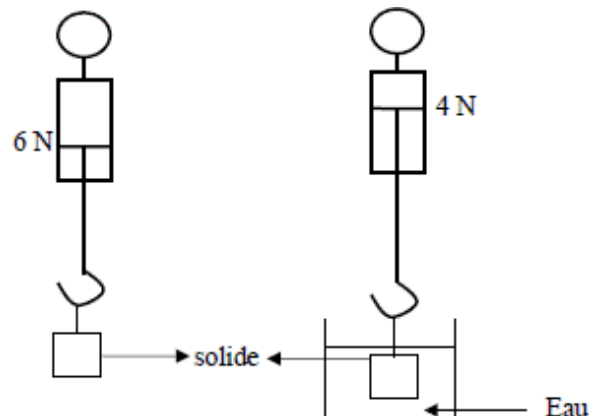
- a- $P = 6 \text{ N}$
- b- $P = 2 \text{ N}$
- c- $P = 4 \text{ N}$

3) Le poids apparent du solide est :

- a- $P' = 4 \text{ N}$
- b- $P' = 6 \text{ N}$
- c- $P' = 2 \text{ N}$

4) La valeur de la poussée d'Archimède P_A peut se calculer avec l'expression :

- a- $P_A = P' - P$
- b- $P_A = P' + P$
- c- $P_A = P - P'$



Recopie le numéro de la proposition suivi de la lettre correspondant à la bonne réponse.

CHIMIE (3 points)

1- L'alcane appartient à la famille des hydrocarbures. La formule brute générale des alcanes est :

- a) $C_{2n}H_{2n+2}$
- b) C_nH_{2n+2}
- c) C_nH_{2n-2}

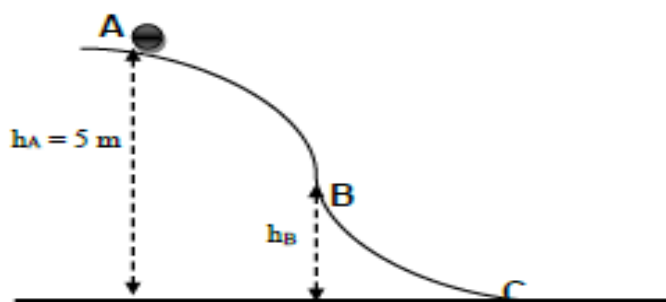
Recopie la lettre correspondant à la bonne réponse.

2- Recopie et complète le tableau suivant par le nom ou la formule de l'alcane correspondant.

Nom	Méthane			Butane
Formule brute		C_2H_6	C_3H_8	

EXERCICE 2: (7 points)

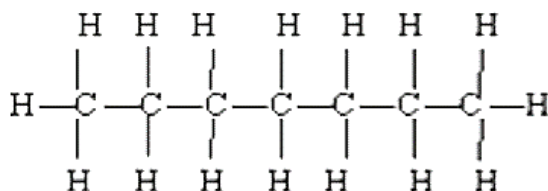
A la veille des congés de Noël, le club de Physique-Chimie de ton établissement propose un jeu aux organisateurs de la Kermesse qui suscite de l'engouement de la part des élèves. Ton ami décide de participer à ce jeu qui consiste à faire glisser sans vitesse initiale une boule de masse $m = 5 \text{ kg}$ sur le trajet schématisé ci-dessous. En faisant glisser la boule, s'il réussit à faire tomber l'un des cadeaux placés sur l'alignement du point C, alors ce cadeau lui reviendra. Pour mieux réussir sa lancé, ton ami décide à l'avance de connaître certains détails sur ce jeu. Il te sollicite pour l'aider. Les frottements sont négligeables tout au long du trajet. On donne $g = 10 \text{ N/kg}$.



- 1) Définis l'énergie mécanique.
- 2) Donne l'expression de l'énergie mécanique de la boule :
 - 2-1. au point A ;
 - 2-2. au point B ;
 - 2-3. au point C.
- 3) Calcule l'énergie mécanique de la boule au point A.
- 4) Au point B, la vitesse de la boule est $v_B = 6 \text{ m/s}$.
 - 4-1. Donne la valeur de l'énergie mécanique E_{m_B} au point B. Justifie ta réponse.
 - 4-2. Calcule la valeur de l'énergie cinétique E_{c_B} au point B.
 - 4-3. Détermine l'énergie potentielle E_{p_B} au point B.
 - 4-4. Dédus la hauteur h_B .

EXERCICE 3 : (5 points)

Pour mieux préparer l'examen blanc régional, ton amie de classe effectue des recherches à la bibliothèque de votre établissement. Lors de ces recherches, il découvre dans un livre de chimie la formule développée ci-dessous. Il désire connaître la famille chimique de cette molécule. Pour ne pas se tromper, il te sollicite pour l'aider.



1. Définis :
 - 1-1. un hydrocarbure ;
 - 1-2. un alcane.
2. Ecrire :
 - 2.1. la formule brute de cette molécule.
 - 2.2. La formule semi-développée de cette molécule.
3. Indique en justifiant ta réponse, s'il s'agit d'un alcane

Groupe Excellence

Académique



PHYSIQUE CHIMIE

Coefficient : 2

Durée : 2h

SUJET 4

Cette épreuve comporte deux (02) pages numérotées 1/2 et 2/2.
L'usage de la calculatrice scientifique est autorisé.

EXERCICE 1 (8 points)

PHYSIQUE (5 points)

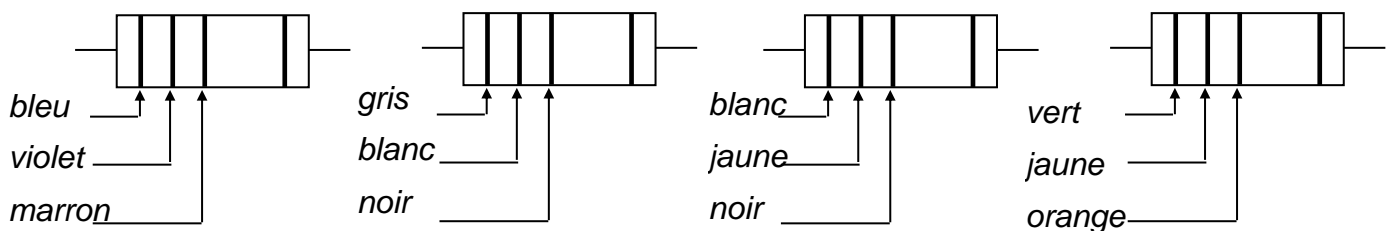
A/

Pour chacune des propositions suivantes, recopie le numéro de la proposition et écris à la suite **V** si la proposition est vraie ou **F** si elle est fausse. **Exemple : 5 – V**

- 1- La poussée d'Archimède \vec{P}_A est une force orientée vers le bas.
- 2- L'expression de l'énergie électrique consommée par un appareil est $E = U \times I \times \Delta t$.
- 3- L'énergie mécanique d'un corps est la différence de son énergie cinétique et de son énergie potentielle de pesanteur.
- 4- Un objet soumis à deux forces est en équilibre quand les deux forces ont la même droite d'action, la même valeur et des sens opposés.

B/

En utilisant le code de couleurs, donne la valeur nominale de la résistance de chacun des résistors R_1, R_2, R_3 et R_4 représentés ci-dessous :



$R_1 = \dots\dots\dots\Omega$

$R_2 = \dots\dots\dots\Omega$

$R_3 = \dots\dots\dots\Omega$

$R_4 = \dots\dots\dots\Omega$

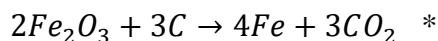
C/

1. Définis le rendement d'un dispositif de transformation d'énergie.
2. Donne l'expression du travail W du poids d'un corps.

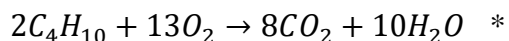
CHIMIE (3 points)

A/

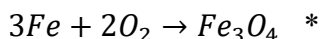
Recopie et relie chacune des équations – bilans avec le nom de la réaction correspondant.



* Combustion du fer



* Combustion complète

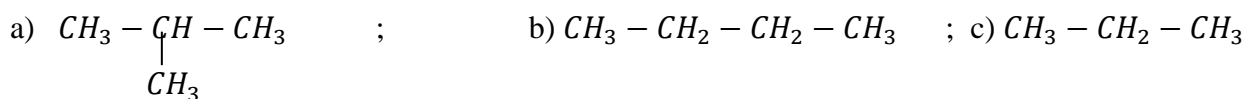


* Réduction d'un oxyde.

B/

Recopie sur ta feuille de copie le numéro de la proposition suivi de la lettre correspondant à la bonne réponse. **Exemple : 4 – a**

1- La formule semi – développée de l'isobutane est :



2- Lors cette réaction : $H_2O + Mg \rightarrow H_2 + MgO$. L'eau H_2O est :

a) Le corps oxydé ; b) l'oxydation ; c) l'oxydant.

3- Lors de la combustion complète d'un alcane dans le dioxygène, la flamme est de couleur :

a) Verte ; b) bleue ; c) orange.

EXERCICE 2 (7 points)

Un groupe d'élève de la classe de 3^e du Lycée moderne de Daloa observe un vieux qui, lisant son journal éloigne les écritures de ses yeux. Pour comprendre le défaut de l'œil du vieillard, le professeur de Physique – Chimie lors d'une séance de TP met à la disposition des élèves sur un banc optique :

- Un objet AB de 20 cm de hauteur (AB st perpendiculaire à l'axe optique avec A sur l'axe et B au dessus).
- Une lentille (L) de vergence $C = +5$ dioptries placée à 50 cm de l'objet AB.
- Un écran E placé à 80 cm de l'objet AB.

1. Détermine la distance focale de cette lentille.

2.

2.1. Place sur une feuille de papier millimètre à l'échelle $\frac{1}{10}$, l'objet AB, la lentille (L), l'écran (E) ainsi que les foyers objets F et image F'.

2.2. Construis l'image A'B' de l'objet AB.

3. Détermine le grandissement de la lentille (L).

4. Dis si l'image A'B' est nette sur l'écran (E) ? Justifie ta réponse.

5. Dédus-en le défaut de l'œil du vieillard.

EXERCICE 3 (5 points)

Lors des épreuves physiques et sportives (EPS) au Lycée Classique d'Abidjan, un élève en classe de 3^e découvre dans le gazon, un morceau de fer. Il constate que ce fer est fortement rouillé.

GEA, former pour réussir avec un enseignement de qualité.

Cet élève n'ayant pas assisté au cours sur « **l'oxydation des corps purs simples** » cherche à comprendre la formation de la rouille et comment faire pour l'éviter.

Il te sollicite pour lui donner des explications.

1. Définis une oxydation.
2. Donne la formule chimique du constituant principal de la rouille et son nom.
3. Ecris l'équation – bilan de la formation de la rouille.
4. La formation de la rouille est – elle une oxydation lente ou rapide ? Justifie ta réponse.
5. Cite deux méthodes de protection du fer contre la rouille.

Groupe Excellence

Académique



PHYSIQUE CHIMIE

Coefficient : 2

Durée : 2h

SUJET 5

Cette épreuve comporte deux (02) pages numérotées 1/2 et 2/2.

L'usage de la calculatrice scientifique est autorisé.

EXERCICE 1 : (8 points)

PHYSIQUE (5 points)

A-

1. Définis la masse d'un corps.
2. Donne l'unité légale de la densité d'un corps.

B- Fais correspondre chaque grandeur physique au symbole de son unité légale.

Recopie le numéro et la lettre concernés. **Exemple : 5 – g**

1. Force
2. Volume
3. Masse volumique
4. Intensité de la pesanteur

- a. m^3
- b. N
- c. dm^3
- d. kg/m^3
- e. N/kg
- f. kg/dm^3

C- Recopie et ordonne ces mots et groupes de mots de sorte à obtenir une phrase ayant un sens.
/à deux forces / Un solide soumis / la même droite d'action, / est en équilibre / ces forces ont /
des sens opposés. / si / la même valeur et /

D/

1. Cite deux défauts de l'œil.
2. Nomme la partie de l'œil qui joue le rôle de la lentille convergente.

CHIMIE (3 points)

1. Définis l'oxydation.
2. Définis la réduction.
3. Définis l'oxydoréduction.

Recopie et relie par une flèche chaque élément du tableau A à son correspondant dans le tableau B.

Tableau A

Produit de l'oxydation vive du fer *	*
Trouble l'eau de chaux	*
Dioxygène	*
Oxyde ferrique	*
Oxyde de cuivre	*

Tableau B

* Fe_3O_4
* O_2
* CO_2
* Fe_2O_3
* H_2
* SO_2
* CuO

EXERCICE 2 (7 points)

Au cours d'une séance de Travaux Pratiques au Lycée Nanan Ade Pra de Bettié, chaque groupe d'élèves dispose d'un générateur de tension continue et réglable, un interrupteur, un voltmètre, un ampèremètre, un conducteur ohmique et des fils de connexion dans le but de déterminer la caractéristique d'un conducteur ohmique.

Ton groupe réalise les mesures du tableau suivant :

U(V)	0	1,2	2	3,1	4,2	5,3
I(mA)	0	44	75	115	155	200

1. Fais le schéma du montage.
2. Donne le rôle d'un conducteur ohmique dans un circuit électrique.
3.
 - 3-1 Trace la caractéristique $U = f(I)$ du conducteur ohmique.
 - 3-2 Détermine la valeur de la résistance R du conducteur ohmique
 - 3-3 Indique les méthodes de détermination de la résistance d'un conducteur ohmique.
4. Détermine graphiquement l'intensité I du courant qui traverse le conducteur ohmique lorsque la tension U à ses bornes est de 2,7

EXERCICE 3 (5 points)

Dans le cadre des activités de la coopérative de ton école, tes camarades et toi décidez de cultiver l'arachide. La culture de l'arachide réussie bien sur un sol dont le pH est compris entre 5 et 6. Vous utilisez du bleu de bromothymol (BBT), pour connaître la nature (acide ou basique ou neutre) du sol à exploiter. Le BBT prend une coloration bleue au contact d'une solution aqueuse obtenue à partir de ce sol. Tu es sollicité pour indiquer à tes camarades les dispositions à prendre pour réussir cette culture sur ce sol.

1. Donne la couleur du BBT :
 - 1.1. En milieu acide ;
 - 1.2. En milieu basique ;
 - 1.3. En milieu neutre.
2. Donne :
 - 2.1. La nature du sol mis à votre disposition ;
 - 2.2. Le nom de l'ion responsable de la nature de ce sol.
3. Dis, si la culture de l'arachide est adaptée à ce sol. Justifie ta réponse.
4. Indique les dispositions à prendre pour réussir la culture de l'arachide sur ce sol.

Groupe Excellence

Académique



PHYSIQUE CHIMIE

Coefficient : 2

Durée : 2h

SUJET 6

Cette épreuve comporte deux (02) pages numérotées 1/2 et 2/2.

L'usage de la calculatrice scientifique est autorisé.

EXERCICE 1 (8 points)

A/

Complète le texte avec les mots et expressions qui conviennent en utilisant les chiffres :

joule ; nul ; $W = F \times L$; force ; watt ; $p = \frac{W}{\Delta t}$

Le travail d'une(1)..... d'intensité F dont le point d'application se déplace d'une longueur L dans la même direction est donné par la relation :(2)..... Le travail d'une force s'exprime en(3).....

Le travail du poids d'un corps est(4)....., si ce corps se déplace horizontalement.

L'expression de la puissance mécanique est(5)..... avec Δt exprimée en seconde.

B/

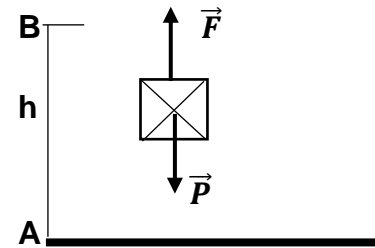
Un solide de masse m de poids \vec{P} est tiré verticalement vers le haut par une force \vec{F} sur une distance AB . (Voir schéma ci – contre).

1. Le travail de \vec{P} est : a) nul ; b) moteur ; c) résistant

2. Le travail de \vec{F} est : a) nul ; b) moteur ; c) résistant

3. L'expression du travail du poids \vec{P} est :

a) $W(\vec{P}) = \frac{1}{2} \times m \times g \times AB$; b) $W(\vec{P}) = 2 \times m \times g \times AB$; c) $W(\vec{P}) = m \times g \times AB$



Recopie le numéro de chaque question et écris en face la lettre correspondant à la réponse correcte.

C/

1. L'image d'un objet que l'on voit se forme :

a- sur le cristallin ; b- sur la rétine ; c- sur la pupille.

2. Un œil emmétrope voit correctement :

a- seulement de loin ; b- seulement de près ; c- de loin comme de près.

3. Un œil myope est corrigé par :

a- une lentille convergente ; b- une lentille divergente ; c- par les deux lentilles.

4. Pour mieux voir l'hypermétrope :

a- rapproche l'objet de l'œil ; b- éloigne l'objet de l'œil ; c- accommode l'œil.

Recopie le numéro de chaque proposition suivie de la lettre correspondant à la bonne réponse.

D/

1. Nomme l'instrument de mesure de la masse d'un corps.

GEA, former pour réussir avec un enseignement de qualité.

2. Donne l'unité légale de la puissance mécanique.

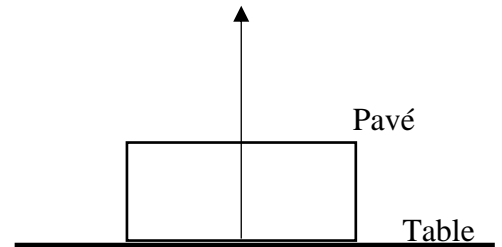
EXERCICE 2 (7 points)

Lors de l'étude de l'équilibre d'un solide soumis à deux forces, ton professeur te présente le schéma d'un livre de masse m sous forme de pavé posé sur une table comme représenté ci – dessous.

Il te demande de trouver la deuxième force appliquée au solide et de déterminer la masse m du pavé.

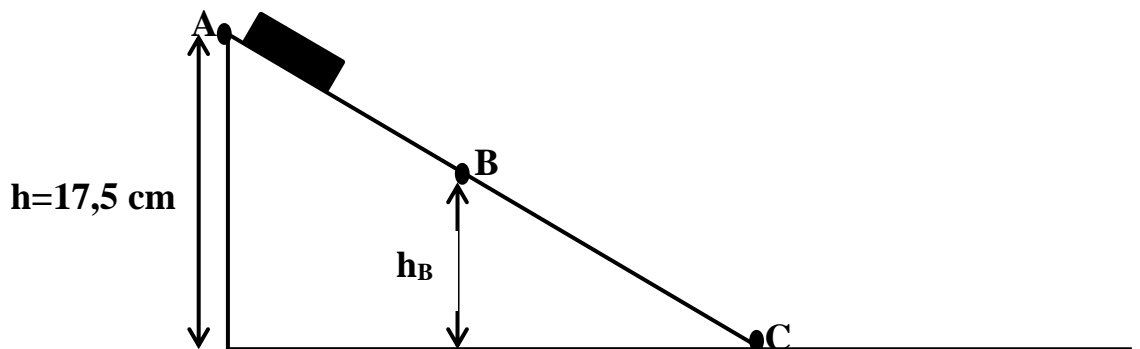
On donne : $g = 10 \text{ N/kg}$.

1. Définis une force.
2. Nomme et détermine l'intensité de la force représentée.
(Echelle : $1 \text{ cm} \leftrightarrow 5 \text{ N}$).
3. Donne les caractéristiques de la force représentée.
4.
 - 4.1. Enonce la condition d'équilibre d'un solide soumis à deux forces.
 - 4.2. Donne le nom et les caractéristiques de la deuxième force qui participe à l'équilibre du pavé.
 - 4.3. Reproduis et représente sur le même schéma, à la même échelle, ce vecteur – force.
 - 4.4. Dédus de ce qui précède la masse m du pavé.



EXERCICE 3 (5 points)

Lors d'une journée scientifique à laquelle prend part le club scientifique de ton établissement, il est question d'expliquer la transformation de l'énergie cinétique en énergie potentielle de pesanteur et inversement. Membre de ce club, tu es choisi pour animer le stand où se trouve le dispositif schématisé ci-dessous.



L'objet de masse $m = 200\text{g}$ est lâché sans vitesse initiale au point A à la hauteur $h = 17,5 \text{ cm}$. Il passe ensuite par les points B et C. On néglige les forces de frottements et $g = 10 \text{ N/Kg}$.

1. Définis :
 - 1.1. L'énergie cinétique ;
 - 1.2. L'énergie potentielle de pesanteur.
2. Donne :
 - 2.1. La forme d'énergie que possède l'objet au point A.
 - 2.2. La forme d'énergie que possède l'objet au point C.
 - 2.3. L'expression littérale de l'énergie mécanique au point B.
3. Détermine :
 - 3.1. L'énergie mécanique de l'objet en A.
 - 3.2. La vitesse V_C de l'objet en C.
4. Précise la transformation d'énergie qui a lieu de A à C.

Recopie le texte ci-dessous en le complétant avec les mots ou groupes de mots suivants : **dioxygène, électrolyse, cathode, l'anode, dihydrogène, synthétisée.**

L'eau est un corps pur composé. Elle peut être décomposée par..... Au cours de cette transformation, il se dégage à la..... le..... dont le volume est le double de celui du qui se dégage à..... L'eau peut être à partir de ces corps gazeux.

EXERCICE 2 (7points)

Dans ton quartier, un immeuble est en construction. Une grue soulève un gros bloc de briques de masse $m = 800 \text{ kg}$ qu'elle dépose au deuxième étage situé à une hauteur $h = 7 \text{ m}$ du sol.

Avec tes camarades de quartier, vous observez les mouvements de la grue. L'un d'eux veut déterminer le travail W effectué par le poids du bloc de briques lors de sa montée.

Il te sollicite pour l'aider.

Donnée: $g = 10 \text{ N/kg}$

1. Donne :
 - 1.1. la définition du travail d'une force :
 - 1.2. l'expression du travail du poids d'un corps.
2. Dis si le travail du poids du bloc de briques est moteur ou résistant.
3. Justifie ta réponse.
4. Détermine le travail du poids du bloc de briques.

EXERCICE 3 (5points)

Après le cours sur la réduction des oxydes, avec tes camarades de classe, vous effectuez une visite d'étude dans une usine de transformation de minerais.

Le guide vous explique la transformation de l'oxyde cuivrique (CuO) en métal cuivre et l'oxyde ferrique (Fe_2O_3) en métal fer.

L'un de tes camarades n'ayant pas suivi ces explications te sollicite.

1. Définis une réaction de réduction.
2. Donne le nom du corps simple utilisé pour réduire :
 - 2.1.L'oxyde cuivrique ;
 - 2.2.L'oxyde ferrique.
3. Ecris l'équation-bilan de chacune de ces réactions chimiques.
4. Réécris chacune des deux équations-bilans de réactions chimiques et indique par des flèches, le type de réaction subie par chaque réactif.

Groupe Excellence

Académique



PHYSIQUE CHIMIE

Coefficient : 2

Durée : 2h

SUJET 8


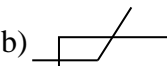

Cette épreuve comporte deux (02) pages numérotées 1/2 et 2/2.

L'usage de la calculatrice scientifique est autorisé.

EXERCICE 1 : (8 points)

PHYSIQUE (5 points)

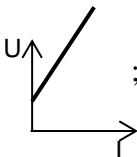
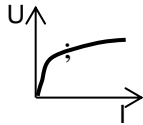
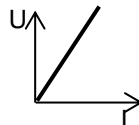
A/ 1. Le conducteur ohmique a pour symbole :

- a)  ; b)  ; c) 

2. Lorsqu'il est inséré dans un circuit électrique, un conducteur ohmique :

- a) permet d'augmenter l'intensité du courant électrique. ; b) permet de diminuer l'intensité du courant électrique. ; c) n'a aucune influence sur l'intensité du courant.

3. La caractéristique $U = f(I)$ d'un conducteur ohmique est du type :

- a)  ; b)  ; c) 

4. La relation mathématique qui traduit la loi d'Ohm est :

- a) $R = \frac{U}{I}$; b) $I = \frac{R}{U}$; c) $U = \frac{I}{R}$

5. L'unité légale de la résistance d'un conducteur ohmique est:

- a) l'Ampère ; b) l'Ohm ; c) le Volt

Recopie le numéro de chaque proposition suivie de la lettre correspondant à la bonne réponse.

B/ Recopie le numéro de la question et écris en face la lettre V si la proposition est vraie et F si elle est fausse.

Exemple : 5 – V

1. Un objet soumis à deux forces est en équilibre quand les deux forces ont la même droite d'action, la même valeur et des sens opposés.
2. Le sens de la poussée d'Archimède est du haut vers le bas.
3. Le poids d'un corps est une grandeur physique s'exprime en kilogramme.
4. On dit que le solide coule si la densité de la substance est supérieure à celle de l'eau.

C/

1. Donne le symbole normalisé d'un ampèremètre.
2. Donne le symbole normalisé d'un voltmètre.

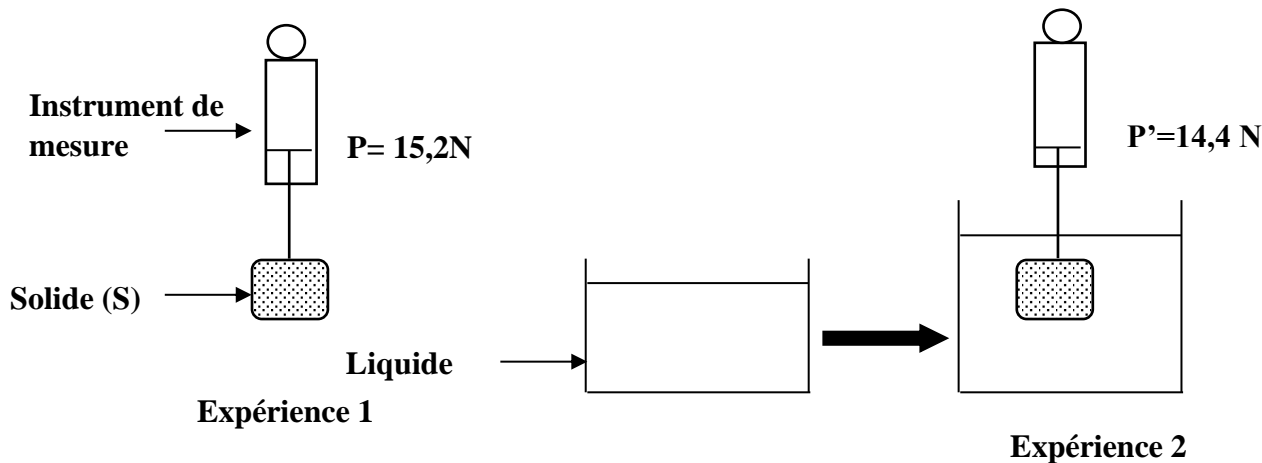
CHIMIE (3 points)

Ecris les noms et les formules des corps A, B, C, D, E et F dans le tableau ci-dessous en tenant compte de leurs propriétés :

CORPS	PROPRIETES	NOM ET FORMULE
A	Gaz à l'origine des pluies acides.	
B	Poudre noire se formant lors de la combustion du cuivre.	
C	Gaz qui décolore le permanganate de potassium.	
D	Gaz qui accentue l'effet de serre.	
E	Corps rouge brun et poreux se formant par oxydation lente du fer dans l'air humide.	
F	Solide gris bleuté attirable par un aimant et se formant au cours de la combustion du fer.	

EXERCICE 2 (7 points)

Au cours d'une séance de Travaux Pratiques, au Lycée Kato Luc Vincent de Méagui, un groupe d'élèves d'une classe de 3^{ème} réalise l'expérience schématisé ci-dessous. En ce lieu, $g=10N/kg$. Ces élèves se proposent de déterminer la nature du solide. Aide-les à le faire.



On donne : $\rho_{eau} = 1kg/dm^3$; $g=10N/kg$

1- Donne le nom de la grandeur mesurée par le dynamomètre :

1-1- Dans l'expérience 1 ;

1-2- Dans l'expérience 2.

2- Explique la différence de valeur entre les deux indications du dynamomètre.

3- Détermine :

3-1- la valeur de la poussée d'Archimède.

3-2- le volume V_s du solide S ;

3-3- la masse m_s du solide S à partir du poids réel de l'objet.

3-4- la masse volumique ρ_s du solide

4- Indique la nature du solide en t'appuyant sur le tableau ci-dessous.

Corps	Aluminium	Or	Cuivre	Plomb
Masse volumique en kg/dm^3	2,7	19	8,9	11,3

EXERCICE 3 (5 points)

Après avoir suivi avec intérêt la leçon portant sur l'électrolyse de l'eau, un groupe d'élèves de 3^e décide de reprendre la même expérience sous la supervision de leur professeur de Physique-Chimie, en vue d'identifier eux-mêmes les produits qui se forment.

A la fin de l'expérience, ils recueillent deux gaz X et Y. Le gaz X qui se forme à la cathode a un volume de 36 cm³.

1. En dehors de l'eau, cite 4 éléments dont les élèves ont besoin pour faire cette expérience.
2. Donne :
 - 2.1. Le nom et la formule du gaz X.
 - 2.2. Le nom, la formule et le volume du gaz Y.
3. Ecris l'équation-bilan de la réaction chimique correspondant à cette expérience.
4. Explique comment les élèves doivent procéder pour :
 - 4.1. identifier le gaz X.
 - 4.2. identifier le gaz Y.
5. Détermine le volume du gaz Y.

Groupe Excellence

Académique



PHYSIQUE CHIMIE

Coefficient : 2

Durée : 2h

SUJET 9

Cette épreuve comporte deux (02) pages numérotées 1/2 et 2/2.
L'usage de la calculatrice scientifique est autorisé.

EXERCICE 1 (8 points)

PHYSIQUE (5 points)

A/ Les affirmations ci-dessous se rapportent à la masse et au poids d'un corps.

- 1- La masse d'un corps est invariable en tout lieu.
- 2- Le poids d'un corps est toujours vertical et dirigé vers le haut.
- 3- La balance est l'instrument de mesure du poids d'un corps.
- 4- Le poids d'un corps varie en fonction du lieu.

Recopie le numéro de chacune des affirmations et écris à la suite **V** si elle est vraie ou **F** si elle est fausse (*Exemple 7 -V*).

B/

Une noix de coco de masse $m = 1500 \text{ g}$ tombe en passant par un point A situé à 3 m du sol à la vitesse $v = 6 \text{ m/s}$. On prendra $g = 10 \text{ N/kg}$.

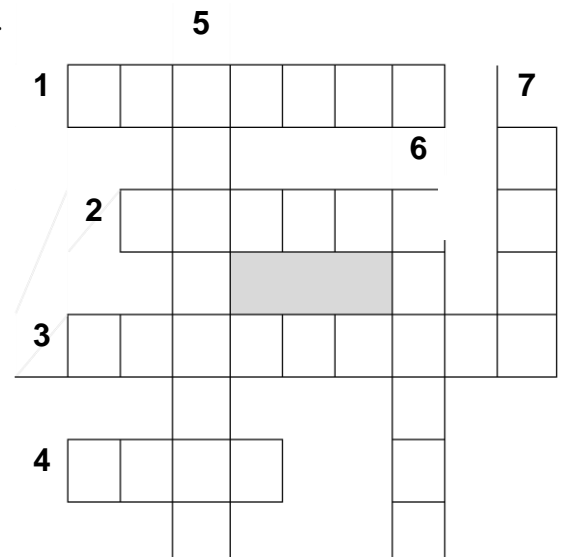
- 1- L'énergie cinétique de la noix au point A.
 - a) $E_c(A) = 27 \text{ J}$; b) $E_c(A) = 27 \text{ J}$; c) $E_c(A) = 27 \text{ J}$
- 2- L'énergie potentielle de pesanteur de la noix au point A.
 - a) $E_{pp}(A) = 27 \text{ J}$; b) $E_{pp}(A) = 37 \text{ J}$; c) $E_{pp}(A) = 17 \text{ J}$
- 3- L'énergie mécanique de la noix au point A.
 - a) $E_m(A) = 27 \text{ J}$; b) $E_m(A) = 72 \text{ J}$; c) $E_m(A) = 17 \text{ J}$

Recopie le numéro de chaque affirmation, suivi de la lettre correspondant à la bonne réponse.

(*Exemple: 5-a*)

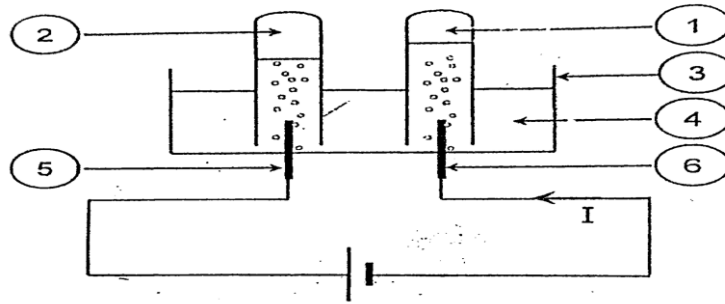
C/ Joue aux mots croisés en utilisant ton vocabulaire en électricité.

- 1. Différence d'état électrique entre deux points d'un circuit électrique donné.
- 2. Unité légale de l'intensité du courant électrique.
- 3. Rapport entre l'énergie restituée et l'énergie reçue par un convertisseur d'énergie.
- 4. Unité légale de la tension électrique.
- 5. Qualificatif de la puissance inscrite sur la plaque signalétique d'un appareil électrique.
- 6. Grandeur dont l'unité légale est le Joule.
- 7. Unité légale de la puissance électrique.



CHIMIE (3 points)

Annote le schéma de l'électrolyse de l'eau ci - contre en recopiant sur ta feuille de copie les chiffres 1, 2, 3, 4, 5 et 6.

**EXERCICE 2 (7 points)**

Sous la supervision de leur professeur de Physique – Chimie, un groupe d'élèves de 3^e d'un Lycée d'Abidjan, réalise la formation de l'image E'G' d'une bougie EG à l'aide d'une lentille convergente (L) de vergence 20 dioptries.

La bougie haute de 8 cm est placée à 12 cm de la lentille convergente tel que, E est sur l'axe optique et G en dessous. **Aide les élèves à répondre aux consignes suivantes.**

1. Définis la vergence d'une lentille convergente.
2. Calcule la distance focale f de la lentille convergente utilisée.
3. Dans la suite de l'exercice, on considère que la distance focale de la lentille est $f = 5 \text{ cm}$.

Construis sur une feuille de papier millimétré l'objet EG, son image E'G' et les foyers de la lentille à l'échelle $\frac{1}{2}$.

4. Détermine :
 - 1.1. La distance réelle séparant la lentille à l'image.
 - 1.2. Le grandissement de la lentille.

EXERCICE 3 (5 points)

Après avoir suivi les leçons de chimie portant sur l'oxydation des corps purs simples, un groupe d'élèves de 3^e décide de reprendre les trois expériences a, b et c ci-dessous sous la supervision de leur professeur, afin d'étudier les produits obtenus.

- **Expérience a** : ils placent une tige en cuivre dans la flamme d'un brûleur à gaz et obtiennent un corps A sous forme de poudre noire.
- **Expérience b** : ils brûlent de la paille de fer et obtiennent un corps B qui est un solide gris-bleuté qu'un aimant peut attirer.
- **Expérience c** : ils laissent une barre de fer à l'air libre humide pendant une semaine et observent qu'elle se recouvre d'un corps C qui est un produit poreux de couleur rouge-brun.

1. Donne le nom et la formule :

- 1.1. du corps A.

GEA, former pour réussir avec un enseignement de qualité.

- 1.2. du corps B.
- 1.3. du corps C.
2. Explique la différence entre les modes d'obtention des corps B et C.
3. Ecris l'équation-bilan de la réaction chimique qui a permis d'obtenir :
 - 3.1. le corps A.
 - 3.2. le corps B.
 - 3.3. le corps C.

Groupe Excellence

Académique



PHYSIQUE CHIMIE

Coefficient : 2

Durée : 2h

SUJET 10

Cette épreuve comporte deux (02) pages numérotées 1/2 et 2/2.
L'usage de la calculatrice scientifique est autorisé.

EXERCICE 1 (8 points)

A- En utilisant les chiffres, répond par vrai lorsque l'affirmation est juste et par faux lorsque l'affirmation est fausse. Exemple : 1-vrai

1. La densité d'un corps n'a pas d'unité.
2. Un solide soumis à deux forces est en équilibre si ces deux forces ont la même direction, le même sens et n'ont pas la même valeur.
3. Le travail d'une force est dit moteur lorsque la force contribue au déplacement.
4. L'énergie mécanique d'un corps se conserve en l'absence de frottements.
5. Le watt (W) est l'unité légale du travail du poids.

B- En utilisant les chiffres et les lettres, fais correspondre chaque grandeur physique à son expression. Exemple : 1-b

GRANDEURS

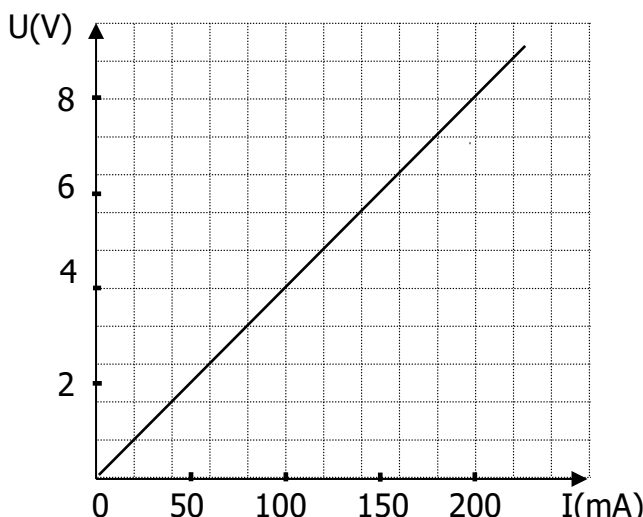
- 1- Masse volumique
- 2- Poids
- 3- Poussée d'Archimède
- 4- Travail d'une force
- 5- Travail du poids

EXPRESSIONS

- a- $P - P'$
- b- $\frac{m}{v}$
- c- $m \times g \times h$
- d- $m \times g$
- e- $F \times L$

C-

La caractéristique $U = f(I)$ d'un résistor est la suivante :



En utilisant la méthode graphique, détermine :

1. la valeur de la résistance de ce résistor.

.....
.....

2. la tension à ses bornes lorsqu'il est traversé par un courant d'intensité 100 mA.

.....

D- Ordonne ces mots et groupes de mots de sorte à obtenir une phrase ayant un sens.

1- / s'exprime / une grandeur / Une force / dont / en newton. / vectorielle / est / la valeur /

2- / la poussée d'Archimède. / solide immergé/ son poids / la valeur de/ dans un liquide coule, / à celle de / Lorsqu'un/ est supérieure /

EXERCICE 2 (7 points)**LES PARTIES A ET B SONT INDEPENDANTES****A/**

Un élève d'une classe de 3^{ème} a repassé ses habits avec un fer à repasser électrique de puissance 1,2 kW pendant 60 minutes. Son père, préoccupé par le montant de la prochaine facture, l'interpelle par rapport à la durée du repassage. L'élève se propose de déterminer le coût de la consommation d'énergie que le repassage de ses habits a engendré.

1. Ecris l'expression de la puissance électrique.
2. Détermine l'énergie consommée par le fer à repasser :
 - 2.1. en wattheure
 - 2.2. en joule
3. Détermine le montant de la consommation du fer à repasser sachant que le prix du kilowattheure est d'environ 70 F CFA.

B/

Sinan, un abonné du réseau CIE habitant la région d'Iffou, possède un climatiseur de 450 W, un fer à repasser de 1000 W, un téléviseur de 150 W, un réfrigérateur de 250 W et 12 lampes de 75 W chacune. Il a souscrit pour une intensité de 10 ampères et il veut savoir s'il pourra faire fonctionner tous ses appareils de manière simultanée ou non. La tension du secteur vaut 220 V.

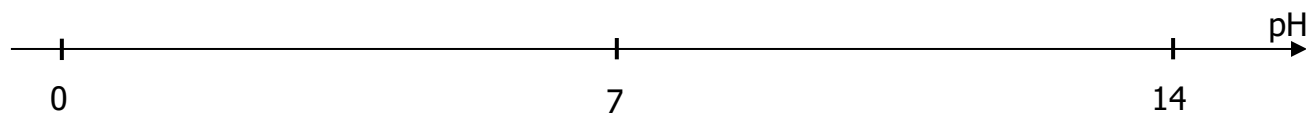
1. Indique le type d'association des appareils électriques dans la maison de Sinan.
2. Calcule :
 - 2.1. la puissance maximale que peut supporter son installation.
 - 2.2. la puissance électrique totale de tous ces appareils.
3. Dis en justifiant ta réponse ce qu'il se passera si tous ces appareils sont mis en service simultanément par Sinan.


EXERCICE 3 (5 points)

Afin d'étudier comment varie le pH d'une solution aqueuse lorsqu'on la dilue, un élève de 3^e, assisté par son professeur de Physique-Chimie recense plusieurs solutions aqueuses avec leur pH qu'il consigne dans le tableau ci-dessous. Il dilue modérément chacune des solutions A, D et G et note respectivement par A', D' et G' les nouvelles solutions ainsi obtenues.

solution	A	B	C	D	E	F	G
pH	1,8	7,1	4,5	12,0	8,0	6,9	7,0
nature							
BBT							

1. Donne la signification de « diluer une solution ».
2. A la 3^è ligne du tableau indique la nature ACIDE, BASIQUE ou NEUTRE de chaque solution.
3. A la 4^è ligne du tableau indique la couleur prise par chaque solution lorsque l'élève y verse quelques gouttes de bleu de bromothymol (BBT).
4. Complète :
 - 4.1. les phrases suivantes en utilisant les symboles $<$, $>$ ou $=$
pH (A') pH(A) ; pH (D') pH(D) ; pH (G') pH(G)
 - 4.2. l'échelle de pH ci-dessous en y plaçant qualitativement les solutions A, D, G, A', D' et G'.





**PARTIE 3
COMPOSITION
FRANÇAISE**

Groupe Excellence**Académique****COMPOSITION FRANÇAISE****Coefficient : 2****Durée : 2h****SUJET 1**

*Cette épreuve ne comporte qu'une seule page
Le candidat traitera au choix, l'un des sujets :*

PREMIER SUJET : Texte argumentatif (sujet de réflexion)

Lors d'une réunion des parents d'élèves à la rentrée scolaire, un parent réagissant contre l'achat des tenues de sport s'est écrié : « j'ai scolarisé mon fils pour qu'il fasse des études et prépare ainsi son avenir. Je ne vois vraiment pas ce que le sport peut lui apporter. »

- 1- Identifie le thème abordé dans ce sujet
- 2- Reformule la thèse du parent d'élève
- 3- Rédige ta production pour réfuter le point du parent d'élève

DEUXIEME SUJET : résumé de texte argumentatif**Texte : L'éducation victime et remède**

La table ronde consacrée à l'éducation et intitulée « comment éduquer, former et employer la jeunesse ? » a bien mis en lumière l'influence déterminée que peut avoir l'éducation sur la réduction de la pression démographique. Les études le prouvent, l'accroissement du niveau d'éducation permet une meilleure coopération entre les parents et les services médicaux moderne et contribue à réduire le nombre d'enfants souhaités par la femme. Aussi, une étude réalisée en 1988 au Sénégal indique que les femmes de 15 à 19 ans sans instruction souhaitent avoir 7,4% enfants, celles qui ont acquis l'instruction primaire désirent en avoir 5,6% et à partir du secondaire le nombre s'abaisse à 4,5%. La même étude montre que le niveau d'instruction surtout à partir du secondaire, augmente considérablement la proportion des femmes qui utilisent les services de planification familiale ou des méthodes contraceptives, de même que les services modernes d'assistance à l'accouchement. Pourtant, la quasi-totalité des intervenants se sont accordés pour reconnaître l'éducation en Afrique laisse à désirer. M. Ibobo Mandaza, secrétaire général du Southern Africa Regional Institute Policy Studies (SAPES), l'a résumé d'une formule lapidaire : «il arrive souvent qu'on ne forme bien ni la masse ni l'élite ». En définitive, la conférence du palais des congrès a permis à la communauté internationale de prendre conscience de l'ampleur du phénomène démographique africain.

Philippe F. Jalon

Questions

- A- Compréhension
 - 1- Détermine la thèse soutenue par l'auteur
 - 2- Relève deux arguments en faveur de cette thèse
- B- Vocabulaire

A quel champ lexical appartiennent les mots « éduquer, former et employer »

- C- Résumé : Résume ce texte de 230 mots au 1/3 de son volume initial. Une marge de +-10% sera tolérée

Groupe Excellence**Académique****COMPOSITION FRANÇAISE****Coefficient : 2****Durée : 2h****SUJET 2**

*Cette épreuve ne comporte qu'une seule page
Le candidat traitera au choix, l'un des sujets :*

PREMIER SUJET : Texte argumentatif (sujet de réflexion)

Au cours d'une réunion-bilan en fin d'année scolaire à la DRENET, un conseiller d'éducation affirmé : « ils ont tort tous ceux qui accusent les élèves d'être les seuls responsables de leur échec. Il faut accepter le fait que les parents, les enseignants, l'administration et le gouvernement ont leur part de responsabilité dans l'échec scolaire »

- 1- Identifie le thème abordé dans ce sujet
- 2- Reformule la thèse du conseiller de l'éducation
- 3- Rédige ta production pour étayer le point de vue du conseiller d'éducation

DEUXIEME SUJET : résumé de texte argumentatif**Texte : L'allaitement artificiel**

Malgré tous ses avantages, l'allaitement maternel connaît aujourd'hui un déclin inquiétant dans la plupart des pays du monde. On prône maintenant l'allaitement artificiel. Or, ce mode d'allaitement de l'enfant ne va pas sans danger. L'allaitement artificiel est loin de satisfaire la relation affective qui doit s'instaurer entre la mère et l'enfant ; il fait d'eux deux personnes étrangères l'une à l'autre alors que l'allaitement maternel renforce le cordon sentimental et affectif qui relie ces deux êtres. En outre, l'allaitement artificiel coûte cher. C'est que dans les familles à faibles revenus, on tente d'économiser en faisant durer la boîte de lait le plus longtemps possible ; cela conduit l'enfant à la sous-nutrition et son organisme s'affaiblit, il ne peut opposer aucune résistance aux infections par conséquent aux maladies. En revanche, l'allaitement maternel, lui, est gratuit, il est beaucoup plus nourrissant et constitue une garantie pour la santé de l'enfant.

Enfin, l'allaitement artificiel nécessite l'application d'un certain nombre de règles d'hygiène que beaucoup de mères ignorent. De plus, dans nos pays tropicaux où la chaleur continue favorise une prolifération rapide des germes et des virus, biberons et tétines sont des lieux privilégiés pour leur développement. Or, une stérilisation efficace est difficile à réaliser dans les conditions de vie rudimentaire qui sont celles du village et même de certains quartiers des villes.

La cause de la mortalité infantile reste donc le mauvais usage de l'allaitement artificiel. Le rétablissement de l'allaitement maternel doit être par conséquent une tâche prioritaire de toute société

A- COMPREHENSION

- 1- Identifie la thèse de l'auteur
- 2- Relève dans le texte, deux arguments soutenant cette thèse

B- VOCABULAIRE

Donne le synonyme de déclin et on prône

- C- RESUME :** Résume ce texte de 276 mots au 1/3 de son volume initial. Une marge de plus ou moins 10% est tolérée

Groupe Excellence**Académique****COMPOSITION FRANÇAISE****Coefficient : 2****Durée : 2h****SUJET 3**

*Cette épreuve ne comporte qu'une seule page
Le candidat traitera au choix, l'un des sujets :*

PREMIER SUJET : La rédaction d'un texte argumentatif

Lors d'une conférence portant sur le téléphone portable en présence de la ministre Mariatou Koné, un chef d'établissement déclare : « le téléphone portable cause d'énormes préjudices aux élèves ». Interpellé par ce phénomène, tu décides d'étayer ce point de vue.

1. Identifie le thème du sujet
2. Reformule la thèse de ce chef d'établissement
3. Rédige ta production pour étayer ce point de vue

DEUXIEME SUJET : Le résumé de texte argumentatif**Texte**

Actuellement, l'endroit où il faut être c'est Facebook. Ce nouveau réseau social a déclenché un véritable phénomène international. Malgré le fait que ce soit un moyen intéressant pour se faire des amis, maintenir le contact, s'exprimer et partager ses émotions avec eux, il présente aussi une face cachée qui peut être négative voire dangereuse.

Ces dangers guettent les adolescents car ils sont les premiers à avoir adopté ce réseau. Ils sont les plus nombreux et les premiers actifs sur ce site. C'est pour cette raison qu'ils en sont les premières victimes. Les adolescents y partagent leurs vies partagées sans se rendre compte que leur intimité est exposée publiquement. De plus, les soucis de l'école sont exposés sur Facebook, ce qui n'est pas fait pour aplanir les choses. L'expression des conflits et des disputes sur ce site entraînent de réels débordements et peut aller jusqu'à un harcèlement moral. Les directeurs d'établissements font face à de nouvelles formes de difficultés qui ne font que s'amplifier. Facebook est le paradis des voleurs d'identité. Il s'agit souvent de détournement de photos ou vols d'identité. Pour se faire passer pour une autre personne, il suffit juste de créer un profil au nom de cette personne

Le plus grand danger reste la pédophilie : les adolescents sont une proie aisée pour les pédophiles et les délinquants sexuels. Les statistiques du ministère de la justice en France montrent qu'une quinzaine d'enfants par an sont victimes de violence sexuelle de la part d'un pédophile, après l'avoir rencontré sur Internet.

Les réseaux sociaux, enfin, sont extrêmement chronophages. Les enfants y consacrent plus de temps qu'aux devoirs. Le soir après l'école, ils font leurs devoirs tout en surfant ; il leur est donc impossible de se consacrer sur ceux-ci. Une étude dévoile que 52% des 13 à 17 ans avouent se connecter pendant qu'ils font leurs devoirs.

Extrait du forum de la santé psycho bien être

I- QUESTIONS

- 1- Quel est le thème de ce texte ?
- 2- Relève dans le texte deux arguments qui montrent que les adolescents sont les premières victimes de Facebook
- 3- Trouve un synonyme du mot « débordements » dans la phrase : « L'expression des conflits et des disputes sur ce site entraînent de réels débordements et peut aller jusqu'à un harcèlement moral »

II- RESUME : Résume ce texte de 309 mots au 1/3 de son volume initial. Une marge d'au moins 10% est tolérée

Groupe Excellence

Académique



COMPOSITION FRANÇAISE

Coefficient : 2

Durée : 2h

SUJET 4

*Cette épreuve ne comporte qu'une seule page
Le candidat traitera au choix, l'un des sujets :*

PREMIER SUJET : La rédaction d'un texte argumentatif

A l'occasion de la journée mondiale de la jeunesse, tu as participé à une conférence au cours de laquelle le conférencier a déclaré « l'espoir pour les jeunes africains ne réside pas dans le départ clandestin hors de l'Afrique »

- 1- Identifie le thème de ce sujet
- 2- Reformule la thèse
- 3- Etaye cette thèse dans une production argumentée et cohérente

DEUXIEME SUJET : Le résumé de texte argumentatif

Texte :

Les adolescents aujourd'hui ne lisent guère et peut-être ne savent plus lire. Les enquêtes et les sondages, les observations des enseignants et des bibliothécaires apportent sur ce point des témoignages convergents. La lecture des adolescents, dans ses formes et dans ses objets, nous échappent. Quant à leur « non-lecture », elle est interprétée tantôt comme l'effet de lassitude passagère, tantôt comme le signe d'une aversion définitive à l'égard de la civilisation de l'imprimé.

Le livre, quel qu'il soit, est assimilé au livre de classe, obligatoire, donc ennuyeux. Les lycéens formulent du reste à l'encontre des textes au programme un même grief : ils les jugent trop anciens, trop éloignés de l'actualité. Un poète comme Baudelaire leur paraît échappé d'une lointaine préhistoire. La crise de la lecture se marque, qui plus est, par le choix de nouveaux objets où l'image tend de plus en plus à supplanter le texte. Aux romans, aux essais, les jeunes préfèrent les magazines illustrés, des bandes dessinées et, s'ils appartiennent aux milieux défavorisés, les photos romans. Jamais le culte de l'image n'a réuni autant d'adeptes : Tandis que les enfants réclament des dessins animés, des sports publicitaires, les adolescents collectivement les affiches et les posters ... Le livre n'est plus, hors de l'école, l'instrument privilégié de l'acquisition d'un savoir, la lecture n'est plus l'occasion d'une exploration véritable.

B.BRECOUT, bulletin du livre

A- COMPREHENSION

Quelle est la thèse que l'auteur développe dans ce texte ?

B- VOCABULAIRE

Explique en contexte les mots suivants : un grief : supplanter

C- RESUME : Résume ce texte de 220 / 241 mots au tiers de son volume initial. Une marge de + ou - 10% sera tolérée

Groupe Excellence**Académique****COMPOSITION FRANÇAISE****Coefficient : 2****Durée : 2h****SUJET 5**

*Cette épreuve ne comporte qu'une seule page
Le candidat traitera au choix, l'un des sujets :*

PREMIER SUJET : La rédaction d'un texte argumentatif

Lors de la journée mondiale de la femme initiée par l'association des femmes de ton quartier, la marraine de la cérémonie a affirmé : « il est temps que les jeunes filles et leurs parents comprennent que le travail n'est pas réservé aux hommes. C'est par le travail que la femme acquiert son plein épanouissement »

1. Identifie le thème du sujet
2. Reformule la thèse de la marraine
3. Rédige ta production pour étayer ce point de vue

DEUXIEME SUJET : Le résumé de texte argumentatif

Texte : L'internet et les jeunes

L'internet occupe une place importante dans la vie des gens. Il est devenu un véritable phénomène social. Pourtant, il suscite l'appréhension de certains parents et éducateurs. Ceux-ci le considèrent comme un danger qui menace les enfants et les jeunes.

Les enfants et les jeunes passent beaucoup de temps dans les cybercafés et dans les cyberspaces. (...) Un grand nombre d'entre eux veillent tard dans la nuit pour naviguer sur des sites de partage. Bref, l'internet est devenu pour ces jeunes une obsession ou une drogue.

Cela a de conséquences fâcheuses sur leurs études. Ils n'ont pas assez de temps à consacrer à la révision et à la préparation des examens. Les jeunes ne lisent pratiquement plus. L'internet s'est transformé pour eux en une sorte de panacée, la solution à tous les problèmes. Lorsque le professeur les charge de faire un travail ou une recherche sur un sujet déterminé, ils se ruent vers internet et impriment intégralement le document. Ils ne font pas l'effort de lire, d'analyser les informations et de les synthétiser. En d'autres termes, l'internet incite à la paresse intellectuelle.

D'autre part, les utilisateurs d'internet finissent au bout de quelques temps par avoir des douleurs dans le dos et des problèmes de vue parce qu'ils restent plantés pendant plusieurs heures devant l'ordinateur.

Mais la critique la plus importante adressée à l'internet est celle qui concerne l'influence négative de certains sites sur les mœurs des enfants et des jeunes. De nombreux sites pornographiques incitent à la débauche et excitent les pulsions sexuelles des visiteurs. Cet acte est de nature à créer des troubles psychiques chez les adolescents et à encourager à des pratiques sexuelles anormales et malades.

Fatiha ELHAYANI, « internet et les jeunes »

I- Questions**A- Compréhension**

- 1- Identifie le thème de ce texte
- 2- Quelle est la thèse soutenue par l'auteur ?

B- Vocabulaire : explique en contexte la phrase : « il suscite l'appréhension de certains parents et éducateurs »**II- Résumé : Ce texte contient 300 mots rédige son résumé au 1/3 de son volume initial. Une marge de plus ou moins 10% est tolérée**

Groupe Excellence**Académique****COMPOSITION FRANÇAISE****Coefficient : 2****Durée : 2h****SUJET 6**

*Cette épreuve ne comporte qu'une seule page
Le candidat traitera au choix, l'un des sujets :*

PREMIER SUJET : La rédaction d'un texte argumentatif

Lors de la remise des prix aux meilleurs élèves de sa localité, un maire, constatant que le major de toutes les promesses était issu d'une famille à faible revenu a déclaré : « l'insuffisance des moyens financiers des parents ne saurait être une excuse aux mauvais résultats scolaires de leurs enfants »

1. Identifie le thème du sujet
2. Reformule la thèse du maire
3. Rédige ta production pour étayer ce point de vue

DEUXIEME SUJET : Le résumé de texte argumentatif

Texte : La femme, un agent de développement

Nombreux sont ceux qui ont toujours vilipendés la femme. Mais, je pense avoir plusieurs raisons de dire que la femme se positionne de plus en plus comme un agent de développement.

D'abord, j'observe que dans tous les pays, les femmes occupent une place importante dans les activités économiques. Elles sont même très actives dans le secteur informel. Ce secteur rapporte de l'argent qui sert à développer le pays. Ces femmes sont dynamiques et font le petit commerce et la vente des produits vivriers. À l'heure actuelle, ce sont les femmes qui approvisionnent le marché en banane, riz etc....

Puis, je remarque que les femmes travaillent pour subvenir aux besoins de leurs familles. C'est bien le cas des femmes dont les maris ont perdu leur emploi. Pour s'occuper de la famille, elles sont très actives dans les petits commerces. Elles deviennent ainsi le pilier de la famille.

Ensuite, en plus des activités économiques, il n'est pas faux de dire que la femme joue un rôle important dans l'éducation des enfants. Ceux-ci, on le sait, sont des futurs agents de développement. Dans les rapports qu'elles entretiennent avec ses enfants, elles leur enseignent des valeurs morales et sociales. En milieu rural, par exemple, c'est la mère ou la grand-mère qui transmet ses valeurs aux enfants.

J'ajoute, par ailleurs, que la femme contribue à la formation intellectuelle des futurs cadres du pays. En effet, de nos jours, beaucoup de femmes exercent des métiers comme l'enseignement, la médecine, la police, la douane....

Pour toutes ces raisons, je soutiens que les femmes sont de véritables de développement. Elles doivent donc être encouragées dans leurs tâches.

I- QUESTIONS**A- COMPREHENSION**

- 1- Identifie le thème abordé
- 2- Donne la thèse défendue par l'auteur
- 3- Trouve une thèse contraire à celle de l'auteur

B- VOCABULAIRE

Explique en contexte l'expression « vilipendés la femme »

II- RESUME

- 1- Sélectionne les idées essentielles du texte
- 2- Résume ce texte de 282 mots au tiers de son volume initial. Une marge de + ou - 10% sera tolérée

Groupe Excellence

Académique



COMPOSITION FRANÇAISE

Coefficient : 2

Durée : 2h

SUJET 7

*Cette épreuve ne comporte qu'une seule page
Le candidat traitera au choix, l'un des sujets :*

PREMIER SUJET : La rédaction d'un texte argumentatif

A un parent qui tenait à ce que son fils entre en faculté de médecine plutôt qu'à l'école des beaux-arts, un conseiller d'orientation a répondu : « il est temps que les parents arrêtent de décider à la place de leurs enfants, surtout quand il s'agit de domaines qui engagent l'avenir de leurs enfants »

1. Identifie le thème du sujet
2. Reformule la thèse du conseiller
3. Rédige ta production pour étayer ce point de vue.

DEUXIEME SUJET : Le résumé de texte argumentatif

Texte : Les problèmes de l'éducation en Afrique

L'école ne prépare pas à la vie mais aux examens qui sont généralement conçus sans rapport avec l'emploi et les problèmes de la vie. De nombreux jeunes gens, produits inachevés des écoles primaires et secondaires, ou même diplômés des écoles, n'ayant reçu aucune formation les préparant à quelques activités productrices que ce soit, fuient notamment les campagnes et s'agglomèrent dans les villes où les possibilités d'emplois font généralement défaut. Ils grossissent les rangs des chômeurs et deviennent des proies faciles de l'oisiveté et de la délinquance, pendant que les campagnes perdent la force de travail qu'ils représentent, pourtant si nécessaire au développement rural qui demeure le secteur prépondérant de l'économie. Par ailleurs, les cadres formés dans les écoles de haut niveau et même dans certaines universités ont à tendance et à réagir non pas en fonction des réalités du monde africain et des sociétés dont ils ont issus, mais, relativement à des schémas élaborés dans des milieux totalement différents de ceux au sein desquels ils doivent vivre et agir. Ainsi, dispensant un enseignement peu adapté aux réalités locales et aux problèmes nationaux, l'école africaine se présente de plus en plus, à maints égards, comme instrument de déséquilibre social. Les problèmes fondamentaux déjà formulés, clairement par la conférence d'Addis Abeba restent posés avec acuité.

Mais, à des degrés divers, le problème de l'adaptation de l'école à la vie subsiste dans la plupart des pays du monde

D'après Amadou MAHTAR M'BOW, Le nouveau dossier d'Afrique

A- COMPREHENSION

- 1- Quelle est la thèse que développe l'auteur de ce texte ?
- 2- Citez deux arguments en faveur de cette thèse

B- VOCABULAIRE

Explique en contexte l'expression « restent posés avec acuité »

RESUME : Résume ce texte de 290 mots au tiers de son volume initial. Une marge de +- 10% sera tolérée

Groupe Excellence**Académique**

COMPOSITION FRANÇAISE

Coefficient : 2**Durée : 2h****SUJET 8**

*Cette épreuve ne comporte qu'une seule page
Le candidat traitera au choix, l'un des sujets :*

PREMIER SUJET : La rédaction d'un texte argumentatif

Alors que tu suis le reportage sur la conférence dont le thème est le climat qui s'est tenue au Maroc, tu es vivement interpellé (e) par les propos du ministre ivoirien des Eaux et Forêts. Celui-ci affirme : « il est important pour les populations de protéger la forêt »

1. Identifie le thème du sujet
2. Reformule la thèse
3. Donne deux arguments qui illustrent cette thèse
4. Rédige ta production pour étayer en vue de sensibiliser tes amis

DEUXIEME SUJET : Le résumé de texte argumentatif**TEXTE**

Les adolescents, dans leur ensemble, pratiquent le sport avec plaisir. Il leur offre un passe-temps qui peut se prolonger ; il permet une évasion facile à cause de l'effort et de l'attention qu'il réclame, ce qui les oblige à oublier leurs soucis ; il réalise leur rêve devenir forts et de développer leur corps et par conséquent leur permet de se faire admirer par les autres et d'être fiers ; enfin , c'est une activité dans laquelle ils peuvent exprimer leur force et leur jeunesse : n'est-ce pas, en définitive, le seul domaine où l'adolescent se montre certainement supérieur à l'adulte ? Plus le sport offre de succès aux jeunes et les met en valeur, plus il est apprécié d'eux. C'est aussi une activité dans laquelle la violence et l'agressivité peuvent se libérer sous forme de jeu, ce qui est facteur d'équilibre pour la personnalité. Mais la pratique du sport encouragée exagérément, peut-être dangereuse pour l'adolescent. D'abord, elle peut entraîner le surmenage physique : poussés par la volonté de performance et de rivalité, beaucoup se fatiguent inutilement et tombent malades. En outre, cela nuit à leur travail scolaire. Ensuite, c'est sur le plan psychologique que les dangers peuvent subvenir : ces adolescents sont des obsédés ! Ils ne pensent qu'au sport. Dans les journaux, ils ne lisent que les articles sportifs, ils s'identifient aux champions. Naturellement, leurs résultats scolaires sont nuls car les attentions n'arrivent à suivre les objets traités en classe, ils ne rêvent que de stade et le seul espoir, c'est de faire une carrière sportive comme leurs champions préférés.

D'après AVAZINI

A- COMPREHENSION

- 1- Identifie le thème abordé dans ce texte
- 2- Détermine la thèse de l'auteur

B- VOCABULAIRE

- 1- Explique en contexte surmenage physique
- 2- Donne un synonyme de « obsédés »

C- RESUME : Résume ce texte de 264 mots au tiers de son volume initial. Une marge de +- 10% sera tolérée

Groupe Excellence**Académique****COMPOSITION FRANÇAISE****Coefficient : 2****Durée : 2h****SUJET 9**

*Cette épreuve ne comporte qu'une seule page
Le candidat traitera au choix, l'un des sujets :*

PREMIER SUJET : La rédaction d'un texte argumentatif

Lors de la rencontre entre le conseil scolaire et le comité des parents, le délégué des élèves dit : « les parents doivent plus de liberté à leurs enfants. Ainsi, leurs enfants pourront faire tout ce qu'ils veulent »

1. Identifie le thème du sujet
2. Relève la thèse
3. Reformule la thèse
4. Rédige ta production pour réfuter ce point de vue

DEUXIEME SUJET : Le résumé de texte argumentatif

Texte : La place de la femme africaine dans l'économie

La place de la femme est bien souvent subordonnée et liée à la maternité. Être mère apporte une connaissance sociale et le prestige reste proportionnel au nombre d'enfants.

L'équilibre économique dans les campagnes repose sur une stricte division des tâches entre les sexes. La famille qui ne correspond pas au modèle mononucléaire européen, ne constitue pas a proprement parler un foyer économique. Hommes et femmes ont chacun leurs sphères d'activités distinctes.

Ainsi, les femmes ont la charge presque totale de l'auto-suffisance alimentaire. Sur elle, repose aussi la tâche de chercher l'eau et le bois de chauffage indispensables. Elles plantent, soignent et récoltent ces produits qui constituent la nourriture traditionnelle de base : banane plantain, mil, sorgho. Elles s'occupent aussi du petit élevage comme des volailles.

Il y a donc une tradition d'autonomie des femmes en tant que groupe face aux hommes. Certes soumises à l'obligation de pouvoir à l'entretien de la famille, elles disposent à l'intérieur de ce domaine d'une certaine liberté initiative.

Cependant, les femmes ne participent faiblement à la monétarisation de l'économie rurale africaine.

Dès la période de la colonisation, les hommes se sont appropriés le domaine des cultures commerciales d'exportations et les revenus monétaires y sont liés.

Le développement de l'urbanisation, notamment par l'exode rural a bouleversé ces structures économiques traditionnelles. Dans les villes d'Afrique, les femmes assurent fréquemment le rôle de chef de famille. Cela est dû à la précarité du lien conjugal en milieu urbain, à l'affaiblissement des liens de solidarité, mais aussi aux cas nombreux de jeunes filles séduites puis abandonnées alors qu'elles sont mères.

Bruno PONSONNET in Diagonales

I- Questions**A- Compréhension**

- 1- Cite deux activités principales de la femme africaine rurale
- 2- Quel joue-t-elle dans le milieu urbain ?

B- Vocabulaire : donne un synonyme à chacun des mots suivants : « le privilège » ; « une autonomie »

Résumé : Ce texte contient 300 mots rédige son résumé au 1/3 de son volume initial. Une marge de plus ou moins 10% est tolérée

Groupe Excellence**Académique****COMPOSITION FRANÇAISE****Coefficient : 2****Durée : 2h****SUJET 10**

*Cette épreuve ne comporte qu'une seule page
Le candidat traitera au choix, l'un des sujets :*

PREMIER SUJET : La rédaction d'un texte argumentatif

Ayant reçu son diplôme universitaire, un étudiant affirme « l'école est la seule voie de réussite pour celui qui veut s'ouvrir au monde des affaires et du travail »

1. Identifie le thème du sujet
2. Reformule la thèse
3. Donne deux arguments qui illustrent cette thèse
4. Rédige ta production pour réfuter ce point de vue

DEUXIEME SUJET : Le résumé de texte argumentatif**Texte : Ecole et vie associative**

La finalité de l'apprentissage est d'acquérir des savoirs. Cependant, il s'agit surtout de permettre une insertion réussie de l'individu dans son environnement social et économique immédiat. Ensuite, il est important que cela exige de lui des qualités humaines et des aptitudes à vivre en société. A travers des structures de vie collective comme les clubs et associations, l'animation extrascolaire, les coopératives, les sports, le théâtre et la musique, l'école entreprend à développer la personnalité de l'être humain dans toutes ses dimensions. Ces activités constituent d'énormes moments de détente et d'auto-formation. Elles contribuent à développer puissamment la personnalité de l'enfant. En définitive, il n'y a pas de cloison étanche entre les aspects intellectuels et les aspects pratiques et humains de la formation, mais plutôt une complémentarité.

C'est pourquoi, l'élève qui veut réussir ne devra pas se dédaigner ces activités en se réfugiant uniquement dans ses livres et cahiers. Il participera pleinement à ces activités d'éveil qui favorisent la réalisation et l'épanouissement de la personnalité. L'apprentissage interactif de la vie en groupe, la prise de la parole en public, le sens de l'initiative, le sens de la responsabilité et l'aptitude à obéir et à commander. Dans les lycées, universités, les élèves et étudiants devraient être familiarisés à la vie associative à travers la pratique des activités scolaires, culturelles, coopératives et sportives sous la supervision des adultes. Ces activités participent pleinement et activement à la formation et à la maturation des élèves et étudiants. En ce sens qu'elles contribuent à développer chez eux les qualités et vertus attendues d'un citoyen autonome, responsable au service de son milieu

D'après Dr Philippe DEMANOIS le guide de l'élève/ étudiant qui veut réussir

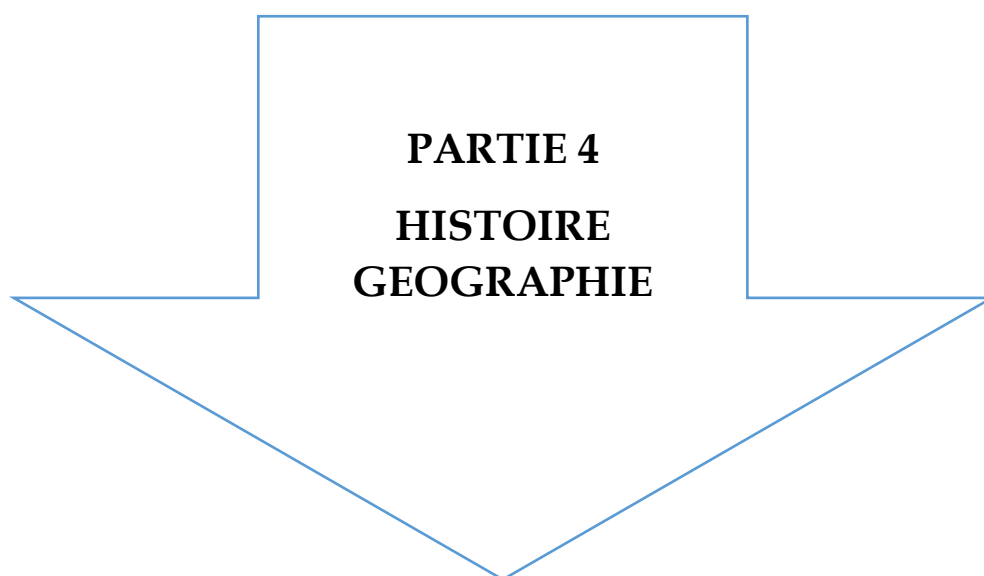
A- COMPREHENSION

- 1- Identifie le thème abordé dans ce texte
- 2- Détermine la thèse de l'auteur

B- VOCABULAIRE

Donne un synonyme du mot « dédaigner »

- C- RESUME : Résume ce texte de 288 mots au tiers de son volume initial. Une marge de + ou - 10% sera tolérée



PARTIE 4
HISTOIRE
GEOGRAPHIE

Groupe Excellence

Coefficient : 2

Académique

Durée : 2h



HISTOIRE – GEOGRAPHIE

SUJET 1

Cette épreuve comporte deux (02) pages numérotées 1/2 et 2/2.

EXERCICE 1

A- Complète le texte ci – dessous à partir des mots ou groupes de mots suivants : **Congrès de Berlin – rivalités – économiques – résolutions – démographiques – Partage – colonisation – ruée coloniale.**

Plusieurs raisons, politiques, humanitaires et vont entraîner la venue des Européens en Afrique au XIXème siècle. Cependant, de violentes..... naissent entre nations impérialistes. Pour éviter des conflits armés entre puissances européennes, le est convoqué du 15 novembre 1884 au 26 février 1885. Au cours de ce congrès, plusieurs ont été adoptées et cela va entraîner la vers l'Afrique, ainsi que le..... et la de l'Afrique

B- Réponds par vrai ou faux aux affirmations suivantes :

- 1- Le relief est propice à la mise en place des infrastructures.
- 2- L'océan atlantique facilite les échanges entre la Côte d'Ivoire et l'Europe.
- 3- Les entreprises ivoiriennes ne disposent pas d'une main-d'œuvre abondante.
- 4- La forêt dense est un handicap pour le développement de l'agriculture.
- 5- La Côte d'Ivoire possède un potentiel énergétique pour son industrialisation.

EXERCICE 2

A l'initiative du club de la paix de ton établissement, un spécialiste des relations internationales anime une conférence à l'intention des élèves de troisième. Au cours de son intervention ce dernier affirme : « Le constat en Afrique est que les crises sociopolitiques sont occasionnées par le manque de démocratie, la volonté de conservation du pouvoir et les rivalités ethniques. Tous les rapports indiquent que ces crises ont une incidence démographique et humanitaire catastrophique ».

Consignes

- 1- Dégage le problème que pose le conférencier dans ses propos.
- 2- Explique le passage suivant : « les crises sociopolitiques sont occasionnées par le manque de démocratie ».
- 3- Partages-tu l'avis du conférencier lorsqu'il soutient que : « Les crises ont une incidence démographique et humanitaire catastrophique » ? Justifie ta réponse.

EXERCICE 3

Classe dans le tableau ci-dessous chaque atout naturel du développement économique de la côte d'ivoire dans la case appropriée : plaine ; plateau ; montagne ; climat subéquatorial ; climat de montagne ; climat tropicale humide ; climat tropicale sec ; forêt dense ; savane arborée ; savane herbeuse ; sol ferrallitique ; sol ferrugineux, forêt claire

Localisation	Nord	Ouest	Sud	Centre
Aspect physique				
Relief				
Type de climat				
Végétation naturelle				
Type de sol				

Groupe Excellence**Coefficient : 2****Académique****Durée : 2h**

HISTOIRE – GEOGRAPHIE

SUJET 2

Cette épreuve comporte deux (02) pages numérotées 1/2 et 2/2.

EXERCICE 1

A- Range dans l'ordre chronologique les événements relatifs à la marche de la Côte d'Ivoire vers l'indépendance.

Apparemment - abolition du travail forcé - marche des femmes sur Grand -Bassam - désapparemment - loi-cadre - Communauté Franco – Africaine - proclamation de l'indépendance

B- Mets à la place qui convient dans le texte ci-dessous, les mots et de mots suivants : matières premières, vieillissante, environ 40%, agro-industrie, méthodes et techniques, agriculture d'exportation, rendements agricoles.

Le secteur primaire en Côte d'Ivoire repose essentiellement sur qui représente du total des exportations du pays. Le café, le cacao, le coton, le palmier à huile, la canne à sucre et l'anacarde fournissent à l'industrie les indispensable au développement de Toutefois, l'agriculture ivoirienne rencontre d'énormes difficultés. La population rurale est et le coût des intrants élevé.

Les..... demeurent faibles en raison desculturelles encore traditionnelles.

EXERCICE 2

La crise sanitaire liée au COVID -19 vous oblige au confinement décidé par le gouvernement. A la maison, tu écoutes deux amis qui échangent sur les conséquences possibles de cette crise en Afrique. Chantal dit ceci : « Avec les insuffisances de nos hôpitaux et centres de santé en Afrique, comment allons-nous nous en sortir ? De plus, le niveau de développement est si bas que toute l'économie africaine risque de s'effondrer et la pauvreté va augmenter ». Kouassi réagit : « Et pourtant, ce continent a une multitude de richesses qui pourraient aider à amortir le choc économique lié à cette crise sanitaire. Pourvu que les Africains en prennent véritablement conscience ».

Consignes / questions

1-Identifie le problème soulevé par tes amis au cours de cette discussion.

2-Cite au moins trois richesses de l'Afrique auxquelles Kouassi fait allusion.

3-Chantal a-t-elle raison d'être inquiète ? Si oui, justifie au maximum en 03 phrases cet avis.

EXERCICE 3

On donne le tableau suivant :

Ethnies du Rwanda	Hutu	Tutsi	Twa
Proportion de la population en %	85%	14%	1%

Consignes

1- Dis de quoi il s'agit dans ce tableau

2- Représente un diagramme semi – circulaire des proportions ethniques du Rwanda.

3- Expliques-en quoi cette répartition de la population rwandaise a été une des clés de la crise qui a secoué le pays dans les années 1990

Groupe Excellence**Coefficient : 2****Académique****Durée : 2h**

HISTOIRE – GEOGRAPHIE

SUJET 3

Cette épreuve comporte deux (02) pages numérotées 1/2 et 2/2.

EXERCICE 1

A- Réponds par vrai ou faux aux affirmations suivantes

Le clivage ethnique et la conquête du pouvoir politique ont été à la base de la guerre au Rwanda	
La Seconde guerre mondiale a eu lieu à cause d'un diktat dû au traité de Versailles	
L'ONU n'a jamais été dirigé par un africain	
Le Biafra est une république nigérienne	

B- Coche les affirmations justes parmi les propositions suivantes :

- 1- Moderniser l'agriculture est une solution aux problèmes du secteur primaire.
- 2- Instaurer un climat de paix et de sécurité est une solution aux problèmes politiques.
- 3- La maîtrise de la croissance de la population est une solution aux problèmes sociaux.
- 4- La lutte contre le chômage est une solution aux problèmes politiques.
- 5- La transformation des matières premières est une solution aux problèmes politiques.
- 6- L'endettement de l'Etat est une solution aux problèmes politiques.
- 7- La diversification des partenaires économiques est une solution aux problèmes sociaux.
- 8- Le renforcement de la norme de qualité des produits industriels renforce leur compétitivité sur le marché mondial.

EXERCICE 2

Tu renforces tes acquis sur l'UA pendant tes lectures. Tu découvres ainsi des propos de M. Kofi ANAN, ancien secrétaire général de l'ONU, dans un article de Jeune Afrique économique n°297, PP110-112, qui dit ceci : Cela demeure un impératif et même un préalable nécessaire au développement du continent qui, du moins, a besoin de stabilité pour connaître le progrès. Tant que l'Afrique ne sera pas venue à bout de ses conflits, le progrès restera précaire même dans des pays éloignés du théâtre des hostilités ».

Questions /consignes

- 1- Quel problème soulève M. Kofi ANNAN ?
- 2- Explique les propos suivants de l'ancien Secrétaire Général de l'ONU : « « l'Afrique doit donc chercher des voies et moyens d'éteindre tous les foyers de tensions sur son sol ».
- 3- Es-tu d'accord avec l'opinion de Koffi ANAN selon laquelle le progrès de l'Afrique dépend de sa stabilité. Justifie ta réponse.

EXERCICE 3

Croissance par secteur d'activité Côte d'Ivoire

Années Secteur d'activité en %	2012	2013	2014	2015	2016	2017	2018
Agriculture	0.3	3.8	11.5	2.9	7.5	11.2	4.2
Industrie	6.1	24.2	3.9	8.3	6.6	3	7.1
Service	6.8	7.2	9.1	8.2	8.9	6.3	9.2
Elevage	6.5	4.6	9.4	3.5	9	10.5	8.5
Pêche	12.5	1.8	5.2	4	3.9	7	11
Commerce intérieur	22	2.2	10	9.9	17	20	20.4
Tourisme	5.1	2	7.5	6.7	15	10.3	16.7
Transport	8.9	5.4	6.3	2.7	1.9	9.6	25
Exploitation forestière	9.5	20	15	0.7	11.3	16.2	20.5
Commerce extérieur	10.3	6.2	0.5	3.3	1.5	2.3	5.9

Consignes : réalise la courbe de croissance de l'industrie de 2012 à 2018. Echelle : 1 cm = 1% - 1 cm = 2 ans

Groupe Excellence

Coefficient : 2

Académique

Durée : 2h



HISTOIRE – GEOGRAPHIE

SUJET 4

Cette épreuve comporte deux (02) pages numérotées 1/2 et 2/2.

EXERCICE 1

A- Complète le texte ci-dessous avec les mots ou expressions suivants : socioéconomique ; la destruction des infrastructures ; plan politique ; crises sociopolitiques ; des conséquences Lessont à l'origine du retard économique et social de l'Afrique. En effet, au plan....., elles occasionnent de nombreuses pertes en vies humaines,économiques et sociales qu'il faudra sans cesse reconstruire. Au....., elles introduisent l'instabilité dans les Etats concernés et leurs sous-régions. En définitive, les crises sociopolitiques ontnombreuses et de divers ordres.

B- Mets à la place qui convient dans le texte ci-dessous, les groupes de mots suivants : instabilité des cours ; contrefaçon ; plus-value ; concurrence déloyale ; produits asiatiques ; agriculture ; baisse des revenus ; première transformation ; rendements faibles.

Pilier de l'économie ivoirienne, représente environ 40% des recettes d'exportation. Cette activité rencontre malheureusement de nombreuses difficultés qui constituent des entraves au développement du pays. L'..... des produits agricoles entraine un manque à gagner pour l'Etat. L'agriculture ivoirienne est une agriculture extensive aux qui subit la concurrence des..... sur le marché mondial. L'industrie ivoirienne est également menacée. La des produits et la entraînent la des entreprises. La des produits agricoles reste encore faible. Cette situation prive le pays des ressources liées leur

EXERCICE 2

Vous participez à une conférence organisée par le club d'Histoire-Géographie de votre établissement dont le thème porte sur les atouts du développement économique de la Côte d'Ivoire. Dans son exposé le conférencier affirme que : « Le milieu naturel ivoirien a énormément contribué à son développement. La population et le système politique sont aussi autant de facteurs qui déterminent la croissance économique du pays».

Consignes

- 1- Dis de quoi il s'agit dans la situation.
- 2- Explique le passage suivant : « Le milieu naturel ivoirien a énormément contribué à son développement ».
- 3- Partages-tu l'avis du conférencier selon lequel la population et le système politique sont déterminant pour la croissance économique de la Côte d'Ivoire ?

EXERCICE 3

Classe chaque organe de l'UA selon sa nature

La commission africaine des droits de l'homme et des peuples ; la conférence de l'Union ; le fonds monétaire africain ; la Commission ; le comité des représentants permanents ; la cour africaine des droits de l'homme et des peuples ; la banque africaine d'investissement ; la commission de l'union africaine pour le droit international, la banque centrale africaine

Les organes politiques	Les organes économiques	Les organes judiciaires

Groupe Excellence

Coefficient : 2

Académique

Durée : 2h



HISTOIRE – GEOGRAPHIE

SUJET 5

Cette épreuve comporte deux (02) pages numérotées 1/2 et 2/2.

EXERCICE 1

A- Complète le texte ci-dessous avec les mots, groupes de mots, noms et dates suivants : Allemagne ; Versailles ; vaincus ; Mussolini ; réparations ; Hitler ; totalitaires ; 1939 à 1945 ; violer ; deuxième guerre ; 28 juin 1919 ; Paris ; alliés.

La guerre de 1914-1918 a été définitivement réglée par le traité de signé le à Ce traité désigne l'.....et ses comme responsables de la guerre. Les devraient payer desaux vainqueurs. Aussi l'Allemagne d'.....et l'Italie de installent-ils des régimes dans leurs pays respectifs et vont les traités signés à l'issue de la première guerre mondiale. Ils engagent ainsi le monde dans une mondiale qui durera de

B- Relie les atouts du développement économique de la Côte d'Ivoire de la colonne A, au type d'atouts correspondant dans la colonne B.

COLONNE A

- 1- Une main d'œuvre importante
- 2- Un réseau hydrographique dense
- 3- Un sous-sol riche
- 4- L'interventionnisme de l'Etat
- 5- Un relief monotone
- 6- Une population jeune
- 7- Une diversité de formations végétales

COLONNE B

- a- Atouts humains
- b- Atouts naturels

EXERCICE 2

Au cours d'une conférence sur les conflits et leurs impacts sur le développement de l'Afrique qui s'est tenue à la salle des fêtes de la mairie de ta commune à laquelle tu participes, un spécialiste des crises sociopolitiques sur le continent affirme que « L'Afrique présente un sérieux retard dans son développement car, en plus du lourd héritage que lui a laissé son passé, le continent s'est entraîné dans des crises interminables, ruineuses horribles et désastreuses pour le continent. »

Consignes

- 1- Identifie le thème sur lequel porte la conférence dont parle le texte.
- 2- Explique l'affirmation du spécialiste selon laquelle : « L'Afrique présente un sérieux retard dans son développement car, en plus du lourd héritage que lui a laissé son passé, le continent s'est entraîné dans des crises interminables, ruineuses horribles et désastreuses pour le continent. »

3- Selon toi, que doivent faire les dirigeants africains pour sortir le continent de ces conflits interminables ?

EXERCICE 3

A partir des dates et évènements ci-dessous, construis sur un papier millimétré l'axe chronologique de la marche de la Côte d'Ivoire vers l'indépendance.

- Dates : 1960 ; 1944 ; 1956 ; 1958.
- Evènements : La loi cadre ; Communauté franco-africaine ; Proclamation de l'indépendance ; Conférence de Brazzaville.
- Echelle : 1cm---1ans

Groupe Excellence**Coefficient : 2****Académique****Durée : 2h**

HISTOIRE – GEOGRAPHIE

SUJET 6

Cette épreuve comporte deux (02) pages numérotées 1/2 et 2/2.

EXERCICE 1

A- Complète ce texte à trous avec les mots et expressions suivants : la pauvreté, infrastructures socio-économiques, l'aide humanitaire, au rétablissement de la paix, inefficacité, la Banque Africaine de Développement, progrès, pays en crise, pays victimes de catastrophes, fragilité.

En raison de son..... l'OUA a été remplacée par l'UA. Cette dernière a réalisé de nombreux..... Sur le plan politique, elle est parvenue dans plusieurs....., sur le plan économique, l'UA a contribué à la réalisation de plusieurs grâce à Elle a apporté de..... à plusieurs..... Cependant, la de l'UA demeure en raison de l'instabilité politique et de l'insécurité ;.....y est encore endémique

B- Complète le texte avec les mots ou groupe de mots suivants : interdépendance- marchés nationaux – services -croissance économique – intégration.

La mondialisation est l'..... entre les activités économiques des sociétés humaines de par le monde et leur de plus en plus poussée. Il faut libéraliser les..... parce que la libre circulation des biens et des....., des capitaux et des informations aura une influence sur la et le bien-être de l'humanité.

EXERCICE 2

Dans le cadre de ses activités, la représentation locale de la CDVR (Commission Dialogue Vérité Réconciliation) organise une conférence sur la crise du Rwanda. Des élèves invités à cette conférence apprennent que deux peuples frères ont utilisé des machettes, des latrines, des armes à feu. Certains élèves comprennent mal que deux peuples frères en soient arrivés à cette situation.

- 1- Identifiez les deux peuples frères dont parle le texte.
- 2- Explique la ou les raisons qui les ont poussés à s'affronter
- 3- Détermine le rôle de la justice locale et internationale dans la résolution de cette crise.

EXERCICE 3 : Les dettes ivoiriennes en milliards de Franc Cfa

Années	2010	2011	2012	2013	2014	2015
Dettes intérieures	544,61	970,58	359,98	742,78	952,21	887,69
Dettes extérieures	944,13	1345,50	837,50	986,14	1175,84	1299,26

Source : cote d'ivoire en chiffres, Editions 2016, P.38

Consignes

- 1- Construisez les courbes d'évolution des dettes intérieures et des dettes extérieures de la cote d'ivoire de 2010 à 2015. Echelle 1 cm= 200milliards/ 2 cm = 1 an
- 2- Comment les dettes peuvent constituer un frein pour le développement du pays ?

Groupe Excellence

Coefficient : 2

Académique

Durée : 2h



HISTOIRE – GEOGRAPHIE

SUJET 7

Cette épreuve comporte deux (02) pages numérotées 1/2 et 2/2.

EXERCICE 1

A- Réponds par vrai ou faux aux affirmations suivantes :

- 1- La lutte pour l'indépendance de la Côte d'Ivoire a commencé en 1945.....
- 2- Félix Houphouët Boigny a été le seul acteur de la lutte pour l'indépendance de la Côte d'Ivoire.....
- 3- La deuxième guerre mondiale a affaibli les puissances coloniales aux yeux des indigènes africains.....
- 4- La religion chrétienne n'a joué aucun rôle dans l'émancipation de la Côte d'Ivoire.....
- 5- Les Etats Unis et l'URSS ont été des opposants de la colonisation.....

B- Mets une croix dans la colonne appropriée.

<i>AFFIRMATIONS</i>	<i>Vrai</i>	<i>faux</i>
1- Les ressources naturelles en Afrique sont nombreuses et diversifiées		
2- Le relief africain est dominé par les plaines		
3- Aucune région de l'Afrique n'est aride		
4- L'Afrique est le continent le plus riche en ressources naturelles de la planète		
5- La population africaine est nombreuse, jeune et multiraciale		

EXERCICE 2

Tu suis à la télévision, un film documentaire sur la guerre de 1939-1945. Le narrateur souligne que le traité de Versailles est à l'origine de la seconde guerre mondiale sans occulter les causes secondaires notamment la formation de nouvelles alliances ; la passivité des démocraties ; l'impuissance de la SDN... Cette guerre a eu des conséquences désastreuses dans le monde en général, mais surtout en Europe.

Consignes

- 1) De quoi il est question dans le texte.
- 2) Explique le passage suivant de la situation : « le traité de Versailles est à l'origine de la seconde guerre mondiale ».
- 3) Es-tu d'accord avec le narrateur quand il dit que cette guerre a eu des conséquences désastreuses dans le monde en général, mais surtout en Europe ? Justifie ta réponse.

EXERCICE 3

Range dans le tableau ci-dessous, les solutions aux problèmes de l'Afrique ci-après :

- 1-La modernisation de l'agriculture ; 2 -le développement du tourisme ; 3-le respect des règles démocratiques ; 4- luttés contre les extrémismes religieux ; 5-la formation des jeunes ; 6-l'industrialisation ; 7- l'ouverture du marché local ; 8- la promotion du tourisme ; 9- la transformation des matières premières ; 10- la lutte contre le VIH SIDA ; 11- la coopération Sud-Sud ; la création d'une monnaie unique.

Solutions politiques	Solutions économiques	Solutions sociales

Groupe Excellence

Coefficient : 2

Académique

Durée : 2h



HISTOIRE – GEOGRAPHIE

SUJET 8

Cette épreuve comporte deux (02) pages numérotées 1/2 et 2/2.

EXERCICE 1

A- Complète ce texte lacunaire ci-dessous avec les mots et groupes de mots suivants : 3 millions d'hectares- population jeune- manque d'infrastructures- dégradation- lourde dette-instabilité politique- pauvreté- vols-problèmes

Pays modèle de la sous-région, la Côte d'Ivoire est aujourd'hui confrontée à beaucoup de.....D'abord sa.....entraîne un.....et une.....grandissante, cause de beaucoup de.....Mais les problèmes les plus importants se résument à sa et une.....chronique. La.....de son couvert forestier inquiète de plus en plus car celui-ci est réduit à.....aujourd'hui.

B- Entoure les numéros des affirmations justes :

- 1-Les performances du commerce ivoirien reposent seulement sur les activités du commerce intérieur.
- 2-Les exportations concernent tous les produits que la Côte d'Ivoire reçoit de l'extérieur.
- 3-Les atouts touristiques sont abondants mais mal exploités en Côte d'Ivoire.
- 4-Les infrastructures de transport de la Côte d'Ivoire sont un frein à son développement économique.
- 5-Le commerce extérieur est dominé par les matières premières agricoles.
- 6-L'aquaculture est une solution au problème de la pêche en Côte d'Ivoire.

EXERCICE 2

Dans le cadre de ses activités pédagogiques, le Conseil d'Enseignement d'histoire-géographie de ton établissement organise une conférence sur l'économie de la Côte d'Ivoire. Toutes les classes de terminale ont été invitées. A la fin de son exposé, le conférencier conclut en disant que le poids économique de la Côte d'Ivoire repose sur un ensemble de fondements. Un débat éclate entre vous. Certains de tes amis de classe pensent que ce sont les fondements naturels qui en sont les piliers, tandis que d'autres ne partagent pas cet avis.

Consignes

- 1-De quoi est-il question dans ce texte ?
- 2-Explique cette prise de position : « c'est le fondement naturel qui est à la base de la puissance économique de la Côte d'Ivoire ».
- 3-Partages-tu l'avis du second groupe qui pense que le poids économique de la Côte d'Ivoire est lié aussi à d'autres atouts ? Justifie ta réponse

EXERCICE 3

Classe les éléments suivants dans le tableau ci-dessous :

L'insécurité / les crises sociopolitiques / la promotion de la destination Côte d'Ivoire / la revalorisation de l'activité touristique / la faiblesse des investissements / la formation des agents du secteur du tourisme /

PROBLEMES DU TOURISME IVOIRIEN	SOLUTIONS POUR LE DEVELOPPEMENT DU TOURISME

Groupe Excellence

Coefficient : 2

Académique

Durée : 2h



HISTOIRE – GEOGRAPHIE

SUJET 9

Cette épreuve comporte deux (02) pages numérotées 1/2 et 2/2.

EXERCICE 1

A- Réponds par vrai ou faux aux affirmations suivantes :

- 1- Le secteur tertiaire africain est dominé par le tourisme, les services et les échanges
- 2- Les exportations africaines sont dominées par les produits primaires
- 3- Les échanges africains avec l'extérieur sont soumis à la détérioration des termes de l'échange.
- 4- Les importations africaines sont basées sur les biens d'équipement et les produits manufacturés.
- 5- L'Afrique occupe une place prépondérante dans le commerce mondiale.

B- Mets une croix dans la case appropriée

EXERCICE 2

Tu participes à la conférence organisée par le Conseil d'Enseignement d'Histoire-Géographie sur le

AFFIRMATIONS	VRAI	FAUX
1- Les crises en Afrique sont fondées sur l'ethnie		
2- La majorité des crises sociopolitiques en Afrique sont de courte durée		
3- La crise biafraise a été une des crises majeures qu'a connues l'Afrique		
4- Les crises sociopolitiques sont à la base du retard de développement de l'Afrique		
5- Tous les pays africains ont connu des crises sociopolitiques		

développement économique de la Côte d'Ivoire. Au cours de son exposé, le conférencier tient les propos suivants : « La Côte d'Ivoire doit son développement à sa nature généreuse. Du Sud au Nord et de l'Est à l'Ouest, rien ne s'oppose à l'exploitation du territoire. A côté de la nature, il y a un autre acteur qu'il ne faut pas négliger, ce sont les hommes. Leur rôle dans le développement économique du pays n'est plus à démontrer. »

Consignes / Questions

- 1- Dis de quoi il s'agit dans la situation.
- 2- Explique le passage suivant : « La Côte d'Ivoire doit son développement à sa nature généreuse. »
- 3- Es-tu d'accord avec le point de vue du conférencier selon lequel : « Le rôle des hommes dans le développement économique de la Côte d'Ivoire n'est plus à démontrer » ? Justifie ta réponse

EXERCICE 3

Classe dans le tableau ci-dessous les causes des crises sociopolitiques de l'Afrique indépendante :

Les rivalités ethniques ; les disparités régionales ; le problème identitaire ; le refus de l'alternance au pouvoir ; Le tracé injuste des frontières coloniales ; la fraude électorale ; La complicité de la puissance colonisatrice avec certains peuples ; la modification des constitutions.

Causes politiques	Causes historiques	Causes sociales

Groupe Excellence

Coefficient : 2

Académique

Durée : 2h



HISTOIRE – GEOGRAPHIE

Sujet 10

Cette épreuve comporte deux (02) pages numérotées 1/2 et 2/2.

EXERCICE 1

A- Entoure le numéro de l'affirmation juste dans chacun des énoncés ci-dessous.

- 1) Le relief de la Côte d'Ivoire est caractérisé par :
 - a- sa monotonie
 - b- sa platitude
 - c- son accident
 - d- sa diversité
- 2) Le sous-sol ivoirien contient :
 - a- des richesses variées
 - b- très peu de richesses
 - c- de très grandes richesses
 - d- quelques richesses
- 3) La forêt dense est :
 - a- la végétation commune à toutes les régions de Côte d'Ivoire
 - b- la végétation des régions situées au sud du huitième parallèle
 - c- la végétation des plus grandes régions pluvieuses
 - d- la végétation des régions côtières
- 4) En Côte d'Ivoire, le climat est :
 - a- polaire
 - b- désertique
 - c- tempéré
 - d- tropical
- 5) L'or est une ressource :
 - a- énergétique
 - b- agricole
 - c- halieutique
 - d- minière

B- Complète le texte ci-dessous avec les mots ou groupes de mots suivants qui conviennent : les actions de bons offices- la paix et la sécurité internationale- son bilan-des opérations militaires- le droit de véto-les crises.

Créée pour garantir....., l'ONU, Organisation des Nations Unies a fait du chemin. Elle est présente sur tous les fronts. Elle initiedans les conflits à travers le monde quandont échoué. Elle est omniprésente dans le domaine humanitaire grâce aux organismes spécialisés. Cependant, en faisant une analyse profonde des actions de l'organisation mondiale, elle traîne des casseroles.....est passé par là.poussent comme des champignons.est donc fortement mitigé

EXERCICE 2

Pendant la récréation, tes amis de classe et toi discutez sur le rôle de l'ONU dans le monde. Yao dit ceci : « depuis la création de l'ONU, on ne perçoit pas ses actions, puisque les guerres continuent dans le monde ».

Sopie réplique : « non, on voit bien certaines actions de l'ONU ; elle aide énormément au développement économique et social du monde ».

Consignes/questions

1-Identifie le problème soulevé dans la situation.

2-Explique les propos de Sopie.

3-Que penses-tu de l'opinion de Yao ?

EXERCICE 3

Relie chaque numéro de difficulté dans la liste A, au numéro de solution correspondante dans la liste B.

	PROBLEMES		SOLUTIONS
1	L'endettement de l'Afrique est un frein à la mondialisation.	a	Vulgariser les NTIC et en faciliter leur accès.
2	L'Afrique est sous industrialisée avec moins de 2% et sous équipée.	b	Démocratiser les Etats et rechercher des solutions pour éviter des conflits armés.
3	L'instabilité politique et les conflits armés en Afrique constituent des obstacles au progrès.	c	Exporter des produits finis de qualité afin de faire face à la concurrence.
4	L'accès aux nouvelles technologies est très limité en Afrique (1%).	d	Industrialiser et équiper l'Afrique pour combler son grand retard.
5	L'économie africaine est essentiellement basée sur l'exportation des matières premières.	e	Alléger le poids de la dette