

DIRECTION DES EXAMENS ET CONCOURS

Plier par ici

Coller ici	Numéro de Table	Centre : .....	Date : .....
	Signature du Candidat	NOM : .....	PRENOMS : .....
		Né(e) le : .....	à .....
			Signature du Surveillant
Coller ici	Coller ici	Coller ici	Coller ici

EXAMEN DU CEPE - SESSION 2024

Signature du Correcteur	Initiales du Correcteur suivies d'un nombre	Note : ...../50	Signature de l'Harmonisateur
-------------------------	---	-----------------	------------------------------

Durée : 1 heure	EVEIL AU MILIEU	ZONE : I
-----------------	-----------------	----------

I. HISTOIRE ET GEOGRAPHIE

Exercice 1

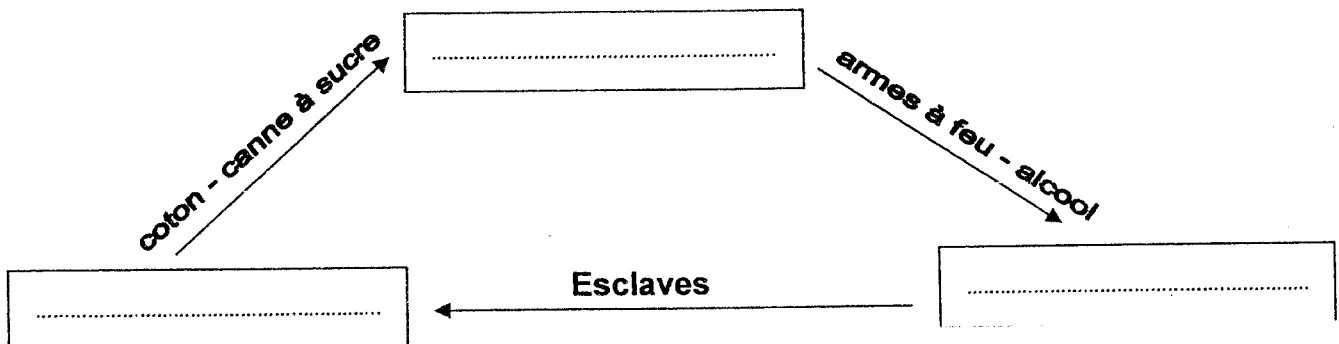
L'une des dates suivantes correspond à la date à laquelle la Côte d'Ivoire est devenue une colonie française :

le 7 août 1960 – le 10 mars ~~1893~~ – le 7 décembre 1960.  
1893

Entoure la bonne réponse.

Exercice 2

Le commerce triangulaire s'est effectué entre l'Europe, l'Afrique et l'Amérique selon le schéma ci-dessous.



Complète le schéma avec le nom de chaque continent dans la case qui convient.

Exercice 3


En Côte d'Ivoire, on pratique la pêche traditionnelle et la pêche moderne avec les outils ci-dessous : **la pirogue – l'épervier – la ligne – les gros filets.**

Pêche traditionnelle	Pêche moderne

Classe les outils de pêche dans le tableau ci-dessus.

Tourne ta page STP.

# Nourrir que pendant les délibérations



## II. EDHC

Les affirmations ci-dessous se rapportent à l'Assemblée Nationale, aux grossesses précoces et à la circulation routière :

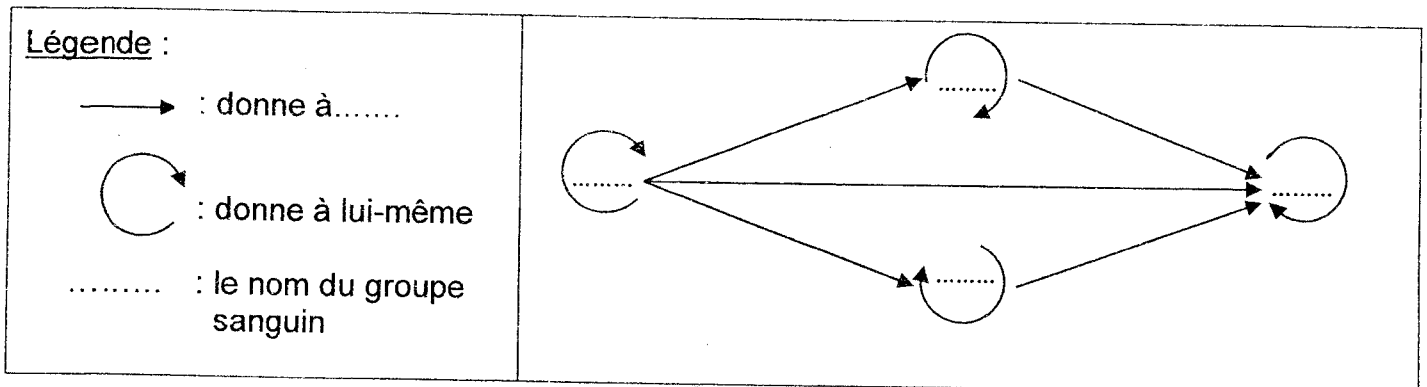
- a) l'actuel Président de l'Assemblée Nationale de Côte d'Ivoire se nomme Monsieur Adama BIGTOGO.
- b) une grossesse précoce est une grossesse qui survient avant l'âge de 18 ans.
- c) à une intersection, je traverse en courant.

Ecris « **Vrai** » ou « **Faux** » dans la case située devant chaque affirmation.

## III. SCIENCES ET TECHNOLOGIE

### Exercice 1

Le schéma suivant est celui de la transfusion sanguine avec les groupes sanguins suivants : A - AB - B - O.



Complète le schéma avec les groupes sanguins ci-dessus.

### Exercice 2

Les mots suivants sont relatifs à des parties de l'organisme humain : **le foie – le pancréas – les nerfs – le cerveau – le cœur – le sang.**

Parmi ces mots, souligne, les composantes du système nerveux.

### Exercice 3

La phrase, les mots et groupe de mots ci-dessous sont relatifs aux éléments d'un circuit électrique : **bornes – circuit fermé – culot.**

Pour que la lampe s'allume, il faut que son ..... et son plot soient reliés aux deux ..... de la pile de manière à former un .....

Complète la phrase avec les mots et groupe de mots ci-dessus.