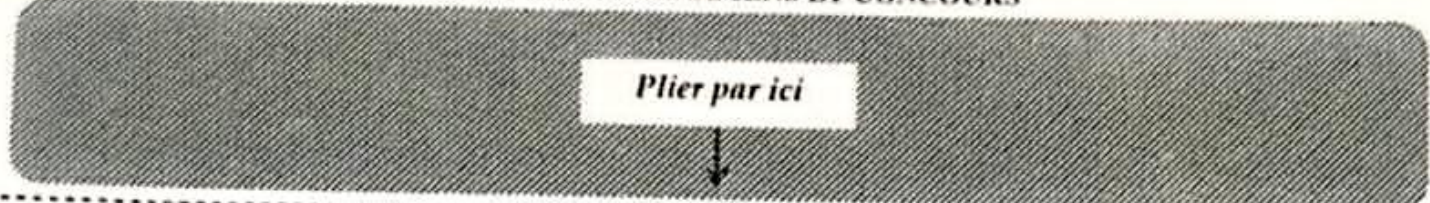


DIRECTION DES EXAMENS ET CONCOURS

Plier par ici



Numéro de table _____ Signature du candidat _____	Centre : _____	Date : _____
	NOM : _____ Né(e) le : _____ à _____	PRENOMS : _____
		Signature du surveillant _____

Mettre la colle ici

Mettre la colle ici

Mettre la colle ici

Mettre la colle ici

Mettre la colle ici

EXAMEN DU CEPE - SESSION 2026

Signature du Correcteur	Initiales du Correcteur suivies d'un nombre	Note : /50	Signature de l'Harmonisateur
Durée : 1 h 15 mn		EXPLOITATION DE TEXTE	ZONE : II

La classe de Danon était la mieux organisée de l'établissement. Des groupes de nettoyage avaient été constitués. Les élèves avaient instauré un programme qu'ils respectaient. Chaque groupe mettait un soin particulier à accomplir sa mission. Les professeurs entraient avec plaisir dans cette classe où il faisait bon respirer l'air pur et admirer la fine décoration d'apprenants consciencieux. Des élèves de plusieurs autres niveaux avaient suivi l'exemple de la classe de Danon. Toute l'école entière avait été gagnée par une atmosphère de propreté.

L'entretien de la cour de l'établissement étant devenu l'affaire de tous, plus personne ne voulait laisser trainer des bouts de papiers au autres objets salissants .

Josué GUEBO, *Destins de clandestins*, Editions Vallesse, p. 24

I. COMPRÉHENSION

1- Coche la bonne proposition. L'entretien de la cour est devenu :

- L'affaire de tous.
- L'affaire des enseignants.
- L'affaire du directeur.

2- Qu'est-ce que les élèves ont fait pour bien entretenir leur classe ?

.....

3- Relève la phrase du texte qui montre que toute l'école était gagnée par une atmosphère de propreté. ....

.....

II. VOCABULAIRE

1- Indique l'antonyme de « propreté ». ....

2- Indique le synonyme de « apprenant ». ....

3- Comment est formé le mot « décoration » ? .....

### III. MANIEMENT DE LA LANGUE

1- Indique la nature et la fonction des mots soulignés dans le texte :

- Danon : .....

- Particulier : .....

- Des : .....

2- Fais l'analyse logique de la phrase : « Les élèves avaient instauré un programme qu'ils respectaient ».

3- Soit la phrase : « Des élèves avaient suivi l'exemple ».

a) Relève le verbe conjugué. ....

b) Indique son infinitif. ....

c) À quel temps est-il conjugué ? .....

d) Réécris la phrase en mettant le verbe aux temps suivants de l'indicatif :

- futur simple .....

- passé simple .....

### IV. EXPRESSION ÉCRITE

Dans ton école, certains élèves ne prennent pas soin de leur classe ni de la cour de l'école. Après avoir lu le texte sur la classe de Danon, tu veux donner des conseils à ces élèves.

1- Indique le type de texte que tu vas produire. ....

2- Rédige ce texte en huit (8) lignes.

LA RECOURS ET LE TRAVAIL

CPAD

Plier par ici

Mettre la colle ici	Numéro de table	Centre :	Date :	Mettre la colle ici
	Signature du candidat	NOM :	PRENOMS :	
		Né(e) le :	à	
				Signature du surveillant

Mettre la colle ici

Mettre la colle ici

Mettre la colle ici

**EXAMEN DU CEPE - SESSION 2026**

Signature du Correcteur	Initiales du Correcteur suivies d'un nombre	Signature de l'Harmonisateur
	Note :	/50

Durée : 1 heure	<b>EVEIL AU MILIEU</b>	ZONE : II
-----------------	------------------------	-----------

**HISTOIRE-GEOGRAPHIE**

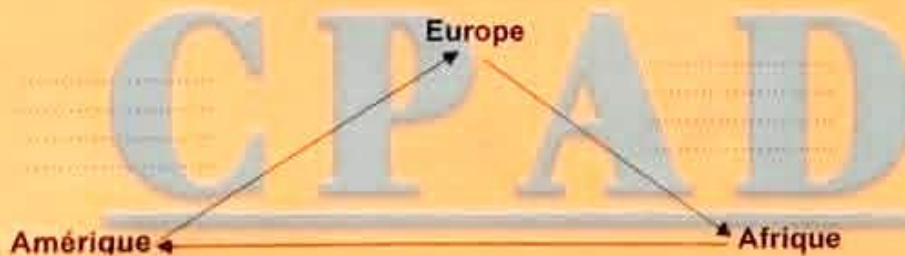
Exercice 1

Relie les différentes capitales de la Côte d'Ivoire aux dates correspondantes.

- |              |   |   |      |
|--------------|---|---|------|
| Grand Bassam | • | • | 1934 |
| Abidjan      | • | • | 1893 |
| Bingerville  | • | • | 1900 |
| Yamoussoukro | • | • | 1983 |

Exercice 2

Complète le schéma du commerce triangulaire avec les produits échangés suivants : coton, canne à sucre, tabac, esclaves, armes à feu, étoffes.



Tourne la page

**Exercice 3**

Complète le tableau avec les cultures suivantes : **le cacao, le fonio, le mil, le tabac, le coton, le café, l'anacarde, hévéa, le manioc, le palmier à huile.**

Localisation	Cultures vivrières	Cultures industrielles
Nord		
Sud		

**EDHC**

Mets Vrai ou Faux devant chaque proposition.

- a) Payer l'impôt est un devoir civique. ....
- b) Une grossesse précoce survient avant l'âge de 20 ans. ....
- c) Le président de la république est élu par les députés. ....
- d) Les députés sont nommés. ....
- e) La constitution d'un pays n'est pas votée. ....

**SCIENCES ET TECHNOLOGIE**

**Exercice 1**

1- Réalise une chaîne alimentaire avec les êtres vivants suivants : **le criquet, l'aigle, la salade, le lézard, la mangouste, le serpent.**

2- Que signifie la flèche → dans la chaîne alimentaire ?  
 .....

**Exercice 2**

Entoure les constituants du sang parmi les mots et groupe de mots suivants :

**les hématies - le glucose - le plasma - les sels minéraux - les plaquettes sanguines.**

**Exercice 3**

Complète avec **isolant** ou **conducteur**.

- a) Le fil de fer est un .....
- b) Le bois sec est un .....

Plier par ici

Mettre la colle ici	Numéro de table	Centre :	Date :
	Signature du candidat	NOM :	PRENOMS :
		Né(e) le :	à
			Signature du surveillant

Mettre la colle ici

Mettre la colle ici

Mettre la colle ici

EXAMEN DU CEPE - SESSION 2026

Signature du Correcteur	Initiales du Correcteur suivies d'un nombre	Signature de l'Harmonisateur
	Note : /50	

Durée : 1 heure	MATHÉMATIQUES	ZONE : II
-----------------	---------------	-----------

**EXERCICE 1** : (12 points)

Pose l'opération :  
 $643,56 + 1351 + 15,78$

Effectue l'opération :  

$$\begin{array}{r} 5499,125 \\ -3807,13 \\ \hline \end{array}$$

Effectue l'opération :  

$$\begin{array}{r} 30,50 \\ \times 80,16 \\ \hline \end{array}$$

Effectue l'opération :  

$$\begin{array}{r|l} 95,6 & 0,5 \\ \hline \end{array}$$

LA RIGUEUR ET LE TRAVAIL au 1/10 près

**EXERCICE 2** : (09 points)

1/ On donne les figures suivantes :




Figure 1



Figure 2

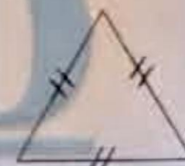


Figure 3

Complète les phrases ci-dessous avec le nom qui convient : triangle équilatéral ; triangle rectangle ; triangle isocèle.

- La figure 1 est un .....
- La figure 2 est un .....
- La figure 3 est un .....

2/ Écris Vrai si l'affirmation est juste et Faux si elle est fausse.

a) Un triangle a 3 hauteurs.....

b) La formule de calcul de l'aire d'un triangle est  $\frac{b \times h}{3}$ .....

**EXERCICE 3** : (09 points)

1/ Complète :

a) 301,34 ha = 30 134.....

b) 10 t = ..... kg

c) 7 650 s = ..... h ..... min..... s

d) 70% de 1 500 = .....

2/ Range les nombres décimaux ci-dessous dans l'ordre décroissant

41,088 - 41,2 - 41,19 - 41,50

**EXERCICE 4** : (20 points)

Dans le champ de papa, ton frère Yodé et ta sœur Alima ont ramassé 485 mangues. Yodé a ramassé 65 mangues de plus qu'Alima.

1/ Représente sous forme de graphique la part de chacun :

Alima : .....

Yodé : .....

2/ Calcule la part d'Alima.

Entoure les constituants du sang parmi les mots et groupe de mots suivants :

**les hématies - le glucose - le plasma - les sels minéraux - les plaquettes sanguines**

**Exercice 3**

Complète avec **isolant** ou **conducteur**.

a) Le fil de fer est un .....

b) Le bois sec est un .....

C. E. P. E.  
SESSION 2026  
ZONE : II

Durée : 45 min  
Notée sur 20

## ÉPREUVE D'ORTHOGRAPHE

*Cette épreuve comporte une page.  
Dicter toutes les ponctuations.*

Les deux amies.

Djamila et Carène prenaient toujours à cœur leurs études. Les deux fillettes se préparaient activement à l'examen final. Elles rêvaient de l'uniforme de collégienne que portaient certaines de leurs aînées avec fierté. Que de bonheur pour ces enfants à l'horizon !

46 mots LA RIGUEUR ET LE TRAVAIL

D'après Élodie YEBOUA, *Les larmes de Carène*, JD Éditions 2015, P. 23.

NB : Écrire au tableau :

- les mots « Djamila » et « Carène » ;
- les références du texte.