




|   |  |                  |
|---|--|------------------|
|  | RÉPUBLIQUE DE CÔTE D'IVOIRE                                |                  |
|   | MINISTÈRE DE L'ÉDUCATION NATIONALE ET DE L'ALPHABÉTISATION |                  |
|  | DIRECTION RÉGIONALE ABIDJAN I                              |                  |
|   | COURS DU SOIR TEAM INTELLECT DE BINGERVILLE                |                  |
|  | BEPC BLANC SESSION FÉVRIER 2023                            |                  |
|   | ÉPREUVE D'HISTOIRE - GÉOGRAPHIE                            |                  |
|   | Coefficient : 2  | Durée : 01h30min |

*Cette épreuve comporte deux pages numérotées 1/2 et 2/2.  
L'exercice III se fait obligatoirement sur un papier millimétré.*

### **EXERCICE I (04 points)**

A- Recopie le texte ci-dessous et complète-le avec les mots ci-après : « efforts / atouts / secteurs / mauvaise gouvernance ».

Le territoire ivoirien dispose de nombreux ..... contribuant à son développement économique. Ce développement est aussi la combinaison des activités des ..... primaire, secondaire et tertiaire. Force est constaté que, la Côte d'Ivoire est confrontée à pas mal de difficultés qui freinent son rayonnement. On peut citer par exemple la ..... Pour y remédier, l'État doit faire d'importants .....

B- Reproduis le tableau ci-dessous et mets me crois dans la case Vrai si l'affirmation est vraie ou dans la case Faux si l'affirmation est fausse.

|   | Affirmations  | Vrai | Faux |
|---|---|------|------|
| 1 | La Côte d'Ivoire a été colonisé en 1896.  |      |      |
| 2 | La guerre au Rwanda a été remportée par le Front Patriotique Rwandais (FPR)                                     |      |      |
| 3 | Le refus de l'alternance au pouvoir est l'une des causes des crises socio-politiques de l'Afrique indépendante. |      |      |
| 4 | Quand Félix Houphouët-Boigny proclamait l'indépendance de la Côte d'Ivoire, il en était déjà le président.      |      |      |

### **EXERCICE II (10 points)**

En classe de 3<sup>e</sup>, tu as suivi avec intérêt un documentaire télévisé dans lequel un vieil homme a rendu le témoignage suivant : « Je n'oublierai jamais le temps des Blancs. Ils étaient si mauvais ! Ils nous faisaient surveiller par des gardes armés nuit et jour. Ces derniers nous fouettaient pour un oui ou un non. Nous ne mangions jamais à notre faim. Nous travaillions dans les plantations du lever au coucher du soleil. Nous sommes forts sortis totalement perdant de cette colonisation ».

#### **Consignes**

- 1- Dis de quoi il s'agit dans la situation.
- 2- Relève en t'appuyant sur la situation trois mauvais traitements infligés aux travailleurs.
- 3- Es-tu d'accord avec l'idée selon laquelle la colonisation a eu que des conséquences négatives ? Justifie ta réponse.

### EXERCICE III (06 points)

Tableau des statistiques d'échanges entre la Côte d'Ivoire et les autres pays de 2010 à 2017.

|        |                             | 2010     | 2011     | 2012      | 2013      | 2014      | 2015      | 2016      | 2017      |
|--------|-----------------------------|----------|----------|-----------|-----------|-----------|-----------|-----------|-----------|
| Export | Poids en milliers de tonnes | 8.229,59 | 7.384,92 | 8.343,29  | 8.616,28  | 8.614,08  | 9.060,45  | 8.902,53  | 9.662,31  |
| Import | Poids en milliers de tonnes | 8.673,27 | 7.230,71 | 10.391,67 | 11.157,12 | 11.012,41 | 12.648,92 | 13.039,97 | 14.163,70 |

Source : Document conçu à partir de Côte d'Ivoire en chiffres 2017.

#### Consigne

Construis la courbe d'évolution des importations de la Côte d'Ivoire de 2010 à 2017.

Échelle : 1 cm pour 1 an ; 1 cm pour 2000 tonnes