

## Exercices d'apprentissage

### BARYCENTRE DE DEUX POINTS PONDÉRÉS

#### Exercice 1 p. 20

Soit  $C = \text{bar}\{(A,1), (B,2)\}$ ;  $D = \text{bar}\{(A,2), (B,-5)\}$ ;  $E = \text{bar}\{(A,-5), (B,-1)\}$  et  $F = \text{bar}\{(A,10), (B,10)\}$ .



#### Exercice 2 p. 20



$A = \text{bar}\{(B,3), (C,-2)\}$

$B = \text{bar}\{(A,1), (C,2)\}$

$C = \text{bar}\{(A,1), (B,-3)\}$ .

Les coefficients choisis ne sont pas uniques (voir propriété d'homogénéité du barycentre).

$D = \text{bar}\{(E,5), (F,-1)\}$

$E = \text{bar}\{(D,4), (F,1)\}$

$F = \text{bar}\{(D,4), (E,-5)\}$ .

#### Exercice 3 p. 20

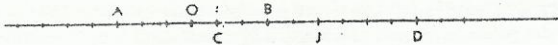
a)  $C = \text{bar}\{(A,1), (B,1)\}$     b)  $C = \text{bar}\{(A,3), (B,-5)\}$     c)  $C = \text{bar}\{(A,3), (B,-2)\}$     d)  $C = \text{bar}\{(A,2), (B,3)\}$ .

#### Exercice 4 p. 20

1.  $G = \text{bar}\{(A,-1), (B,4)\}$ ; donc  $\vec{OG} = \frac{1}{3}(-\vec{OA} + 4\vec{OB})$ .

2.  $x_G = \frac{1}{3}(-x_A + 4x_B) = 6$  et  $y_G = \frac{1}{3}(-y_A + 4y_B) = \frac{7}{3}$ .

#### Exercice 5 p. 20



1. On a :  $\vec{OC} = \frac{1}{3}(\vec{OA} + 2\vec{OB}) = 1$  et  $\vec{OD} = -(\vec{OA} - 2\vec{OB}) = 9$ .

2. On a :  $A = \text{bar}\{(C,3), (D,-1)\}$  et  $B = \text{bar}\{(C,3), (D,1)\}$ .

3.  $OA^2 = OB^2 = 9$  et  $\vec{OC} \times \vec{OD} = 1 \times 9 = 9$ ; donc  $OA^2 = OB^2 = \vec{OC} \times \vec{OD}$ .  
 $OC^2 = OD^2 = 16$  et  $\vec{JA} \times \vec{JB} = -8 \times -2 = 16$ ; donc  $OC^2 = OD^2 = \vec{JA} \times \vec{JB}$ .

### BARYCENTRE DE PLUS DE DEUX POINTS PONDÉRÉS

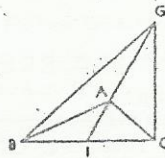
#### Exercice 6 p. 20

1.  $G$  est barycentre de  $(A,-3)$ ,  $(B,1)$  et  $(C,1)$ ;

donc  $\vec{AB} + \vec{AC} = -\vec{AG} \Leftrightarrow \vec{AG} + \vec{AB} + \vec{AC} = \vec{0}$ .

Donc,  $A$  est le centre de gravité du triangle  $GBC$ .

2. Le point  $A$  est tel que  $\vec{AG} = -2\vec{AI}$ ,  $I$  étant le milieu de  $[BC]$ .



#### Exercice 7 p. 20

1. La moyenne  $m$  est telle que :  $m = \frac{4 \times 14 + 2 \times 8 + 1 \times 5}{4 + 2 + 1} = 11$ .

2. On a :  $4\vec{GA} + 2\vec{GB} + \vec{GC} = 4\vec{OA} + 2\vec{OB} + \vec{OC} - 7\vec{OG} = 4 \times 14 + 2 \times 8 + 1 \times 5 - 7 \times 11 = 0$ .

Donc :  $4\vec{GA} + 2\vec{GB} + \vec{GC} = \vec{0}$ , et  $G$  est le barycentre de  $(A,4)$ ,  $(B,2)$  et  $(C,1)$ .

#### Exercice 8 p. 20

1. Soit  $O$ , un point quelconque.

$G$ , centre de gravité du triangle  $ABC \Leftrightarrow \vec{OA} + \vec{OB} + \vec{OC} = 3\vec{OG}$ .

$G'$ , centre de gravité du triangle  $A'B'C' \Leftrightarrow \vec{OA'} + \vec{OB'} + \vec{OC'} = 3\vec{OG'}$ .

En retranchant membre à membre ces deux égalités, il vient :  $\vec{AA'} + \vec{BB'} + \vec{CC'} = 3\vec{GG'}$ .

2. Les triangles  $ABC$  et  $A'B'C'$  ont même centre de gravité si et seulement si :  $\vec{AA'} + \vec{BB'} + \vec{CC'} = \vec{0}$ .

#### Application

$$\vec{BA'} = k\vec{BC} \Leftrightarrow \vec{AA'} - \vec{AB} = k\vec{BC} ;$$

$$\vec{CB'} = k\vec{CA} \Leftrightarrow \vec{BB'} - \vec{BC} = k\vec{CA} ;$$

$$\vec{AC'} = k\vec{AB} \Leftrightarrow \vec{CC'} - \vec{CA} = k\vec{AB} .$$

Aditionnons ces trois dernières égalités :  $\vec{AA'} + \vec{BB'} + \vec{CC'} - \underbrace{(\vec{AB} + \vec{BC} + \vec{CA})}_0 = k \underbrace{(\vec{BC} + \vec{CA} + \vec{AB})}_0$ .

Donc,  $\vec{AA'} + \vec{BB'} + \vec{CC'} = \vec{0}$  et les triangles  $ABC$  et  $A'B'C'$  ont le même centre de gravité.

#### Exercice 9 p. 20

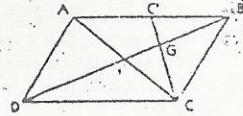
1.  $(CC')$  est une médiane du triangle  $ABC$ . Les diagonales d'un parallélogramme se coupent en leurs milieux, donc  $(BD)$  est aussi une médiane de ce triangle.  $G$  est donc le centre de gravité du triangle  $ABC$ .

$$2. \vec{CA} = \vec{CB} + \vec{CD} \Leftrightarrow \vec{CA} - \vec{CB} - \vec{CD} = \vec{0} .$$

Donc,  $C$  est le barycentre de  $(A,1)$ ,  $(B,-1)$  et  $(C,-1)$ .

3. De la question 1., on déduit :  $3\vec{AG} = \vec{AB} + \vec{AC}$ .

Or :  $\vec{AC} = \vec{AB} + \vec{AD}$ ; donc :  $3\vec{AG} = 2\vec{AB} + \vec{AD}$ , soit  $3\vec{AG} - 2\vec{AB} - \vec{AD} = \vec{0}$ .



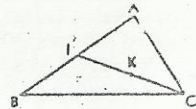
#### Exercice 10 p. 20

1. milieu de  $[AB]$ , donc barycentre de  $(A,1)$  et  $(B,1)$ .

$K$ , milieu de  $[IC]$ , donc barycentre de  $(I,1)$  et  $(C,1)$  ou  $(I,2)$  et  $(C,2)$ .

Donc,  $K$  est le barycentre de  $(A,1)$ ,  $(B,1)$  et  $(C,2)$ .

ou :  $\vec{KA} + \vec{KB} = 2\vec{KI} \Leftrightarrow \vec{KA} + \vec{KB} + 2\vec{KC} = \vec{0}$ .



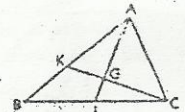
#### Exercice 11 p. 20

1.  $I$ , milieu de  $[BC]$ , donc :  $\vec{GB} + \vec{GC} = 2\vec{GI} = -\frac{2}{3}\vec{GA} \Leftrightarrow 2\vec{GA} + 3\vec{GB} + 3\vec{GC} = \vec{0}$ .

Donc :  $G = \text{bar}\{(A,2), (B,3), (C,3)\}$ .

De l'égalité précédente, on déduit :  $2\vec{BA} + 3\vec{BC} = 8\vec{BG}$ , ou :  $\vec{BC} = \frac{3}{8}\vec{BC} + \frac{1}{4}\vec{BA}$ .

Donc,  $G \left(\frac{3}{8}\right)$  dans le repère  $(B, C, A)$ .



2. Les points  $C, G$  et  $K$  sont alignés; donc,  $K$  est le barycentre partiel de  $(A,2)$  et  $(B,3)$ .

$G = \text{bar}\{(A,2), (B,3), (C,3)\} = \text{bar}\{(K,5), (C,3)\}$ . Donc :  $5\vec{GK} + 3\vec{GC} = \vec{0}$  ou  $3\vec{KC} - 8\vec{KG} = \vec{0}$ .

Par suite,  $K$  est le barycentre de  $(G,-8)$  et  $(C,3)$ .

#### Exercice 12 p.20

1. On a :  $\vec{HB} = \frac{1}{2}\vec{IB} = \frac{1}{4}\vec{AB}$ ; donc :  $3\vec{HB} + \vec{HA} = \vec{0}$ .

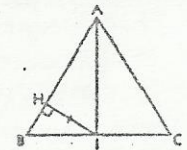
Donc,  $H$  est le barycentre de  $(A,1)$  et  $(B,3)$ .

2.  $K$  est le milieu de  $[IH]$ ; donc :  $K = \text{bar}\{(I,1), (H,1)\} = \text{bar}\{(I,4), (H,4)\}$ .

Or :  $I = \text{bar}\{(B,2), (C,2)\}$  et  $H = \text{bar}\{(A,1), (B,3)\}$ .

Donc :  $K = \text{bar}\{(A,1), (B,3), (B,2), (C,2)\} = \text{bar}\{(A,1), (B,5), (C,2)\}$ .

La démonstration peut également se faire en utilisant les égalités vectorielles correspondantes.



#### Exercice 13 p.20

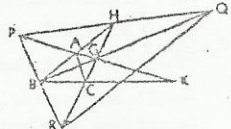
1. On construit les points  $H$ , barycentre de  $(A,2)$  et  $(B,-1)$  et  $K$ , barycentre de  $(B,-1)$  et  $(C,\frac{3}{2})$ ;

On a :  $\vec{HB} = 2\vec{HA}$  et  $3\vec{KC} = 2\vec{KB}$ .

$G$  est le point d'intersection des droites  $(CH)$  et  $(AK)$ .

2. On a :  $\vec{GP} + \vec{GQ} + \vec{GR} = 4\vec{GA} - 2\vec{GB} + 3\vec{GC} = \vec{0}$ .

Donc,  $G$  est le centre de gravité du triangle  $PQR$ .



## UTILISATIONS DU BARYCENTRE

### ♦ Exercice 14 p. 21

1. G est l'isobarycentre des points A, B, C et D ;

donc :  $G = \text{bar} \{(A,1), (B,1), (C,1), (D,1)\}$ .

$G = \text{bar} \{(I,2), (K,2)\} \Leftrightarrow G$  milieu de  $[IK]$  ;

$G = \text{bar} \{(J,2), (L,2)\} \Leftrightarrow G$  milieu de  $[JL]$  ;

$G = \text{bar} \{(M,2), (N,2)\} \Leftrightarrow G$  milieu de  $[MN]$ .

Donc, les segments  $[IK]$ ,  $[JL]$  et  $[MN]$  se coupent en leur milieu.

2.  $H = \text{bar} \{(B,1), (C,1), (D,1)\}$  ; donc :  $G = \text{bar} \{(A,1), (H,3)\}$ .

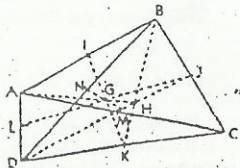
Par suite, les points A, G et H sont alignés.

On démontrerait de même que :

• les points B, G et P sont alignés, P étant le centre de gravité du triangle ACD ;

• les points C, G et Q sont alignés, Q étant le centre de gravité du triangle ABD ;

• les points D, G et R sont alignés, R étant le centre de gravité du triangle ABC.



### ♦ Exercice 15 p. 21

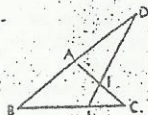
I est milieu de  $[AC]$ , donc isobarycentre de A et C.

A est milieu de  $[BD]$ , donc isobarycentre de B et D.

On a donc :  $I = \text{bar} \{(A,2), (C,2)\} = \text{bar} \{(B,1), (D,1), (C,2)\}$ .

De plus :  $\vec{BI} = \frac{2}{3} \vec{BC} \Leftrightarrow J = \text{bar} \{(B,1), (C,2)\}$ .

Donc :  $I = \text{bar} \{(J,3), (D,1)\}$  et les points D, I, J sont alignés.



### ♦ Exercice 16 p. 21

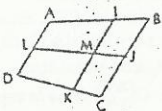
$\vec{AI} = \frac{2}{3} \vec{AB}$ , donc  $I = \text{bar} \{(A,1), (B,2)\}$  ;

$\vec{DK} = \frac{2}{3} \vec{DC}$ , donc  $K = \text{bar} \{(C,2), (D,1)\}$ .

Soit M le milieu de  $[IK]$ . On a :

$M = \text{bar} \{(I,1), (K,1)\} = \text{bar} \{(I,1), (B,2), (C,2), (D,1)\} = \text{bar} \{(L,2), (J,4)\}$ .

Donc, le milieu M de  $[IK]$  appartient à la droite  $(LJ)$ .



### ♦ Exercice 17 p. 21

$\vec{CP} = \frac{3}{8} \vec{CA}$ , donc  $P = \text{bar} \{(A,3), (C,5)\}$  ;

$\vec{AQ} = \frac{1}{4} \vec{AB}$ , donc  $Q = \text{bar} \{(A,3), (B,1)\}$  ;

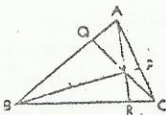
$\vec{BR} = \frac{3}{8} \vec{BC}$ , donc  $R = \text{bar} \{(B,1), (C,5)\}$ .

Soit G le barycentre de  $(A,3)$ ,  $(B,1)$  et  $(C,5)$ .

En appliquant trois fois le théorème des barycentres partiels, il vient :

$G = \text{bar} \{(A,2), (R,8)\}$ , d'où  $G \in (AR)$  ;  $G = \text{bar} \{(B,1), (P,8)\}$ , d'où  $G \in (BP)$  ;  $G = \text{bar} \{(C,5), (Q,4)\}$ , d'où  $G \in (CQ)$ .

Donc, les droites  $(AR)$ ,  $(BP)$  et  $(CQ)$  sont concourantes.



### ♦ Exercice 18 p. 21

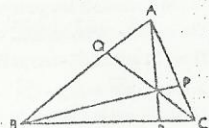
$\vec{AQ} = \frac{1}{3} \vec{AB}$ , donc  $Q = \text{bar} \{(A,2), (B,1)\}$  ;

$\vec{BR} = \frac{2}{5} \vec{BC}$ , donc  $R = \text{bar} \{(B,1), (C,4)\}$  ;

$\vec{CP} = \frac{1}{3} \vec{CA}$ , donc  $P = \text{bar} \{(A,1), (C,2)\} = \text{bar} \{(A,2), (C,4)\}$ .

Soit G le barycentre de  $(A,2)$ ,  $(B,1)$  et  $(C,4)$ .

Comme dans l'exercice précédent, on démontrerait que  $(AR)$ ,  $(BP)$  et  $(CQ)$  sont concourantes.



### ♦ Exercice 19 p. 21

Soit I le point d'intersection des droites  $(AA')$  et  $(B'C)$ .

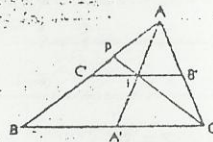
I est le milieu de  $[AA']$  et A' est le milieu de  $[BC]$ .

Donc :  $I = \text{bar} \{(A,2), (A',2)\} = \text{bar} \{(A,2), (B,1), (C,1)\}$ .

Or :  $\vec{AP} = \frac{1}{3} \vec{AB} \Leftrightarrow P = \text{bar} \{(A,2), (B,1)\}$ .

Donc :  $I = \text{bar} \{(P,3), (C,1)\}$ , et les points I, P et C sont alignés.

Par suite, les droites  $(AA')$ ,  $(B'C)$  et  $(CP)$  sont concourantes en I.



### ♦ Exercice 20 p. 21

Soit I, le milieu de  $[AB]$ . En utilisant la relation de Chasles dans

l'expression de  $f(M)$ , on obtient :

$$f(M) = 2IM^2 + \frac{AB^2}{2} = 2IM^2 + 18.$$

1. Désignons par  $(E_k)$  la ligne de niveau  $k$  de la fonction  $f$ .

$$M \in (E_k) \Leftrightarrow 2IM^2 = \frac{k}{2} - 9.$$

Ainsi, pour  $k > 18$ ,  $(E_k)$  est le cercle de centre I et de rayon  $\sqrt{\frac{k}{2} - 9}$ .

•  $(E_{36})$  est le cercle de centre I et de rayon 4. •  $(E_{36})$  est le cercle de diamètre  $[AB]$ .

•  $(E_{24})$  est le cercle de centre I et de rayon 2. •  $(E_{24})$  est le cercle de centre I et de rayon 1.

2. •  $(E_k)$  est réduit à un point si et seulement si :  $\frac{k}{2} - 9 = 0$ , c'est-à-dire pour  $k = 18$ .

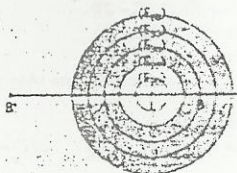
•  $(E_k)$  passe par A si et seulement si  $k = 36$ , car  $AB^2 = 36$  (A et B ont la même ligne de niveau  $(E_{36})$ ).

• Le symétrique  $B'$  de B par rapport à A est au niveau  $k = 180$ , car  $AB^2 + BB'^2 = 180$ .

3. Soit  $(\mathcal{E})$  l'ensemble des points M tel que :  $26 \leq MA^2 + MB^2 \leq 68$ . (1)

$$(1) \Leftrightarrow 26 \leq 2MI^2 + 18 \leq 68 \Leftrightarrow 4 \leq MI^2 \leq 25 \Leftrightarrow 2 \leq MI \leq 5.$$

L'ensemble  $(\mathcal{E})$  est donc la couronne délimitée par les cercles de centre I et de rayon 2 et 5 (partie colorée).



### ♦ Exercice 21 p. 21

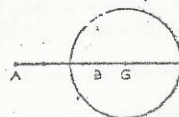
$$MA^2 = 2MB \Leftrightarrow MA^2 - 4MB^2 = 0 \quad (1).$$

Soit  $G = \text{bar} \{(A,1), (B,-4)\}$ .

$$(1) \Leftrightarrow -3MG^2 + GA^2 - 4GB^2 = 0 \Leftrightarrow MG^2 = \frac{1}{3}(GA^2 - 4GB^2).$$

$$\text{D'où : } MG^2 = \frac{1}{3}(16GB^2 - 4GB^2) = 4GB^2. \text{ Ou : } MG = 2GB.$$

Donc, l'ensemble des points M est le cercle de centre G et de rayon  $2GB = \frac{2}{3}AB$ .



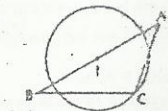
### ♦ Exercice 22 p. 21

Soit  $(\mathcal{E})$  la ligne de niveau recherchée et I le milieu de  $[AB]$ .

$$M \in (\mathcal{E}) \Leftrightarrow \vec{MA} \cdot \vec{MB} = \vec{CA} \cdot \vec{CB} \quad (1)$$

$$(1) \Leftrightarrow (\vec{MI} + \vec{IA}) \cdot (\vec{MI} - \vec{IA}) = (\vec{CI} + \vec{IA}) \cdot (\vec{CI} - \vec{IA}) \Leftrightarrow MI^2 - IA^2 = CI^2 - IA^2.$$

Donc,  $MI = IC$  et  $(\mathcal{E})$  est le cercle de centre I, passant par C.



### ♦ Exercice 23 p. 21

$$1. G \text{ barycentre de } (A,1) \text{ et } (B,-2) \Leftrightarrow \vec{GA} - 2\vec{GB} = \vec{0}.$$

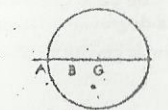
Donc, G est le point tel que B milieu de  $[AG]$ .

2. a) On a :  $2\vec{MA} - 2\vec{MB} = -2\vec{AB}$  ; donc,  $2\vec{MA} - 2\vec{MB}$  est indépendant du point M.

b)  $G = \text{bar} \{(A,1) \text{ et } (B,-2)\}$  ; donc :  $\vec{MA} - 2\vec{MB} = \vec{MG}$ .

$$\text{D'où : } \|\vec{MA} - 2\vec{MB}\| = \|\vec{MG}\| \Leftrightarrow MG = 2AB.$$

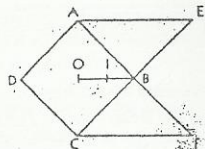
Donc, l'ensemble des points M est le cercle de centre G et de rayon  $2AB$ .



♦ Exercice 24 p.21

Cette plaque est constituée d'un carré dont le centre d'inertie est son centre O et de deux triangles égaux dont le centre d'inertie est le centre de symétrie B.

L'aire du carré est égale à la somme des aires des deux triangles. Il en est de même pour les masses, donc le centre d'inertie de l'ensemble sera le milieu I du segment [OB].



□ Exercices d'approfondissement

♦ Exercice 25 p. 21

D symétrique de A par rapport à B, donc D = bar((A,-1), (B,2)); E symétrique de C par rapport à A, donc E = bar((A,2), (C,-1)); F est milieu de [DE].

Donc : F = bar((D,1), (E,1)) = bar((A,-1), (B,2), (A,2), (C,-1)).

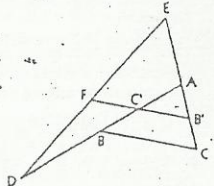
D'autre part :

B' est milieu de [AC], donc B' = bar((A,-1), (C,-1));

C' est milieu de [AB], donc C' = bar((A,2), (B,2)).

D'où : F = bar((B',-2), (C',4)).

Les points F, B' et C' sont donc alignés et C' est milieu de [B'F].



♦ Exercice 26 p.21

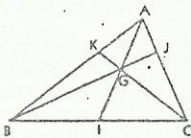
a) G est le barycentre de (A,p), (B,q) et (C,q), donc :

$$p\vec{GA} + q(\vec{GB} + \vec{GC}) = \vec{0} \text{ ou } p\vec{GA} + 2q\vec{GI} = \vec{0}, \text{ avec I milieu de [BC].}$$

Cette dernière égalité implique que A, G et I sont alignés, donc les points I et I' sont confondus : I est le milieu de [BC].

b) B, G et J sont alignés, donc J est le barycentre partiel de (A,p) et (C,q). De même, K est le barycentre partiel de (A,p) et (B,q). Donc :  $\frac{AJ}{JC} = \frac{KA}{KB} = \frac{q}{p}$ ;

d'après la réciproque de la propriété de Thalès, les droites (KJ) et (BC) sont parallèles.



♦ Exercice 27 p.21

1. Le triangle ACD est isocèle en A, en effet :

$$ACD = \widehat{CAI} = \widehat{IAB} = \widehat{CDA}.$$

D'après Thalès :  $\frac{IB}{IC} = \frac{AB}{AD} = \frac{AB}{AC} = \frac{c}{b}$ .

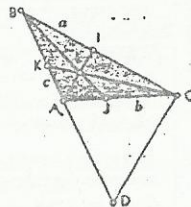
2. Ainsi :  $b\vec{IB} + c\vec{IC} = \vec{0}$  (car, de plus, I ∈ [BC]) ;

donc : I = bar((B,b), (C,c)).

De même, dans le triangle ABC, les bissectrices issues de B et C coupent respectivement (AC) et (AB) en J = bar((A,a), (C,c)) et K = bar((A,a), (B,b)).

3. Soit L le barycentre de (A,a), (B,b) et (C,c). D'après la remarque consécutive au théorème des barycentres partiels, L est le point de concours des droites (AI), (BJ) et (CK).

Or ces droites sont les bissectrices de ABC, L est donc le centre du cercle inscrit dans le triangle ABC.

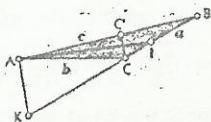


♦ Exercice 28 p.21

1. Dans le triangle ACC', la hauteur et la bissectrice issues de A sont confondues ; donc ACC' est isocèle en A.

2. D'après Thalès :  $\frac{KC}{KB} = \frac{AC}{AB} = \frac{AC}{AB} = \frac{b}{c}$ .

De plus, K est extérieur à [BC], d'où le résultat.



♦ Exercice 29 p.21

D'après l'exercice 27, I (resp. J) est barycentre de (A,a) et (C,c) (resp. (A,a) et (B,b)). Donc :

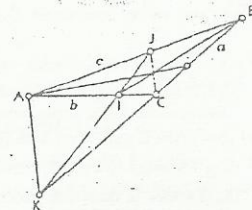
$$\begin{cases} (a+c)\vec{KI} = a\vec{KA} + c\vec{KC} \\ (a+b)\vec{KJ} = a\vec{KA} + b\vec{KB} \end{cases}$$

Par suite :  $(a+c)\vec{KI} - (a+b)\vec{KJ} = c\vec{KC} - b\vec{KB}$ .

Le premier membre est un vecteur colinéaire à  $\vec{IJ}$  alors que le second est colinéaire à  $\vec{BC}$ . Les vecteurs  $\vec{BC}$  et  $\vec{IJ}$  n'étant pas colinéaires, chaque membre de l'égalité est nul.

Par conséquent : K = bar((1,a+c), (J,-(a+b))) et K = bar((B,-b), (C,c)).

D'après l'exercice 28, la droite (AK) est donc la bissectrice extérieure de l'angle  $\hat{A}$ .




♦ Exercice 30 p.21

1. Les points C et D sont définis car  $a+b$  et  $a-b$  ne sont pas nuls. C appartient au segment [AB] et est plus proche de B que de A. D est à l'extérieur du segment [AB] sur la demi-droite [AB).

2. Les points C et D ont respectivement pour abscisse  $\frac{b}{a+b}$  et  $\frac{-b}{a-b}$ , car  $\vec{AC} = \frac{b}{a+b}\vec{AB}$  et  $\vec{AD} = \frac{-b}{a-b}\vec{AB}$ .

$$\vec{CA} \times \vec{DB} + \vec{CB} \times \vec{DA} = \frac{-b(a-b) - (-b)(a+b) + [(a+b) - (b)]b}{(a+b)(a-b)} = 0. \text{ D'où : } \frac{\vec{CA}}{\vec{CB}} = -\frac{\vec{DA}}{\vec{DB}}.$$



3.  $\vec{CA} \times \vec{DB} + \vec{CB} \times \vec{DA} = 0$ ; donc :  $\vec{BDAC} + \vec{BCAD} = \vec{0}$  et  $\vec{ACBD} + \vec{ADBC} = \vec{0}$ .

On en déduit : A = bar((C,BD), (D,BC)) = bar((C,  $\frac{a}{a-b}$ ), (D,  $\frac{a}{a+b}$ )) = bar((C,a+b), (D,a-b));

B = bar((C,AD), (D,AC)) = bar((C,  $\frac{-b}{a-b}$ ), (D,  $\frac{-b}{a+b}$ )) = bar((C,-(a+b)), (D,a-b)).

Donc, A est le barycentre de (C,a+b) et (D,a-b), et B est le barycentre de (C,a+b) et (D,b-a).

♦ Exercice 31 p.22

1. a) Les triangles BAA', CAA' d'une part et BMA', CMA' d'autre part, ont même hauteur issue respectivement de A et M, le rapport de leurs aires égale donc celui de leurs bases ; ainsi :

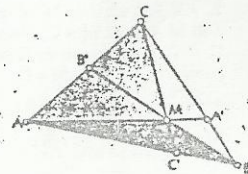
$$\frac{A'B}{A'C} = \frac{\text{aire}(AA'B)}{\text{aire}(AA'C)} = \frac{\text{aire}(MA'B)}{\text{aire}(MA'C)} = \frac{\text{aire}(MAB)}{\text{aire}(MAC)}.$$

b) De plus : A' ∈ [BC], donc : aire(MAC) A'B = -aire(MAB) A'C.

Donc, A' est le barycentre de (B,aire(MAC)) et (C,aire(MAB)).

De même : B' est le barycentre de (A,aire(MBC)) et (C,aire(MBA));

C' est le barycentre de (A,aire(MBC)) et (B,aire(MAC)).



2. En appliquant le théorème du barycentre partiel aux points A', B' et C', on en déduit que G est le point de concours des droites (AA'), (BB') et (CC'). Les points G et M sont donc confondus.

Application

Soit I le centre et r le rayon du cercle inscrit dans le triangle ABC. Les aires des triangles IBC, IAC et IAB sont respectivement  $\frac{ar}{2}$ ,  $\frac{br}{2}$  et  $\frac{cr}{2}$ .

D'après les questions précédentes, I est le barycentre de (A,  $\frac{ar}{2}$ ), (B,  $\frac{br}{2}$ ) et (C,  $\frac{cr}{2}$ ) donc, de (A,a), (B,b) et (C,c).

♦ Exercice 32 p.22

1. N est le barycentre de (M,HP²) et (P,HM²);

$$\text{donc : } HP^2\vec{HN} + HM^2\vec{NP} = (HP^2 + HM^2)\vec{HN}$$

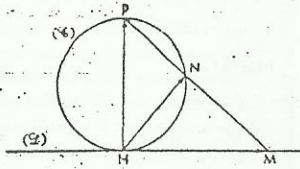
$$\text{Or : } HP^2 + HM^2 = MP^2, \text{ D'où : } \vec{HN} = \frac{1}{MP^2} (HP^2\vec{HM} + HM^2\vec{HP}).$$

$$2. \vec{HN} \cdot \vec{MP} = \frac{1}{MP^2} (\overline{HP^2} \overline{HM} \overline{MP} + \overline{HM^2} \overline{HP} \overline{MP})$$

$$= \frac{1}{MP^2} (-\overline{HP^2} \overline{HM^2} + \overline{HM^2} \overline{HP^2}) = 0.$$

Les vecteurs  $\vec{HN}$  et  $\vec{MP}$  sont donc orthogonaux.

3. D'après la question précédente, N appartient au cercle (€) de diamètre [HP]. Réciproquement, soit N' un point de (€) distinct de P. La droite (PN') coupe la droite (€) en un point M. Le point N associé à M appartient à (€) et au segment [PM] donc  $N = N'$ . Ainsi, le lieu cherché est le cercle (€) privé du point P.



♦ Exercice 33 p.22 :

1. Soit I le milieu de [BC]. G est le barycentre de (A,4), (B,-1) et (C,-1) ; donc :  $2\vec{AG} = -\vec{AB} - \vec{AC} = -2\vec{AI}$ .

D'où, les points G et I sont symétriques par rapport au point A.

$$2. 4MA^2 - MB^2 - MC^2 = 4(\vec{MG} + \vec{GA})^2 - (\vec{MG} + \vec{GB})^2 - (\vec{MG} + \vec{GC})^2$$

$$4MA^2 - MB^2 - MC^2 = 2MG^2 + 4GA^2 - GB^2 - GC^2$$

3.  $A \in (E)$ , car :  $4AA^2 - AB^2 - AC^2 = -BC^2 = -4a^2$  (Pythagore).

$$4MA^2 - MB^2 - MC^2 = -4a^2 \quad (1)$$

$$(1) \Leftrightarrow 2MG^2 + 4GA^2 - GB^2 - GC^2 = -4a^2 \Leftrightarrow GM = \sqrt{\frac{-4a^2 - 4GA^2 + GB^2 + GC^2}{2}}$$

Or :  $GA^2 = a^2$  et  $GB^2 + GC^2 = 2GI^2 + \frac{1}{2}BC^2 = 10a^2$ . Donc  $GM = a$ .

(E) est le cercle de centre G passant par A (le rayon de ce cercle est a).

♦ Exercice 34 p.22

1. • Il faut choisir M tel que :  $\vec{BC} + \vec{MC} \neq 0$  et  $\vec{BC} + \vec{BM} \neq 0$ , soit  $M = B_1$  et  $M = C_1$ , avec  $B_1$  symétrique de B par rapport à C et  $C_1$  symétrique de C par rapport à B, par contre on peut prendre  $M = B$  ou  $M = C$ .

$$a) \vec{MC} \vec{MB} + \vec{BM} \vec{MC} = 0; \quad \text{donc : } M = \text{bar}(\{B, \vec{MC}\}, \{C, \vec{BM}\});$$

$$b) \vec{AN} = \frac{\vec{MC}}{\vec{BC} + \vec{MC}} \vec{AB}; \quad \text{donc : } N = \text{bar}(\{A, \vec{BC}\}, \{B, \vec{MC}\});$$

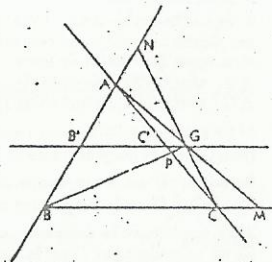
$$c) \vec{AP} = \frac{\vec{BM}}{\vec{BC} + \vec{BM}} \vec{AC}; \quad \text{donc : } P = \text{bar}(\{A, \vec{BC}\}, \{C, \vec{BM}\}).$$

2. Posons :  $G = \text{bar}(\{A, \vec{BC}\}, \{B, \vec{MC}\}, \{C, \vec{BM}\})$ .

En appliquant trois fois le théorème des barycentres partiels et les relations précédentes, il vient :  $G = \text{bar}(\{A, \vec{BC}\}, \{M, \vec{BC}\})$  ;  $G = \text{bar}(\{C, \vec{BM}\}, \{N, \vec{BC} + \vec{MC}\})$  ;  $G = \text{bar}(\{B, \vec{MC}\}, \{P, \vec{BC} + \vec{BM}\})$ .

Par conséquent les droites (AM), (BP) et (CN) sont concourantes en G, milieu du segment [AM].

3. G est l'image de M par l'homothétie h de centre A et de rapport  $\frac{1}{2}$ . Soit B' et C' les milieux respectifs des segments [AB] et [AC]. Le lieu cherché est l'image par h de la droite (BC) privée des images de B<sub>1</sub> et C<sub>1</sub> ; c'est donc la droite (B'C') privée des milieux de [AB<sub>1</sub>] et de [AC<sub>1</sub>].



♦ Exercice 35 p.22

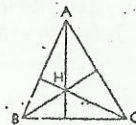
1. H est le barycentre de (A,α), (B,β) et (C,γ), donc :  $\vec{AH} = \frac{1}{\alpha + \beta + \gamma} (\beta \vec{AB} + \gamma \vec{AC})$ .

$$2. \vec{AH} \cdot \vec{BC} = \frac{1}{\alpha + \beta + \gamma} (\beta \vec{AB} \cdot \vec{BC} + \gamma \vec{AC} \cdot \vec{BC}) = \frac{1}{\alpha + \beta + \gamma} (-\beta \vec{BA} \cdot \vec{BC} + \gamma \vec{CA} \cdot \vec{CB})$$

$$= \frac{1}{\alpha + \beta + \gamma} (-\beta \cos \hat{A} \cos \hat{C} \cos \hat{B} + \gamma \cos \hat{A} \cos \hat{B} \cos \hat{C}) = 0.$$

Les vecteurs  $\vec{AH}$  et  $\vec{BC}$  sont donc orthogonaux.

3. De même les vecteurs  $\vec{BH}$  et  $\vec{AC}$  sont orthogonaux. Le point H est donc l'orthocentre de ABC.



♦ Exercice 36 p.22 :

1. a)  $\vec{AH} = \vec{OB} + \vec{OC} = 2\vec{OI}$ , avec I milieu de [BC].

Or, le triangle BOC est isocèle et les droites (OI) et (BC) sont perpendiculaires. Donc, les vecteurs  $\vec{AH}$  et  $\vec{BC}$  sont orthogonaux.

b) De même, on établirait que les vecteurs  $\vec{BH}$  et  $\vec{AC}$  sont orthogonaux. Le point H est donc l'orthocentre du triangle ABC.

2. G est le centre de gravité du triangle ABC.

$$\vec{OH} = \vec{OA} + \vec{OB} + \vec{OC} = 3\vec{OG}; \text{ d'où : } 3\vec{OG} - \vec{OH} = \vec{0}.$$

O est donc le barycentre des points pondérés (G,3) et (H,-1).

$$3. a) \beta + \gamma = \cos \hat{A} (b \cos \hat{C} + c \cos \hat{B}) = a \cos \hat{A}.$$

On obtient de même :  $\alpha + \gamma = b \cos \hat{B}$  et  $\alpha + \beta = c \cos \hat{C}$ .

b) D'après l'exercice précédent, on a :  $H = \text{bar}(\{A, \alpha\}, \{B, \beta\}, \{C, \gamma\}) = \text{bar}(\{A, -\alpha\}, \{B, -\beta\}, \{C, -\gamma\})$ .

De plus :  $G = \text{bar}(\{A, 1\}, \{B, 1\}, \{C, 1\}) = \text{bar}(\{A, \alpha + \beta + \gamma\}, \{B, \alpha + \beta + \gamma\}, \{C, \alpha + \beta + \gamma\})$ .

Appliquons au point O le théorème des barycentres partiels :

$$O = \text{bar}(\{G, 3\}, \{H, -1\}) = \text{bar}(\{A, \alpha + \beta + \gamma\}, \{B, \alpha + \beta + \gamma\}, \{C, \alpha + \beta + \gamma\}, \{A, -\alpha\}, \{B, -\beta\}, \{C, -\gamma\})$$

$$= \text{bar}(\{A, \beta + \gamma\}, \{B, \alpha + \gamma\}, \{C, \alpha + \beta\}) = \text{bar}(\{A, a \cos \hat{A}\}, \{B, b \cos \hat{B}\}, \{C, c \cos \hat{C}\}).$$

♦ Exercice 37 p.22

1. Le disque de centre O est la réunion du croissant et du disque de centre O'. Donc, O est le barycentre de (O', r') et (G, 1-r').

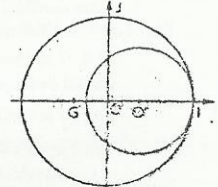
$$\text{On a : } r^2 \vec{OO'} + (1-r^2) \vec{OG} = \vec{0} \quad O' \left( \frac{1-r^2}{0} \right); \text{ donc : } G \left( \frac{-r^2}{1+r} \right).$$

2. La condition est réalisée lorsque l'abscisse de G est :  $1 - 2r$ .

$$\frac{-r^2}{1+r} = 1 - 2r \Rightarrow r^2 + r - 1 = 0.$$

De plus, r est positif ; donc :  $r = \frac{-1 + \sqrt{5}}{2}$ .

$$\text{Remarque : } \frac{1}{r} = \frac{2}{\sqrt{5}-1} = \frac{\sqrt{5}+1}{2} \quad (\text{nombre d'or}).$$



♦ Exercice 38 p.22

1. a) Soit (b,c) les coordonnées de G dans le repère (A,B,C).

$$\vec{AG} = b \vec{AB} + c \vec{AC} \Leftrightarrow (1-b-c)\vec{CA} + b \vec{CB} + c \vec{CC} = \vec{0}.$$

Posons :  $a = 1 - b - c$  ; on a :  $G = \text{bar}(\{A, a\}, \{B, b\} \text{ et } \{C, c\})$ .

b)  $b + c \neq 0$  (sinon on aurait  $b = -c$ ,  $\vec{AG} = c\vec{BC}$  et (AA') // (BC) ce qui est absurde). De même  $a + c \neq 0$  et  $a + b \neq 0$ .

Donc, les points A', B' et C' sont des barycentres partiels et :

$$A' = \text{bar}(\{B, b\}, \{C, c\}) \Rightarrow b \vec{A'B} + c \vec{A'C} = \vec{0} \Rightarrow \frac{\vec{A'B}}{\vec{A'C}} = -\frac{c}{b}$$

$$B' = \text{bar}(\{A, a\}, \{C, c\}) \Rightarrow a \vec{B'A} + c \vec{B'C} = \vec{0} \Rightarrow \frac{\vec{B'C}}{\vec{B'A}} = -\frac{a}{c}$$

$$C' = \text{bar}(\{A, a\}, \{B, b\}) \Rightarrow a \vec{C'A} + b \vec{C'B} = \vec{0} \Rightarrow \frac{\vec{C'A}}{\vec{C'B}} = -\frac{b}{a}$$

$$\text{Donc : } \frac{\vec{A'B}}{\vec{A'C}} \times \frac{\vec{B'C}}{\vec{B'A}} \times \frac{\vec{C'A}}{\vec{C'B}} = \left(-\frac{c}{b}\right) \left(-\frac{a}{c}\right) \left(-\frac{b}{a}\right) = -1.$$

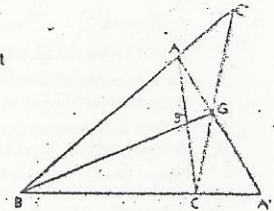
2. Soit C' le point d'intersection des droites (CK) et (AB). D'après 1. :  $\frac{\vec{A'B}}{\vec{A'C}} \times \frac{\vec{B'C}}{\vec{B'A}} \times \frac{\vec{C'A}}{\vec{C'B}} = -1$  ;

Donc :  $\frac{\vec{C'A}}{\vec{C'B}} = \frac{\vec{C'A}}{\vec{C'B}}$ . Posons :  $r = \frac{\vec{C'A}}{\vec{C'B}}$ . C' et C'' sont barycentres de (A,1) et (B,-r) ; donc :  $C' = C''$ .

Les droites (AA'), (BB') et (CC') sont donc concourantes.

Remarque : les droites (CK) et (AB) sont sécantes, sinon on déduirait du théorème de Thalès :

$$\frac{\vec{A'B}}{\vec{A'C}} \times \frac{\vec{B'C}}{\vec{B'A}} = -1; \text{ donc : } \frac{\vec{C'A}}{\vec{C'B}} = 1, \text{ ce qui est impossible.}$$



## 2. Angles orientés – Trigonométrie

(pages 23 à 46 du livre de l'élève)

### OBJECTIFS

- Consolider et approfondir la notion d'angle orienté, ébauchée en classe de Seconde.
- Introduire les mesures d'angles orientés.
- Investir les résultats obtenus dans l'étude de certaines configurations : points alignés ou cocycliques...
- Établir les formules trigonométriques et les utiliser (factorisations, linéarisations).
- Résoudre des équations et inéquations trigonométriques.

### COMMENTAIRES

• Ce chapitre est d'accès direct, les notions requises pour l'aborder ayant été établies en classe de Seconde. Toutefois, il doit être étudié avant les chapitres concernant les isométries, la géométrie analytique du plan et l'étude des fonctions.

• Les notions d'angle orienté et de mesure principale sont vues en seconde, il est inutile de revenir sur leurs définitions. Par contre, on mettra soigneusement en place la notion de mesure quelconque d'un angle orienté, parfois difficile à saisir par l'élève.

• Nous avons adopté la notation  $(\vec{u}, \vec{v})$  pour un angle orienté de deux vecteurs mais nous n'avons pas défini de notation pour une mesure d'angle orienté. Il faudra toutefois signaler à l'élève qu'il peut trouver, dans d'autres manuels, des notations comme  $\text{mes}(\vec{u}, \vec{v})$  ou bien  $(\vec{u}, \vec{v})$ . Un angle orienté de mesure  $\alpha$  peut être noté  $\hat{\alpha}$  ; cependant on évitera des notations ambiguës du type  $\frac{\pi}{3}$  ou  $0,5\pi$ , qui pourraient induire des « opérations-élève ». On rappelle que la seule opération définie sur les angles est l'addition.

• La démonstration du théorème des angles inscrits devrait utiliser le résultat analogue obtenu en classe de Seconde.

• On veillera à se limiter à des applications raisonnables du théorème des points cocycliques.

• Les résolutions d'inéquations trigonométriques seront traitées uniquement sous forme d'exemples simples. Les ensembles de solutions, généralement des intervalles ou des réunions d'intervalles de  $\mathbb{R}$ , pourront être présentés sous forme d'arcs du cercle trigonométrique, pour en donner une vision plus concrète.

### SAVOIRS ET SAVOIR-FAIRE

#### savoirs

#### Angles orientés

- Image d'un réel sur le cercle trigonométrique.
- Mesures d'un angle orienté.
- Définition de la somme de deux angles orientés.

#### Propriétés des angles orientés

- Relation de Chasles.
- $(\vec{u}, \vec{v}) + (\vec{v}, \vec{w}) = (\vec{u}, \vec{w})$ .
- Mesures de  $(k\vec{u}, \vec{v})$ ,  $(\vec{u}, k\vec{v})$  et  $(k\vec{u}, k\vec{v})$  en fonction des mesures de  $(\vec{u}, \vec{v})$ .

• Si A et B sont les images des réels  $\alpha$  et  $\beta$ ,  $\beta - \alpha$  est une mesure de  $(\vec{OA}, \vec{OB})$ .

• Double d'un angle orienté.

• Angle orienté et cercle :

– propriété des angles inscrits :  $(\vec{OA}, \vec{OB}) = 2(\vec{MA}, \vec{MB})$ .

Extension au cas limite de la tangente :

#### savoir-faire

• Pour tout nombre réel  $x$ , placer l'image de  $x$  sur le cercle trigonométrique.

• Réciproquement, pour tout point M du cercle trigonométrique, déterminer les antécédents de M dans  $\mathbb{R}$ .

• Déterminer la mesure principale d'un angle orienté, connaissant une mesure quelconque.

• Exploiter la relation de Chasles dans diverses situations.

• Utiliser l'angle orienté double pour démontrer l'alignement de trois points.

• Propriété des angles inscrits :  $(\vec{OA}, \vec{OB}) = 2(\vec{MA}, \vec{MB})$ .

– condition nécessaire et suffisante de cocyclicité de quatre points.

#### Trigonométrie

- Sinus, cosinus, tangente d'un angle orienté.
- Sinus, cosinus, tangente d'un nombre réel.
- Relations entre les lignes trigonométriques du même angle.
- Formules de trigonométrie :
  - formules d'addition ;
  - formules de duplication et de linéarisation ;
  - expressions de  $\cos \alpha$ ,  $\sin \alpha$  et  $\tan \alpha$  en fonction de  $\tan \frac{\alpha}{2}$ .

#### Équations trigonométriques

- Équations de type :  $\cos x = a$ ,  $\sin x = a$ ,  $\tan x = a$ .
- Équations du type :  $a \cos x + b \sin x + c = 0$ .

#### Inéquations trigonométriques

• À partir des lignes trigonométriques des angles de mesures  $0, \frac{\pi}{6}, \frac{\pi}{4}, \frac{\pi}{3}, \frac{\pi}{2}$  déterminer celles des angles remarquables.

• Déterminer les lignes trigonométriques de  $-x, x + \pi, \pi - x, \frac{\pi}{2} - x$ , connaissant celles de  $x$ .

• Transformer des expressions trigonométriques.

• Retrouver, à partir des formules d'addition, les autres formules de transformation (duplication, linéarisation, expression de  $\sin x, \cos x, \tan x$  en fonction de  $\tan \frac{x}{2}$ ).

• Résoudre des équations et inéquations trigonométriques.

### EXERCICES DU MANUEL

#### Exercices du cours

#### ANGLES ORIENTÉS

♦ Exercice 1.a p. 26

On a :  $\frac{21\pi}{4} = -\frac{3\pi}{4} [2\pi]$  et  $-\frac{3\pi}{4} \in ]-\pi; \pi]$  ;

donc :  $-\frac{3\pi}{4}$  est la mesure principale de cet angle.

$-\frac{11\pi}{4}, \frac{5\pi}{4}$  et  $\frac{13\pi}{4}$  sont également des mesures de cet angle orienté.

♦ Exercice 1.b p. 26

a)  $x - y = 2\pi$  ; b)  $x - y = -2\pi$  ; c)  $x - y = -4\pi$  ; d)  $x - y = -8\pi$ .

♦ Exercice 1.c p. 26

On considère un angle orienté de mesure principale  $\frac{3\pi}{4}$ .

Mesures en degrés de cet angle :  $135^\circ$  (mesure principale),  $-225^\circ, 495^\circ, \dots$

Mesures en grades de cet angle :  $150$  (mesure principale),  $-250, 550, \dots$

♦ Exercice 1.d p. 26

Déterminons la mesure principale de l'angle de mesure  $\frac{16\pi}{3}$ .

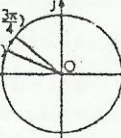
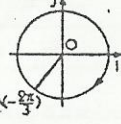
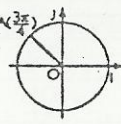
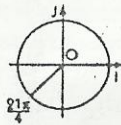
On a :  $\frac{16\pi}{3} = 6\pi - \frac{2\pi}{3}$  et  $-\frac{2\pi}{3} \in ]-\pi; \pi]$  ; donc l'arc  $\widehat{IA}$  a pour longueur  $\frac{2\pi}{3}$ .

#### PROPRIÉTÉS DES ANGLES ORIENTÉS

♦ Exercice 2.a p. 31

1.  $-\frac{1999\pi}{6} = -334\pi + \frac{5\pi}{6}$  ; de plus :  $\frac{5\pi}{6} \in ]-\pi; \pi]$  et  $\frac{5\pi}{6} \in ]-\pi; \pi]$ .

2.  $\text{mes}(\vec{OA}, \vec{OB}) = \frac{3\pi}{4} - \frac{5\pi}{6} = -\frac{\pi}{12}$  et  $-\frac{\pi}{12} \in ]-\pi; \pi]$ .



♦ Exercice 2.b p. 31

Le triangle ABC étant donné, on désigne par  $\alpha$  une mesure de l'angle orienté  $(\overrightarrow{AB}, \overrightarrow{AC})$ .

- $(\overrightarrow{BA}, \overrightarrow{AC})$  a pour mesure  $\pi + \alpha$ ;  $(\overrightarrow{BA}, \overrightarrow{AC})$  a pour mesure  $-\alpha$ .
- $(\overrightarrow{CA}, \overrightarrow{AB})$  a pour mesure  $\pi - \alpha$ ;  $(\overrightarrow{CA}, \overrightarrow{BA})$  a pour mesure  $-\alpha$ .

♦ Exercice 2.c p. 31

- Si  $k$  et  $k'$  sont deux réels de même signe :  $(k\vec{u}, k'\vec{v}) = (\vec{u}, \vec{v})$ .
- Si  $k$  et  $k'$  sont deux réels de signes contraires,  $(k\vec{u}, k'\vec{v}) = (k\vec{u}, -k'\vec{v}) = \hat{\pi} + (\vec{u}, \vec{v})$ .

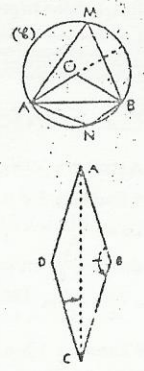
♦ Exercice 2.d p. 31

On a :  $(\overrightarrow{BA}, \overrightarrow{BC}) = (\overrightarrow{AB}, \overrightarrow{CB})$  et  $(\overrightarrow{DC}, \overrightarrow{DA}) = (\overrightarrow{CD}, \overrightarrow{AD})$  ;  
donc :  $(\overrightarrow{AD}, \overrightarrow{AB}) + (\overrightarrow{BA}, \overrightarrow{BC}) + (\overrightarrow{CB}, \overrightarrow{CD}) + (\overrightarrow{DC}, \overrightarrow{DA}) = (\overrightarrow{AD}, \overrightarrow{AB}) + (\overrightarrow{AB}, \overrightarrow{CB}) + (\overrightarrow{CB}, \overrightarrow{CD}) + (\overrightarrow{CD}, \overrightarrow{AD}) = \hat{0}$ .

♦ Exercice 2.e p. 31

1. On sait que  $2(\overrightarrow{NA}, \overrightarrow{NB}) = 2(\overrightarrow{MA}, \overrightarrow{MB})$  ; donc,  $(\overrightarrow{NA}, \overrightarrow{NB})$  et  $(\overrightarrow{MA}, \overrightarrow{MB})$  sont égaux ou différents de  $\hat{\pi}$ . Les points M et N n'appartenant pas au même demi-plan de frontière  $(AB)$ ,  $(\overrightarrow{NA}, \overrightarrow{NB})$  a pour mesure  $\alpha - \pi$ .

• Dans le cercle (C),  $(\overrightarrow{OB}, \overrightarrow{AO})$  est un angle au centre et  $(\overrightarrow{AB}, \overrightarrow{AO})$  est un angle inscrit qui interceptent le même arc donc  $(\overrightarrow{OB}, \overrightarrow{AO}) = 2(\overrightarrow{AB}, \overrightarrow{AO})$ .



♦ Exercice 2.f p. 36

Dans le losange ABCD :  $2(\overrightarrow{BA}, \overrightarrow{BC}) + 2(\overrightarrow{AD}, \overrightarrow{AB}) = 2\hat{\pi}$  ; donc :  $\text{mes}(\overrightarrow{BA}, \overrightarrow{BC}) = \frac{5\pi}{6}$ .  
De plus :  $2(\overrightarrow{CD}, \overrightarrow{CA}) = (\overrightarrow{CD}, \overrightarrow{CB}) = (\overrightarrow{AB}, \overrightarrow{AD})$  ; donc :  $\text{mes}(\overrightarrow{CD}, \overrightarrow{CA}) = -\frac{\pi}{12}$ .

TRIGONOMÉTRIE

♦ Exercice 3.a p. 36

Les résultats demandés sont regroupés dans le tableau suivant :

Mesure de l'angle	Mesure principale	sinus	cosinus	tangente
$-\frac{5\pi}{3}$	$\frac{\pi}{3}$	$\frac{\sqrt{3}}{2}$	$\frac{1}{2}$	$\sqrt{3}$
$-\frac{121\pi}{6}$	$-\frac{\pi}{6}$	$-\frac{1}{2}$	$\frac{\sqrt{3}}{2}$	$-\frac{1}{\sqrt{3}}$
$-\frac{1999\pi}{6}$	$\frac{5\pi}{6}$	$\frac{1}{2}$	$-\frac{\sqrt{3}}{2}$	$-\frac{1}{\sqrt{3}}$
$\frac{29\pi}{4}$	$-\frac{3\pi}{4}$	$-\frac{1}{\sqrt{2}}$	$-\frac{1}{\sqrt{2}}$	1

♦ Exercice 3.b p. 36

En utilisant les formules d'addition, on démontre ces égalités.

♦ Exercice 3.c p. 36

$\cos \alpha = -\frac{5}{3}$  ;  $\cos 2\alpha = \frac{1}{9}$  ;  $\tan 2\alpha = -4\sqrt{5}$ .

♦ Exercice 3.d p. 36

$\sin(2x - y) = \frac{24 + 14\sqrt{2}}{75}$ .

♦ Exercice 3.e p. 36

$x$  est un nombre réel différent d'un multiple entier de  $\frac{\pi}{2}$ , donc  $\cos x \neq 0$  et  $\sin x \neq 0$ .

1.  $\frac{\sin 3x}{\sin x} - \frac{\cos 3x}{\cos x} = \frac{\sin 3x \cos x - \cos 3x \sin x}{\sin x \cos x} = \frac{\sin(3x - x)}{\sin x \cos x} = \frac{\sin 2x}{\sin x \cos x} = \frac{2 \sin x \cos x}{\sin x \cos x} = 2$ .  
2. a)  $\frac{\sin 3x}{\sin x} + \frac{\cos 3x}{\cos x} = 4 \cos 2x$       b)  $\frac{\sin 5x}{\sin x} - \frac{\cos 5x}{\cos x} = 4 \cos 2x$ .

Exercice 3.f p. 36

$\cos^2 x = \left(\frac{1 + \cos 2x}{2}\right)^2 = \frac{1}{4}(1 + 2 \cos 2x + \frac{1 + \cos 4x}{2}) = \frac{3}{8} + \frac{1}{2} \cos 2x + \frac{1}{8} \cos 4x$ .  
 $\sin^2 x = \left(\frac{1 - \cos 2x}{2}\right)^2 = \frac{1}{4}(1 - 2 \cos 2x + \frac{1 + \cos 4x}{2}) = \frac{3}{8} - \frac{1}{2} \cos 2x + \frac{1}{8} \cos 4x$ .

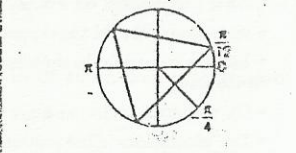
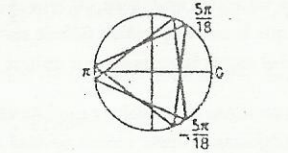
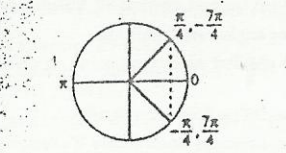
Exercice 3.g p. 36

1.  $1 + \tan^2 x = \frac{\cos^2 x + \sin^2 x}{\cos^2 x} = \frac{1}{\cos^2 x}$ .  
a)  $\sin x = \frac{1}{\sqrt{10}}$  ;  $\cos x = \frac{3}{\sqrt{10}}$       b)  $\sin x = \frac{\sqrt{2 + \sqrt{3}}}{2}$  ;  $\cos x = \frac{\sqrt{2 - \sqrt{3}}}{2}$ .

EQUATIONS TRIGONOMÉTRIQUES

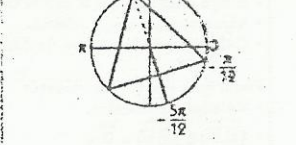
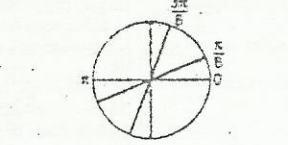
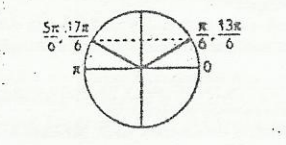
♦ Exercice 4.a p. 41

1.  $x = \frac{\pi}{4} [2\pi]$  ou  $x = -\frac{\pi}{4} [2\pi]$ .  
2.  $x = \frac{5\pi}{18} [\frac{2\pi}{3}]$  ou  $x = -\frac{5\pi}{18} [\frac{2\pi}{3}]$ .  
3.  $x = \frac{\pi}{12} [\frac{2\pi}{3}]$  ou  $x = -\frac{\pi}{4} [2\pi]$ .



♦ Exercice 4.b p. 41

1.  $x = \frac{\pi}{6} [2\pi]$  ou  $x = \frac{5\pi}{6} [2\pi]$ .  
2.  $x = \frac{\pi}{8} [\pi]$  ou  $x = \frac{3\pi}{8} [\pi]$ .  
3.  $x = -\frac{5\pi}{12} [2\pi]$  ou  $x = -\frac{\pi}{36} [\frac{2\pi}{3}]$ .



♦ Exercice 4.c p. 41

$\tan 2x = -\sqrt{3} \Leftrightarrow \tan 2x = \tan(-\frac{\pi}{3})$   
 $\Leftrightarrow x = -\frac{\pi}{6} + k\frac{\pi}{2}$ .

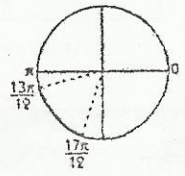
♦ Exercice 4.d p. 41

$\cos x + \sqrt{3} \sin x = \sqrt{2} \Leftrightarrow \cos(x - \frac{\pi}{3}) = \cos \frac{\pi}{4}$   
 $x = \frac{7\pi}{12} [2\pi]$  ou  $x = \frac{\pi}{12} [2\pi]$ .

INÉQUATIONS TRIGONOMÉTRIQUES

♦ Exercice 5.a p. 42

$2\cos(x - \frac{\pi}{4}) + \sqrt{3} < 0 \Leftrightarrow \cos(x - \frac{\pi}{4}) < \cos \frac{5\pi}{6}$ .  
L'ensemble des solutions dans  $\mathbb{R}$  est la réunion des intervalles de la forme :  $] \frac{13\pi}{12} + k2\pi ; \frac{17\pi}{12} + k2\pi [$ ,  $k \in \mathbb{Z}$ .



Exercice 5.b p. 42

On pose :  $\sin x = X$ ; les solutions sont les nombres réels de l'intervalle  $]-\pi; \pi]$  dont le sinus est solution de l'inéquation du second degré :  $2X^2 - \sqrt{3}X \geq 0$ .

$2X^2 - \sqrt{3}X \geq 0 \Leftrightarrow X \leq 0$  ou  $X \geq \frac{\sqrt{3}}{2}$ . Donc :  $S = ]-\pi; 0] \cup [\frac{\pi}{3}; \frac{2\pi}{3}]$ .

Exercice 5.c p. 42

L'inéquation est définie pour :  $x = \frac{\pi}{2} + k\pi, k \in \mathbb{Z}$ .

$\sqrt{3} \tan x + 1 < 0 \Leftrightarrow \tan x < -\frac{1}{\sqrt{3}}$ .

Dans l'intervalle  $]-\pi; \pi]$ ,  $\tan x = -\frac{1}{\sqrt{3}} \Leftrightarrow x = -\frac{\pi}{6}$  ou  $x = \frac{5\pi}{6}$ .

Donc :  $\tan x < -\frac{1}{\sqrt{3}} \Leftrightarrow x \in ]-\frac{\pi}{2}; -\frac{\pi}{6}[ \cup ]\frac{\pi}{2}; \frac{5\pi}{6}[$ .

L'ensemble des solutions dans  $\mathbb{R}$  est la réunion des intervalles de la

forme :  $]\frac{\pi}{2} + k\pi; \frac{5\pi}{6} + k\pi[$ ,  $k \in \mathbb{Z}$ .

Exercice 5.d p. 42

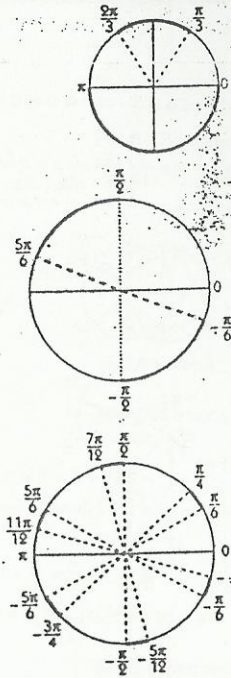
L'inéquation est définie pour  $x = \frac{\pi}{6} + k\frac{\pi}{3}, k \in \mathbb{Z}$ .

$\tan(3x) + 1 \leq 0 \Leftrightarrow \tan(3x) < \tan(-\frac{\pi}{4})$ .

Donc :  $\tan(3x) + 1 \leq 0 \Leftrightarrow 3x \in ]-\frac{\pi}{2}; -\frac{\pi}{4}[ \cup ]\frac{\pi}{2}; \frac{3\pi}{4}[$ .

L'ensemble des solutions dans  $\mathbb{R}$  est la réunion des intervalles de la

forme :  $]\frac{2k+1}{6}\pi; \frac{4k+3}{12}\pi[$ ,  $k \in \mathbb{Z}$ .

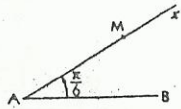


Exercices d'apprentissage

ANGLES ORIENTÉS

Exercice 1 p. 43

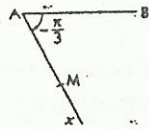
a)  $(\overrightarrow{AB}, \overrightarrow{AM})$  a pour mesure principale  $\frac{\pi}{6}$ . L'ensemble des points M est  $[Ax)$  privée du point A.



c) L'ensemble des points M est la demi-droite  $[Ax)$  contenant B et privée du point A.



b)  $(\overrightarrow{AB}, \overrightarrow{AM})$  a pour mesure principale  $-\frac{\pi}{3}$ . L'ensemble des points M est  $[Ax)$  privée du point A.



d) L'ensemble des points M est le segment  $[AB]$  privé des points A et B.

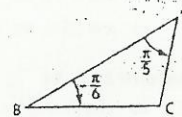


Exercice 2 p. 43

$(\overrightarrow{AB}, \overrightarrow{AC})$  et  $(\overrightarrow{BA}, \overrightarrow{BC})$  ont respectivement pour mesures principales  $\frac{\pi}{5}$  et  $-\frac{\pi}{6}$ .

$(\overrightarrow{BA}, \overrightarrow{AC})$  a pour mesure  $\frac{6\pi}{5}$  ou  $-\frac{4\pi}{5}$ .

$(\overrightarrow{CA}, \overrightarrow{CB})$  a pour mesure  $\frac{19\pi}{30}$ ;  $(\overrightarrow{BA}, \overrightarrow{CA})$  a pour mesure  $\frac{\pi}{5}$ .



Exercice 3 p. 43

On a :  $-\frac{9\pi}{5} = \frac{\pi}{5} \cdot [2\pi]$  et  $\frac{22\pi}{5} = \frac{2\pi}{5} \cdot [2\pi]$ .

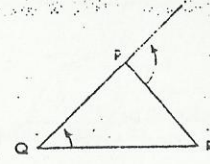
Dans le triangle PQR :  $(\overrightarrow{PQ}, \overrightarrow{PR}) + (\overrightarrow{QR}, \overrightarrow{QP}) + (\overrightarrow{RP}, \overrightarrow{RQ}) = \hat{\pi}$ ;

donc :  $(\overrightarrow{RP}, \overrightarrow{RQ}) = \hat{\pi} - ((\overrightarrow{PQ}, \overrightarrow{PR}) + (\overrightarrow{QR}, \overrightarrow{QP}))$ .

De plus :  $(\overrightarrow{PQ}, \overrightarrow{PR}) = \hat{\pi} - (\overrightarrow{PR}, \overrightarrow{QP})$ ; d'où,  $(\overrightarrow{PQ}, \overrightarrow{PR})$  a pour mesure  $\frac{3\pi}{5}$ .

Donc,  $(\overrightarrow{RP}, \overrightarrow{RQ})$  a pour mesure  $\pi - (\frac{3\pi}{5} + \frac{\pi}{5}) = \frac{\pi}{5}$  et  $(\overrightarrow{RP}, \overrightarrow{RQ}) = (\overrightarrow{QR}, \overrightarrow{QP})$ .

Par suite, le triangle PQR est isocèle de sommet P.



Exercice 4 p. 43

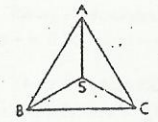
$(\overrightarrow{BC}, \overrightarrow{BA})$  et  $(\overrightarrow{CA}, \overrightarrow{CB})$  ont pour mesure principale  $\frac{\pi}{3}$  ou  $60^\circ$ .

$(\overrightarrow{SA}, \overrightarrow{SB})$  a pour mesure principale  $\frac{2\pi}{3}$  ou  $120^\circ$ .

$(\overrightarrow{SA}, \overrightarrow{BC})$  a pour mesure principale  $-\frac{\pi}{2}$  ou  $-90^\circ$ .

$(\overrightarrow{SA}, \overrightarrow{CA})$  a pour mesure principale  $\frac{\pi}{6}$  ou  $30^\circ$ .

$(\overrightarrow{SA}, \overrightarrow{AB})$  a pour mesure principale  $\frac{5\pi}{6}$  ou  $150^\circ$ .



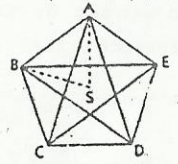
Exercice 5 p. 43

$(\overrightarrow{SA}, \overrightarrow{SB})$  a pour mesure principale  $\frac{2\pi}{5}$  ou  $72^\circ$ .

$(\overrightarrow{AB}, \overrightarrow{AE})$  a pour mesure principale  $\frac{3\pi}{5}$  ou  $108^\circ$ .

$(\overrightarrow{BE}, \overrightarrow{BA})$  et  $(\overrightarrow{CD}, \overrightarrow{CA})$  ont même mesure principale  $\frac{\pi}{5}$  ou  $36^\circ$ .

$(\overrightarrow{BC}, \overrightarrow{DA})$  a pour mesure principale  $\pi$  ou  $180^\circ$ .

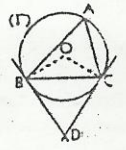


Exercice 6 p. 43

Soit O le centre du cercle (Gamma).

$(\overrightarrow{DB}, \overrightarrow{DC}) = \hat{\pi} - (\overrightarrow{OC}, \overrightarrow{OB}) = \hat{\pi} + (\overrightarrow{OB}, \overrightarrow{OC}) = \hat{\pi} + 2(\overrightarrow{AB}, \overrightarrow{AC})$ .

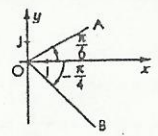
Donc,  $(\overrightarrow{DB}, \overrightarrow{DC})$  a pour mesure  $\pi - 2\alpha$  (ou  $2\alpha - \pi$ ).



Exercice 7 p. 43

Les coordonnées des points A et B sont :

$A \left( \begin{matrix} 3 \cos \frac{\pi}{6} \\ 3 \sin \frac{\pi}{6} \end{matrix} \right)$  et  $B \left( \begin{matrix} 5 \cos(-\frac{\pi}{4}) \\ 5 \sin(-\frac{\pi}{4}) \end{matrix} \right)$ , soit :  $A \left( \begin{matrix} \frac{3\sqrt{3}}{2} \\ \frac{3}{2} \end{matrix} \right)$  et  $B \left( \begin{matrix} \frac{5\sqrt{2}}{2} \\ -\frac{5\sqrt{2}}{2} \end{matrix} \right)$ .



Exercice 8 p. 43

1.  $\sin x = \frac{\sqrt{5}}{5}$ ;  $\cos x = -\frac{2}{\sqrt{5}}$  et  $\tan x = -\frac{1}{2}$ .

2.  $\cos x = -\frac{4}{5}$ ;  $\sin x = \frac{3}{5}$  et  $\tan x = -\frac{3}{4}$ .

3.  $\sin x = -\frac{2}{\sqrt{13}}$ ;  $\cos x = \frac{3}{\sqrt{13}}$  et  $\tan x = -\frac{2}{3}$ .

Exercice 9 p. 43

Soit  $A = (\cos x + \sin x)^2 - (\cos x - \sin x)^2$ ;  $B = (1 + \cos x + \sin x)^2$ ;  $C = \sin^4 x + \cos^4 x$ ;  $D = \sin^6 x + \cos^6 x$ .

$A = \cos^2 x + \sin^2 x + 2 \sin x \cos x - \cos^2 x - \sin^2 x + 2 \sin x \cos x = 4 \sin x \cos x = 2 \sin 2x$ .

$B = 1 + \cos^2 x + \sin^2 x + 2 \sin x + 2 \cos x + 2 \sin x \cos x = 2(1 + \sin x) + 2 \cos x(1 + \sin x) = 2(1 + \sin x)(1 + \cos x)$ .

$C = (\sin^2 x + \cos^2 x)^2 - 2 \sin^2 x \cos^2 x = 1 - 2 \sin^2 x \cos^2 x$ .

$D = (\sin^2 x + \cos^2 x)^3 - 3 \sin^2 x \cos^4 x - 3 \sin^4 x \cos^2 x = 1 - 3 \sin^2 x \cos^2 x (\sin^2 x + \cos^2 x) = 1 - 3 \sin^2 x \cos^2 x$ .

◆ Exercice 10 p. 43

1.  $(\cos x + \sin x)^2 + (\cos x - \sin x)^2 = 1 + 2 \sin x \cos x + 1 - 2 \sin x \cos x = 2$ .

2. a)  $x = \frac{\pi}{2} + k2\pi$  ou  $x = \pi + k2\pi, k \in \mathbb{Z}$     b)  $\begin{cases} \cos x = \frac{1 + \sqrt{7}}{4} \\ \sin x = \frac{\sqrt{7} - 1}{4} \end{cases}$  ou  $\begin{cases} \cos x = \frac{1 - \sqrt{7}}{4} \\ \sin x = -\frac{\sqrt{7} + 1}{4} \end{cases}$

ANGLES ASSOCIÉS

◆ Exercice 11 p. 43

$A = -\cos x$  ;  $B = -\sin x$  ;  $C = \cos x - \sin x$  ;  $D = 0$ .

◆ Exercice 12 p. 43

$\sin(\frac{\pi}{3} + x) - \sin(\frac{\pi}{3} - x) = \frac{\sqrt{3}}{2} \cos x + \frac{1}{2} \sin x - \frac{\sqrt{3}}{2} \cos x + \frac{1}{2} \sin x = \sin x$ .  
 $\cos(\frac{\pi}{3} + x) + \cos(\frac{\pi}{3} - x) = \frac{1}{2} \cos x - \frac{\sqrt{3}}{2} \sin x + \frac{1}{2} \cos x + \frac{\sqrt{3}}{2} \sin x = \cos x$ .

FORMULES DE TRIGONOMETRIE

◆ Exercice 13 p. 43

$\cos^2 \frac{\pi}{8} = \frac{1 + \frac{\sqrt{2}}{2}}{2} = \frac{2 + \sqrt{2}}{4}$  ; donc :  $\cos \frac{\pi}{8} = \frac{\sqrt{2 + \sqrt{2}}}{2}$ .

$\sin^2 \frac{\pi}{8} = \frac{1 - \frac{\sqrt{2}}{2}}{2} = \frac{2 - \sqrt{2}}{4}$  ; donc :  $\sin \frac{\pi}{8} = \frac{\sqrt{2 - \sqrt{2}}}{2}$ .

$\cos \frac{3\pi}{8} = \cos(\frac{\pi}{2} - \frac{\pi}{8}) = \sin \frac{\pi}{8} = \frac{\sqrt{2 - \sqrt{2}}}{2}$  ;  $\sin \frac{3\pi}{8} = \sin(\frac{\pi}{2} - \frac{\pi}{8}) = \cos \frac{\pi}{8} = \frac{\sqrt{2 + \sqrt{2}}}{2}$ .

◆ Exercice 14 p. 43

•  $\cos 3x = 4 \cos^3 x - 3 \cos x$  ;  $\sin 3x = 3 \sin x - 4 \sin^3 x$ .  
 • Pour  $x = \frac{\pi}{6} + k \frac{\pi}{3} (k \in \mathbb{Z})$ ,  $\tan 3x = \frac{3 \sin x - 4 \sin^3 x}{4 \cos^3 x - 3 \cos x} = \tan x \frac{3 - 4 \frac{\tan^2 x}{1 + \tan^2 x}}{1 + \tan^2 x - 3} = \tan x \frac{3 - \tan^2 x}{1 - 3 \tan^2 x}$ .

◆ Exercice 15 p. 43

1.  $A = \cos(\frac{5\pi}{12} - \frac{\pi}{12}) = \frac{1}{2}$  ;  $B = \cos(\frac{5\pi}{12} + \frac{\pi}{12}) = 0$ .  
 2.  $A + B = 2 \cos \frac{\pi}{12} \cos \frac{5\pi}{12} = \frac{1}{2}$  et  $A - B = 2 \sin \frac{\pi}{12} \sin \frac{5\pi}{12} = \frac{1}{2}$  ; donc :  $\cos \frac{\pi}{12} \cos \frac{5\pi}{12} = \sin \frac{\pi}{12} \sin \frac{5\pi}{12} = \frac{1}{4}$ .

◆ Exercice 16 p. 44

Pour  $x \in [0, \frac{\pi}{2}]$ ,  $\sqrt{1 + \sin 4x} = \sqrt{\cos^2 2x + \sin^2 2x + 2 \sin 2x \cos 2x} = \sqrt{(\cos 2x + \sin 2x)^2} = |\cos 2x + \sin 2x|$ .

◆ Exercice 17 p. 44

a)  $\cos x = \frac{1}{2}$  et  $\sin x = \frac{\sqrt{3}}{2}$     b)  $\cos x = -\frac{4}{5}$  et  $\sin x = \frac{3}{5}$   
 c)  $\cos x = -\frac{1}{3}$  et  $\sin x = -\frac{2\sqrt{2}}{3}$     d)  $\cos x = \frac{\sqrt{3} + 1}{2\sqrt{2}}$  et  $\sin x = \frac{\sqrt{3} - 1}{-2\sqrt{2}}$ .

◆ Exercice 18 p. 44

a)  $\cos 2x = \frac{7}{9}$  et  $\sin 2x = \frac{4\sqrt{2}}{9}$     b)  $\cos 2x = -\frac{7}{25}$  et  $\sin 2x = \frac{24}{25}$     c)  $\cos 2x = -\frac{4}{5}$  et  $\sin 2x = -\frac{3}{5}$ .

◆ Exercice 19 p. 44

$A + B = 4$  et  $A - B = 0$  ; donc :  $A = B = 2$ .

◆ Exercice 20 p. 44

Soit  $A = 16 \sin \frac{\pi}{24} \sin \frac{5\pi}{24} \sin \frac{7\pi}{24} \sin \frac{11\pi}{24}$ . On a :  $\frac{11\pi}{24} = \frac{\pi}{2} - \frac{\pi}{24}$  et  $\frac{7\pi}{24} = \frac{\pi}{2} - \frac{5\pi}{24}$ .  
 Donc :  $A = 16 \sin \frac{\pi}{24} \sin \frac{5\pi}{24} \cos \frac{5\pi}{24} \cos \frac{\pi}{24} = 4 \sin \frac{\pi}{12} \sin \frac{5\pi}{12} = 4 \sin \frac{\pi}{12} \cos \frac{\pi}{12} = 2 \sin \frac{\pi}{6} = 1$ .

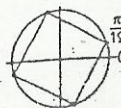
EQUATIONS TRIGONOMETRIQUES

◆ Exercice 21 p. 44

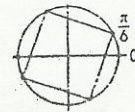
a) (1)  $\Leftrightarrow x = \frac{\pi}{12} + \frac{\pi}{2}$  ou  $x = 0 + \pi$   
 c) (3)  $\Leftrightarrow x = -\frac{11\pi}{6} + 2\pi$  ou  $x = \frac{13\pi}{18} + \frac{2\pi}{3}$

b) (2)  $\Leftrightarrow x = \frac{\pi}{6} + \frac{\pi}{2}$

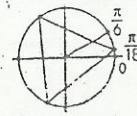
d) (4)  $\Leftrightarrow x = \frac{\pi}{3} + \pi$  ou  $x = \frac{\pi}{3} + \frac{\pi}{2}$



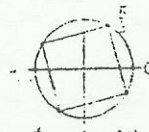
Equation (1)



Equation (2)



Equation (3)



Equation (4)

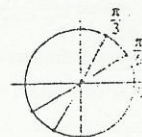
◆ Exercice 22 p. 44

a) (E)  $\Leftrightarrow \begin{cases} \cos x = X \\ -2X^2 + X + 6 = 0 \end{cases} \Leftrightarrow \begin{cases} \cos x = X \\ X = 2 \text{ ou } X = -\frac{3}{2} \end{cases}$ .

Or :  $-1 \leq \cos x \leq 1$  ; donc : l'équation (E) n'a pas de solution.

b) (E)  $\Leftrightarrow \begin{cases} \sin 2x = X \\ X^2 - X\sqrt{3} + \frac{3}{4} = 0 \end{cases} \Leftrightarrow \begin{cases} \sin 2x = X \\ X = 2 \text{ ou } X = \frac{\sqrt{3}}{2} \end{cases}$

$\Leftrightarrow 2x = \frac{\pi}{3} + 2\pi$  ou  $x = \frac{2\pi}{3} + 2\pi \Leftrightarrow x = \frac{\pi}{6} + \pi$  ou  $x = \frac{\pi}{3} + \pi$ .



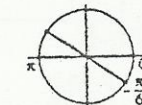
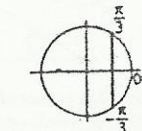
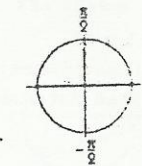
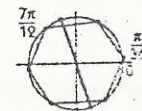
◆ Exercice 23 p. 44

a) (E)  $\Leftrightarrow \cos(4x - \frac{2\pi}{3}) = \cos(2x + \frac{\pi}{2})$  (1)  
 $\Leftrightarrow 4x - \frac{2\pi}{3} = 2x + \frac{\pi}{2} + 2\pi$  ou  $4x - \frac{2\pi}{3} = -2x - \frac{\pi}{2} + 2\pi$   
 $\Leftrightarrow x = \frac{7\pi}{12} + \pi$  ou  $x = \frac{\pi}{36} + \frac{\pi}{3}$ .

b) (E)  $\Leftrightarrow 4\cos^2 x + 12\cos^2 x \sin^2 x = 0$   
 $\Leftrightarrow \cos^2 x (1 + 3 \sin^2 x) = 0$   
 $\Leftrightarrow x = \frac{\pi}{2} + \pi$ .

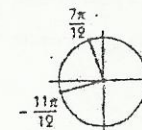
c) (E)  $\Leftrightarrow 4 \cos^2 x + 4 \cos x - 3 = 0$   
 $\Leftrightarrow \begin{cases} \cos x = X \\ (2X - 1)(2X + 3) = 0 \end{cases}$   
 $\Leftrightarrow \cos x = \frac{1}{2} \Leftrightarrow x = \frac{\pi}{3} + 2\pi$  ou  $x = -\frac{\pi}{3} + 2\pi$ .

d) (E)  $\Leftrightarrow 2 \sin x [\cos x - \cos(x + \frac{\pi}{3})] = 0$   
 $\Leftrightarrow \sin x = 0$  ou  $\cos x = \cos(x + \frac{\pi}{3})$   
 $\Leftrightarrow x = 0 + \pi$  ou  $x = -\frac{\pi}{6} + \pi$ .



◆ Exercice 24 p. 44

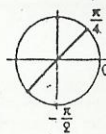
a) (E)  $\Leftrightarrow \cos(x + \frac{\pi}{6}) = \cos \frac{3\pi}{4}$   
 $\Leftrightarrow x + \frac{\pi}{6} = \frac{3\pi}{4} + 2\pi$  ou  $x + \frac{\pi}{6} = -\frac{3\pi}{4} + 2\pi$   
 $\Leftrightarrow x = \frac{7\pi}{12} + 2\pi$  ou  $x = -\frac{11\pi}{12} + 2\pi$ .



$$b) (E_2) \Leftrightarrow \cos\left(2x + \frac{\pi}{4}\right) = \cos\frac{3\pi}{4}$$

$$\Leftrightarrow 2x + \frac{\pi}{4} \equiv \frac{3\pi}{4} [2\pi] \text{ ou } 2x + \frac{\pi}{4} \equiv -\frac{3\pi}{4} [2\pi]$$

$$\Leftrightarrow x \equiv \frac{\pi}{4} [\pi] \text{ ou } x \equiv -\frac{\pi}{2} [\pi].$$



♦ Exercice 25 p. 44

$$a) S = \left\{ \frac{\pi}{8} + k\pi, k \in \mathbb{Z} \right\} \quad b) S = \left\{ -\frac{5\pi}{6}, -\frac{\pi}{6}, \frac{\pi}{6}, \frac{5\pi}{6} \right\} \quad c) S = \left\{ \frac{3\pi}{4}, \frac{2\pi}{3}, \frac{7\pi}{4}, \frac{5\pi}{3} \right\}$$

### INÉQUATIONS TRIGONOMÉTRIQUES

♦ Exercice 26 p. 44

a) L'ensemble des solutions est la réunion des intervalles de la forme :

$$\left] \frac{3\pi}{4} + k.2\pi; \frac{5\pi}{4} + k.2\pi [ (k \in \mathbb{Z}).$$

$$b) (I) \Leftrightarrow \cos 2x \leq \frac{1}{\sqrt{2}} \Leftrightarrow \frac{\pi}{8} + k.\pi \leq x \leq \frac{7\pi}{8} + k.\pi (k \in \mathbb{Z}).$$

L'ensemble des solutions est :  $\left[ \frac{\pi}{8}; \frac{7\pi}{8} \right] \cup \left[ \frac{9\pi}{8}; \frac{15\pi}{8} \right]$ .

$$c) (I) \Leftrightarrow \frac{1}{\sqrt{2}} \sin x - \frac{1}{\sqrt{2}} \cos x \leq 0 \Leftrightarrow \sin\left(x - \frac{\pi}{4}\right) \leq 0$$

$$\Leftrightarrow -\frac{3\pi}{4} + k.2\pi \leq x \leq \frac{\pi}{4} + k.2\pi (k \in \mathbb{Z}).$$

♦ Exercice 27 p. 44

$$a) x \in [0; 2\pi[; -\frac{1}{2} \leq \sin x \leq \frac{\sqrt{2}}{2}.$$

$$\text{Donc : } S = [0; \frac{\pi}{4}] \cup \left[ \frac{3\pi}{4}; \frac{7\pi}{6} \right] \cup \left[ \frac{11\pi}{6}; 2\pi \right].$$

b) L'ensemble des solutions est la réunion des intervalles de la forme :

$$\left[ -\frac{2\pi}{3} + k.2\pi; \frac{\pi}{3} + k.2\pi [ (k \in \mathbb{Z}).$$

$$c) (I) \Leftrightarrow -\frac{2\pi}{3} + k.2\pi \leq 2x < \frac{\pi}{3} + k.2\pi \quad (k \in \mathbb{Z})$$

$$\Leftrightarrow -\frac{\pi}{3} + k.\pi \leq x < \frac{\pi}{6} + k.\pi \quad (k \in \mathbb{Z}).$$

♦ Exercice 28 p. 44

$$a) S = \left\{ -\frac{\pi}{3}; \frac{\pi}{3} \right\} \cup \left\{ \frac{2\pi}{3}; \frac{4\pi}{3} \right\}$$

$$b) S = \left\{ \frac{\pi}{6}; \frac{5\pi}{6} \right\} \cup \left\{ \frac{7\pi}{6}; \frac{11\pi}{6} \right\}$$

♦ Exercice 29 p. 44

$$a) S = ]-\pi; -\frac{3\pi}{4}] \cup \left[ -\frac{\pi}{4}; \frac{3\pi}{4} \right[ \cup ]\frac{3\pi}{4}; \pi[$$

$$b) S = \left[ -\frac{\pi}{2}; \frac{\pi}{6} \right] \cup \left[ \frac{\pi}{2}; \frac{5\pi}{6} \right]$$

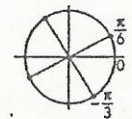
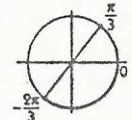
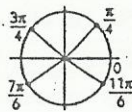
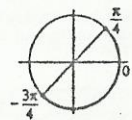
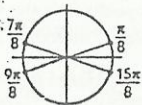
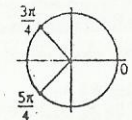
$$c) S = [0; \frac{\pi}{2}] \cup \left[ \frac{5\pi}{6}; \frac{7\pi}{6} \right] \cup \left[ \frac{3\pi}{2}; 2\pi \right[$$

$$d) S = [0; \frac{\pi}{6}] \cup \left[ \frac{5\pi}{6}; \frac{5\pi}{4} \right] \cup \left[ \frac{7\pi}{4}; 2\pi \right[$$

♦ Exercice 30 p. 44

$$a) \frac{\pi}{6} + k.\pi \leq x < \frac{2\pi}{3} + k.\pi (k \in \mathbb{Z})$$

$$b) \begin{cases} \frac{\pi}{4} + k.\pi \leq x < \frac{\pi}{2} + k.\pi (k \in \mathbb{Z}) \\ \text{ou} \\ -\frac{\pi}{2} + k.\pi \leq x < -\frac{\pi}{4} + k.\pi (k \in \mathbb{Z}). \end{cases}$$



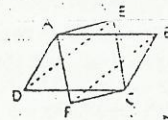
## Exercices d'approfondissement

♦ Exercice 31 p. 45

ABCF et AECF sont deux parallélogrammes :

$$\text{donc : } \vec{EA} = \vec{CF} \text{ et } \vec{AB} = \vec{DC}; \vec{EB} = \vec{EA} + \vec{AB} = \vec{CF} + \vec{DC} = \vec{DF}.$$

$$\text{Par suite : } (\vec{EA}, \vec{EB}) = (\vec{CF}, \vec{DF}) = (\vec{FC}, \vec{FD}).$$



♦ Exercice 32 p. 45

$$1. (\vec{AD}, \vec{AE}) = (\vec{AB}, \vec{AE}) - (\vec{AB}, \vec{AC}) - (\vec{AC}, \vec{AD}).$$

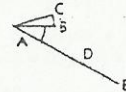
Or :  $-\frac{\pi}{6} - \frac{\pi}{12} - \left(-\frac{\pi}{4}\right) = 0$ . Donc :  $(\vec{AD}, \vec{AE}) = \hat{0}$  et les points A, D, E sont alignés dans cet ordre.  $DE = AE - AD = 1$ .

$$2. A, D, E \text{ alignés} \Leftrightarrow (\vec{AD}, \vec{AE}) = \hat{0} \text{ ou } \pi \Leftrightarrow c - a - b = 0 + k.\pi.$$

Deux cas sont possibles :

$$\bullet \text{ si } a + b = c + k.2\pi : A, D, E \text{ sont alignés dans cet ordre et } DE = AE - AD = 1;$$

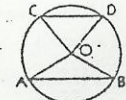
$$\bullet \text{ si } a + b = \pi + c + k.2\pi : D, A, E \text{ sont alignés dans cet ordre et } DE = AE + AD = 5.$$



♦ Exercice 33 p. 45

$$1. (\vec{OA}, \vec{OC}) = (\vec{OA}, \vec{BA}) + (\vec{BA}, \vec{DC}) + (\vec{DC}, \vec{OC}) = (\vec{AB}, \vec{OB}) + (\vec{CB}, \vec{AB}) + (\vec{OD}, \vec{CD})$$

$$(\vec{OA}, \vec{OC}) = (\vec{OD}, \vec{OB})$$



On démontre de même que :  $(\vec{OA}, \vec{OD}) = (\vec{OC}, \vec{OB})$ .

$$2. OAC \text{ équilatéral} \Leftrightarrow (\vec{OA}, \vec{OC}) \text{ a pour mesure } \frac{\pi}{3} \text{ ou } -\frac{\pi}{3} \Leftrightarrow (\vec{OD}, \vec{OB}) \text{ a pour mesure } \frac{\pi}{3} \text{ ou } -\frac{\pi}{3}$$

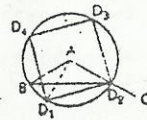
$$\Leftrightarrow OBD \text{ équilatéral (sens contraire à OAB).}$$

♦ Exercice 34 p. 45

Soit D un point et  $\alpha$  une mesure de l'angle  $(\vec{AB}, \vec{AD})$ .

$$\begin{cases} (\vec{AB}, \vec{AD}) = 4(\vec{AB}, \vec{AD}) \\ AB = AD \end{cases} \Leftrightarrow \begin{cases} \alpha = \frac{\pi}{6} \left[ \frac{\pi}{2} \right] \\ AB = AD. \end{cases}$$

Les points D cherchés sont les quatre points  $D_1, D_2, D_3, D_4$  situés sur le cercle de centre A et de rayon AB et formant un carré  $D_1D_2D_3D_4$  dont l'un des sommets est sur [AC] avec  $AB = AD$ .



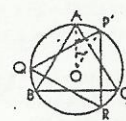
♦ Exercice 35 p. 45

On a :  $OA = OB = OC = OP = OQ = OR$ .

On considère la rotation  $r$  de centre O et d'angle  $(\vec{OA}, \vec{OP})$  telle que :  $r(A) = P$ .

Le triangle PQR est équilatéral de sens direct si et seulement si le triangle PQR est l'image de ABC par cette rotation :

$$\text{c'est-à-dire : si et seulement si } (\vec{OA}, \vec{OP}) = (\vec{OB}, \vec{OQ}) = (\vec{OC}, \vec{OR}).$$



♦ Exercice 36 p. 45

1. Soit  $\alpha$  la mesure de l'angle au centre d'un tel secteur.

$$\text{On a : } \frac{R^2\alpha}{2} = R^2; \text{ donc : } \alpha = 2.$$

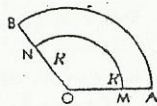
2. Or, pose :  $OM = x$ . Les trajets  $T_1$  et  $T_2$  ont pour mesures respectives :

$$T_1 = R\alpha \text{ et } T_2 = r\alpha + 2(R-x).$$

$$\forall x \in [0; R], T_1 = T_2 \Leftrightarrow \forall x \in [0; R], (\alpha - 2)x - R(\alpha - 2) = 0 \Leftrightarrow \alpha = 2.$$

♦ Exercice 37 p. 45

En utilisant les formules d'addition, on démontre que :



1.  $\sin 5x = 16 \sin^3 x - 20 \sin^2 x + 5 \sin x$ .

2.  $\sin 5x = 0 \Leftrightarrow x = \frac{\pi}{5} \left[ \frac{\pi}{5} \right]$ . Donc,  $\frac{\pi}{5}$  et  $\frac{2\pi}{5}$  sont des solutions de cette équation.

3.  $16 X^3 - 20 X^2 + 5X = 0 \Leftrightarrow X = 0$  ou  $X = \pm \sqrt{\frac{5 \pm \sqrt{5}}{8}}$  ou  $X = \pm \sqrt{\frac{5 + \sqrt{5}}{8}}$ .

4.  $\sin 5x = 0 \Leftrightarrow \begin{cases} \sin x = X \\ 16 X^3 - 20 X^2 + 5X = 0 \end{cases}$ . De plus:  $\sin \frac{2\pi}{5} > \sin \frac{\pi}{5} > 0$ .

Donc:  $\sin \frac{2\pi}{5} = \sqrt{\frac{5 + \sqrt{5}}{8}}$  et  $\sin \frac{\pi}{5} = \sqrt{\frac{5 - \sqrt{5}}{8}}$ .

◆ Exercice 38 p. 45

1. On a bien:  $\cos 5x = \cos x (16 \cos^4 x - 20 \cos^2 x + 5)$   
 $(1 - \cos x)(4 \cos^2 x + 2 \cos x - 1)^2 = 1 - \cos 5x$ .

2.  $\forall \cos 5x = 1 \Leftrightarrow 5x = 0 [2\pi] \Leftrightarrow x = 0 \left[ \frac{2\pi}{5} \right]$ .

b) D'autre part, d'après la question 1.:

$\cos 5x = 1 \Leftrightarrow \cos x = 1$  ou  $4 \cos^2 x + 2 \cos x - 1 = 0$

$\Leftrightarrow \cos x = 1$  ou  $\cos x = \frac{\sqrt{5} - 1}{4}$  ou  $\cos x = -\frac{\sqrt{5} + 1}{4}$ .

On a:  $\cos \frac{4\pi}{5} \leq 0 \leq \cos \frac{2\pi}{5}$ ; donc:  $\cos \frac{2\pi}{5} = \frac{\sqrt{5} - 1}{4}$  et  $\cos \frac{4\pi}{5} = -\frac{\sqrt{5} + 1}{4}$ .

Il en plus:  $\frac{\pi}{5} = \pi - \left(\frac{4\pi}{5}\right)$ ; donc:  $\cos \frac{\pi}{5} = \frac{\sqrt{5} + 1}{4}$ .

◆ Exercice 39 p. 45

Soit  $a$  le côté de chaque carré. On a:  $(\alpha, \beta, \gamma) \in [0, \frac{\pi}{2}]^3$  et  $\cos \alpha = \frac{1}{\sqrt{2}}$ .

En plus:  $\cos(\beta + \gamma) = \cos \beta \cos \gamma - \sin \beta \sin \gamma = \frac{2}{\sqrt{2}} \times \frac{3}{\sqrt{10}} - \frac{1}{\sqrt{5}} \times \frac{1}{\sqrt{10}} = \frac{1}{\sqrt{2}}$ . Donc:  $\alpha = \beta + \gamma$ .

◆ Exercice 40 p. 45

1.  $r = \sqrt{a^2 + b^2}$  et  $\varphi \in [0, 2\pi]$ , avec:  $\cos \varphi = \frac{a}{\sqrt{a^2 + b^2}}$  et  $\sin \varphi = \frac{b}{\sqrt{a^2 + b^2}}$ .

2. a)  $\begin{cases} x \cos t + y \sin t = a \\ -x \sin t + y \cos t = b \end{cases} \Leftrightarrow \begin{cases} x = a \cos t - b \sin t = r \cos(t + \varphi) \\ y = a \sin t + b \cos t = r \sin(t + \varphi) \end{cases}$ .

c)  $OM^2 = x^2 + y^2 = a^2 + b^2$ ; donc,  $M$  décrit le cercle de centre  $O$  et de rayon  $r = \sqrt{a^2 + b^2}$ ; si  $a^2 + b^2 = 4$ , on obtient le cercle de centre  $O$  et de rayon 2.

◆ Exercice 41 p. 45

1. On a:  $\cos(x + y) = \cos x \cos y - \sin x \sin y$  (1) et  $\cos(x - y) = \cos x \cos y + \sin x \sin y$  (2).

De (1) et (2), on déduit:

$\cos x \cos y = \frac{1}{2} [\cos(x + y) + \cos(x - y)]$  et  $\sin x \sin y = -\frac{1}{2} [\cos(x + y) - \cos(x - y)]$ .

Donc:  $(S) \Leftrightarrow \begin{cases} \cos(x + y) = \frac{1}{2} \\ \cos(x - y) = \frac{\sqrt{3}}{2} \end{cases}$ .

2.  $x + y \in [0, 2\pi]$  et  $x - y \in [-\pi, \pi]$ ; donc, il y a quatre cas possibles:

(1)  $\begin{cases} x + y = \frac{\pi}{3} \\ x - y = \frac{\pi}{6} \end{cases}$  (2)  $\begin{cases} x + y = \frac{\pi}{3} \\ x - y = -\frac{\pi}{6} \end{cases}$  (3)  $\begin{cases} x + y = \frac{5\pi}{3} \\ x - y = \frac{\pi}{6} \end{cases}$  (4)  $\begin{cases} x + y = \frac{5\pi}{3} \\ x - y = -\frac{\pi}{6} \end{cases}$

Soit: (1)  $\begin{cases} x = \frac{\pi}{4} \\ y = \frac{\pi}{12} \end{cases}$  (2)  $\begin{cases} x = \frac{\pi}{12} \\ y = \frac{\pi}{4} \end{cases}$  (3)  $\begin{cases} x = \frac{11\pi}{12} \\ y = \frac{3\pi}{4} \end{cases}$  (4)  $\begin{cases} x = \frac{3\pi}{4} \\ y = \frac{11\pi}{12} \end{cases}$ .

◆ Exercice 42 p. 45

1. a)  $(1 + \sqrt{2})^2 = 3 + 2\sqrt{2}$ ; donc:  $\sqrt{3 + 2\sqrt{2}} = 1 + \sqrt{2}$ .

b)  $X = -\frac{1}{2}$  ou  $X = \frac{\sqrt{2}}{2}$  c)  $X < -\frac{1}{2}$  ou  $X > \frac{\sqrt{2}}{2}$ .

2. On a:  $\cos x = -\frac{1}{2}$  ou  $\cos x = \frac{\sqrt{2}}{2}$ .

Donc:  $x = \frac{2\pi}{3} + k.2\pi$ ;  $x = -\frac{2\pi}{3} + k.2\pi$ ;  $x = \frac{\pi}{4} + k.2\pi$ ;  $x = -\frac{\pi}{4} + k.2\pi$  ( $k \in \mathbb{Z}$ ).

3. On a:  $\cos x < -\frac{1}{2}$  ou  $\cos x > \frac{\sqrt{2}}{2}$ .

Ainsi  $S = ]-\pi; -\frac{2\pi}{3}[ \cup ]-\frac{\pi}{4}; \frac{\pi}{4}[ \cup ]\frac{2\pi}{3}; \pi[$ .

◆ Exercice 43 p. 46

1. Les aires du triangle, OIM, du secteur circulaire (OIM) et du triangle OIT sont respectives égales à  $\sin \alpha$ ,  $\alpha$  et  $\tan \alpha$ .

Donc, dans l'intervalle  $]0; \frac{\pi}{2}[$ :  $\sin \alpha \leq \alpha \leq \tan \alpha$  et  $\sin \alpha < \alpha < \tan \alpha$ .

2. En posant  $\alpha = x$  et en divisant les termes de la double inégalité par  $x$ , on obtient:  $\frac{\sin x}{x} < 1 < \frac{\tan x}{x}$ .

En divisant la dernière inégalité par  $\frac{\sin x}{x}$  et en inversant les rapports, on obtient:  $\cos x < \frac{\sin x}{x}$ .

◆ Exercice 44 p. 46

1. Soit  $\alpha$  une mesure de l'angle  $(\overrightarrow{OI}, \overrightarrow{CA})$ .

$\cos \alpha = \frac{OP}{OA} = \frac{OQ}{OP} = -\frac{1}{4} + \frac{\sqrt{5}}{4} = \frac{\sqrt{5} - 1}{4}$ ;  $\cos 2\alpha = 2 \cos^2 \alpha - 1 = -\frac{\sqrt{5} + 1}{4}$ .

2.  $\cos \beta = \frac{OQ}{OQ} = \frac{OQ}{OQ} = -\frac{1}{4} - \frac{\sqrt{3}}{4} = -\frac{\sqrt{3} + 1}{4}$ .

Donc:  $\cos \beta = \cos 2\alpha$ , avec  $(\beta, 2\alpha) \in [0, \pi]^2$ ; donc:  $\hat{\beta} = 2\hat{\alpha}$ .

3.  $(\overrightarrow{OB}, \overrightarrow{OQ}) = (\overrightarrow{OI}, \overrightarrow{OQ}) - (\overrightarrow{OI}, \overrightarrow{OB}) = \alpha - \beta$ .

Donc:  $\cos \gamma = -\cos \beta = \frac{\sqrt{5} + 1}{4}$  et  $\cos 2\gamma = 2 \cos^2 \gamma - 1 = \frac{\sqrt{5} - 1}{4} = \cos \alpha$ . Donc:  $(\overrightarrow{OB}, \overrightarrow{OC}) = (\overrightarrow{OI}, \overrightarrow{OA})$ .

D'après ce qui précède et les propriétés de symétrie de la figure, IABCD est un pentagone régulier.

◆ Exercice 45 p. 46

1. On a:  $\sin \alpha = \frac{\sqrt{3}}{OA}$  et  $\cos \alpha = \frac{1}{OB}$ , donc:  $OA = \frac{\sqrt{3}}{\sin \alpha}$ ;  $OB = \frac{1}{\cos \alpha}$ ;  $AB = \frac{\sqrt{3}}{\sin \alpha} + \frac{1}{\cos \alpha}$ .

2. On pose:  $AB = f(\alpha)$ .

$f(\alpha) = \frac{4 \left( \frac{\sqrt{3}}{2} \cos \alpha + \frac{1}{2} \sin \alpha \right)}{2 \sin \alpha \cos \alpha} = \frac{4 \cos \left( \alpha - \frac{\pi}{6} \right)}{\sin 2\alpha}$ .

3. a)  $AB = 4 \Leftrightarrow \cos \left( \alpha - \frac{\pi}{6} \right) = \cos \left( \frac{\pi}{2} - 2\alpha \right) \Leftrightarrow \alpha - \frac{\pi}{6} = \frac{\pi}{2} - 2\alpha$  ou  $\alpha - \frac{\pi}{6} = -\left( \frac{\pi}{2} - 2\alpha \right)$ .

Donc:  $\alpha = \frac{2\pi}{9}$  ou  $\alpha = \frac{\pi}{3}$ .

b)  $OA = OB \Leftrightarrow \frac{\sqrt{3}}{\sin \alpha} = \frac{1}{\cos \alpha} \Leftrightarrow \tan \alpha = \sqrt{3} \Leftrightarrow \alpha = \frac{\pi}{3}$ .

◆ Exercice 46

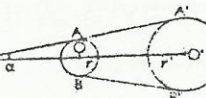
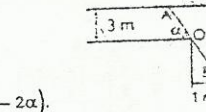
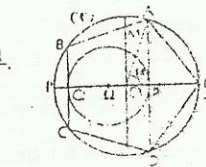
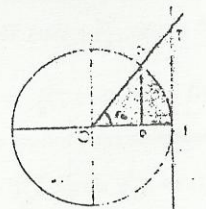
1.  $\sin \alpha = \frac{r'}{IO} = \frac{r}{IO} = \frac{r' - r}{d}$ ,  $\cos 2\alpha = 1 - 2 \sin^2 \alpha = \frac{d^2 - 2(r' - r)^2}{d^2}$ .

2. a)  $\cos \alpha = \frac{IA'}{IO} = \frac{IA}{IO} = \frac{AA'}{d}$ ; donc:  $\hat{AA}' = d \cos \alpha$ .

b) Les angles  $\widehat{AOB}$  et  $\widehat{A'OB'}$  ont pour mesure:  $\pi - 2\alpha$ . Donc, le petit arc  $\widehat{AB}$  a pour mesure  $\pi - 2\alpha$  et pour longueur:  $l = r(\pi - 2\alpha)$ . Le grand arc  $\widehat{A'B'}$  a pour mesure  $\pi + 2\alpha$  et pour longueur:  $l' = r'(\pi + 2\alpha)$ .

c) Donc:  $L = 2d \cos \alpha + r(\pi - 2\alpha) + r'(\pi + 2\alpha) = 2d \cos \alpha + \pi(r' + r) + 2\alpha(r' - r)$ .

3. Pour  $r = 5$  cm,  $r' = 10$  cm et  $d = 45$  cm, on trouve:  $\alpha = 0.11$  radian et  $L = 137.68$  cm.



### 3. Géométrie analytique du plan

(pages 47 à 60 du livre de l'élève)

#### OBJECTIFS

Mettre à la disposition des élèves de nouveaux outils pour la résolution analytique de problèmes de Géométrie :

- équations normales de droites ;
- distance d'un point à une droite ;
- représentation paramétrique d'un cercle dans un repère orthonormé.

#### COMMENTAIRES

• Ce chapitre fait suite au chapitre « Droites et cercles du plan », vu en classe de Seconde. Seule la notion d'angle orienté est nécessaire avant de l'aborder.

• La nature des notions traitées dans ce chapitre doit permettre au professeur de mettre le plus possible les élèves en situation de recherche.

• Les nouveaux outils acquis dans ce chapitre permettent un choix pour la résolution de certains problèmes :

- par exemple, pour déterminer l'intersection d'une droite et d'un cercle, les calculs seront simplifiés en utilisant une représentation paramétrique pour l'un de ces ensembles et une équation cartésienne pour l'autre ;

- par contre, l'utilisation de deux représentations paramétriques impose deux paramètres distincts et, donc, des difficultés supplémentaires.

#### SAVOIRS ET SAVOIR-FAIRE

##### savoirs

##### Orthogonalité et droites du plan

- Droite définie par un point et un vecteur normal.
- Coordonnées d'un vecteur normal à une droite.
- Équation normale d'une droite.
- Expression analytique de la distance d'un point à une droite.

##### Cercles

- Représentation paramétrique d'un cercle défini par son centre et son rayon.

##### savoir-faire

##### • Déterminer une équation normale de droite :

- connaissant un vecteur normal unitaire et un point ;
- connaissant une équation cartésienne de cette droite.

##### • Reconnaître une équation normale de droite.

##### • Calculer la distance d'un point à une droite.

##### • Déterminer une représentation paramétrique d'un cercle :

- défini par son centre et son rayon ;
- défini par un diamètre.

##### • Passer d'une représentation paramétrique d'un cercle à une équation cartésienne et vice-versa.

##### • Utiliser la représentation paramétrique d'un cercle pour déterminer la position relative d'une droite et d'un cercle (points d'intersection, tangente en un point, ...).

#### EXERCICES DU MANUEL

##### ☐ Exercices du cours

##### ♦ Exercice 1.a p. 53

- Les vecteurs normaux à (2) sont les vecteurs de la forme  $\lambda \vec{n}$ , où  $\vec{n} = \begin{pmatrix} 2 \\ -3 \end{pmatrix}$  et  $\lambda$  est un nombre réel non nul.
- Les vecteurs directeurs de (2) sont les vecteurs de la forme  $\lambda \vec{u}$ , où  $\vec{u} = \begin{pmatrix} 3 \\ 2 \end{pmatrix}$  et  $\lambda$  est un nombre réel non nul.

##### ♦ Exercice 1.b p. 53

Une équation de (2) est :  $3x + 2y - 12 = 0$ .

##### ♦ Exercice 1.c p. 53

1. On a :  $4 \times 9 + 6 \times (-6) = 0$  ; donc : (2) et (2') sont perpendiculaires.

2. Les équations normales de (2) sont :  $\frac{2}{\sqrt{13}}x + \frac{3}{\sqrt{13}}y + \frac{1}{\sqrt{13}} = 0$  et  $-\frac{2}{\sqrt{13}}x - \frac{3}{\sqrt{13}}y - \frac{1}{\sqrt{13}} = 0$ .

Les équations normales de (2') sont :  $\frac{3}{\sqrt{13}}x - \frac{2}{\sqrt{13}}y + \frac{2}{3\sqrt{13}} = 0$  et  $-\frac{3}{\sqrt{13}}x + \frac{2}{\sqrt{13}}y - \frac{2}{3\sqrt{13}} = 0$ .

##### ♦ Exercice 1.d p. 53

Des équations des hauteurs relatives aux sommets A, B et C sont respectivement :  $2x + y - 6 = 0$ ,  $y - 2 = 0$  et  $3x - y - 4 = 0$ .

Les coordonnées de l'orthocentre H du triangle ABC vérifient les équations de deux des hauteurs de ce triangle, par exemple, le système :

$$\begin{cases} 2x + y - 6 = 0 \\ y - 2 = 0 \end{cases} \text{ On en déduit : } H\left(\frac{2}{3}\right).$$

##### ♦ Exercice 1.e p. 53

$$\text{On a : } d(A, \mathcal{C}) = \frac{|7 \times 3 - 1 + 6|}{\sqrt{7^2 + 1^2}} = \frac{13\sqrt{2}}{5}.$$

##### ♦ Exercice 1.f p. 53

$$1. \text{ Une équation normale de } (\mathcal{D}) \text{ est : } \frac{5}{13}x + \frac{12}{13}y - \frac{22}{13} = 0 \quad 2. d(B, \mathcal{D}) = \left| \frac{5}{13} \times 5 + \frac{12}{13} \times 3 - \frac{22}{13} \right| = 3.$$

##### ♦ Exercice 2.a p. 57

On a la représentation paramétrique du cercle de centre  $M\left(\frac{3}{2}\right)$  et de rayon 5.

##### ♦ Exercice 2.b p. 57

L'ensemble admet pour représentation paramétrique :  $\begin{cases} x = 2 + 5 \cos \theta \\ y = 5 \sin \theta \end{cases} (\theta \in \mathbb{R})$ .

C'est le cercle de centre  $C\left(\frac{2}{0}\right)$  et de rayon 5.

##### ♦ Exercice 2.c p. 57

Une équation cartésienne de (C) est :  $x^2 + y^2 - 4 = 0$ .

##### ♦ Exercice 2.d p. 57

Une représentation paramétrique de (C) est :  $\begin{cases} x = \sqrt{5} \cos \theta \\ y = \sqrt{5} \sin \theta \end{cases} (\theta \in \mathbb{R})$ .

##### ♦ Exercice 2.e p. 57

Une équation cartésienne de (C) est :  $x^2 + y^2 + 4x - 2y - 4 = 0$ .

##### ♦ Exercice 2.f p. 57

Une représentation paramétrique de (C) est :  $\begin{cases} x = \frac{1}{4} + \frac{\sqrt{10}}{4} \cos \theta \\ y = -\frac{3}{4} + \frac{\sqrt{10}}{4} \sin \theta \end{cases} (\theta \in \mathbb{R})$ .

##### ♦ Exercice 2.g p. 57

Une représentation paramétrique du cercle de centre A et passant par B est :  $\begin{cases} x = -1 + \sqrt{10} \cos \theta \\ y = 1 + \sqrt{10} \sin \theta \end{cases} (\theta \in \mathbb{R})$ .

##### ♦ Exercice 2.h p. 57

Une représentation paramétrique du cercle diamètre AB est :  $\begin{cases} x = -\frac{1}{2} + \frac{5\sqrt{5}}{4} \cos \theta \\ y = \frac{3}{4} + \frac{5\sqrt{5}}{4} \sin \theta \end{cases} (\theta \in \mathbb{R})$ .

## Exercices d'apprentissage

### Exercice 1 p. 58

Dans chacun des cas, on écrit que le point  $M\left(\begin{smallmatrix} x \\ y \end{smallmatrix}\right)$  appartient à la droite si et seulement si :  $\vec{AM} \cdot \vec{n} = 0$ .  
On obtient : a)  $\sqrt{2}x + \sqrt{3}y - 3\sqrt{2} + \sqrt{3} = 0$  ; b)  $x - 4 = 0$  ; c)  $y - 2 = 0$ .

### Exercice 2 p. 58

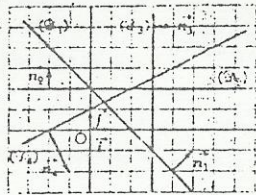
On se contente ici de donner, dans chacun des cas, les coordonnées d'un vecteur normal à la droite :

a)  $\begin{pmatrix} 7 \\ -5 \end{pmatrix}$  ; b)  $\begin{pmatrix} 1 \\ 0 \end{pmatrix}$  ; c)  $\begin{pmatrix} 3 \\ 2 \end{pmatrix}$  ; d)  $\begin{pmatrix} 0 \\ 1 \end{pmatrix}$  ; e)  $\begin{pmatrix} -5 \\ -3 \end{pmatrix}$  ; f)  $\begin{pmatrix} 1 \\ 0 \end{pmatrix}$  ; g)  $\begin{pmatrix} 3 \\ 2 \end{pmatrix}$  ; h)  $\begin{pmatrix} 2 \\ -1 \end{pmatrix}$ .

### Exercice 3 p. 58

On peut choisir, pour chacune des droites  $(\mathcal{D}_1)$ ,  $(\mathcal{D}_2)$ ,  $(\mathcal{D}_3)$  et  $(\mathcal{D}_4)$ , les vecteurs normaux respectifs :

$\vec{n}_1 = \vec{i} + \vec{j}$ ,  $\vec{n}_2 = \vec{j}$ ,  $\vec{n}_3 = \vec{i}$  et  $\vec{n}_4 = \vec{i} - 2\vec{j}$ .



### Exercice 4 p. 58

$(\mathcal{D})$  passe par le point  $A\left(\begin{smallmatrix} 3 \\ -2 \end{smallmatrix}\right)$  et admet pour vecteur normal tout vecteur directeur de  $(\Delta)$ , par exemple le  $\vec{n}\left(\begin{smallmatrix} 1 \\ 1 \end{smallmatrix}\right)$ .

Une équation cartésienne de  $(\mathcal{D})$  est donc :  $(x - 3) + (y + 2) = 0 \Leftrightarrow x + y - 1 = 0$ .

### Exercice 5 p. 58

1. Une équation cartésienne de  $(\mathcal{D}_1)$  est :  $2(x - 3) - 5(y + 2) = 0 \Leftrightarrow 2x - 5y - 16 = 0$ .

2.  $(\mathcal{D}_2)$  admet le vecteur  $\vec{u}\left(\begin{smallmatrix} 5 \\ 2 \end{smallmatrix}\right)$  pour vecteur normal.

Donc une équation cartésienne de  $(\mathcal{D}_2)$  est :  $5(x - 3) + 2(y + 2) = 0 \Leftrightarrow 5x + 2y - 11 = 0$ .

### Exercice 6 p. 58

Tout vecteur normal à  $(\mathcal{D})$  est de la forme  $\lambda\vec{n}$ , où  $\lambda$  est un nombre réel non nul et  $\vec{n}\left(\begin{smallmatrix} 2 \\ 6 \end{smallmatrix}\right)$ .

On a :  $\|\lambda\vec{n}\| = 4 \Leftrightarrow |\lambda| \|\vec{n}\| = 4 \Leftrightarrow |\lambda| = \frac{2}{\sqrt{10}} \Leftrightarrow \lambda = \frac{2}{\sqrt{10}}$  ou  $\lambda = -\frac{2}{\sqrt{10}}$ .

Les vecteurs normaux à  $(\mathcal{D})$  de norme égale à 4 sont donc :  $\vec{n}_1\left(\begin{smallmatrix} \frac{4}{\sqrt{10}} \\ \frac{12}{\sqrt{10}} \end{smallmatrix}\right)$  et  $\vec{n}_2\left(\begin{smallmatrix} -\frac{4}{\sqrt{10}} \\ -\frac{12}{\sqrt{10}} \end{smallmatrix}\right)$ .

### Exercice 7 p. 58

1. Les vecteurs unitaires normaux à  $(\mathcal{D})$  sont :  $\vec{n}_1\left(\begin{smallmatrix} \frac{3}{5} \\ -\frac{4}{5} \end{smallmatrix}\right)$  et  $\vec{n}_2\left(\begin{smallmatrix} -\frac{3}{5} \\ \frac{4}{5} \end{smallmatrix}\right)$ .

2. Les équations normales de  $(\mathcal{D})$  sont :  $\frac{3}{5}x - \frac{4}{5}y + \frac{7}{5} = 0$  et  $-\frac{3}{5}x + \frac{4}{5}y - \frac{7}{5} = 0$ .

### Exercice 8 p. 58

a)  $d(A, \Delta) = \frac{|2 \times (-2) + 1 - 3|}{\sqrt{2^2 + 1}} = \frac{6}{\sqrt{5}}$  ; b)  $d(A, \Delta) = \frac{|2 \times (-1) - 5|}{\sqrt{2^2}} = \frac{7}{2}$  ; c)  $d(A, \Delta) = \frac{|2 \times \sqrt{2} - \sqrt{2} + 3|}{\sqrt{2^2 + 1}} = \frac{3 + \sqrt{2}}{\sqrt{5}}$ .

### Exercice 9 p. 58

a)  $d(A, \mathcal{D}) = \sqrt{34}$  et  $A'\left(\begin{smallmatrix} -1 \\ 1 \end{smallmatrix}\right)$  ; b)  $d(A, \mathcal{D}) = 0$  et  $A' = A$  ; c)  $d(A, \mathcal{D}) = \frac{1}{3}$  et  $A'\left(\begin{smallmatrix} 1 \\ 13/3 \end{smallmatrix}\right)$ .

### Exercice 10 p. 58

Une équation de la médiatrice de  $[BC]$  est :  $8x + 2y - 11 = 0$ .

### Exercice 11 p. 58

Soit  $M\left(\begin{smallmatrix} x \\ y \end{smallmatrix}\right)$  un point du plan.

On a :  $M \in (\Gamma) \Leftrightarrow \frac{|3x - y|}{\sqrt{10}} + \frac{|3x + y|}{\sqrt{10}} = 4 \Leftrightarrow |3x - y| + |3x + y| = 4\sqrt{10}$ . (1)

Les droites  $(\mathcal{D})$  et  $(\mathcal{D}')$  partagent le plan en quatre régions  $(E_1)$ ,  $(E_2)$ ,  $(E_3)$  et  $(E_4)$  (cf. figure ci-jointe).

Si  $M$  appartient à  $(E_1)$ , frontière comprise,  $M$  est situé au dessous de  $(\mathcal{D})$  et au-dessus de  $(\mathcal{D}')$ . On a donc :  $3x - y \geq 0$  et  $3x + y \geq 0$ .

On en déduit : (1)  $\Leftrightarrow 6x = 4\sqrt{10}$ .

Dans  $(E_1)$ ,  $(\Gamma)$  coïncide donc avec la droite d'équation  $x = \frac{2\sqrt{10}}{3}$ .

Par un raisonnement analogue, on a :

$M \in (E_2) \Leftrightarrow 3x - y \leq 0$  et  $3x + y \geq 0$ .

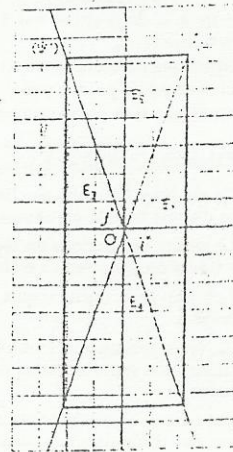
Dans  $(E_2)$ ,  $(\Gamma)$  coïncide donc avec la droite d'équation  $y = 2\sqrt{10}$ .

$M \in (E_3) \Leftrightarrow 3x - y \leq 0$  et  $3x + y \leq 0$ .

Dans  $(E_3)$ ,  $(\Gamma)$  coïncide donc avec la droite d'équation  $x = -\frac{2\sqrt{10}}{3}$ .

$M \in (E_4) \Leftrightarrow 3x - y \geq 0$  et  $3x + y \leq 0$ . Dans  $(E_4)$ ,  $(\Gamma)$  coïncide donc avec la droite d'équation  $y = -2\sqrt{10}$ .

L'ensemble  $(\Gamma)$  est donc la réunion de quatre segments formant les côtés d'un rectangle.



### Exercice 12 p. 58

On a :  $\vec{AB}\left(\begin{smallmatrix} 1 \\ -4 \end{smallmatrix}\right)$  et  $\vec{CB}\left(\begin{smallmatrix} 6 \\ 2 \end{smallmatrix}\right)$  ne sont pas colinéaires ; donc, A, B et C ne sont pas alignés.

La hauteur issue de A dans le triangle ABC a pour équation :  $6(x - 3) + 2(y - 5) = 0 \Leftrightarrow 3x + y - 14 = 0$ .

La hauteur issue de B dans le triangle ABC a pour équation :  $5(x - 4) + 6(y - 1) = 0 \Leftrightarrow 5x + 6y - 26 = 0$ .

Les coordonnées de H, orthocentre du triangle ABC, sont les solutions du système :  $\begin{cases} 3x + y = 14 \\ 5x + 6y = 26 \end{cases}$

Donc, H a pour coordonnées  $\left(\frac{56}{13} ; \frac{8}{13}\right)$ .

### Exercice 13 p. 59

$\vec{AB}\left(\begin{smallmatrix} 1 \\ -4 \end{smallmatrix}\right)$  et  $\vec{CB}\left(\begin{smallmatrix} 6 \\ 2 \end{smallmatrix}\right)$  ne sont pas colinéaires ; donc, A, B et C ne sont pas alignés.

Une équation cartésienne de la médiatrice de  $[BC]$  est :  $3x + y - 3 = 0$ .

Une équation cartésienne de la médiatrice de  $[AB]$  est :  $x - 4y + \frac{17}{2} = 0$ .

Les coordonnées de  $\Omega$ , centre du cercle circonscrit au triangle ABC, sont les solutions du système :

$\begin{cases} x - 4y + \frac{17}{2} = 0 \\ 3x + y - 3 = 0 \end{cases}$ . Donc,  $\Omega$  a pour coordonnées  $\left(\frac{7}{26} ; \frac{57}{26}\right)$ .

### Exercice 14 p. 59

$M \in [AB]$ , donc les coordonnées de  $M$  sont  $(\lambda, 0)$ , avec  $\lambda \in [-4 ; 4]$ .

$(AC)$  et  $(BC)$  ont pour équations cartésiennes respectives :  $5x - 4y + 20 = 0$  et  $5x + 4y - 20 = 0$ .

Donc :  $d(M, (AC)) = \frac{5|\lambda + 4|}{\sqrt{41}}$  ;  $d(M, (BC)) = \frac{5|\lambda - 4|}{\sqrt{41}}$ . Or :  $-4 \leq \lambda \leq 4$  ; par suite :  $d(M, (AC)) + d(M, (BC)) = \frac{40}{\sqrt{41}}$ .

### Exercice 15 p. 59

On a :  $A\left(\begin{smallmatrix} 2 \\ 3 \end{smallmatrix}\right)$ ,  $B\left(\begin{smallmatrix} 5 \\ 4 \end{smallmatrix}\right)$  et  $C\left(\begin{smallmatrix} -2 \\ 1 \end{smallmatrix}\right)$  ; on en déduit les équations des droites  $(AO)$  et  $(AC)$  :

$(AO) : 3x - 2y = 0$  ;  $(AC) : x - 2y + 4 = 0$ . d'où :  $d(B, (AO)) = \frac{5}{2\sqrt{13}}$  et  $d(B, (AC)) = \frac{3}{2\sqrt{5}}$ .

On a :  $d(B, (AO)) \neq d(B, (AC))$  ; donc la droite  $(AB)$  n'est pas la bissectrice de l'angle  $\widehat{AOC}$ .

### Exercice 16 p. 59

On a :  $BC = \sqrt{(2 + 1)^2 + (-3 - 5)^2} = \sqrt{73}$ . Soit  $H\left(\begin{smallmatrix} x \\ y \end{smallmatrix}\right)$  le pied de la hauteur issue de A. On a :

$$\vec{AH} \perp \vec{BC} \Leftrightarrow \vec{AH} \cdot \vec{BC} = 0 \Leftrightarrow 3(x-1) - 8(y-2) = 0 \Leftrightarrow 3x - 8y = -13.$$

$$H \in (BC) \Leftrightarrow \det(\vec{BH}, \vec{BC}) = 0 \Leftrightarrow 8x + 3y = 7.$$

$$\text{Le système } \begin{cases} 3x - 8y = -13 \\ 8x + 3y = 7 \end{cases} \text{ a une solution unique : } x = \frac{17}{73}, y = \frac{125}{73}.$$

$$\text{Donc : } AH = \frac{7}{\sqrt{73}} \text{ et Aire}(ABC) = \frac{1}{2} \times BC \times AH = \frac{7}{2}.$$

Si on a fait avec les élèves le TD n°2 § 1.3., on peut vérifier le résultat à l'aide de l'égalité :

$$\text{Aire}(ABC) = \frac{1}{2} \times |\det(\vec{AB}, \vec{AC})|; \text{ mais cette égalité ne constitue pas un savoir exigible.}$$

#### ◆ Exercice 17 p. 59

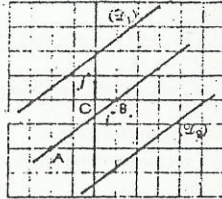
Pour tout point  $M \begin{pmatrix} x \\ y \end{pmatrix}$  du plan :  $\det(\vec{AB}, \vec{AM}) = -2x + 3y + 2$ .

Le point  $M \begin{pmatrix} x \\ y \end{pmatrix}$  appartient au lieu cherché si et seulement si :

$$-2x + 3y + 2 = 8 \text{ ou } -2x + 3y + 2 = -8.$$

Le lieu des points  $M$  du plan vérifiant  $|\det(\vec{AB}, \vec{AM})| = 8$  est la réunion des deux droites  $(\mathcal{D}_1)$  et  $(\mathcal{D}_2)$  d'équations respectives :

$$-2x + 3y - 6 = 0 \text{ et } -2x + 3y + 10 = 0.$$



Si on a fait avec les élèves le TD n°2 § 1.3., on peut donner une justification géométrique de ce résultat :

$|\det(\vec{AB}, \vec{AM})| = 8 \Leftrightarrow \text{Aire}(ABM) = 4$ . Or :  $AB = \sqrt{13}$ ; donc le lieu cherché est l'ensemble des points  $M$  tels que :  $d(M, (AB)) = \frac{8}{\sqrt{13}}$ . Ce lieu est donc la réunion de deux droites parallèles à la droite  $(AB)$ .

#### ◆ Exercice 18 p. 59

$$\text{Une représentation paramétrique du cercle de diamètre } [AB] \text{ est : } \begin{cases} x = -\frac{1}{2} + \frac{\sqrt{34}}{2} \cos \theta \\ y = \frac{1}{2} + \frac{\sqrt{34}}{2} \sin \theta \end{cases} \quad (\theta \in \mathbb{R}).$$

La tangente en A au cercle est la droite passant par A, de vecteur normal  $\vec{A}\vec{\Omega} \begin{pmatrix} \frac{5}{2} \\ \frac{3}{2} \end{pmatrix}$  ; une équation de cette tangente est :  $5x - 3y + 21 = 0$ .

La tangente en B passe par B et a pour vecteur normal  $\vec{A}\vec{\Omega}$  ; une équation de cette tangente est :  $5x - 3y - 13 = 0$ .

#### ◆ Exercice 19 p. 59

On a :  $d(A, (\mathcal{D})) = \frac{6}{\sqrt{5}}$  ; le cercle de centre A, tangent à la droite  $(\mathcal{D})$  a donc pour rayon  $\frac{6}{\sqrt{5}}$ .

$$\text{Une représentation paramétrique de ce cercle est : } \begin{cases} x = 6 + \frac{6}{\sqrt{5}} \cos \theta \\ y = -1 + \frac{6}{\sqrt{5}} \sin \theta \end{cases} \quad (\theta \in \mathbb{R}).$$

#### ◆ Exercice 20 p. 59

1.  $(\mathcal{C})$  a pour rayon :  $d(A, (\mathcal{D})) = \frac{6}{\sqrt{5}}$ .

Une équation cartésienne de  $(\mathcal{C})$  est donc :  $(x-2)^2 + (y-1)^2 = \frac{36}{5} \Leftrightarrow 5x^2 + 5y^2 - 20x - 10y - 11 = 0$ .

2. Soit  $M \begin{pmatrix} x \\ y \end{pmatrix}$  le point de contact entre  $(\mathcal{C})$  et  $(\mathcal{D})$ .  $M$  appartient à  $(\mathcal{D})$ , donc :  $y = 2x + 3$ .

L'équation obtenue en remplaçant  $y$  par  $2x + 3$  dans l'équation cartésienne de  $(\mathcal{C})$  s'écrit :  $(5x+2)^2 = 0$ .

On en déduit que le point de contact entre  $(\mathcal{C})$  et  $(\mathcal{D})$  admet pour coordonnées :  $(-\frac{2}{5}; \frac{11}{5})$ .

#### ◆ Exercice 21 p. 59

L'équation de  $(\mathcal{C})$  s'écrit :  $(x-2)^2 + (y+1)^2 = 8$  ; donc  $(\mathcal{C})$  a pour centre  $A \begin{pmatrix} 2 \\ -1 \end{pmatrix}$  et pour rayon  $2\sqrt{2}$ .

On a :  $d(A, (\mathcal{D})) = \frac{4}{\sqrt{2}} = 2\sqrt{2}$  ; donc  $(\mathcal{D})$  est tangente à  $(\mathcal{C})$ .

Pour déterminer le point de contact entre  $(\mathcal{C})$  et  $(\mathcal{D})$ , on procède comme dans l'exercice précédent :

L'équation obtenue en remplaçant  $y$  par  $x+1$  dans l'équation cartésienne de  $(\mathcal{C})$  s'écrit :  $2x^2 = 0$ .

Donc le point de contact entre  $(\mathcal{C})$  et  $(\mathcal{D})$  admet pour coordonnées :  $(0; 1)$ .

#### ◆ Exercice 22 p. 59

L'équation de  $(\mathcal{C})$  s'écrit :  $(x+1)^2 + (y-3)^2 = \frac{25}{2}$  ; donc  $(\mathcal{C})$  a pour centre  $A \begin{pmatrix} -1 \\ 3 \end{pmatrix}$  et pour rayon  $\frac{5}{\sqrt{2}}$ .

On a :  $d(A, (\mathcal{D})) = \frac{|m-4|}{\sqrt{2}}$  ; donc  $(\mathcal{D})$  est tangente à  $(\mathcal{C})$  ssi :  $|m-4| = 5 \Leftrightarrow m \in \{-1; 9\}$ .

• Si  $m = -1$ , on remplace  $y$  par  $x-1$  dans l'équation cartésienne de  $(\mathcal{C})$ . On obtient :  $2(x-\frac{3}{2})^2 = 0$ .

Donc le point de contact entre  $(\mathcal{C})$  et  $(\mathcal{D})$  admet pour coordonnées :  $(\frac{3}{2}; \frac{1}{2})$ .

• Si  $m = 9$ , on remplace  $y$  par  $x+9$  dans l'équation cartésienne de  $(\mathcal{C})$ . On obtient :  $2(x+\frac{7}{2})^2 = 0$ .

Donc le point de contact entre  $(\mathcal{C})$  et  $(\mathcal{D})$  admet pour coordonnées :  $(-\frac{7}{2}; \frac{11}{2})$ .

#### ◆ Exercice 23 p. 59

$d(O, (\Delta_m)) = \frac{\sqrt{1+m^2}}{\sqrt{1+m^2}} = 1$ . Toutes les droites  $(\Delta_m)$  sont donc tangentes au cercle de centre O et de rayon 1.

### □ Exercices d'approfondissement

#### ◆ Exercice 24 p. 59

Soit  $(\mathcal{C})$  le cercle cherché,  $\Omega$  son centre et  $r$  son rayon.

Une équation de  $(\mathcal{C})$  est :  $x^2 + y^2 - 2ax - 2by + a^2 + b^2 - r^2 = 0$ . Le cercle  $(\mathcal{C})$  répond à la question si et seulement si : • O appartient à  $(\mathcal{C})$  • A appartient à  $(\mathcal{C})$  • Les droites  $(\mathcal{A}\Omega)$  et  $(\mathcal{D})$  sont perpendiculaires.

• O appartient à  $(\mathcal{C})$ , donc :  $a^2 + b^2 - r^2 = 0$  ; l'équation de  $(\mathcal{C})$  s'écrit :  $x^2 + y^2 - 2ax - 2by = 0$ .

• A a pour coordonnées  $(-1; 1)$  ; A appartient à  $(\mathcal{C})$ , donc :  $2a - 2b + 2 = 0$  (1).

• Les droites  $(\mathcal{A}\Omega)$  et  $(\mathcal{D})$  sont perpendiculaires ; on en déduit :  $a - 3b + 4 = 0$  (2).

Des équations (1) et (2), on déduit :  $a = \frac{1}{2}$  et  $b = \frac{3}{2}$ .

D'où une équation cartésienne de  $(\mathcal{C})$  :  $x^2 + y^2 - x - 3y = 0$ .

#### ◆ Exercice 25 p. 59

1. Soit  $M \begin{pmatrix} x \\ y \end{pmatrix}$  un des points cherchés. On a :  $\vec{\Omega M} \begin{pmatrix} x-2 \\ y-1 \end{pmatrix}$ .

Une équation de  $(\mathcal{C})$  est :  $(x-2)^2 + (y-1)^2 = 9$  (1).

Le point M répond à la question si et seulement si :  $M \in (\mathcal{C})$  et  $\vec{\Omega M}$  et  $\vec{v}$  sont colinéaires.

Les vecteurs  $\vec{\Omega M}$  et  $\vec{v}$  sont colinéaires  $\Leftrightarrow (x-2) = \sqrt{3}(y-1)$  (2).

En remplaçant  $(x-2)$  par  $\sqrt{3}(y-1)$  dans l'équation (1), on obtient :  $4(y-1)^2 = 9$ .

On a donc deux solutions :  $y = 1 + \frac{3}{2} = \frac{5}{2}$  et  $y = 1 - \frac{3}{2} = -\frac{1}{2}$ .

On calcule les valeurs correspondantes de  $x$  à l'aide de l'équation (2), et on en déduit que les points du

cercle où la tangente admet pour vecteur normal  $\vec{r}$  sont les points  $M_1 \begin{pmatrix} \frac{4+3\sqrt{3}}{2} \\ \frac{5}{2} \end{pmatrix}$  et  $M_2 \begin{pmatrix} \frac{4-3\sqrt{3}}{2} \\ -\frac{1}{2} \end{pmatrix}$ .

2. La tangente au cercle en  $M_1$  est la droite passant par  $M_1$  et de vecteur normal  $\vec{r}$ .

Une équation de cette tangente est :  $\sqrt{3}x + y - 2\sqrt{3} - 7 = 0$ .

De manière analogue, on a une équation de la tangente au cercle en  $M_2$  :  $\sqrt{3}x + y - 2\sqrt{3} + 5 = 0$ .

On peut trouver une solution plus rapide en utilisant les résultats du TD n°1 § 2.2., à condition de l'avoir étudié avec les élèves (ces résultats ne constituent pas des savoirs exigibles).

#### ◆ Exercice 26 p. 59

1. On a :  $\begin{vmatrix} 3 & -6 \\ -4 & 8 \end{vmatrix} = 0$  ; les vecteurs normaux de  $(\mathcal{D})$  et  $(\mathcal{D}')$  sont colinéaires, donc ces droites sont parallèles.

2. Soit  $(\mathcal{C})$  le cercle cherché,  $\Omega \begin{pmatrix} a \\ 0 \end{pmatrix}$  son centre et  $r$  son rayon.

On a :  $d(\Omega, (\mathcal{D})) = d(\Omega, (\mathcal{D}')) = r$  ; on en déduit :  $\frac{|3a+6|}{5} = \frac{|-6a+9|}{10} = r$ . D'où :  $a = -\frac{1}{4}$  et  $r = \frac{21}{20}$ .

Une représentation paramétrique de ce cercle est :  $\begin{cases} x = -\frac{1}{4} + \frac{21}{20} \cos \theta \\ y = \frac{21}{20} \sin \theta \end{cases} (\theta \in \mathbb{R})$ .

◆ Exercice 27 p. 59

1. Une représentation paramétrique de (C) est :  $\begin{cases} x = 4 + 2 \cos \theta \\ y = 2 \sin \theta \end{cases} (\theta \in \mathbb{R})$ .

2. Une équation de ( $\mathcal{D}_m$ ) est :  $mx - y = 0$ . On a :  $d(\Omega, \mathcal{D}_m) = \frac{|4m|}{\sqrt{m^2 + 1}}$ .

( $\mathcal{D}_m$ ) est tangente à (C)  $\Leftrightarrow d(\Omega, \mathcal{D}_m) = 2 \Leftrightarrow 16m^2 = 4(m^2 + 1) \Leftrightarrow m = \frac{\sqrt{3}}{3}$  ou  $m = -\frac{\sqrt{3}}{3}$ .

Donc, il existe deux valeurs de  $m$  pour lesquelles ( $\mathcal{D}_m$ ) est tangente à (C).

◆ Exercice 28 p. 59

Soit (C) le cercle cherché,  $\Omega$  son centre et  $r$  son rayon.

Le triangle est isocèle en A, donc  $\Omega$  est sur l'axe des ordonnées. Soit  $a$  l'ordonnée de  $\Omega$ .

Les droites (AC) et (BC) ont pour équations respectives :  $4x + 3y - 12 = 0$  et  $y = 0$ .

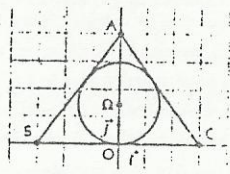
$d(\Omega, (AC)) = d(\Omega, (BC)) \Leftrightarrow \frac{|3a - 12|}{5} = |a| \Leftrightarrow a = \frac{3}{2}$  ou  $a = -6$ .

$\Omega$  est à l'intérieur du triangle, donc son ordonnée est positive.

On en déduit :  $a = \frac{3}{2}$  et  $r = d(\Omega, (BC)) = \frac{3}{2}$ .

Une représentation paramétrique du cercle inscrit

dans le triangle ABC est donc :  $\begin{cases} x = \frac{3}{2} \cos \theta \\ y = \frac{3}{2} + \frac{3}{2} \sin \theta \end{cases} (\theta \in \mathbb{R})$ .



◆ Exercice 29 p. 59

On a :  $\vec{AB} \begin{pmatrix} 2 \\ 1 \end{pmatrix}$ ,  $\vec{AC} \begin{pmatrix} 2 \\ 2 \end{pmatrix}$ ,  $\vec{AD} \begin{pmatrix} 1 \\ 5 \end{pmatrix}$ ,  $\vec{BC} \begin{pmatrix} 2 \\ 3 \end{pmatrix}$ ,  $\vec{BD} \begin{pmatrix} -1 \\ 4 \end{pmatrix}$ . Donc :

aire (ABC) = 4 ; aire (ABD) =  $\frac{9}{2}$  ; aire (ACD) = 11 ; aire (BCD) =  $\frac{5}{2}$ .

◆ Exercice 30 p. 59

1. Les droites (AB) et (AC) ont pour équations respectives :  $3x - 4y + 12 = 0$  et  $x = 0$ .

Soit  $x$  l'abscisse d'un point M de l'axe des abscisses, équidistant des droites (AB) et (AC).

On a :  $d(M, (AB)) = d(M, (AC)) \Leftrightarrow \frac{|3x + 12|}{5} = |x| \Leftrightarrow x = -\frac{3}{2}$  ou  $x = 6$ .

Les points de l'axe des abscisses, équidistants des droites (AB) et (AC), sont donc  $I \begin{pmatrix} -3/2 \\ 0 \end{pmatrix}$  et  $J \begin{pmatrix} 6 \\ 0 \end{pmatrix}$ .

2. Le cercle de diamètre [IJ] a pour équation cartésienne :  $2x^2 + 2y^2 - 9x - 18 = 0$ .

On vérifie que A appartient à ce cercle.

3. La tangente au cercle en A est la droite passant par A, de vecteur normal  $\vec{OA}$ .

Une équation de cette tangente est :  $9x - 12y + 36 = 0$ .

◆ Exercice 31 p. 59

1. Les coordonnées  $(x; y)$  d'un point commun à (C) et à (C') vérifient le système :  $\begin{cases} x^2 + y^2 = 3 \\ x^2 + (y - 2)^2 = 1 \end{cases}$

On en déduit que : (C) et (C') sont sécants en :  $A \begin{pmatrix} \sqrt{3}/2 \\ 3/2 \end{pmatrix}$  et  $B \begin{pmatrix} -\sqrt{3}/2 \\ 3/2 \end{pmatrix}$ .

2. Les tangentes en A à (C) et à (C') ont pour vecteurs normaux respectifs :  $\vec{OA} \begin{pmatrix} \sqrt{3}/2 \\ 3/2 \end{pmatrix}$  et  $\vec{O'A} \begin{pmatrix} \sqrt{3}/2 \\ -1/2 \end{pmatrix}$ .

On a :  $\vec{OA} \cdot \vec{O'A} = 0$  ; donc les tangentes en A à (C) et (C') sont perpendiculaires.

On démontre de manière analogue que les tangentes en B à (C) et (C') sont perpendiculaires.

3. Soit (L) une droite d'équation normale :  $x \cos \theta + y \sin \theta + k = 0$ .

On a :  $d(O, L) = |k|$  et  $d(O', L) = |2 \sin \theta + k|$ .

(L) est une tangente commune à (C) et (C')  $\Leftrightarrow d(O, L) = \sqrt{3}$  et  $d(O', L) = 1 \Leftrightarrow |k| = \sqrt{3}$  et  $|\sin \theta + \sqrt{3}| = 1$ .

Or :  $2 \sin \theta + \sqrt{3} \geq \sqrt{3} - 2 > -1$  ; donc :  $d(O, L) = \sqrt{3}$  et  $d(O', L) = 1 \Leftrightarrow |k| = \sqrt{3}$  et  $2 \sin \theta + \sqrt{3} = 1$ .

On a :  $d(O, L) = \sqrt{3} \Leftrightarrow k = \sqrt{3}$  ou  $k = -\sqrt{3}$ .

• Si  $k = \sqrt{3}$ , on a :  $\sin \theta = \frac{1 - \sqrt{3}}{2}$  ; on déduit :  $\cos \theta = \sqrt{\frac{1 + \sqrt{3}}{2}}$  ou  $\cos \theta = -\sqrt{\frac{1 + \sqrt{3}}{2}}$ .

On obtient ainsi les équations normales de deux tangentes communes à (C) et (C') :

( $\mathcal{L}_1$ ) :  $\sqrt{\frac{1 + \sqrt{3}}{2}} x + \frac{1 - \sqrt{3}}{2} y + \sqrt{3} = 0$  ; ( $\mathcal{L}_2$ ) :  $-\sqrt{\frac{1 + \sqrt{3}}{2}} x + \frac{1 - \sqrt{3}}{2} y + \sqrt{3} = 0$ .

• Si  $k = -\sqrt{3}$ , on obtient deux nouvelles équations qui sont les deuxièmes équations normales de ( $\mathcal{L}_1$ ) et ( $\mathcal{L}_2$ ).

◆ Exercice 32 p. 60

1. Une représentation paramétrique de (C) est :  $\begin{cases} x = r \cos \theta \\ y = r \sin \theta \end{cases} (\theta \in \mathbb{R})$ .

Une représentation paramétrique de (C') est :  $\begin{cases} x = d + r' \cos \beta \\ y = r' \sin \beta \end{cases} (\beta \in \mathbb{R})$ .

2. a) Une équation de la tangente à (C) en M est :  $x \cos \theta + y \sin \theta - r = 0$ .

Une équation de la tangente à (C') en M' est :  $x \cos \beta + y \sin \beta - r' - d \cos \beta = 0$ .

b) Ces deux tangentes sont confondues si, et seulement si, les deux équations obtenues à la question précédente représentent la même droite. Or ces deux équations sont des équations normales et une droite donnée admet deux équations normales. Donc, les deux tangentes sont confondues si, et seulement si :

( $\cos \alpha = \cos \beta$ ,  $\sin \alpha = \sin \beta$  et  $r = r' + d \cos \beta$ ) ou ( $\cos \alpha = -\cos \beta$ ,  $\sin \alpha = -\sin \beta$  et  $r = -r' - d \cos \beta$ ).

Cette condition est équivalente à : ( $\hat{\alpha} = \hat{\beta}$  et  $\cos \alpha = \frac{r - r'}{d}$ ) ou ( $\hat{\alpha} = \hat{\beta} + \pi$  et  $\cos \alpha = \frac{r + r'}{d}$ ).

c) •  $d > r + r'$  :  $r > r - r' = \frac{r - r'}{d} < 1$  et  $d > r + r' > r - r' = \frac{r - r'}{d} > -1$ . Donc :  $-1 < \frac{r - r'}{d} < 1$ .

On en déduit que l'équation  $\cos \alpha = \frac{r - r'}{d}$  admet deux solutions opposées dans l'intervalle  $]-\pi; \pi[$  :

de l'égalité  $\sin^2 \alpha = 1 - \cos^2 \alpha$ , on déduit :  $\sin \alpha = \frac{\sqrt{d^2 - (r - r')^2}}{d}$  ou  $\sin \alpha = -\frac{\sqrt{d^2 - (r - r')^2}}{d}$ .

On obtient ainsi deux tangentes communes à (C) et (C').

On est dans le cas où  $\hat{\alpha} = \hat{\beta}$ , donc :  $(\vec{I}, \vec{ON}) = (\vec{I}, \vec{O'M})$ .

Les points M et M' étant du même côté de la droite (OO'), les tangentes sont extérieures.

Leurs équations respectives sont :

$(r - r')x + \sqrt{d^2 - (r - r')^2} y - rd = 0$  et  $(r - r')x - \sqrt{d^2 - (r - r')^2} y - rd = 0$ .

• On a :  $0 < r + r' < d \Rightarrow 0 < \frac{r + r'}{d} < 1$ .

On obtient de même deux tangentes intérieures communes à (C) et (C'), d'équations respectives :

$(r + r')x + \sqrt{d^2 - (r + r')^2} y - rd = 0$  et  $(r + r')x - \sqrt{d^2 - (r + r')^2} y - rd = 0$ .

Application numérique :  $r = 4$ ,  $r' = 1$  et  $d = 6$ .

Tangentes extérieures communes à (C) et à (C') :  $x + \sqrt{3} y - 8 = 0$  et  $x - \sqrt{3} y - 8 = 0$ .

Tangentes intérieures communes à (C) et à (C') :  $5x + \sqrt{11} y - 24 = 0$  et  $5x - \sqrt{11} y - 24 = 0$ .

◆ Exercice 33 p. 60

1. Les droites (AB) et (AC) admettent pour équations respectives :  $ax + by - ab = 0$  et  $ax + cy - ac = 0$ .

Soit  $M \begin{pmatrix} x \\ y \end{pmatrix}$  un point du plan. On a :

$d(M, (AB)) = d(M, (AC)) \Leftrightarrow \frac{|ax + by - ab|}{\sqrt{a^2 + b^2}} = \frac{|ax + cy - ac|}{\sqrt{a^2 + c^2}}$

$\Leftrightarrow (a^2 + c^2)(ax + by - ab)^2 = (a^2 + b^2)(ax + cy - ac)^2$ . (1)

L'ensemble des points du plan équidistants des droites (AB) et (AC) est donc la réunion des deux droites ( $\Delta$ ) et ( $\Delta'$ ) d'équations respectives :

$$a(\sqrt{a^2+c^2}-\sqrt{a^2+b^2})x+(b\sqrt{a^2+c^2}-c\sqrt{a^2+b^2})y-a(b\sqrt{a^2+c^2}-c\sqrt{a^2+b^2})=0 \text{ et}$$

$$a(\sqrt{a^2+c^2}+\sqrt{a^2+b^2})x+(b\sqrt{a^2+c^2}+c\sqrt{a^2+b^2})y-a(b\sqrt{a^2+c^2}+c\sqrt{a^2+b^2})=0.$$

On vérifie que les droites sont perpendiculaires en montrant, par exemple, que le produit scalaire des vecteurs normaux est nul.

2. La droite (BC) est l'axe des abscisses. En remplaçant  $y$  par 0 dans l'équation (1) on obtient une équation dont les solutions sont les abscisses  $x_I$  et  $x_J$  des points I et J. Cette équation s'écrit :

$$(a^2+c^2)(ax-ab)^2=(a^2+b^2)(ax-ac)^2 \Leftrightarrow (b+c)^2x^2+2(a^2-bc)x-a^2(b-c)=0 \quad (2)$$

$$\begin{aligned} 3. \text{ On a : } AB^2 \times IC^2 - AC^2 \times IB^2 &= (a^2+b^2)(c-x_I)^2 - (a^2+c^2)(b-x_I)^2 \\ &= (b-c)[(b+c)x_I^2 + 2(a^2-bc)x_I - (a^2-b^2)(b+c)] \\ &= 0 \text{ (car } x_I \text{ est une solution de l'équation (2)).} \end{aligned}$$

De plus, I et B sont distincts car B n'est pas équidistant des droites (AB) et (AC) ; de même, I  $\neq$  C.

On en déduit :  $\frac{IB}{IC} = \frac{AB}{AC}$  ; on démontre de manière analogue que :  $\frac{IB}{IC} = \frac{AB}{AC}$ .

#### ♦ Exercice 34 p. 60

1. a) Si  $\mathcal{P}(M) > 0$ , alors  $M\Omega > r$  ; donc, M est à l'extérieur de ( $\mathcal{C}$ ).

Si  $\mathcal{P}(M) < 0$ , alors  $M\Omega < r$  ; donc, M est à l'intérieur de ( $\mathcal{C}$ ).

Si  $\mathcal{P}(M) = 0$ , alors  $M\Omega = r$  ; donc, M appartient à ( $\mathcal{C}$ ).

b) ( $\mathcal{C}$ ) a pour équation cartésienne :  $x^2 + y^2 - 2ax - 2by + c = 0$  ; donc  $\Omega(a; b)$  et  $c = a^2 + b^2 - r^2$ .

On a :  $\mathcal{P}(M) = (x_0 - a)^2 + (y_0 - b)^2 - r^2 = x_0^2 + y_0^2 - 2ax_0 - 2by_0 + a^2 + b^2 - r^2 = x_0^2 + y_0^2 - 2ax_0 - 2by_0 + c$ .

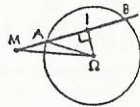
#### Application

$0^2 + 7^2 + 5 \times 0 - 7 \times 7 = -12$  ; donc, A est à l'intérieur de ( $\mathcal{C}$ ).

$3^2 + 1^2 + 5 \times 3 - 7 \times 1 = 6$  ; donc, B est à l'extérieur de ( $\mathcal{C}$ ).

2. Soit I le milieu du segment [AB]. On a :

$$\begin{aligned} \overrightarrow{MA} \cdot \overrightarrow{MB} &= \overrightarrow{MI} \cdot \overrightarrow{IB} = (\overrightarrow{MI} + \overrightarrow{IA}) \cdot (\overrightarrow{MI} + \overrightarrow{IB}) \\ &= (\overrightarrow{MI} + \overrightarrow{IA}) \cdot (\overrightarrow{MI} - \overrightarrow{IA}) = MI^2 - IA^2 \\ &= (M\Omega^2 - I\Omega^2) - (A\Omega^2 - I\Omega^2) = M\Omega^2 - r^2 = \mathcal{P}(M). \end{aligned}$$



b) Si le quadrilatère EFGH est inscriptible, la puissance du point P par rapport au cercle dans lequel il est inscrit est égale à  $\overline{PE} \times \overline{PF}$  et à  $\overline{PG} \times \overline{PH}$ .

Cette puissance ne dépendant que du point P et du cercle, on a :

$$\overline{PE} \times \overline{PF} = \overline{PG} \times \overline{PH}.$$

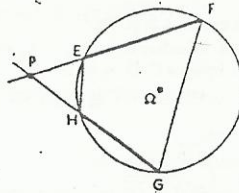
Si  $\overline{PE} \times \overline{PF} = \overline{PG} \times \overline{PH}$ , notons ( $\mathcal{C}$ ) le cercle circonscrit au triangle EFG, et H' le point d'intersection de ( $\mathcal{C}$ ) avec la droite (GP).

Le quadrilatère EFGH' est inscriptible et les droites (EF) et (GH') se coupent en P :

D'après ce qui précède, on a :  $\overline{PE} \times \overline{PF} = \overline{PG} \times \overline{PH'}$ .

On en déduit :  $\overline{PG} \times \overline{PH'} = \overline{PG} \times \overline{PH}$  ; d'où :  $\overline{PH} = \overline{PH'}$ .

Les points H et H' sont donc confondus et le quadrilatère EFGH est inscriptible dans le cercle ( $\mathcal{C}$ ).



#### ♦ Exercice 35 p. 60

$$1. M\left(\begin{matrix} x \\ y \end{matrix}\right) \in (\mathcal{C}') \cap (\mathcal{C}'') \Leftrightarrow \begin{cases} x^2 + y^2 + x - 4y + 1 = 0 & (L_1) \\ x^2 + y^2 - 3x + 2y - 13 = 0 & (L_2) \end{cases} \Leftrightarrow \begin{cases} x^2 + y^2 + x - 4y + 1 = 0 & (L_1) \\ 4x - 6y + 14 = 0 & (L_1) - (L_2) \end{cases}$$

En exprimant  $y$  en fonction de  $x$  dans la deuxième équation et en reportant cette valeur dans la première équation on démontre que les deux cercles ( $\mathcal{C}'$ ) et ( $\mathcal{C}''$ ) sont sécants en deux points  $A\left(\frac{3}{4}\right)$  et  $B\left(-\frac{1}{4}\right)$ .

2. Remarquons tout d'abord que pour toute valeur de  $k$  les points A et B appartiennent à ( $E_k$ ) puisque leurs coordonnées vérifient les équations de ( $\mathcal{C}'$ ) et ( $\mathcal{C}''$ ) et par suite celle de ( $E_k$ ).

a) Si  $k = -1$  ( $E_{-1}$ ) a pour équation :  $4x - 6y + 14 = 0$ , c'est une équation de la droite (AB).

• Si  $k \neq -1$  ( $E_k$ ) a pour équation :  $\left(x + \frac{1}{2} \frac{(1-3k)}{1+k}\right)^2 + \left(y - \frac{(2-k)}{1+k}\right)^2 - \frac{65k^2 + 26k + 13}{4(k+1)^2} = 0$

c'est l'équation d'un cercle passant par A et B.

b) Pour  $k \neq -1$  le cercle ( $E_k$ ) a pour centre  $C_k\left(\frac{3k-1}{2(1+k)}; \frac{2-k}{1+k}\right)$  et l'ensemble des centres des cercles ( $E_k$ ) a pour représentation paramétrique :

$$\begin{cases} x = \frac{3}{2} - \frac{2}{k+1} \\ y = -1 + \frac{3}{k+1} \end{cases} \Leftrightarrow \begin{cases} x = \frac{3}{2} - 2t \\ y = -1 + 3t \end{cases} \text{ avec } t = \frac{1}{k+1}, \text{ lorsque } k \text{ varie dans } \mathbb{R} \setminus \{-1\} \text{ } t \text{ parcourt } \mathbb{R}^* \text{ et}$$

l'ensemble des centres est la médiatrice de [AB] privé du point  $C\left(\frac{3}{2}\right)$  centre du cercle ( $\mathcal{C}$ ).

3. a) Un cercle passant par les points A et B a son centre sur la médiatrice de [AB], d'après les questions précédentes les cercles passant par A et B distincts du cercle ( $\mathcal{C}$ ) admettent une équation du type :

$\lambda(x^2 + y^2 + x - 4y + 1) + \mu(x^2 + y^2 + x - 4y + 1) = 0$  avec  $(\lambda, \mu) = (1, k)$  et on obtient le cercle ( $\mathcal{C}$ ) pour  $(\lambda, \mu) = (0, 1)$  ce qui répond à la question. Remarquons que pour  $\lambda \neq 0$  l'équation précédente est l'équation du cercle ( $E_k$ ) avec  $k = \frac{\mu}{\lambda}$  et pour  $\lambda = 0$  et  $\mu \neq 0$  on obtient le cercle ( $\mathcal{C}$ ).

note : L'ensemble des cercles d'équation  $\lambda(x^2 + y^2 + x - 4y + 1) + \mu(x^2 + y^2 + x - 4y + 1) = 0$  avec  $(\lambda, \mu) \in \mathbb{R}^2 \setminus \{(0,0)\}$  est un faisceau de cercles.

## 4. Isométries du plan

(pages 61 à 86 du livre de l'élève)

### DIRECTIONS

- Compléter l'étude et faire une classification des isométries connues : translations, symétries orthogonales, rotations.
- Dégager les propriétés générales de ces isométries (propriétés de conservation, images de figures usuelles).
- Utiliser des isométries pour :
  - résoudre des problèmes de construction ;
  - rechercher des lieux géométriques ;
  - démontrer des propriétés.

• À partir des isométries connues, dégager la notion de déplacement et d'antidépacement ; composer des déplacements ; définir les critères qui permettent de reconnaître des triangles isométriques.

**EXERCICES**

- Les translations et les symétries orthogonales ont été vues dans les classes précédentes : on récapitulera leurs propriétés à l'occasion d'exercices, sans en faire de démonstration.
- Les exercices utilisant les isométries pour la démonstration de propriétés ou pour la résolution de problèmes de construction, de recherche de lieu géométrique et d'optimisation sont souvent d'un abord délicat. Il est conseillé d'être très prudent en proposant ce type d'exercice pour une évaluation des élèves. On n'hésitera pas à donner des indications, si nécessaire.
- La classification des isométries en Première ne concerne que les isométries connues. L'étude systématique des déplacements et antidéplacements (incluant entre autres la symétrie glissée) se fera en Terminale.
- Certains ensembles de transformations étudiés dans ce chapitre ont des propriétés communes : stabilité par composition et passage à l'inverse. Ceci nous a conduit à définir la notion de groupe de transformations. Cependant, toute étude de structure algébrique est hors programme.

**SAVOIRS ET SAVOIR-FAIRE**

**Savoirs**

**Translations et symétries orthogonales**

- Propriété caractéristique d'une translation :  $\vec{MN} = \vec{M'N'}$ .
- Nature et élément caractéristique de la composée de deux translations.
- Expression analytique d'une translation.
- Caractérisation d'une symétrie orthogonale d'axe  $(O, \vec{u})$ .
- Nature et éléments caractéristiques de la composée de deux symétries orthogonales :
  - d'axes parallèles ;
  - d'axes sécants.

**Rotations**

- Propriété caractéristique d'une rotation d'angle  $\hat{\alpha}$ .
- Nature et éléments caractéristiques de la composée de deux rotations de même centre.
- Nature de la composée de deux rotations de centres distincts.

**Isométries**

- Définitions d'une isométrie, d'un déplacement, d'un antidéplacement.
- Propriétés des isométries :
  - conservations (produit scalaire, barycentre...);
  - images de figures usuelles.

**Compléments sur les isométries**

- Nature de la composée de déplacements et antidéplacements.
- Critères d'isométrie de deux triangles.

**Savoir-faire**

- Utiliser sa propriété caractéristique pour reconnaître une translation.
- Déterminer la composée de deux translations.
- Déterminer l'expression analytique d'une translation.
- Déterminer l'expression analytique d'une symétrie orthogonale dans des cas simples : par rapport à une droite parallèle à l'un des axes du repère, par rapport à la première bissectrice du repère.
- Déterminer l'image d'une figure par une translation ou une symétrie orthogonale simple en utilisant son expression analytique.
- Déterminer la composée de deux symétries orthogonales :
  - d'axes parallèles ;
  - d'axes sécants.
- Décomposer une translation ou une rotation en produit de deux symétries orthogonales.
- Déterminer les éléments caractéristiques de la composée de deux rotations.
- Démontrer qu'une application est une isométrie.
- Construire l'image d'un point, d'une figure usuelle par une isométrie.
- Utiliser les isométries pour rechercher un lieu géométrique, résoudre un problème de construction, démontrer une propriété.
- Déterminer, dans des cas simples, une isométrie décomposant un triangle et son image.
- Reconnaitre et démontrer une isométrie de triangles.

**EXERCICES DU MANUEL**

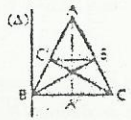
**Exercices du cours**

♦ Exercice 1.a p. 65  
 $t_{\vec{OA}} \circ t_{\vec{OB}} \circ t_{\vec{OC}} = \text{Id} \iff t_{\vec{OA}} \circ \vec{OB} \circ \vec{OC} = t_{\vec{0}}$   
 $O = \text{bar}(\{A;1\}, \{B;1\}, \{C;1\})$  ; donc : O existe et est unique.

♦ Exercice 1.b p. 65  
 $\vec{AC} + \vec{BD} = 2\vec{AD}$  et  $\vec{AD} + \vec{BC} = 2\vec{AD}$  ; donc :  $t_{\vec{AC}} \circ t_{\vec{BD}} = t_{\vec{AD}} \circ t_{\vec{BC}}$ .

♦ Exercice 1.c p. 65  
 $\vec{GB} + \vec{GC} = \vec{AG} \implies t_{\vec{GB}} \circ t_{\vec{GC}}(\hat{A}) = t_{\vec{AG}}(\hat{A}) = G$ .  
 On a de même :  $t_{\vec{GC}} \circ t_{\vec{CA}}(\hat{B}) = G$  et  $t_{\vec{CA}} \circ t_{\vec{CB}}(\hat{C}) = G$ .

♦ Exercice 1.d p. 65  
 1.  $s_{(BC)} \circ s_{(BC)} = t_{\vec{AA}}$ .  
 2. Soit (A) la droite parallèle à (AA') passant par B.  $s_{(AA')} \circ s_A$  est une translation et  $s_{(AA')} \circ s_A(B) = C$  ; donc :  $s_{(AA')} \circ s_A = t_{\vec{BC}}$ .

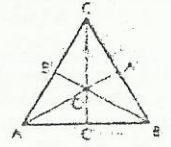


♦ Exercice 1.e p. 65  
 Les expressions analytiques des transformations s, t, tos et sot sont :  
 $s : \begin{cases} x' = -x - 6 \\ y' = y \end{cases} ; t : \begin{cases} x' = x - 2 \\ y' = y + 1 \end{cases} ; tos : \begin{cases} x' = -x - 8 \\ y' = y + 1 \end{cases} \text{ et } sot : \begin{cases} x' = -x - 4 \\ y' = y + 1 \end{cases}$

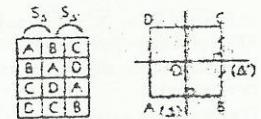
♦ Exercice 1.f p. 65  
 $t_{\vec{AB}}(\vec{AB}) = (\vec{DC})$  et  $t_{\vec{BC}}(\vec{AD}) = (\vec{BC})$ .

♦ Exercice 2.a p. 70  
 1.  $(\vec{OA}, \vec{OB})$  et  $(\vec{OB}, \vec{OC})$  sont l'angle orienté de mesure  $\frac{2\pi}{3}$ . Par conséquent,  $s_{(OA)} \circ s_{(OB)}$  et  $s_{(OB)} \circ s_{(OC)}$  sont deux décompositions de la rotation de centre O et d'angle  $-\frac{4\pi}{3}$ , c'est à dire  $r(O, \frac{2\pi}{3})$ .

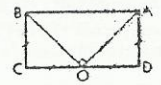
2. On en déduit :  $s_{(OA)} \circ s_{(OB)} \circ s_{(OC)} = s_{(OB)} \circ s_{(OC)} \circ s_{(OC)} = s_{(OB)}$ .  
 $s_{(OA)} \circ s_{(OB)} \circ s_{(OC)}$  est la symétrie orthogonale d'axe (OB).  
 3.  $s_{(AB)} \circ s_{(AC)}$  est la rotation de centre A et d'angle  $-\frac{2\pi}{3}$ .  
 $s_{(BC)} \circ s_{(OA)}$  est la symétrie de centre A', milieu du segment [BC].



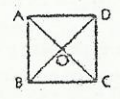
♦ Exercice 2.b p. 70  
 Par la transformation  $s_A \circ s_B$  les points A, B, C et D ont respectivement pour images C, D, A et B.  
 $s_A \circ s_B$  est la symétrie de centre le point O, centre du carré ABCD.



♦ Exercice 2.c p. 70  
 1. L'angle  $(\vec{OA}, \vec{OB})$  est droit ; donc,  $s_{(OA)} \circ s_{(OB)}$  est la symétrie de centre O.  
 2.  $s_{(OA)} \circ s_{(OB)}$  est le quart de tour direct de centre O.  
 3.  $s_{(OC)} \circ s_{(OD)} = \text{Id}$  et  $s_{(OA)} \circ s_{(OB)} \circ s_{(OC)} \circ s_{(OD)} = s_O$ .



♦ Exercice 2.d p. 70  
 1.  $r_2 \circ r_1$  est la symétrie de centre O.  
 2.  $r_3 \circ r_1$  est la translation de vecteur  $\vec{CD}$ .  
 3.  $r_3 \circ r_2$  est la translation de vecteur  $\vec{BC}$ .



♦ Exercice 2.e p. 70  
 On a :  $f(\hat{C}) = r(A, \frac{\pi}{3}) \circ r(B, \frac{\pi}{3})(\hat{C}) = r(A, \frac{\pi}{3})(\hat{A}) = \hat{A}$  et  $\frac{\pi}{3} + \frac{\pi}{3} + \frac{\pi}{3} = \pi$ .  
 Donc, f est la symétrie de centre B', milieu du segment [AC].



♦ Exercice 2 p. 70

Posons :  $f = r(A, \frac{\pi}{2}) \circ r(B, \frac{\pi}{2}) \circ r(C, \frac{\pi}{2}) \circ r(D, \frac{\pi}{2})$

On a :  $\frac{\pi}{2} + \frac{\pi}{2} + \frac{\pi}{2} + \frac{\pi}{2} = 2\pi$  et  $f(D) = D$  ; donc,  $f$  est la transformation identique.

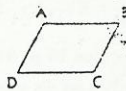
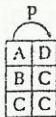
♦ Exercice 3 a p. 78

$h$  est une isométrie ssi  $k = 1$  ou  $k = -1$ .

♦ Exercice 3 b p. 78

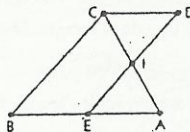
Les segments  $[AB]$ ,  $[AC]$  et  $[BC]$  ont respectivement pour image par la projection  $p$  :  $[DC]$ ,  $[DC]$  et  $[C]$ .

La projection  $p$  n'est pas une isométrie car  $p([BC])$  n'est pas un segment de longueur non nulle  $BC$ .



♦ Exercice 3 c p. 78

1. Soit  $s$  la symétrie de centre  $I$ . Elle transforme  $I$  en  $I$ , et  $D$  en  $E$  ; de plus  $s(C)$  est le point d'intersection de  $(IC)$  et de la parallèle à  $(CD)$  passant par  $E$ , c'est-à-dire  $s(C) = A$ . Donc,  $s(CID) = AIE$ .



2. D'après la question 1., les triangles  $CID$  et  $AIE$  ont même aire.

De plus : aire(BCDE) - aire(CID) = aire(ABC) - aire(AIE).

On en déduit : aire(BCDE) = aire(ABC).

♦ Exercice 3 d p. 78

a) Soit  $ABC$  un triangle,  $O$  son centre de gravité,  $A'$ ,  $B'$  et  $C'$  les milieux respectifs de  $[BC]$ ,  $[AC]$  et  $[AB]$ .

• Si le triangle  $ABC$  est isocèle en  $A$ , alors l'ensemble des isométries laissant invariant le triangle  $ABC$  est :  $\{Id, s_{AA'}\}$ . C'est un groupe de transformations.

• Si le triangle  $ABC$  est équilatéral, alors l'ensemble des isométries laissant invariant le triangle  $ABC$  est :  $\{Id, s_{AA'}, s_{BB'}, s_{CC'}, r(O, \frac{2\pi}{3}), r(O, -\frac{2\pi}{3})\}$ . C'est un groupe de transformations.

b) Soit  $ABCD$  un parallélogramme non carré de centre  $O$  et  $A'$ ,  $B'$ ,  $C'$ ,  $D'$  les milieux respectifs des segments  $[AB]$ ,  $[BC]$ ,  $[CD]$  et  $[DA]$ .

• Si le parallélogramme  $ABCD$  n'est ni rectangle ni losange, alors l'ensemble des isométries laissant invariant le parallélogramme  $ABCD$  est :  $\{Id, s_O\}$ . C'est un groupe de transformations.

• Si  $ABCD$  est un rectangle, alors l'ensemble des isométries laissant invariant le rectangle  $ABCD$  est :  $\{Id, s_O, s_{AA'}, s_{CC'}\}$ , où  $(\Delta)$  est la médiatrice de  $[AB]$  et  $(\Delta')$  celle de  $[BC]$ . C'est un groupe de transformations.

• Si  $ABCD$  est un losange, alors l'ensemble des isométries laissant invariant le losange  $ABCD$  est :  $\{Id, s_O, s_{AC}, s_{BD}\}$ . C'est un groupe de transformations.

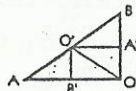
♦ Exercice 4 a p. 82

Les déplacements sont :  $s \circ r \circ s$  et  $s \circ t \circ s$ . Les antidéplacements sont :  $r \circ s \circ r^{-1}$  et  $t \circ s \circ t^{-1}$ .

♦ Exercice 4 b p. 82

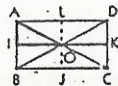
Les triangles  $O'B'O$  et  $AO'B'$  sont isométriques. On a :  $S_{(O'B'O)(AO'B')} = AO'B'$ .

Les triangles  $O'A'B$  et  $AO'B'$  sont isométriques. On a :  $t_{\vec{AB}}([O'A'B]) = AO'B'$ .



♦ Exercice 4 c p. 82

a)  $t_{\vec{AB}}(A, I, O) = (O, J, C)$  b)  $S_{(OJ)}(A, I, O) = (D, K, O)$  c)  $S_O(A, I, O) = (C, K, O)$ .



♦ Exercice 4 d p. 82

a)  $S_{(OK)}(A, O, K) = (C, O, K)$  b)  $r(O, \frac{2\pi}{3})(A, O, K) = (B, O, I)$  c)  $S_{(OC)}(A, O, K) = (B, O, I)$ .



Exercices d'entraînement

SYMÉTRIES ORTHOGONALES ET TRANSLATIONS

♦ Exercice 1 p. 83

1. Les triangles  $ABD$  et  $BCD$  sont équilatéraux.

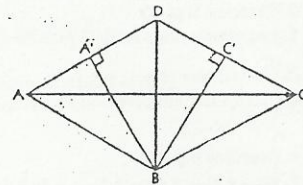
• Soit  $A'$  le milieu du segment  $[AD]$ , on a :  $(A'B) \perp (AD)$ .

Les droites  $(BC)$  et  $(AD)$  sont parallèles, on en déduit :  $f = t_{2\vec{AB}}$ .

• Soit  $C'$  le milieu du segment  $[DC]$ , on a :  $(C'B) \perp (DC)$ .

Les droites  $(AB)$  et  $(DC)$  sont parallèles, on en déduit :  $g = t_{2\vec{BC}}$ .

2. Les translations commutent, on a :  $f \circ g = g \circ f = t_{2\vec{AC}} = t_{\vec{AC}}$ .

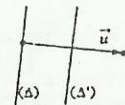


♦ Exercice 2 p. 83

Soit  $(\Delta')$  l'image de  $(\Delta)$  par  $t_{\frac{1}{2}\vec{u}}$ .

On a :  $t_{\vec{u}} = s_{\Delta'} \circ s_{\Delta}$ .

On en déduit :  $t_{\vec{u}} \circ s_{\Delta} = s_{\Delta'}$ .



♦ Exercice 3 p. 83

La composée de n'importe quelle élément  $f$  de  $E$  avec  $Id$  donne  $f$ .

$s_{\Delta'} \circ s_{\Delta} = s_{\Delta} \circ s_{\Delta'} = s_O$ .

$s_O \circ s_{\Delta} = s_{\Delta'} \circ s_{\Delta} = s_{\Delta'}$  ;

$s_O \circ s_{\Delta'} = s_{\Delta} \circ s_{\Delta'} = s_{\Delta}$  ;

$s_{\Delta} \circ s_O = s_{\Delta} \circ s_{\Delta} = s_{\Delta}$  ;

$s_{\Delta'} \circ s_O = s_{\Delta'} \circ s_{\Delta'} = s_{\Delta'}$ .

$s_O$	Id	$s_O$	$s_{\Delta}$	$s_{\Delta'}$
Id	Id	$s_O$	$s_{\Delta}$	$s_{\Delta'}$
$s_O$	$s_O$	Id	$s_{\Delta'}$	$s_{\Delta}$
$s_{\Delta}$	$s_{\Delta}$	$s_{\Delta'}$	Id	$s_O$
$s_{\Delta'}$	$s_{\Delta'}$	$s_{\Delta}$	$s_O$	Id

On obtient ainsi le tableau ci-contre.

Commentaires

• On dit que l'ensemble  $E$  est stable par composition et par passage à l'inverse.

• Chaque élément est sa propre réciproque.

♦ Exercice 4 p. 83

1. L'expression analytique de  $t_{\vec{u}}$  est :  $\begin{cases} x' = x + 1 \\ y' = y + 2 \end{cases}$ .

2. Soit  $M(\frac{x}{y})$  un point du plan et  $M'(\frac{x'}{y'})$  son image par  $t_{\vec{u}}$ .

$M' \in (\mathcal{D}') \Leftrightarrow M \in (\mathcal{D}) \Leftrightarrow 2x - 3y + 4 = 0 \Leftrightarrow 2(x' - 1) - 3(y' - 2) + 4 = 0 \Leftrightarrow 2x' - 3y' + 8 = 0$ .

La droite  $(\mathcal{D}')$  a pour équation cartésienne :  $2x - 3y + 8 = 0$ .

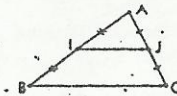
ROTATIONS

♦ Exercice 5 p. 83

1.  $s_M \circ s_N = t_{2\vec{MN}}$ .

2. Soit  $\vec{u}$  un vecteur,  $N$  un point du plan et  $M$  l'image de  $N$  par la translation de vecteur  $\frac{1}{2}\vec{u}$ . On a :  $t_{\vec{u}} = s_M \circ s_N$ .

3. On a :  $IJ = \frac{1}{2}BC$  ;  $t_{\vec{BC}} = s_J \circ s_I$ . Donc :  $t_{\vec{BC}} \circ s_I = s_J \circ s_I \circ s_I = s_J$  et  $s_J \circ t_{\vec{BC}} = s_J \circ s_I \circ s_I = s_J$ .

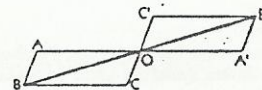


♦ Exercice 6 p. 83

1. D'après l'exercice 5 :  $s_B \circ s_A = t_{2\vec{AB}} = t_{2\vec{OC}} = s_C \circ s_C$ .

2.  $s_C \circ s_B \circ s_A = s_C \circ s_C \circ s_C = s_O$ .

3. Voir figure ci-contre.

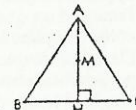


♦ Exercice 7 p. 83

•  $s_{(AB)} \circ s_{(AH)} = r(A, -\frac{\pi}{3})$ .

•  $s_{(BC)} \circ s_{(AH)} = s_H$ .

• Soit  $M$  le milieu du segment  $[AH]$ . D'après l'exercice 5 :  $t_{\vec{AM}} = s_M \circ s_A$  ; donc :  $t_{\vec{AM}} \circ s_A = s_M$ .

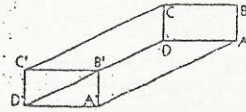


♦ Exercice 8 p. 83

1. Les expressions analytiques de  $s_{(O)}$  et  $s_A$  sont :  $s_{(O)} : \begin{cases} x' = x \\ y' = -y \end{cases}$  et  $s_A : \begin{cases} x' = y \\ y' = x \end{cases}$

2. On sait que :  $r = s_A \circ s_{(O)}$ .

On en déduit l'expression analytique de  $r : \begin{cases} x' = -y \\ y' = x \end{cases}$



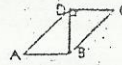
♦ Exercice 9 p. 83

1.  $s_{(DA)} \circ s_{(CD)} \circ s_{(BC)} \circ s_{(AB)} = s_D \circ s_B = t_{2\vec{DB}}$ .

2. Voir figure ci-contre.

♦ Exercice 10 p. 83

On a :  $s_{(AB)} \circ s_{(DC)} = t_{2\vec{DB}}$  et  $s_B \circ s_D = t_{2\vec{DB}}$ . Donc :  $s_{(AB)} \circ s_{(DC)} = s_B \circ s_D$ .



♦ Exercice 11 p. 83

a)  $s_{(AD)} \circ s_A \circ s_{(AB)} = s_{(AD)} \circ s_{(AD)} \circ s_{(AB)} = s_{(AB)} = \text{Id}$ .

b)  $s_{(CD)} \circ s_A \circ s_{(AB)} = s_{(CD)} \circ s_{(AD)} \circ s_{(AB)} \circ s_{(AB)} = s_{(CD)} \circ s_{(AD)} = s_D$ .

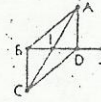
c)  $s_{(AD)} \circ s_C \circ s_{(AB)} = s_{(AD)} \circ s_{(CD)} \circ s_{(BC)} \circ s_{(AB)} = s_D \circ s_B = t_{2\vec{DB}}$ .

♦ Exercice 12 p. 83

1. Soit I le milieu de [BD] et J le symétrique de I par rapport à [AD]. Le triangle AIJ est équilatéral de sens direct.

2.  $f = s_{(AC)} \circ s_{(AD)} = r(A, -\frac{\pi}{3})$  et  $g = s_{(BD)} \circ s_{(AC)} = r(I, -\frac{2\pi}{3})$ .

$g \circ f = s_{(BD)} \circ s_{(AC)} \circ s_{(AC)} \circ s_{(AD)} = s_{(BD)} \circ s_{(AD)} = r(D, -\pi) = s_D$ .

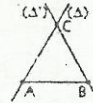


♦ Exercice 13 p. 83

Soit C le point tel que le triangle ABC soit équilatéral de sens direct.

Posons :  $(\Delta) = (AC)$  et  $(\Delta') = (BC)$ .

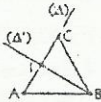
1.  $r(A, -\frac{2\pi}{3}) = s_{(AB)} \circ s_A$  2.  $r(B, -\frac{2\pi}{3}) = s_{(\Delta')} \circ s_{(AB)}$  3.  $r' \circ r = s_{(\Delta')} \circ s_A = r(C, \frac{2\pi}{3})$ .



♦ Exercice 14 p. 83

Soit C le point tel que le triangle ABC soit équilatéral de sens direct et  $(\Delta')$  la hauteur issue de B. On désigne par  $(\Delta)$  la droite (AC) et par I le milieu de [AC].

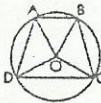
1.  $r(A, \frac{2\pi}{3}) = s_{(\Delta)} \circ s_{(AB)}$  2.  $r(B, \frac{\pi}{3}) = s_{(AB)} \circ s_{(\Delta')}$  3.  $r' \circ r = s_{(\Delta')} \circ s_{(\Delta)} = s_I$ .



♦ Exercice 15 p. 84

On a :  $s_{(OA)} \circ s_{(OB)} = r(O, \frac{2\pi}{3})$  et  $s_{(OC)} \circ s_{(OD)} = r(O, -\frac{2\pi}{3})$ .

Donc :  $s_{(OA)} \circ s_{(OB)} \circ s_{(OC)} \circ s_{(OD)} = \text{Id}$ .



ISOMÉTRIES

♦ Exercice 16 p. 84

Les isométries conservent les distances, l'orthogonalité et le parallélisme. Ainsi par une isométrie : l'image d'un quadrilatère ayant ses côtés opposés de même longueur est un quadrilatère ayant ses côtés opposés de même longueur ;

l'image d'un quadrilatère ayant ses quatre côtés de même longueur est un quadrilatère ayant ses quatre côtés de même longueur ;

l'image d'un quadrilatère ayant ses diagonales perpendiculaires est un quadrilatère ayant ses diagonales perpendiculaires. On en déduit que : l'image d'un carré est un carré ; l'image d'un rectangle est un rectangle ; l'image d'un losange est un losange.

♦ Exercice 17 p. 84

1. Toutes les symétries dont l'axe passe par O laissent globalement invariant tout cercle ( $\mathcal{C}$ ) de centre O.

2. Toutes les rotations de centre O laissent globalement invariant tout cercle ( $\mathcal{C}$ ) de centre O.

♦ Exercice 18 p. 84

a) Les isométries qui laissent globalement invariant le pentagone ABCDE sont :

Id ;  $r(O, \frac{2\pi}{5})$  ;  $r(O, \frac{4\pi}{5})$  ;  $r(A, -\frac{2\pi}{3})$  ;  $r(O, -\frac{4\pi}{5})$  ;  $s_{(AA)}$  ;  $s_{(BB)}$  ;  $s_{(CC)}$  ;  $s_{(DD)}$  ;  $s_{(EE)}$ .

b) Les isométries qui laissent globalement invariant l'hexagone FGHIJK sont :

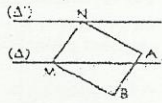
Id ;  $r(O, \frac{\pi}{3})$  ;  $r(O, \frac{2\pi}{3})$  ;  $r(O, -\frac{\pi}{3})$  ;  $r(O, -\frac{2\pi}{3})$  ;  $s_O$  ;  $s_{(G)}$  ;  $s_{(H)}$  ;  $s_{(I)}$  ;  $s_{(J)}$  ;  $s_{(K)}$  ;  $s_{(F)}$ .

♦ Exercice 19 p. 84

1. NABM est un parallélogramme  $\Leftrightarrow \begin{cases} (NM) \parallel (AB) \\ (NA) \parallel (BM) \end{cases}$

2.  $\vec{MN} = \vec{BA} \Leftrightarrow N = t_{\vec{BA}}(M)$ .

Le lieu de N lorsque M décrit  $(\Delta)$  est la droite  $(\Delta')$ , image de  $(\Delta)$  par la translation de vecteur  $\vec{BA}$ .

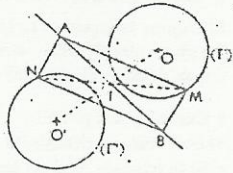


♦ Exercice 20 p. 84

1. NABM est un parallélogramme  $\Leftrightarrow \begin{cases} (AN) \parallel (BM) \\ (NB) \parallel (AM) \end{cases}$

2. Soit I le milieu de [AB]. On a :  $N = S_I(M)$ .

Le lieu de N lorsque M décrit  $(\Gamma)$  est le cercle  $(\Gamma')$ , image de  $(\Gamma)$  par la symétrie de centre I.

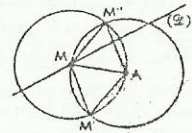


♦ Exercice 21 p. 84

Soit r la rotation de centre A et d'angle  $\frac{\pi}{3}$  et r' la rotation de centre A et d'angle  $-\frac{\pi}{3}$ . On remarque que :  $r' = r^{-1}$ .

On a :  $M' = r(M)$  ; donc le lieu de M' lorsque M décrit  $(\mathcal{Q})$  est la droite  $(\mathcal{Q}')$ , image de  $(\mathcal{Q})$  par la rotation r.

On a :  $M'' = r'(M')$  ; donc le lieu de M'' lorsque M' décrit  $(\mathcal{Q}')$  est la droite  $(\mathcal{Q}'')$ , image de  $(\mathcal{Q}')$  par la rotation r'.



♦ Exercice 22 p. 84

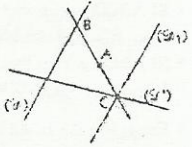
$\begin{cases} B \in (\mathcal{Q}) \\ S_A(B) = C \end{cases} \Rightarrow C \in S_A(\mathcal{Q})$ .

Donc C est le point d'intersection de  $S_A(\mathcal{Q})$  et  $(\mathcal{Q}')$ .

Programme de construction

Construire la droite  $(\mathcal{Q}_1)$ , image de  $(\mathcal{Q})$  par la symétrie  $S_A$  ;

C est le point d'intersection de  $(\mathcal{Q}_1)$  et  $(\mathcal{Q}')$  ; B est le point d'intersection de  $(\mathcal{Q}_1)$  et (AC).



♦ Exercice 23 p. 84

$\begin{cases} AM = AM' \\ BM = BM' \end{cases} \Leftrightarrow (AB) \text{ est la médiatrice de } [MM']$ .

On a :  $M \in (\mathcal{Q}) \Rightarrow M' \in S_{(AB)}(\mathcal{Q})$ .

Donc M' est le point d'intersection de  $S_{(AB)}(\mathcal{Q})$  et  $(\mathcal{Q}')$ .

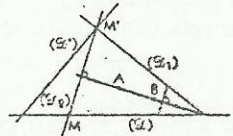
Programme de construction

• Construire la droite  $(\mathcal{Q}_1)$ , image de  $(\mathcal{Q})$  par la symétrie  $S_{(AB)}$  ;

M' est le point d'intersection de  $(\mathcal{Q}_1)$  et  $(\mathcal{Q}')$  ;

• construire la perpendiculaire  $(\mathcal{Q}_2)$  à (AB) passant par M' ;

M est le point d'intersection de  $(\mathcal{Q}_2)$  et  $(\mathcal{Q}')$ .



♦ Exercice 24 p. 84

Soit I le milieu de [BC].

$\vec{AG} = \frac{2}{3} \vec{AI} \Rightarrow \vec{AI} = \frac{3}{2} \vec{AG}$ .

I milieu de [BC]  $\Leftrightarrow S_1(B) = C$ .

$B \in (\mathcal{Q}) \Rightarrow C \in S_1(\mathcal{Q})$ .

Donc, C est le point d'intersection de  $S_1(\mathcal{Q})$  et  $(\mathcal{Q})$ .

**Programme de construction**

• Construire le point I tel que :  $\overline{AI} = \frac{3}{2} \overline{AG}$  ;

• construire la droite  $(\mathcal{Q}_1)$ , image de  $(\mathcal{Q})$  par la symétrie  $S_1$  ;

C est le point d'intersection de  $(\mathcal{Q}_1)$  et  $(\mathcal{Q})$  ;

B est le point d'intersection de  $(\mathcal{Q})$  et (IC).

♦ Exercice 25 p. 84

Soit r la rotation de centre A et d'angle  $\frac{\pi}{2}$ .

On a :  $r(B) = C$  et  $r(B') = C'$ .

Donc :  $BB' = CC'$  et mes  $(\overline{BB'}, \overline{CC'}) = \frac{\pi}{2}$ .

♦ Exercice 26 p. 84

Soit r la rotation de centre A et d'angle  $\frac{\pi}{3}$ .

On a :  $r(B) = C$  et  $r(B') = C'$ .

Donc :  $BB' = CC'$  et mes  $(\overline{BB'}, \overline{CC'}) = \frac{\pi}{3}$ .

♦ Exercice 27 p. 84

Soit r le quart de tour direct de centre C.

On a :  $r(D) = B$  ; donc :  $r([DI]) = [BE]$ .

De plus :  $DI = BE$  ; donc :  $r(I) = E$ .

On en déduit que le triangle ICE est isocèle et rectangle en C.

♦ Exercice 28 p. 84

Soit r la rotation de centre A et d'angle  $\frac{\pi}{2}$ .

On a :  $r(B) = D$  et  $r(E) = G$ .

$BE = DG$  et mes  $(\overline{BE}, \overline{DG}) = \frac{\pi}{2}$ .

♦ Exercice 29 p. 84

Soit O le centre du triangle ABC.

Soit r la rotation de centre O et d'angle  $\frac{2\pi}{3}$ .

• On a :  $r(C) = A$  et mes  $(\overline{CA'}, \overline{AB'}) = \pi - \frac{\pi}{3} = \frac{2\pi}{3}$  ;  
donc :  $r([CA']) = [AB']$ .

De plus :  $AA' = BB'$  ; donc :  $r(A') = B'$ .

• On montre de la même façon que :  $r(B') = C'$  et  $r(C') = A'$ .

Donc,  $A'B'C'$  est un triangle équilatéral de sens direct.

♦ Exercice 30 p. 84

On a :  $r \circ r = s_O$  et  $(s_O)^{-1} = s_O$ . Donc :  $r \circ r(A') = A$  et  $r(A') = r^{-1}(A) = C$ .

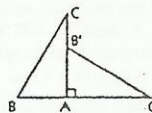
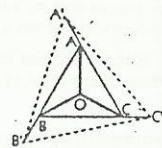
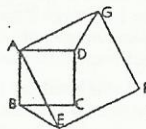
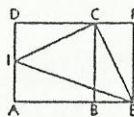
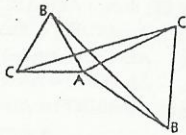
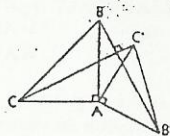
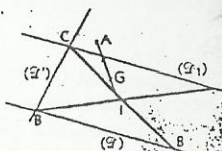
On en déduit :  $A'B = CD$  et mes  $(\overline{A'B}, \overline{CD}) = \frac{\pi}{2}$ .

♦ Exercice 31 p. 84

Soit r la rotation de centre A et d'angle  $-\frac{\pi}{2}$ .

On a :  $r(B) = B'$  et  $r(C) = C'$ .

Donc :  $BC = B'C'$  et mes  $(\overline{BC}, \overline{B'C'}) = -\frac{\pi}{2}$ .



♦ Exercice 32 p. 84

1. Les triangles PQR et SRT vérifient le second critère d'isométrie et sont orientés dans le même sens ; ils sont donc directement superposables.



On a : L'angle  $\theta$  de la rotation r est  $(\overrightarrow{ST}, \overrightarrow{PR})$  qui a pour mesure  $\frac{\pi}{2}$ .

Soit I le centre de la rotation r.

I est le point d'intersection des médiatrices des segments [QR] et [RT].

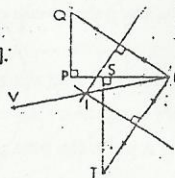
2. On a :  $s_1(R) = V$  ; donc :  $s_1(V) = R$  ; c'est-à-dire :  $r \circ r(V) = R$ .

On en déduit :  $r(V) = r^{-1}(R) = T$ .

• D'après la question 1 :  $r(S) = P$ .

• On a :  $r(Q) = r \circ r(R) = s_1(R) = V$ .

L'image du triangle VSQ par la rotation r est le triangle TPV.



### Exercices d'approfondissement

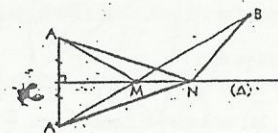
♦ Exercice 33 p. 85

Soit A' le symétrique de A par rapport à  $(\Delta)$  et M le point d'intersection des droites  $(\Delta)$  et  $(A'B)$ .

On a :  $AM + MB = A'M + MB = A'B$ .

Le trajet  $AM + MB$  est minimal. En effet, soit N un autre point de  $(\Delta)$ . Dans le triangle A'BN, on a :  $A'B < A'N + NB$  ;

c'est-à-dire :  $AM + MB < AN + NB$ .



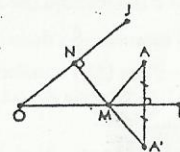
♦ Exercice 34 p. 85

Soit A' le symétrique de A par rapport à (OI).

On a :  $AM + MN = A'M + MN$ .

Cette somme est minimale si M appartient au segment [A'N].

On construit donc le projeté orthogonal N de A' sur (OJ) ; M est le point d'intersection du segment [A'N] et de la demi-droite (OI).



♦ Exercice 35 p. 85

Chaque pont détermine un vecteur. Soit A' l'image de A par la translation correspondant au premier bras, B' l'antécédent de B par la translation correspondant au second bras et C, D les points d'intersections respectifs du segment [A'B'] avec les intérieurs du premier et du second bras. Pour tout trajet

$AMM'NN'B$ , on a :

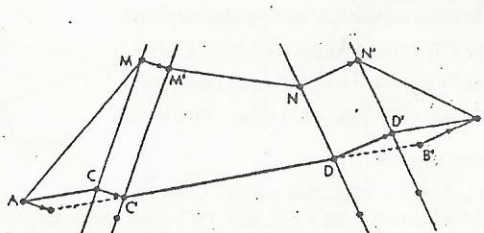
$AM + MN + NB = A'M' + MN + NB'$ .

Donc, d'après l'inégalité triangulaire :

$AM + MN + NB \geq A'B'$ .

De plus, la somme  $MM' + NN'$  est constante ;

le trajet minimal est donc :  $ACC'DD'B$ .

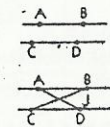


♦ Exercice 36 p. 85

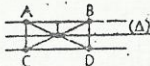
1. Si (AB) et (CD) sont deux droites parallèles, alors les vecteurs  $\overline{AB}$  et  $\overline{CD}$  sont soit égaux soit opposés.

• S'ils sont égaux, on peut prendre :  $f = t \overline{AC}$

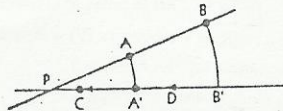
• S'ils sont opposés, on peut prendre :  $f = S_J$ , où J est le milieu de [AC].



2. Si  $[AB]$  et  $[CD]$  ont même milieu  $I$ , alors le quadrilatère  $ACBD$  est un rectangle. On peut prendre :  $f = S_{(A)}$ , où  $(A)$  est la parallèle à  $(AD)$  passant par  $I$ .



3. Si  $(AB)$  et  $(CD)$  sont deux droites sécantes en un point  $P$ , alors on considère la rotation  $r$  de centre  $P$  et d'angle  $(\widehat{AB}, \widehat{CD})$  et le point  $A'$ , image de  $A$  par  $r$ . On peut prendre :  $f = t_{\vec{AC}} \circ r$ .



♦ Exercice 37 p. 85

On a :  $s_A(A) = A$ ,  $r(A) = C$ ,  $r(C) = C$  et  $r(C) = A$ .

Le point  $A$  est donc un point invariant de  $f$ .

$f$  est une composée de rotations, c'est donc soit une rotation soit une translation.

• Si  $\gamma$  est l'angle nul, alors  $f$  est l'identité.

• Si  $\gamma$  n'est pas l'angle nul, alors  $f$  est la rotation de centre  $A$  et d'angle  $\gamma$ .

♦ Exercice 38 p. 85

1. Soit  $I$  le point d'intersection des demi-droites  $[AC]$  et  $[BD]$ .

L'angle  $(\widehat{IA}, \widehat{IB})$  mesure  $\frac{\pi}{6}$ ; donc :  $f = r(I, \frac{\pi}{3})$ .

2. Soit  $J$  le point d'intersection des demi-droites  $[AB]$  et  $[CD]$ .

L'angle  $(\widehat{JA}, \widehat{JC})$  mesure  $-\frac{\pi}{6}$ ; donc :  $g = r(J, -\frac{\pi}{3})$ .

3. La symétrie  $s$  d'axe  $(AD)$  transforme  $[AC]$  en  $[AB]$  et  $[BD]$  en  $[CD]$ , donc  $I$  en  $J$ . Le triangle  $AIJ$  est isocèle en  $A$  et  $\text{mes } A = \frac{\pi}{3}$ ; donc  $AJ$  est équilatéral.

On a :  $g \circ f = r(J, -\frac{\pi}{3}) \circ r(I, \frac{\pi}{3})$  et  $\frac{\pi}{3} - \frac{\pi}{3} = 0$ ;

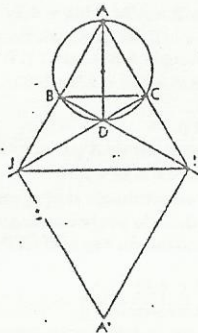
donc,  $g \circ f$  est une translation ou l'identité.

Soit  $A'$  le point tel que  $IJA'$  soit équilatéral direct.

On a :  $g \circ f(I) = r(J, -\frac{\pi}{3})(I) = A'$ ; donc :  $g \circ f = t_{\vec{IA}'}$ .

De même  $f \circ g$  est une translation ou l'identité.

On a :  $f \circ g(I) = r(I, \frac{\pi}{3})(I) = A'$ ; donc :  $f \circ g = t_{\vec{IA}'}$ .



♦ Exercice 39 p. 85

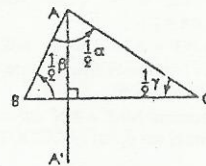
On a :  $2(\widehat{AB}, \widehat{AC}) + 2(\widehat{BC}, \widehat{BA}) + 2(\widehat{CA}, \widehat{CB}) = \widehat{0}$ .

On en déduit que  $r(A, \alpha) \circ r(B, \beta) \circ r(C, \gamma)$  est une translation ou l'identité.

Soit  $A'$  le symétrique de  $A$  par rapport à  $(BC)$ .

On a :  $r(A, \alpha) = A'$ ,  $r(A') = A$  et  $r(A) = A$ .

Donc,  $r(A, \alpha) \circ r(B, \beta) \circ r(C, \gamma)$  est l'identité.



♦ Exercice 40 p. 85

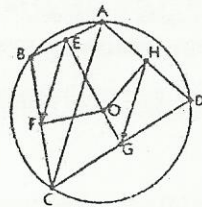
1. a) Appliquons le théorème des milieux aux triangles  $ABC$  et  $ACD$  :

$\vec{EF} = \frac{1}{2} \vec{AC} = \vec{HG}$ ; donc  $EFGH$  est un parallélogramme.

b)  $s_E \circ s_F \circ s_G \circ s_H = t_{2\vec{FE}} \circ t_{2\vec{HG}} = t_{2(\vec{FE} + \vec{HG})} = \text{Id}$ .

2. a)  $O$  est équidistant des points  $A, B, C$  et  $D$ ; c'est donc le point de concours des médiatrices des côtés du quadrilatère  $ABCD$ .

b)  $s_{(OB)} \circ s_{(OF)} \circ s_{(OC)} \circ s_{(OH)}$  est une rotation (composée de rotations de même centre) qui laisse invariant les points  $O$  et  $A$ ; c'est donc l'identité.



♦ Exercice 41 p. 85

Soit  $r$  le quart de tour direct de centre  $O$ .

$B'$  le point d'intersection des segments  $[BC]$  et  $[OE]$

$C'$  le point d'intersection des segments  $[CD]$  et  $[OG]$ .

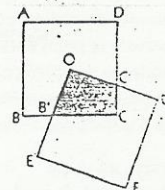
Le triangle  $OB'C$  a pour image par  $r$  le triangle  $OCD$  :

Donc : Aire( $OB'C$ ) = Aire( $OCD$ ).

On a : Aire( $OB'CC'$ ) = Aire( $OB'C$ ) + Aire( $OCC'$ )

= Aire( $OCD$ ) + Aire( $OCC'$ )

= Aire( $OCD$ ) =  $\alpha^2$ .



♦ Exercice 42 p. 85

La translation de vecteur  $\vec{AC}$  applique le triplet  $(A, B, D)$  sur le triplet  $(C, F, E)$ ; donc : Aire( $ABD$ ) = Aire( $CEF$ ).

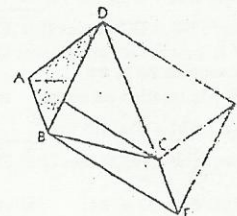
On a : Aire( $BDEF$ ) = Aire( $BCD$ ) + Aire( $ECF$ ) + Aire( $CED$ ) + Aire( $CFB$ )

Or : Aire( $ECF$ ) = Aire( $BAD$ ); Aire( $CED$ ) = Aire( $ADC$ );

Aire( $CFB$ ) = Aire( $ABC$ ).

Donc : Aire( $BDEF$ ) = Aire( $BCD$ ) + Aire( $BAD$ ) + Aire( $ADC$ ) + Aire( $ABC$ )

= Aire( $ABCD$ ) + Aire( $ABCD$ ) = 2Aire( $ABCD$ ).



♦ Exercice 43 p. 85

1. Soit  $s$  une symétrie orthogonale laissant globalement invariant le triangle  $ABC$ . La symétrie  $s$  conserve l'isobarycentre, donc  $O$  est invariant par  $s$ ; ainsi  $O$  appartient à l'axe de  $s$ . L'image d'un sommet est un sommet, le point  $A$  a donc pour image soit  $A$ , soit  $B$ , soit  $C$ ; ces trois cas correspondent respectivement à  $s = s_{(OA)}$ ,  $s = s_{(OC)}$  et  $s = s_{(OB)}$ .

2. Soit  $f$  une rotation laissant globalement invariant le triangle  $ABC$ . La rotation  $f$  conserve l'isobarycentre, donc  $O$  est invariant par  $f$ ; ainsi  $O$  est le centre de  $f$  (si  $f \neq \text{Id}$ ). L'image d'un sommet est un sommet, le point  $A$  a donc pour image soit  $A$ , soit  $B$ , soit  $C$ ; ces trois cas correspondent respectivement à  $f = \text{Id}$ ,  $f = r$  et  $f = r^{-1}$ .

3. D'après le tableau ci-joint (E) est stable par composition et par passage à l'inverse, c'est donc un groupe de transformations du plan.

Commentaire

Il conviendra de signaler que  $(E)$  est en fait le groupe des isométries du triangle équilatéral  $ABC$ .

$\circ$	Id	$r$	$r^{-1}$	$s_{(OA)}$	$s_{(OB)}$	$s_{(OC)}$
Id	Id	$r$	$r^{-1}$	$s_{(OA)}$	$s_{(OB)}$	$s_{(OC)}$
$r$	$r$	$r^{-1}$	Id	$s_{(OC)}$	$s_{(OA)}$	$s_{(OB)}$
$r^{-1}$	$r^{-1}$	Id	$r$	$s_{(OB)}$	$s_{(OC)}$	$s_{(OA)}$
$s_{(OA)}$	$s_{(OA)}$	$s_{(OB)}$	$s_{(OC)}$	Id	$r$	$r^{-1}$
$s_{(OB)}$	$s_{(OB)}$	$s_{(OC)}$	$s_{(OA)}$	$r^{-1}$	Id	$r$
$s_{(OC)}$	$s_{(OC)}$	$s_{(OA)}$	$s_{(OB)}$	$r$	$r^{-1}$	Id

♦ Exercice 44 p. 86

1. Soit  $s$  une symétrie orthogonale laissant globalement invariant le carré  $ABCD$ . La symétrie  $s$  conserve l'isobarycentre, donc  $O$  est invariant par  $s$ ; ainsi  $O$  appartient à l'axe de  $s$ . L'image d'un sommet est un sommet, le point  $A$  a donc pour image soit  $A$ , soit  $B$ , soit  $C$ , soit  $D$ ; ces quatre cas correspondent respectivement à  $s = s_{(AC)}$ ,  $s = s_A$ ,  $s = s_{(BD)}$  et  $s = s_A$ .

2. Soit  $f$  une rotation laissant globalement invariant le carré  $ABCD$ . La rotation  $f$  conserve l'isobarycentre, donc  $O$  est invariant par  $f$ ; ainsi  $O$  est le centre de  $f$  (si  $f \neq \text{Id}$ ). L'image d'un sommet est un sommet, le point  $A$  a pour image soit  $A$ , soit  $B$ , soit  $C$ , soit  $D$ ; ces quatre cas correspondent respectivement à  $f = \text{Id}$ ,  $f = r$ ,  $f = s_O$  et  $f = r^{-1}$ .

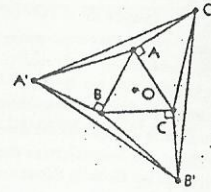
3. D'après le tableau ci-joint (E) est stable par composition et par passage à l'inverse, c'est donc un groupe de transformations.

$\circ$	Id	$r$	$r^{-1}$	$s_O$	$s_A$	$s_{(AC)}$	$s_{(BD)}$
Id	Id	$r$	$r^{-1}$	$s_O$	$s_A$	$s_{(AC)}$	$s_{(BD)}$
$r$	$r$	$s_O$	Id	$r^{-1}$	$s_{(BD)}$	$s_{(AC)}$	$s_A$
$r^{-1}$	$r^{-1}$	Id	$s_O$	$r$	$s_{(AC)}$	$s_{(BD)}$	$s_A$
$s_O$	$s_O$	$r^{-1}$	$r$	Id	$s_A$	$s_{(BD)}$	$s_{(AC)}$
$s_A$	$s_A$	$s_{(AC)}$	$s_{(BD)}$	$s_A$	Id	$s_O$	$r$
$s_{(AC)}$	$s_{(AC)}$	$s_{(BD)}$	$s_{(AC)}$	$s_A$	$s_O$	Id	$r^{-1}$
$s_{(BD)}$	$s_{(BD)}$	$s_A$	$s_A$	$s_{(AC)}$	$r$	$r^{-1}$	$s_O$

Il conviendra de signaler que (E) est en fait le groupe des isométries du carré.

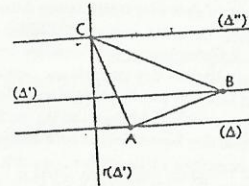
◆ Exercice 45 p. 85

Les triangles ACC', BAA', et CBB' sont directement superposables.  
Soit O le centre de gravité du triangle ABC et r la rotation de centre O et d'angle  $\frac{2\pi}{3}$ .  
r conserve les angles orientés et  $r(\overrightarrow{AC}) = \overrightarrow{BA}$ , on en déduit :  $r(\overrightarrow{AC'}) = \overrightarrow{BA'}$  ;  
or :  $BA' = AC'$ , donc :  $r(C') = A'$ .  
De même :  $r(A') = B'$  et  $r(B') = C'$ .  
Le triangle A'B'C' est donc équilatéral de sens direct.



◆ Exercice 46 p. 86

On choisit un point A quelconque sur la droite (Δ).  
On considère la rotation :  $r = r(A, \frac{\pi}{2})$ .  
On construit l'image de (Δ') par r.  
Les droites r(Δ') et (Δ'') se coupent au point C.  
On a :  $B = r^{-1}(C)$ .



◆ Exercice 47 p. 86

Soit r la rotation de centre A et d'angle  $\frac{\pi}{3}$ .

1. Le triangle recherché peut être direct ou indirect.

• S'il est direct, alors  $C = r(B)$ . Le point C appartient à l'intersection des cercles (C) et r(C) et B est l'antécédent de C par r. On obtient alors les triangles ABC et AB'C' construits sur la figure 1.

• S'il est indirect, alors  $C = r^{-1}(B)$ . Le point C appartient à l'intersection des cercles (C) et  $r^{-1}(C)$  et B est l'image de C par r. On obtient alors les deux autres triangles équilatéraux construits sur la figure 1.

Il y a donc en tout quatre triangles solutions.

2. Le triangle recherché peut être direct ou indirect.

• S'il est direct, alors  $C = r(B)$ . Le point C appartient à l'intersection des cercles (C) et r(C) et B est l'antécédent de C par r. On obtient alors les triangles ABC et AB'C' construits sur la figure 2.

• S'il est indirect, alors  $B = r(C)$ . Le point B appartient à l'intersection des cercles (C) et r(C) et C est l'antécédent de B par r. On obtient alors les mêmes triangles.

Il y a donc deux triangles solutions.

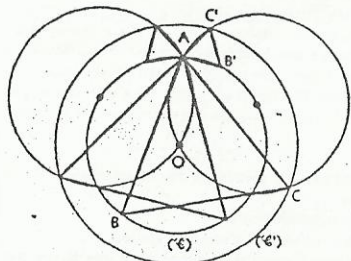


figure 1

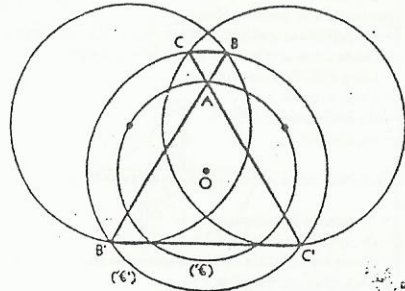


figure 2

◆ Exercice 48 p. 86

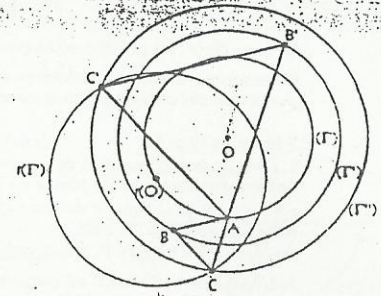
On choisit un point A sur le cercle (Γ).

On construit l'image de (Γ') par la rotation r de centre A et d'angle  $\frac{\pi}{3}$ .

Les cercles r(Γ') et (Γ') se coupent en deux points C et C'.

On prend :  $B = r^{-1}(C)$  et  $B' = r^{-1}(C')$ .

Il y a donc deux triangles solutions ABC et AB'C'.



◆ Exercice 49 p. 86

Soit N l'image de M par la rotation r de centre A et d'angle  $\frac{\pi}{3}$ .

La rotation r applique (A,M,B) sur (A,N,C).

Donc, le triangle AMN est équilatéral et :  $\overrightarrow{CN, CA} = \overrightarrow{BM, BA}$ .

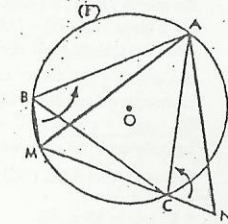
Les angles inscrits  $\widehat{ABM}$  et  $\widehat{ACM}$  sont supplémentaires ;

donc :  $\overrightarrow{CA, CM} + \overrightarrow{BM, BA} = \pi$ .

On en déduit que :  $\overrightarrow{CN, CA} = \pi - \overrightarrow{CA, CM}$ .

Donc, le point C appartient au segment [MN].

On a :  $BM + MC = CN + MC = MN = MA$ .



◆ Exercice 50 p. 86

Si le triangle IJK n'est pas rectangle en K (figure 1) :

- on choisit un point A sur la droite (IJ) ;

- on construit l'image de (JK) par le quart de tour direct r de centre A ;

- les droites r((JK)) et (IK) se coupent au point C. On prend :  $B = r^{-1}(C)$ .

Si le triangle IJK est rectangle en K (figure 2), alors la bissectrice issue de K coupe (IJ) au point A. B et C sont les projetés orthogonaux de A respectivement sur (KJ) et (KI).

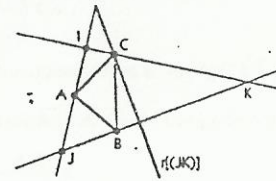


figure 1

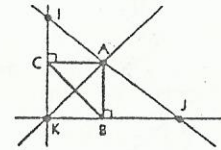


figure 2

◆ Exercice 51 p. 86

$$1. a) \overrightarrow{OM} = \overrightarrow{OA} + \overrightarrow{OB} + \overrightarrow{OC} \Leftrightarrow \overrightarrow{OM} - \overrightarrow{OA} = \overrightarrow{OB} + \overrightarrow{OC} \\ \Leftrightarrow \overrightarrow{AM} = 2 \overrightarrow{OI}$$

La droite (OI) est la médiatrice de [BC] ; donc :  $(AM) \perp (BC)$ .

b) On a de même :  $(BM) \perp (AC)$  et  $(CM) \perp (AB)$ .

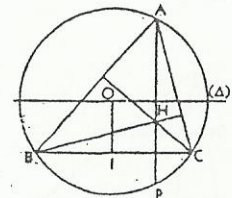
Donc, M est l'orthocentre du triangle ABC.

$$2. a) f(P) = t_{\overrightarrow{HA}} \circ s_{(BC)}(P) = t_{\overrightarrow{HA}}(H) = A.$$

$$b) \text{D'après 1. a : } \overrightarrow{HA} = 2 \overrightarrow{IO}.$$

Soit (Δ) la parallèle à (BC) passant par O ; on a :  $t_{\overrightarrow{HA}} = s_{\Delta} \circ s_{(BC)}$ .

c) On déduit de a) et b) que :  $f = s_{\Delta}$ .



Or le cercle  $(\Gamma)$  est globalement invariant par  $s_A$ ; donc P appartient au cercle  $(\Gamma)$ .

Nous venons d'établir la théorème suivant : « Dans un triangle, le symétrique de l'orthocentre par rapport à l'un des côtés appartient au cercle circonscrit. »

♦ Exercice 52 p. 86

1.  $r \circ r'$  est la composée de deux quarts de tour directs, c'est donc une symétrie centrale. De plus,  $r \circ r'(F) = D$ ; donc :  $r \circ r' = s_K$ .

$r^{-1} \circ r'^{-1}$  est la composée de deux quarts de tour indirects; c'est donc une symétrie centrale.

De plus :  $r^{-1} \circ r'^{-1}(D) = F$ ; donc :  $r^{-1} \circ r'^{-1} = s_K$ .

2. L'image de  $(AH)$  par  $r'$  est perpendiculaire à  $(AH)$  et passe par  $r'(A) = C$ ; donc :  $r'(AH) = (BC)$ .

De même :  $r(BC) = (AH)$ .

On a ainsi :  $s_K(AH) = (AH)$ ;

donc les points A, H et K sont alignés.

3. On a :  $r \circ r'(A) = A' \Leftrightarrow r(C) = A'$ .

La rotation  $r$  applique  $(C, E)$  sur  $(A', B)$ ; donc :  $(EC) \perp (A'B)$ .

On a :  $r^{-1} \circ r'^{-1}(A) = A' \Leftrightarrow r^{-1}(B) = A'$ .

La rotation  $r^{-1}$  applique  $(B, G)$  sur  $(A', C)$ ; donc :  $(BG) \perp (A'C)$ .

4. Les droites  $(EC)$ ,  $(BG)$  et  $(AH)$  sont les trois hauteurs du triangle  $A'BC$ ; elles sont donc concourantes.

♦ Exercice 53 p. 86

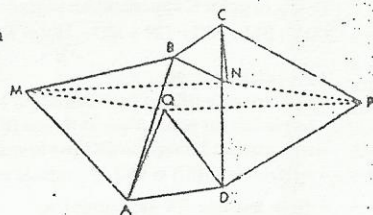
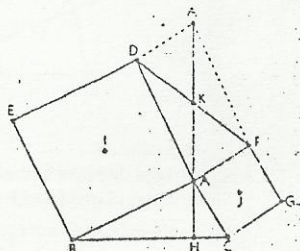
Soit  $r_1$  la rotation de centre A et d'angle  $\frac{\pi}{3}$  et  $r_2$  la rotation de centre C et d'angle  $\frac{\pi}{3}$ .

On a :  $r_1^{-1}(M) = B$  et  $r_2(B) = N$ ; donc :  $r_2 \circ r_1^{-1}(M) = N$ .

$r_1^{-1}(Q) = D$  et  $r_2(D) = P$ ; donc :  $r_2 \circ r_1^{-1}(Q) = P$ .

Or  $r_2 \circ r_1^{-1}$  est une translation; donc :  $\overline{MN} = \overline{QP}$

On en déduit que  $MNPQ$  est un parallélogramme.



# 5 Homothéties

[pages 87 à 106 du livre de l'élève]

## COMPÉTENCES

Ce chapitre vise à :

consolider les connaissances sur les homothéties vues en Seconde ;

étudier la composée de deux homothéties, la composée d'une homothétie et d'une isométrie ;

utiliser des homothéties dans la résolution de problèmes de constructions, de recherche de lieux géométriques ou dans la démonstration de propriétés.

## CONTENU

Ce chapitre doit être traité après celui des isométries et celui du barycentre

L'homothétie a été vue en Seconde au niveau 1 (définition, construction d'images de points et de figures). Le programme de Première indique que l'on doit poursuivre cette étude au niveau 2.

L'assimilation des propriétés rappelées dans la première leçon est indispensable pour la suite, mais elle est facilitée par l'analogie avec les propriétés des isométries.

L'expression analytique est un outil puissant pour reconnaître une homothétie. Cependant, l'essentiel de l'étude des homothéties sera consacré à l'aspect géométrique de ces transformations.

Les exercices utilisant les homothéties pour la démonstration de propriétés ou pour la résolution de problèmes de construction, de recherche de lieu géométrique et d'optimisation sont souvent d'un abord délicat. Il est conseillé d'être très prudent en proposant ce type d'exercices pour une évaluation des élèves. On n'hésitera pas à donner des indications, si nécessaire.

L'étude des similitudes n'est pas au programme de Première. Le seul usage qu'on peut en faire, et sans excès, doit être la recherche d'images de figures simples ou la détermination de critères de similitude de deux triangles. En particulier, si on peut se permettre de déterminer les éléments caractéristiques de la composée de deux homothéties ou d'une homothétie et d'une translation, il ne saurait en être question pour la composée d'une homothétie et d'une rotation, ou d'une homothétie et d'une symétrie orthogonale.

## SAVOIRS ET SAVOIR-FAIRE

savoirs	savoir-faire
<p><b>Les homothéties et leurs utilisations</b></p> <ul style="list-style-type: none"> <li>L'homothétie est une transformation.</li> <li>Nature et éléments caractéristiques de la réciproque d'une homothétie.</li> <li>Propriété caractéristique.</li> <li>Expression analytique d'une homothétie.</li> <li>Images de figures simples</li> <li>Conservation : <ul style="list-style-type: none"> <li>du barycentre ;</li> <li>du contact.</li> </ul> </li> </ul>	<ul style="list-style-type: none"> <li>Reconnaître une homothétie à partir de la propriété caractéristique.</li> <li>Dans des cas simples, utiliser les propriétés des homothéties pour résoudre un problème de construction, de recherche de lieu géométrique ou pour démontrer une propriété.</li> <li>Déterminer l'expression analytique d'une homothétie.</li> <li>Reconnaître une homothétie et ses éléments caractéristiques à partir de son expression analytique.</li> <li>Déterminer l'image d'un point ou d'une figure par une homothétie en utilisant son expression analytique.</li> </ul>
<p><b>Composition d'homothéties et d'isométrie</b></p> <ul style="list-style-type: none"> <li>Nature de la composée : <ul style="list-style-type: none"> <li>de deux homothéties ;</li> <li>d'une homothétie et d'une translation.</li> </ul> </li> <li>Triangles semblables.</li> </ul>	<ul style="list-style-type: none"> <li>Déterminer les éléments caractéristiques de la composée : <ul style="list-style-type: none"> <li>de deux homothéties ;</li> <li>d'une homothétie et d'une translation.</li> </ul> </li> <li>Déterminer l'image d'un point ou d'une figure par la composée : <ul style="list-style-type: none"> <li>de deux homothéties ;</li> <li>d'une homothétie et d'une translation.</li> </ul> </li> </ul>

Exercices du cours

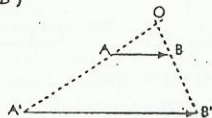
◆ Exercice 1.a p. 95

- L'homothétie a pour centre G, centre de gravité de ABC, et pour rapport  $-\frac{1}{2}$ .
- L'homothétie conserve le centre de gravité : donc le centre de gravité du triangle A'B'C' est l'image par h du centre de gravité G du triangle ABC. Or : h(G) = G ; donc les triangles ABC et A'B'C' ont même centre de gravité.

◆ Exercice 1.b p. 95

- $A'B' = 3AB$ . Donc, il existe une homothétie de rapport 3 transformant A en A' et B en B'.  
Construisons son centre O :

a)  $(AB) \neq (A'B')$

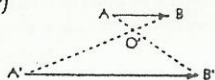


• Si  $(A'B') \neq (AB)$ , alors O est le point d'intersection des droites  $(AA')$  et  $(BB')$ .

- $A'B' = -3AB$ . Donc, il existe une homothétie de rapport  $-3$  transformant A en B' et B en A'.

Construisons son centre O' :

a)  $(AB) \neq (A'B')$



◆ Exercice 1.c p. 95

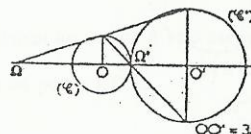
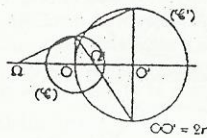
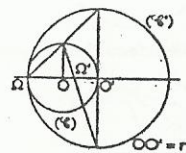
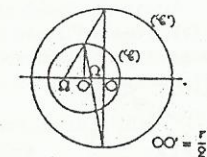
On a :  $\vec{GM}' = 3\vec{GM}$ . Donc : f = hom(G,3).

◆ Exercice 1.d p. 95

- Il existe deux homothéties h et h', de rapport respectifs 2 et  $-2$ , transformant (C) en (C').
- Soit  $\Omega$  et  $\Omega'$  les centres respectifs des homothéties h et h'.

a) On a :  $\vec{\Omega O'} = 2\vec{\Omega O} \Leftrightarrow \vec{O\Omega} = -\vec{O'O}$  et  $\vec{\Omega'O} = -2\vec{\Omega'O} \Leftrightarrow \vec{O\Omega} = \frac{1}{3}\vec{O'O}$ .

b) Construction de  $\Omega$  et  $\Omega'$  :



◆ Exercice 1.e p. 95

- L'homothétie h a pour expression analytique :  $\begin{cases} x' = -\frac{3}{2}x - 5 \\ y' = -\frac{3}{2}y + \frac{5}{2} \end{cases}$

2. On a :  $A \left( -\frac{2}{3} \right)$ .

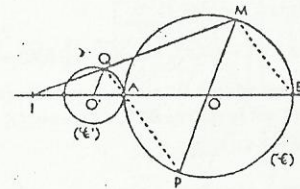
◆ Exercice 1.f p. 95

- Les droites (BM) et (PQ) sont toutes deux perpendiculaires à (AM), donc elles sont parallèles.

2. Soit h l'homothétie de centre I qui transforme B en A ; h a pour rapport  $\frac{1}{3}$  et M a pour image Q par h.

Le point M décrit (C) privé de A et B ; donc, Q décrit l'image de (C) par h, privée des images de A et B.

Le lieu de Q est le cercle passant par A et de centre O' point d'intersection de (AB) avec la parallèle à (MP) passant par Q.



◆ Exercice 1.g p. 95

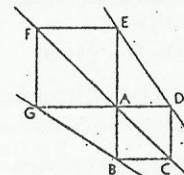
$\vec{AE} = -\frac{3}{2}\vec{AB}$  ; donc :  $\vec{FG} = \frac{3}{2}\vec{AB}$ .

On en déduit que les points A, B, C, D ont pour images respectives F, G, A, E par une homothétie h de rapport  $\frac{3}{2}$ .

Soit O le centre de cette homothétie.

Le centre de l'homothétie, un point et son image sont alignés.

Donc, les droites (AC), (DE) et (BG) sont concourantes en O.



◆ Exercice 2.a p. 102

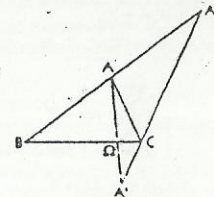
- $h' \circ h$  est une homothétie de rapport  $-\frac{2}{3}$ .

2. Le centre  $\Omega$  de cette homothétie est le point d'intersection des droites (BC) et  $(AA')$ , A' étant l'image du point A par  $h' \circ h$ .

Construction de A'

• On construit  $A_1$  tel que :  $\vec{BA}_1 = 2\vec{BA}$  ;

• on construit A' tel que :  $\vec{CA}' = -\frac{1}{3}\vec{CA}_1$ .



◆ Exercice 2.b p. 102

- Le produit des rapports des homothéties h et h' est égal à 1. Donc,  $h' \circ h$  est une translation.

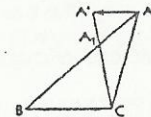
2. Le vecteur de cette translation est  $\vec{AA'}$ , A' étant l'image de A par  $h' \circ h$ .

Construction de A'

• On construit  $A_1$  tel que :  $\vec{BA}_1 = \frac{2}{3}\vec{BA}$  ;

• on construit A' tel que :  $\vec{CA}' = \frac{2}{3}\vec{CA}_1$ .

On a :  $\vec{AA'} = -\frac{1}{2}\vec{BC}$ .



◆ Exercice 2.c p. 102

- On sait que la composée d'une homothétie de rapport k différent de 1 et d'une translation est une homothétie de rapport k.

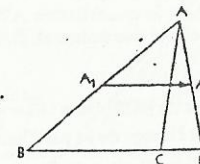
Donc,  $t \circ h$  est une homothétie de rapport  $\frac{1}{2}$ .

2. Le centre  $\Omega$  de cette homothétie est le point d'intersection des droites (BC) et  $(AA')$ , A' étant l'image du point A par  $t \circ h$ .

Construction de A'

• On construit  $A_1$  tel que :  $\vec{BA}_1 = \frac{1}{2}\vec{BA}$  ;

• on construit A' tel que :  $\vec{A_1A'} = \frac{2}{3}\vec{BC}$ .



◆ Exercice 2.d p. 102

a) Le produit des rapports des homothéties  $h$  et  $h'$  est égal à  $-1$ . Donc,  $h \circ h'$  est une symétrie.

Le centre  $I$  de cette symétrie est le milieu de  $[OO_1]$ , avec  $O_1 = h' \circ h(O) = h'(O)$ .

On a :  $\vec{O_1O} = -\frac{1}{2} \vec{OO}$ .

Il est tel que :  $\vec{OI} = \frac{1}{2} \vec{OO_1} \Leftrightarrow \vec{OI} = \frac{1}{2} (\vec{OO} + \vec{O_1O}) = \frac{1}{2} (\vec{OO} - \frac{1}{2} \vec{OO}) = \frac{1}{4} \vec{OO}$ .

b) La transformation  $h \circ h'$  est une symétrie centrale.

Son centre  $I'$  est le milieu de  $[O'O_1]$ , avec  $O_1' = h \circ h'(O') = h(O')$ .

On a :  $\vec{O_1'I'} = -\frac{1}{2} \vec{O'O}$ .

◆ Exercice 2.e p. 102

a) Le produit des rapports de ces deux homothéties est égal à  $1$ , donc  $h' \circ h$  est la translation de vecteur  $\vec{OO_1}$ , tel que :  $O_1 = h' \circ h(O) = h'(O)$ .

On a :  $\vec{O_1O} = \frac{1}{k} \vec{OO} = (1 - \frac{1}{k}) \vec{OO}$ .

b) De même,  $h \circ h'$  est la translation de vecteur  $(k-1) \vec{OO}$ .

◆ Exercice 2.f p. 102

a)  $h' \circ h$  et  $h \circ h'$  sont des homothéties de rapport  $-2 \times \frac{3}{2} = -3$ .

On a :  $h' \circ h : \begin{cases} x' = -3x - 4 \\ y' = -3y \end{cases} ; h \circ h' : \begin{cases} x' = -3x + 6 \\ y' = -3y \end{cases}$

b) Le centre de chacune de ces homothéties est leur point invariant soit  $\Omega \begin{pmatrix} -1 \\ 0 \end{pmatrix}$  pour  $h' \circ h$  et  $\Omega \begin{pmatrix} 2 \\ 0 \end{pmatrix}$  pour  $h \circ h'$ .

◆ Exercice 2.g p. 102

1. On a :  $\sigma \circ h : \begin{cases} x' = -3x - 7 \\ y' = -3y + 7 \end{cases} ; h \circ \sigma : \begin{cases} x' = -3x - 11 \\ y' = -3y - 5 \end{cases}$

2. On a :  $\sigma \circ h : \begin{cases} x' = -3x - 8 \\ y' = -3y - 4 \end{cases} ; h \circ \sigma : \begin{cases} x' = -3x - 8 \\ y' = 3y + 4 \end{cases}$

▢ Exercices d'apprentissage

LIEUX GÉOMÉTRIQUES

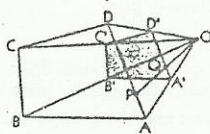
◆ Exercice 1 p. 103

Soit  $h$  l'homothétie de centre  $O$  et de rapport  $\frac{1}{2}$ .

On a :  $Q$  milieu de  $[OP]$ . Donc :  $\vec{OQ} = \frac{1}{2} \vec{OP}$  et  $h(P) = Q$ .

Lorsque  $P$  décrit  $ABCD$ ,  $Q$  décrit l'image de  $ABCD$  par  $h$ .

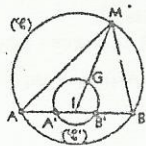
Le lieu de  $Q$  est le quadrilatère  $A'B'C'D'$ , les points  $A', B', C', D'$  étant les images respectives des points  $A, B, C, D$  par  $h$ .



◆ Exercice 2 p. 103

Soit  $I$  le milieu de  $[AB]$ . On a :  $\vec{IG} = \frac{1}{3} \vec{IM}$ , donc le centre de gravité  $G$  du triangle  $ABM$  est l'image de  $M$  par l'homothétie  $h$  de centre  $I$  et de rapport  $\frac{1}{3}$ .

Lorsque  $M$  décrit  $(\mathcal{C})$  privé de  $A$  et  $B$ ;  $G$  décrit l'image de cet ensemble par  $h$ . Soit  $A' = h(A)$  et  $B' = h(B)$ . Le lieu de  $G$  est le cercle  $(\mathcal{C}')$  circonscrit à  $A'B'G$ , privé de  $A'$  et  $B'$ .



◆ Exercice 3 p. 103

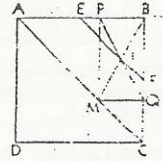
Le quadrilatère  $BPMQ$  est un rectangle : donc,  $I$  est milieu de  $[BM]$ . Soit  $h$  l'homothétie de centre  $B$  et de rapport  $\frac{1}{2}$ . On a :  $I = h(M)$ .

Lorsque  $M$  décrit  $[CA]$ ,  $I$  décrit l'image de  $[CA]$  par  $h$ .

On désigne par  $E$  et  $F$  les milieux respectifs des côtés  $[AB]$  et  $[BC]$ .

On a :  $h(A) = E$  et  $h(C) = F$ .

Le lieu géométrique de  $I$  est donc le segment  $[EF]$ .



◆ Exercice 4 p. 103

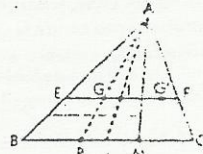
1. Soit  $P$  le milieu de  $[BM]$ . On a :  $\vec{AG} = \frac{2}{3} \vec{AP}$ . Donc,  $G$  est l'image de  $P$  par l'homothétie  $h$  de centre  $A$  et de rapport  $\frac{2}{3}$ .

Lorsque  $M$  décrit  $[BC]$ ,  $P$  décrit  $[B]I$ ,  $I$  étant le milieu de  $[BC]$ . Donc, le point  $G$  décrit l'image de  $[B]I$  par  $h$ .

Le lieu  $(\Gamma)$  de  $G$  est donc le segment  $[EI]$  tel que  $E = h(B)$  et  $I = h(I)$ .

De même, on démontre que le lieu  $(\Gamma')$  de  $G'$  est le segment  $[IF]$  avec  $F = h(C)$ .

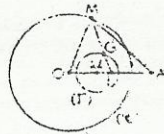
2. Les deux ensembles  $(\Gamma)$  et  $(\Gamma')$  ont en commun le point  $I$ , centre de gravité du triangle  $ABC$ .



◆ Exercice 5 p. 103

Soit  $I$ , milieu de  $[OA]$ . On a :  $\vec{IG} = \frac{1}{3} \vec{IM}$  ; donc,  $G$  est l'image de  $M$  par l'homothétie  $h$  de centre  $I$  et de rapport  $\frac{1}{3}$ .

Lorsque  $M$  décrit  $(\mathcal{C})$ ,  $G$  décrit l'image  $(\mathcal{C}')$  de  $(\mathcal{C})$  par  $h$ , c'est-à-dire le cercle de centre  $\Omega$  tel que  $\vec{I\Omega} = \frac{1}{3} \vec{IO}$  et de rayon  $\Omega G$ .



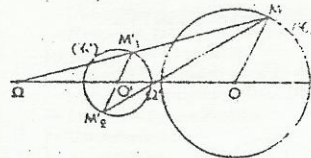
PROBLÈMES DE CONSTRUCTION

◆ Exercice 6 p. 103

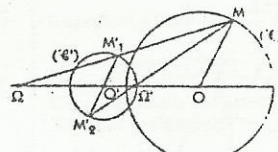
1. Il existe deux homothéties transformant  $(\mathcal{C})$  en  $(\mathcal{C}')$ , de rapports respectifs  $\frac{r'}{r}$  et  $-\frac{r'}{r}$ .

2. Construction des centres de ces homothéties

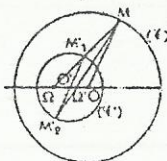
a)  $(\mathcal{C})$  et  $(\mathcal{C}')$  extérieurs



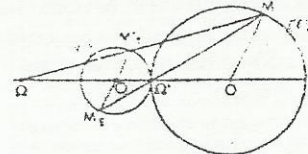
c)  $(\mathcal{C})$  et  $(\mathcal{C}')$  sécants



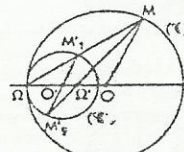
e)  $(\mathcal{C}')$  intérieur à  $(\mathcal{C})$



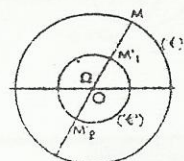
b)  $(\mathcal{C})$  et  $(\mathcal{C}')$  tangents extérieurement



d)  $(\mathcal{C})$  et  $(\mathcal{C}')$  tangents intérieurement



f)  $(\mathcal{C})$  et  $(\mathcal{C}')$  concentriques :  $\Omega$  et  $\Omega'$  en  $O$



◆ Exercice 7 p. 103

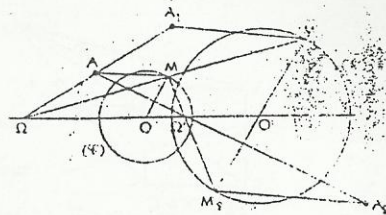
Soit  $M$  un point quelconque de  $(\mathcal{C})$  et  $(M_1M_2)$  le diamètre de  $(\mathcal{C})$  tel que :  $(M_1M_2) \parallel (OM)$ .

Soit  $h_1$  et  $h_2$  les homothéties de centres respectifs  $\Omega$  et  $\Omega'$ , transformant  $(\mathcal{C})$  en  $(\mathcal{C}')$ .

On a :  $M_1 = h_1(M)$  et  $M_2 = h_2(M)$ .

Le problème revient à construire l'image d'un point par une homothétie définie par son centre, un point et son image (cf & 1. 1.).

- $A_1 = h_1(M)$  est le point d'intersection de  $(\Omega A)$  et de la droite parallèle à  $(AM)$  passant par  $M_1$  ;
- $A_2 = h_2(M)$  est le point d'intersection de  $(\Omega A)$  et de la droite parallèle à  $(AM)$  passant par  $M_2$ .



◆ Exercice 8 p. 103

*Analyse*

La parallèle à  $(\Delta')$  passant par  $A$  coupe  $(\Delta)$  en  $B$ .

On a :  $\vec{AM} + 2\vec{AN} = \vec{0} \Leftrightarrow \vec{BM} + 2\vec{BI} = \vec{0} \Leftrightarrow \vec{IM} = 3\vec{BI}$

Donc,  $M$  est l'image de  $B$  par l'homothétie  $h$  de centre  $I$  et de rapport 3.

*Synthèse*

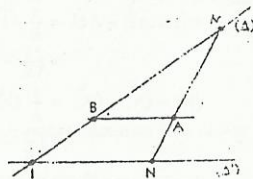
On en déduit une construction des points  $M$  et  $N$ .

- On trace la parallèle à  $(\Delta')$  passant par  $A$  ; soit  $B$  le point d'intersection de cette droite avec  $(\Delta)$ .
  - On construit le point  $M$  tel que  $\vec{IM} = 3\vec{BI}$ , puis  $N$ , le point d'intersection des droites  $(AM)$  et  $(\Delta')$ .
- Il existe une et une seule solution à ce problème.

*Autre méthode*

On a :  $\vec{AN} = -\frac{1}{2}\vec{AM}$  ; soit  $h$  l'homothétie de centre  $A$  et de rapport  $-\frac{1}{2}$ .

$N$  est le point d'intersection de  $h(\Delta)$  et  $(\Delta')$  ;  $M$  est le point d'intersection de  $(AN)$  et  $(\Delta)$ .



◆ Exercice 9 p. 103

*Analyse*

Soit  $h$  l'homothétie de centre  $A$  et de rapport  $-\frac{1}{2}$ .

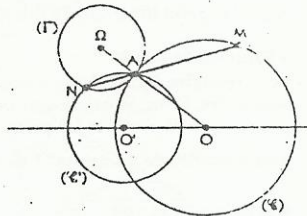
On a :  $N = h(M)$ .

$M$  est un point de  $(\mathcal{C})$ , donc  $N$  appartient à l'image de  $(\mathcal{C})$  par  $h$ , c'est-à-dire le cercle  $(\mathcal{C}')$  de centre  $\Omega = h(O)$  et de rayon  $\Omega A$ .  $N$  est un point commun aux cercles  $(\mathcal{C})$  et  $(\mathcal{C}')$ .

*Synthèse*

On en déduit une construction des points  $M$  et  $N$ .

- On trace  $(\mathcal{C}')$ , image de  $(\mathcal{C})$  par  $h$ .
- Les cercles  $(\mathcal{C})$  et  $(\mathcal{C}')$  ont deux points communs,  $A$  et le point  $N$  cherché.
- On trace  $(AN)$  qui coupe  $(\mathcal{C})$  en  $M$ .



◆ Exercice 10 p. 103

*Analyse*

Soit  $I, J, K$  les points d'intersection respectifs des droites  $(\Delta_1)$  et  $(\Delta_2)$ ,  $(\Delta_1)$  et  $(\Delta_3)$ ,  $(\Delta_2)$  et  $(\Delta_3)$ .

Soit  $ABCD$  un carré répondant à la question.

Il existe une homothétie  $h$  de centre  $I$  transformant les points  $A$  et  $B$  respectivement en  $J$  et  $K$ . L'image par  $h$  du carré  $ABCD$  sera le carré  $JKLM$ .

Donc, les points  $I, D, M$  sont alignés, ainsi que les points  $I, C, L$ .

*Synthèse*

On en déduit une construction du carré  $ABCD$ .

- On construit le carré  $JKLM$  à l'extérieur du triangle  $JKI$ .
- On trace les droites  $(IM)$  et  $(IL)$  qui coupent la droite  $(JK)$  respectivement en  $D$  et  $C$ .
- Les perpendiculaires à  $(JK)$  en  $D$  et  $C$  coupent  $(\Delta_1)$  et  $(\Delta_2)$  respectivement en  $A$  et  $B$ .

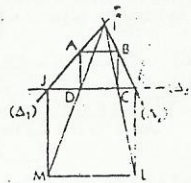


figure 1

*Discussion*

On peut également construire le carré  $JKLM$  dans le demi-plan contenant le point  $I$  (figure 2). On en déduit une deuxième construction du carré  $ABCD$  : le problème a deux solutions !

◆ Exercice 11 p. 103

*Analyse*

Soit  $PQRS$  un carré répondant à la question.

Il existe une homothétie  $h$  qui transforme les points  $S$  et  $R$  respectivement en  $A$  et  $B$ .

L'image du carré  $PQRS$  par cette homothétie est un carré  $DCBA$  inscrit dans le demi-cercle de diamètre  $[A'B']$ ,  $A'$  et  $B'$  étant les images respectives des points  $A$  et  $B$  par  $h$ . Les points  $S, A, A'$  sont alignés avec le centre de l'homothétie, ainsi que les points  $R, B, B'$ .

*Synthèse*

On en déduit une construction du carré  $PQRS$  (figure 1).

- On trace le carré  $ABCD$  extérieur au demi-cercle de diamètre  $[AB]$  ; soit  $O'$ , milieu de  $[CD]$ .
- On trace le demi-cercle de centre  $O'$ , et passant par  $A$  et  $B$  ; soit  $[A'B']$  le diamètre de ce demi-cercle, de support parallèle à  $(AB)$ .
- Les droites  $(AA')$  et  $(BB')$  coupent le demi-cercle de diamètre  $[AB]$  respectivement en  $S$  et  $R$ .
- Les perpendiculaires à  $(AB)$  menées par  $S$  et  $R$  coupent  $(AB)$  respectivement en  $P$  et  $Q$ .

*Discussion*

On peut également considérer l'homothétie  $h'$  qui transforme les points  $S$  et  $R$  respectivement en  $B$  et  $A$ .

On obtient une deuxième méthode de construction du carré  $PQRS$  (figure 2).

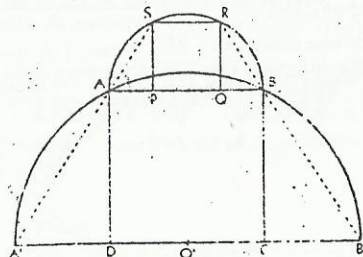


figure 1

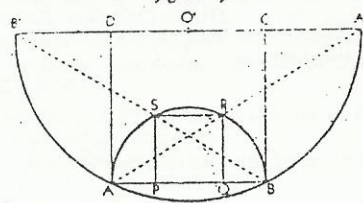


figure 2

◆ Exercice 12 p. 103

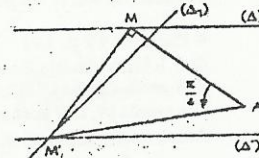
*Analyse*

$M'$  est l'image de  $M$  par la similitude  $s$  de centre  $A$ , de rapport  $\sqrt{2}$  et d'angle  $\frac{\pi}{4}$ .

$M'$  est le point d'intersection des droites  $(\Delta')$  et  $(\Delta_1)$ , image de  $(\Delta)$  par  $s$ .

*Synthèse*

- On construit l'image  $(\Delta_1)$  de  $(\Delta)$  par  $s$ , en construisant l'image de deux points quelconques de  $(\Delta)$ .
- On a :  $M' \in (\Delta') \cap (\Delta_1)$ .
- On construit le point  $M$  tel que le triangle  $AMM'$  soit rectangle isocèle en  $M$  et de sens direct.



**DÉMONSTRATIONS DE PROPRIÉTÉS**

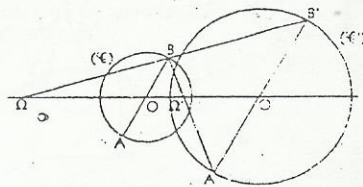
♦ Exercice 13 p. 103

Soit  $h$  l'homothétie positive transformant  $(\mathcal{C})$  en  $(\mathcal{C}')$  et  $(A, B)$  en  $(A', B')$ .

On a :  $\vec{A'B'} = k\vec{AB}$  ( $k > 0$ )  $\Leftrightarrow \vec{A'B'} = -k\vec{BA}$ .

Soit  $h'$  l'homothétie négative transformant  $(\mathcal{C})$  en  $(\mathcal{C}')$ .  
 $h'$  transforme  $(A, B)$  en  $(B', A')$ .

On a :  $A' = h'(B) = h(A)$  ;  $B' = h'(A) = h(B)$ .



♦ Exercice 14 p. 103

1. Les triangles  $ABC$  et  $A'B'C'$  ont leurs côtés parallèles deux à deux, donc leurs angles égaux deux à deux.

Les triangles  $ABC$  et  $A'B'C'$  sont donc semblables.

On pose :  $\frac{A'B'}{AB} = \frac{B'C'}{BC} = \frac{CA'}{CA} = k$ .

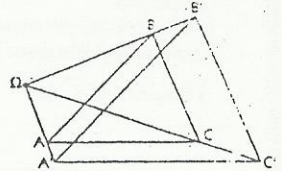
Selon les sens des triangles  $ABC$  et  $A'B'C'$ , on a :

•  $\vec{A'B'} = k\vec{AB}$ ,  $\vec{B'C'} = k\vec{BC}$ ,  $\vec{C'A'} = k\vec{CA}$ , s'ils sont de même sens ;

•  $\vec{A'B'} = -k\vec{AB}$ ,  $\vec{B'C'} = -k\vec{BC}$ ,  $\vec{C'A'} = -k\vec{CA}$ , s'ils sont de sens contraires.

Dans les deux cas, on en déduit qu'il existe une homothétie de rapport  $k$  (ou  $-k$ ) transformant  $ABC$  en  $A'B'C'$ .

2. Le centre de cette homothétie appartiendra aux droites  $(AA')$ ,  $(BB')$  et  $(CC')$ , qui sont donc concourantes.



♦ Exercice 15 p. 103

Soit  $h$  l'homothétie de centre  $A$  et de rapport  $\frac{1}{2}$ .

On a :  $h(B) = K$  et  $(KI) \parallel (BJ)$ .

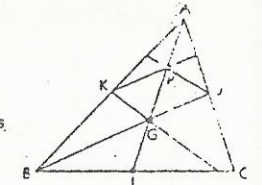
Donc, la droite  $(BJ)$  a pour image par  $h$  la droite  $(KI)$ .

De même, la droite  $(CK)$  a pour image par  $h$  la droite  $(JI)$ .

On désigne par  $G$  le centre de gravité du triangle  $ABC$ , intersection des médianes  $(BJ)$  et  $(CK)$ .

On a :  $h(G) = P$  et les points  $A, P, G$  sont alignés.

Donc,  $P$  appartient à la médiane  $(AI)$  et les points  $A, P, I$  sont alignés.



♦ Exercice 16 p. 103

On a :  $\frac{AF}{AB} = \frac{AD}{AD} \Rightarrow (FE) \parallel (BD)$ .

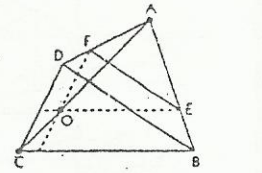
Donc, il existe une homothétie  $h$  de centre  $A$  tel que :

$h(F) = D$  et  $h(E) = B$ .

L'image d'une droite par une homothétie est une droite parallèle.

Donc, les images par  $h$  des droites  $(FO)$  et  $(EO)$  sont respectivement  $(DO)$  et  $(BO)$ .

Donc,  $h(O) = C$  et les points  $A, O, C$  sont alignés.

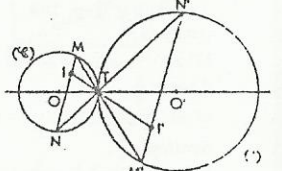


♦ Exercice 17 p. 103

Soit  $h$  l'homothétie de centre  $T$  transformant  $(\mathcal{C})$  en  $(\mathcal{C}')$  et  $I$  l'image de  $I$  par  $h$ . On a :  $M' = h(M)$  et  $N' = h(N)$ .

Les points  $M, I, N$  sont alignés, donc les points  $M', I, N'$  sont alignés.

Ainsi, toutes les droites  $(MN')$  passent par le point  $I$ .



♦ Exercice 18 p. 104

Les carrés  $ABCD$  et  $A'B'C'D'$  sont tels que :  $\vec{A'B'} = k\vec{AB}$ ,  $\vec{B'C'} = k\vec{BC}$ ,  $\vec{C'D'} = k\vec{CD}$  et  $\vec{A'D'} = k\vec{AD}$ .

Donc, il existe une homothétie de rapport  $k$  tel que les points  $A, B, C, D$  ont pour images respectives par  $h$  les points  $A', B', C', D'$ .

Les droites  $(AA')$ ,  $(BB')$ ,  $(CC')$ ,  $(DD')$  passent toutes par le centre de cette homothétie.

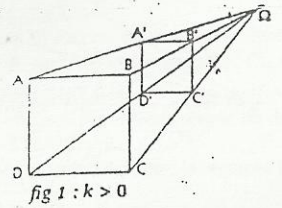


fig 1 :  $k > 0$

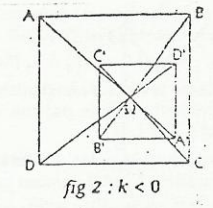


fig 2 :  $k < 0$

♦ Exercice 19 p. 104

Soit  $k$  le nombre réel tel que :  $\vec{BE} = k\vec{BD}$  ( $0 < k < 1$ ).

On a :  $\vec{HD} = \vec{AD} - \vec{AH} = \frac{1}{k}\vec{AH} - \vec{AH}$

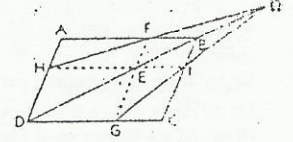
$= (\frac{1}{k} - 1)\vec{AH} = (\frac{1}{k} - 1)\vec{FE}$  ;

$\vec{DC} = \vec{D'C'} - \vec{GC} = \frac{1}{k}\vec{C'C} - \vec{GC}$

$= (\frac{1}{k} - 1)\vec{GC} = (\frac{1}{k} - 1)\vec{EI}$ .

Donc, il existe une homothétie de rapport  $\frac{1-k}{k}$  transformant les points  $I, E, F$  respectivement en  $G, D, H$ .

Les droites  $(IG)$ ,  $(ED)$  et  $(FH)$  sont donc concourantes en  $\Omega$ , centre de cette homothétie.



**SIMILITUDES**

♦ Exercice 20 p. 104

1. a) Soit  $M'$  l'image d'un point  $M$  par la transformation  $h \circ t$ . On a :  $\vec{OM'} = 2(\vec{OM} + \vec{u})$ .

b)  $\Omega$  est le point invariant de  $h \circ t$ . Donc :  $\vec{O\Omega} = 2(\vec{O\Omega} + \vec{u}) \Leftrightarrow \vec{O\Omega} = -2\vec{u}$ .

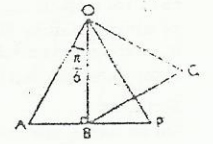
2. Soit  $M''$  l'image d'un point  $M$  par la transformation  $t \circ h$ . On aura :  $\vec{OM''} = 2\vec{OM} + \vec{u}$ .

Soit  $\Omega'$  le point invariant de  $t \circ h$ . On a :  $\vec{O\Omega'} = 2\vec{O\Omega'} + \vec{u} \Leftrightarrow \vec{O\Omega'} = -\vec{u}$ .

♦ Exercice 21 p. 104

Deux triangles équilatéraux ayant leurs angles égaux deux à deux, ils sont semblables. Donc, il existe une similitude  $s$  telle que les points  $O, A, P$  ont pour images respectives les points  $O, B, Q$ .

$s$  est la similitude de centre  $O$ , de rapport  $\frac{\sqrt{3}}{2}$  et d'angle  $\frac{\pi}{6}$ .



♦ Exercice 22 p. 104

On note  $s$  la similitude  $h \circ r$ .

Le triangle  $ODE$  est l'image par  $s$  du triangle  $OAB$  ;

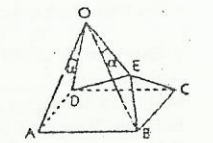
donc ces deux triangles sont semblables et  $OD = OE$ .

On a :  $OA = OB$ ,  $OD = OE$  et  $\widehat{AOD} = \widehat{BOE} = \alpha$ .

Donc, les triangles  $OAD$  et  $OBE$  sont isométriques.

D'où :  $AD = BE$ .

Pu plus :  $AD = BC$  ; donc  $BC = BE$  et le triangle  $BCE$  est isocèle en  $B$ .



♦ Exercice 23 p. 104

1. On a :  $h : \begin{cases} x' = -2x \\ y' = -2y \end{cases} ; S_A : \begin{cases} x' = -x - 6 \\ y' = -y + 2 \end{cases} ; S_A \circ h : \begin{cases} x' = 2x - 6 \\ y' = 2y + 2 \end{cases}$

2.  $s_A \circ h$  est l'homothétie de centre  $\Omega(6 ; -2)$  et de rapport 2.

## Exercices d'approfondissement

### ◆ Exercice 24 p. 104

(C) est le cercle de centre  $\Omega(-2; -8)$  et de rayon 3.  
Donc, (C) a pour équation cartésienne :  $(x+2)^2 + (y+8)^2 = 9$ .

### ◆ Exercice 25 p. 104

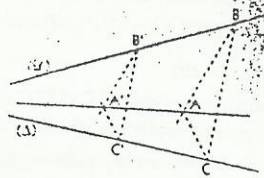
Soit B, B' deux points de ( $\mathcal{C}$ ) et C, C' deux points de ( $\Delta$ ) tels que :  $(BC) \parallel (B'C')$  et A non situé sur (BC).

Il existe une homothétie h telle que les points B et C ont pour images respectives B' et C' par h.

Le centre O de cette homothétie est le point d'intersection de ( $\mathcal{C}$ ) et ( $\Delta$ ).

L'image A' du point A par h est le point d'intersection des droites parallèles à (BA) et (CA) passant respectivement par B' et C'.

La droite (AA') passe par le point O et est donc la droite (OA) cherchée.



### ◆ Exercice 26 p. 104

#### Analyse

Soit O le centre du cercle (C).

On construit le cercle (Gamma) de centre O et tangent à ( $\Delta$ ); on désigne par A' un point commun à la droite (OA) et au cercle (Gamma).

Le cercle (Gamma) cherché est l'image du cercle (Gamma) par l'homothétie qui transforme A' en A.

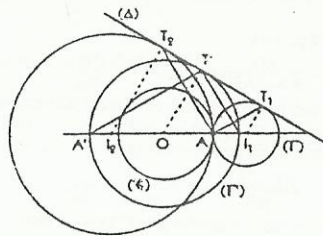
#### Synthèse

On construit (Gamma) : soit A' un des points communs à (Gamma) et (AO), et T le point de contact de (Gamma) avec ( $\Delta$ ).

- La parallèle à (AT) menée par A coupe ( $\Delta$ ) en  $T_1$ .
- La perpendiculaire à ( $\Delta$ ) menée par  $T_1$  coupe (AO) en  $I_1$ , centre du cercle (Gamma) cherché.

#### Discussion

Il y a autant de solutions que de points A', donc il y a deux cercles solutions, de centres respectifs  $I_1$  et  $I_2$ .



### ◆ Exercice 27 p. 104

#### Analyse

Soit (Gamma) un cercle solution.

On désigne par T le point de tangence entre les cercles (Gamma) et (C) : T est le centre d'une homothétie h transformant (C) en (Gamma).

Soit (AB) le diamètre de (C) perpendiculaire à ( $\Delta$ ). I est l'image par h de l'un des points A ou B.

#### Synthèse

• On trace le diamètre (AB), puis la droite (IA) qui recoupe (C) en T.

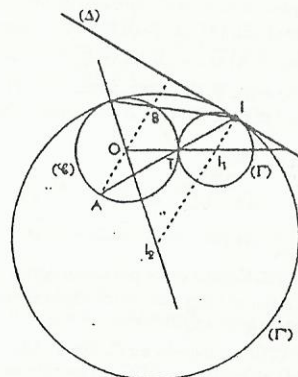
• La perpendiculaire à ( $\Delta$ ) en I coupe (OT) en  $I_1$ , centre du cercle cherché.

#### Discussion

Il y a deux points T :

$\{T_1\} = (IA) \cap (C)$  et  $\{T_2\} = (IB) \cap (C)$ .

Il y a deux cercles (Gamma) : ( $\Gamma_1$ ) tangent à ( $\Delta$ ) en I et passant par  $T_1$ , et ( $\Gamma_2$ ) tangent à ( $\Delta$ ) en I et passant par  $T_2$ .



### ◆ Exercice 28 p. 104

#### Analyse

Soit h l'homothétie de centre B transformant P en A.  
On désigne par Q' et C' les images respectives de Q et C par h.

Si  $BP = PQ = QC$ , alors :  $BA = AQ' = QC'$ .

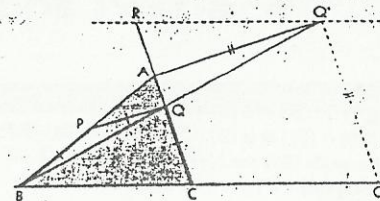
Donc, le point Q' est sur le cercle de centre A et de rayon AB et sur la droite parallèle à (BC) passant par le point R de (CA) tel que  $CR = C'Q' = BA$ .

#### Synthèse

On construit le point Q' comme indiqué dans l'analyse.

La droite (BQ') coupe [AC] en Q.

La parallèle à (AQ') passant par Q coupe [AB] en P.



### ◆ Exercice 29 p. 104

1. • P est l'image de M par  $h(A, \frac{1}{2})$ .

Lorsque M décrit (C), P décrit (Gamma), image de (C) par h.

Soit I, milieu de (OA) ; on a :  $h(O) = I$ .

Donc, (Gamma) est le cercle de centre I et de rayon  $\frac{r}{2}$ , r étant le rayon du cercle (C).

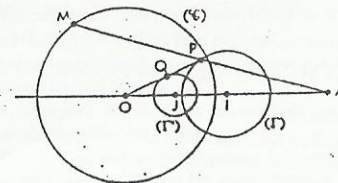
• Q est l'image de P par  $h'(O, \frac{1}{2})$ .

Lorsque P décrit (Gamma), Q décrit (Gamma'), image de (Gamma) par h'.

Soit J, milieu de (OI) ; on a :  $h'(I) = J$ . Donc, (Gamma') est le cercle de centre J et de rayon  $\frac{r}{4}$ .

2. (Gamma') est l'image de (C) par  $h \circ h'$  qui est l'homothétie de centre O et de rapport  $\frac{1}{4}$ .

avec :  $\vec{OQ} = \frac{1}{3} \vec{OA}$ .



### ◆ Exercice 30 p. 104

1. Soit h l'homothétie de centre G et de rapport -2.

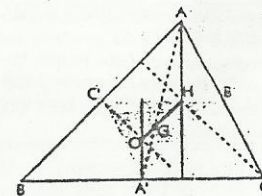
On a :  $h(A') = A$ . De plus, (OA') et (AH) étant deux droites perpendiculaires à (BC), on a :  $(OA') \parallel (AH)$ .

Donc, l'image de la droite (OA') par h est la droite (AH).

De même, les images des droites (OB') et (OC') par h sont les droites (BH) et (CH).

2. Les droites (OA'), (OB'), (OC') sont sécantes en O ; les droites (AH), (BH), (CH) sont sécantes en H.

Donc :  $h(O) = H$  et  $\vec{GH} = -2\vec{GO}$  ; par suite, les points O, G et H sont alignés.



### ◆ Exercice 31 p. 104

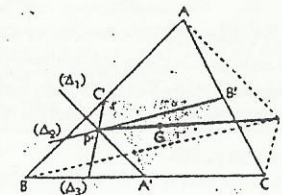
Soit G le centre gravité du triangle ABC, donc du triangle A'B'C', et P l'image de P par l'homothétie  $h(G, -\frac{1}{2})$  qui transforme (A, B, C) en (A', B', C').

La droite ( $\Delta_1$ ) contient A' et est parallèle à la droite (PA), donc elle passe par P'.

On démontrerait de même que les droites ( $\Delta_2$ ) et ( $\Delta_3$ ) passent par le point P'.

Donc, les droites ( $\Delta_1$ ), ( $\Delta_2$ ) et ( $\Delta_3$ ) sont concourantes en un point P'.

tel que :  $\vec{GP}' = -\frac{1}{2} \vec{GP}$ .



◆ Exercice 32 p. 105

1. a) On a :  $(B'J) \parallel (CD)$  et  $h(B) = C$ , donc  $h(BJ) = (CD)$  ;  
 $(CD) \parallel (EI)$  et  $h(D) = E$ , donc  $h(CD) = (EI)$ .

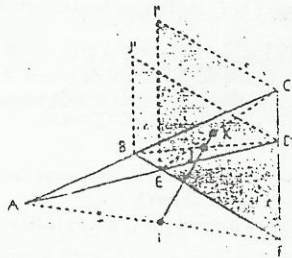
Par suite, l'image de  $(B'J)$  par  $h \circ h$  est la droite  $(EI)$ .  
 De même, l'image de  $(DJ')$  par  $h \circ h$  est la droite  $(CI')$ .

b)  $h$  et  $h'$  sont des homothéties de même centre ;  
 donc  $h \circ h = h \circ h'$ .

On a :  $(DJ') \cap (B'J) = \{I\}$  et  $(EI') \cap (CI') = \{I\}$  ;  
 donc  $h \circ h'(J') = I$ , et les points  $A, I, J'$  sont alignés.

2.  $I$  est le milieu de  $[AF]$ .

De plus,  $FCIE$  et  $FD'J'B$  étant des parallélogrammes,  $I$  et  $K$  sont les milieux respectifs de  $[FF']$  et  $[F'I']$ .  
 Donc,  $I, J, K$  sont les images respectives de  $A, J', I'$  par l'homothétie de centre  $F$  et de rapport  $\frac{1}{2}$ .  
 Les points  $A, J'$  et  $I'$  étant alignés, les points  $I, J$  et  $K$  sont alignés.



◆ Exercice 33 p. 105

1. • Si  $I$  est milieu de  $[AB]$ ,  $f$  est la translation de vecteur  $\vec{OO'}$  ou la symétrie orthogonale par rapport à la tangente commune en  $I$  à  $(\mathcal{C})$  et  $(\mathcal{C}')$ .

• Si  $I$  est distinct du milieu de  $[AB]$ , alors  $(\Delta)$  coupe  $(AB)$  en un point  $\Omega$  ;  $f$  est l'homothétie de centre  $\Omega$  et de rapport  $\frac{IA}{IA'}$ .

2.  $f(M) = N$  et  $f(A) = I$ , donc  $(AM) \parallel (IN)$ .

$f(I) = B$ , donc  $(BN) \parallel (IM)$ .

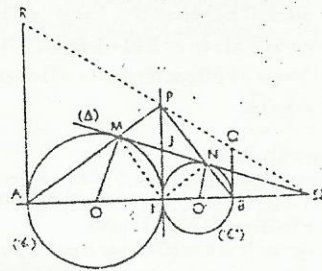
Donc,  $PMIN$  est un parallélogramme.

De plus,  $\widehat{IMP}$  est droit ; donc,  $PMIN$  est un rectangle.

3.  $f(P) = Q$  et  $f(I) = B$ , donc  $(PI) \parallel (QB)$ .

De même,  $(PI) \parallel (RA)$ .

Soit  $J$  le centre du rectangle  $PMIN$ . On a :  $JM = JI = JN$  ;  
 donc,  $(JI)$  est la tangente commune à  $(\mathcal{C})$  et  $(\mathcal{C}')$  en  $I$ .  
 Donc, les droites  $(RA)$  et  $(QB)$  sont tangentes à  $(\mathcal{C})$  et  $(\mathcal{C}')$  respectivement en  $A$  et  $B$ .

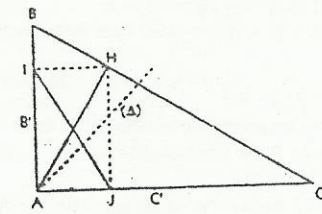


◆ Exercice 34 p. 105

1. Les triangles  $AJI$  et  $AHJ$  sont isométriques ; les triangles  $AJH$  et  $ABC$  ont leurs angles égaux deux à deux ; ils sont semblables. Donc,  $AJI$  et  $ABC$  sont semblables.

On a :  $k = \frac{JI}{BC} = \frac{AH}{BC} = \frac{AH \times BC}{BC^2} = \frac{AB \times AC}{BC^2} = \frac{bc}{b^2 + c^2}$ .

2. Soit  $h$  l'homothétie de centre  $A$  et de rapport  $k$  et  $s$  la symétrie orthogonale d'axe  $(\Delta)$ , bissectrice de l'angle  $BAC$ .  
 On a :  $h(A, B, C) = (A, B', C')$  et  $s(A, B', C') = (A, J, I)$ .  
 Donc, l'image par  $s \circ h$  du triangle  $ABC$  est le triangle  $AJI$ .



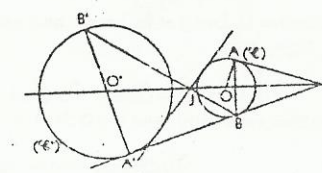
◆ Exercice 35 p. 105

1. Les triangles  $IAO$  et  $IA'O'$  sont rectangles et, tels que :  
 $\widehat{AJO} = \widehat{A'JO'}$ . Donc, il existe une similitude  $\sigma$  telle que :  
 $\sigma(I, A, O) = (I, A', O')$ .

Soit  $s$  la symétrie orthogonale d'axe  $(OO')$  et  $h$  l'homothétie de centre  $I$  et de rapport  $\frac{IA'}{IA}$ .

On a :  $h \circ s(I, A, O) = (I, A', O')$  ; donc :  $\sigma = h \circ s$ .

2.  $h = \text{hom}(I, \frac{IA'}{IA})$  ; donc :  $h^{-1} = \text{hom}(I, \frac{IA}{IA'})$  ;



$h^{-1} = \text{hom}(I, \frac{IA}{IA'})$  ; donc :  $h^{-1} = \text{hom}(I, -\frac{IA}{IA'})$ .

On en déduit que  $h^{-1} \circ h$  est une symétrie. De plus :  $h^{-1} \circ h(O) = O$  ; donc  $h^{-1} \circ h$  est la symétrie de centre  $O$ .  
 On démontre de même que  $h \circ h^{-1}$  est la symétrie de centre  $O'$ .

3. On a :  $B' = h \circ h^{-1}(A') = h(h^{-1}(A'))$  et  $h^{-1}(A') = B$  ; donc :  $h(B) = B'$ .

◆ Exercice 36 p. 105

1. Les triangles rectangles  $ABC$  et  $EFG$  ont leurs côtés deux à deux proportionnels, ils sont semblables. Donc, il existe une similitude directe  $s$ , d'angle  $\frac{\pi}{2}$  et de rapport 2, telle que :  $s(A, B, C) = (E, F, G)$ .  
 La similitude conservant le parallélisme, on a aussi :  $s(D) = C$ .

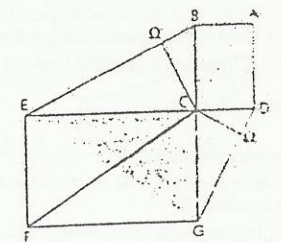
On démontre de même qu'il existe une similitude directe  $s'$ , d'angle  $-\frac{\pi}{2}$  et de rapport 2, telle que :  $s'(A, B, C, D) = (G, C, E, F)$ .

2. a) L'image du triangle  $C\Omega D$  par  $s$  est le triangle  $G\Omega C$  :  $s(C) = G$  et  $s(D) = C$ , donc  $s(\Omega) = \Omega$ .

b) Soit  $h = \text{hom}(\Omega, 2)$  et  $r = \text{rot}(\Omega, \frac{\pi}{2})$ . On a :  $s = r \circ h = h \circ r$ .

3. Soit  $\Omega'$  le projeté orthogonal de  $C$  sur  $(BE)$ . On démontre de même que  $s'(\Omega') = \Omega'$ .

Donc :  $s' = h' \circ r' = r' \circ h'$ , avec  $h' = \text{hom}(\Omega', 2)$  et  $r' = \text{rot}(\Omega', -\frac{\pi}{2})$ .



◆ Exercice 37 p. 105

1. On a :  $\frac{FE}{FB} = \frac{AD}{AB - AD} = \frac{1}{\varphi - 1} = \varphi = \frac{AB}{BC}$ .

Les triangles rectangles  $BCE$  et  $ABC$  sont donc semblables. Soit  $s$  la similitude, de rapport  $\varphi$ , telle que les points  $B, C, E$  ont pour images respectives  $A, B, C$ . La similitude conservant le parallélisme, on a également  $s(F) = D$ .

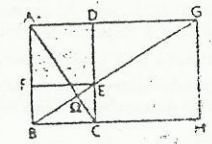
2. On a :  $\frac{AC}{AB} = \frac{AD + AB}{AB} = 1 + \frac{1}{\varphi} = \varphi = \frac{AB}{BC}$ .

On démontre comme précédemment que les points  $A, B, C, D$  ont pour images respectives  $G, A, B, H$  par  $s$ .

3. a) Les triangles  $BHG$  et  $BCE$  sont semblables, donc les droites  $(BE)$  et  $(CB)$  sont confondues. Donc les droites  $(BE)$ ,  $(AC)$  et  $(GB)$  sont concourantes en un point  $\Omega$ .

b) Soit  $h = \text{hom}(\Omega, \varphi)$  et  $r = \text{rot}(\Omega, -\frac{\pi}{2})$ . On pose :  $\sigma = h \circ r = r \circ h$ .

On a :  $\sigma(B, C, E) = (A, B, C)$  ; donc :  $\sigma(B, C, E, F) = (A, B, C, D)$ .  
 De même, on a :  $\sigma(A, B, C) = (G, A, B)$  ; donc :  $\sigma(A, B, C, D) = (G, A, B, H)$ .



◆ Exercice 38 p. 106

1. a) On a :  $\frac{BC}{BD} = \frac{BC}{AB - BC} = \frac{1}{\varphi - 1} = \varphi$  et  $\frac{AC}{CB} = \frac{AB}{BC} = \varphi$ .

Donc :  $\frac{AC}{BC} = \frac{CB}{DB}$ . De plus, on a :  $\widehat{ACB} = \widehat{CBD}$ .

Le théorème d'AL KASHI nous permet d'écrire :  $AB^2 = \varphi^2 \times CD^2$ .  
 Les triangles  $ABC$  et  $CDB$  ont leurs côtés deux à deux proportionnels, donc ils sont semblables.

b) Le triangle  $CDB$  est isocèle en  $C$ . On a :  $CD = BC$  et  $BC = AD$ .  
 Donc,  $CD = AD$  et le triangle  $ADC$  est isocèle en  $D$ .

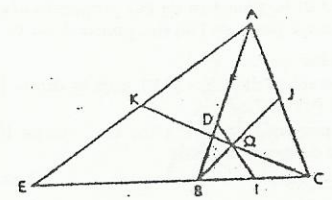
On pose :  $\alpha = \widehat{BAC}$ .

On a :  $\widehat{ABC} = \widehat{ACB} = \widehat{BDC} = \frac{1}{2}(\pi - \alpha)$  ; donc :  $\widehat{ADC} = \pi - \widehat{BDC} = \frac{1}{2}(\pi + \alpha)$ .

Or :  $\widehat{ADC} = \pi - 2\alpha$  ; donc :  $\pi - 2\alpha = \frac{1}{2}(\pi + \alpha)$ . On en déduit :  $\alpha = \frac{\pi}{5}$ .

Les angles  $\hat{A}, \hat{B}, \hat{C}$  du triangle  $ABC$  ont pour mesure respective :  $\frac{\pi}{5}, \frac{2\pi}{5}, \frac{2\pi}{5}$ .

Les angles du triangle  $ADC$  ont pour mesure respective :  $\frac{\pi}{5}, \frac{3\pi}{5}, \frac{\pi}{5}$ .



2. Les triangles  $ABC$  et  $ECA$  sont tels que :  $\frac{EC}{CA} = \frac{AB}{BC} = \varphi$  (la démonstration est identique à celle du 1. a).  
De plus :  $\widehat{ABC} = \widehat{ECA}$  ; donc, ces triangles sont semblables.

On démontre de même que les triangles  $ADC$  et  $EBA$  sont semblables.

Dans les deux cas, le rapport de similitude est  $\varphi$ .

3. a) Soit  $s$  la similitude telle que :  $s(C, D, B) = (A, B, C)$  et  $s(A, B, C) = (E, C, A)$ .

On a :  $s(D, I) = (B, J)$  et  $s(B, J) = (C, K)$ .

Donc : si  $\Omega \in (DI) \cap (BJ)$ , alors  $s(\Omega) \in (BJ) \cap (CK)$ .

Or :  $(IJ) // (BD)$  ; donc :  $\frac{OI}{ID} = \frac{OJ}{JB}$  et  $s(\Omega) = \Omega$  (conservation du barycentre par  $s$ ).

Donc, les droites  $(DI)$ ,  $(BJ)$  et  $(CK)$  sont concourantes en  $\Omega$ .

b) On a :  $h = \text{hom}(\Omega, \varphi)$  et  $r = \text{rot}\left(\Omega, \frac{3\pi}{5}\right)$ .

c)  $r \circ h(A, D, C) = (E, B, A)$ .

#### ◆ Exercice 39 p. 106

1. Si  $(AJ)$  est perpendiculaire à  $(BD)$ , alors les triangles  $ABJ$  et  $DAB$  ont leurs angles égaux deux à deux et ils sont semblables. Donc, il existe une similitude  $s$  transformant  $ABJ$  en  $DAB$ .

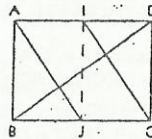
Réciproquement, s'il existe une similitude  $s$  transformant  $ABJ$  en  $DAB$ , alors l'angle  $\widehat{dus}$  est  $-\frac{\pi}{2}$  ; donc les droites  $(AJ)$  et  $(BD)$  sont perpendiculaires. Soit  $k$  le rapport de cette similitude.

On a :  $\frac{AB}{BJ} = \frac{AD}{DB} = k$  ; donc :  $AB = k BJ = \frac{1}{2} k AD = \frac{1}{2} k \times k AB$ .

On en déduit :  $k = \sqrt{2}$ .

2.  $(A, B, J)$  a pour image  $(D, A, B)$  par  $s$ . Les similitudes conservent le parallélisme ; donc :  $s(I) = C$  et le rectangle  $IABJ$  a pour image le rectangle  $CDAB$  par  $s$ .

Le rapport des deux aires est égal à :  $k^2 = 2$ .



#### ◆ Exercice 40 p. 106

1. On a :  $OA_n = OA_1 \times \frac{\sqrt{3}}{2}$  et  $\widehat{A_0OA_1} = \frac{\pi}{6}$ .

Donc, le triangle  $A_0OA_1$  est un demi-triangle équilatéral, rectangle en  $A_0$ .

2. Voir figure ci-contre.

3. a) Pour tout entier naturel  $n$ , on pose :  $u_n = OA_n$ .

$OA_1 = \frac{2}{\sqrt{3}}$ ,  $OA_2 = OA_1 \times \frac{2}{\sqrt{3}}$ , ...  $OA_n = OA_{n-1} \times \frac{2}{\sqrt{3}}$ .

Donc,  $(u_n)_{n \in \mathbb{N}}$  est une suite géométrique de premier terme  $u_0 = OA_0 = 1$  et de raison  $\frac{2}{\sqrt{3}}$ .

Pour tout entier naturel  $n$ , on pose :  $v_n = \widehat{OA_0OA_n}$ .

On a :  $v_0 = 0$ ,  $v_1 = \frac{\pi}{6}$ ,  $v_2 = v_1 + \frac{\pi}{6}$ , ...,  $v_n = v_{n-1} + \frac{\pi}{6}$ .

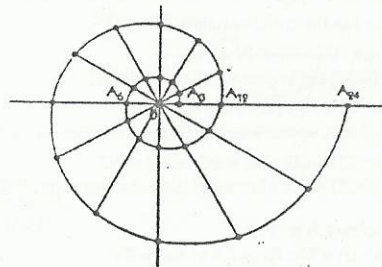
Donc,  $(v_n)_{n \in \mathbb{N}}$  est une suite arithmétique de premier terme 0 et de raison  $\frac{\pi}{6}$ .

b) Pour tout entier naturel  $n$ , on a donc :  $OA_n = u_n = \left(\frac{2}{\sqrt{3}}\right)^n$  et  $\widehat{OA_0OA_n} = v_n = n \frac{\pi}{6}$ .

c)  $s^n$  est une homothétie si  $\widehat{OA_0OA_n}$  a pour mesure 0 ou  $\pi$ .

• Si  $n \frac{\pi}{6} \equiv 0 [2\pi] \Leftrightarrow n \equiv 0 [12]$ , alors  $s^n$  est une homothétie de rapport :  $k = \left(\frac{2}{\sqrt{3}}\right)^n$ .

• Si  $n \frac{\pi}{6} \equiv \pi [2\pi] \Leftrightarrow n \equiv 6 [12]$ , alors  $s^n$  est une homothétie de rapport :  $k = -\left(\frac{2}{\sqrt{3}}\right)^n$ .



## 6. Orthogonalité dans l'espace

(pages 107 à 122 du livre de l'élève)

### OBJECTIFS

- Donner une première approche de la notion d'orthogonalité dans l'espace.
- Utiliser les définitions et les propriétés de l'orthogonalité dans l'espace pour :
  - résoudre des problèmes ;
  - faire des constructions géométriques ;
  - représenter des solides usuels ;
  - déterminer des lieux géométriques ;
  - démontrer des propriétés.

### COMMENTAIRES

- Ce chapitre sera traité exclusivement d'un point de vue géométrique.
- Les résultats acquis seront réinvestis dans les chapitres suivants.
- On introduira la notion d'orthogonalité en utilisant comme support visuel l'environnement dans lequel nous vivons (maisons, immeubles, salles de classes) et les objets usuels (boîtes, ...).
- On privilégiera, comme support de l'étude géométrique, l'emploi des solides usuels tels que le tétraèdre ou les prismes droits, ainsi que des représentations en perspective cavalière.
- Une des principales difficultés rencontrées dans ce chapitre par les élèves réside dans la visualisation d'objets de l'espace à partir d'une représentation, forcément plane, de ces objets. En conséquence, le plus grand soin sera apporté par le professeur à la réalisation des figures illustrant le cours ou les exercices (attention aux figures à main levée ...) ; il devra également s'attacher à vérifier les figures tracées par les élèves.

### AVOIS-LE-NOUVEAU

#### savoirs

#### Droites et plans orthogonaux

- Droites orthogonales :
  - définition (droites orthogonales, droites perpendiculaires) ;
  - propriétés
- Droite et plan orthogonaux :
  - définition ;
  - propriétés.

#### Plans perpendiculaires

- Définition.
- Propriétés.
- Définition de la projection orthogonale sur un plan, sur une droite.
- Distance d'un point à un plan, à une droite.
- Plan médiateur d'un segment (définition, propriété caractéristique) ; condition pour que le projeté orthogonal d'un angle droit sur un plan soit un angle droit.

#### savoir-faire

- Démontrer que deux droites sont orthogonales.
- Démontrer qu'une droite et un plan sont orthogonaux.
- Démontrer que deux plans sont orthogonaux.
- Utiliser les propriétés de l'orthogonalité et de parallélisme pour :
  - démontrer que deux droites sont parallèles ;
  - démontrer qu'une droite est parallèle à un plan ;
  - démontrer que deux plans sont parallèles.
- Utiliser les propriétés de l'orthogonalité et de parallélisme pour résoudre des problèmes.
- Utiliser les propriétés de l'orthogonalité pour faire des constructions géométriques.
- Déterminer des lieux géométriques.
- Déterminer, sur des solides simples, le projeté orthogonal, sur une droite ou sur un plan, d'un point, d'un segment, d'une droite, d'un plan.
- Démontrer qu'un point appartient au plan médiateur d'un segment donné.

## Exercices du cours

### ◆ Exercice 1.a p. 114

a) [BG] et [CF] sont les diagonales du carré BCGF ;  
donc :  $(BG) \perp (CF)$ .

Or :  $(CF) \parallel (ED)$  ; donc :  $(ED) \perp (BG)$ .

b) On a :  $(DC) \perp (CG)$  et  $(DC) \perp (CB)$  ;  
or :  $(CG)$  et  $(CB)$  sont deux droites sécantes du plan  $(CBG)$  ;  
donc :  $(DC) \perp (CBG)$ .

De plus :  $(JG) \subset (CBG)$  ;

d'où :  $(DC) \perp (JG)$ .

c) Dans le triangle EBF, [IJ] est la droite des milieux des côtés [EF] et [FB] ; donc :  $(IJ) \parallel (EB)$ .

On a :  $(EB) \parallel (CH)$  et  $(CH) \perp (DG)$  (supports des diagonales du carré CDHG) ; donc :  $(EB) \perp (DG)$ .

De plus :  $(EB) \perp (DC)$  et  $(IJ) \parallel (EB)$  ; donc :  $(IJ) \perp (DC)$ .

### ◆ Exercice 1.b p. 114

a) Les droites (AB), (BC), (CD), (DA), (EF), (FG), (GH), (HE) sont orthogonales à (AE).

b) Les plans (ABC), (EFG) sont orthogonaux à (AE).

c) Les droites (AB) et (FG) sont non coplanaires et orthogonales à (AE).

De même, (AC) et (GH) sont non coplanaires et orthogonales à (AE).

### ◆ Exercice 1.c p. 114

a) On a :  $(IK) \parallel (AB)$  ; or :  $(AB) \perp (AE)$  et  $(AB) \perp (AD)$ .

Donc :  $(IK) \perp (AE)$  et  $(IK) \perp (AD)$ .

On en déduit que  $(IK) \perp (ADE)$ , car (AE) et (AD) sont deux droites sécantes du plan (ADE).

b) On a :  $(AD) \perp (AB)$  et  $(AD) \perp (AF)$ .

Donc :  $(AD) \perp (ABE)$ , car (AB) et (AE) sont deux droites sécantes du plan (ABE).

Or :  $(BE) \subset (ABE)$ . D'où :  $(AD) \perp (BE)$ .

De plus :  $(BE) \perp (AF)$  (diagonales d'un carré).

On en déduit que  $(BE) \perp (ADG)$ , car (AF) et (AD) sont deux droites sécantes du plan (ADG).

c) On a :  $(IJ) \parallel (BC)$  (droite des milieux dans le triangle BGF) et  $(BC) \parallel (AH)$ .

Or :  $(DE) \perp (AH)$  (diagonales du carré ADHE).

Donc :  $(DE) \perp (IJ)$ .

De plus :  $(IK) \perp (ADE)$  ; donc :  $(IK) \perp (DE)$ .

On en déduit que  $(DE) \perp (IJK)$ , car  $(DE) \perp (IJ)$ ,

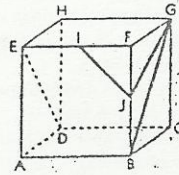
$(DE) \perp (IK)$ , (IJ) et (IK) sont deux droites sécantes du plan (IJK).

e) On a :  $(IK) \perp (BCF)$  et  $(CF) \subset (BCF)$  ;

donc :  $(IK) \perp (CF)$ .

### ◆ Exercice 1.d p. 114

a) On a :  $(MA) \perp (ABC)$  et  $(BC) \subset (ABC)$  ; donc :  $(MA) \perp (BC)$ .

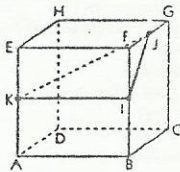
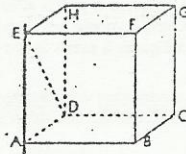


d) La droite (EI) est orthogonale au plan (AEH) ;  
donc :  $(EI) \perp (AH)$ .

De plus :  $(AH) \parallel (ED)$  (supports des diagonales du carré ADHE).

Or : (EI) et (ED) sont deux droites sécantes du plan (EID). Donc :  $(AH) \perp (EID)$ .

Or :  $(ID) \subset (EID)$  ; donc :  $(AH) \perp (ID)$ .



d) On a :  $(BF) \perp (BC)$  et  $(BF) \perp (AB)$ .

Donc  $(BF) \perp (ABC)$ , car (AB) et (BC) sont deux droites du plan (ABC).

Or :  $(AC) \subset (ABC)$  ; donc :  $(BF) \perp (AC)$ .

f) Voir question c).

b) On a :  $(AB) \perp (AC)$  et  $(AB) \perp (AM)$  ;  
donc :  $(AB) \perp (AMC)$ , car (AC) et (AM) sont deux droites sécantes du plan (AMC).

Or :  $(MC) \subset (AMC)$  ; donc :  $(AB) \perp (MC)$ .

c) On a fait un raisonnement analogue à celui de b).

### ◆ Exercice 1.e p. 114

Si  $M \in A$ , alors  $(MA') \perp (\Delta)$ .

On a :  $(\mathcal{P}) \perp (\mathcal{Q})$  et  $(\Delta) \subset (\mathcal{Q})$  ; donc :  $(AM) \perp (\Delta)$ .

Donc  $(\Delta) \perp (AA'M)$ , car (MA) et (AA') sont deux droites sécantes du plan  $(AA'M)$ .

Or :  $(MA') \subset (AA'M)$  ; donc :  $(MA') \perp (\Delta)$ .

### ◆ Exercice 1.f p. 114

a) On a :  $(CC) \perp (ABC)$  ; donc :  $d(G, (ABC)) = CC = a$ .

b) [AC] et [BD] sont orthogonaux et se coupent en leur milieu I.

On a :  $(AI) \perp (BD)$  et  $(AI) \perp (BF)$  ;

donc  $(AI) \perp (DBF)$ , car (BD) et (BF) sont deux droites sécantes du plan (DBF).

On en déduit que :  $d(A, (DBF)) = AI = \frac{\sqrt{2}}{2} a$ .

c) Le triangle ACG est rectangle en C ;  
donc :  $AG^2 = AC^2 + CG^2 = 3a^2$  et  $AG = a\sqrt{3}$ .

### ◆ Exercice 1.g p. 114

1. On a :  $BI = BJ$ .

En effet, [BI] et [BJ] sont hypoténuses de deux triangles rectangles. Les côtés de l'angle droit mesurent AB et  $\frac{AB}{2}$ .

De même :  $DI = DJ$  et  $FI = FJ$ .

Donc, (BDF) est le plan médiateur de [IJ].

2. On a :  $ID = IF$  ;  $JD = JF$  et  $KD = KF$ .

Donc I, J et K appartiennent au plan médiateur de [DF].

3. On a :  $CD = CG$  ;  $BD = BG$  et  $ED = EG$ .

Donc, (BCE) est le plan médiateur du segment [DG].

### ◆ Exercice 1.h p. 114

1. On a :  $IA = IB$  ;  $CA = CB$  et  $DA = DB$ .

Donc (ICD) est le plan médiateur de [AB].

2. On a :  $JC = JD$  ;  $AC = AD$  et  $BC = BD$ .

Donc (JAD) est le plan médiateur de [CD].

3. Dans le plan (ABJ), [IJ] est la médiatrice de [AB].

Donc, (IJ) est perpendiculaire à (AB).

De même, (IJ) est perpendiculaire à (CD).

### ◆ Exercice 2.a p. 119

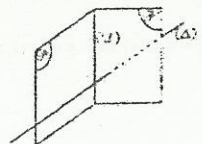
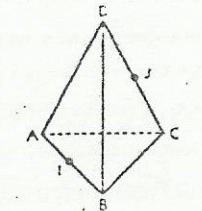
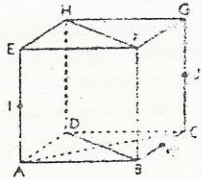
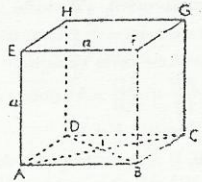
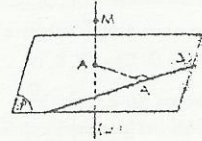
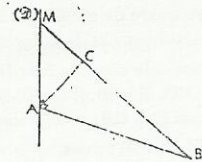
$(\mathcal{P}) \perp (\mathcal{P}')$  ; donc il existe une droite ( $\Delta$ ) telle que :

$(\Delta) \subset (\mathcal{P})$  et  $(\Delta) \perp (\mathcal{P}')$ .

Soit ( $\Delta'$ ) une droite de  $(\mathcal{P}')$  perpendiculaire à ( $\mathcal{P}$ ) dans  $(\mathcal{P}')$ .

Dans  $(\mathcal{P})$ , on a :  $(\Delta) \perp (\mathcal{P})$  et  $(\Delta') \perp (\mathcal{P})$ . Donc :  $(\Delta) \parallel (\Delta')$ .

Or :  $(\Delta) \perp (\mathcal{P})$  ; donc :  $(\Delta') \perp (\mathcal{P}')$ .

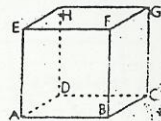


♦ Exercice 2.b p. 119

a) On a :  $(EA) \subset (EAC)$  et  $(EA) \perp (ABC)$ .

En effet,  $(EA) \perp (AB)$  et  $(EA) \perp (AD)$ .

De plus,  $(AB)$  et  $(AD)$  sont deux droites sécantes du plan  $(ABC)$ . Donc :  $(EAC) \perp (ABC)$ .



b) On a :  $(BD) \subset (HDB)$  et  $(BD) \perp (EAC)$ .

En effet,  $(BD) \perp (AC)$  (diagonales du carré  $ABCD$ ) et  $(BD) \perp (EA)$ . Donc :  $(EAC) \perp (HDB)$ .

c) On a :  $(FH) \subset (FCH)$  et  $(FH) \perp (AGE)$ .

En effet,  $(FH) \perp (EG)$  (diagonales du carré  $EFCH$ ) et  $(FH) \perp (EA)$ . Donc :  $(FCH) \perp (AGE)$ .

♦ Exercice 2.c p. 119

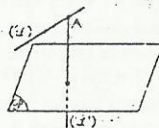
Existence

Soit A un point de  $(\mathcal{L})$  et  $(\mathcal{L}')$  la droite orthogonale à  $(\mathcal{P})$  et passant par A.

Les droites  $(\mathcal{L})$  et  $(\mathcal{L}')$  sont sécantes en A, sinon  $(\mathcal{L})$  serait orthogonale à  $(\mathcal{P})$ .

Elles déterminent donc un plan  $(\mathcal{P}')$ .

Le plan  $(\mathcal{P}')$  contient  $(\mathcal{L}')$  qui est orthogonale à  $(\mathcal{P})$ ; donc :  $(\mathcal{P}') \perp (\mathcal{P})$ .



Unicité

Supposons que  $(\mathcal{P}_1)$  et  $(\mathcal{P}_2)$  sont deux plans contenant  $(\mathcal{L})$  et perpendiculaires à  $(\mathcal{P})$ .

On a :  $(\mathcal{L}) \subset (\mathcal{P}_1) \cap (\mathcal{P}_2)$ ; donc  $(\mathcal{P}_1)$  et  $(\mathcal{P}_2)$  sont, soit sécants suivant  $(\mathcal{L})$ , soit confondus.

Démontrons, par l'absurde, que  $(\mathcal{P}_1)$  et  $(\mathcal{P}_2)$  ne sont pas sécants.

Supposons que  $(\mathcal{P}_1)$  et  $(\mathcal{P}_2)$  sont sécants suivant  $(\mathcal{L})$ .

On a :  $(\mathcal{P}) \perp (\mathcal{P}_1)$  et  $(\mathcal{P}) \perp (\mathcal{P}_2)$ ; donc  $(\mathcal{P}) \perp (\mathcal{L})$ , ce qui est contraire à l'hypothèse selon laquelle  $(\mathcal{L})$  n'est pas orthogonale à  $(\mathcal{P})$ . On en déduit que  $(\mathcal{P}_1)$  et  $(\mathcal{P}_2)$  ne sont pas sécants.

Conclusion

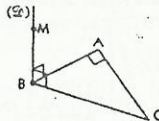
Il existe un unique plan contenant  $(\mathcal{L})$  et perpendiculaire à  $(\mathcal{P})$ .

♦ Exercice 2.d p. 119

On a :  $(\mathcal{L}) \perp (ABC)$ ; donc  $(MB) \perp (AC)$ .

$(AC) \perp (AB)$  et  $(AC) \perp (MB)$  entraîne  $(AC) \perp (MAB)$ .

Or :  $(AC) \subset (MAC)$ ; donc  $(MAC) \perp (MAB)$ .



♦ Exercice 2.e p. 119

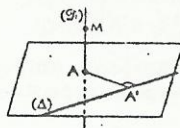
Désignons par  $(\mathcal{P}_1)$  le plan défini par M et  $(\Delta)$ .

Le plan défini par A' et  $(\mathcal{L})$  est le plan  $(MAA')$ .

On a :  $(\mathcal{L}) \perp (\mathcal{P})$ ; donc  $(\mathcal{L}) \perp (\Delta)$ .

Or :  $(\Delta) \perp (AA')$ ; donc  $(\Delta) \perp (MAA')$ .

De plus :  $(\Delta) \subset (\mathcal{P}_1)$ ; donc  $(\mathcal{P}_1) \perp (MAA')$ .



♦ Exercice 2.f p. 119

1. Les plans  $(ACD)$  et  $(BCD)$  sont sécants suivant la droite  $(CD)$ .

Démontrons que la droite  $(CD)$  est orthogonale au plan  $(ABJ)$ .

Les points A, B, J sont équidistants des points C et D.

Donc  $(ABJ)$  est le plan médiateur du segment  $[CD]$ .

On en déduit :  $(CD) \perp (ABJ)$ .

Or les plans  $(ACD)$  et  $(BCD)$  sont sécants suivant  $(CD)$ .

Donc  $(ABJ)$  est perpendiculaire à  $(ACD)$  et à  $(BCD)$ .

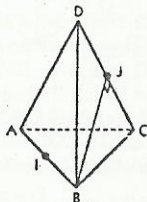
2.  $(CDI)$  est le plan médiateur du segment  $[AB]$ .

Or les plans  $(ABC)$  et  $(ABD)$  sont sécants suivant  $(AB)$ .

Donc  $(CDI)$  est perpendiculaire aux plans  $(ABC)$  et  $(ABD)$ .

Les plans  $(BCD)$  et  $(ACD)$  sont sécants suivant  $(CD)$ .

Or  $(CD)$  n'est pas orthogonale au plan  $(CDI)$ ; donc  $(CDI)$  n'est pas perpendiculaire aux plans  $(BCD)$  et  $(ACD)$ .



Conclusion

Seuls les plans des faces  $ABC$  et  $ABD$  sont perpendiculaires au plan  $(CDI)$ .

3. On a :  $(CD) \perp (ABJ)$  et  $(CD) \subset (CDI)$ . Donc :  $(ABJ) \perp (CDI)$ .

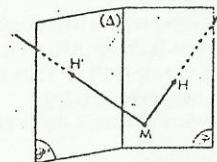
♦ Exercice 2.g p. 119

On a :  $(MH) \perp (\mathcal{P})$ ; donc  $(\Delta) \perp (MH)$ . De même :  $(\Delta) \perp (MH')$ .

Or,  $(MH)$  et  $(MH')$  sont deux droites sécantes du plan  $(MHH')$ .

Donc :  $(\Delta) \perp (MHH')$ .

On en déduit que le plan  $(MHH')$  est perpendiculaire aux plans  $(\mathcal{P})$  et  $(\mathcal{P}')$  qui sont sécants suivant  $(\Delta)$ .



♦ Exercice 2.h p. 119

Désignons par I le milieu de  $[AB]$ .

Démontrons que  $ICD$  est rectangle et isocèle en I.

$[ID]$  et  $[IC]$  sont les hauteurs issues du sommet de l'angle droit des triangles isocèles  $ABD$  et  $ABC$ . Donc :  $IC = ID$ .

$ABD$  est rectangle et isocèle en D; donc :  $AB^2 = 2AD^2$ .

$ADI$  est rectangle en I; donc :  $ID^2 = AD^2 - \frac{AB^2}{2} = \frac{AD^2}{2}$ .

On en déduit que :  $IC^2 + ID^2 = AD^2 = DC^2$ .

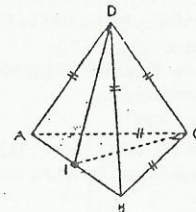
Donc, le triangle  $ICD$  est rectangle et isocèle en I.

D'où :  $(IC) \perp (ID)$ .

Or  $(IC) \perp (AB)$ , car  $(IC)$  est la médiane issue du sommet C du triangle rectangle  $ABC$ .

D'où :  $(IC) \perp (ABD)$ , car  $(AB)$  et  $(ID)$  sont deux droites sécantes du plan  $(ABD)$ .

De plus :  $(IC) \subset (ABC)$ ; donc :  $(ABC) \perp (ABD)$ .



□ Exercices d'apprentissage

DRITES ET PLANS ORTHOGONAUX

♦ Exercice 1 p. 120

On a :  $(\mathcal{Q}_1) \perp (\mathcal{Q}_2)$ .

a) Supposons que  $(\mathcal{Q}_1)$  et  $(\mathcal{Q}_2)$  sont sécants en I et désignons par  $(\mathcal{P})$  le plan passant par I et orthogonal à  $(\mathcal{Q}_2)$ .

Démontrons que :  $(\mathcal{Q}_1) \subset (\mathcal{P})$ .

On a :  $(\mathcal{Q}_1) \perp (\mathcal{Q}_2)$  et  $(\mathcal{Q}_2) \perp (\mathcal{P})$ ; donc :  $(\mathcal{Q}_1) \parallel (\mathcal{P})$ .

Or :  $I \in (\mathcal{Q}_1) \cap (\mathcal{P})$ ; donc :  $(\mathcal{Q}_1) \subset (\mathcal{P})$ .

Le plan  $(\mathcal{P})$  ainsi construit répond à la question.

b) Supposons que  $(\mathcal{Q}_1)$  et  $(\mathcal{Q}_2)$  sont non coplanaires.

Soit J un point de  $(\mathcal{Q}_2)$  et  $(\mathcal{P}')$  le plan passant par J et orthogonal à  $(\mathcal{Q}_2)$ ; on a  $(\mathcal{P}') \parallel (\mathcal{Q}_1)$ .

Le plan  $(\mathcal{P})$  contenant  $(\mathcal{Q}_1)$  et parallèle à  $(\mathcal{P}')$  répond à la question.

♦ Exercice 2 p. 120

On a :  $(\Delta) \perp (\mathcal{Q}_1)$  et  $(\Delta) \perp (\mathcal{Q}_2)$ .

Si les droites  $(\mathcal{Q}_1)$  et  $(\mathcal{Q}_2)$  étaient sécantes, on aurait  $(\Delta) \perp (\mathcal{P})$ .

Or  $(\Delta)$  n'est pas orthogonale à  $(\mathcal{P})$ ; donc, les droites  $(\mathcal{Q}_1)$  et  $(\mathcal{Q}_2)$  sont parallèles.

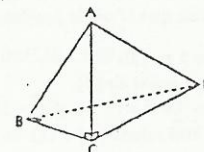
♦ Exercice 3 p. 120

On a :  $(BC) \perp (BD)$  et  $(AC) \perp (BD)$ , car  $(AC) \perp (BCD)$ .

Or  $(AC)$  et  $(BC)$  sont deux droites sécantes du plan  $(ABC)$ .

Donc :  $(BD) \perp (ABC)$ .

Par suite,  $(BD) \perp (AB)$  et le triangle  $ABD$  est rectangle en B.



◆ Exercice 4 p. 120

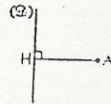
Désignons par  $(\mathcal{P})$  le plan passant par A et orthogonal à  $(\mathcal{Q})$ .

Démontrons que la droite (AH) est incluse dans le plan  $(\mathcal{P})$ .

On a :  $(AH) \perp (\mathcal{Q})$  car  $(\mathcal{Q}) \perp (\mathcal{P})$  ; de plus :  $A \in (\mathcal{P})$ .

Donc :  $(AH) \perp (\mathcal{Q})$  et  $(AH) \subset (\mathcal{P})$ .

Dans  $(\mathcal{P})$ , il existe une seule droite passant par A et perpendiculaire à  $(\mathcal{Q})$ . Donc :  $H = H'$ .



◆ Exercice 5 p. 120

1. On a :  $(\mathcal{P}_1) \perp (\mathcal{Q}_1)$  et  $(\mathcal{P}_2) \perp (\mathcal{Q}_2)$ . Supposons que :  $(\mathcal{P}_1) \parallel (\mathcal{P}_2)$ .

On a :  $(\mathcal{Q}_1) \perp (\mathcal{P}_1)$  ; donc :  $(\mathcal{Q}_1) \perp (\mathcal{P}_2)$  et par suite  $(\mathcal{Q}_1) \perp (\mathcal{Q}_2)$ .

Or :  $(\mathcal{Q}_1) \perp (\mathcal{P}_2)$  ; donc :  $(\mathcal{Q}_1) \parallel (\mathcal{P}_2)$  ;

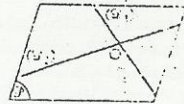
ce qui est absurde car  $(\mathcal{Q}_1)$  et  $(\mathcal{Q}_2)$  sont sécantes.

Donc  $(\mathcal{P}_1)$  et  $(\mathcal{P}_2)$  sont sécantes.

2. Posons :  $(\Delta) = (\mathcal{P}_1) \cap (\mathcal{P}_2)$ .

On a :  $(\mathcal{Q}_1) \perp (\mathcal{P}_1)$  et  $(\Delta) \subset (\mathcal{P}_1)$  ; donc :  $(\Delta) \perp (\mathcal{Q}_1)$ .

De même :  $(\Delta) \perp (\mathcal{Q}_2)$ . Donc :  $(\Delta) \perp (\mathcal{P})$ , car  $(\mathcal{Q}_1)$  et  $(\mathcal{Q}_2)$  sont deux droites sécantes du plan  $(\mathcal{P})$ .



◆ Exercice 6 p. 120

1. Le triangle OBC est isocèle en O et (OI) en est la médiane issue de O ; donc :  $(OI) \perp (BC)$ .

Or :  $(BC) \parallel (AD)$  ; donc :  $(OI) \perp (AD)$ .

Les points O et I sont équidistants de A et F ; donc O et I appartiennent au plan médiateur de (AF), d'où  $(AF) \perp (OI)$ . Or :  $(KL) \parallel (AF)$  ; donc :  $(OI) \perp (KL)$ .

2. On a :  $(BG) \perp (EF)$ , car  $(EF) \perp (BCG)$  ; de plus :  $(BG) \perp (FC)$  (diagonales du carré BCGF).

Donc :  $(BG) \perp (EFC)$ .

3. On a :  $(IJ) \parallel (BG)$  (droite des milieux dans le triangle BCG).

Or :  $(BG) \perp (EFC)$  ; donc :  $(IJ) \perp (EFC)$ .

On en déduit que  $(IJ) \perp (EC)$ , car  $(EC) \subset (EFC)$ .

4. On a :  $(BG) \parallel (AH)$

Or :  $(BG) \perp (EFC)$  ; donc :  $(AH) \perp (EFC)$ .

La droite  $(\Delta)$ , parallèle à  $(AH)$  passant par L, est donc orthogonale à  $(EFC)$ .

De plus,  $(\Delta)$  et  $(ED)$  sont sécantes dans le plan  $(ADHI)$ .

Donc le point d'intersection de  $(\Delta)$  et  $(ED)$  est le projeté orthogonal  $L'$  de L sur  $(EFC)$ .

5. Désignons par  $(\mathcal{P})$  le plan passant par L et orthogonal à  $(BG)$ .

On a :  $(\mathcal{P}) \parallel (EFC)$ , car  $(BG) \perp (EFC)$ .

Désignons par M le milieu de  $[BF]$ .

La droite  $(LM)$  est parallèle à  $(EF)$  ; donc elle est incluse dans  $(\mathcal{P})$ .

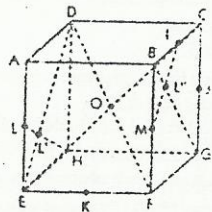
De même la droite  $(IM)$ , parallèle à  $(CF)$ , est incluse dans  $(\mathcal{P})$ .  $(\mathcal{P})$  est le plan  $(IML)$ .

On a :  $(IML) \parallel (EFC)$  ; donc :  $(BG) \perp (IML)$ .

Or,  $(BG)$  et  $(IM)$  sont sécantes.

Donc le point d'intersection  $L''$  des droites  $(BG)$  et  $(IM)$  est le point d'intersection de  $(IML)$  et  $(BG)$ .

On en déduit que  $L''$  est le projeté orthogonal de L sur la droite  $(BG)$ .



◆ Exercice 7 p. 120

1. Soit M un point de  $(\mathcal{P})$ .

$M \in (\Sigma) \Leftrightarrow OM^2 = r^2 \Leftrightarrow (\vec{OH} + \vec{HM})^2 = r^2 \Leftrightarrow OH^2 + HM^2 + 2\vec{OH} \cdot \vec{HM} = r^2$ .

Or :  $\vec{OH} \perp \vec{HM}$  ; donc :  $M \in (\Sigma) \Leftrightarrow OH^2 + HM^2 = r^2 \Leftrightarrow HM^2 = r^2 - OH^2 \Leftrightarrow HM^2 = r^2 - d^2$ .

2. a) On a :  $r < d \Leftrightarrow r^2 - d^2 < 0$ .

Donc, l'équation  $HM^2 = r^2 - d^2$  n'a pas de solution dans  $(\mathcal{P})$ . On en déduit que :  $(\Sigma) \cap (\mathcal{P}) = \emptyset$ .

b) On a :  $r = d \Leftrightarrow r^2 - d^2 = 0$ .

Donc, l'équation  $HM^2 = 0$  a pour solution (H).

c) On a :  $r > d \Leftrightarrow r^2 - d^2 > 0$ .

$HM^2 = r^2 - d^2 \Leftrightarrow HM = \sqrt{r^2 - d^2}$ .

Donc :  $(\Sigma) \cap (\mathcal{P})$  est le cercle de  $(\mathcal{P})$  de centre H et de rayon  $\sqrt{r^2 - d^2}$ .

◆ Exercice 8 p. 120

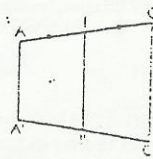
• Supposons que :  $(AC) \perp (\mathcal{P})$ .

Alors,  $A' = C' = I'$  et  $I' = \text{mil } [A'C']$ .

• Supposons que  $(AC)$  n'est pas orthogonale à  $(\mathcal{P})$ .

En appliquant la propriété de Thalès dans le plan  $(ACA')$ ,

on obtient :  $I' = \text{mil } [A'C']$ . De même :  $J' = \text{mil } [B'D']$ .



2. a) Supposons que les points A', B', C' et D' sont alignés sur une droite  $(\Delta)$ .

L'un au moins des 4 points A, B, C et D n'appartient pas à  $(\mathcal{P})$ , sinon ils seraient coplanaires, ce qui est absurde.

Supposons donc que  $A \in (\mathcal{P})$  et désignons par  $(\mathcal{Q})$  le plan contenant  $(\Delta)$  et A. On a :  $(BB') \parallel (AA')$ .

Or :  $(AA') \subset (\mathcal{Q})$  ; donc :  $(BB') \parallel (\mathcal{Q})$ .

De plus :  $B' \in (\mathcal{P})$  ; donc :  $(BB') \subset (\mathcal{Q})$  et par suite,  $B \in (\mathcal{Q})$ .

De même, on démontre que les points C et D appartiennent à  $(\mathcal{Q})$ .

Les points A, B, C et D sont donc éléments de  $(\mathcal{Q})$ , ce qui est absurde.

Donc les points A', B' et D' ne sont pas alignés.

b) • Supposons que A' B' C' D' est un parallélogramme.

Les segments  $[A'C']$  et  $[B'D']$  ont donc le même milieu, c'est-à-dire :  $I' = J'$  ; par suite :  $(IJ) \perp (\mathcal{P})$ .

• Réciproquement, supposons que  $(IJ) \perp (\mathcal{P})$ . On a :  $I' = J'$ .

Par suite, les segments  $[A'C']$  et  $[B'D']$  ont le même milieu.

On en déduit que A'B'C'D' est un parallélogramme.

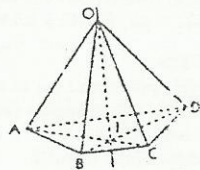
◆ Exercice 9 p. 120

On a :  $\left\{ \begin{array}{l} (OI) \subset (AOC) \\ (OI) \subset (BOD) \end{array} \right.$  Or :  $\left\{ \begin{array}{l} (OP) \perp (AOC) \\ (OQ) \perp (BOD) \end{array} \right.$

donc :  $\left\{ \begin{array}{l} (OP) \perp (OI) \\ (OQ) \perp (OI) \end{array} \right.$  et  $(OI) \perp (OPQ)$ .

De plus :  $(OR) \perp (OPQ)$  ; donc :  $(OI) \parallel (OR)$ .

On en déduit que les points O, I et R sont alignés.



◆ Exercice 10 p. 120

1. On a :  $(AB) \perp (BCG)$  ; donc :  $(AB) \perp (FC)$ .

De plus :  $(FC) \perp (BG)$  (diagonales d'un carré).

On en déduit que  $(FC) \perp (ABG)$ , car  $(BG)$  et  $(AB)$  sont deux droites sécantes du plan  $(ABG)$ .

On a :  $H \in (ABG)$  ; donc :  $(BH) \subset (ABG)$ . Par suite :  $(BH) \perp (FC)$ .

2. On a :  $(BH) \perp (FC)$ . Démontrons que :  $(AC) \perp (BH)$ .

On a :  $(AC) \perp (DB)$  (diagonales d'un carré) ; et  $(AC) \perp (DH)$ .

Donc :  $(AC) \perp (BDH)$  ; par suite :  $(AC) \perp (BH)$ .

Or a :  $(AC) \perp (BH)$  et  $(BH) \perp (FC)$  ; donc :  $(BH) \perp (ACF)$ .

Or :  $(AI) \subset (ACF)$  ; donc :  $(BH) \perp (AI)$ .

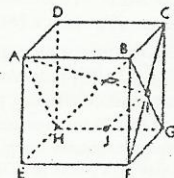
De plus, les droites  $(BH)$  et  $(AI)$  sont incluses dans le plan  $(ABC)$ .

Donc,  $(BH)$  et  $(AI)$  sont perpendiculaires.

3. Dans le triangle BCH, on a :  $\left\{ \begin{array}{l} I = \text{mil } [BG] \\ J = \text{mil } [CH] \end{array} \right.$  ; donc :  $(IJ) \parallel (BH)$ .

Or :  $(BH) \perp (AI)$  ; donc :  $(IJ) \perp (AI)$ .

On en déduit que le triangle AIJ est rectangle en I.



◆ Exercice 11 p. 120

1. On a :  $A' = B' \Leftrightarrow (AB) \perp (\mathcal{P})$ .

Or  $(AB)$  n'est pas orthogonale à  $(\mathcal{P})$  ; donc :  $A' \neq B'$ .

2. • Supposons que :  $(\mathcal{Q}) \perp (AB)$ .

On a :  $(\mathcal{Q}) \perp (AA')$ , car  $(AA') \perp (\mathcal{P})$ ; donc :  $(\mathcal{Q}) \perp (ABA')$ .

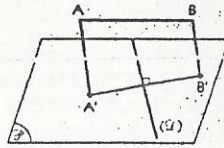
Or :  $B' \in (ABA')$ , car  $(BB') \parallel (ABA')$  et  $B \in (ABA')$ ;

donc :  $(\mathcal{Q}) \perp (A'B')$ .

• Réciproquement, supposons que :  $(\mathcal{Q}) \perp (A'B')$ .

On a :  $(\mathcal{Q}) \perp (AA')$ ; donc :  $(\mathcal{Q}) \perp (AA'B')$ .

Or :  $B \in (AA'B')$ ; donc :  $(\mathcal{Q}) \perp (AB)$ .



♦ Exercice 12 p. 120

1. Soit I le milieu de  $[AB]$ .

On a :  $(CI) \perp (AB)$  ( $ABC$  est isocèle en C)

et  $(DI) \perp (AB)$  ( $ABD$  est isocèle en D); donc :  $(AB) \perp (CDI)$ .

Or :  $(CD) \subset (CDI)$ ; donc :  $(AB) \perp (CD)$ .

2. On a :  $A \in (\mathcal{C}_A)$  et  $(\mathcal{C}_A) \perp (BCD)$ ;  $B \in (\mathcal{C}_B)$  et  $(\mathcal{C}_B) \perp (ACD)$ .

Posons :  $(\mathcal{Q}) = (ABJ)$ , où  $J \in (\mathcal{Q}) \cap (CD)$ .

• Démontrons que les droites  $(\mathcal{C}_A)$  et  $(\mathcal{C}_B)$  sont incluses dans  $(\mathcal{Q})$ .

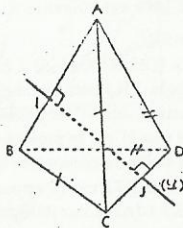
On a :  $(\mathcal{C}_A) \perp (CD)$ , car  $(\mathcal{C}_A) \perp (BCD)$ .

$(CD) \perp (\mathcal{Q})$ , car  $\begin{cases} (CD) \perp (AB) \\ (CD) \perp (IJ) \end{cases}$ ; donc :  $(\mathcal{C}_A) \parallel (\mathcal{Q})$ .

Or :  $A \in (\mathcal{C}_A) \cap (\mathcal{Q})$ ; donc :  $(\mathcal{C}_A) \subset (\mathcal{Q})$ . De même :  $(\mathcal{C}_B) \subset (\mathcal{Q})$ .

Dans le plan  $(\mathcal{Q})$ , considérons le triangle  $ABJ$ ;  $(\mathcal{Q})$  est la hauteur issue de  $J$ ;  $(\mathcal{C}_A)$  est la hauteur issue de  $A$ , car  $(\mathcal{C}_A) \perp (BJ) \subset (BCD)$ ;  $(\mathcal{C}_B)$  est la hauteur issue de  $B$ .

Donc les droites  $(\mathcal{Q})$ ,  $(\mathcal{C}_A)$  et  $(\mathcal{C}_B)$  sont concourantes; leur point de concours est l'orthocentre du triangle  $ABJ$ .



♦ Exercice 13 p. 121

1. Démontrons que :  $(CD) \perp (ABI)$ .

On a :  $(AB) \perp (ACD)$ , car :  $(AB) \perp (AD)$  et  $(AB) \perp (AC)$ ;

donc :  $(AB) \perp (CD)$ .

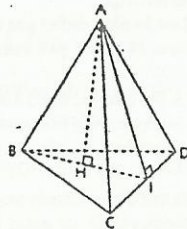
On a :  $(CD) \perp (AI)$  et  $(CD) \perp (AB)$ , donc :  $(CD) \perp (ABI)$ ;

par suite :  $(CD) \perp (BI)$ .

On en déduit que  $(BI)$  est une hauteur du triangle  $BCD$ .

2. On a :  $(AI) \perp (ABI)$ ; donc :  $(CD) \perp (AH)$ .

De plus :  $(AI) \perp (BI)$ ; donc :  $(AH) \perp (BCD)$ , car  $(CD)$  et  $(BI)$  sont deux droites sécantes du plan  $(BCD)$ .



♦ Exercice 14 p. 121

1. Dans le triangle  $ABC$ , on a :  $(IJ) \parallel (AC)$  et  $IJ = \frac{1}{2} AC$ .

De même :  $KL = \frac{1}{2} AC$  et  $(KL) \parallel (AC)$ ;  $(JK) \parallel (IL)$  et  $JK = \frac{1}{2} BD$ .

Or :  $AC = BD$ ; donc :  $IJ = JK = KL = LI$ .

On en déduit que  $IJKL$  est un losange.

On a, dans le triangle  $ACD$  :  $(ML) \parallel (CD)$  et  $ML = \frac{1}{2} CD$ .

De même :  $(LN) \parallel (AB)$  et  $LN = \frac{1}{2} AB$ .

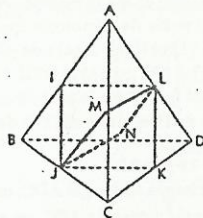
Or :  $AB = CD$ ; donc :  $LN = ML = NJ = JM$  et  $MLNJ$  est un losange.

2. Les diagonales d'un losange sont perpendiculaires; donc :  $(JL) \perp (MN)$  et  $(IK) \perp (IL)$ .

On a :  $(IM) \parallel (NK) \parallel (BC)$ ; donc :  $N \in (IMK)$ .

$(JL)$  étant orthogonale aux deux droites sécantes  $(MN)$  et  $(IK)$  du plan  $(IMK)$ , on a :  $(JL) \perp (IMK)$ .

3. On a :  $(JL) \perp (IM)$  et  $(IM) \parallel (BC)$ ; donc :  $(JL) \perp (BC)$ . De même :  $(JL) \perp (AD)$ .



## PLANS PERPENDICULAIRES

♦ Exercice 15 p. 121

Existence

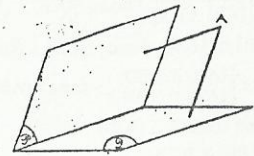
Désignons par  $(\mathcal{Q}_1)$  la droite orthogonale à  $(\mathcal{P})$  et contenant  $A$ ; et par  $(\mathcal{Q}_2)$  la droite contenant  $A$  et orthogonale à  $(\mathcal{Q})$ .

$(\mathcal{Q}_1)$  et  $(\mathcal{Q}_2)$  sont sécantes. En effet, si  $(\mathcal{Q}_1)$  et  $(\mathcal{Q}_2)$  étaient parallèles,  $(\mathcal{P})$  et  $(\mathcal{Q})$  seraient parallèles.

Soit  $(\mathcal{R})$  le plan défini par  $(\mathcal{Q}_1)$  et  $(\mathcal{Q}_2)$ .

On a :  $(\mathcal{P}) \perp (\mathcal{R})$  et  $(\mathcal{Q}) \subset (\mathcal{R})$ ; donc :  $(\mathcal{P}) \perp (\mathcal{Q})$ .

De même :  $(\mathcal{Q}) \perp (\mathcal{R})$ .



Unicité

Soit  $(\mathcal{R}')$  et  $(\mathcal{Q}')$  deux plans contenant  $A$  et perpendiculaires à  $(\mathcal{P})$  et à  $(\mathcal{Q})$ . Posons :  $(\Delta) = (\mathcal{P}) \cap (\mathcal{Q})$ .

On a :  $(\mathcal{R}') \perp (\Delta)$  et  $(\mathcal{Q}') \perp (\Delta)$ ; donc :  $(\Delta) \perp (\mathcal{R}')$ . De même :  $(\Delta) \perp (\mathcal{Q}')$ .

On a :  $(\Delta) \perp (\mathcal{R}') \cap (\mathcal{Q}') \cap (\mathcal{R}')$ ; donc :  $(\mathcal{R}') \parallel (\mathcal{R})$ . Or :  $A \in (\mathcal{R}') \cap (\mathcal{R})$ ; donc :  $(\mathcal{R}') = (\mathcal{R})$ .

♦ Exercice 16 p. 121

• Supposons que :  $(\mathcal{Q}) \perp (\mathcal{Q}')$ .

On a :  $(\mathcal{Q}) \perp (\Delta)$ , car  $(\Delta) \perp (\Pi)$ ; de plus :  $(\mathcal{Q}) \subset (\Pi)$ .

Donc :  $(\mathcal{Q}) \perp (\mathcal{P})$ , car  $(\Delta)$  et  $(\mathcal{Q}')$  sont deux droites sécantes de  $(\mathcal{P})$ .

On a :  $(\mathcal{Q}) \subset (\mathcal{P})$  et  $(\mathcal{Q}) \perp (\mathcal{P})$ ; donc :  $(\mathcal{P}) \perp (\mathcal{P})$ .

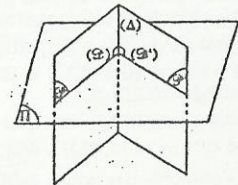
• Réciproquement, supposons que :  $(\mathcal{P}) \perp (\mathcal{P})$ .

On a :  $(\mathcal{P}) \perp (\mathcal{P})$ , donc  $(\mathcal{P})$  contient une droite  $(\mathcal{Q}_1)$  orthogonale à  $(\mathcal{P})$ .

On a :  $(\mathcal{Q}_1) \perp (\mathcal{P})$  et  $(\Delta) \subset (\mathcal{P})$ ; donc :  $(\mathcal{Q}_1) \perp (\Delta)$ .

Dans  $(\mathcal{P})$  :  $(\mathcal{Q}) \perp (\Delta)$  et  $(\mathcal{Q}_1) \perp (\Delta)$ ; donc :  $(\mathcal{Q}) \parallel (\mathcal{Q}_1)$ .

On a :  $(\mathcal{Q}_1) \perp (\mathcal{P})$  et  $(\mathcal{Q}_1) \parallel (\mathcal{Q})$ ; donc :  $(\mathcal{Q}) \perp (\mathcal{P})$ . Or :  $(\mathcal{P}) \subset (\mathcal{P})$ ; donc :  $(\mathcal{P}) \perp (\mathcal{Q})$ .



♦ Exercice 17 p. 121

• Supposons  $(\mathcal{P}) \perp (\mathcal{P}')$ .

On a :  $(\mathcal{P}) \perp (\mathcal{P}')$  et  $(\mathcal{Q}) \perp (\mathcal{P}')$ ; donc :  $(\mathcal{Q}) \parallel (\mathcal{P})$ .

On en déduit qu'il existe  $(\mathcal{Q}') \subset (\mathcal{P}')$  tel que :  $(\mathcal{Q}) \parallel (\mathcal{Q}')$ .

Or :  $(\mathcal{Q}') \perp (\mathcal{P}')$ ; donc :  $(\mathcal{Q}) \perp (\mathcal{P}')$ .

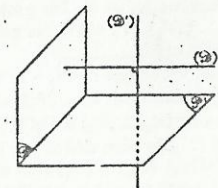
On a :  $(\mathcal{Q}') \perp (\mathcal{Q}')$  et  $(\mathcal{Q}') \parallel (\mathcal{Q})$ ; donc :  $(\mathcal{Q}) \perp (\mathcal{Q})$ .

• Réciproquement, supposons  $(\mathcal{Q}) \perp (\mathcal{Q}')$ .

On a :  $(\mathcal{Q}) \perp (\mathcal{P})$  et  $(\mathcal{Q}) \perp (\mathcal{Q}')$ ; donc :  $(\mathcal{Q}) \parallel (\mathcal{P})$ .

On en déduit qu'il existe une droite  $(\mathcal{Q}_1)$  du plan  $(\mathcal{P})$  telle que :  $(\mathcal{Q}_1) \parallel (\mathcal{Q}')$ .

On a :  $(\mathcal{Q}_1) \perp (\mathcal{Q}')$  et  $(\mathcal{P}) \parallel (\mathcal{Q}_1)$ ; donc :  $(\mathcal{Q}_1) \perp (\mathcal{P})$ . Or :  $(\mathcal{P}) \subset (\mathcal{P})$ ; donc :  $(\mathcal{P}) \perp (\mathcal{P})$ .



♦ Exercice 18 p. 121

Supposons que :  $M \in (\mathcal{P}_1) \cup (\mathcal{P}_2)$ . On a :  $M \in (\mathcal{P}_1)$ ; donc :  $M \neq H_1$ .

Démontrons par l'absurde que :  $H_2 \in (MH_1)$ .

On a :  $H_2 \in (MH_1)$ ; donc :  $(MH_1) \perp (\mathcal{P}_2)$ .

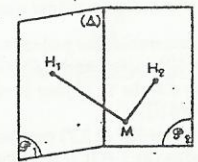
Or :  $(MH_1) \perp (\mathcal{P}_1)$ ; donc :  $H_2 \in (MH_1)$  et  $(\mathcal{P}_1) \parallel (\mathcal{P}_2)$ .

Ceci est absurde, car  $(\mathcal{P}_1)$  et  $(\mathcal{P}_2)$  sont sécantes.

Démontrons que le plan  $(MH_1H_2)$  est perpendiculaire à  $(\mathcal{P}_1)$  et à  $(\mathcal{P}_2)$ .

On a :  $\begin{cases} (MH_1) \perp (\mathcal{P}_1) \\ (MH_2) \perp (\mathcal{P}_2) \end{cases}$ ; donc :  $\begin{cases} (MH_1) \perp (\Delta) \\ (MH_2) \perp (\Delta) \end{cases}$ , car  $(\Delta) = (\mathcal{P}_1) \cap (\mathcal{P}_2)$ .

$(\Delta) \perp (MH_1)$  et  $(\Delta) \perp (MH_2)$ ; donc :  $(\Delta) \perp (MH_1H_2)$ . Par suite :  $(MH_1H_2) \perp (\mathcal{P}_1)$  et  $(MH_1H_2) \perp (\mathcal{P}_2)$ .



♦ Exercice 19 p. 121

1. Le triangle  $ABC$  est équilatéral; donc :  $(CI) \perp (AB)$ .

De même :  $(DI) \perp (AB)$ .

On a :  $\begin{cases} (AB) \perp (CD) \\ (AB) \perp (DI) \end{cases}$ ; donc :  $(AB) \perp (ICD)$ .

Or :  $(AB) \subset (IAB)$ ; donc :  $(ICD) \perp (IAB)$ .

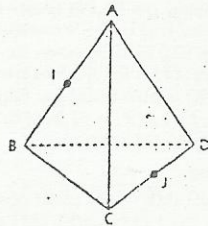
2. On a :  $\begin{cases} (AB) \perp (ICD) \\ (AB) \subset (ABC) \end{cases}$ ; donc :  $(ABC) \perp (ICD)$ .

De même :  $(ABD) \perp (ICD)$ .

On a :  $\begin{cases} (B) \perp (CD) \\ (A) \perp (CD) \end{cases}$ , car les triangles BCD et ACD sont équilatéraux.

Donc :  $(CD) \perp (AB)$ .

Or :  $(CD) \subset (BCD)$  et  $(CD) \subset (ACD)$ ; donc :  $\begin{cases} (AB) \perp (ACD) \\ (AB) \perp (BCD) \end{cases}$ .



◆ Exercice 20 p. 121

1. Soit M un point du plan (Π); H<sub>1</sub> son projeté orthogonal sur (P<sub>1</sub>) et H<sub>2</sub> son projeté orthogonal sur (P<sub>2</sub>).

Notons : (D<sub>1</sub>) = (Π) ∩ (P<sub>1</sub>); (D<sub>2</sub>) = (Π) ∩ (P<sub>2</sub>) et (D<sub>1</sub>) ∩ (D<sub>2</sub>) = {O}.

On a : H<sub>1</sub> ∈ (D<sub>1</sub>) et H<sub>2</sub> ∈ (D<sub>2</sub>); donc : d(M, P<sub>1</sub>) = d(M, (D<sub>1</sub>)) et d(M, P<sub>2</sub>) = d(M, (D<sub>2</sub>)).

d(M, P<sub>1</sub>) = d(M, (D<sub>1</sub>)) = MH<sub>1</sub> et d(M, P<sub>2</sub>) = d(M, (D<sub>2</sub>)) = MH<sub>2</sub>;

M ∈ (P) ⇔ d(M, (D<sub>1</sub>)) = d(M, (D<sub>2</sub>)).

Or l'ensemble des points équidistants de deux droites sécantes est dans leur plan, la réunion de leurs deux bissectrices.

Donc (Π) ∩ (P) est la réunion des bissectrices des droites (D<sub>1</sub>) et (D<sub>2</sub>).

2. Notons H<sub>1</sub> et H<sub>2</sub> les projetés orthogonaux respectifs de M sur (P<sub>1</sub>) et (P<sub>2</sub>); H'<sub>1</sub> et H'<sub>2</sub> les projetés orthogonaux respectifs de M' sur (P<sub>1</sub>) et (P<sub>2</sub>).

Démontrons que : MH<sub>1</sub> = M'H<sub>1</sub> et MH<sub>2</sub> = M'H<sub>2</sub>.

Supposons que : M ∈ (P<sub>1</sub>) ∪ (Π).

On a : (MH<sub>1</sub>) ⊥ (P<sub>1</sub>) et (M'H<sub>1</sub>) ⊥ (P<sub>1</sub>); donc : (MH<sub>1</sub>) // (M'H<sub>1</sub>).

Soit (Q<sub>1</sub>) le plan défini par les droites strictement parallèles (MH<sub>1</sub>) et (M'H<sub>1</sub>). (Q<sub>1</sub>) et (P<sub>1</sub>) sont sécantes suivant la droite (H<sub>1</sub>H'<sub>1</sub>).

Or : (MM') // (Q<sub>1</sub>) et (MM') // (P<sub>1</sub>); donc : (MM') // (H<sub>1</sub>H'<sub>1</sub>).

On en déduit que MH<sub>1</sub>H'<sub>1</sub>M' est un parallélogramme.

D'où : MH<sub>1</sub> = M'H<sub>1</sub>.

On démontre aisément que MH<sub>2</sub>H'<sub>2</sub>M' est un rectangle.

On démontre de même que : si M ∈ (P<sub>2</sub>) ∪ (Π), MH<sub>2</sub> = M'H<sub>2</sub>.

3. L'ensemble des points M dont le projeté orthogonal sur (Π) est une droite (D) de (Π) est le plan contenant (D) et perpendiculaire à (Π).

Donc d'après 1., (P) est la réunion des plans (Q) et (Q') contenant (D<sub>1</sub>) et (D<sub>2</sub>) respectivement et perpendiculaires à (Π).

Les plans (Q) et (Q') contiennent (Δ).

En effet (Δ) ⊥ (Π), (Q) ⊥ (Π) et (Q') ⊥ (Π); donc : (Δ) // (Q) et (Δ) // (Q').

Or (Δ) passe par le point d'intersection de (D<sub>1</sub>) et (D<sub>2</sub>); donc : (Δ) ⊂ (Q).

D'autre part : (Q) ⊥ (Q').

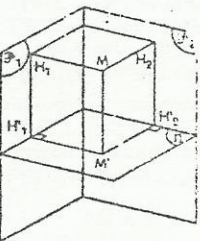
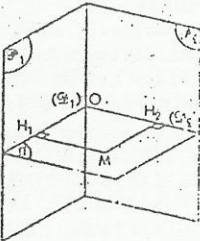
En effet, (D<sub>1</sub>) ⊥ (D<sub>2</sub>) et (D<sub>1</sub>) ⊥ (Δ); donc : (D<sub>1</sub>) ⊥ (Q) et par suite, (Q) ⊥ (Q'), car (D<sub>1</sub>) ⊂ (Q).

☐ Exercices d'approfondissement

◆ Exercice 21 p. 121

Soit H<sub>0</sub> le projeté orthogonal de O sur (P).

Notons (P<sub>0</sub>) le plan contenant O et perpendiculaire à (Δ).



On a : (P<sub>0</sub>) ∩ (Δ) = {H}. Démontrons que : H<sub>0</sub> ∈ (P<sub>0</sub>).

On a : (Δ) ⊥ (P<sub>0</sub>) et (OH<sub>0</sub>) ⊥ (Δ); donc : (OH<sub>0</sub>) // (P<sub>0</sub>).

Or : O ∈ (P<sub>0</sub>); donc : (OH<sub>0</sub>) ⊂ (P<sub>0</sub>); par suite : H<sub>0</sub> ∈ (P<sub>0</sub>).

En fait, H<sub>0</sub> est une position particulière de H.

Lorsque (Δ) = (AH<sub>0</sub>), on a : H = H<sub>0</sub>.

Distinguons les 2 cas suivants :

1<sup>er</sup> cas : A ≠ H<sub>0</sub>.

On a : (P<sub>0</sub>) = (OH<sub>0</sub>H). Or : (Δ) ⊥ (P<sub>0</sub>); donc : (H<sub>0</sub>H) ⊥ (Δ).

D'où le triangle AH<sub>0</sub>H est rectangle en H et H appartient au cercle de diamètre [AH<sub>0</sub>] privé de A.

Réciproquement, soit H' un point du cercle de diamètre [AH<sub>0</sub>] privé de A et de H<sub>0</sub>.

Démontrons que H' est le projeté orthogonal de O sur (Δ) = (AH').

Pour cela, il suffit de démontrer que le plan (OH<sub>0</sub>H') est perpendiculaire à (Δ) = (AH').

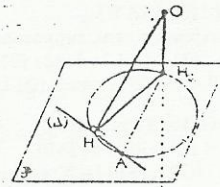
On a : (AH') ⊥ (H<sub>0</sub>H'), car H' appartient au cercle de diamètre [AH<sub>0</sub>].

De plus (OH<sub>0</sub>) ⊥ (AH'), car (OH<sub>0</sub>) ⊥ (P) et (AH') ⊂ (P). Donc : (AH') ⊥ (OH<sub>0</sub>H').

Le lieu de H est le cercle de diamètre [AH<sub>0</sub>], privé de A.

2<sup>e</sup> cas : A = H<sub>0</sub>.

Le lieu de H est (A).



◆ Exercice 22 p. 121

H<sub>0</sub> est le projeté orthogonal de O sur (Δ).

H<sub>0</sub> est une position particulière de H : lorsque (P) est le plan contenant H<sub>0</sub> et orthogonal à (OH<sub>0</sub>).

Lorsque (P) est le plan défini par O et (Δ), on a : H = O.

Supposons que (P) n'ait pas l'une des positions particulières définies ci-dessus.

On a : (OH) ⊥ (P); donc : (OH) ⊥ (HH<sub>0</sub>), car (HH<sub>0</sub>) ⊂ (P).

Par suite, le triangle OH<sub>0</sub>H est rectangle en H.

De plus, H appartient au plan (Q) passant par O et orthogonal à (Δ). En effet, (OH) ⊥ (Δ) et (Δ) ⊥ (Q);

donc : (OH) // (Q); par suite : (OH) ⊂ (Q) et H ∈ (Q).

On en déduit que H appartient au cercle (C) de diamètre [OH<sub>0</sub>] dans le plan (Q).

Réciproquement, soit H' un point du cercle (C) privé de O et de H<sub>0</sub>.

Désignons par (P') le plan défini par H' et (Δ).

Démontrons que H' est le projeté orthogonal de O sur (P').

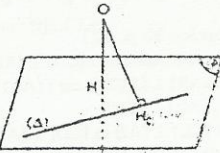
Pour cela, il suffit de démontrer que (OH') ⊥ (P').

On a : (Δ) ⊥ (Q) et (OH') ⊥ (Δ); de plus : (OH') ⊥ (HH<sub>0</sub>), car H' ∈ (C).

Donc : (OH') ⊥ (P'), car (Δ) et (HH<sub>0</sub>) sont deux droites sécantes du plan (P').

On en déduit que H' est le projeté orthogonal de O sur (P').

D'où le lieu de H est le cercle (C) de diamètre [OH<sub>0</sub>] dans le plan (Q) passant par O et orthogonal à (Δ).



◆ Exercice 23 p. 121

1. Dans le triangle rectangle ADC, on a : DC<sup>2</sup> = AD<sup>2</sup> + AC<sup>2</sup>.

Dans le triangle rectangle ABC, on a : BD<sup>2</sup> = AD<sup>2</sup> + AB<sup>2</sup>.

Dans le triangle rectangle ABC, on a : AB<sup>2</sup> = AC<sup>2</sup> + BC<sup>2</sup>.

On en déduit que : BD<sup>2</sup> = AD<sup>2</sup> + AC<sup>2</sup> + BC<sup>2</sup> et BD<sup>2</sup> = DC<sup>2</sup> + BC<sup>2</sup>.

Donc le triangle BCD est rectangle en C et par suite, (BC) et (CD) sont perpendiculaires.

2. On a : (BC) ⊥ (CD) et (BC) ⊥ (AD); donc : (BC) ⊥ (DAC).

Or : (BC) ⊂ (DBC); donc : (DAC) ⊥ (DBC).

3. a) On a : (BC) ⊥ (DAC); donc : (BC) ⊥ (AI).

De plus : (AI) ⊥ (CD); donc : (AI) ⊥ (BCD), car (BC) et (CD) sont deux droites sécantes du plan (BCD).

b) On a : (AI) ⊥ (BCD) et (IJ) ⊂ (BCD); donc : (AI) ⊥ (IJ). Par suite, le triangle AIJ est rectangle en I.

c) On a : (IA) ⊥ (BCD) et (JB) ⊂ (BCD); donc : (AI) ⊥ (JB).

De plus :  $(AJ) \perp (JB)$  ; donc :  $(JB) \perp (AJ)$  et  $(JB) \perp (IJ)$ .

On en déduit que le triangle  $BJI$  est rectangle en  $J$ . De plus, le triangle  $BCI$  est rectangle en  $C$  ; donc les points  $B, C, I$  et  $J$  appartiennent au cercle de diamètre  $[IB]$  dans le plan  $(BCD)$ .

◆ Exercice 24 p. 121

1. Le triangle  $MAB$  est rectangle en  $A$  ;  
donc :  $MB^2 = MA^2 + AB^2$  et  $MB^2 = a^2 + 1$ .

On a :  $(A) \perp (\mathcal{P})$  ; donc :  $(NB) \perp (MB)$ .

Par suite, le triangle  $MNB$  est rectangle en  $B$  ;

donc :  $MN^2 = MB^2 + NB^2 = a^2 + b^2 + 1$ .

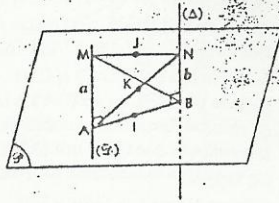
2. Dans le triangle  $ABN$ , on a :

$K = \text{mil } [AN]$  et  $I = \text{mil } [AB]$  ; donc :  $(IK) \parallel (NB)$ .

De même, dans le triangle  $AMN$ , on a :  $(KJ) \parallel (AM)$ .

Or :  $(NB) \perp (\mathcal{P})$  et  $(MA) \subset (\mathcal{P})$  ; donc :  $(NB) \perp (MA)$ .

Par suite,  $(IK) \perp (KJ)$  et le triangle  $IJK$  est rectangle en  $K$ .



3. Remarques

Si,  $M = A$  ou  $N = B$ , alors deux au moins des points  $I, J$  et  $K$  sont confondus.

Supposons donc que :  $M \neq A$  et  $N \neq B$ .

Dans le triangle rectangle  $IJK$ , on a :  $IJ^2 = KJ^2 + KI^2 = \frac{MA^2}{4} + \frac{NB^2}{4} = \frac{a^2 + b^2}{4}$ .

Cette formule est valable si  $M = A$  ou  $N = B$ .

En effet, si  $M = A$ , on a  $K = J$  et dans le triangle  $ABN$ , on a  $IJ = \frac{b}{2}$  ; d'où :  $IJ^2 = \frac{a^2}{4} + \frac{b^2}{4}$ , car  $a = 0$ .

De même si  $N = B$ , on a  $IJ^2 = \frac{a^2}{4} + \frac{b^2}{4}$ , avec  $b = 0$ .

4. Remarquons que la condition  $M \neq A$  et  $N \neq B$  est réalisée car  $MN = 2$ .

On a :  $IJ^2 = \frac{a^2 + b^2}{4} = \frac{MN^2 - 1}{4} = \frac{3}{4}$  ; d'où :  $IJ = \frac{\sqrt{3}}{2}$ .

De plus, le plan médiateur  $(Q)$  du segment  $[AB]$  contient les points  $I, J$  et  $K$ .

En effet :  $(KI) \perp (AB)$  ; donc :  $(KI) \subset (Q)$ .

De plus :  $(KJ) \parallel (MA)$  et  $(MA) \perp (AB)$  ; donc :  $(KJ) \perp (AB)$ . Par suite :  $(KJ) \subset (Q)$ .

L'ensemble des points  $J$  est donc le cercle du plan  $(Q)$  de centre  $I$  et de rayon  $\frac{\sqrt{3}}{2}$ .

◆ Exercice 25 p. 122

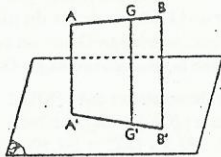
1. Désignons par  $G$  le barycentre de  $(A, a)$  et  $(B, b)$ ,  $G'$  le projeté orthogonal de  $G$  sur  $(\mathcal{P})$ .

• Si  $A \neq B$ , on a :  $\frac{\overrightarrow{AG}}{\overrightarrow{AB}} = \frac{a}{a+b}$ .

Les droites  $(AA')$ ,  $(BB')$  et  $(CC')$  étant parallèles, il existe un plan  $(Q)$  qui les contient toutes.

Appliquons le théorème de Thalès dans ce plan.

On a :  $\frac{\overrightarrow{AG}}{\overrightarrow{AB}} = \frac{\overrightarrow{A'G'}}{\overrightarrow{A'B'}}$  ; d'où :  $\overrightarrow{A'G'} = \frac{a}{a+b} \overrightarrow{A'B'}$ .



On en déduit que  $G'$  est le barycentre de  $(A', a)$  et  $(B', b)$ .

• Si les points  $A$  et  $B$  sont confondus, le résultat est évident car alors,  $A = B = G$  et  $A' = B' = G'$ .

2. L'une des sommes  $a + b$ ,  $b + c$  et  $a + c$  est non nulle, sinon la somme  $a + b + c$  serait nulle. Supposons donc que :  $a + b \neq 0$ .

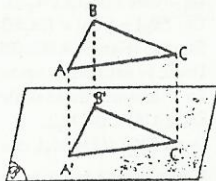
$G_1$  est le barycentre de  $(A, a)$  et  $(B, b)$  ;

$G'_1$  est le projeté orthogonal de  $G_1$  sur  $(\mathcal{P})$ .

D'après 1.,  $G'_1$  est le barycentre  $(A', a)$  et  $(B', b)$ .

Or :  $G = \text{bar } \{(G_1, a + b), (C, c)\}$ .

D'où, d'après 1.,  $G' = \text{bar } \{(G'_1, a + b), (C, c)\} = \text{bar } \{(A', a), (B', b), (C, c)\}$ .



◆ Exercice 26 p. 122

1. Il suffit de démontrer que :  $(AH) \perp (BC)$  et  $(CH) \perp (AB)$ .

a) Démontrons que :  $(AH) \perp (BC)$ .

• On a :  $(SH) \perp (BC)$ , car  $(SH) \perp (ABC)$ .

Or :  $(SA) \perp (SB)$  et  $(SA) \perp (SC)$  ; donc :  $(SA) \perp (SBC)$  et  $(SA) \perp (SB)$ .

On en déduit que :  $(BC) \perp (SAH)$  ; par suite :  $(AH) \perp (BC)$ .

b) De même, on démontre que :  $(CS) \perp (AB)$  et  $(SH) \perp (AB)$ .

On en déduit que :  $(AB) \perp (SCH)$  et  $(CH) \perp (AB)$ .

2. On a :  $\cos \hat{A} = \frac{AB^2 + AC^2 - BC^2}{2AB \times AC}$ .

Dans le triangle rectangle  $SAB$ , on a :  $AB^2 = SA^2 + SB^2$ .

De même :  $AC^2 = SA^2 + SC^2$  et  $BC^2 = SB^2 + SC^2$ .

Donc :  $\cos \hat{A} = \frac{2SA^2}{2AB \times AC} = \frac{SA^2}{AB \times AC}$ .

Or :  $\cos \hat{A} > 0$  ; donc : l'angle  $\hat{A}$  est aigu.

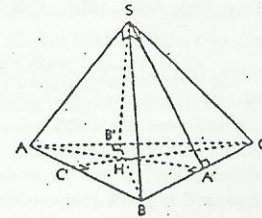
On démontre de même que les angles  $\hat{B}$  et  $\hat{C}$  sont aigus.

3. On sait que :  $(SA) \perp (SBC)$ .

Or :  $A' \in (BC)$  ; donc :  $(SA) \perp (SA')$ .

On en déduit que le triangle  $ASA'$  est rectangle en  $S$ .

On démontre de même que les triangles  $BSB'$  et  $CSC'$  sont rectangles en  $S$ .



4. On a :  $\mathcal{A}(BHC) = \frac{\overline{AH} \times \overline{BC}}{2}$  et  $\mathcal{A}(SBC) = \frac{SA' \times \overline{BC}}{2}$  ; donc :  $\frac{\mathcal{A}(BHC)}{\mathcal{A}(SBC)} = \frac{\overline{AH}}{SA'}$ .

Observons le triangle  $ASA'$  rectangle en  $S$ .

Les angles  $\widehat{SA'H}$  et  $\widehat{ASH}$  sont égaux, car leurs côtés sont perpendiculaires deux à deux ; donc :  $\cos \widehat{SA'H} = \cos \widehat{ASH}$ .

Or :  $\cos \widehat{SA'H} = \frac{\overline{AH}}{SA'}$  (triangle rectangle  $A'HS$ )

et  $\cos \widehat{ASH} = \frac{\overline{SH}}{SA}$  (triangle rectangle  $AHS$ ).

On en déduit que :  $\frac{\mathcal{A}(BHC)}{\mathcal{A}(SBC)} = \frac{\overline{AH}}{SA'} = \frac{\overline{SH}}{SA}$  ; par suite :  $\mathcal{A}(BHC) = \frac{\overline{SH}}{SA} \times \mathcal{A}(SBC)$ .

5. On a :  $\mathcal{A}(AHB) = \frac{\overline{SH}}{SC} \times \mathcal{A}(ASB)$  et  $\mathcal{A}(AHC) = \frac{\overline{SH}}{SB} \times \mathcal{A}(ASC)$ .

6. On a :  $\mathcal{V}(SABC) = \frac{1}{3} \times \overline{SH} \times \mathcal{A}(ABC) = \frac{1}{3} SA \times \mathcal{A}(BSC)$ .

Or :  $\mathcal{A}(ABC) = \mathcal{A}(AHC) + \mathcal{A}(BHC) + \mathcal{A}(AHB)$ .

$$= \left[ \frac{\mathcal{A}(SBC)}{SA} + \frac{\mathcal{A}(ASB)}{SC} + \frac{\mathcal{A}(ASC)}{SB} \right]$$

$$= \frac{\overline{SH}}{2} \left[ \frac{\overline{SB} \times \overline{SC}}{SA} + \frac{SA \times \overline{SB}}{SC} + \frac{SA \times \overline{SC}}{SB} \right]$$

Donc :  $\mathcal{V}(SABC) = \frac{1}{6} \overline{SH}^2 \times \left[ \frac{\overline{SB} \times \overline{SC}}{SA} + \frac{SA \times \overline{SB}}{SC} + \frac{SA \times \overline{SC}}{SB} \right] = \frac{1}{3} SA \times \frac{\overline{SB} \times \overline{SC}}{2} = \frac{1}{6} SA \times \overline{SB} \times \overline{SC}$ .

On en déduit :  $\overline{SH}^2 \times \left[ \frac{\overline{SB} \times \overline{SC}}{SA} + \frac{SA \times \overline{SB}}{SC} + \frac{SA \times \overline{SC}}{SB} \right] = SA \times \overline{SB} \times \overline{SC}$ .

Par suite :  $\frac{1}{SA^2} + \frac{1}{SB^2} + \frac{1}{SC^2} = \frac{1}{\overline{SH}^2}$ .

◆ Exercice 27 p. 122

1. On a :  $(AA') \perp (BCD)$  ; donc :  $(AA') \perp (CD)$ .

De plus :  $(CD) \perp (BA')$ .

On en déduit que  $(CD) \perp (ABA')$ , car  $(AA')$  et  $(BA')$  sont deux droites sécantes du plan  $(ABA')$ .

On a :  $(CD) \perp (ABA')$  ; donc :  $(CD) \perp (AB)$ .

2. On utilise le même raisonnement que précédemment.  
On a :  $(BD) \perp (CA')$  et  $(BD) \perp (AA')$  ; donc :  $(BD) \perp (ACA')$ .  
Par suite :  $(BD) \perp (AC)$ .  
De même :  $(BC) \perp (ADA')$  ; d'où :  $(BC) \perp (AD)$ .

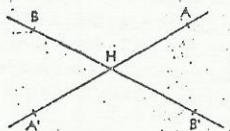
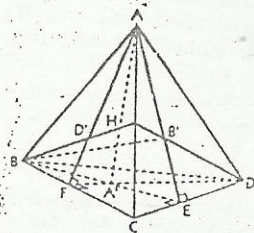
3. Démontrons que B' est l'orthocentre de ACD.  
Pour cela, démontrons que :  $(AB') \perp (CD)$  et  $(CB') \perp (AD)$ .  
On a :  $(BB') \perp (ACD)$  ; donc :  $(BB') \perp (CD)$ .  
Or :  $(AB) \perp (CD)$  ; donc :  $(CD) \perp (ABB')$ . D'où :  $(CD) \perp (AB')$ .

De même, on a :  $(BB') \perp (AD)$  et  $(AD) \perp (BC)$  ; donc :  $(AD) \perp (CBB')$ . Par suite :  $(AD) \perp (CB')$ .

**Conclusion** :  $(AB') \perp (CD)$  et  $(CB') \perp (AD)$  ; donc B' est l'orthocentre de ACD.

On montre de même que C' et D' sont les orthocentres respectifs de ABD et ABC.

4. Démontrons que :  $A' \in (ABB')$   
On a :  $(CD) \perp (ABB')$  et  $(AA') \perp (CD)$  ; donc :  $(AA') \parallel (ABB')$ .  
On en déduit :  $(AA') \subset (ABB')$  ; par suite :  $A' \in (ABB')$ .  
Désignons par E le point d'intersection de  $(AB')$  et  $(CD)$ .  
Les droites  $(AA')$  et  $(BB')$  sont des hauteurs du triangle ABE.  
Soit H l'orthocentre de ce triangle. On a :  $H \in (AA') \cap (BB')$ .



Démontrons que :  $(AA') \subset (ADD')$ .  
On a :  $(BC) \perp (ADD')$  et  $(BC) \perp (AA')$  ; donc :  $(AA') \parallel (ADD')$ . Par suite :  $(AA') \subset (ADD')$ .

Désignons par F le point d'intersection de  $(AD')$  et  $(BC)$ .  
Les droites  $(AA')$  et  $(DD')$  sont des hauteurs du triangle ADF ; elles sont donc sécantes.  
On démontre de même que les droites  $(AA')$ ,  $(BB')$ ,  $(CC')$  et  $(DD')$  sont deux à deux sécantes.  
Démontrons que  $H \in (DD')$ . Les droites  $(AA')$  et  $(BB')$  sont sécantes en H dans le plan (ABE).  
Or la droite  $(DD')$  n'est pas incluse dans le plan (ABE) ; sinon B' appartiendrait à  $(AD)$ , ce qui est absurde car B' appartient à la hauteur du triangle ACD issue de A.

$(DD')$  n'est pas incluse dans le plan (ABE) contenant  $(AA')$  et  $(BB')$ .

Or,  $(DD')$  est sécante à  $(AA')$  et à  $(BB')$ .  
Donc,  $(DD')$  coupe  $(AA')$  et  $(BB')$  en un seul point qui est H.  
On démontre de la même façon que :  $H \in (CC')$ .

**Conclusion**

Les droites  $(AA')$ ,  $(BB')$ ,  $(CC')$  et  $(DD')$  sont concourantes en H.

◆ Exercice 28 p. 122

Figure dans le plan (OAB)

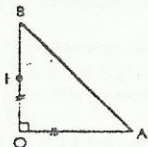
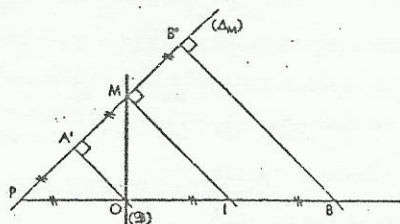


Figure dans le plan (P)



1. Démontrons que :  $(I'B') \parallel (IM)$ .

Dans le plan (P), on a :  $\left\{ \begin{array}{l} (IM) \perp (\Delta_M) \\ (B'B') \perp (\Delta_M) \end{array} \right.$  ; donc :  $(IM) \parallel (B'B')$ .

Démontrons que :  $(OA') \perp (\Delta_M)$ .

Désignons par  $(\mathcal{P}_A)$  le plan passant par A et orthogonal à  $(\Delta_M)$ .

On a :  $O \in (\mathcal{P}_A)$ . En effet,  $(OA) \perp (\Delta_M)$ , car  $(OA) \perp (\mathcal{P})$ .

Or :  $(\Delta_M) \perp (\mathcal{P}_A)$  ; donc :  $(OA) \parallel (\mathcal{P}_A)$ .

On en déduit :  $(OA) \subset (\mathcal{P}_A)$ , car  $A \in (\mathcal{P}_A)$  ; par suite :  $O \in (\mathcal{P}_A)$ .

Donc :  $(OA') \subset (\mathcal{P}_A)$  et  $(OA) \perp (\Delta_M)$ .

Démontrons que :  $(OA') \parallel (IM)$ .

Dans le plan (P), on a :  $(OA') \perp (\Delta_M)$  et  $(IM) \perp (\Delta_M)$  ; donc :  $(OA') \parallel (IM)$ .

Ce résultat fournit un procédé de construction du point A' : projeté orthogonal de A sur  $(\Delta_M)$  (voir figure).

Démontrons que :  $M = \text{mil } [A'B']$ .

On applique le théorème de Thalès dans le plan (P) (voir figure).

2. Démontrons que :  $MA = MB$ .

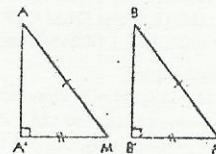
Les triangles OAM et OBM sont isométriques. En effet, ils sont

tous les deux rectangles en O et  $OA = OB$  ; donc :  $MA = MB$ .

Démontrons que :  $AA' = BB'$ .

Les triangles  $AA'M$  et  $BB'M$  sont rectangles, respectivement en A' et en B'.

De plus :  $AM = MB$  et  $A'M = B'M$  ; donc :  $AA' = BB'$ .



◆ Exercice 29 p. 122

Nétons  $(\mathcal{P}_1)$  le plan défini par O et  $(\mathcal{Q}_1)$ , et  $(\mathcal{P}_2)$  celui défini par O et  $(\mathcal{Q}_2)$ .

On a :  $\left\{ \begin{array}{l} (OM_1) \perp (\mathcal{P}_1) \text{ et } M_1 \in (\mathcal{P}_1) \\ (OM_2) \perp (\mathcal{P}_2) \text{ et } M_2 \in (\mathcal{P}_2) \end{array} \right.$

1. Supposons, que :  $M_1 = M_2$ .

On a :  $(OM) \perp (\mathcal{P}_1)$  et  $(OM) \perp (\mathcal{P}_2)$  ; donc :  $(\mathcal{P}_1) \parallel (\mathcal{P}_2)$ .

Or :  $A \in (\mathcal{P}_1) \cap (\mathcal{P}_2)$  ; donc :  $(\mathcal{P}_1) = (\mathcal{P}_2)$ .

Les droites  $(\mathcal{Q}_1)$  et  $(\mathcal{Q}_2)$  étant sécantes, on en déduit que :  
 $(\mathcal{P}_1) = (\mathcal{P}_2) = \mathcal{P}$  et  $O \in (\mathcal{P})$  ; ceci est faux, donc :  $M_1 \neq M_2$ .

2. On a :  $(OM_1) \perp (\mathcal{P}_1)$  ; donc :  $(OM_1) \perp (OA)$ .

De même :  $(OM_2) \perp (OA)$ .

$(OM_1)$  et  $(OM_2)$  étant deux droites sécantes du plan  $(OM_1M_2)$ , on en déduit que :  $(OA) \perp (OM_1M_2)$ .

3. On a :  $(OH) \perp (M_1M_2)$  et  $(OA) \perp (M_1M_2)$  ; donc :  $(M_1M_2) \perp (OAH)$ . Par suite :  $(M_1M_2) \perp (AH)$ .  
 $(M_1M_2)$  et  $(AH)$  étant deux droites du plan (P), on en déduit qu'elles sont perpendiculaires.

4. On a :  $(OA) \perp (OM_1M_2)$  ;

or  $(OA)$  est une droite du plan  $(OM_1M_2)$  ; donc :  $(OA) \perp (OA')$ .

Donc, le triangle  $OAA'$  est rectangle en O.

Dans le triangle rectangle  $OAA'$ , on a :  $OH^2 = AH \times A'H$ .

5. Démontrons que :  $(BH) \perp (AC)$  et  $(CH) \perp (AB)$ .

On a :  $(OH) \perp (\mathcal{Q}_1)$  et  $(OM_1) \perp (\mathcal{Q}_1)$  ; donc :  $(\mathcal{Q}_1) \perp (OHM_1)$  et  $(\mathcal{Q}_1) \perp (M_1H)$ .

Or :  $(\mathcal{Q}_1) = (AC)$  et  $(M_1H) = (BH)$  ; donc :  $(BH) \perp (AC)$ .

De même :  $(\mathcal{Q}_2) \perp (M_2H)$ .

Or :  $(\mathcal{Q}_2) = (AB)$  et  $(M_2H) = (CH)$  ; donc :  $(CH) \perp (AB)$ .

Dans le triangle ABC, (BH) est la hauteur issue de B et (CH) est la hauteur issue de C.  
Donc, H est l'orthocentre de ABC.

La 3<sup>e</sup> hauteur du triangle ABC est la droite (AH) qui est donc perpendiculaire à (BC).

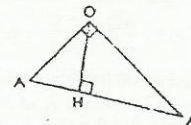
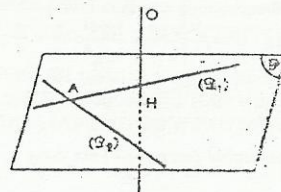
Or :  $(AH) \perp (M_1M_2)$ .

Donc  $(BC) \parallel (M_1M_2)$ , car les droites (BC), (AH) et  $(M_1M_2)$  sont toutes incluses dans le plan (P).

6. Reprenons la figure du plan (P).

D'après 4., on a :  $A'H = \frac{OH^2}{AH}$  = constante.

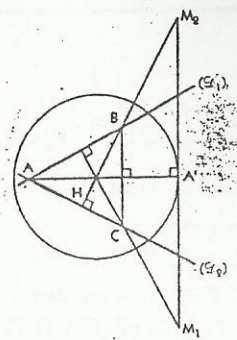
Donc, A' appartient au cercle (C) de (P) de centre H et de rayon  $\frac{OH^2}{AH}$ .



D'autre part, le triangle  $OAA'$  étant rectangle en  $O$  et  $H$  le pied de la hauteur issue de  $O$ , on a  $H \in [AA']$ . D'où :  $A' \in (AH) - (AH)$ .

La droite  $(AH)$  coupe  $(\mathcal{C})$  en deux points situés de part et d'autre du point  $H$  et  $A' \in (AH)$ ; donc  $A'$  est fixe : c'est le point d'intersection de  $(\mathcal{C})$  et de la demi-droite d'origine  $H$  qui est dirigée par  $\overrightarrow{AH}$ .

Les points  $M_1$  et  $M_2$  sont donc sur la droite tangente à  $(\mathcal{C})$  en  $A'$ .



♦ Exercice 30 p. 122

1. Les droites  $(OA)$  et  $(OB)$  sont coplanaires puisqu'elles sont sécantes en  $O$ .  
Démontrons que les points  $Q$  et  $R$  sont éléments du plan  $(AOB)$ .

On a :  $(OQ) \perp (POC)$ ; donc :  $(OQ) \perp (OP)$ . Or :  $(OP) \perp (AOB)$ ; par suite :  $(OQ) \parallel (AOB)$ .

Le point  $O$  étant un point commun à la droite  $(OQ)$  et au plan  $(AOB)$ , on a :  $(OQ) \subset (AOB)$ .

On démontre de même que :  $(OR) \subset (AOB)$ .

Les droites  $(OA)$ ,  $(OB)$ ,  $(OQ)$  et  $(OR)$  sont incluses dans le plan  $(AOB)$ ; elles sont donc coplanaires.

2. Les plans  $(AOB)$  et  $(POC)$  ont un point commun  $O$  et ils sont différents car  $P \notin (AOB)$ ; donc  $(AOB)$  et  $(POC)$  sont sécants suivant une droite qui passe par  $O$ .

On a :  $(OR) \perp (POQ)$ ; donc :  $(OR) \perp (OQ)$ . Or :  $(OQ) \perp (POC)$ ; donc :  $(OR) \parallel (POC)$ . Par suite :  $(OR) \subset (POC)$ .

On a :  $(OR) \subset (POC)$  et  $(OR) \subset (AOB)$ ; donc  $(AOB) \cap (POC) = (OR)$ .

# 7. Vecteurs de l'espace

(pages 123 à 144 du livre de l'élève)

## OBJECTIFS

- Étendre du plan à l'espace l'outil vectoriel : notion de vecteur, opérations sur les vecteurs, produit scalaire, barycentre, bases, repères.
- Utiliser l'outil vectoriel de l'espace pour :
  - caractériser les droites et les plans de l'espace ;
  - effectuer des calculs vectoriels et des représentations dans l'espace à l'aide de bases ou repères de l'espace.

## COMMENTAIRES

- Il conviendra de traiter rapidement la première et la deuxième partie de ce chapitre qui ne sont qu'une extension à l'espace de notions déjà étudiées dans le plan.
- On évitera les calculs vectoriels faisant intervenir des changements de base.
- Pour les représentations dans un repère de l'espace, on se limitera à des repères orthonormés.
- Certains exercices de fin de chapitre traitent de sphère circonscrite ou de sphère inscrite à un polyèdre. Il conviendra, avant de les proposer, de signaler les propriétés élémentaires utiles à leur résolution :
  - un tétraèdre admet une et une seule sphère inscrite ;
  - un tétraèdre admet une et une seule sphère circonscrite ;
  - si un polyèdre admet une sphère circonscrite, elle est unique ;
  - si un polyèdre admet une sphère inscrite, elle est unique ;

## SAVOIRS ET SAVOIR-FAIRE

### savoirs

- Extension à l'espace de la notion de vecteurs
- Vecteurs de l'espace, norme, vecteurs colinéaires, vecteurs orthogonaux.
  - Opérations sur les vecteurs de l'espace : définitions et propriétés.
  - Barycentre de 4 points non coplanaires.
  - Caractérisations vectorielles d'une droite de l'espace, représentations paramétriques.
  - Caractérisations vectorielles d'un plan de l'espace, représentations paramétriques.
  - Vecteurs coplanaires.

### Bases et repères

- Bases de l'espace, bases orthonormées.
- Coordonnées d'un vecteur dans une base donnée.
- Coordonnées de la somme de deux vecteurs, du produit d'un vecteur par un nombre réel.
- Coordonnées d'un point dans un repère de l'espace.
- Coordonnées du milieu d'un segment, du barycentre de 2, 3 ou 4 points.

### Produit scalaire

- Produit scalaire de deux vecteurs de l'espace : définition et propriétés.
- Expression du produit scalaire, de la norme d'un vecteur dans une base orthonormée.
- Repères de l'espace, repères orthonormés.
- Expression de la distance dans un repère orthonormé.

### savoir-faire

- Reconnaître deux vecteurs colinéaires, deux vecteurs orthogonaux de l'espace.
- Utiliser les propriétés des vecteurs de l'espace pour effectuer des calculs vectoriels.
- Démontrer que 3 vecteurs sont coplanaires.
- Démontrer que 4 points sont coplanaires.

- Effectuer des calculs vectoriels dans une base donnée de l'espace.
- Représenter des points, des droites dans un repère donné de l'espace.
- Déterminer graphiquement les coordonnées d'un point donné de l'espace, connaissant son projeté sur l'un des plans du repère (orthonormé).

- Calculer le produit scalaire de deux vecteurs :
  - à l'aide de la définition ;
  - à l'aide de l'expression analytique.
- Calculer la distance de deux points.

## Exercices du cours

### Exercice 1.a p. 130

1. • Voir figure ci-contre.

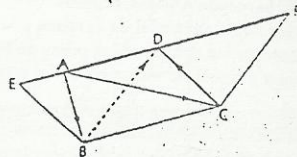
2. • D est le milieu de [EF]. En effet,

$$\text{on a : } \vec{ED} = \vec{EA} + \vec{AB} + \vec{BD} \text{ et } \vec{FD} = \vec{FA} + \vec{AC} + \vec{CD};$$

$$\text{donc : } \vec{ED} + \vec{FD} = \vec{EA} + (\vec{AB} + \vec{CD}) + (\vec{BD} + \vec{AC}) + \vec{FA} \\ = \vec{EA} + \vec{AE} + \vec{AF} + \vec{FA} = \vec{0}.$$

$$\bullet \vec{EF} = \vec{EA} + \vec{AF} = (\vec{BA} + \vec{DC}) + (\vec{AC} + \vec{BD})$$

$$= (\vec{BA} + \vec{AC}) + (\vec{BD} + \vec{DC}) = 2\vec{BC}.$$



### Exercice 1.b p. 130

$$1. \bullet \vec{BG} = \vec{c} + \vec{w}; \vec{CH} = \vec{w} - \vec{u}; \vec{OG} = \frac{1}{2}(\vec{u} + \vec{c} + \vec{w}); \vec{FD} = \vec{c} - \vec{w} - \vec{u}; \vec{CE} = \vec{w} - \vec{u} - \vec{v}.$$

2. I, J et K sont les milieux respectifs de [EG], [DG] et [BG].

### Exercice 1.c p. 130

$$\text{On a : } \vec{AI} = \frac{1}{3}(\vec{AB} + \vec{AC} + \vec{AD}); \vec{BJ} = \frac{1}{3}(\vec{BC} + \vec{BD} + \vec{BA}); \vec{CK} = \frac{1}{3}(\vec{CD} + \vec{CA} + \vec{CB}); \vec{DL} = \frac{1}{3}(\vec{DA} + \vec{DB} + \vec{DC}).$$

$$\text{Donc : } \vec{AI} + \vec{BJ} + \vec{CK} + \vec{DL} = \vec{0}.$$

### Exercice 1.d p. 130

Les vecteurs ne sont pas coplanaires : a), b), c) et d). Les vecteurs sont coplanaires : e).

### Exercice 1.e p. 130

a) Soit  $(\alpha, \beta, \gamma) \in \mathbb{R}^3$ , tel que  $\alpha(\vec{i} + \vec{j}) + \beta(\vec{j} + \vec{k}) + \gamma(\vec{k} + \vec{i}) = \vec{0}$ .

$$\text{On a : } \begin{cases} \alpha + \gamma = 0 \\ \alpha + \beta = 0 \\ \beta + \gamma = 0 \end{cases} \text{ donc : } \alpha = \beta = \gamma = 0. \text{ Par suite, les vecteurs sont non coplanaires.}$$

b) On démontre de la même façon que les 3 vecteurs sont non coplanaires, dans chaque cas.

### Exercice 1.f p. 130

1. • On a :  $I \in (\mathcal{Q}_1)$  par définition de  $(\mathcal{Q}_1)$  et  $\vec{IL} = -\frac{1}{2}(\vec{u} - \vec{w})$ ; donc :  $L \in (\mathcal{Q}_1)$ .

• On a :  $J \in (\mathcal{Q}_2)$  par définition de  $(\mathcal{Q}_2)$  et  $\vec{JA} = -\frac{1}{2}(\vec{u} + \vec{v})$ ; donc :  $A \in (\mathcal{Q}_2)$ .

• On a :  $L \in (\mathcal{Q}_2)$  par définition de  $(\mathcal{Q}_2)$  et  $\vec{LJ} = \vec{LI} + \vec{IJ} = \frac{1}{2}(\vec{u} + \vec{v} - \vec{w})$ ; donc :  $J \in (\mathcal{Q}_2)$ .

2. a)

• Un couple de vecteurs directeurs de (A J K) est  $(\vec{AJ}, \vec{JK})$ , avec :

$$\vec{AJ} = \frac{1}{2}(\vec{u} + \vec{v}) \text{ et } \vec{JK} = \frac{1}{2}(-\vec{u} + \vec{w}).$$

• Un couple de vecteurs directeurs de (B K L) est  $(\vec{LB}, \vec{LK})$ , avec :

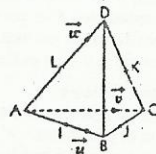
$$\vec{LB} = -\frac{1}{2}\vec{w} + \vec{u} \text{ et } \vec{LK} = \frac{1}{2}\vec{v}.$$

• Un couple de vecteurs directeurs de (C I K) est  $(\vec{IK}, \vec{IC})$ , avec :

$$\vec{IK} = \frac{1}{2}(-\vec{u} + \vec{v} + \vec{w}) \text{ et } \vec{IC} = -\frac{1}{2}\vec{u} + \vec{v}.$$

• Un couple de vecteurs directeurs de (D J L) est  $(\vec{JL}, \vec{JD})$ , avec :  $\vec{JL} = \frac{1}{2}(\vec{u} + \vec{v} - \vec{w})$  et  $\vec{JD} = \frac{1}{2}(\vec{u} + \vec{v})$ .

b)  $\begin{cases} (\vec{IL}) // (\vec{BD}) \\ (\vec{KJ}) // (\vec{BD}) \end{cases} \Rightarrow (\vec{IL}) // (\vec{KJ})$ ; donc I, J, K et L appartiennent au plan (ILK) de repère  $(I, \vec{IL}, \vec{IK})$ .



### Exercice 1.g p. 130

$G = \text{bar} \{(A, -1), (C, 1), (I, 4)\}$ , car  $I = \text{bar} \{(B, 2), (D, 2)\}$ ; donc :  $G \in (ACI)$ .

### Exercice 2.a p. 133

$$1. \text{ On a : } \vec{u} - 2\vec{v} + \vec{w} \begin{pmatrix} -4 \\ 6 \\ -8 \end{pmatrix}; 2\vec{u} + \vec{v} - \vec{w} \begin{pmatrix} -3 \\ 4 \\ -5 \end{pmatrix} \text{ et } \vec{u} - \vec{v} + 2\vec{w} \begin{pmatrix} -3 \\ 6 \\ -9 \end{pmatrix}.$$

2. On a :  $\vec{w} = \vec{u} + 2\vec{v}$ ; donc :  $\vec{u}, \vec{v}$  et  $\vec{w}$  sont coplanaires.

### Exercice 2.b p. 135

$$1. \text{ Soit } (\alpha, \beta, \gamma) \in \mathbb{R}^3, \text{ tel que : } \alpha\vec{u} + \beta\vec{v} + \gamma\vec{w} = \vec{0}. \text{ On a : } \begin{cases} -2\alpha + 2\beta = 0 \\ \alpha + \gamma = 0 \\ -\beta - 2\gamma = 0 \end{cases} \Rightarrow \alpha = \beta = \gamma = 0.$$

Donc,  $(\vec{u}, \vec{v}, \vec{w})$  est une base de  $\mathcal{W}$ .

$$2. \text{ On a : } \vec{i} = \frac{1}{2}(\vec{u} + 2\vec{v} - \vec{w}); \vec{j} = 2\vec{u} + 2\vec{v} - \vec{w}; \vec{k} = \vec{u} + \vec{v} - \vec{w}.$$

### Exercice 2.c p. 135

$$1. \text{ On a : } \vec{AB} \begin{pmatrix} -3 \\ 2 \end{pmatrix} \text{ et } \vec{AC} \begin{pmatrix} 3/2 \\ -1 \\ -1 \end{pmatrix}; \text{ donc : } \vec{AC} = -\frac{1}{2}\vec{AB} \text{ et A, B, C sont alignés.}$$

2. Le point D a pour coordonnées  $(-\frac{1}{4}; \frac{1}{2}; \frac{5}{2})$ .

### Exercice 2.d p. 135

$$1. \text{ On a : } \vec{AB} \begin{pmatrix} -1 \\ -1 \\ -1 \end{pmatrix}; \vec{AC} \begin{pmatrix} 1 \\ 3 \\ 0 \end{pmatrix} \text{ et } \vec{AD} \begin{pmatrix} -3 \\ 1 \\ -5 \end{pmatrix}.$$

2. On a :  $\vec{AD} = 5\vec{AB} + 2\vec{AC}$ ; donc : D, A, B et C sont coplanaires.

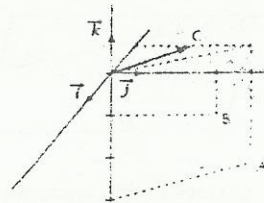
### Exercice 2.e p. 135

1. Voir figure ci-contre.

$$2. \text{ On a : } \vec{AB} \begin{pmatrix} 1 \\ 0 \\ 2 \end{pmatrix}; \vec{BC} \begin{pmatrix} -1 \\ -1 \\ 1 \end{pmatrix} \text{ et } \vec{CA} \begin{pmatrix} 0 \\ 1 \\ -3 \end{pmatrix}.$$

$$3. \text{ On a : } I \begin{pmatrix} -1/2 \\ 3/2 \\ -1/2 \end{pmatrix}; J \begin{pmatrix} -1 \\ 3/2 \\ -3/2 \end{pmatrix} \text{ et } K \begin{pmatrix} -1/2 \\ 2 \\ -2 \end{pmatrix}.$$

$$4. \text{ On a : } G \begin{pmatrix} -2/3 \\ 5/3 \\ -4/3 \end{pmatrix}.$$

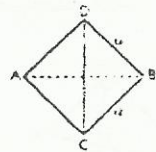


### Exercice 3.a p. 140

$$1. \vec{AB} \cdot \vec{AC} = \frac{a^2}{2}; \vec{AB} \cdot \vec{AD} = \frac{a^2}{2}; \vec{AB} \cdot \vec{BC} = -\frac{a^2}{2}; \vec{AB} \cdot \vec{CD} = 0.$$

$$2. \vec{AB} \cdot \vec{CD} = 0 \Rightarrow (AB) \perp (CD).$$

On montre de même que :  $(AD) \perp (BC)$  et  $(DB) \perp (AC)$ .



### Exercice 3.b p. 140

$$\vec{SA} \cdot \vec{SB} = \frac{a^2}{2}; \vec{SA} \cdot \vec{SC} = 0; \vec{SA} \cdot \vec{AB} = -\frac{a^2}{2}; \vec{SA} \cdot \vec{BC} = -\frac{a^2}{2}; \vec{SA} \cdot \vec{BD} = 0.$$

### Exercice 3.c p. 140

$$1. \vec{AD} \cdot \vec{BC} = 0; \vec{AB} \cdot \vec{CD} = \frac{a^2}{2}.$$

$$2. \cos(\vec{IA}, \vec{ID}) = 0.$$

### Exercice 3.d p. 140

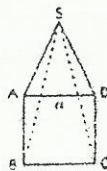
1.  $(AS) \perp (AB)$  et  $(AS) \perp (AD) \Rightarrow (AS) \perp (ABD)$ ;

de plus :  $C \in (ABD)$ ; donc :  $\vec{AS} \cdot \vec{BC} = 0$  et  $\vec{AS} \cdot \vec{BD} = 0$ .

$$2. \triangle ASC \text{ est rectangle en A } \Rightarrow \cos(\vec{SA}, \vec{SC}) = \frac{AS}{SC} = \frac{a}{\sqrt{3}a} = \frac{\sqrt{3}}{3}.$$

$$\text{Donc : } \vec{SA} \cdot \vec{SC} = SA \times SC \cos(\vec{SA}, \vec{SC}) = a \times a \sqrt{3} \times \frac{\sqrt{3}}{3} = a^2;$$

$$\text{et : } \vec{AC} \cdot \vec{SC} = \vec{AC} \cdot (\vec{AC} - \vec{AS}) = AC^2 - \vec{AC} \cdot \vec{AS} = 2a^2.$$



$$3. \vec{SD}^2 = (\vec{SB} + \vec{BD})^2 = SB^2 + BD^2 + 2\vec{SC} \cdot \vec{BD} \Rightarrow \vec{SC} \cdot \vec{BD} = -a^2.$$

$$\vec{SB} \cdot \vec{AC} = (\vec{SC} + \vec{CB}) \cdot \vec{AC} = \vec{SC} \cdot \vec{AC} - \vec{CB} \cdot \vec{AC} = 2a^2 - a^2 = a^2.$$

$$\vec{SB} \cdot \vec{BC} = \vec{SB} \cdot (-\vec{AB} + \vec{AC}) = -\vec{SB} \cdot \vec{AB} + \vec{SB} \cdot \vec{AC} = -a^2 + a^2 = 0.$$

3. Soit  $\vec{u}$  un vecteur de coordonnées  $(x, y, z)$ .

On a :  $\vec{u} \cdot \vec{i} = x$  ;  $\vec{u} \cdot \vec{j} = y$  ;  $\vec{u} \cdot \vec{k} = z$  ; donc :  $\vec{u} = (x, y, z)$ .

## Exercices d'apprentissage

### CALCULS VECTORIELS

#### Exercice 1 p. 141

1. On a :  $\vec{u} = \vec{AB} - 2\vec{AC}$ .

2.  $\vec{CD} = \vec{AB} - 2\vec{AC} \Leftrightarrow \vec{AD} - \vec{AC} = \vec{AB} - 2\vec{AC} \Leftrightarrow \vec{AD} = \vec{CB}$  : donc, ACBD est un parallélogramme.

#### Exercice 2 p. 141

On a :  $\vec{AM} = \vec{AD} + \vec{DM} = \vec{BC} + \vec{NB} = \vec{NC}$ .

#### Exercice 3 p. 141

On a :  $\vec{IJ} = \frac{1}{2}\vec{AC}$  et  $\vec{LK} = \frac{1}{2}\vec{EG}$ . Or :  $\vec{AC} = \vec{EG}$  ; donc :  $\vec{IJ} = \vec{LK}$  et IJKL est un parallélogramme.

#### Exercice 4 p. 141

1. On a :  $\vec{IJ} = \frac{1}{3}\vec{BC}$  et  $\vec{LK} = \frac{1}{3}\vec{BC}$  ; donc :  $\vec{IJ} = \vec{LK}$  et IJKL est un parallélogramme.

2. On a :  $\vec{NM} = \frac{2}{3}\vec{BC} = 2\vec{IJ}$  ; donc : IJMN est un trapèze.

#### Exercice 5 p. 141

1. On a :  $\vec{AB} + \vec{CD} = \vec{AB} + (\vec{CA} + \vec{AD}) = \vec{AD} + (\vec{CA} + \vec{AB}) = \vec{AD} + \vec{CB}$ .

2. a)  $\vec{CS} = \vec{AB} + \vec{CD} \Leftrightarrow \vec{BS} - \vec{BC} = \vec{AD} + \vec{CB} \Leftrightarrow \vec{BS} = \vec{AD} + \vec{CB} + \vec{BC} = \vec{AD} + \vec{CB}$  ; donc, [AS] et [BD] ont le même milieu.

b) On a :  $\vec{AB} + \vec{CD} = \vec{CS} = \vec{CA} + \vec{AS} = 2\vec{JA} + 2\vec{AI} = 2\vec{JI}$ .

#### Exercice 6 p. 141

On a :  $\vec{AG} = 4\vec{AB} - 2\vec{AC} + 2\vec{AD}$ .

#### Exercice 7 p. 141

On a :  $\vec{u} = 2(\vec{MG} + \vec{GA}) - 3(\vec{MG} + \vec{GB}) + (\vec{MG} + \vec{GC}) + 4(\vec{MG} + \vec{GD}) = 4\vec{MG} + (2\vec{GA} - 3\vec{GB} + \vec{GC} + 4\vec{GD}) = 4\vec{MG}$ .

### REPÈRES DE DROITES ET DE PLANS

#### Exercice 8 p. 141

$M \in \mathcal{D}(A, \vec{u}) \Leftrightarrow \exists \lambda \in \mathbb{R} / \vec{AM} = \lambda \vec{u}$ .  $M \in \mathcal{D}(D, \vec{v}) \Leftrightarrow \exists \mu \in \mathbb{R} / \vec{DM} = \mu \vec{v}$ .

On a :  $\mu \vec{v} = \vec{AM} - \vec{AD} = \lambda \vec{u} - \vec{AD} \Leftrightarrow \mu(\vec{DB} + \vec{DC}) = \lambda(\vec{AB} + \vec{AC}) - \vec{AD}$   
 $\Leftrightarrow \lambda(\vec{AB} + \vec{AC} - 2\vec{AD}) - \lambda(\vec{AB} + \vec{AC}) + \vec{AD} = \vec{0} \Leftrightarrow (\mu - \lambda)\vec{AB} + (\mu - \lambda)\vec{AC} + (1 - 2\mu)\vec{AD} = \vec{0}$ .

On en déduit :  $\begin{cases} \mu - \lambda = 0 \\ 1 - 2\mu = 0 \end{cases} \Rightarrow \mu = \lambda = \frac{1}{2}$ . Donc :  $\vec{AM} = \frac{1}{2}\vec{u} = \frac{1}{2}(\vec{AB} + \vec{AC})$ .

Par suite, les deux droites sont sécantes au point I tel que :  $\vec{AI} = \frac{1}{2}(\vec{AB} + \vec{AC})$ .

#### Exercice 9 p. 141

1.  $\vec{AB}' = \vec{OC}$  ;  $\vec{AC}' = \vec{OB}$  ;  $\vec{AO}' = \vec{OB} + \vec{OC}$ .

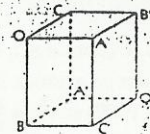
2. Donc :  $\vec{AO}' = \vec{AB}' + \vec{AC}'$  et  $O'$  est le barycentre de  $(A, 1)$  et  $(B, 1)$ .

On a :  $\vec{AB}' = \vec{OC}$  et  $\vec{AC}' = \vec{OB}$  ; donc :  $(AB'C') \parallel (OBC)$ .

3.  $\vec{BC}' = \vec{BO} + \vec{OC}' = \vec{BO} + \vec{OA}' + \vec{OB} = \vec{AO}$  ;  
 $\vec{AC}' = \vec{AO} + \vec{OC}' = \vec{AO} + \vec{OA}' + \vec{OB} = \vec{OB}$  ;

$\vec{BA}' = \vec{BO} + \vec{OA}' = \vec{BO} + \vec{OB} + \vec{OC} = \vec{OC}$ .

Donc,  $OAB'CBC'O'A'$  est un pavé.



#### Exercice 10 p. 141

On munit l'espace du repère  $(O, A, B, C)$ .

1. On a :  $\vec{AB} = \vec{OB} - \vec{OA}$  ; donc :  $\vec{AB} \begin{pmatrix} -1 \\ 1 \\ 0 \end{pmatrix}$ .

$\vec{IJ} = \vec{OJ} - \vec{OI} = \frac{3}{4}\vec{OB} - \frac{1}{3}\vec{OA}$  ; donc :  $\vec{IJ} \begin{pmatrix} -1/3 \\ 3/4 \\ 0 \end{pmatrix}$ .

On a :  $-\frac{1}{3} \neq \frac{3}{4}$  ; donc :  $(AB)$  et  $(IJ)$  sont sécantes en un point E.

#### Coordonnées du point E

Soit  $(x, y, z)$  les coordonnées de E.

On a :  $\vec{AE} = \lambda \vec{AB} \Leftrightarrow \begin{cases} x = 1 - \lambda \\ y = \lambda \\ z = 0 \end{cases}$  ;  $\vec{IE} = \mu \vec{IJ} \Leftrightarrow \begin{cases} x = \frac{1}{3} - \frac{1}{3}\mu \\ y = \frac{3}{4}\mu \\ z = 0 \end{cases}$

Des deux systèmes, on déduit :  $(\lambda, \mu) = (\frac{6}{5}, \frac{6}{5})$ . Donc : E a pour coordonnées  $(-\frac{1}{5} ; \frac{6}{5} ; 0)$ .

2. On a :  $\vec{AC} \begin{pmatrix} 0 \\ 1 \\ 0 \end{pmatrix}$  et  $\vec{IK} \begin{pmatrix} -1/3 \\ 0 \\ k \end{pmatrix}$ . Donc :  $(IK)$  et  $(AC)$  sécantes  $\Leftrightarrow k \neq \frac{1}{3}$ .

On détermine comme précédemment les coordonnées du point d'intersection F :  $(\frac{k-1}{3k-1} ; 0 ; \frac{2k-1}{3k-1})$ .

3.  $\vec{EF}$  a pour coordonnées  $(\frac{8k-6}{5(3k-1)} ; -\frac{6}{5} ; \frac{2k-1}{3k-1})$  ;  $\vec{BC}$  a pour coordonnées  $(0 ; -1 ; 1)$ .

Donc :  $(EF)$  et  $(BC)$  sécantes  $\Leftrightarrow k \in \mathbb{R} - \{\frac{1}{3} ; \frac{3}{4}\}$ .

Le point d'intersection G de  $(EF)$  et  $(BC)$  a pour coordonnées :  $(0 ; \frac{3(k-1)}{4k-3} ; \frac{k}{4k-3})$ .

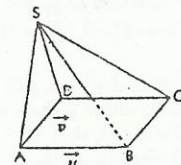
#### Exercice 11 p. 141

On a :  $\vec{IJ} = \vec{SJ} - \vec{SI} = \frac{1}{3}(\vec{SB} + \vec{SC}) - \frac{1}{3}(\vec{SA} + \vec{SB}) = \frac{1}{3}\vec{AC} = \frac{1}{3}(\vec{u} + \vec{v})$ .

De même :  $\vec{IK} = \frac{2}{3}\vec{v}$  ;  $\vec{IL} = \frac{1}{3}(-\vec{u} + \vec{v})$  ;  $\vec{IM} = \frac{1}{3}\vec{v}$  ;  $\vec{IN} = \frac{1}{3}\vec{v}$ .

On a :  $\vec{IJ} + \vec{IL} + \vec{IM} + \vec{IN} = 2\vec{IK}$  ;

donc : les points I, J, K, L, M et N sont coplanaires.



#### Exercice 12 p. 141

On utilise le théorème des barycentres partiels.

1. On a :  $G = \text{bar} \{(I, 2), (J, 2)\} \Rightarrow G \in (IJ)$  ;  $G = \text{bar} \{(K, 2), (L, 2)\} \Rightarrow G \in (KL)$  ;  $G = \text{bar} \{(M, 2), (N, 2)\} \Rightarrow G \in (MN)$ .

Donc, les droites  $(IJ)$ ,  $(KL)$  et  $(MN)$  sont concourantes en G.

2. On a :  $G = \text{bar} \{(A, 1), (A', 3)\} \Rightarrow G \in (AA')$  ;  $G = \text{bar} \{(B, 1), (B', 3)\} \Rightarrow G \in (BB')$  ;

$G = \text{bar} \{(C, 1), (C', 3)\} \Rightarrow G \in (CC')$  ;  $G = \text{bar} \{(D, 1), (D', 3)\} \Rightarrow G \in (DD')$ .

Donc, les droites  $(AA')$ ,  $(BB')$ ,  $(CC')$  et  $(DD')$  sont concourantes.

#### Exercice 13 p. 141

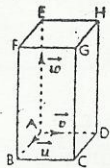
1. On a :  $\vec{BD} = \vec{FH}$  et  $\vec{BE} = \vec{CH}$  ; donc :  $(BDE) \parallel (CFH)$ .

2. On pose :  $\vec{u} = \vec{AB}$ ,  $\vec{v} = \vec{AD}$  et  $\vec{w} = \vec{AE}$ .  $(A, \vec{u}, \vec{v}, \vec{w})$  est un repère de  $\mathcal{E}$ .

a) On a :  $\vec{AG} = \vec{AB} + \vec{DH} + \vec{HG} = \vec{AD} + \vec{AE} + \vec{AB} = \vec{u} + \vec{v} + \vec{w}$  et  $\vec{AG}_1 = \frac{1}{3}(\vec{AB} + \vec{AD} + \vec{AE}) = \frac{1}{3}(\vec{u} + \vec{v} + \vec{w})$ .

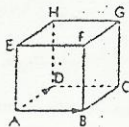
Donc :  $\vec{AG}_1 = \frac{1}{3}\vec{AG}$ . De même :  $\vec{AG}_2 = \frac{2}{3}\vec{AG}$ .

$\diamond G_1 \in (BDE)$  et  $\vec{AG}_1 = \frac{1}{3}\vec{AG} \Rightarrow G_1 \in (AG) \cap (BDE)$ ;  
 de plus :  $A \in (BDE)$ . Donc :  $(G_1) = (AG) \cap (BDE)$ .  
 $G_2 \in (CFH)$  et  $\vec{AG}_2 = \frac{2}{3}\vec{AG} \Rightarrow G_2 \in (CFH) \cap (AG)$ .  
 De plus :  $A \in (CFH)$ . Donc :  $(G_2) = (AG) \cap (CFH)$ .



$\diamond$  Exercice 14 p. 141

- a)  $(\mathcal{P}) = (ADB)$ .
- $\vec{AE}$  est un vecteur directeur  $(AE)$  et  $(AE) \perp (\mathcal{P})$ .
- $\mathcal{P} (A, \vec{EF}, \vec{BG}) = (ABH)$ .  
 $a) \vec{DE}$  est un vecteur directeur de  $(DE)$  et  $(DE) \perp (ABH)$ .  
 $b) \mathcal{P} (A, \vec{AH}, \vec{BD}) = (AHF)$ .  
 $\vec{BE}$  est un vecteur directeur de  $(BE)$  et  $(BE) \perp (AHF)$ .



$\diamond$  Exercice 15 p. 142

On a :  $\vec{IJ} = (1-k)\vec{AB}$  ;  $\vec{IK} = k\vec{CD}$  ;  $\vec{IL} = (1-k)\vec{AB} + k\vec{CD}$ .  
 La droite  $(BD)$  est l'intersection des plans  $(ABD)$  et  $(BCD)$ .  
 Le plan  $(ABD)$  coupe le plan  $(\mathcal{P})$  suivant la droite  $\Delta(K, \vec{AB})$ .  
 Le plan  $(BCD)$  coupe le plan  $(\mathcal{P})$  suivant la droite  $\Delta(I, \vec{CD})$ .

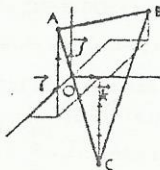
$\diamond$  Exercice 16 p. 142

On a :  $\begin{cases} \vec{u} \perp \vec{v} \\ \vec{u} \perp \vec{w} \end{cases}$  ; donc : la droite  $(\mathcal{D})$  de repère  $(A, \vec{u})$  est orthogonale à  $(\mathcal{P})$ . Or :  $(\mathcal{D}) \subset (\mathcal{P})$  ; donc :  $(\mathcal{P}) \perp (\mathcal{P})$ .

**BASES ET REPÈRES**

$\diamond$  Exercice 17 p. 142

On a :  $I(-\frac{1}{2}; \frac{3}{2}; -1)$ ,  $J(1; 1; 0)$  et  $K(\frac{1}{2}; \frac{3}{2}; 2)$ .



$\diamond$  Exercice 18 p. 142

- On utilise le théorème des barycentres partiels.  
 $O = \text{bar} \{(I, 4), (J, 4)\} \Rightarrow O \in (IJ)$ ;  
 $O = \text{bar} \{(K, 4), (L, 4)\} \Rightarrow O \in (KL)$ ;  
 $O = \text{bar} \{(M, 4), (N, 4)\} \Rightarrow O \in (MN)$ .  
 Donc les droites  $(IJ)$ ,  $(KL)$  et  $(MN)$  sont concourantes en  $O$ .
- $ABCD$  étant un parallélogramme,  $I$  est le milieu de  $[AC]$  ;  
 $EFGH$  étant un parallélogramme,  $J$  est le milieu de  $[EG]$ .  
 D'après le théorème des barycentres partiels on a :  
 $O = \text{bar} \{(I, 4), (J, 4)\} = \text{bar} \{(A, 2), (C, 4), (E, 2), (G, 2)\} = \text{isob} (ACGE)$ . De même :  $O = \text{isob} (BDHF)$ .
- a) Dans le repère  $(A, \vec{AB}, \vec{AD}, \vec{AE})$ , le point  $O$  a pour coordonnées  $(\frac{1}{2}; \frac{1}{2}; \frac{1}{2})$ .  
 b) Dans le repère  $(A, \vec{AB}, \vec{AC}, \vec{AG})$ , le point  $O$  a pour coordonnées  $(0; 0; \frac{1}{2})$ .

$\diamond$  Exercice 19 p. 142

On a :  $\vec{u} \begin{pmatrix} -1 \\ 1 \\ 1 \end{pmatrix}$  et  $\vec{v} \begin{pmatrix} x \\ y \\ z \end{pmatrix}$ .  
 $\begin{cases} \vec{w} \perp \vec{u} \\ \vec{w} \perp \vec{v} \end{cases} \Rightarrow \begin{cases} -x+y+z=0 \\ x+y=0 \end{cases} \Rightarrow \begin{cases} y=-x \\ x=2z \end{cases}$ . Le vecteur  $\vec{w} \begin{pmatrix} 1 \\ -1 \\ 2 \end{pmatrix}$  convient.

2. a) Tout vecteur de coordonnées  $(\lambda, 2\lambda, \lambda)$  ( $\lambda \neq 0$ ) convient.

b) Tout vecteur de coordonnées  $(\lambda, 0, \lambda)$  ( $\lambda \neq 0$ ) convient.

$\diamond$  Exercice 20 p. 142

a)  $G$  a pour coordonnées  $(\frac{1}{4}, \frac{1}{4}, \frac{1}{4})$  b)  $G$  a pour coordonnées  $(\frac{3}{4}, \frac{1}{2}, \frac{1}{4})$  c)  $G$  a pour coordonnées  $(0, \frac{1}{4}, \frac{3}{4})$ .

**PRODUIT SCALAIRE**

$\diamond$  Exercice 21 p. 142

1. a) Dans le repère  $(A, \vec{AB}, \vec{AD}, \vec{AE})$ , on a :  $\vec{AG} \begin{pmatrix} 1 \\ 1 \\ 1 \end{pmatrix}$  ;  $\vec{BE} \begin{pmatrix} -1 \\ 0 \\ 1 \end{pmatrix}$  ;  $\vec{BD} \begin{pmatrix} -1 \\ 1 \\ 0 \end{pmatrix}$ .

Donc :  $\vec{AG} \cdot \vec{BE} = 0$  et  $\vec{AG} \cdot \vec{BD} = 0$ .

b)  $(AG) \perp (BE)$  et  $(AG) \perp (BD) \Rightarrow (AG) \perp (BED)$ .

2. On a :  $\vec{FC} \begin{pmatrix} 0 \\ 1 \\ -1 \end{pmatrix}$  et  $\vec{FH} \begin{pmatrix} -1 \\ 1 \\ 0 \end{pmatrix}$ . Donc :  $\vec{AG} \cdot \vec{FC} = 0$  et  $\vec{AG} \cdot \vec{FH} = 0$ .

$(AG) \perp (FC)$  et  $(AG) \perp (FH) \Rightarrow (AG) \perp (FCH)$ .

$\diamond$  Exercice 22 p. 142

1. On a :  $\|\vec{u}\| = \|\vec{v}\| = \|\vec{w}\| = a$  et  $\vec{u} \cdot \vec{v} = \vec{v} \cdot \vec{w} = \vec{w} \cdot \vec{u} = \frac{a^2}{2}$ .

2. On a :  $\vec{AB} \cdot \vec{CD} = \vec{AB} \cdot (\vec{AD} - \vec{AC}) = \vec{u} \cdot (\vec{w} - \vec{v}) = \vec{u} \cdot \vec{w} - \vec{u} \cdot \vec{v} = 0$  ; donc :  $(AB) \perp (CD)$ .

$\vec{IJ} = \frac{1}{2}(-\vec{u}^2 + \vec{u} \cdot \vec{v} + \vec{u} \cdot \vec{w}) = \frac{1}{2}(-a^2 + \frac{a^2}{2} + \frac{a^2}{2}) = 0$  ; donc :  $(AB) \perp (IJ)$ .

De même :  $\vec{CD} \cdot \vec{IJ} = 0$  ; donc :  $(CD) \perp (IJ)$ .

3.  $\|\vec{I}\| = \frac{\sqrt{2}}{2} a$ .

$\diamond$  Exercice 23 p. 142

1. Soit  $a$  l'arête du tétraèdre. On a :

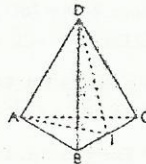
$AD = a$  et  $AI = DI = \frac{a\sqrt{3}}{2}$  ;

$AD^2 = ID^2 + IA^2 - 2 \vec{ID} \cdot \vec{IA} = ID^2 + IA^2 - 2 ID \times IA \times \cos \widehat{AID}$ .

Donc :  $\cos \widehat{AID} = \frac{1}{3}$ .

De même :  $ID^2 = AD^2 + AI^2 - 2AD \times AI \times \cos \widehat{IAD}$  ; donc :  $\cos \widehat{IAD} = \frac{1}{\sqrt{3}}$ .

2. Mes  $(^\circ) \widehat{AID} = 71$  et Mes  $(^\circ) \widehat{IAD} = 55$ .



$\diamond$  Exercice 24 p. 142

1.  $\|\vec{u}\| = \|\vec{v}\| = \|\vec{w}\| = 1$  ;  $\vec{u} \cdot \vec{w} = 0$  ;  $\vec{v} \cdot \vec{w} = \vec{w} \cdot \vec{u} = \frac{1}{2}$ .

2.  $\vec{SA} = -\vec{w}$  ;  $\vec{SB} = \vec{u} - \vec{w}$  ;  $\vec{SC} = \vec{u} + \vec{v} - \vec{w}$  ;  $\vec{SD} = \vec{v} - \vec{w}$ .

Donc :  $\vec{SA} \cdot \vec{SC} = 0$  et  $(SA) \perp (SC)$  ;

$\vec{SB} \cdot \vec{SD} = 0$  et  $(SB) \perp (SD)$ .

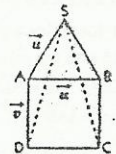
3.  $I \in (ABC) \Rightarrow \vec{AI} = x\vec{AB} + y\vec{AC} = x\vec{u} + y\vec{v}$

On a :  $(SI) \perp (SAB) \Leftrightarrow \begin{cases} \vec{SI} \cdot \vec{SA} = 0 \\ \vec{SI} \cdot \vec{AB} = 0 \end{cases} \Leftrightarrow \begin{cases} SA^2 + \vec{AI} \cdot \vec{SA} = 0 \\ \vec{SA} \cdot \vec{AB} + \vec{AI} \cdot \vec{AB} = 0 \end{cases} \Leftrightarrow \begin{cases} 1 - \frac{1}{2}x - \frac{1}{2}y = 0 \\ x + \frac{1}{2} = 0 \end{cases}$

On en déduit :  $x = -\frac{1}{2}$  et  $y = \frac{5}{2}$ . Donc :  $\vec{AI} = -\frac{1}{2}\vec{u} + \frac{5}{2}\vec{v}$ .

$\diamond$  Exercice 25 p. 142

L'ensemble cherché est le plan perpendiculaire à  $(AB)$  au point  $H$  tel que :  $\vec{AH} = -\frac{12}{AB} = -\frac{3}{2}$ .



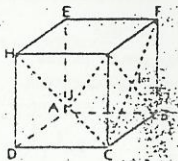
◆ Exercice 26 p. 142

Dans  $\mathcal{E}$  muni du repère  $(A, \vec{AB}, \vec{AD}, \vec{AE})$ , on a :  $B \begin{pmatrix} 1 \\ 0 \\ 0 \end{pmatrix}$ ,  $D \begin{pmatrix} 0 \\ 1 \\ 0 \end{pmatrix}$ ,  $G \begin{pmatrix} 1 \\ 1 \\ 1 \end{pmatrix}$  ;

$$I = \text{mil } [BG] \Rightarrow I \begin{pmatrix} 1 \\ 1/2 \\ 1/2 \end{pmatrix} ; J = \text{mil } [DG] \Rightarrow J \begin{pmatrix} 1/2 \\ 1 \\ 1 \end{pmatrix}$$

Donc :  $\cos \widehat{IAJ} = \frac{|\vec{AI} \cdot \vec{AJ}|}{|\vec{AI}| |\vec{AJ}|} = \frac{5}{6}$  et  $\text{Mes} (^\circ) \widehat{IAJ} = 34$ .

Le triangle AIJ est isocèle en A ; donc :  $\text{Mes} (^\circ) \widehat{AIJ} = \text{Mes} (^\circ) \widehat{AJI} = 73$ .



◆ Exercice 27 p. 142

Soit O le centre de gravité du tétraèdre ABCD.

O est le milieu des segments [IL] et [JK] ; donc IJLK est un parallélogramme.

De plus :  $IK = \frac{1}{2} AB = \frac{1}{2} CD = IJ$  ; donc, IJLK est un losange. Par suite,  $\vec{IL} \cdot \vec{JK} = 0$ .

◆ Exercice 28 p. 142

$$1. \vec{OA} \cdot \vec{OB} = (\vec{OO'} + \vec{O'A}) \cdot (\vec{OO'} + \vec{O'B}) = \vec{OO}'^2 + \vec{O'A} \cdot \vec{O'B} + \vec{OO'} \cdot \vec{O'A} + \vec{OO'} \cdot \vec{O'B} \text{ et } \vec{OO'} \cdot \vec{O'A} = \vec{OO'} \cdot \vec{O'B} = 0.$$

$$2. \text{mes} \widehat{AO'B} \leq 90^\circ \Rightarrow \vec{O'A} \cdot \vec{O'B} \geq 0 \Rightarrow \vec{OA} \cdot \vec{OB} \geq 0 \Rightarrow \text{mes} \widehat{AOB} \leq 90^\circ$$

$$\text{mes} \widehat{AOB} \geq 90^\circ \Rightarrow \vec{OA} \cdot \vec{OB} \leq 0 \Rightarrow \vec{O'A} \cdot \vec{O'B} \leq 0 \Rightarrow \text{mes} \widehat{AO'B} \geq 90^\circ$$

◆ Exercice 29 p. 142

$$1. \vec{AB} \cdot \vec{CD} + \vec{AC} \cdot \vec{DB} + \vec{AD} \cdot \vec{BC} = \vec{AB} \cdot (\vec{AD} - \vec{AC}) + \vec{AC} \cdot (\vec{AB} - \vec{AD}) + \vec{AD} \cdot (\vec{AC} - \vec{AB}) = 0.$$

$$2. \begin{cases} (AB) \perp (CD) \\ (AC) \perp (BD) \end{cases} \Rightarrow \begin{cases} \vec{AB} \cdot \vec{CD} = 0 \\ \vec{AC} \cdot \vec{BD} = 0 \end{cases} ; \text{ donc : } \vec{AD} \cdot \vec{BC} = 0 \Rightarrow (AD) \perp (BC).$$

◆ Exercice 30 p. 142

$$1. a) \vec{AB}^2 - \vec{BC}^2 + \vec{CD}^2 - \vec{DA}^2 = (\vec{AB} - \vec{BC}) \cdot (\vec{AB} + \vec{BC}) + (\vec{CD} - \vec{DA}) \cdot (\vec{CD} + \vec{DA}) = (\vec{AB} + \vec{CB}) \cdot \vec{AC} + (\vec{CD} + \vec{AD}) \cdot \vec{CA} = \vec{AC} \cdot (\vec{AB} + \vec{CB} + \vec{DC} + \vec{DA}) = \vec{AC} \cdot (\vec{DB} + \vec{AB}) + (\vec{DC} + \vec{CB}) = 2 \vec{AC} \cdot \vec{DB}.$$

$$b) (AC) \perp (DB) \Leftrightarrow \vec{AC} \cdot \vec{DB} = 0 \Leftrightarrow AB^2 + CD^2 = AD^2 + BC^2.$$

$$2. \begin{cases} (AB) \perp (CD) \\ (AC) \perp (BD) \end{cases} \Leftrightarrow \begin{cases} AC^2 + BD^2 = CB^2 + DA^2 \\ AB^2 + CD^2 = BC^2 + DA^2 \end{cases} ; \text{ donc : } AC^2 + BD^2 = AB^2 + CD^2 \Rightarrow \vec{AD} \cdot \vec{BC} = 0.$$

◆ Exercice 31 p. 143

$$1. \begin{cases} (\alpha \vec{i} + \beta \vec{j} + \gamma \vec{k}) \perp \vec{IJ} \\ (\alpha \vec{i} + \beta \vec{j} + \gamma \vec{k}) \perp \vec{IK} \end{cases} \Rightarrow \begin{cases} (\alpha \vec{i} + \beta \vec{j} + \gamma \vec{k}) \cdot (-\frac{1}{2} \vec{i} + \frac{1}{3} \vec{j}) \\ (\alpha \vec{i} + \beta \vec{j} + \gamma \vec{k}) \cdot (-\frac{1}{3} \vec{j} + \frac{2}{3} \vec{k}) \end{cases}$$

$$\begin{cases} -\frac{1}{2} \alpha + \frac{1}{3} \beta = 0 \\ -\frac{1}{3} \beta + \frac{2}{3} \gamma = 0 \end{cases} \Rightarrow \begin{cases} \beta = 2\gamma \\ \alpha = \frac{4}{3} \gamma \end{cases} . \text{ Le triplet } (4 ; 6 ; 3) \text{ convient.}$$

2. Soit  $(\mathcal{O})$  la perpendiculaire au plan (IKJ) passant par A.

$$M \begin{pmatrix} x \\ y \\ z \end{pmatrix} \in (\mathcal{O}) \Leftrightarrow \vec{AM} = k\vec{u} \Leftrightarrow \begin{cases} x = 4k \\ y = 6k \\ z = 3k \end{cases} ; M \begin{pmatrix} x \\ y \\ z \end{pmatrix} \in (CDG) \Leftrightarrow \vec{CM} = \alpha \vec{CD} + \gamma \vec{CG} \Leftrightarrow \begin{cases} x = 1 - \alpha \\ y = 1 \\ z = \beta \end{cases}$$

Des deux systèmes, on tire :  $\gamma = \frac{1}{6}$  et  $M(\frac{2}{3} ; 1 ; \frac{1}{2})$ .

◆ Exercice 32 p. 143

$$1. a) \text{ On a : } \vec{g} = \text{bar}(\{A, 1\}; \{A', 3\}) \Rightarrow \vec{AG} = \frac{3}{4} \vec{AA}' . \text{ De même : } \vec{BG} = \frac{3}{4} \vec{BB}' ; \vec{CG} = \frac{3}{4} \vec{CC}' ; \vec{DG} = \frac{3}{4} \vec{DD}' .$$

$$\text{Or : } AA' = BB' = CC' = DD' = \frac{\sqrt{3}}{2} . \text{ Donc : } GA = GB = GC = GD = \frac{3\sqrt{3}}{8} .$$

La sphère  $(\Sigma)$ , de centre G et de rayon  $\frac{3\sqrt{3}}{8}$ , passe par les points A, B, C et D.

$$b) MA^2 + MB^2 + MC^2 + MD^2 = GA^2 + GB^2 + GC^2 + GD^2 + 4GM^2 = 4(\frac{27}{64} + GM^2) .$$

$$MA^2 + MB^2 + MC^2 + MD^2 = k \Leftrightarrow MG^2 = \frac{k}{4} - \frac{27}{64} .$$

$$M \in (\Sigma) \Leftrightarrow \frac{16k - 27}{64} = \frac{27}{64} \Leftrightarrow k = \frac{27}{8} .$$

$$2. a) \vec{AG} = \frac{3}{4} \vec{AA}' \Rightarrow \vec{A'G} = \frac{3}{4} \vec{AA}' - \vec{AA}' = -\frac{1}{4} \vec{AA}' \Rightarrow GA' = \frac{1}{4} AA' = \frac{\sqrt{3}}{8} .$$

$$\text{On montre de même que : } GB' = \frac{1}{4} BB' = \frac{\sqrt{3}}{8} ; CC' = \frac{1}{4} CC' = \frac{\sqrt{3}}{8} ; DD' = \frac{1}{4} DD' = \frac{\sqrt{3}}{8} .$$

La sphère  $(\Sigma')$ , de centre G et de rayon  $\frac{\sqrt{3}}{8}$  passe par les points A', B', C' et D'.

$$b) (\Sigma') \cap (BCD) = \{A'\} ; (\Sigma') \cap (ACD) = \{B'\} ; (\Sigma') \cap (ABD) = \{C'\} ; (\Sigma') \cap (ABC) = \{D'\} .$$

$$c) MA^2 + MB^2 + MC^2 + MD^2 = k' \Leftrightarrow MG^2 = \frac{16k' - 27}{64} .$$

$$M \in (\Sigma') \Leftrightarrow MG^2 = \frac{3}{64} \Leftrightarrow k' = \frac{15}{8} .$$

□ Exercices d'approfondissement

◆ Exercice 33 p. 143

$$a) (\mathcal{A}) = (\mathcal{O}') \text{ si et seulement si } \begin{cases} \vec{u} \text{ et } \vec{v} \text{ sont colinéaires} \\ \vec{u}, \vec{v}, \vec{AB} \text{ sont colinéaires.} \end{cases}$$

$$b) (\mathcal{A}) \text{ et } (\mathcal{O}') \text{ sont sécantes si et seulement si } \begin{cases} \vec{u}, \vec{v}, \vec{AB} \text{ sont coplanaires} \\ \vec{u} \text{ et } \vec{v} \text{ ne sont pas colinéaires.} \end{cases}$$

$$c) (\mathcal{A}) \text{ et } (\mathcal{O}') \text{ sont strictement parallèles si et seulement si } \begin{cases} \vec{u} \text{ et } \vec{v} \text{ sont colinéaires} \\ \vec{AB} \text{ et } \vec{u} \text{ sont non colinéaires.} \end{cases}$$

$$d) (\mathcal{A}) \text{ et } (\mathcal{O}') \text{ sont non coplanaires si et seulement si } \begin{cases} \vec{u} \text{ et } \vec{v} \text{ ne sont pas colinéaires} \\ \vec{u}, \vec{v} \text{ et } \vec{AB} \text{ sont non coplanaires.} \end{cases}$$

2. a)  $(\mathcal{A})$  et  $(\mathcal{O}')$  sont sécantes.

b)  $(\mathcal{A})$  et  $(\mathcal{O}')$  sont non coplanaires.

c)  $2\vec{AC} + 2\vec{AD}$  et  $2\vec{AB} + \vec{AC}$  ne sont pas colinéaires ;

de plus :  $\vec{DB} = \frac{1}{2}(2\vec{AB} + \vec{AC}) - \frac{1}{2}(\vec{AC} + 2\vec{AD})$ . Donc :  $(\mathcal{O})$  et  $(\mathcal{O}')$  sont sécantes.

◆ Exercice 34 p. 143

( $\mathcal{E}$ ) est muni du repère  $(A, \vec{AB}, \vec{AD}, \vec{AE})$ .

$$1. a) \text{ On a : } \vec{AG} \begin{pmatrix} 1 \\ 1 \\ 0 \end{pmatrix} ; \vec{BD} \begin{pmatrix} -1 \\ 1 \\ 0 \end{pmatrix} ; \vec{BE} \begin{pmatrix} -1 \\ 0 \\ 1 \end{pmatrix} .$$

$$b) \begin{cases} \vec{AG} \cdot \vec{BD} = 0 \\ \vec{AG} \cdot \vec{BE} = 0 \end{cases} \Rightarrow \begin{cases} (AG) \perp (BD) \\ (AG) \perp (BE) \end{cases} \Rightarrow (AG) \perp (BDE) .$$

$$c) \text{ On a : } \vec{DE} \begin{pmatrix} 0 \\ -1 \\ 1 \end{pmatrix} . BD = BE = DE = \sqrt{2} ; \text{ donc : le triangle BDE est équilatéral.}$$

Soit  $(x, y, z)$  les coordonnées de  $\Omega$ .

$$\Omega \in (AG) \Leftrightarrow \begin{cases} x = k \\ y = k \\ z = k \end{cases} ; \Omega \in (BDE) \Leftrightarrow \vec{B\Omega} = \alpha \vec{BD} + \beta \vec{BE} ; \text{ donc : } \begin{cases} x - 1 = -\alpha - \beta \\ y = \alpha \\ z = \beta \end{cases}$$

Des deux systèmes, on déduit :  $k = \frac{1}{3}$  ; donc,  $\Omega$  a pour coordonnées  $(\frac{1}{3} ; \frac{1}{3} ; \frac{1}{3})$ .

On a :  $\vec{A\Omega}' = \frac{1}{3}(\vec{AB} + \vec{AD} + \vec{AE})$  ; donc  $\Omega'$  a pour coordonnées  $(\frac{1}{3} ; \frac{1}{3} ; \frac{1}{3})$ . On en déduit :  $\Omega = \Omega'$ .

$$d) \text{ On a bien : } \vec{A\Omega} = \frac{1}{3} \vec{AG} .$$

2. a) On a :  $\vec{OI} \begin{pmatrix} 1/2 \\ 0 \\ -1/2 \end{pmatrix}$ ;  $\vec{OJ} \begin{pmatrix} 0 \\ 1/2 \\ -1/2 \end{pmatrix}$ .

b) On a :  $\vec{IJ} \begin{pmatrix} -1/2 \\ 1/2 \\ 0 \end{pmatrix}$ .

On a :  $OI = OJ = IJ = \frac{1}{\sqrt{2}}$ ; donc : OIJ est un triangle équilatéral.

$$\begin{cases} \vec{AG} \cdot \vec{OI} = 0 \\ \vec{AG} \cdot \vec{OJ} = 0 \end{cases} \Rightarrow \begin{cases} (AG) \perp (OI) \\ (AG) \perp (OJ) \end{cases} \Rightarrow (AG) \perp (OIJ).$$

c) On a :  $\vec{JK} \begin{pmatrix} -1/2 \\ 1 \\ 1/2 \end{pmatrix}$ ;  $\vec{KL} \begin{pmatrix} 0 \\ -1/2 \\ -1/2 \end{pmatrix}$ ;  $\vec{LM} \begin{pmatrix} 1/2 \\ 1/2 \\ 0 \end{pmatrix}$ ;  $\vec{MN} \begin{pmatrix} 1/2 \\ 0 \\ -1/2 \end{pmatrix}$ ;  $\vec{NI} \begin{pmatrix} 0 \\ 1/2 \\ -1/2 \end{pmatrix}$ .

$$\begin{cases} \vec{IJ} = \vec{ML} = \frac{1}{2} \vec{BD} \\ \vec{IN} = \vec{KL} = \frac{1}{2} \vec{DE} \end{cases} \Rightarrow (IJN) \parallel (MLK) \parallel (BDE); \begin{cases} \vec{IJ} = \vec{ML} = \frac{1}{2} \vec{BD} \\ \vec{JK} = \vec{NM} = \frac{1}{2} \vec{EE} \end{cases} \Rightarrow (IJK) \parallel (MNL) \parallel (BDE).$$

$$\begin{cases} (IJN) \parallel (MNL) \\ N \in (IJN) \cap (MNL) \end{cases} \Rightarrow (IJN) = (MNL).$$

On montre ainsi que :  $(IJN) = (MNL) = (IJK) = (MLK)$ ; donc, les points I, J, K, L, M, N sont coplanaires.

De plus :  $IJ = JK = KL = LM = MN = NI = \frac{\sqrt{2}}{2}$ ; donc IJ K L M N est un hexagone régulier.

◆ Exercice 35 p. 143

$\vec{u} \begin{pmatrix} \alpha \\ \beta \end{pmatrix}$  et  $\vec{v} \begin{pmatrix} a \\ b \\ c \end{pmatrix}$  dans la base  $(\vec{i}, \vec{j}, \vec{k})$ .  $\vec{v} = k\vec{u} \Leftrightarrow \begin{vmatrix} a & a' \\ b & b' \\ c & c' \end{vmatrix} = \begin{vmatrix} a & a' \\ c & c' \end{vmatrix} = \begin{vmatrix} b & b' \\ c & c' \end{vmatrix} = 0$ .

Soit  $\vec{u} \begin{pmatrix} 2\alpha + 2\beta \\ 2\alpha \\ -\beta \end{pmatrix}$  et  $\vec{v} \begin{pmatrix} \gamma \\ -3\gamma \\ 1-\gamma \end{pmatrix}$ .

$\vec{u}$  et  $\vec{v}$  colinéaires  $\Leftrightarrow \begin{vmatrix} 2\alpha + 2\beta & \gamma \\ 2\alpha & -3\gamma \\ -\beta & 1-\gamma \end{vmatrix} = \begin{vmatrix} 2\alpha + 2\beta & \gamma \\ -\beta & 1-\gamma \end{vmatrix} = \begin{vmatrix} 2\alpha & -3\gamma \\ -\beta & 1-\gamma \end{vmatrix} = 0 \Leftrightarrow \gamma = -1$  et  $\alpha = -\frac{3}{4}\beta$ .

Donc :  $(\alpha, \beta, \gamma) \in \{(-\frac{3}{4}x; x; -1) / x \in \mathbb{R}^*\}$ .

◆ Exercice 36 p. 143

1. a) On a :  $\vec{PQ} = \vec{PA} + \vec{AC} + \vec{CQ} = -\lambda \vec{AB} + \vec{AC} + \lambda \vec{CD}$   
 $= -\lambda \vec{AB} + \vec{AC} + \lambda (\vec{CA} + \vec{AB} + \vec{BD}) = (1-\lambda) \vec{AC} + \lambda \vec{BD}$ .

b)  $\begin{cases} \vec{PQ} = (1-\lambda) \vec{AC} + \lambda \vec{BD} \\ \vec{AC} = 2 \vec{IL} \\ \vec{BD} = 2 \vec{IK} \end{cases} \Rightarrow \vec{PQ} = 2(1-\lambda) \vec{IL} + \lambda \vec{IK} \Rightarrow (PQ) \parallel (ILK)$ .

2. a)  $\begin{cases} \vec{AB} = 2 \vec{KM} \\ \vec{CD} = 2 \vec{JK} \end{cases} \Rightarrow \vec{AB} + \vec{CD} = 2(\vec{JK} + \vec{KM}) = 2 \vec{JM}$ .

b) On a :  $O = \text{mil} [PQ] \Rightarrow \vec{JO} = \frac{1}{2}(\vec{JP} + \vec{JQ})$ .

Or :  $\begin{cases} \vec{JP} = \vec{JA} + \vec{AP} = -\frac{1}{2} \vec{AC} + \lambda \vec{AB} \\ \vec{JQ} = \vec{JC} + \vec{CQ} = \frac{1}{2} \vec{AC} + \lambda \vec{CD} \end{cases}$  . Donc :  $\vec{JO} = \lambda \vec{JM}$ .

Lorsque  $\lambda$  décrit  $\mathbb{R}$ ,  $O$  décrit la droite  $(JM)$ .

c) Si  $O \in (JM)$ , alors  $\lambda \in [0; 1]$ .

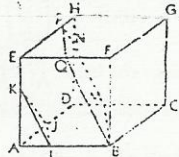
On a :  $\begin{cases} \vec{AP} = \lambda \vec{AB} \\ \vec{CQ} = \lambda \vec{CD} \\ \lambda \in [0; 1] \end{cases} \Rightarrow \begin{cases} P \in [AB] \\ Q \in [CD] \end{cases}$  et  $O = \text{mil} [PQ]$ .

Les points P et Q ainsi choisis conviennent.

◆ Exercice 37 p. 143

1. Voir figure ci-contre.

2. On trouve :  $\vec{DM} = \frac{1}{3} \vec{i}$ ;  $\vec{DN} = \frac{2}{3} \vec{k}$ ;  $\vec{EP} = \frac{3}{4} \vec{j}$  et  $\vec{ER} = \frac{1}{2} \vec{i}$ .



◆ Exercice 38 p. 144

$\vec{AB} = \vec{i}$ ,  $\vec{AC} = \vec{j}$ ;  $\vec{AD} = \vec{k}$ ;  $\vec{AI} = \frac{1}{3} \vec{i}$ ;  $\vec{AJ} = \frac{2}{3} \vec{j}$ ;  $\vec{AK} = \frac{1}{2} \vec{k}$ .

1.  $(\vec{II}, \vec{IK})$  est un couple de vecteurs directeurs de  $(IJK)$ .  $\vec{IJ} = -\frac{1}{3} \vec{i} + \frac{2}{3} \vec{j}$  et  $\vec{IK} = -\frac{1}{3} \vec{i} + \frac{1}{2} \vec{k}$ .

2. On trouve :  $\vec{AE} = 2 \vec{j} - \vec{k}$ .

3. On trouve :  $\vec{IF} = -\frac{4}{3} \vec{i} + 2 \vec{k}$ . Donc :  $\vec{IF} = 4 \vec{IK}$  et  $F \in (IJK)$ .

4. On trouve :  $\vec{BG} = -\frac{4}{3} \vec{i} + \frac{4}{3} \vec{j}$  et  $\vec{BC} = -\vec{i} + \vec{j}$ ; donc :  $\vec{BG} = \frac{4}{3} \vec{BC}$  et  $G \in (BC)$ .

De même :  $\vec{EG} = -\frac{1}{3} \vec{i} - \frac{2}{3} \vec{j} + \vec{k}$  et  $\vec{EF} = -\vec{i} - 2 \vec{j} + 3 \vec{k}$ . Donc :  $\vec{EG} = \frac{1}{3} \vec{EF}$  et  $G \in (EF)$ .

On a :  $G \in (BC)$  et  $G \in (EF)$ ; donc :  $(BC) \cap (EF) = \{G\}$ .

◆ Exercice 39 p. 144

1.  $(AC) \perp (DF) \Rightarrow \vec{AC} \cdot \vec{DF} = 0$ .

$\vec{AC} \cdot \vec{DE} = (\vec{AB} + \vec{BC}) \cdot \vec{DE} = \vec{AB} \cdot \vec{DE} + \vec{BC} \cdot \vec{DE}$ .

$\begin{cases} (ED) \subset (BDC) \Rightarrow \vec{AB} \cdot \vec{DE} = 0 \\ (BC) \perp (DE) \Rightarrow \vec{BC} \cdot \vec{DE} = 0 \end{cases}$  ; donc :  $\vec{AC} \cdot \vec{DE} = 0$ .

$\begin{cases} \vec{AC} \cdot \vec{DE} = 0 \\ \vec{AC} \cdot \vec{DF} = 0 \end{cases} \Rightarrow \begin{cases} (AC) \perp (DE) \\ (AC) \perp (DF) \end{cases} \Rightarrow (AC) \perp (DEF)$ .

2.  $\vec{AC} \cdot \vec{IJ} = \vec{AC} \cdot (\vec{ID} + \vec{DJ}) = \vec{AC} \cdot \vec{ID} + \vec{AC} \cdot \vec{DJ} = \vec{AC} \cdot \vec{ID}$ , car  $(AC) \perp (DI)$

$= (\vec{AB} + \vec{BC}) \cdot \vec{ID} = \vec{AB} \cdot \vec{ID} + \vec{BC} \cdot \vec{ID} = 0$ , car  $\begin{cases} (ID) \subset (DBC) \Rightarrow \vec{ID} \cdot \vec{AB} = 0 \\ (ID) \perp (BC) \Rightarrow \vec{ID} \cdot \vec{BC} = 0 \end{cases}$

$\vec{AD} \cdot \vec{IJ} = \vec{AD} \cdot (\vec{IC} + \vec{CJ}) = \vec{AD} \cdot \vec{IC} + \vec{AD} \cdot \vec{CJ} = \vec{AD} \cdot \vec{IC}$  car  $(AD) \perp (CJ)$

$= (\vec{AB} + \vec{BD}) \cdot \vec{IC} = \vec{AB} \cdot \vec{IC} + \vec{BD} \cdot \vec{IC} = 0$ , car  $\begin{cases} (IC) \subset (BCD) \Rightarrow \vec{IC} \cdot \vec{AB} = 0 \\ (IC) \perp (BD) \Rightarrow \vec{BD} \cdot \vec{IC} = 0 \end{cases}$

$\begin{cases} \vec{IJ} \cdot \vec{AD} = 0 \\ \vec{IJ} \cdot \vec{AC} = 0 \end{cases} \Rightarrow \begin{cases} (IJ) \perp (AD) \\ (IJ) \perp (AC) \end{cases} \Rightarrow (IJ) \perp (ADC)$ .

◆ Exercice 40 p. 144

1.  $G = \text{bar} \{(A, 3), (B, 1), (C, 1), (D, 1)\}$ ; donc :  $G = \text{mil} [AH]$ .

2.  $3AA^2 + AB^2 + AC^2 + AD^2 = 0 + 1 + 1 + 1 = 3 \Rightarrow A \in (\Sigma)$ .

$(\Sigma)$  est la sphère de centre G et de rayon  $\frac{\sqrt{6}}{6}$ .

3.  $\begin{cases} (GH) \perp (BCD) \\ GH = \frac{\sqrt{6}}{6} \end{cases} \Rightarrow d((\Sigma), (DCB)) = \frac{\sqrt{6}}{6} \Rightarrow (\Sigma) \cap (BCD) = \{H\}$ .

4. Soit I = mil [AB], J = mil [AC] et K = mil [AD].

$IB^2 + IC^2 + ID^2 - 3AI^2 = (IB^2 - AI^2) + (AB^2 - \frac{1}{4} AB^2) + (AB^2 - \frac{1}{4} AB^2) - 2(\frac{1}{4} AB^2) = 1$ . Donc :  $I \in (\Pi)$ .

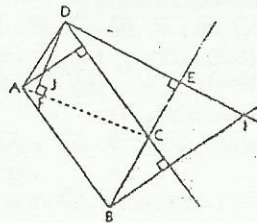
On montre de même que J et K appartiennent à  $(\Pi)$ .

Démontrons que  $(\Pi)$  est un plan.

$M \in (\Pi) \Leftrightarrow (MB^2 + MC^2 + MD^2) - 3MA^2 = 1 \Leftrightarrow 3MH^2 + BH^2 + CH^2 + DH^2 - 3MA^2 = 1$

$\Leftrightarrow 3(MH^2 - MA^2) = 1 - 3BH^2 = 1 - 1 = 0 \Leftrightarrow MH^2 - MA^2 = 0 \Leftrightarrow (\vec{MH} - \vec{MA}) \cdot (\vec{MH} + \vec{MA}) = 0$

$\Leftrightarrow \vec{AH} \cdot (2\vec{MG} + \vec{CA} + \vec{GH}) = 0 \Leftrightarrow \vec{AH} \cdot 2\vec{MG} = 0 \Leftrightarrow \vec{AH} \cdot \vec{MG} = 0$ .



Donc  $(\Pi)$  est le plan perpendiculaire à  $(AH)$  passant par  $G$ , c'est-à-dire, le plan médiateur de  $[AH]$ .

$$5. M \in (\Pi) \cap (\Sigma) \Leftrightarrow \begin{cases} MG^2 = \frac{1}{6} \\ (MG) \perp (GA) \end{cases}; \text{ donc } (\Sigma) \cap (\Pi) \text{ est le cercle de centre } G \text{ et de rayon } \frac{\sqrt{6}}{6}.$$

◆ Exercice 41 p. 144

1. Les triangles  $SAB$  et  $SAC$  étant rectangles en  $A$ ,  $SB = SC = \sqrt{2}$ .  
Donc, le triangle  $SBC$  est isocèle en  $S$ .

$$\text{On a : } \cos \widehat{SBC} = \frac{\overline{BC} \cdot \overline{BS}}{BC \times BS} = \frac{BC \times BS}{BC \times BS} = \frac{1 \times \frac{1}{2}}{\sqrt{2} \times 1} = \frac{\sqrt{2}}{4}.$$

Donc :  $\text{Mes} (^\circ) \widehat{SCB} = \text{Mes} (^\circ) \widehat{SBC} = 69$ . On en déduit :  $\text{Mes} (^\circ) \widehat{BSC} = 42$ .

2.  $(\Sigma)$  est muni du repère  $(A, \overline{AB}, \overline{AC}, \overline{AS})$ .

$$a) \text{ On a : } \overline{AH} = \overline{AS} + \overline{SH} \text{ et } \overline{SH} = \alpha \overline{SB} + \beta \overline{SC}; \text{ or : } \overline{SB} \begin{pmatrix} 1 \\ 0 \\ -1 \end{pmatrix}, \overline{SC} \begin{pmatrix} 0 \\ 1 \\ -1 \end{pmatrix} \text{ et } \overline{BC} \begin{pmatrix} -1 \\ 1 \\ 0 \end{pmatrix}; \text{ donc : } \overline{SH} \begin{pmatrix} \alpha \\ \beta \\ -\alpha - \beta \end{pmatrix}.$$

$$\text{Soit } (x, y, z) \text{ les coordonnées de } \overline{AH}. \overline{AH} \perp \overline{BC} \Rightarrow y = x; \text{ donc : } \overline{AH} \begin{pmatrix} \alpha \\ \alpha \\ 1 - 2\alpha \end{pmatrix}.$$

On en déduit :  $\exists \lambda \in \mathbb{R}, \overline{AH} = \overline{AS} + \lambda(\overline{SB} + \overline{SC})$ .

$$b) \overline{AH} \cdot \overline{SB} = \overline{AS} \cdot \overline{SB} + \lambda(SB^2 + \overline{SC} \cdot \overline{SB}) = -1 + 3\lambda; \text{ donc : } \lambda = \frac{\overline{AH} \cdot \overline{SB} + 1}{3}.$$

$$c) \overline{SC} \cdot \overline{BH} = -1 + 3\lambda = -1 + (\overline{AH} \cdot \overline{SB} + 1) = \overline{AH} \cdot \overline{SB} = 0.$$

$$\begin{cases} \overline{BH} \cdot \overline{SC} = 0 \\ \overline{SH} \cdot \overline{BC} = 0 \end{cases}; \text{ donc : } H \text{ est l'orthocentre du triangle } SBC.$$

3.  $BH^2 = AB^2 - AH^2 = 1 - (1 - SH^2) = SH^2$ ; donc :  $BH = SH = HC$  ( $BH = HC$ ) et  $H$  est le centre du cercle circonscrit au triangle  $SBC$ .

◆ Exercice 42 p. 144

1. a) Soit  $G$  le centre de gravité du triangle  $BCD$ .

$$M \in (\Pi) \Leftrightarrow 3\overline{MG} \cdot \overline{DA} = 0 \Leftrightarrow \overline{MG} \cdot \overline{DA} = 0. (\Pi) \text{ est le plan perpendiculaire à } (DA) \text{ passant par } G.$$

b) Soit  $I$  le milieu du segment  $[AD]$ .

$$M \in (\Sigma) \Leftrightarrow 3\overline{MB} \cdot (2\overline{MI}) = 0 \Leftrightarrow \overline{MG} \cdot \overline{MI} = 0.$$

$(\Sigma)$  est la sphère de diamètre  $[IG]$ . Donc  $(\Pi)$  est le plan d'équation :  $-y + z + 1 = 0$ .

$(\Sigma)$  est la sphère d'équation :  $x^2 - x + y^2 - 3y + z^2 + 2 = 0$ .

◆ Exercice 43 p. 144

1.  $G$  est le centre d'une sphère passant par  $S, A, B, C$  et  $D$ , alors on a :

$$\begin{cases} G \text{ est l'isobarycentre du triangle } SAC \Rightarrow \begin{cases} 3\overline{SG} = \overline{SA} + \overline{SC} \\ 3\overline{SG} = \overline{SB} + \overline{SD} \end{cases} \\ G \text{ est l'isobarycentre du triangle } SDB \Rightarrow \end{cases}$$

$$\text{De plus : } (\alpha + 4\beta)\overline{SG} = \beta(\overline{SA} + \overline{SC}) + (\overline{SB} + \overline{SD}) = \beta(6\overline{SG});$$

$$\text{donc : } \alpha + 4\beta = 6\beta \Rightarrow \alpha = 2\beta.$$

$$\alpha = 2\beta \Rightarrow G = \text{bar}[(S, 2), (A, 1), (B, 1), (C, 1), (D, 1)].$$

$$= \text{bar}[(S, 2); (I, 4)], \text{ où } I \text{ est le centre du carré } ABCD.$$

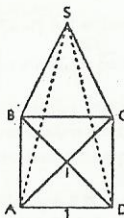
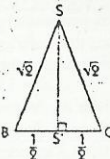
$$= \text{bar}[(S, 1), (I, 2)].$$

$$\text{On a : } \begin{cases} G \text{ est l'isobarycentre du triangle } SAC \text{ et } I = \text{mil } [AC] \\ G \text{ est l'isobarycentre du triangle } SBD \text{ et } I = \text{mil } [BD] \end{cases}$$

donc,  $G$  est le centre de la sphère passant par  $A, B, C, D$  et  $S$ .

2. Soit  $(\Sigma)$  cette sphère; on a :  $G = \text{bar}[(S, 2), (A, 1), (B, 1), (C, 1), (D, 1)]$ .

$$\text{Donc : } M \in (\Sigma) \Leftrightarrow 2MG^2 + 2GS^2 + GA^2 + GB^2 + GC^2 + GD^2 = k.$$



$$\begin{cases} \overline{SG} = \frac{2}{3}\overline{SI} \\ SG = GA = GB = GC = GD \end{cases} \Rightarrow \begin{cases} SG^2 = AG^2 = GB^2 = GC^2 = GD^2 = \frac{4}{9}SI^2 \\ SI^2 = \frac{3}{4} \\ SG^2 = AG^2 = GB^2 = GC^2 = GD^2 = \frac{1}{3} \end{cases}$$

$$\text{Donc : } M \in (\Sigma) \Leftrightarrow 2MG^2 = k - 2 \Rightarrow MG^2 = \frac{k-2}{2}; \text{ de plus : } MG^2 = \frac{1}{3}. \text{ Donc : } k = \frac{8}{3}.$$

◆ Exercice 44 p. 144

$$1. a) G = \text{bar}[(S, \alpha), (I, 4\beta)] \Rightarrow \overline{IG} = \frac{\alpha}{\alpha + 4\beta} \overline{IS}; \text{ donc : } G \in (IS).$$

Or  $(IS)$  est l'intersection des plans médiateurs  $(ASC)$  et  $(SBD)$  des diagonales respectives  $[BD]$  et  $[AC]$ ; donc tout point de  $(IS)$ , en particulier  $G$ , est équidistant des plans  $(SAB)$ ,  $(SBC)$ ,  $(SCD)$  et  $(SAD)$ .

$$b) IG \text{ est le rayon } r \text{ du cercle inscrit dans le triangle } ASC \text{ et } r = \frac{3\sqrt{3} - 2\sqrt{3}}{3}; \text{ pour } \alpha \text{ et } \alpha + 4\beta \text{ strictement positifs, on a : } IG = \frac{1}{2} \left( \frac{\alpha}{\alpha + 4\beta} \right).$$

$$\text{Donc : } \frac{\alpha}{\alpha + 4\beta} = 2r \Rightarrow \beta = \alpha \left( \frac{1 - 2r}{8r} \right); \text{ le couple } (1; \frac{1 - 2r}{8r}) \text{ convient.}$$

$$2. M \in (\Sigma) \Leftrightarrow \alpha MS^2 + \beta(MA^2 + MB^2 + MC^2 + MD^2) = k$$

$$a) I \in (\Sigma) \Leftrightarrow \alpha IS^2 + \beta(IA^2 + IB^2 + IC^2 + ID^2) = k \text{ et } \begin{cases} IS^2 = \frac{1}{4} \\ IA^2 = \frac{1}{2} \end{cases};$$

$$\text{donc : } \frac{\alpha}{4} + 2\beta = k.$$

$$\text{Par suite : } I \in (\Sigma) \Leftrightarrow (\alpha, \beta, k) \in \{(x; y; \frac{x}{4} + 2y), \text{ tel que } (x, y) \in \mathbb{R}^2 \text{ et } x + 4y \neq 0\}.$$

b) Les intersections de  $(\Sigma)$  avec les plans  $(SAB)$ ,  $(SBC)$ ,  $(SCD)$  et  $(SDA)$  sont respectivement les projetés orthogonaux respectifs de  $G$  sur chacun de ces plans, car ce sont des plans tangents à  $(\Sigma)$ .

◆ Exercice 45 p. 144

$$1. MA^2 + MB^2 = 1 \Leftrightarrow 2MI^2 + IA^2 + IB^2 = 1 \Leftrightarrow MI^2 = \frac{1}{4}. \text{ Soit } (\Sigma) \text{ la sphère de centre } I \text{ et de rayon } \frac{1}{2}.$$

L'ensemble des points  $M$  cherchés est  $(BCD) \cap (\Sigma)$ .

$$\text{On a : } BI^2 = \frac{1}{4} \text{ et } B \in (BCD) \Rightarrow B \in (BCD) \cap (\Sigma).$$

$$\text{Or : } d(I, (BCD)) = IJ < IB = \frac{1}{2} \text{ (le triangle } IJB \text{ est rectangle en } J).$$

Donc,  $(\Sigma) \cap (BCD)$  est un cercle passant par  $B$ ;

de plus :  $J \in (BCD)$  et  $(IJ) \perp (JB)$ ; par suite,  $(\Sigma) \cap (BCD)$  est le cercle de centre  $J$  passant par  $B$ .

$$2. M \in (BCD) \text{ et } MI^2 = \frac{2k-1}{4}.$$

• Si  $k < \frac{1}{2}$ , alors l'ensemble cherché est vide.

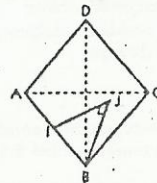
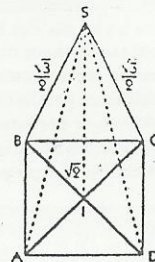
• Si  $k \geq \frac{1}{2}$ , alors l'ensemble cherché est un cercle de centre  $J$ .

3. Soit  $f : (BCD) \rightarrow \mathbb{R}$ .

$$M \mapsto MA^2 + MB^2$$

$$f(M) = 2MI^2 + \frac{1}{2} = 2(\overline{MJ} + \overline{JI})^2 + \frac{1}{2} = 2(MJ^2 + \overline{JI}^2 + \frac{1}{4}).$$

$f(M)$  est minimale si et seulement  $MJ^2 = 0$ , c'est-à-dire,  $M = J$ .



# 8. Géométrie analytique de l'espace

(pages 145 à 164 du livre de l'élève)

## OBJECTIFS

- Utiliser les acquis des chapitres précédents pour déterminer des représentations paramétriques et des équations cartésiennes de droites et de plans de l'espace.
- Utiliser les représentations analytiques précédentes pour résoudre des problèmes simples :
  - vérifier un parallélisme ;
  - déterminer des intersections de plans et de droites ;
  - calculer des distances ;
  - démontrer des propriétés.

## COMMENTAIRES

- Dans ce chapitre, on cherchera surtout à définir des outils et à faire réfléchir l'élève sur la façon dont il peut s'en servir.
- On évitera de passer en revue tous les problèmes d'intersection, de parallélisme ou d'orthogonalité qui peuvent se présenter et de donner des recettes pour les résoudre. On apprendra plutôt à l'élève à trouver lui-même la méthode appropriée à une situation donnée.
- Les conditions nécessaires et suffisantes pour que deux plans définis par leurs équations cartésiennes soient parallèles ou perpendiculaires ne doivent pas apparaître comme des savoirs, mais des savoir-faire.
- Les élèves doivent maîtriser le maniement des équations cartésiennes et des représentations paramétriques de droites et plans, ainsi que le passage des uns aux autres, le but visé étant de :
  - mieux faire comprendre le sens de chacune des deux notions ;
  - savoir que, connaissant l'une, on connaît l'autre.
- Bien que certains résultats soient valables dans un repère quelconque, on supposera que le repère utilisé est orthonormé.
- Le problème réciproque concernant les représentations paramétriques, c'est à dire le fait que tout système du type

$$\begin{cases} x = a\lambda + x_0 \\ y = b\lambda + y_0 \\ z = c\lambda + z_0 \end{cases} \quad \text{ou} \quad \begin{cases} x = \lambda a + \lambda' a' + x_0 \\ y = \lambda b + \lambda' b' + y_0 \\ z = \lambda c + \lambda' c' + z_0 \end{cases}$$

est, sous certaines conditions, la représentation paramétrique d'une droite ou d'un plan n'a pas été traité car il nous a semblé évident.

## SAVOIRS ET SAVOIR-FAIRE

### savoirs

- Équations cartésiennes**
- Représentation paramétrique d'un plan de l'espace.
  - Vecteur normal à un plan.
  - Plan défini par un vecteur normal et un point.
  - Équations cartésiennes d'un plan.
  - Distance d'un point à un plan.
  - Systèmes d'équations cartésiennes d'une droite.

### savoir-faire

- Trouver une équation cartésienne ou une représentation paramétrique d'un plan :
- défini par un repère cartésien ;
  - défini par 3 points non alignés ;
  - défini par un point et un vecteur normal ;
  - passant par un point et parallèle à un plan donné ;
  - passant par un point et perpendiculaire à une droite donnée.
- Trouver un système d'équations cartésiennes ou paramétriques d'une droite :
- définie par un repère cartésien ;

### savoirs

- Représentations paramétriques**
- Représentations paramétriques d'une droite.
  - Représentations paramétriques d'un plan.

- Positions relatives de droites et plans**
- Positions relatives de deux droites.
  - Positions relatives d'une droite et d'un plan.
  - Positions relatives de deux plans.

### savoir-faire

- définie par 2 points distincts ;
- passant par un point et parallèle à une droite donnée ;
- passant par un point et perpendiculaire à un plan donné.
- Passer d'une représentation paramétrique à un système d'équations cartésiennes et vice versa ;
- Calculer la distance d'un point à un plan.
- Déterminer l'intersection de deux plans, de deux droites, d'un plan et d'une droite, les plans et les droites étant définis par des équations cartésiennes ou des représentations paramétriques.
- Les plans ou les droites étant définis par des équations cartésiennes ou des représentations paramétriques, reconnaître que :
  - deux plans sont perpendiculaires ou parallèles ;
  - deux droites sont perpendiculaires ou parallèles ;
  - une droite est perpendiculaire ou parallèle à un plan.

## EXERCICES DU MANUEL

### Exercices du cours

#### Exercice 1.a p. 150

$$1. \mathcal{D} (O, \vec{i}, \vec{j}) : x = 0 ; \mathcal{D} (O, \vec{i}, \vec{k}) : y = 0 ; \mathcal{D} (O, \vec{j}, \vec{k}) : z = 0.$$

$$2. \mathcal{D} (A, \vec{i}, \vec{j}) : x - 3 = 0 ; \mathcal{D} (A, \vec{i}, \vec{k}) : y - 2 = 0 ; \mathcal{D} (A, \vec{j}, \vec{k}) : x - 1 = 0.$$

#### Exercice 1.b p. 150

$$\mathcal{D} (A, \vec{i}) : \begin{cases} y - 2 = 0 \\ z - 3 = 0 \end{cases} ; \mathcal{D} (A, \vec{j}) : \begin{cases} x - 1 = 0 \\ z - 3 = 0 \end{cases} ; \mathcal{D} (A, \vec{k}) : \begin{cases} x - 1 = 0 \\ y - 2 = 0 \end{cases}$$

#### Exercice 1.c p. 150

Une équation du plan (ABC) est de la forme :  $ax + by + cz + d = 0$ , avec :  $\begin{cases} -2a + d = 0 \\ 3b + d = 0 \\ 4c + d = 0 \end{cases}$

$(6 ; -4 ; -3 ; 12)$  est solution de ce système : donc, une équation de (ABC) est :  $6x - 4y - 3z + 12 = 0$

#### Exercice 1.d p. 150

1. Soit  $\vec{n} \begin{pmatrix} a \\ b \end{pmatrix}$ . On a :  $\begin{cases} \vec{n} \cdot \vec{r} = 0 \\ \vec{n} \cdot \vec{v} = 0 \end{cases} \Leftrightarrow \begin{cases} 2a - 5b + 2c = 0 \\ -3a + 5b + 2c = 0 \end{cases}$

Ce système admet une infinité de solutions, par exemple  $(4 ; 2 ; 1)$ .

Le vecteur  $\vec{n}$  de coordonnées  $(4 ; 2 ; 1)$  est un vecteur orthogonal à  $\vec{u}$  et  $\vec{v}$ .

Une équation cartésienne de  $(\mathcal{D})$  est :  $4(x + 1) + 2(y - 3) + (z + 5) = 0$  ; c'est-à-dire :  $4x + 2y + z + 3 = 0$ .

#### Exercice 1.e p. 150

Les coordonnées du point A vérifient le système d'équations cartésiennes de  $(\mathcal{D})$  ; donc :  $A \in (\mathcal{D})$ .

Le point B tel que  $\vec{AB} = \vec{u}$  a pour coordonnées  $(3, -1, -1)$ .

Les coordonnées de B vérifient également le système d'équations de  $(\mathcal{D})$ . Donc,  $B \in (\mathcal{D})$  et  $\vec{u}$  est un vecteur directeur de  $(\mathcal{D})$ . Par suite,  $(A, \vec{u})$  est un repère de  $(\mathcal{D})$ .

#### Exercice 1.f p. 150

$A \begin{pmatrix} 1 \\ 1 \end{pmatrix}$  et  $B \begin{pmatrix} -1 \\ 3 \end{pmatrix}$  sont deux points de  $(\mathcal{D})$  ; donc :  $(A, \vec{AB})$  est un repère de  $(\mathcal{D})$ .

On pose :  $\vec{u} = \vec{AB}$ .  $(A, \vec{u})$  est un repère de  $(\mathcal{D})$ .

Exercice 3.e p. 160

1. Le plan de repère  $(O, \vec{i}, \vec{j})$  a pour équation  $x=0$ .

Donc  $(\mathcal{P})$  a pour représentation paramétrique : 
$$\begin{cases} x=6+2\lambda \\ y=\lambda \\ z=0 \end{cases} \quad (\lambda \in \mathbb{R}).$$

2.  $\vec{n} \begin{pmatrix} 1 \\ -2 \\ 2 \end{pmatrix}$  est un vecteur normal à  $(\mathcal{P})$ . Le plan  $(\mathcal{P}')$  a pour vecteur normal  $\vec{n}'$  tel que  $\vec{n}'$  soit orthogonal à  $\vec{n}$  et à  $\vec{u} \begin{pmatrix} 2 \\ 2 \\ 0 \end{pmatrix}$ , vecteur directeur de  $(\mathcal{P})$ . Le vecteur  $\vec{n}' \begin{pmatrix} 2 \\ -4 \\ -5 \end{pmatrix}$  convient.

Donc, une équation de  $(\mathcal{P}')$  est :  $2(x-6) - 4y - 5z = 0$  ; c'est-à-dire :  $2x - 4y - 5z - 12 = 0$ .

Exercices d'apprentissage

ÉQUATIONS CARTÉSIENNES DE DROITES ET PLANS

Exercice 1 p. 161

$\vec{AB} \begin{pmatrix} -1 \\ -4 \\ -2 \end{pmatrix}$  est un vecteur normal à  $(\mathcal{P})$ . Une équation cartésienne de  $(\mathcal{P})$  est de la forme :  $x + 4y + 2z + d = 0$ .

$C \in (\mathcal{P}) \Leftrightarrow 2 + 16 - 10 + d = 0 \Leftrightarrow d = -8$ . Donc, une équation de  $(\mathcal{P})$  est :  $x + 4y + 2z - 8 = 0$ .

Exercice 2 p. 161

1. Une équation cartésienne du plan (ABC) est de la forme :  $ax + by + cz + d = 0$ .

$$\text{On a : } \begin{cases} A \in (\mathcal{P}) \\ B \in (\mathcal{P}) \\ C \in (\mathcal{P}) \end{cases} \Leftrightarrow \begin{cases} -a + b + c + d = 0 \\ a - b + c + d = 0 \\ a + b - c + d = 0 \end{cases}$$

Ce système admet une infinité de triplets solutions, par exemple :  $(1 ; 1 ; 1 ; -1)$ .

Donc une équation cartésienne du plan (ABC) est :  $x + y + z - 1 = 0$ .

2. Une équation cartésienne du plan parallèle à  $(\mathcal{P})$  passant par  $O$  est :  $x + y + z = 0$ .

Exercice 3 p. 161

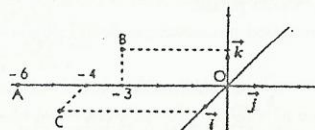
1. On a :  $A \in (\mathcal{P}_k) \Leftrightarrow -4 - 4 - k = 0 \Leftrightarrow k = -8$ .

2. Lorsque  $k$  décrit  $\mathbb{R}$ , les plans  $(\mathcal{P}_k)$  restent parallèles au plan  $(\mathcal{P}_0)$  d'équation :  $2x - y + z = 0$ .

Exercice 4 p. 161

$A \begin{pmatrix} 0 \\ -6 \\ 0 \end{pmatrix}$ ,  $B \begin{pmatrix} 0 \\ -3 \\ 1 \end{pmatrix}$  et  $C \begin{pmatrix} 1 \\ -4 \\ 0 \end{pmatrix}$  sont trois points de  $(\mathcal{P})$ .

2. Voir figure ci-contre.



Exercice 5 p. 161

Il faut déterminer deux équations de la forme :  $ax + by + cz + d = 0$ , avec : 
$$\begin{cases} -2a - b + 2c + d = 0 \\ a + 2b - 3c + d = 0 \end{cases}$$

On a un système linéaire de deux équations à quatre inconnues ; on choisit arbitrairement deux inconnues. (Il ne faut pas choisir des valeurs proportionnelles, sinon on obtient deux équations équivalentes.)

On a, par exemple :  $\{(a, b, c, d) = (1, -1, 0, 1)\}$  ; donc :  $\begin{cases} x - y + 1 = 0 \\ x + 4y + 3z = 0 \end{cases}$

Exercice 6 p. 161

On procède comme dans l'exercice précédent.

1. On obtient, par exemple :  $\begin{cases} -2x + y + 1 = 0 \\ -x + z = 0 \end{cases}$

2. Intersection avec le plan  $\mathcal{P} (O, \vec{i}, \vec{j})$

On a :  $x = 0$  ; donc, le point d'intersection a pour coordonnées  $(0 ; -1 ; 0)$ .

Intersection avec le plan  $\mathcal{P} (O, \vec{j}, \vec{k})$

On a :  $x = 0$  ; donc, le point d'intersection a pour coordonnées  $(0 ; -1 ; 0)$ .

Intersection avec le plan  $\mathcal{P} (O, \vec{k}, \vec{i})$

On a :  $y = 0$  ; donc, le point d'intersection a pour coordonnées  $(\frac{1}{2} ; 0 ; \frac{1}{2})$ .

REPRÉSENTATIONS PARAMÉTRIQUES

Exercice 7 p. 161

1. On a :  $\vec{OA} \begin{pmatrix} 1 \\ 1 \\ 1 \end{pmatrix}$ ,  $\vec{OB} \begin{pmatrix} 2 \\ 3 \\ 2 \end{pmatrix}$  et  $\vec{AB} \begin{pmatrix} 1 \\ 2 \\ 1 \end{pmatrix}$ .

Les droites (OA), (OB) et (AB) ont pour repères respectifs :  $(O, \vec{OA})$ ,  $(O, \vec{OB})$  et  $(A, \vec{AB})$ .

On en déduit une représentation paramétrique de ces droites.

$$(OA) : \begin{cases} x = \lambda \\ y = \lambda \\ z = \lambda \end{cases} \quad (\lambda \in \mathbb{R}) ; (OB) : \begin{cases} x = 2\lambda \\ y = 3\lambda \\ z = 2\lambda \end{cases} \quad (\lambda \in \mathbb{R}) ; (AB) : \begin{cases} x = 1 + \lambda \\ y = 1 + 2\lambda \\ z = 1 + \lambda \end{cases} \quad (\lambda \in \mathbb{R}).$$

2. Représentation paramétrique du plan (OAB) : 
$$\begin{cases} x = \lambda + 2\mu \\ y = \lambda + 3\mu \\ z = \lambda + 2\mu \end{cases} \quad (\lambda \in \mathbb{R}, \mu \in \mathbb{R}).$$

Exercice 8 p. 161

a) Droite de repère  $(A, \vec{u})$ , avec  $A \begin{pmatrix} -3 \\ 1 \\ 0 \end{pmatrix}$  et  $\vec{u} \begin{pmatrix} 2 \\ 1 \\ -1 \end{pmatrix}$ .

b) Demi-droite de repère  $(A, \vec{u})$ .

Exercice 9 p. 161

1. Intersection avec  $\mathcal{D} (O, \vec{i})$  :  $A \begin{pmatrix} 1 \\ 0 \\ 0 \end{pmatrix}$  ; intersection avec  $\mathcal{D} (O, \vec{j})$  :  $B \begin{pmatrix} 0 \\ 2/3 \\ 0 \end{pmatrix}$  ; intersection avec  $\mathcal{D} (O, \vec{k})$  :  $C \begin{pmatrix} 0 \\ 0 \\ 2 \end{pmatrix}$ .

2. Équation cartésienne de  $(\mathcal{P})$  :  $2x - 3y + z - 2 = 0$ .

Exercice 10 p. 161

1. A est le point de paramètre  $\lambda = 1$  ; B est le point de paramètre  $\lambda = 2$ .

2. Soit  $M \begin{pmatrix} x \\ y \\ z \end{pmatrix}$ .  $AM = 13 \Leftrightarrow (-3 + 3\lambda)^2 + (4 - 4\lambda)^2 + (-12 + 12\lambda)^2 = 13^2 \Leftrightarrow (\lambda - 1)^2 = 1$ .

On obtient :  $\lambda = 0$  ou  $\lambda = 2$ . Donc :  $M_1 \begin{pmatrix} -5 \\ 5 \\ -15 \end{pmatrix}$  et  $M_2 \begin{pmatrix} 1 \\ -3 \\ 9 \end{pmatrix}$ .

Exercice 11 p. 161

1. A a pour paramètres  $\lambda = 1$  et  $\mu = 1$ , B :  $\lambda = 1$  et  $\mu = -1$ , C :  $\lambda = -1$  et  $\mu = 0$ .

2. On a :  $\vec{OG} = \frac{1}{3} (\vec{OA} + \vec{OB} + \vec{OC})$ . Donc, G a pour coordonnées  $(-\frac{1}{3} ; -\frac{1}{3} ; \frac{2}{3})$ . D'où  $\lambda = \frac{1}{3}$  et  $\mu = 0$ .

DISTANCE D'UN POINT À UN PLAN

Exercice 12 p. 161

On a :  $d(A, \mathcal{P}) = \frac{|12 - 8 + 6|}{\sqrt{9 + 16}} = 2$ .

Exercice 13 p. 161

Soit  $M \begin{pmatrix} x \\ y \\ z \end{pmatrix}$ . On a :  $MA = MB \Leftrightarrow (x+1)^2 + (y-1)^2 = (x+2)^2 + (z-3)^2 \Leftrightarrow 2x + 2y - 6z + 11 = 0$ .

Cette équation caractérise le plan médiateur de [AB].

Exercice 14 p. 161

Soit  $M \begin{pmatrix} x \\ y \\ z \end{pmatrix}$ . On a :  $d(M, \mathcal{P}) = 2 \Leftrightarrow |x + 4y - z - 4| = 6\sqrt{2}$  et  $M \in (\mathcal{P}) \Leftrightarrow x = y = z$ .

Donc :  $4x - 4 = 6\sqrt{2}$  ou  $4x - 4 = -6\sqrt{2}$ .

Il y a deux points solutions :  $M_1 \begin{pmatrix} \frac{1}{2}(2 + 3\sqrt{2}) \\ \frac{1}{2}(2 + 3\sqrt{2}) \\ \frac{1}{2}(2 + 3\sqrt{2}) \end{pmatrix}$  et  $M_2 \begin{pmatrix} \frac{1}{2}(2 - 3\sqrt{2}) \\ \frac{1}{2}(2 - 3\sqrt{2}) \\ \frac{1}{2}(2 - 3\sqrt{2}) \end{pmatrix}$ .

Exercice 15 p. 162

Une équation cartésienne du plan (ABC) est :  $x + 2y + 2z - 2 = 0$ .

Donc, la distance de O à ce plan est :  $d = \frac{2}{\sqrt{1+4+4}} = \frac{2}{3}$ .

POSITIONS RELATIVES DE DROITES ET PLANS

◆ Exercice 16 p. 162

Les plans  $(\mathcal{P}_1)$  et  $(\mathcal{P}_2)$  sont sécants suivant la droite de représentation paramétrique :

$$\begin{cases} x = -\lambda \\ y = -\frac{1}{3}\lambda + \lambda \quad (\lambda \in \mathbb{R}) \\ z = \frac{1}{3} \end{cases}$$

◆ Exercice 17 p. 162

1.  $(\mathcal{Q}_1)$  et  $(\mathcal{Q}_2)$  ont pour vecteurs directeurs respectifs :  $\vec{u}_1 \begin{pmatrix} -1 \\ 1 \\ 1 \end{pmatrix}$  et  $\vec{u}_2 \begin{pmatrix} -2 \\ -1 \\ -1 \end{pmatrix}$ .

$\vec{u}_1$  et  $\vec{u}_2$  sont non colinéaires, donc  $(\mathcal{Q}_1)$  et  $(\mathcal{Q}_2)$  ne sont pas parallèles. Si  $(\mathcal{Q}_1)$  et  $(\mathcal{Q}_2)$  sont sécants, on a :

$$\begin{cases} -\lambda = 2 - 2\mu \\ \lambda = 1 - \mu \\ \lambda = -\mu \end{cases} \Leftrightarrow \begin{cases} -\lambda + 2\mu = 2 \\ \lambda + \mu = 1 \\ \lambda + \mu = 0 \end{cases}$$

Les deux dernières équations étant incompatibles, le système n'a pas de solution. Donc,  $(\mathcal{Q}_1)$  et  $(\mathcal{Q}_2)$  sont non coplanaires.

2. Une équation cartésienne de  $(\mathcal{P})$  est :  $y - z = 1$ .

◆ Exercice 18 p. 162

Un point commun à  $(\mathcal{Q})$  et  $(\mathcal{D})$  est tel que :  $\begin{cases} -3\lambda - \mu = 0 \\ \lambda + \mu = 4 \\ 2\lambda + \mu = 2 \end{cases} \Leftrightarrow \begin{cases} \lambda = -2 \\ \mu = 6 \end{cases}$

Donc,  $(\mathcal{Q})$  et  $(\mathcal{D})$  sont sécants en  $A \begin{pmatrix} 8 \\ 7 \\ -7 \end{pmatrix}$ .

$\vec{n} \begin{pmatrix} 1 \\ 1 \\ 2 \end{pmatrix}$  est un vecteur normal au plan  $(\mathcal{P})$  déterminé par  $(\mathcal{P})$  et  $(\mathcal{D})$ .

Donc, une équation cartésienne de  $(\mathcal{P})$  est :  $(x - 8) + (y - 7) + 2(z + 7) = 0 \Leftrightarrow x + y + 2z - 1 = 0$ .

◆ Exercice 19 p. 162

1. Le plan passant par A et parallèle à  $(\mathcal{P})$  a pour équation cartésienne :

$$(x - 1) + (y + 1) + (z - 2) = 0 \Leftrightarrow x + y + z = 2$$

2. a) La droite  $(\mathcal{D})$  orthogonale à  $(\mathcal{P})$  et passant par A a pour repère  $(A, \vec{n})$ , avec  $\vec{n} \begin{pmatrix} 1 \\ 1 \\ 1 \end{pmatrix}$  ;

donc, elle a pour représentation paramétrique :  $\begin{cases} x = 1 + \lambda \\ y = -1 + \lambda \quad (\lambda \in \mathbb{R}) \\ z = 2 + \lambda \end{cases}$

b) Le point d'intersection B de  $(\mathcal{D})$  et  $(\mathcal{P})$  est tel que :

$$(1 + \lambda) + (-1 + \lambda) + (2 + \lambda) = 0 \Leftrightarrow \lambda = -\frac{2}{3}; \text{ donc, B a pour coordonnées } \left(\frac{1}{3}; -\frac{5}{3}; \frac{4}{3}\right).$$

◆ Exercice 20 p. 162

1. La droite  $(\mathcal{D})$  a pour représentation paramétrique :  $\begin{cases} x = \lambda \\ y = -7 + \lambda \quad (\lambda \in \mathbb{R}) \\ z = -2 + \lambda \end{cases}$

Donc,  $\vec{u} \begin{pmatrix} 1 \\ 1 \\ 1 \end{pmatrix}$  est un vecteur directeur de  $(\mathcal{D})$ .

$\vec{n} \begin{pmatrix} 1 \\ -1 \\ 0 \end{pmatrix}$  est un vecteur normal à  $(\mathcal{P})$ . On a :  $\vec{n} \cdot \vec{u} = 0$ ; donc,  $(\mathcal{D})$  est parallèle à  $(\mathcal{P})$ . De plus, le point  $A \begin{pmatrix} 0 \\ -7 \\ -2 \end{pmatrix}$

appartient à  $(\mathcal{D})$  mais n'appartient pas à  $(\mathcal{P})$ . Donc,  $(\mathcal{D})$  est strictement parallèle à  $(\mathcal{P})$ .

2. Le plan  $(\mathcal{P})$  a pour repère  $(A, \vec{n}, \vec{u})$ .

$\vec{n} \begin{pmatrix} 1 \\ 1 \\ -2 \end{pmatrix}$  est un vecteur normal de  $(\mathcal{P})$ . Donc, une équation cartésienne à  $(\mathcal{P})$  est :

$$x + (y + 7) - 2(z + 2) = 0 \Leftrightarrow x + y - 2z + 3 = 0$$

3. Intersection de  $(\mathcal{P})$  et  $(\Pi)$  :  $\begin{cases} x - y + 3 = 0 \\ x + y - 2z + 3 = 0 \end{cases}$  ou  $\begin{cases} x = \lambda \\ y = 3 + \lambda \quad (\lambda \in \mathbb{R}) \\ z = 3 + \lambda \end{cases}$

◆ Exercice 21 p. 162

1. La droite  $(\mathcal{D})$  a pour représentation paramétrique :  $\begin{cases} x = \lambda \\ y = 3 - 3\lambda \quad (\lambda \in \mathbb{R}) \\ z = 3 - 2\lambda \end{cases}$

$\vec{u} \begin{pmatrix} 1 \\ -2 \\ 3 \end{pmatrix}$  et  $\vec{u}' \begin{pmatrix} 1 \\ -3 \\ -2 \end{pmatrix}$  sont des vecteurs directeurs respectifs de  $(\mathcal{D})$  et  $(\mathcal{D}')$ . Ces vecteurs n'étant pas colinéaires,  $(\mathcal{D})$  et  $(\mathcal{D}')$  ne sont pas parallèles.

De plus, le système  $\begin{cases} -1 + \lambda = \mu \\ 3 - 2\lambda = 3 - 3\mu \\ -1 + 3\lambda = 3 - 2\mu \end{cases}$  est impossible. Donc,  $(\mathcal{D})$  et  $(\mathcal{D}')$  sont non coplanaires.

2. Le plan  $(\mathcal{P})$  a pour repère  $(A, \vec{u}, \vec{u}')$ , avec  $A \begin{pmatrix} -1 \\ 3 \\ -1 \end{pmatrix}$ .

$\vec{n} \begin{pmatrix} a \\ b \\ c \end{pmatrix}$  est un vecteur normal à  $(\mathcal{P})$  si :  $\begin{cases} a - 2b + 3c = 0 \\ a - 3b - 2c = 0 \end{cases}$ . Donc, par exemple,  $\vec{n} \begin{pmatrix} -13 \\ -5 \\ 1 \end{pmatrix}$ .

Équation cartésienne de  $(\mathcal{P})$  :  $13(x + 1) + 5(y - 3) - (z + 1) = 0 \Leftrightarrow 13x + 5y - z = 3$ .

◆ Exercice 22 p. 162

1. Un système d'équations cartésiennes de  $(\mathcal{D}')$  est :  $\begin{cases} (x - 1) - (y - 2) + (z + 3) = 0 \\ (x - 1) + (y - 2) - (z + 3) = 0 \end{cases} \Leftrightarrow \begin{cases} x - y + z + 4 = 0 \\ x + y - z - 6 = 0 \end{cases}$

2. On détermine deux points de  $(\mathcal{D})$ , par exemple :  $O \begin{pmatrix} 0 \\ 0 \\ 0 \end{pmatrix}$  et  $B \begin{pmatrix} 0 \\ 1 \\ 1 \end{pmatrix}$ . Le plan  $(\mathcal{P})$  est le plan (OAB).

Donc, une équation cartésienne de  $(\mathcal{P})$  est :  $ax + by + cz + d = 0$ , avec  $\begin{cases} d = 0 \\ a + 2b - 3c + d = 0 \\ b + c + d = 0 \end{cases}$ .

$(5; -1; 1; 0)$  est solution de ce système. On en déduit une équation cartésienne de  $(\mathcal{P})$  :  $5x - y + z = 0$ .

◆ Exercice 23 p. 162

Représentation paramétrique de  $(\mathcal{P})$  :  $\begin{cases} x = 2 + \lambda + \mu \\ y = -1 - 3\lambda - \mu \quad (\lambda \in \mathbb{R}, \mu \in \mathbb{R}) \\ z = 2\lambda + 3\mu \end{cases}$

Pour déterminer l'intersection de  $(\mathcal{P})$  et  $(\mathcal{D})$ , on résout le système :

$$\begin{cases} (2 + \lambda + \mu) - 2(-1 - 3\lambda - \mu) + (2\lambda + 3\mu) + 1 = 0 \\ (2 + \lambda + \mu) + (-1 - 3\lambda - \mu) + (2\lambda + \mu) = 0 \end{cases} \Leftrightarrow \begin{cases} 9\lambda + 6\mu + 5 = 0 \\ 3\mu + 1 = 0 \end{cases} \Leftrightarrow \begin{cases} \lambda = -\frac{1}{3} \\ \mu = -\frac{1}{3} \end{cases}$$

$(\mathcal{P})$  et  $(\mathcal{D})$  ont pour intersection le point de coordonnées  $\left(\frac{4}{3}; \frac{1}{3}; -\frac{5}{3}\right)$ .

◆ Exercice 24 p. 162

1.  $(\mathcal{D})$  a pour représentation paramétrique :  $\begin{cases} x = \lambda \\ y = 3 - 2\lambda \quad (\lambda \in \mathbb{R}) \\ z = \lambda \end{cases}$

On en déduit une équation cartésienne de  $(\mathcal{P})$  :  $(x - 1) - 2(y - 2) + (z - 3) = 0 \Leftrightarrow x - 2y + z = 0$ .

2.  $(\mathcal{P})$  et  $(\mathcal{D})$  ont pour intersection le point de coordonnées  $(1; 1; 1)$ .

◆ Exercice 25 p. 162

La droite  $(\mathcal{D})$  admet pour vecteur directeur un vecteur normal à  $(\mathcal{P})$ , soit :  $\vec{n} \begin{pmatrix} 2 \\ -1 \\ -2 \end{pmatrix}$ .

On en déduit  $(\mathcal{D})$  :  $\begin{cases} x = -1 + 2\lambda \\ y = -1 - \lambda \quad (\lambda \in \mathbb{R}) \\ z = 2 - 2\lambda \end{cases}$  et  $(\mathcal{D}')$  :  $\begin{cases} x + 2y + 3 = 0 \\ x + z - 1 = 0 \end{cases}$ .

◆ Exercice 26 p. 162

$(\mathcal{P})$  a pour vecteur normal  $\vec{n} \begin{pmatrix} 2 \\ 3 \\ 1 \end{pmatrix}$ .  $(\mathcal{P}')$  a pour vecteurs directeurs  $\vec{u} \begin{pmatrix} 2 \\ -1 \\ -1 \end{pmatrix}$  et  $\vec{v} \begin{pmatrix} 1 \\ 1 \\ -5 \end{pmatrix}$ .

On a :  $\vec{n} \cdot \vec{u} = \vec{n} \cdot \vec{v} = 0$ ; donc, les plans  $(\mathcal{P})$  et  $(\mathcal{P}')$  sont parallèles.

◆ Exercice 27 p. 162

Les droites  $(\mathcal{Q})$  et  $(\mathcal{D}')$  admettent pour représentations paramétriques :

$$(\mathcal{Q}) : \begin{cases} x = \lambda \\ y = 2 + 2\lambda \quad (\lambda \in \mathbb{R}) \\ z = 2\lambda \end{cases} \quad \text{et} \quad (\mathcal{Q}') : \begin{cases} x = 2\mu \\ y = -1 - 2\mu \quad (\mu \in \mathbb{R}) \\ z = \mu \end{cases}$$

Les droites  $(\mathcal{Q})$  et  $(\mathcal{Q}')$  ont pour vecteurs directeurs respectifs  $\vec{u} \begin{pmatrix} 1 \\ 2 \\ 2 \end{pmatrix}$  et  $\vec{u}' \begin{pmatrix} 2 \\ -2 \\ 1 \end{pmatrix}$ .

On a :  $\vec{u} \cdot \vec{u}' = 0$  ; donc, les droites  $(\mathcal{Q})$  et  $(\mathcal{Q}')$  sont orthogonales.

Elles sont sécantes si et seulement si :  $\begin{cases} \lambda = 2\mu \\ 2 + 2\lambda = -1 - 2\mu \\ 2\lambda = \mu \end{cases}$

Ce système n'admet pas de solution ; donc, les droites  $(\mathcal{Q})$  et  $(\mathcal{Q}')$  sont non coplanaires.

### Exercices d'approfondissement

♦ Exercice 28 p. 162

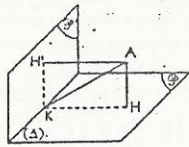
1. Les plans  $(\mathcal{P})$  et  $(\mathcal{P}')$  ont pour vecteurs normaux respectifs :  $\vec{n} \begin{pmatrix} 1 \\ 1 \\ -1 \end{pmatrix}$  et  $\vec{n}' \begin{pmatrix} 2 \\ -1 \\ 1 \end{pmatrix}$ .

On a :  $\vec{n} \cdot \vec{n}' = 0$  ; donc, les plans  $(\mathcal{P})$  et  $(\mathcal{P}')$  sont perpendiculaires.

2.  $d(A, \mathcal{P}) = d = \frac{3}{\sqrt{3}}$  et  $d(A, \mathcal{P}') = d' = \frac{3}{\sqrt{6}}$ .

3. Soit H, H' et K les projetés orthogonaux respectifs de A sur  $(\mathcal{P})$ ,  $(\mathcal{P}')$  et  $(\Delta)$ .

AHKH' est un rectangle : donc :  $AK = \sqrt{d^2 + d'^2} = \sqrt{3 + \frac{3}{2}} = \frac{3}{\sqrt{2}}$ .



♦ Exercice 29 p. 162

1. Les plans  $(\mathcal{P})$  et  $(\mathcal{P}')$  ont pour vecteurs normaux respectifs :  $\vec{n} \begin{pmatrix} 2 \\ -4 \\ 2 \end{pmatrix}$  et  $\vec{n}' \begin{pmatrix} 1 \\ 2 \\ 1 \end{pmatrix}$ .

Ces vecteurs sont colinéaires ; donc, les plans  $(\mathcal{P})$  et  $(\mathcal{P}')$  sont parallèles.

Or  $A \begin{pmatrix} 1 \\ -1 \\ 0 \end{pmatrix}$  appartient à  $(\mathcal{P}')$ , mais pas à  $(\mathcal{P})$  ; donc, ces plans sont strictement parallèles.

2. a) Soit  $M \begin{pmatrix} x \\ y \\ z \end{pmatrix}$  et  $M' \begin{pmatrix} x' \\ y' \\ z' \end{pmatrix}$ . La droite  $(MM')$  est orthogonale aux plans  $(\mathcal{P})$  et  $(\mathcal{P}')$ , donc les vecteurs  $\vec{MM}'$  et  $\vec{n}$  sont colinéaires ; il existe un nombre réel k, tel que :  $\begin{cases} x' = x + k \\ y' = y - 2k \\ z' = z + k \end{cases}$

$M \in (\mathcal{P}) \Leftrightarrow 2x - 4y + 2z + 3 = 0$  et  $M' \in (\mathcal{P}') \Leftrightarrow x' - 2y' + z' - 3 = 0$ . On en déduit :  $k = \frac{3}{4}$ .

b) La distance entre les plans  $(\mathcal{P})$  et  $(\mathcal{P}')$  est :  $MM' = \sqrt{(x' - x)^2 + (y' - y)^2 + (z' - z)^2} = \frac{3\sqrt{6}}{4}$ .

♦ Exercice 30 p. 163

1. Le système est un système d'équations cartésiennes d'une droite si  $a \neq 1$ .

2. •  $(\mathcal{Q})$  et  $(\mathcal{Q}')$  sont parallèles si  $b = -1$ .

•  $(\mathcal{Q})$  et  $(\mathcal{Q}')$  sont sécantes si  $b \neq -1$  et si elles ont un point commun.

•  $(\mathcal{Q})$  et  $(\mathcal{Q}')$  sont non coplanaires si :  $b \neq -1$  et  $a + b \neq 1$ .

♦ Exercice 31 p. 163

1. Le plan  $(\mathcal{P})$  a pour vecteur normal :  $\vec{n} \begin{pmatrix} 1 \\ 1 \\ 1 \end{pmatrix}$ .

Soit  $M \begin{pmatrix} x \\ y \\ z \end{pmatrix}$  un point de  $\mathcal{E}$  et  $M' \begin{pmatrix} x' \\ y' \\ z' \end{pmatrix}$  le projeté orthogonal de M sur le plan  $(\mathcal{P})$ .

Les vecteurs  $\vec{MM}'$  et  $\vec{n}$  sont colinéaires, donc il existe un nombre réel k tel que :  $x' - x = y' - y = z' - z = k$ .

De plus :  $M' \in (\mathcal{P}) \Leftrightarrow x' + y' + z' = 0$ .

On en déduit :  $k = -\frac{1}{3}(x + y + z)$  et  $\begin{cases} x' = \frac{1}{3}(2x - y - z) \\ y' = \frac{1}{3}(-x + 2y - z) \\ z' = \frac{1}{3}(-x - y + 2z) \end{cases}$

2. a) On a :  $\vec{AB} \begin{pmatrix} -1 \\ -1 \\ 2 \end{pmatrix}$  et  $\vec{n} \cdot \vec{AB} = 0$ . Donc, la droite  $(AB)$  est parallèle au plan  $(\mathcal{P})$ .

b) On a :  $A' \begin{pmatrix} 2 \\ 1 \\ -3 \end{pmatrix}$ ,  $B' \begin{pmatrix} 1 \\ 0 \\ -1 \end{pmatrix}$  et  $C' \begin{pmatrix} 0 \\ 3 \\ 4 \end{pmatrix}$  ; donc :  $\vec{AB}' \begin{pmatrix} -1 \\ -1 \\ 2 \end{pmatrix}$ ,  $\vec{AC}' \begin{pmatrix} 2 \\ 6 \\ 4 \end{pmatrix}$ ,  $\vec{A'B}' \begin{pmatrix} -1 \\ -1 \\ 2 \end{pmatrix}$  et  $\vec{A'C}' \begin{pmatrix} -2 \\ 2 \\ 0 \end{pmatrix}$ .

On en déduit :  $\vec{AB} \cdot \vec{AC}' = 0$  et  $\vec{A'B}' \cdot \vec{A'C}' = 0$ . Donc, les angles  $\widehat{BAC}$  et  $\widehat{B'A'C'}$  sont droits.

On retrouve la propriété suivante : la projection orthogonale d'un angle droit est un angle droit si l'un des côtés de cet angle est parallèle au plan de projection.


♦ Exercice 32 p. 163

1. Dans le repère  $(A, \vec{AB}, \vec{AC}, \vec{AD})$ , on a :  $D \begin{pmatrix} 0 \\ 0 \\ 1 \end{pmatrix}$ ,  $E \begin{pmatrix} 1 \\ 0 \\ 1 \end{pmatrix}$ ,  $F \begin{pmatrix} 0 \\ 1 \\ 1 \end{pmatrix}$  et  $\vec{AG}' \begin{pmatrix} 1/3 \\ 1/3 \\ 1 \end{pmatrix}$ .

On en déduit  $(AG')$  :  $\begin{cases} x = \lambda \\ y = \lambda \quad (\lambda \in \mathbb{R}) \\ z = 3\lambda \end{cases}$

De même, on a  $(DG)$  :  $\begin{cases} x = \mu \\ y = \mu \quad (\mu \in \mathbb{R}) \\ z = 1 - 3\mu \end{cases}$

2. Donc, les droites  $(AG')$  et  $(DG)$  sont sécantes au point K, de coordonnées  $(\frac{1}{6}; \frac{1}{6}; \frac{1}{2})$ .



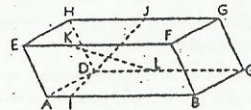
♦ Exercice 33 p. 163

1. Dans le repère  $(A, \vec{AB}, \vec{AD}, \vec{AE})$ , on a :

$I \begin{pmatrix} 1/6 \\ 0 \\ 0 \end{pmatrix}$ ,  $J \begin{pmatrix} 1/2 \\ 1 \\ 1 \end{pmatrix}$  et  $\vec{IJ} \begin{pmatrix} 1/3 \\ 1 \\ 1 \end{pmatrix}$ .

On a  $(IJ)$  :  $\begin{cases} x = \frac{1}{6} + \lambda \\ y = 3\lambda \quad (\lambda \in \mathbb{R}) \\ z = 3\lambda \end{cases}$  et  $(KL)$  :  $\begin{cases} x = \frac{1}{3} + (\alpha - \frac{1}{3})\mu \\ y = \mu \\ z = 1 - \mu \end{cases} \quad (\mu \in \mathbb{R})$ .

2. Pour  $\alpha = \frac{1}{3}$ , les droites  $(IJ)$  et  $(KL)$  sont sécantes au point de coordonnées  $(\frac{1}{2}; \frac{1}{2}; \frac{1}{2})$ .



♦ Exercice 34 p. 163

1. Dans le repère  $(A, \vec{AB}, \vec{AD}, \vec{AE})$ , on a :

$B \begin{pmatrix} 1 \\ 0 \\ 0 \end{pmatrix}$ ,  $D \begin{pmatrix} 0 \\ 1 \\ 0 \end{pmatrix}$ ,  $E \begin{pmatrix} 0 \\ 0 \\ 1 \end{pmatrix}$  et  $\vec{AG} \begin{pmatrix} 1 \\ 1 \\ 1 \end{pmatrix}$ .

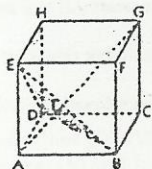
Équation cartésienne du plan  $(BDE)$  :  $x + y + z - 1 = 0$ .

Représentation paramétrique de la droite  $(AG)$  :  $\begin{cases} x = \lambda \\ y = \lambda \quad (\lambda \in \mathbb{R}) \\ z = \lambda \end{cases}$

2.  $\vec{n} \begin{pmatrix} 1 \\ 1 \\ 1 \end{pmatrix}$  est un vecteur normal au plan  $(BDE)$  et est un vecteur directeur de la droite  $(AG)$  ; donc :  $(AG) \perp (BDE)$ .

Le point d'intersection I de  $(AG)$  et  $(BDE)$  est tel que :  $\lambda + \lambda + \lambda - 1 = 0 \Leftrightarrow \lambda = \frac{1}{3}$ .

Donc, I a pour coordonnées  $(\frac{1}{3}; \frac{1}{3}; \frac{1}{3})$  et  $\vec{AI} = \frac{1}{3}\vec{AG}$ .



♦ Exercice 35 p. 163

1. •  $\vec{GD}$  et  $\vec{GB}$  sont non colinéaires, donc vecteurs directeurs du plan  $(GDB)$ . On a :

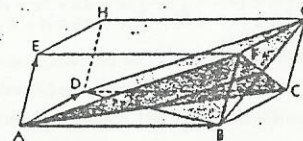
$\vec{GD} = \vec{AD} - \vec{AG} = -\vec{u} - \vec{v}$  ;

$\vec{GB} = \vec{AB} - \vec{AG} = -\vec{v} - \vec{w}$ .

• De même,  $\vec{AC}$  et  $\vec{AF}$  sont des vecteurs directeurs du plan  $(CFA)$ . On a :

$\vec{AC} = \vec{AB} + \vec{AD} = \vec{u} + \vec{v}$  et  $\vec{AF} = \vec{AE} + \vec{AD} = \vec{u} + \vec{w}$ .

• On a :  $\vec{GD} = -\vec{AF}$  ; on en déduit que  $\vec{GD}$  (ou  $\vec{AF}$ ) est un vecteur directeur commun aux plans  $(GDB)$  et  $(CFA)$ , donc un vecteur directeur de la droite d'intersection de ces deux plans.



2. On a : (GDB) :  $\begin{cases} x = 1 - \lambda \\ y = 1 - \mu \\ z = 1 - \lambda - \mu \end{cases}$  ( $\lambda \in \mathbb{R}, \mu \in \mathbb{R}$ ) et (CFA) :  $\begin{cases} x = \lambda + \mu \\ y = \lambda \\ z = \mu \end{cases}$  ( $\lambda \in \mathbb{R}, \mu \in \mathbb{R}$ ).

On en déduit une représentation paramétrique de  $(GDB) \cap (CFA)$  :  $\begin{cases} x = \frac{1}{2} + \lambda \\ y = \frac{1}{2} \\ z = \lambda \end{cases}$  ( $\lambda \in \mathbb{R}$ ).

◆ Exercice 36 p. 163

(P) est le plan d'équation cartésienne :  $x - 2y - 2z + 3 = 0$ . Soit A et B deux points distincts de P.

1. (AB) et (P) ne sont pas orthogonaux.

On désigne par A' et B' les projetés orthogonaux respectifs de A et B sur (P).

A' et B' sont distincts, sinon la droite (A'B') serait orthogonale à (P). Soit (Q) la plan défini par (A'B') et la droite (Q) orthogonale à (P) passant par A'.

Ce plan contient une droite orthogonale à (P), il est donc perpendiculaire à (P).

Les points A et B appartiennent respectivement à (Q) et à la droite parallèle à (Q) passant par B' : ces points appartiennent donc à (P).

Donc, il existe un unique plan passant par A et B, et perpendiculaire à (P).

Application

On a :  $A \begin{pmatrix} 4 \\ 2 \\ 0 \end{pmatrix}, B \begin{pmatrix} 5 \\ -2 \\ 0 \end{pmatrix}$ , donc :  $\vec{AB} \begin{pmatrix} 1 \\ -4 \\ 0 \end{pmatrix}$ . Soit  $\vec{n} \begin{pmatrix} 1 \\ -2 \\ -2 \end{pmatrix}$  un vecteur normal à (P).

Les vecteurs  $\vec{AB}$  et  $\vec{n}$  sont non colinéaires ; donc,  $(A, \vec{AB}, \vec{n})$  est un repère du plan (P).

On en déduit une représentation paramétrique du plan (P) :  $\begin{cases} x = 4 + \lambda + \mu \\ y = 4 - 6\lambda - 2\mu \\ z = 2 - 2\lambda - 2\mu \end{cases}$  ( $\lambda \in \mathbb{R}, \mu \in \mathbb{R}$ ).

D'où une équation cartésienne :  $2x + z - 10 = 0$ .

2. (AB) et (P) sont orthogonaux.

a) Tout plan (Q) passant par A et B contient la droite (AB) orthogonale au plan (P), donc est perpendiculaire à (P).

b) On a :  $A \begin{pmatrix} 4 \\ 2 \\ 0 \end{pmatrix}$ , et  $B \begin{pmatrix} 5 \\ 2 \\ 0 \end{pmatrix}$ , donc :  $\vec{AB} \begin{pmatrix} 1 \\ 0 \\ 0 \end{pmatrix}$ . Les vecteurs  $\vec{AB}$  et  $\vec{n}$  sont colinéaires.

Une équation cartésienne de (P) est de la forme :  $ax + by + cz + d = 0$ .

On a :  $\begin{cases} A \in (P) \\ B \in (P) \end{cases} \Leftrightarrow \begin{cases} 4a + 4b + 2c + d = 0 \\ 5a + 2b + d = 0 \end{cases}$

On pose :  $b = \lambda$  et  $c = \mu$  ; on en déduit :  $a = 2\lambda + 2\mu$  et  $d = -12\lambda - 10\mu$ .

Donc, une équation cartésienne de (P) est de la forme :  $(2\lambda + 2\mu)x + \lambda y + \mu z - 12\lambda - 10\mu = 0$ , où  $(\lambda, \mu) \in \mathbb{R}^2$ .

L'ensemble des plans (P), contenant une même droite (AB), est appelé faisceau de plans.

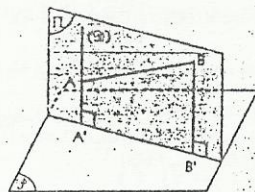
◆ Exercice 37 p. 164

(D) et (D') sont les droites de repères respectifs  $(A, \vec{u})$  et  $(B, \vec{v})$ , avec :  $A \begin{pmatrix} 1 \\ -1 \\ -2 \end{pmatrix}$ , et  $B \begin{pmatrix} 2 \\ 0 \\ 4 \end{pmatrix}$ ,  $\vec{u} \begin{pmatrix} 0 \\ 1 \\ 1 \end{pmatrix}$ ,  $\vec{v} \begin{pmatrix} 2 \\ 1 \\ 1 \end{pmatrix}$ .

1. On a (D) :  $\begin{cases} x = 1 \\ y = -1 + \lambda \\ z = -2 + \lambda \end{cases}$  ( $\lambda \in \mathbb{R}$ ) et (D') :  $\begin{cases} x = 2 + 2\mu \\ y = \mu \\ z = 4 + 2\mu \end{cases}$  ( $\mu \in \mathbb{R}$ ).

(D) et (D') ont des vecteurs directeurs non colinéaires, donc, elles ne sont pas parallèles.

Si elles ont un point commun, les coordonnées de ce point vérifient le système :



$\begin{cases} 1 = 2 + 2\mu \\ -1 + \lambda = \mu \\ -2 + \lambda = 4 + 2\mu \end{cases} \Leftrightarrow \begin{cases} \mu = -\frac{1}{2} \\ \lambda = \frac{1}{2} \\ \lambda = 5 \end{cases}$

Ce système n'admet pas de solution ; donc, les droites (D) et (D') sont non coplanaires.

2. Soit I  $\begin{pmatrix} x \\ y \\ z \end{pmatrix}$  et J  $\begin{pmatrix} x' \\ y' \\ z' \end{pmatrix}$  tels que : I ∈ (D) et J ∈ (D'). La droite (IJ) est perpendiculaire aux droites (D) et (D') si et seulement si :  $\vec{IJ} \cdot \vec{u} = \vec{IJ} \cdot \vec{v} = 0$ .

Les coordonnées des points I et J vérifient respectivement les représentations paramétriques des droites (D) et (D'). De plus, ces coordonnées vérifient le système :

$\begin{cases} (y' - y) + (z' - z) = 0 \\ 2(x' - x) + (y' - y) + 2(z' - z) = 0 \end{cases}$

$\Leftrightarrow \begin{cases} y + z = y' + z' \\ 2x + y + 2z = 2x' + y' + 2z' \end{cases}$

$\Leftrightarrow \begin{cases} 2\lambda - 3 = 3\mu + 4 \\ 3\lambda - 3 = 9\mu + 12 \end{cases} \Leftrightarrow \begin{cases} \lambda = 2 \\ \mu = -1 \end{cases}$

On en déduit : I  $\begin{pmatrix} 1 \\ 1 \\ 0 \end{pmatrix}$  et J  $\begin{pmatrix} 0 \\ -1 \\ 2 \end{pmatrix}$ .

La droite (IJ) est appelée perpendiculaire commune aux droites (D) et (D').

3. a) On a :  $MN^2 = (\vec{M} + \vec{I} + \vec{N})^2 = \alpha^2 \vec{u}^2 + \beta^2 \vec{v}^2 + 2\vec{I} \cdot (\beta \vec{v} - \alpha \vec{u}) - 2\alpha\beta \vec{u} \cdot \vec{v} = 2\alpha^2 + 9\beta^2 + 9 + 0 - 6\alpha\beta = (\alpha - 3\beta)^2 + \alpha^2 + 9$ .

b) On en déduit que la valeur minimale de la distance MN est obtenue si  $\alpha = \beta = 0$ , donc, lorsque M est en I et N en J. Cette valeur minimale est :  $IJ = 3$ .

La distance IJ est appelée distance entre les droites (D) et (D').

◆ Exercice 38 p. 164

1. On a :  $\vec{AB} \begin{pmatrix} -2 \\ 6 \\ 0 \end{pmatrix}$  et  $\vec{CD} \begin{pmatrix} 3 \\ 1 \\ 4 \end{pmatrix}$  ;

$\vec{AB} \cdot \vec{CD} = 0 \Rightarrow (AB) \perp (CD)$ .

On démontre de même que : (AC) ⊥ (BD) et (AD) ⊥ (BC).

2. On a :  $\vec{DA} \begin{pmatrix} 2 \\ -1 \\ -4 \end{pmatrix}$ ,  $\vec{DB} \begin{pmatrix} 5 \\ 5 \\ -4 \end{pmatrix}$  et  $\vec{DC} \begin{pmatrix} -3 \\ -1 \\ -4 \end{pmatrix}$ .

Soit  $\vec{n}_1$  un vecteur de coordonnées (a, b, c).

$\vec{n}_1$  est un vecteur normal au plan (DBC) si :  $\vec{n}_1 \cdot \vec{DB} = \vec{n}_1 \cdot \vec{DC} = 0$  ; c'est-à-dire :  $\begin{cases} 5b - 4c = 0 \\ 3a + b + 4c = 0 \end{cases}$ .

Donc :  $\vec{n}_1 \begin{pmatrix} 8 \\ -4 \\ -5 \end{pmatrix}$  est un vecteur normal au plan (DBC).

On démontre de même que :

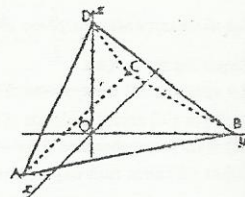
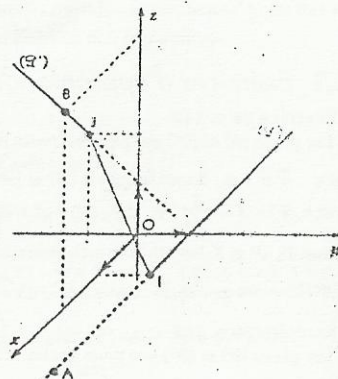
$\vec{n}_2 \begin{pmatrix} 0 \\ -4 \\ 1 \end{pmatrix}$  est un vecteur normal au plan (DCA) et  $\vec{n}_3 \begin{pmatrix} 12 \\ 4 \\ 5 \end{pmatrix}$  est un vecteur normal au plan (DAB).

3. La hauteur (AA') est la droite passant par A et orthogonale au plan (DBC) : elle a pour vecteur directeur  $\vec{n}_1$ .

Une représentation paramétrique de (AA') est :  $\begin{cases} x = 2 + 8\lambda \\ y = -1 - 4\lambda \\ z = -5\lambda \end{cases}$  ( $\lambda \in \mathbb{R}$ ).

$x = 0$

$x = -3 + 12\lambda$



On a de même  $(BB')$  :  $\begin{cases} y = 5 - 4\lambda \\ z = \lambda \end{cases}$  ( $\lambda \in \mathbb{R}$ ) et  $(CC')$  :  $\begin{cases} y = -1 + 4\lambda \\ z = 5\lambda \end{cases}$  ( $\lambda \in \mathbb{R}$ ).

4. Démontrons que la droite  $(AA')$  et l'axe de repère  $(O, \vec{k})$  sont sécants.

Dans la représentation paramétrique de  $(AA')$ , on a :  $x = y = 0$ , pour  $\lambda = -\frac{1}{4}$ .

Donc, le point  $H \begin{pmatrix} 0 \\ 0 \\ 5/4 \end{pmatrix}$  appartient à la droite  $(AA')$ . On vérifie que ce point appartient également aux droites  $(BB')$  et  $(CC')$ . De plus, la droite de repère  $(O, \vec{k})$ , qui passe par H, est la hauteur issue du point D. Donc, les quatre hauteurs du tétraèdre ABCD sont concourantes en H.

♦ Exercice 39 p. 164

1. a) On a :  $I \begin{pmatrix} 1 \\ -1 \\ 2 \end{pmatrix}$ ,  $J \begin{pmatrix} 0 \\ 1 \\ 2 \end{pmatrix}$ ,  $K \begin{pmatrix} -2 \\ 0 \\ 2 \end{pmatrix}$ ;

$\vec{AB} \begin{pmatrix} -2 \\ -2 \\ -4 \end{pmatrix}$ ,  $\vec{AC} \begin{pmatrix} 0 \\ 2 \\ -4 \end{pmatrix}$ ,  $\vec{AD} \begin{pmatrix} -4 \\ 0 \\ -4 \end{pmatrix}$ .

Le plan médiateur de  $[AB]$  est le plan passant par I et de vecteur normal  $\vec{AB}$  :  $M \in (\mathcal{P}_1) \Leftrightarrow \vec{IM} \cdot \vec{AB} = 0$ . On en déduit :

$(\mathcal{P}_1)$  :  $x - y - 2z + 2 = 0$ ;

$(\mathcal{P}_2)$  :  $y - 2z + 3 = 0$ ;

$(\mathcal{P}_3)$  :  $x + z = 0$ .

b) Le système des équations précédentes admet un triplet solution : donc, les plans ont un point commun :  $\Omega \begin{pmatrix} -1 \\ -1 \\ 1 \end{pmatrix}$ .

2. On calcule de même les coordonnées des milieux respectifs  $I'$ ,  $J'$ ,  $K'$  de  $[BC]$ ,  $[CD]$ ,  $[DB]$ , puis les coordonnées de  $\vec{BC}$ ,  $\vec{CD}$ ,  $\vec{DB}$ , vecteurs normaux respectifs des plans médiateurs de ces arêtes.

On trouve :  $I' \begin{pmatrix} 1 \\ 0 \\ 0 \end{pmatrix}$ ,  $J' \begin{pmatrix} -2 \\ 1 \\ 0 \end{pmatrix}$ ,  $K' \begin{pmatrix} -1 \\ -1 \\ 0 \end{pmatrix}$  et  $\vec{BC} \begin{pmatrix} -2 \\ 4 \\ 0 \end{pmatrix}$ ,  $\vec{CD} \begin{pmatrix} -4 \\ -2 \\ 0 \end{pmatrix}$ ,  $\vec{DB} \begin{pmatrix} 6 \\ -2 \\ 0 \end{pmatrix}$ .

Les équations des plans médiateurs de  $[BC]$ ,  $[CD]$ ,  $[DB]$  sont respectivement :

$(\mathcal{P}'_1)$  :  $x - 2y - 1 = 0$  ;  $(\mathcal{P}'_2)$  :  $2x + y + 3 = 0$  ;  $(\mathcal{P}'_3)$  :  $3x - y + 2 = 0$ .

Les coordonnées de  $\Omega$  vérifient les équations de ces équations ; donc  $\Omega$  appartient à ces trois plans.

$\Omega \in (\mathcal{P}'_1) \Rightarrow \Omega A = \Omega B$

On a :  $\Omega \in (\mathcal{P}'_1) \Rightarrow \Omega B = \Omega C$ ;

$\Omega \in (\mathcal{P}'_2) \Rightarrow \Omega C = \Omega D$

donc,  $\Omega$  est le centre d'une sphère passant par les sommets A, B, C et D du tétraèdre. Le rayon de cette sphère est :  $\Omega A = \sqrt{(-1)^2 + (-1)^2 + [1-4]^2} = \sqrt{11}$ .

♦ Exercice 40 p. 164

$\vec{AM} \cdot \vec{v} \Leftrightarrow x + 2y + 3z - 9 = 0$ .

L'ensemble ainsi défini est un plan de vecteur normal  $\vec{v}$ .

♦ Exercice 41 p. 164

$MA^2 - MB^2 = 6 \Leftrightarrow x + 2y - z - 3 = 0$ .

L'ensemble ainsi défini est un plan de vecteur normal  $\vec{u} \begin{pmatrix} 1 \\ 2 \\ -1 \end{pmatrix}$ .

♦ Exercice 42 p. 164

$MA^2 + MB^2 - 2MC^2 = 12 \Leftrightarrow 3x - 4y - z + 6 = 0$ .

L'ensemble ainsi défini est un plan de vecteur normal  $\vec{u} \begin{pmatrix} 3 \\ -4 \\ -1 \end{pmatrix}$ .

♦ Exercice 43 p. 164

1. D'après la figure, on a :  $A \begin{pmatrix} a \\ 0 \\ 0 \end{pmatrix}$ ,  $B \begin{pmatrix} 0 \\ b \\ 0 \end{pmatrix}$ ,  $C \begin{pmatrix} 0 \\ 0 \\ c \end{pmatrix}$ .

$\vec{n} \begin{pmatrix} bc \\ ac \\ ab \end{pmatrix}$  est un vecteur normal au plan  $(ABC)$ .

Une équation du plan  $(ABC)$  est du type :  $bcr + acy + abx + d = 0$ , avec  $d \in \mathbb{R}$ .

Or,  $C \in (ABC)$  ; donc :  $d = -abc$ ;

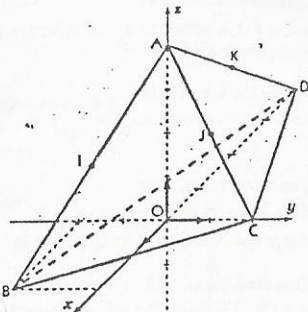
On a :  $bcr + acy + abx - abc = 0 \Leftrightarrow \frac{x}{a} + \frac{y}{b} + \frac{z}{c} = 1$ .

2. H est le projeté orthogonal de O sur  $(ABC)$  ; donc,  $\vec{OH}$  et  $\vec{n}$  ont même direction.

On a :  $H \begin{pmatrix} bc \\ ac \\ ab \end{pmatrix}$  ;  $\vec{AH} \begin{pmatrix} bc-a \\ ac \\ ab \end{pmatrix}$  ;  $\vec{BH} \begin{pmatrix} bc \\ ac-b \\ ab \end{pmatrix}$  ;  $\vec{CH} \begin{pmatrix} bc \\ ac \\ ab-c \end{pmatrix}$ .

3.  $OH^2 = (bc)^2 + (ac)^2 + (ab)^2$  ;  $OA^2 = a^2$  ;  $OB^2 = b^2$  ;  $OC^2 = c^2$ .

Donc :  $\frac{1}{OA^2} + \frac{1}{OB^2} + \frac{1}{OC^2} = \frac{1}{a^2} + \frac{1}{b^2} + \frac{1}{c^2} = \frac{1}{OH^2}$ .



# 9. Fonctions

(pages 165 à 182 du livre de l'élève)

## OBJECTIFS

- Consolider la notion de fonction introduite en classe de Seconde : restriction, prolongement, composition de deux fonctions.
- Aborder les propriétés algébriques des applications : injections, surjections, bijections ; bijection réciproque.
- Mettre en place des notions générales sur les fonctions numériques d'une variable réelle : opérations sur les fonctions, comparaison des fonctions, fonctions associées.

## COMMENTAIRES

- Une application est une fonction définie sur son ensemble de départ.
- Il ne s'agit pas de faire une étude exhaustive des applications et de leurs propriétés. Les notions d'applications injectives, surjectives, bijectives seront introduites par les représentations graphiques d'applications d'une partie de  $\mathbb{R}$  vers  $\mathbb{R}$ , ou par des exemples géométriques déjà connus. Ces notions doivent permettre de formaliser ce qui a été entrevu en seconde, afin de l'exploiter ultérieurement dans des situations précises : dénombrement, géométrie, fonctions.
- Le point précédent implique que ce chapitre soit traité très tôt dans l'année scolaire.
- On pourra à cette occasion introduire des notions de logique, en particulier la contraposée d'une implication (pour démontrer qu'une application est injective).
- On évitera de s'attarder sur des exercices purement algébriques et peu motivants, du genre : démontrer que si  $g \circ f$  est injective alors  $f$  est injective.
- On n'introduira pas la notation  $f^{-1}(A)$  pour l'image réciproque d'un ensemble par une application.

## AVOIS-ET VOUS SAIEZ

### savoirs

#### Généralités

- Notion d'application.
- Restriction, prolongement.

- Composée de deux fonctions.
- Associativité de la composition de deux fonctions.

#### Applications particulières

- Applications injectives, surjectives, bijectives.
- Bijection réciproque d'une bijection
- $f \circ f^{-1} = \text{Id}_E$  et  $f^{-1} \circ f = \text{Id}_F$ .
- Théorème : la composée de deux bijections est une bijection et  $(g \circ f)^{-1} = f^{-1} \circ g^{-1}$ .

#### Fonctions numériques

- Somme, produit, quotient de deux fonctions.
- Représentation graphique des fonctions associées :  
 $x \mapsto -f(x)$  ;  $x \mapsto f(-x)$  ;  $x \mapsto |f(x)|$  ;  
 $x \mapsto f(x-a)$  ;  $x \mapsto f(x)+b$ .
- Définition de fonction minorée, majorée ou bornée sur un ensemble.
- Les courbes représentatives de  $f$  et  $f^{-1}$  sont symétriques par rapport à la première bissectrice.

### savoir-faire

- Démontrer que deux fonctions sont égales.
- Déterminer la restriction d'une application à un ensemble.
- Déterminer un prolongement d'une application à un ensemble.
- Déterminer la composée de deux fonctions.

- Démontrer qu'une application est injective (par contraposée), surjective, bijective.
- Déterminer la bijection réciproque d'une bijection.
- Déterminer la bijection réciproque de la composée de deux bijections.

- Déterminer l'ensemble de définition de la somme, du produit ou du quotient de deux fonctions.
- Construire les courbes représentatives des fonctions associées à  $f$ , connaissant celle de  $f$ .
- Construire les courbes représentatives des fonctions :  
 $x \mapsto ax^2 + bx + c$  et  $x \mapsto \frac{ax+b}{cx+d}$ .
- Construire la courbe représentative de  $f^{-1}$ , connaissant celle de  $f$ .

## LES EXERCICES

### Exercices du cours

♦ Exercice 1.a p. 168

On a :  $f = g = I$ .

♦ Exercice 1.b p. 168

Seules  $f$  et  $h$  sont des applications, car leurs ensembles de définition sont égaux à leurs ensembles de départ respectifs.

♦ Exercice 1.c p. 168

Si  $x \in \{1; 3\}$ , alors  $|x-1| = x-1$  et  $|3-x| = -x+3$ . Donc, on a :  $\mu : \{1; 3\} \rightarrow \mathbb{R}$

$$x \mapsto -x + 3.$$

♦ Exercice 1.d p. 168

1.  $D_f = ]1; +\infty[$  et  $D_g = ]-\infty; -1] \cup ]1; +\infty[$ .

2.  $f$  et  $g$  ont la même restriction sur  $]1; +\infty[$ .

♦ Exercice 1.e p. 168

1.  $g \circ f(x) = -2ax + 3a + b$  et  $f \circ g(x) = -2ax - 2b + 3$ .

2.  $g \circ f(x) = f \circ g(x) \Leftrightarrow a + b = 1$ .

Le couple  $(2; 1)$  convient.

♦ Exercice 1.f p. 168

$f \circ f(x; y) = (10x - 15y; -15x + 25y)$ .

♦ Exercice 2.a p. 172

- 3 a au moins deux antécédents par  $f$  qui sont 12 et 30 ; donc,  $f$  n'est pas injective.
- Tout naturel est la somme des chiffres d'au moins un nombre naturel ; donc,  $f$  est surjective.

♦ Exercice 2.b p. 172

a)  $\forall (x; y) \in \mathbb{N} \times \mathbb{N}$ ,  $f(x) = f(y) \Leftrightarrow 2x - 3 = 2y - 3 \Leftrightarrow x = y$  ; donc,  $f$  est injective.

b)  $\forall x \in \mathbb{R}$ ,  $f(-x) = f(x)$  ; donc,  $f$  n'est pas injective.

c)  $\forall (x; y) \in \mathbb{R} \times \mathbb{R}$ ,  $f(x; y) = f(y; x)$  ; donc,  $f$  n'est pas injective.

♦ Exercice 2.c p. 172

a) Les nombres impairs n'ont pas d'antécédent par  $f$  ; donc,  $f$  n'est pas surjective.

b) Les nombres strictement inférieurs à 1 n'ont pas d'antécédent par  $f$  ; donc,  $f$  n'est pas surjective.

c) 1 n'a pas d'antécédent par  $f$  ; donc,  $f$  n'est pas surjective.

d)  $f$  n'est pas une application de  $\mathbb{R}$  vers  $\mathbb{R}$  ; donc  $f$  n'est pas surjective.

♦ Exercice 2.d p. 172

Soit  $y \in \mathbb{R}$ . L'équation  $f(x) = y$  admet une solution unique, si et seulement si  $a \neq 0$  ;

on a alors :  $x = \frac{y-b}{a}$ . Donc,  $f^{-1}$  est l'application de  $\mathbb{R}$  vers  $\mathbb{R}$  définie par :  $f^{-1}(x) = \frac{x-b}{a}$ .

♦ Exercice 2.e p. 172

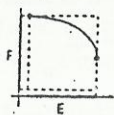
a) Soit  $x \in \mathbb{R}$  et  $y \in \mathbb{R}$ . On a :  $f(x) = y \Leftrightarrow x = \frac{5(y-5)}{2}$  ; donc,  $f$  est une bijection et  $f^{-1}(x) = \frac{5(x-5)}{2}$ .

b) Soit  $y \in \mathbb{R} - \{-2\}$ . On a :  $f(x) = y \Leftrightarrow x = \frac{y-1}{y+2}$ .

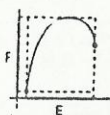
On a :  $y \neq 1$ . L'équation  $f(x) = y$  admet une solution unique dans  $\mathbb{R} - \{-1\}$ . Donc,  $f$  est une bijection.  $f^{-1}$  est l'application de  $\mathbb{R} - \{-2\}$  vers  $\mathbb{R} - \{-1\}$  définie par :  $f^{-1}(x) = \frac{x-1}{x+2}$ .

♦ Exercice 2.f p. 172

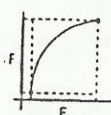
Soit  $f$  l'application de  $E$  vers  $F$ .



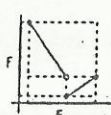
- $f$  est injective.
- $f$  est non surjective.



- $f$  est non injective.
- $f$  est surjective.



$f$  est bijective.



$f$  est bijective...



- $f$  est non injective.
- $f$  est surjective.

♦ Exercice 2.g p. 172

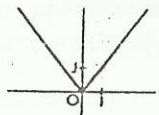
•  $f$  est une surjection de  $K$  vers  $f(K)$ .

• Démontrons que  $f$  est injective.

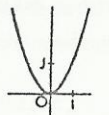
Soit  $a$  et  $b$  deux éléments distincts de  $K$ . On a :  $a < b$  ou  $a > b$ ; supposons  $a > b$ .  $f$  étant strictement croissante sur  $K$ ,  $f(a) > f(b)$ ; donc :  $f(a) \neq f(b)$  et  $f$  est injective. On en déduit que  $f$  est une bijection de  $K$  vers  $f(K)$ .

♦ Exercice 2.h p. 172

a)  $f$  est surjective et non injective.

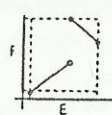


$$f: \mathbb{R} \rightarrow \mathbb{R}^+ \\ x \mapsto |x|$$

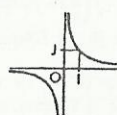


$$f: \mathbb{R} \rightarrow \mathbb{R}^+ \\ x \mapsto x^2$$

b)  $f$  est injective et non surjective.



$$f: E \rightarrow F$$



$$f: \mathbb{R} \rightarrow \mathbb{R}^+ \\ x \mapsto \frac{1}{x}$$

♦ Exercice 3.a p. 178

1. On a :  $D_f = \mathbb{R}^+$  et  $D_g = \mathbb{R}$ .

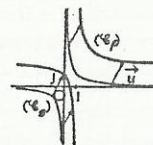
2. On a :  $D_{f+g} = D_f \cap D_g = \mathbb{R}^+$ ;  $\forall x \in \mathbb{R}^+$ ,  $(f+g)(x) = 2x$ .

♦ Exercice 3.b p. 178

1.  $\forall x \in \mathbb{R} - \{1\}$ ,  $\frac{1}{x-1} + 2 = \frac{1+2(x-1)}{x-1} = \frac{2x-1}{x-1} = f(x)$ .

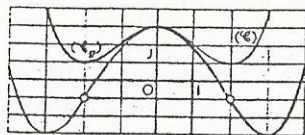
2. Posons :  $g(x) = \frac{1}{x}$ ; on a :  $f(x) = g(x-1) + 2$ .

Donc,  $(\mathcal{C}_f)$  est l'image de  $(\mathcal{C}_g)$  par la translation de vecteur  $\vec{u}(\frac{1}{2})$ .




♦ Exercice 3.c p. 178

a) Posons :  $g(x) = f(-x)$ .  $(\mathcal{C}_g)$  est l'image de  $(\mathcal{C}_f)$  par la symétrie orthogonale d'axe  $(OJ)$ .




On a :  $D_g = [-3; 2[ \cup ]2; 4]$ .

b) Posons :  $h(x) = f(x)$ .  $(\mathcal{C}_h)$  est la réunion des parties des courbes d'équations respectives  $y = f(x)$  et  $y = -f(x)$ , situées « au-dessus » de  $(OJ)$ .



On a :  $D_g = [-4; -2[ \cup ]-2; 3]$ .

c) Posons :  $k(x) = f(x+2)$ .  $(\mathcal{C}_k)$  est l'image de  $(\mathcal{C}_f)$  par la translation de vecteur  $\vec{u}(\frac{2}{0})$ .



On a :  $D_k = [-6; -4[ \cup ]-4; 1]$ .

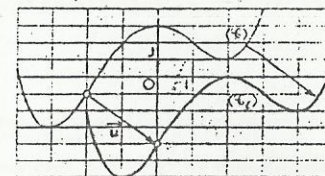
♦ Exercice 3.d p. 178

1. Posons :  $g(x) = x^2$ ; on a :  $f(x) = g(x+4) - 7$ .

Donc,  $(\mathcal{C}_f)$  est l'image de  $(\mathcal{C}_g)$  par la translation de vecteur  $\vec{u}(\frac{-4}{-7})$ .

2.  $\forall x \in \mathbb{R}$ ,  $f(x) \geq -7$ ; donc,  $f$  est minorée par  $-7$ .

d) Posons :  $\ell(x) = f(x-2) - 3$ .  $(\mathcal{C}_\ell)$  est l'image de  $(\mathcal{C}_f)$  par la translation de vecteur  $\vec{u}(\frac{2}{-3})$ .



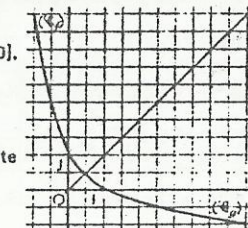
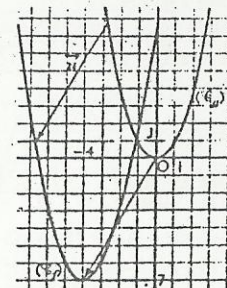
On a :  $D_\ell = [-2; 0[ \cup ]0; 5]$ .

♦ Exercice 3.e p. 178

1. Toute parallèle à l'axe des abscisses, passant par un point de  $[1; 10]$ , coupe la courbe en un unique point d'abscisse appartenant à  $[-2; 1]$ . Donc  $f$  est une bijection de  $[-2; 1]$  vers  $[1; 10]$ .

2.  $\forall x \in [1; 10]$ ,  $f \circ g(x) = f(1 - \sqrt{x-1}) = x$ ; donc :  $f^{-1}(x) = g(x)$ .

3.  $(\mathcal{C}_g)$  est l'image de  $(\mathcal{C}_f)$  par la symétrie orthogonale d'axe la droite d'équation  $y = x$ .



☐ Exercices d'apprentissage

GÉNÉRALITÉS

♦ Exercice 1 p. 179

1. On a :  $D_f = \mathbb{R}$  et  $D_g = \mathbb{R}^*$ ; donc :  $g \neq f$ .

2.  $g$  et  $f$  sont égales sur  $\mathbb{R}^*$ .

♦ Exercice 2 p. 179

$\forall x \in \mathbb{R}$ ,  $f(x) = |(x-2)(x-3)|$ ; donc :  $\forall x \in [2; 3]$ ,  $P(x) = -(x-2)(x-3) = -x^2 + 5x - 6$ .

♦ Exercice 3 p. 179

1.  $D_f = \mathbb{R} - \{1\}$ .

2. L'application affine ayant même restriction que  $f$  sur  $D_f$  est  $g : x \mapsto 3x + 1$ .

♦ Exercice 4 p. 179

1.  $\forall x \in \mathbb{R}$ ,  $E(x) \leq x < E(x) + 1$ ; donc :  $D_f = \mathbb{R} - \mathbb{Z}$ .

2. a)  $\forall x \in ]n; n+1[$ ,  $x - E(x) > 0$ ; donc,  $D_g = ]n; n+1[$  et  $g$  est une application.

b)  $\forall x \in ]n; n+1[$ ,  $g(x) = \frac{1}{\sqrt{x-n}}$ .

◆ Exercice 5 p. 179

Un prolongement de  $f$  à  $\mathbb{R}$  est la fonction constante :  $x \mapsto -1$ .

◆ Exercice 6 p. 179

1.  $S_0 \circ S_0 = \text{Id}$ .

$$2. t_{\vec{v}} \circ t_{\vec{u}} = t_{\vec{u} + \vec{v}}.$$

◆ Exercice 7 p. 179

1. Soit  $M$  un point du plan. Posons :  $S_O(M) = M'$  et  $S_{O'}(M') = M''$ ; on a :  $S_O \circ S_{O'}(M) = M''$ .

$$\text{Or : } \overrightarrow{MM''} = 2\overrightarrow{OM'} + 2\overrightarrow{M'O} = 2\overrightarrow{OO'} \Rightarrow M'' = t_{2\overrightarrow{OO'}}(M).$$

On en déduit :  $S_O \circ S_{O'} = t_{2\overrightarrow{OO'}}$ .

$$2. t_{2\overrightarrow{OO'}} = S_{O'} \circ S_O.$$

◆ Exercice 8 p. 179

a) On a :  $D_{g \circ f} = \mathbb{R} - \{-3; -2\}$ .

$$\forall x \in \mathbb{R} - \{-3; -2\}, g \circ f(x) = g(5+2x) = \frac{(5+2x)^2 + 1}{(5+2x)^2 - 1} = \frac{2x^2 + 10x + 3}{2x^2 + 10x + 12}.$$

b) On a :  $D_{g \circ f} = \mathbb{R} - \{0; 1\}$ .

$$\forall x \in \mathbb{R} - \{0; 1\}, g \circ f(x) = g((2x; 1-x)) = \left(\frac{1}{2x}; \frac{1-2x}{1-x}\right).$$

◆ Exercice 9 p. 179

Soit  $g : x \mapsto ax + b$  une application affine. On a :  $g \circ f(x) = f \circ g(x) \Leftrightarrow b = 6a - 6$ .

Donc,  $g \circ f = f \circ g$  pour les applications affines  $g$  de la forme :  $g(x) = ax + 6a - 6$  ( $a \in \mathbb{R}$ ).

◆ Exercice 10 p. 179

$$1. \text{ On a : } D_{h \circ g \circ f} = \mathbb{R} - \left\{ \frac{1+\sqrt{5}}{2}; \frac{1-\sqrt{5}}{2} \right\}, \forall x \in D_{h \circ g \circ f}, h \circ g \circ f(x) = \frac{1}{4(x^2 - x - 1)}.$$

$$2. \text{ On a : } D_{g \circ h \circ f} = \mathbb{R} - \{2\}, \forall x \in \mathbb{R} - \{2\}, g \circ h \circ f(x) = \frac{1}{4(x-2)^2} - 2.$$

◆ Exercice 11 p. 179

Soit  $u : x \mapsto \frac{1}{x}$ ;  $v : x \mapsto x^2$  et  $w : x \mapsto x - 1$ . On a :  $f = u \circ v \circ w$ .

#### APPLICATIONS PARTICULIÈRES

◆ Exercice 12 p. 179

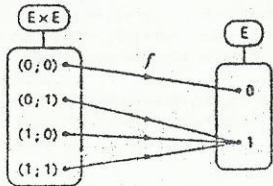
• On a :  $f(1) = \frac{1+1}{2} = 1$  et  $f(2) = \frac{2}{2} = 1$ ; donc,  $f$  n'est pas injective.

•  $\forall p \in \mathbb{N}, f(2p) = \frac{2p}{2} = p, f(0) = 0$  et  $\forall p \in \mathbb{N}^*, f(2p-1) = \frac{(2p-1)+1}{2} = p$ .

Donc tout entier naturel  $p$  a pour antécédents  $2p$  et  $2p-1$  s'il est non nul;  $f$  est surjective.

◆ Exercice 13 p. 179

1. On a :



Donc,  $f$  est une application de  $E \times E$  vers  $E$ .

2.  $f$  est surjective et non injective.

◆ Exercice 14 p. 179

Soit  $f^{-1}$  la réciproque de la bijection  $f$ . On a :  $f \circ f = f \Rightarrow (f \circ f) \circ f^{-1} = f \circ f^{-1}$ ; donc :  $f = \text{Id}_E$ .

◆ Exercice 15 p. 179

a) • On a :  $f(1) = f\left(\frac{3}{2}\right) = 1$ ; donc,  $f$  n'est pas injective. On en déduit que  $f$  n'est pas bijective.

• Pour tout  $x \in \mathbb{Z}$ , il existe  $x \in \mathbb{R}$  tel que  $x \leq x < x+1$  et  $E(x) = x$ .

On en déduit que tout entier a au moins un antécédent par  $f$ ; donc,  $f$  est surjective.

b) • On a :  $f(x) = x(2x+3)$ ; donc,  $f(0) = f\left(-\frac{3}{2}\right) = 0$  et  $f$  n'est pas injective.  $f$  n'est pas bijective.

• On a :  $f(x) = 2\left[\left(x + \frac{3}{4}\right)^2 - \frac{9}{16}\right]$ ; donc :  $\forall x \in \mathbb{R}, f(x) \geq -\frac{9}{8}$ .

Un nombre réel strictement inférieur à  $-\frac{9}{8}$  n'a pas d'antécédent par  $f$ ; donc,  $f$  n'est pas surjective.

c) L'équation  $f((x; y)) = (a; b)$  admet la solution unique  $(a+b-3; b-3)$ ; donc,  $f$  est bijective.

d) • Le nombre 1 n'a pas d'antécédent par  $f$ ; donc,  $f$  n'est pas surjective.

• Soit  $a$  et  $b$  deux éléments de  $\mathbb{R} - \{2\}$ .

On a :  $f(a) = f(b) \Leftrightarrow ab - 2a + b - 2 = ab - 2b + a - 2 \Leftrightarrow a = b$ . Donc,  $f$  est injective.

e) • On a :  $f\left(\frac{\pi}{3}\right) = f\left(\frac{2\pi}{3}\right) = \frac{\sqrt{3}}{2}$ ; donc,  $f$  n'est pas injective. On en déduit que  $f$  n'est pas bijective.

• Soit  $y \in ]0; 1[$ . L'équation  $\sin x = y$  admet au moins une solution dans  $]0; \pi[$ ; donc,  $f$  est surjective.

◆ Exercice 16 p. 179

a) Soit  $y \in \mathbb{R}$ . L'équation  $f(x) = y$  admet la solution unique :  $x = \frac{-y+5}{3}$ .

Donc  $f$  est bijective et  $f^{-1}(x) = \frac{-x+5}{3}$ .

b)  $f$  est bijective et  $f^{-1}(x) = \frac{4x-1}{2x-4}$ .

c)  $f$  est bijective et  $f^{-1}((x; y)) = \left(\frac{3x+2y}{5}; \frac{-x+y}{5}\right)$ .

◆ Exercice 17 p. 180

a) Un nombre impair n'a pas d'antécédent par  $f$ ; donc,  $f$  n'est pas surjective.  $f$  n'est pas bijective.

b)  $f$  est bijective et  $f^{-1}(x) = \frac{1}{x-1}$ .

c) On a :  $f(0) = f(-1) = 0$ ; donc,  $f$  n'est pas injective. On en déduit que  $f$  n'est pas bijective.

résolvons dans  $\mathbb{R}$  l'équation :  $f(x) = (a; b)$ .

d) Soit  $(a; b) \in \mathbb{R} \times \mathbb{R}$ . On a :  $f(x) = (a; b) \Leftrightarrow x = \frac{a}{2} = \frac{b}{3}$  et  $b = \frac{3}{2}a$ .

Donc, un couple qui n'est pas de la forme  $\left(a; \frac{3a}{2}\right)$ , n'a pas d'antécédent par  $f$ ; on en déduit que  $f$  n'est pas surjective. Par suite,  $f$  n'est pas bijective.

◆ Exercice 18 p. 180

1.  $f$ , composée de deux bijections, est une bijection.

2. On a :  $(s \circ t) \circ (t^{-1} \circ s^{-1}) = \text{Id}_E$  et  $(s \circ t) \circ (t^{-1} \circ s^{-1}) \circ (s \circ t) = \text{Id}_E$ . Donc :  $f^{-1} = t^{-1} \circ s^{-1} = t_{-\vec{u}} \circ s$ .

◆ Exercice 19 p. 180

1. Soit  $M \neq O$ .

$$\text{On a : } M' \in \{\text{OM}\} \text{ et } \overrightarrow{OM} \circ \overrightarrow{OM'} = 2 \Leftrightarrow \overrightarrow{OM'} = \frac{2}{\text{OM}}.$$

Donc,  $M'$  existe et est unique.

On en déduit que :  $\overrightarrow{OM'} \neq \vec{0}$ ; c'est-à-dire :  $M' \neq O$ .

2. D'après la question 1 :  $D_f = \mathcal{P} - \{O\}$ .

$$\text{Soit } A \in \mathcal{P} - \{O\}. \text{ On a : } f(M) = A \Leftrightarrow \overrightarrow{OM} = \frac{2}{\text{OA}}.$$

L'équation  $f(M) = A$  a une solution unique; donc,  $f$  est bijective. On a :  $f^{-1} = f$ .

**FONCTIONS NUMÉRIQUES**

◆ Exercice 20 p. 180

a) On a :  $D_f = \mathbb{R} - \{1\}$  et  $D_g = \mathbb{R} - \{-1\}$ .

•  $D_{2f-3g} = \mathbb{R} - \{-1; 1\}$ .  $\forall x \in \mathbb{R} - \{-1; 1\}$ ,  $(2f-3g)(x) = \frac{-3x^3 + 6x^2 - x + 2}{x^2 - 1}$ .

•  $D_{f \times g} = \mathbb{R} - \{-1; 1\}$ .  $\forall x \in \mathbb{R} - \{-1; 1\}$ ,  $(f \times g)(x) = \frac{x}{x+1}$ .

•  $D_{\frac{f}{g}} = \mathbb{R} - \{-1; 0; 1\}$ .  $\forall x \in \mathbb{R} - \{-1; 0; 1\}$ ,  $(\frac{f}{g})(x) = \frac{x+1}{x(x-1)^2}$ .

b) On a :  $D_f = \mathbb{R} - \{-2; 2\}$  et  $D_g = \mathbb{R} - \{-2\}$ .

•  $D_{2f-3g} = \mathbb{R} - \{-2; 2\}$ .  $\forall x \in \mathbb{R} - \{-2; 2\}$ ,  $(2f-3g)(x) = \frac{-3x^3 + 12x^2 - 20x}{x^2 - 4}$ .

•  $D_{f \times g} = \mathbb{R} - \{-2; 2\}$ .  $\forall x \in \mathbb{R} - \{-2; 2\}$ ,  $(f \times g)(x) = \frac{-4x^2}{(x+2)^2}$ .

•  $D_{\frac{f}{g}} = \mathbb{R} - \{-2; 0; 2\}$ .  $\forall x \in \mathbb{R} - \{-2; 0; 2\}$ ,  $(\frac{f}{g})(x) = \frac{-4}{(x-2)^2}$ .

c) On a :  $D_f = \mathbb{R} - \{0; 1\}$  et  $D_g = \mathbb{R} - \{-1; 0\}$ .

•  $D_{2f-3g} = \mathbb{R} - \{-1; 0; 1\}$ .  $\forall x \in \mathbb{R} - \{-1; 0; 1\}$ ,  $(2f-3g)(x) = \frac{2(x+1)}{x-1} - \frac{3(x-1)}{x^2-x+1}$ .

•  $D_{f \times g} = \mathbb{R} - \{-1; 0; 1\}$ .  $\forall x \in \mathbb{R} - \{-1; 0; 1\}$ ,  $(f \times g)(x) = \frac{x+1}{x^2-x+1}$ .

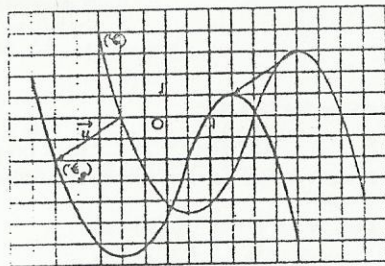
•  $D_{\frac{f}{g}} = \mathbb{R} - \{-1; 0; 1\}$ .  $\forall x \in \mathbb{R} - \{-1; 0; 1\}$ ,  $(\frac{f}{g})(x) = \frac{x^2+1}{(x-1)^2}$ .

◆ Exercice 21 p. 180

1. On a :  $-\frac{3}{2} \leq x + \frac{3}{2} \leq \frac{9}{2} \Leftrightarrow -3 \leq x \leq 3$ ;

donc :  $D_g = [-3; 3]$ .

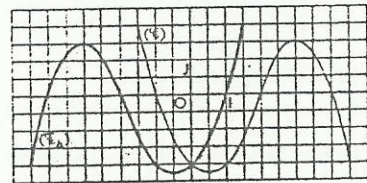
$(\mathcal{C}_g)$  est l'image de  $(\mathcal{C})$  par la translation de vecteur  $\vec{u} \left( -\frac{3}{2} \right)$ .



2. a) On a :  $-\frac{3}{2} \leq -x \leq \frac{9}{2}$   
 $\Leftrightarrow -\frac{9}{2} \leq -x \leq \frac{3}{2}$ ;

donc :  $D_k = [-\frac{9}{2}; \frac{3}{2}]$ .

$(\mathcal{C}_k)$  est l'image de  $(\mathcal{C})$  par la symétrie orthogonale d'axe (OJ).



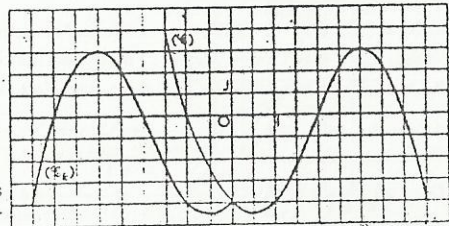
b) Posons :  $k(x) = f(|x|)$ .

On a :  $k(x) = \begin{cases} f(x), & \text{si } x \geq 0 \\ f(-x), & \text{si } x \leq 0 \end{cases}$

$-\frac{3}{2} \leq |x| \leq \frac{9}{2} \Leftrightarrow 0 \leq |x| \leq \frac{9}{2} \Leftrightarrow -\frac{9}{2} \leq x \leq \frac{9}{2}$ ;

donc :  $D_k = [-\frac{9}{2}; \frac{9}{2}]$ .

$(\mathcal{C}_k)$  est la réunion de la partie de  $(\mathcal{C})$  d'abscisses positives et de la partie de  $(\mathcal{C}_k)$  d'abscisses négatives.

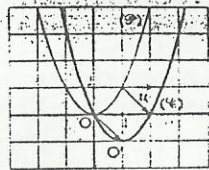


◆ Exercice 22 p. 180

1. a)  $\forall x \in \mathbb{R}$ ,  $(x-1)^2 - 1 = x^2 - 2x + 1 - 1 = x^2 - 2x = f(x)$ .

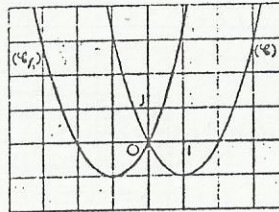
b) Soit  $(\mathcal{P})$  la parabole d'équation :  $y = x^2$ .

$(\mathcal{C})$  est l'image de  $(\mathcal{P})$  par la translation de vecteur  $\vec{u} \left( 1 \right)$ .



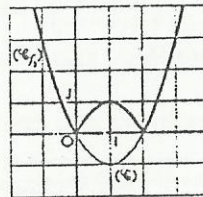
2. • On a :  $f_1(x) = f(-x)$ .

Donc,  $(\mathcal{C}_{f_1})$  est l'image de  $(\mathcal{C})$  par la symétrie orthogonale d'axe (OJ).



• On a :  $f_2(x) = |f(x)|$ .

Donc,  $(\mathcal{C}_{f_2})$  est la réunion des parties des courbes d'équations respectives  $y = f(x)$  et  $y = -f(x)$ , situées « au-dessus » de (OJ).



◆ Exercice 23 p. 180

1. a)  $D_f = \mathbb{R} - \{3\}$ .

b)  $\forall x \in \mathbb{R} - \{3\}$ ,  $f(x) = \frac{2(x-3)+1}{x-3} = \frac{1}{x-3} + 2$ .

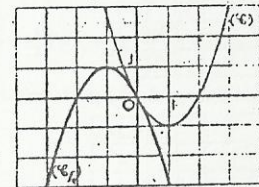
2. Posons :  $g(x) = \frac{1}{x}$ ; on a :  $f(x) = g(x-3) + 2$ .

Donc,  $(\mathcal{C})$  est l'image de  $(\mathcal{C}_g)$  par la translation  $t_{\vec{u}}$  de vecteur  $\vec{u} \left( \frac{3}{2} \right)$ .

$(\mathcal{C}_g)$  est une hyperbole de centre O ; donc,  $(\mathcal{C})$  est une hyperbole de centre O', image de O par  $t_{\vec{u}}$ .

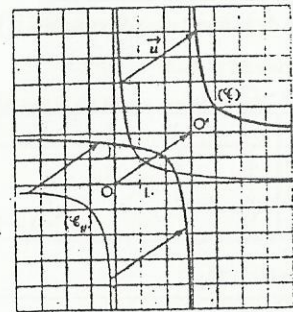
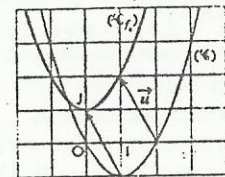
• On a :  $f_2(x) = -f(-x) = -f_1(x)$ .

Donc,  $(\mathcal{C}_{f_2})$  est l'image de  $(\mathcal{C}_{f_1})$  par la symétrie orthogonale d'axe (OJ). On en déduit que  $(\mathcal{C}_{f_2})$  est l'image de  $(\mathcal{C})$  par la symétrie de centre O.



• On a :  $f_4(x) = f(x+1) + 2$ .

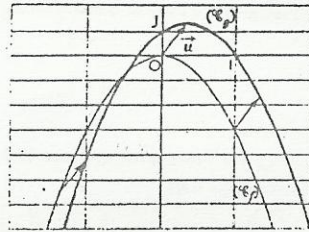
Donc,  $(\mathcal{C}_{f_4})$  est l'image de  $(\mathcal{C})$  par la translation de vecteur  $\vec{u} \left( -\frac{1}{2} \right)$ .



♦ Exercice 24 p. 180

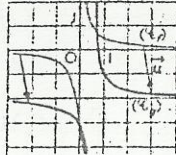
a)  $\forall x \in \mathbb{R}, g(x) = -3(x - \frac{1}{3})^2 + \frac{4}{3} = f(x - \frac{1}{3}) + \frac{4}{3}$

Donc,  $(\mathcal{C}_g)$  est l'image de  $(\mathcal{C}_f)$  par la translation de vecteur  $\vec{u} \begin{pmatrix} \frac{1}{3} \\ \frac{4}{3} \end{pmatrix}$ .



b)  $\forall x \in \mathbb{R}, g(x) = \frac{1}{2(x - \frac{1}{2})} - 2 = f(x - \frac{1}{2}) - 2$

Donc,  $(\mathcal{C}_g)$  est l'image de  $(\mathcal{C}_f)$  par la translation de vecteur  $\vec{u} \begin{pmatrix} \frac{1}{2} \\ -2 \end{pmatrix}$ .

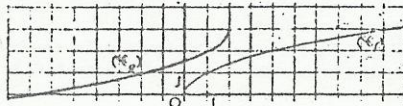


c)  $\forall x \in ]-\infty; 2], g(x) = -f(2-x) + 3 = -f(-(x-2)) + 3$

Donc,  $(\mathcal{C}_g)$  est l'image de  $(\mathcal{C}_f)$  par la composée de :

- la symétrie centrale de centre O,

- suivie de la translation de vecteur  $\vec{u} \begin{pmatrix} 2 \\ 3 \end{pmatrix}$ .



d)  $\forall x \in \mathbb{R}, g(x) = \begin{cases} -f(-(x-2)) + 3, & \text{si } x \leq 2 \\ -f(x-2) + 3, & \text{si } x \geq 2 \end{cases}$

Donc,  $(\mathcal{C}_g)$  est la réunion de deux parties qui se déduisent de la courbe  $(\mathcal{C}_f)$ .

• Sur  $]-\infty; 2]$ ,  $(\mathcal{C}_g)$  est l'image de  $(\mathcal{C}_f)$  par la composée de :

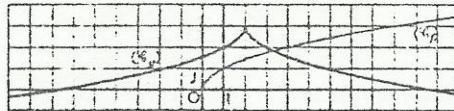
- la symétrie centrale de centre O,

- suivie de la translation de vecteur  $\vec{u} \begin{pmatrix} 2 \\ 3 \end{pmatrix}$ .

• Sur  $[2; +\infty[$ ,  $(\mathcal{C}_g)$  est l'image de  $(\mathcal{C}_f)$  par la composée de :

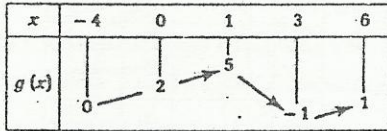
- la symétrie orthogonale d'axe (OI),

- suivie de la translation de vecteur  $\vec{u} \begin{pmatrix} 2 \\ 3 \end{pmatrix}$ .

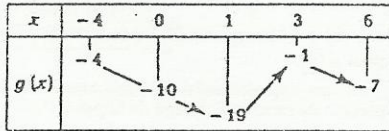


♦ Exercice 25 p. 180

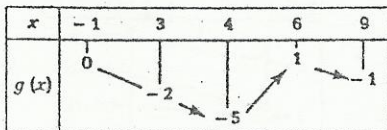
a)  $g(x) = -f(x)$



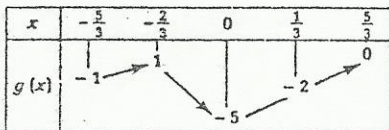
b)  $g(x) = 3f(x) - 4$



c)  $g(x) = f(x-3)$



d)  $g(x) = f(1-3x)$



♦ Exercice 26 p. 180

1. On représentera  $(\mathcal{C}_g)$  à la question 2.

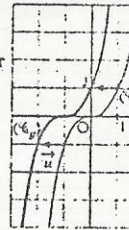
2. a)  $\forall x \in \mathbb{R}, g(x) = f(x) + 1$

Donc,  $(\mathcal{C}_g)$  est l'image de  $(\mathcal{C}_f)$  par la translation de vecteur  $\vec{u} \begin{pmatrix} 0 \\ 1 \end{pmatrix}$ .



c)  $\forall x \in \mathbb{R}, g(x) = (x+1)^3 = f(x+1)$

Donc,  $(\mathcal{C}_g)$  est l'image de  $(\mathcal{C}_f)$  par la translation de vecteur  $\vec{u} \begin{pmatrix} -1 \\ 0 \end{pmatrix}$ .




b)  $\forall x \in \mathbb{R}, g(x) = x^3 - 1 = f(x) - 1$

Donc,  $(\mathcal{C}_g)$  est l'image de  $(\mathcal{C}_f)$  par la translation de vecteur  $\vec{u} \begin{pmatrix} 0 \\ -1 \end{pmatrix}$ .



d)  $\forall x \in \mathbb{R}, g(x) = (x-1)^4 + 3 = f(x-1) + 3$

Donc,  $(\mathcal{C}_g)$  est l'image de  $(\mathcal{C}_f)$  par la translation de vecteur  $\vec{u} \begin{pmatrix} 1 \\ 3 \end{pmatrix}$ .



♦ Exercice 27 p. 180

1.  $\forall x \in \mathbb{R} - \{-\frac{1}{2}, \frac{1}{2}\}, f(x) - g(x) = \frac{-6x+2}{(2x+1)(2x-1)}$

Le signe de  $f(x) - g(x)$  est donné par le tableau ci-contre.

Donc :  $\forall x \in ]-\infty; -\frac{1}{2}[$ ,  $f(x) > g(x)$  ;  
 $\forall x \in ]\frac{1}{2}; +\infty[$ ,  $f(x) < g(x)$ .

2.  $S = ]-\frac{1}{2}; 0]$

x	$-\infty$	$-\frac{1}{2}$	$\frac{1}{2}$	$+\infty$		
$(2x-1)(2x+1)$	+	0	-	0	+	
$-6x+2$	+	+	0	-	-	
$f(x) - g(x)$	+		-	0	+	-

♦ Exercice 28 p. 181

1.  $\forall x \in \mathbb{R}, f(x) = \frac{x^2+1}{x^2+3} = \frac{(x^2+3)-2}{x^2+3} = 1 - \frac{2}{x^2+3}$

2. On en déduit que :  $\forall x \in \mathbb{R}, \frac{1}{3} \leq f(x) < 1$ . Donc,  $f$  est bornée sur  $\mathbb{R}$ .

♦ Exercice 29 p. 181

1. On a :  $\forall x \in ]-\infty; -1[, f(x) > -4$ ; donc,  $f$  est minorée sur  $]-\infty; -1[$  par  $-4$ .

$\forall x \in ]-1; +\infty[, f(x) \leq 1$ ; donc,  $f$  est majorée sur  $]-1; +\infty[$  par  $1$ .

2. On a :  $\forall x \in ]-1; 3[, -4 < f(x) \leq 1$ ; donc,  $f$  est bornée sur  $]-1; 3[$ .

♦ Exercice 30 p. 181

On a :  $\forall x \in \mathbb{R}, -1 - 4x^2 + 1 \leq \frac{\sin x + 3\cos x}{x^2+1} \leq 4x^2 + 1$ .

Or :  $1 \geq \frac{1}{x^2+1} > 0 \Rightarrow -4 \leq -\frac{4}{x^2+1}$  et  $\frac{4}{x^2+1} \leq 4$ ; donc,  $\forall x \in \mathbb{R}, -4 \leq f(x) \leq 4$ .

On en déduit que  $f$  est bornée sur  $\mathbb{R}$ .

♦ Exercice 31 p. 181

1.  $f(x) > M \Leftrightarrow x > \frac{M+1}{2}$ .

Donc :  $\forall M \in \mathbb{R}, \exists x > \frac{M+1}{2} / f(x) > M$  ; c'est-à-dire,  $f$  n'est pas majorée sur  $\mathbb{R}$ .

2.  $f(x) < m \Leftrightarrow x < \frac{m+1}{2}$ .

Donc :  $\forall m \in \mathbb{R}, \exists x < \frac{m+1}{2} / f(x) < m$  ; c'est-à-dire,  $f$  n'est pas minorée sur  $\mathbb{R}$ .

♦ Exercice 32 p. 181

1. a)  $f(x) = \frac{2(x+3)-6}{x+3} = 2 - \frac{6}{x+3}$ .

b) Soit  $M \in \mathbb{R}$ .

- Si  $M = 2, f(x) > 2 \Leftrightarrow x < -3$ .

- Si  $M \neq 2, f(x) > M \Leftrightarrow \begin{cases} x > -3 \\ x > \frac{3M}{2-M} \end{cases} \Leftrightarrow x > \text{Sup} \left( -3 ; \frac{3M}{2-M} \right)$ .

Donc :  $\forall M \in \mathbb{R}, \exists x > \frac{3M}{2-M} / f(x) > M$  ; c'est-à-dire,  $f$  n'est pas majorée sur  $\mathbb{R}$ .

c) Soit  $m \in \mathbb{R}$ .

- Si  $m = 2, f(x) < 2 \Leftrightarrow x > -3$ .

- Si  $m \neq 2, f(x) < m \Leftrightarrow \begin{cases} x > -3 \\ x < \frac{3m}{2-m} \end{cases} \Leftrightarrow x \in ]-3 ; \frac{3m}{2-m}[$ .

Donc :  $\forall m \in \mathbb{R}, \exists x < \frac{3m}{2-m} / f(x) < m$  ; c'est-à-dire,  $f$  n'est pas minorée sur  $\mathbb{R}$ .

d)  $\forall x \in [-1 ; 1], -1 \leq f(x) \leq \frac{1}{2}$  ; donc,  $f$  est bornée sur  $[-1 ; 1]$ .

2. a) On a :  $\forall x \in \mathbb{R}, 2 \leq 3 + \cos x \leq 4$  ; donc :  $D_g = \mathbb{R}$ .

b) Posons :  $t = \cos x$ .

On a :  $x \in \mathbb{R} \Leftrightarrow t \in [-1 ; 1]$  et  $g(x) = f(\cos x) = f(t)$ .

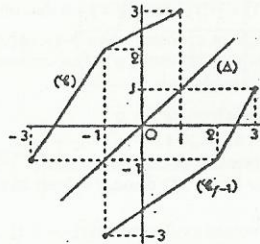
Or :  $\forall t \in [-1 ; 1], -1 \leq f(t) \leq \frac{1}{2}$  ; donc :  $\forall x \in \mathbb{R}, -1 \leq g(x) \leq \frac{1}{2}$ . Par suite,  $g$  est bornée sur  $\mathbb{R}$ .

♦ Exercice 33 p. 181

1. On a :  $f(x) = \begin{cases} \frac{3}{2}x + \frac{7}{2}, & \text{si } x \in [-3 ; -1] \\ \frac{1}{2}x + \frac{5}{2}, & \text{si } x \in [-1 ; 1] \end{cases}$

2. Toute parallèle à l'axe des abscisses, passant par un point d'ordonnée appartenant à  $[-1 ; 3]$ , coupe la courbe en un unique point d'abscisse appartenant à  $[-3 ; 1]$ . Donc  $f$  est une bijection de  $[-3 ; 1]$  vers  $[-1 ; 3]$ .

3.  $(\mathcal{C}_{f^{-1}})$  est l'image de  $(\mathcal{C})$  par la symétrie orthogonale d'axe la droite  $(\Delta)$  d'équation :  $y = x$ .



♦ Exercice 34 p. 181

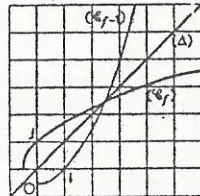
1. Soit  $x \in [-\frac{1}{2} ; +\infty[$ .

On a :  $f(x) = y \Leftrightarrow \begin{cases} x \geq -\frac{1}{2} \\ \sqrt{2x+1} = y \end{cases} \Leftrightarrow \begin{cases} x = \frac{y^2-1}{2} \\ y \geq 0 \end{cases}$

L'équation  $f(x) = y$  a une solution unique dans  $[-\frac{1}{2} ; +\infty[$  ; donc,  $f$  est bijective et :  $\forall x \in ]0 ; +\infty[, f^{-1}(x) = \frac{x^2-1}{2}$ .

2.  $(\mathcal{C}_{f^{-1}})$  est une branche de parabole.

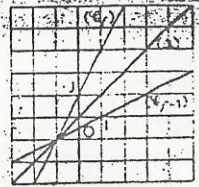
$(\mathcal{C}_f)$  est l'image de  $(\mathcal{C}_{f^{-1}})$  par la symétrie orthogonale d'axe la droite  $(\Delta)$  d'équation :  $y = x$ .



♦ Exercice 35 p. 181

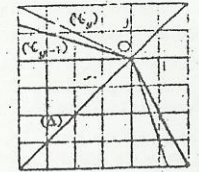
1. a)  $f$  est une bijection de  $\mathbb{R}$  vers  $\mathbb{R}$  et :  $\forall x \in \mathbb{R}, f^{-1}(x) = \frac{x-1}{2}$ .

$(\mathcal{C}_f)$  est l'image de  $(\mathcal{C}_{f^{-1}})$  par la symétrie orthogonale d'axe la droite  $(\Delta)$  d'équation :  $y = x$ .



$g$  est une bijection de  $\mathbb{R}$  vers  $\mathbb{R}$  et :  $\forall x \in \mathbb{R}, g^{-1}(x) = \begin{cases} -2x, & \text{si } x \geq 0 \\ -\frac{1}{3}x, & \text{si } x < 0 \end{cases}$

$(\mathcal{C}_g)$  est l'image de  $(\mathcal{C}_{g^{-1}})$  par la symétrie orthogonale d'axe la droite  $(\Delta)$  d'équation  $y = x$ .



2. a) On a :  $g \circ f(x) = g(2x+1)$  ; donc :

- si  $2x+1 \leq 0, g(2x+1) = -\frac{1}{2}(2x+1)$  ;

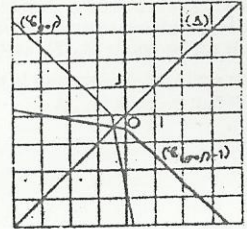
- si  $2x+1 > 0, g(2x+1) = -3(2x+1)$ .

Donc :  $g \circ f(x) = \begin{cases} -x - \frac{1}{2}, & \text{si } x \leq -\frac{1}{2} \\ -6x - 3, & \text{si } x > -\frac{1}{2} \end{cases}$

• On a :  $(g \circ f)^{-1} = f^{-1} \circ g^{-1}$ .

Donc :  $(g \circ f)^{-1}(x) = \begin{cases} -\frac{1}{6}x - \frac{1}{2}, & \text{si } x < 0 \\ -x - \frac{1}{2}, & \text{si } x \geq 0 \end{cases}$

$(\mathcal{C}_{(g \circ f)^{-1}})$  est l'image de  $(\mathcal{C}_{g \circ f})$  par la symétrie orthogonale d'axe la droite  $(\Delta)$  d'équation :  $y = x$ .



□ Exercices d'approfondissement

♦ Exercice 36 p. 181

1. •  $x \in D_{(f \circ g) \circ h} \Leftrightarrow x \in D_h$  et  $h(x) \in D_{f \circ g} \Leftrightarrow x \in D_h$  et  $h(x) \in D_f \cap D_g$

•  $x \in D_{(f \circ h) \circ (g \circ h)} \Leftrightarrow x \in D_{f \circ h} \cap D_{g \circ h}$

$\Leftrightarrow \begin{cases} x \in D_h \text{ et } h(x) \in D_f \\ x \in D_h \text{ et } h(x) \in D_g \end{cases} \Leftrightarrow x \in D_h \text{ et } h(x) \in D_f \cap D_g$

Donc :  $D_{(f \circ g) \circ h} = D_{(f \circ h) \circ (g \circ h)}$

• On a :  $\forall x \in D_{(f \circ g) \circ h}, ((f \circ g) \circ h)(x) = (f \circ g)(h(x)) = f(h(x)) + g(h(x)) = f \circ h(x) + g \circ h(x) = (f \circ h + g \circ h)(x)$ .

Donc :  $(f \circ g) \circ h = f \circ h + g \circ h$ .

2. On a :  $D_{(f \circ g) \circ h} = D_{(f \circ h) \circ (g \circ h)} = \mathbb{R} - \{1 ; 2\}$ .

•  $\forall x \in \mathbb{R} - \{1 ; 2\}, h \circ (f \circ g)(x) = \left( \frac{2x+1}{x-2} + \frac{x-3}{x-1} \right)^2$ .

•  $\forall x \in \mathbb{R} - \{1 ; 2\}, (h \circ f + h \circ g)(x) = \left( \frac{2x+1}{x-2} \right)^2 + \left( \frac{x-3}{x-1} \right)^2$ .

Généralement,  $(a+b)^2 \neq a^2 + b^2$  ; donc :  $h \circ (f \circ g) \neq h \circ f + h \circ g$ .

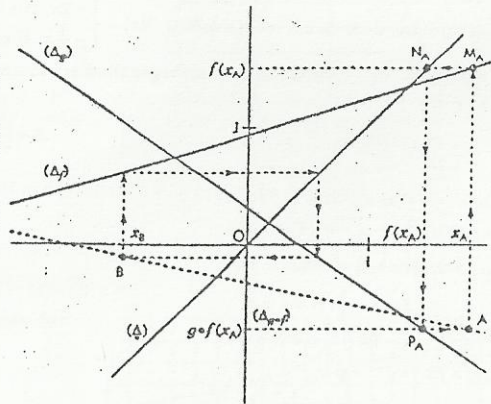
◆ Exercice 37 p. 181

1. Soit  $a, b, a'$  et  $b'$  des nombres réels tels que :  $f(x) = ax + b$  et  $g(x) = a'x + b'$ .  
On a :  $g \circ f(x) = g(ax + b) = aa'x + (a'b + b')$  ;  $aa'$  et  $(a'b + b')$  sont des nombres réels, donc  $g \circ f$  est affine.
2. La représentation graphique de  $g \circ f$  est une droite  $(\Delta_{g \circ f})$ .  
Donc, pour construire  $(\Delta_{g \circ f})$ , il suffit de construire deux points A et B de  $(\Delta_{g \circ f})$ .

Soit  $(\Delta)$  la droite d'équation  $y = x$ .  
Pour construire le point A d'abscisse  $x_A$  :

- on détermine le point  $M_A$  de  $(\Delta_f)$  d'abscisse  $x_A$ , puis le point  $N_A$  de  $(\Delta)$  ayant même ordonnée  $f(x_A)$  que  $M_A$  ;
- l'abscisse  $f(x_A)$  du point  $N_A$  de  $(\Delta)$  est également celle du point  $P_A$  de  $(\Delta_g)$  ayant même ordonnée  $g \circ f(x_A)$  que A ;
- on détermine le point  $P_A$ , puis le point A qui est le quatrième sommet du rectangle construit sur les points  $M_A, N_A$  et  $P_A$ .

De façon analogue, on construit le point B.  
On en déduit la droite  $(\Delta_{g \circ f})$ .



◆ Exercice 38 p. 181

1. Soit  $A \subset B$  et  $y \in f(A)$ .  
On a :  $y \in f(A) \Rightarrow \exists x \in A, f(x) = y$  ; or  $x \in A \Rightarrow x \in B$  ; donc  $f(x) \in f(B)$ , c'est-à-dire  $y \in f(B)$ .  
On en déduit que :  $f(A) \subset f(B)$ .

2. • On a :  $y \in f(A \cup B) \Rightarrow \exists x \in A \cup B, f(x) = y$   
 $\Rightarrow \exists x \in A$  ou  $x \in B, f(x) = y$   
 $\Rightarrow y \in f(A)$  ou  $y \in f(B)$ .

Donc :  $f(A \cup B) \subset f(A) \cup f(B)$ .

• D'après la question 1 :  $A \subset A \cup B \Rightarrow f(A) \subset f(A \cup B)$  ;  
 $B \subset A \cup B \Rightarrow f(B) \subset f(A \cup B)$ .

Donc :  $f(A) \cup f(B) \subset f(A \cup B)$ .

On en déduit que :  $f(A \cup B) = f(A) \cup f(B)$ .

3. a) D'après la question 1 :  $A \cap B \subset A \Rightarrow f(A \cap B) \subset f(A)$  ;  
 $A \cap B \subset B \Rightarrow f(A \cap B) \subset f(B)$ .

Donc :  $f(A \cap B) \subset f(A) \cap f(B)$ .

b) Soit  $y \in f(A) \cap f(B) ; \exists x \in A$  et  $\exists u \in B, f(x) = f(u) = y$ .

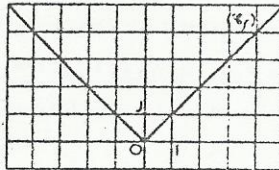
Or :  $f$  injective et  $f(x) = f(u) \Rightarrow x = u$  ; donc :  $x \in A \cap B$  et  $y \in f(A \cap B)$ .

On en déduit :  $f(A) \cap f(B) \subset f(A \cap B)$  et  $f(A \cap B) = f(A) \cap f(B)$ .

4. On a :  $A \cap B = [0 ; 1] ; f(A \cap B) = [0 ; 1] ;$

$f(A) = [0 ; 3] ; f(B) = [0 ; 5] ; f(A) \cap f(B) = [0 ; 3].$

Donc :  $f(A \cap B) = f(A) \cap f(B)$ .



◆ Exercice 39 p. 182

1. Soit  $a$  et  $b$  deux éléments de E tels que :  $a < b$ .  
On veut comparer  $g \circ f(a)$  et  $g \circ f(b)$  dans chacun des cas suivants.  
a)  $f$  est croissante sur E et  $g$  est croissante sur F.

On a :  $a < b \Rightarrow f(a) \leq f(b) \Rightarrow g(f(a)) \leq g(f(b))$  ; c'est-à-dire que :  $g \circ f(a) \leq g \circ f(b)$ .  
Donc, la fonction  $g \circ f$  est croissante sur E.

b)  $f$  est croissante sur E et  $g$  est décroissante sur F.

On a :  $a < b \Rightarrow f(a) \leq f(b) \Rightarrow g(f(a)) \geq g(f(b))$  ; c'est-à-dire que :  $g \circ f(a) \geq g \circ f(b)$ .  
Donc, la fonction  $g \circ f$  est décroissante sur E.

c)  $f$  est décroissante sur E et  $g$  est croissante sur F.

On a :  $a < b \Rightarrow f(a) \geq f(b) \Rightarrow g(f(a)) \geq g(f(b))$  ; c'est-à-dire que :  $g \circ f(a) \geq g \circ f(b)$ .  
Donc, la fonction  $g \circ f$  est décroissante sur E.

d)  $f$  est décroissante sur E et  $g$  est décroissante sur F.

On a :  $a < b \Rightarrow f(a) \geq f(b) \Rightarrow g(f(a)) \leq g(f(b))$  ; c'est-à-dire que :  $g \circ f(a) \leq g \circ f(b)$ .  
Donc, la fonction  $g \circ f$  est croissante sur E.

2. a) Sens de variation de  $f$

Soit  $a$  et  $b$  deux nombres réels tels que :  $a < b$ . On veut comparer  $a^3$  et  $b^3$ .

On a :  $b^3 - a^3 = (b - a)(b^2 + ab + a^2)$ .

Or :  $b - a > 0$  et  $b^2 + ab + a^2 > 0$  ; donc :  $b^3 > a^3$  ; c'est-à-dire :  $f(a) < f(b)$ .

La fonction  $f$  est strictement croissante sur  $\mathbb{R}$ .

Sens de variation de  $g$

• Soit  $a$  et  $b$  deux nombres réels de  $]-\infty ; 1[$  tels que :  $a < b$ .

On veut comparer  $-2(a-1)^2 + 3$  et  $-2(b-1)^2 + 3$ .

On a :  $a < b \leq 1 \Rightarrow a - 1 < b - 1 \leq 0$  ;

la fonction carré étant décroissante sur  $]-\infty ; 0[$ ,  $(a-1)^2 > (b-1)^2$  ;

donc :  $-2(a-1)^2 + 3 < -2(b-1)^2 + 3$ .

La fonction  $g$  est strictement croissante sur  $]-\infty ; 1[$ .

• On montre de la même façon que la fonction  $g$  est strictement décroissante sur  $]1 ; +\infty[$ .

b) Sens de variation de  $g \circ f$

On a :  $f(]-\infty ; 1]) = ]-\infty ; 1]$  et  $f(\{1 ; +\infty\}) = [1 ; +\infty[$ .

•  $f$  est strictement croissante sur  $]1 ; +\infty[$  et  $g$  strictement décroissante sur  $f(\{1 ; +\infty\})$  ; donc,  $g \circ f$  est décroissante sur  $]1 ; +\infty[$ .

•  $f$  est strictement croissante sur  $]-\infty ; 1]$  et  $g$  est strictement croissante sur  $f(]-\infty ; 1])$  ; donc,  $g \circ f$  est croissante sur  $]-\infty ; 1]$ .

On a :  $g \circ f(1) = g(1) = 3$ .

c) Sens de variation de  $f \circ g$

On a :  $g(]-\infty ; 1]) = g(\{1 ; +\infty\}) = ]-\infty ; 3]$ .

•  $g$  est strictement décroissante sur  $]1 ; +\infty[$  et  $f$  est strictement croissante sur  $]-\infty ; 3]$  ; donc,  $f \circ g$  est strictement décroissante sur  $]1 ; +\infty[$ .

•  $g$  est strictement croissante sur  $]-\infty ; 1]$  et  $f$  est strictement croissante sur  $]-\infty ; 3]$  ; donc,  $f \circ g$  est croissante sur  $]-\infty ; 1]$ .

On a :  $f \circ g(1) = f(3) = 27$ .

◆ Exercice 40 p. 182

1. Soit  $a$  et  $b$  deux éléments de E tels que :  $f(a) = f(b)$ .

On a :  $f(a) = f(b) \Rightarrow f(f(a)) = f(f(b)) \Rightarrow a = b$  ; donc,  $f$  est injective.  
Soit  $y \in E$ .

On a :  $f(x) = y \Rightarrow f(f(x)) = f(y) \Rightarrow x = f(y)$  ; donc,  $f$  est surjective.

On en déduit que  $f$  est bijective et  $f^{-1} = f$ .

2. a)  $\forall x \in \mathbb{R} - \{1\}, g \circ g(x) = g(g(x)) = \frac{g(x) + 3}{g(x) - 1} = x$  ;

donc :  $g \circ g = \text{Id}_{\mathbb{R} - \{1\}}$  et  $g^{-1} = g$ .

b) On a :  $\forall x \in \mathbb{R} - \{1\}, g(x) = \frac{(x-1) + 4}{x-1} = 1 + \frac{4}{x-1}$ .

Tableau de variation

x	$-\infty$	1	$+\infty$
$g \circ f(x)$		3	

Tableau de variation

x	$-\infty$	1	$+\infty$
$f \circ g(x)$		27	

c) Posons :  $h(x) = \frac{4}{x}$ .

On a :  $\forall x \in \mathbb{R} - \{1\}, g(x) = h(x-1) + 1$ .

Donc,  $(\mathcal{C})$  est l'image de  $(\mathcal{C}_h)$  par la translation de vecteur  $\vec{u} \begin{pmatrix} 1 \\ 1 \end{pmatrix}$ .

d) Soit  $M(x; y)$  un point du plan et  $M'(x'; y')$  son image par la symétrie orthogonale d'axe la droite  $(\Delta)$  d'équation :  $y = x$ .

On a :  $x' = y$  et  $y' = x$ .

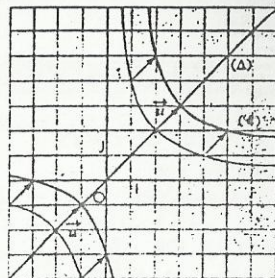
$M \in (\mathcal{C}) \Leftrightarrow y = g(x)$

$\Leftrightarrow x = g^{-1}(y)$

$\Leftrightarrow x = g(y)$  (car  $g^{-1} = g$ )

$\Leftrightarrow M' \in (\mathcal{C})$ .

Donc,  $(\Delta)$  est un axe de symétrie de  $(\mathcal{C})$ .



◆ Exercice 41 p. 182

f est une application, donc chacun des  $n$  éléments de  $E$ , a exactement 1 image dans  $F$  par  $f$ .

a) Si  $f$  est injective, alors les  $n$  images dans  $F$  par  $f$ , sont 2 à 2 distinctes ; donc :  $n \leq p$ .

b) Si  $f$  est surjective, alors chacun des  $p$  éléments de  $F$ , est l'image d'au moins 1 élément de  $E$  par  $f$ ; donc :  $n \geq p$ .

c) Si  $f$  est bijective, alors  $f$  est injective et surjective ; donc :  $n \leq p$  et  $n \geq p \Rightarrow n = p$ .

d) Si  $f$  est injective et  $n = p$ , alors les  $n$  images 2 à 2 distinctes dans  $F$  par  $f$ , sont les  $n$  éléments de  $F$ .

On en déduit que  $f$  est surjective, donc est bijective.

e) Si  $f$  est surjective et  $n = p$ , alors chacun des  $p$  éléments de  $F$ , a exactement 1 antécédent dans  $E$  par  $f$ ; donc :  $f$  est injective. On en déduit que  $f$  est bijective.

◆ Exercice 42 p. 182

1. a) On a :  $f(x) = -2(x - \frac{5}{4})^2 + \frac{25}{8}$ .

b) Posons :  $g(x) = -2x^2$ ; on a :  $\forall x \in \mathbb{R}, f(x) = g(x - \frac{5}{4}) + \frac{25}{8}$ .

Donc,  $(\mathcal{C})$  est l'image de  $(\mathcal{C}_g)$  par la translation de vecteur  $\vec{u}$  ayant pour coordonnées  $(\frac{5}{4}; \frac{25}{8})$ .

2. Posons :  $h(x) = |-2x^2 + 5x| = |f(x)|$ .

$(\mathcal{C}_h)$  est la réunion des parties des courbes d'équations respectives  $y = f(x)$  et  $y = -f(x)$ , situées « au-dessus » de  $(OI)$ .

On désigne par  $(\Delta)$  la droite d'équation :  $y = 3$ .

a) On a :  $|-2x^2 + 5x| = 3 \Leftrightarrow h(x) = 3$ .

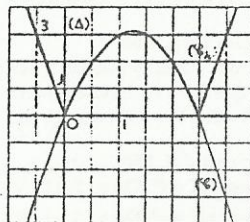
Les solutions de  $h(x) = 3$  sont les abscisses des points où  $(\Delta)$  coupe  $(\mathcal{C}_h)$ .

La lecture graphique donne pour ensemble des solutions :  $\{-\frac{1}{2}; 1; \frac{3}{2}; 3\}$ .

b) On a :  $|-2x^2 + 5x| > 3 \Leftrightarrow h(x) > 3$ .

Les solutions de l'inéquation  $h(x) > 3$  sont les abscisses des points de  $(\mathcal{C}_h)$  situés au-dessus de  $(\Delta)$ .

La lecture graphique donne pour ensemble des solutions :  $]-\infty; -\frac{1}{2}[ \cup ]1; \frac{3}{2}[ \cup ]3; +\infty[$ .



◆ Exercice 43 p. 182

Expressions des fonctions  $f+g, f \times g$  et  $-2f+3g$ .

$x$	$-\infty$	$0$	$2$	$+\infty$
$f(x)$	$x^2$	$0$	$x^2$	$4$
$g(x)$	$x^2 + 2x$	$0$	$2x$	$4$
$(f+g)(x)$	$2x^2 + 2x$	$0$	$x^2 + 2x$	$8$
$(f \times g)(x)$	$x^4 + 2x^3$	$0$	$2x^3$	$16$
$(-2f+3g)(x)$	$x^2 + 6x$	$0$	$-2x^2 + 6x$	$4$

Expression de la fonction  $f \circ g$ .

$x$	$-\infty$	$-1 - \sqrt{3}$	$0$	$1$	$+\infty$
$g(x)$	$x^2 + 2x$	$2$	$x^2 + 2x$	$0$	$2x$
$g(x) - 2$	$+$	$0$	$-$	$-2$	$+$
$f(g(x))$	$-2g(x)$	$4$	$(g(x))^2$	$0$	$(g(x))^2$
$f \circ g(x)$	$-2x^2 - 4x$	$0$	$x^4 + 4x^3 + 4x^2$	$0$	$4x^2$

$\forall x \in \mathbb{R}, f \circ g(x) = f(g(x))$ ; donc comparons  $g(x)$  à 2.

On a :  $\begin{cases} x \leq 0 \\ g(x) \leq 2 \end{cases} \Leftrightarrow \begin{cases} x \leq 0 \\ x^2 + 2x - 2 \leq 0 \end{cases} \Leftrightarrow -1 - \sqrt{3} \leq x \leq 0$ ;

On a :  $\begin{cases} x > 0 \\ g(x) \leq 2 \end{cases} \Leftrightarrow \begin{cases} x > 0 \\ 2x \leq 2 \end{cases} \Leftrightarrow 0 < x \leq 1$ ;

On en déduit le tableau ci-dessous.

◆ Exercice 44 p. 182

1. Soit  $x \in \mathbb{R} - \{0; 1\}$ .

$f_1$  est une bijection et  $f_1^{-1} = f_1$ .

$f_2$  est une bijection et  $f_2^{-1} = f_2$ .

$f_3$  est une bijection et  $f_3^{-1} = f_3$ .

$f_4$  est une bijection et  $f_4^{-1} = f_4$ .

$f_5$  est une bijection et  $f_5^{-1} = f_6$ .

$f_6$  est une bijection et  $f_6^{-1} = f_5$ .

2.

$f_0$	$f_1$	$f_2$	$f_3$	$f_4$	$f_5$	$f_6$
$f_1$	$f_1$	$f_6$	$f_3$	$f_4$	$f_5$	$f_2$
$f_2$	$f_6$	$f_1$	$f_5$	$f_6$	$f_3$	$f_4$
$f_3$	$f_3$	$f_6$	$f_1$	$f_5$	$f_4$	$f_2$
$f_4$	$f_4$	$f_5$	$f_6$	$f_1$	$f_2$	$f_3$
$f_5$	$f_5$	$f_4$	$f_2$	$f_3$	$f_6$	$f_1$
$f_6$	$f_6$	$f_3$	$f_4$	$f_6$	$f_1$	$f_5$

◆ Exercice 45 p. 182

$\sigma$	$id$	$s_0$	$s_3$	$s_4$
$id$	$id$	$s_0$	$s_3$	$s_4$
$s_0$	$s_0$	$id$	$s_4$	$s_3$
$s_3$	$s_3$	$s_4$	$id$	$s_0$
$s_4$	$s_4$	$s_3$	$s_0$	$id$

# 10. Équations, inéquations, systèmes linéaires

(pages 183 à 202 du livre de l'élève)

## OBJECTIFS

- Mettre à la disposition des élèves de nouveaux outils pour la résolution de problèmes du second degré.
- Consolider les procédés de résolution des systèmes linéaires.

## COMMENTAIRES

• Ce chapitre complète les connaissances acquises par les élèves en classe de seconde en mettant à leur disposition un nouvel instrument pour résoudre les problèmes au second degré : le discriminant. Il permet en outre de réinvestir les acquis sur la représentation graphique des fonctions polynômes du second degré.

• On étendra à  $\mathbb{R}^2$  les méthodes acquises dans les classes précédentes pour les systèmes de  $\mathbb{R}^2$  (substitution et combinaison).

La méthode du pivot de Gauss est un procédé de résolution par combinaison. Elle nécessite une organisation rigoureuse des calculs, mais ne fait pas appel à des connaissances nouvelles.

## SAVOIRS ET SAVOIR-FAIRE

### savoirs

Problèmes du second degré

- Équations du second degré.
- Discriminant d'un polynôme, d'une équation du second degré ;
- Formules donnant les racines (resp. les solutions) éventuelles d'un polynôme (resp. d'une équation) du second degré ;
- Expressions de la somme et du produit des solutions d'une équation du second degré.

• Inéquations du second degré.

- Règles donnant le signe d'un polynôme du second degré suivant le signe de son discriminant et du coefficient de  $x^2$ .

Équations et inéquations se ramenant au second degré

- Équations et inéquations de degré supérieur à 2.
- Équations bicarrées ;
- Inéquations bicarrées.

• Équations et inéquations irrationnelles.

Systèmes linéaires d'équations et d'inéquations

### savoir-faire

• Calculer le discriminant d'un polynôme, d'une équation du second degré.

• En utilisant le discriminant, dans des situations qui légitiment cette méthode :

- étudier l'existence des solutions d'une équation du second degré ;
- calculer les solutions éventuelles d'une équation du second degré ;
- écrire sous forme d'un produit de polynômes du premier degré un polynôme du second degré ;
- étudier le signe d'un polynôme du second degré ;
- résoudre une inéquation du second degré.

• Utiliser la somme et le produit des solutions d'une équation du second degré pour :

- calculer l'un connaissant l'autre ;
- déterminer deux nombres connaissant leur somme et leur produit.

• Résoudre des équations ou inéquations bicarrées.

• Résoudre des équations ou inéquations irrationnelles du type :

- $\sqrt{P(x)} = Q(x)$
- $\sqrt{P(x)} > Q(x)$  ou  $\sqrt{P(x)} \geq Q(x)$ ,
- $\sqrt{P(x)} < Q(x)$  ou  $\sqrt{P(x)} \leq Q(x)$ , où P et Q sont des polynômes tels que  $\deg(P) \leq 2$  et  $\deg(Q) \leq 1$ .

• Résoudre des systèmes de trois équations linéaires dans  $\mathbb{R}^3$  ayant une solution unique :

- par substitution ;
- par la méthode du pivot de Gauss.

## Exercices du cours

♦ Exercice 1.a p. 190

a)  $S = \emptyset$    b)  $S = \{\frac{\sqrt{6}}{3}\}$    c)  $S = \{\frac{2}{3}, \frac{3}{2}\}$    d)  $S = \{\sqrt{2}, -\sqrt{3}\}$ .

♦ Exercice 1.b p. 190

a) 1 est solution évidente et  $P = -\frac{2}{7}$  ; donc,  $-\frac{2}{7}$  est l'autre solution.

b) -1 est solution évidente et  $P = -\frac{1}{3}$  ; donc,  $\frac{1}{3}$  est l'autre solution.

c) 1 est solution évidente et  $P = \frac{1}{\sqrt{3}}$  ; donc,  $\frac{1}{\sqrt{3}}$  est l'autre solution.

d) a est solution évidente et  $P = 1$  ; donc,  $\frac{1}{a}$  est l'autre solution.

♦ Exercice 1.c p. 190

a)  $S = \{1, \frac{3}{2}\}$    b)  $S = \{-\frac{3}{2}, 5\}$    c)  $S = \{\frac{\sqrt{3}}{2}\}$    d)  $S = \mathbb{R}$ .

♦ Exercice 1.d p. 190

1.  $X^2 - k^2 + 1$ . Donc, pour tout nombre réel k, l'équation admet deux solutions distinctes  $x_1$  et  $x_2$ .

2. On a :  $x_1 \times x_2 = 2k$  et  $x_1 + x_2 = -2(k+1)$ .

Si  $k < 0$ ,  $x_1 < 0 < x_2$  ; si  $k = 0$ ,  $x_1 = -2$  et  $x_2 = 0$  ; si  $k > 0$ ,  $x_1 < x_2 < 0$ .

♦ Exercice 1.e p. 190

On a :  $2\pi R h + 2\pi R^2 = 600$ , où R désigne le rayon du cylindre et h sa hauteur.

On sait que  $h = 15$  ; donc, en prenant  $\pi = 3$ , on a l'équation :  $R^2 + 15R - 100 = 0$  ;  $\Delta = 25^2$  et  $R > 0$ .  
Donc :  $R = 5$  et  $V = \pi R^2 h = 1\,125 \text{ cm}^3$ .

♦ Exercice 2.a p. 194

a) On pose :  $X = x^2$ . On a :  $S = \{-\sqrt{2}, \sqrt{2}\}$ .

b) On pose :  $X = x^2$ . On a :  $S = \{-\sqrt{6}, -1, 1, \sqrt{6}\}$ .

c) -1 est une solution évidente de l'équation. Donc :  $x^2 - 7x - 6 = (x+1)(x^2 - x - 6)$ .  $S = \{-2, -1, 3\}$ .

d) 2 est une solution évidente de l'équation.

Donc :  $x^2 - x - 6 = (x-2)(x^2 + 2x + 3)$ . Le polynôme  $x^2 + 2x + 3$  n'a pas de racine ; donc :  $S = \{2\}$ .

♦ Exercice 2.b p. 194

a)  $(x+1)^4 \geq (x-1)^2 \Leftrightarrow x(x+3)(x^2+x+2) \geq 0$ .

Or :  $\forall x \in \mathbb{R}$ ,  $x^2 + x + 2 > 0$  ; donc :  $S = ]-\infty, -3] \cup [0, +\infty[$ .

b) On pose :  $X = x - 1$ .  $(x-1)^4 - 7(x-1)^2 + 12 < 0 \Leftrightarrow (X-2)(X+2)(X-\sqrt{3})(X+\sqrt{3}) < 0$   
 $\Leftrightarrow (x-3)(x+1)(x-1-\sqrt{3})(x-1+\sqrt{3}) < 0$ .

Un tableau de signe nous donne le résultat suivant :  $S = ]-1, 1 - \sqrt{3}[ \cup ]1 + \sqrt{3}, 3[$ .

c) 1 et -1 sont racines du polynôme  $x^4 - x^3 - 7x^2 + x + 6$ .

Donc :  $x^4 - x^3 - 7x^2 + x + 6 > 0 \Leftrightarrow (x^2 - 1)(x^2 - x - 6) > 0 \Leftrightarrow (x+1)(x-1)(x-3)(x+2) > 0$ .

Un tableau de signe nous donne le résultat suivant :  $S = ]-\infty, -2[ \cup ]-1, 1[ \cup ]3, +\infty[$ .

♦ Exercice 2.c p. 194

a)  $\sqrt{x^2 + x + 1} = 3x - 1 \Leftrightarrow \begin{cases} x^2 + x + 1 = (3x - 1)^2 \\ 3x - 1 \geq 0 \end{cases} \Leftrightarrow \begin{cases} x(8x - 7)^2 = 0 \\ x \geq \frac{1}{3} \end{cases}$ . Donc :  $S = \{\frac{7}{8}\}$

b)  $4x^2 + 4x + 1 = (2x + 1)^2 \geq 0$ .

Donc :  $\sqrt{x^2 - 5x + 6} = \sqrt{4x^2 + 4x + 1} \Leftrightarrow x^2 - 5x + 6 = 4x^2 + 4x + 1 \Leftrightarrow 3x^2 + 9x - 5 = 0$ .

EQUATIONS ET INEQUATIONS DU SECOND DEGRE

Exercice 1 p. 200

$P(x) = 0; P(x) = (x-1)(x-2).$

Exercice 2 p. 200

2 est racine du polynôme P  $\Leftrightarrow P(2) = 0 \Leftrightarrow a+2=0 \Leftrightarrow a=-2.$   
 On a :  $P(x) = 2x^2 + 2x - 12 = 2(x-2)(x+3).$  Donc, 3 est l'autre racine du polynôme P.

Exercice 3 p. 200

a)  $P(x) = 4[(x-\frac{1}{2})^2 - 1] = 4(x-\frac{3}{2})(x+\frac{1}{2}); \frac{3}{2}$  et  $-\frac{1}{2}$  sont les deux racines de P.

i)  $Q(x) = 2(x-3)^2; 3$  est la racine double de Q.

c)  $R(x) = 2[(x-\frac{1}{4})^2 + \frac{23}{16}]; R$  n'a pas de racine.

d)  $S(x) = 2[(x-\frac{1}{4})^2 - \frac{49}{16}] = 2(x-2)(x+\frac{3}{2}); 2$  et  $-\frac{3}{2}$  sont les deux racines de S.

Exercice 4 p. 200

On a :  $P(x) = a(x+2)(x-\frac{3}{2});$  de plus,  $P(0) = -3 \Leftrightarrow a = 1.$  Donc :  $P(x) = x^2 + \frac{1}{2}x - 3.$

Exercice 5 p. 200

a)  $S = \{\sqrt{2}; -\sqrt{3}\}$       b)  $S = \{\sqrt{3}\}.$

c) Si  $a = -\sqrt{2}, S = \{-\sqrt{2}\};$  si  $a = \sqrt{2}, S = \{\sqrt{2}\};$  si  $a \in \mathbb{R} - \{-\sqrt{2}; \sqrt{2}\}, S = \{\frac{2+a^2-|a^2-2|}{2a}; \frac{2+a^2+|a^2-2|}{2a}\}.$

d)  $S = \{\frac{1}{a^2}\}.$

Exercice 6 p. 200

a)  $b = 0$       b)  $(b+2a)(b-2a) > 0$       c)  $c = 0$       d)  $4a - 2b + c = 0.$

Exercice 7 p. 200

$P(x) = 2x^2 + x + 1, \Delta = -7;$  donc : pour tout nombre réel  $x, P(x) > 0.$

Exercice 8 p. 200

a)  $P(x) = (x-\frac{1}{2})^2 + \frac{3}{4}$

b)  $Q(x) = 2[(x+\frac{3}{8})^2 - \frac{169}{64}] = 2(x-\frac{5}{2})(x+2)$

c)  $R(x) = -[(x+\frac{1}{2})^2 + \frac{23}{4}]$

d)  $S(x) = -2[(x-\frac{5}{4})^2 - \frac{9}{16}] = -2(x-2)(x-\frac{1}{2})$

Exercice 9 p. 200

a)  $S = [-3; 1]$       b)  $S = ]-\infty; -1[ \cup ]\frac{1}{2}; +\infty[$   
 d)  $S = \mathbb{R}$       e)  $S = \emptyset$

x	$-\infty$				$+\infty$
P(x)			+		
x	$-\infty$	-2		$\frac{5}{2}$	$+\infty$
Q(x)		+	0	-	0
x	$-\infty$				$+\infty$
R(x)				-	
x	$-\infty$	$\frac{1}{2}$		2	$+\infty$
S(x)		-	0	+	0

c)  $S = ]-1; \frac{1}{2}[$   
 f)  $S = ]-\infty; -1[ \cup ]3; +\infty[.$

$\Delta = 141.$  Donc :  $S = \{-\frac{9-\sqrt{141}}{6}; -\frac{9+\sqrt{141}}{6}\}.$

c) On élève au carré. on obtient :  $4 + 2\sqrt{(-x+1)(x+3)} = 4 \Leftrightarrow \sqrt{(-x+1)(x+3)} = 0.$

Cette équation admet deux solutions :  $x = 1$  et  $x = -3.$

Ces deux nombres sont également solutions de l'équation initiale. Donc :  $S = \{1; -3\}.$

Exercice 2.d p. 194

a) \* Tout nombre  $x$  tel que  $x-1 \leq 0$  est solution. Donc :  $S_1 = ]-\infty; 1].$

\* Si  $x > 1$ , on élève au carré :  $-x^2 + 3x - 2 \geq x^2 - 2x + 1 \Leftrightarrow 2x^2 - 5x + 3 \leq 0 \Leftrightarrow (x-1)(2x-3) \leq 0$   
 $\Leftrightarrow 1 \leq x \leq \frac{3}{2};$  donc :  $S_2 = [1; \frac{3}{2}].$

Par suite :  $S = S_1 \cup S_2 = ]-\infty; \frac{3}{2}].$

b) \* Tout nombre  $x$ , tel que  $-x+3 \leq 0$ , est solution. Donc :  $S_1 = [3; +\infty[.$

\* Si  $x < 3$ , on élève au carré :  $2x^2 - 4x + 1 \geq x^2 - 6x + 9 \Leftrightarrow (x+4)(x-2) \geq 0.$

Donc :  $S_2 = ]-\infty; -4[ \cup ]2; 3[$  et par suite,  $S = S_1 \cup S_2 = ]-\infty; -4[ \cup ]2; +\infty[.$

c) L'inéquation est définie si  $x \geq 1.$  On élève au carré, on obtient :  $2x + 2\sqrt{x^2-1} < x \Leftrightarrow 2\sqrt{x^2-1} < -x.$   
 Pour tout  $x$  tel que  $x \geq 1$ , cette inégalité est impossible. Donc :  $S = \emptyset.$

Exercice 2.e p. 194

1.  $P(x) = x^2(x^2 - 5x + 6 - \frac{5}{x} + \frac{1}{x^2}) = x^2[(x + \frac{1}{x})^2 - 5(x + \frac{1}{x}) + 4].$

2. 0 n'est pas racine du polynôme P. Pour  $x \neq 0$ , on pose :  $X = x + \frac{1}{x}.$

\* On a :  $P(x) = 0 \Leftrightarrow X^2 - 5X + 4 = 0 \Leftrightarrow (X-1)(X-4) = 0$

$\Leftrightarrow (x + \frac{1}{x} - 1)(x + \frac{1}{x} - 4) = 0 \Leftrightarrow (x^2 - x + 1)(x^2 - 4x + 1) = 0.$

$x^2 - x + 1$  n'a pas de racine; donc :  $S = \{2 - \sqrt{3}; 2 + \sqrt{3}\}.$

\* On a :  $P(x) \geq 0 \Leftrightarrow x^2 - 4x + 1 \geq 0.$  Donc :  $S = ]-\infty; 2 - \sqrt{3}] \cup [2 + \sqrt{3}; +\infty[.$

Exercice 2.f p. 194

On pose :  $AB = x.$  On en déduit :  $BC = x + 1$  et  $AC = \sqrt{x^2 + (x+1)^2}.$

On a :  $AC = 2AB \Leftrightarrow \sqrt{x^2 + (x+1)^2} = 2x \Leftrightarrow x^2 + (x+1)^2 = 4x^2 \Leftrightarrow 2x^2 - 2x + 1 = 0.$

Donc, deux solutions :  $x_1 = \frac{1-\sqrt{3}}{2}$  et  $x_2 = \frac{1+\sqrt{3}}{2};$  on ne retient que la solution positive :  $\frac{1+\sqrt{3}}{2}.$

Exercice 3.a p. 199

a)  $S = \{(1; 3; -1)\}$       b)  $S = \{(\lambda, \frac{3}{2}\lambda - 2, \frac{5}{2}\lambda - 5), \lambda \in \mathbb{R}\}$       c)  $S = \emptyset.$

Exercice 3.b p. 199

1. a)  $S = \{(\lambda, -\frac{1}{2}\lambda + \frac{3}{2}, -2\lambda + 1), \lambda \in \mathbb{R}\}$       b)  $S = \{(5\mu + 6, -2\mu - 1, \mu), \mu \in \mathbb{R}\}.$

2. Les deux systèmes ont une solution commune s'il existe  $\lambda$  et  $\mu$  tels que :

$\begin{cases} \lambda = 5\mu + 6 \\ -\frac{1}{2}\lambda + \frac{3}{2} = -2\mu - 1 \\ -2\lambda + 1 = \mu \end{cases} \Leftrightarrow \begin{cases} \lambda = 1 \\ \mu = -1 \end{cases}.$  La solution commune est donc le triplet :  $(1; 1; -1).$

Exercice 3.c p. 199

a)  $S = \{(4; -2); (-2; 4)\}$       b)  $S = \{(1 - \sqrt{3}; -1 + \sqrt{3}); (1 + \sqrt{3}; -1 - \sqrt{3})\}.$

Exercice 3.d p. 199

Soit  $x, y, z$  les pourcentages respectifs de blé dans chacun des sacs. On a :

$\begin{cases} 5x + 3y = 8 \times 62,5 \\ 5x + 2z = 7 \times 60 \\ 3y + 2z = 5 \times 56 \end{cases} \Leftrightarrow \begin{cases} 5x + 3y = 500 \\ 5x + 2z = 420 \\ 3y + 2z = 280 \end{cases} \Leftrightarrow \begin{cases} x = 64 \\ y = 60 \\ z = 50 \end{cases}$

◆ Exercice 10 p. 200

$P(x) = 0 \Leftrightarrow m^2 - 3m - 4 = 0 \Leftrightarrow m = -1$  ou  $m = 4$ .

La somme des racines est :  $2 + x_2 = 3m$ ; donc :  $x_2 = 3m - 2$ .

Si  $m = -1$ , alors  $x_1 = -5$ ; si  $m = 4$ , alors  $x_2 = 10$ .

◆ Exercice 11 p. 200

On a :  $p = -\frac{3}{7}$  et  $q = \frac{15}{7}$ .

◆ Exercice 12 p. 200

On a :  $\Delta = m(m-2)$ .

• Si  $m \in ]0; 2[$ , alors  $\Delta < 0$  et P n'a pas de racine;

• si  $m \in ]-\infty; 0[ \cup ]2; +\infty[$ , alors  $\Delta > 0$  et P a deux racines distinctes;

• si  $m = 0$ , alors  $\Delta = 0$  et P a une racine double :  $-1$ ;

• si  $m = 2$ , alors  $P(x) = -2$  et P n'a pas de racine.

◆ Exercice 13 p. 200

On a :  $\Delta' = 3m^2 - 2m + 6 = 3(m-1)(m-2)$ .

1. P a deux racines distinctes si et seulement si  $m \in ]-\infty; 1[ \cup ]2; +\infty[$ .

2. P a une racine double si et seulement si  $m = 1$  ou  $m = 2$ .

• Si  $m = 1$ , alors la racine double est  $-1$ ;

• si  $m = 2$ , alors la racine double est  $2$ .

◆ Exercice 14 p. 200

On a :  $\frac{AB}{BC} = 1 + \frac{1}{k} \Leftrightarrow k = 1 + \frac{1}{k}$ . Donc :  $k^2 - k - 1 = 0$ ; or  $k > 0$ ; donc :  $k = \frac{1 + \sqrt{5}}{2}$ .

SOMME ET PRODUIT DES RACINES

◆ Exercice 15 p. 200

Ces nombres, s'ils existent, sont les solutions de l'équation :  $x^2 - Sx + P = 0$ .

a)  $x^2 + x + 12 = 0$  ;  $S = \emptyset$  ; b)  $x^2 + 9x + 20 = 0$  ;  $S = \{-5, -4\}; \{-4, -5\}$

c)  $x^2 - 3x + 4 = 0$  ;  $S = \emptyset$  ; d)  $x^2 - x\sqrt{2} + \frac{1}{2} = 0$  ;  $S = \{\frac{\sqrt{2}}{2}, \frac{\sqrt{2}}{2}\}$ .

◆ Exercice 16 p. 200

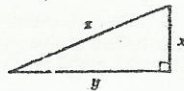
Soit  $x$  et  $y$  ces deux nombres. On a :  $\begin{cases} x + y = 1 \\ \frac{1}{x} + \frac{1}{y} = -\frac{1}{6} \end{cases} \Rightarrow \begin{cases} x + y = 1 \\ \frac{x+y}{xy} = -\frac{1}{6} \end{cases} \Rightarrow \begin{cases} x + y = 1 \\ xy = -6 \end{cases}$

$x$  et  $y$  sont les solutions de l'équation :  $x^2 - x - 6 = 0$ ; donc :  $S = \{-2, 3\}; \{3, -2\}$ .

◆ Exercice 17 p. 200

Soit  $x$ ,  $y$  et  $z$  les dimensions du triangle représenté ci-contre.

On a :  $\begin{cases} x = \sqrt{x^2 + y^2} & (1) \\ x + y + z = 30 & (2) \\ \frac{1}{2}xy = 30 & (3) \end{cases}$



(1) et (2)  $\Rightarrow \sqrt{x^2 + y^2} = 30 - x - y$   
 $\Rightarrow x^2 + y^2 = 900 + x^2 + y^2 - 60x - 60y + 2xy$   
 $\Rightarrow 900 - 60x - 60y + 120 = 0$   
 $\Rightarrow x + y = 17$

$x$  et  $y$  sont solution de l'équation :  $x^2 - 17x + 60 = 0$ .

On trouve :  $x = 5$  et  $y = 12$ ; donc :  $z = 13$  ou  $x = 12$  et  $y = 5$ ; donc :  $z = 13$ .  $S = \{(5, 12, 13); (12, 5, 13)\}$ .

◆ Exercice 18 p. 200

Soit  $x$  et  $y$  les dimensions du jardin. On a :  $\begin{cases} (x+6)(y+6) = 430 \\ xy = 360 \end{cases} \Rightarrow \begin{cases} x+y = 39 \\ -xy = 360 \end{cases}$

$x$  et  $y$  sont les solutions de l'équation :  $x^2 - 39x + 360 = 0$ ;  $\Delta = 1521 - 1440 = 81$ ;

donc :  $l = \frac{39+9}{2} = 24$  m et  $l = \frac{39-9}{2} = 15$  m.

◆ Exercice 19 p. 200

On pose :  $x' + x'' = S$  et  $x'x'' = P$ .

a) On a :  $\begin{cases} S^2 - 2P = \frac{25}{4} \\ P = -3 \end{cases} \Leftrightarrow \begin{cases} S^2 = \frac{1}{4} \\ P = -3 \end{cases}$

$\begin{cases} S = \frac{1}{2} \\ P = -3 \end{cases} \Rightarrow S_1 = \{(2, -\frac{3}{2}); (-\frac{3}{2}, 2)\}$  et  $\begin{cases} S = -\frac{1}{2} \\ P = -3 \end{cases} \Rightarrow S_2 = \{(-2, \frac{3}{2}); (\frac{3}{2}, -2)\}$ .

L'ensemble des solutions est :  $S_1 \cup S_2 = \{(2, -\frac{3}{2}); (-\frac{3}{2}, 2); (-2, \frac{3}{2}); (\frac{3}{2}, -2)\}$ .

b) On a :  $\begin{cases} \frac{S^2 - 2P}{P} = -\frac{25}{12} \\ P = -6 \end{cases} \Leftrightarrow \begin{cases} S^2 = \frac{1}{36} \\ P = -6 \end{cases}$ ; on en déduit :  $S = \{(-3, 2); (2, -3)\}$ .

c) On a :  $\begin{cases} \frac{S^2 - 2P}{P} = -\frac{25}{12} \\ P = -\frac{1}{3} \end{cases} \Leftrightarrow \begin{cases} S^2 = \frac{1}{36} \\ P = -\frac{1}{3} \end{cases}$

$\begin{cases} S = \frac{1}{6} \\ P = -\frac{1}{3} \end{cases} \Rightarrow S_1 = \{(\frac{2}{3}, -\frac{1}{2}); (-\frac{1}{2}, \frac{2}{3})\}$  et  $\begin{cases} S = -\frac{1}{6} \\ P = -\frac{1}{3} \end{cases} \Rightarrow S_2 = \{(-\frac{2}{3}, \frac{1}{2}); (\frac{1}{2}, -\frac{2}{3})\}$ .

L'ensemble des solutions est :  $S_1 \cup S_2 = \{(\frac{2}{3}, -\frac{1}{2}); (-\frac{1}{2}, \frac{2}{3}); (-\frac{2}{3}, \frac{1}{2}); (\frac{1}{2}, -\frac{2}{3})\}$ .

◆ Exercice 20 p. 200

On a :  $\Delta' = m^2 - 3m + 4$ ;  $P = m - 3$ ;  $S = -2(m-1)$ .

Le discriminant de  $\Delta'$  est  $-7$ ; donc,  $\Delta' > 0$  pour tout  $m \in \mathbb{R}$  et le polynôme a deux racines distinctes.

• Si  $m < 3$ , alors  $P < 0$ ; les deux racines sont de signes contraires;

• si  $m > 3$ , alors  $P > 0$  et  $S < 0$ ; les deux racines sont négatives.

Cas particuliers

• si  $m = 3$ , alors  $P = 0$  et  $S = -4$ , donc :  $x' = 0$  et  $x'' = -4$ ;

• si  $m = 1$ , alors  $S = 0$  et  $P = -2$ , donc :  $x' = -\sqrt{2}$  et  $x'' = \sqrt{2}$ .

◆ Exercice 21 p. 200

On a :  $\Delta = (2m+1)^2 - 4(m^2+1) = 4m-3$ ; donc P admet deux racines si et seulement si :  $m \in [\frac{3}{4}; +\infty[$ .

On pose :  $\alpha + \beta = S$  et  $\alpha\beta = P$ .

c) On a :  $\alpha^2 + \beta^2 = 29 \Leftrightarrow S^2 - 2P = 29 \Leftrightarrow (2m+1)^2 - 2(m^2+1) = 29 \Leftrightarrow 2m^2 + 4m - 30 = 0 \Leftrightarrow m = -5$  ou  $m = 3$ .

Seule la valeur 3 convient.

Alors, on a :  $P(x) = x^2 + 7x + 10$ ; les racines sont :  $\alpha = 5$  et  $\beta = 2$  ou  $\alpha = 2$  et  $\beta = 5$ .

b) On a :  $|\alpha - \beta| = 1 \Leftrightarrow (\alpha - \beta)^2 = 1 \Leftrightarrow S^2 - 4P = 1 \Leftrightarrow (2m+1)^2 - 4(m^2+1) = 1 \Leftrightarrow 4m-4 = 0 \Leftrightarrow m = 1$ .

On a :  $P(x) = x^2 + 3x + 2$ ; les racines sont :  $\alpha = -1$  et  $\beta = -2$  ou  $\alpha = -2$  et  $\beta = -1$ .

ÉQUATIONS BICARRÉES

◆ Exercice 22 p. 201

a)  $S = \{-3; 3; -\sqrt{2}; \sqrt{2}\}$  ; b)  $S = \{1\}$  ; c)  $S = \{-\sqrt{\frac{2}{3}}; \sqrt{\frac{2}{3}}\}$  ; d)  $S = \emptyset$ .

◆ Exercice 23 p. 201

On a :  $x^4 + (m-2)x^2 + m + 1 = 0 \Leftrightarrow \begin{cases} x^2 = \lambda \\ X^2 + (m-2)X + m + 1 = 0 \end{cases}$

a) L'équation admet quatre solutions distinctes si et seulement si :

$\begin{cases} \Delta > 0 \\ P > 0 \\ S > 0 \end{cases} \Leftrightarrow \begin{cases} m^2 - 8m > 0 \\ m + 1 > 0 \\ -m + 2 > 0 \end{cases} \Leftrightarrow m \in ]1; 0[$ .

b) L'équation admet deux solutions distinctes si et seulement si :

$$\begin{cases} \Delta > 0 \\ P < 0 \end{cases} \Leftrightarrow \begin{cases} m^2 - 8m > 0 \\ m + 1 < 0 \end{cases} \Leftrightarrow m \in ]-\infty; -1[.$$

c) Si  $m = -1$ ,  $P = 0$  et  $S = 3$ ; donc :  $X = 0$  ou  $X = 3$ . L'ensemble des solutions est :  $\{0; \sqrt{3}; -\sqrt{3}\}$ .

◆ Exercice 24 p. 201

On pose :  $X = x^2$ . On a :

$$\begin{aligned} x^4 - 2(a^2 + b^2)x^2 + (a^2 - b^2)^2 &= 0 &\Leftrightarrow X^2 - 2(a^2 + b^2)X + (a^2 - b^2)^2 &= 0 \\ &\Leftrightarrow X = (a + b)^2 \text{ ou } X = (a - b)^2 \\ &\Leftrightarrow x^2 = (a + b)^2 \text{ ou } x^2 = (a - b)^2 \end{aligned}$$

L'ensemble des solutions de l'équation est donc :  $\{-a - b, a + b, -a + b, a - b\}$ .

ÉQUATIONS ET INÉQUATIONS IRRATIONNELLES

◆ Exercice 25 p. 201

a)  $S = \{-\sqrt{\frac{3}{2}}; \sqrt{\frac{3}{2}}\}$     b)  $S = \{\frac{1+\sqrt{7}}{2}\}$     c)  $S = \{5\}$     d)  $S = \emptyset$ .

◆ Exercice 26 p. 201

a)  $S = \emptyset$     b)  $S = \{1\}$ .

◆ Exercice 27 p. 201

a)  $S = \{0\}$     b)  $S = \{-\frac{1}{2}\}$     c)  $S = \emptyset$     d)  $S = \{\frac{5}{8}\}$ .

◆ Exercice 28 p. 201

Cette équation n'a de sens que si :  $\begin{cases} -2x^2 + 3x + 5 \geq 0 \\ x^2 - 9 \geq 0 \end{cases} \Leftrightarrow \begin{cases} x \in [-1; \frac{5}{2}] \\ x \in ]-\infty; -3] \cup [3; +\infty[ \end{cases}$

Ces deux conditions sont incompatibles, donc l'équation n'admet pas de solution dans  $\mathbb{R}$ .

◆ Exercice 29 p. 201

a)  $S = [1; +\infty[$     b)  $S = [0; 1[$     c)  $S = ]1; 3[$     d)  $S = ]-2; -1] \cup [\frac{1}{3}; 1[$     e)  $S = [-1; \frac{5}{3}]$ .

◆ Exercice 30 p. 201

a)  $S = ]-\infty; -1[$     b)  $S = [4; +\infty[$     c)  $S = \emptyset$     d)  $S = [5; +\infty[$     e)  $S = [\frac{1}{3}; +\infty[$     f)  $S = [\frac{1}{2}; \frac{5}{8}[$ .

SYSTÈMES LINÉAIRES

◆ Exercice 31 p. 201

a) On a :  $D = m - 1$ ;  $D_x = m^2 - 1$ ;  $D_y = (\sqrt{2} - 1)(m - 1)$ .

• Si  $m \neq 1$ ,  $S = \{(m + 1; \sqrt{2} - 1)\}$ .

• Si  $m = 1$ ,  $S = \{(1 + (\sqrt{2} + 1)\lambda; \lambda), \lambda \in \mathbb{R}\}$ .

b) On a :  $D = 4m^2 - 9$ ;  $D_x = 2m + 3$ ;  $D_y = \frac{2m + 3}{\sqrt{6}}$ .

• Si  $m \neq \frac{3}{2}$  et  $m \neq -\frac{3}{2}$ , on a un couple solution :  $S = \{(\frac{1}{2m - 3}; \frac{\sqrt{6}}{6(2m - 3)})\}$ .

• Si  $m = \frac{3}{2}$ , le système est équivalent à :  $3x - 3y\sqrt{6} = 1$ , donc :  $S = \emptyset$ .

• Si  $m = -\frac{3}{2}$ , le système est équivalent à :  $3x + 3y\sqrt{6} = -1$ ;  $S = \{(-\frac{1}{3} - \lambda\sqrt{6}; \lambda), \lambda \in \mathbb{R}\}$ .

◆ Exercice 32 p. 201

Ce système admet un couple unique de solutions si et seulement si  $D \neq 0$ .

On a :  $D = 9 - m^2$ ; donc :  $D \neq 0 \Leftrightarrow m \in \mathbb{R} - \{-3; 3\}$ .

On a :  $D_x = (m + 1)(-m + 2)$ ;  $D_y = m^2 - 4m - 1$ ;  $S = \{(\frac{(m + 1)(-m + 2)}{9 - m^2}; \frac{m^2 - 4m - 1}{9 - m^2})\}$ .

◆ Exercice 33 p. 201

a) On pose :  $X = \frac{1}{x}$  et  $Y = \frac{1}{y}$ . On obtient :  $\begin{cases} X = -\frac{1}{5} \\ Y = -\frac{1}{5} \end{cases}$ ; donc :  $S = \{(-\frac{1}{7}; -\frac{1}{5})\}$ .

b) On pose :  $X = x + y$  et  $Y = x - y$ . On obtient :  $\begin{cases} X = \frac{3\sqrt{2}}{2} \\ Y = -\frac{\sqrt{2}}{2} \end{cases}$ ; donc :  $S = \{(\frac{\sqrt{2}}{2}; \sqrt{2})\}$ .

c) On pose :  $X = \sqrt{x}$  et  $Y = \sqrt{y}$ . Conditions nécessaires :  $X \geq 0$  et  $Y \geq 0$ .

On obtient :  $\begin{cases} X = -8 \\ Y = 5 \end{cases}$ ; donc :  $S = \emptyset$ .

d) On pose :  $X = x^2$  et  $Y = y^2$ . Conditions nécessaires :  $X \geq 0$  et  $Y \geq 0$ .

On obtient :  $\begin{cases} X = 3 \\ Y = 0 \end{cases}$ ; donc :  $S = \{(\sqrt{3}, 0); (-\sqrt{3}, 0)\}$ .

◆ Exercice 34 p. 201

a) On pose :  $S = x + y$  et  $P = xy$ . On obtient :  $P = -2$  et  $S = -1$ .

L'ensemble des solutions du système est :  $\{(-2, 1); (1, -2)\}$ .

b) On pose :  $S = x + y$  et  $P = xy$ . On obtient :  $P = -1$  et  $S = 3$ .

L'ensemble des solutions du système est :  $S = \{(\frac{3 - \sqrt{13}}{2}, \frac{3 + \sqrt{13}}{2}); (\frac{3 + \sqrt{13}}{2}, \frac{3 - \sqrt{13}}{2})\}$ .

c)  $\begin{cases} x^2 - y^2 = 5 \\ xy = -6 \end{cases} \Leftrightarrow \begin{cases} x^4 - 5x^2 - 36 = 0 \\ y = -\frac{6}{x} \\ x \neq 0 \end{cases} \Leftrightarrow \begin{cases} x^2 = 9 \\ y = -\frac{6}{x} \\ x \neq 0 \end{cases}$     On en déduit :  $S = \{(-3, 2); (3, -2)\}$ .

d)  $\begin{cases} x + 3y = -2 \\ 3x^2 - 7y^2 = 12 \end{cases} \Leftrightarrow \begin{cases} x = -3y - 2 \\ 5y^2 + 9y = 0 \end{cases} \Leftrightarrow \begin{cases} x = -3y - 2 \\ y = 0 \text{ ou } y = -\frac{9}{5} \end{cases}$     On en déduit :  $S = \{(-2, 0); (\frac{17}{5}, -\frac{9}{5})\}$ .

◆ Exercice 35 p. 201

Le système de contraintes définit une zone du plan (zone non hachurée) où elles sont réalisées.

1. Soit  $F$  la fonction définie par :  $F(x, y) = x + y$ .

$F(x, y)$  sera maximal lorsque la droite  $(D_1)$  d'équation  $x + y = k$  passera par  $A$ , le point d'intersection des droites d'équations  $5x + 4y = 40$  et  $y = 7$ .

On a :  $A(\frac{2,4}{7})$ ; donc :  $F_{\max}(x, y) = 9,4$ .

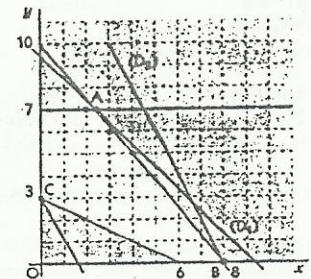
2. La fonction  $F$  sera maximale en nombres entiers en trois points de la zone hachurée :  $(2, 7)$ ;  $(3, 6)$ ;  $(4, 5)$ .

Pour chacun de ces points, on a :  $F(x, y) = 9$ .

3. Soit  $G$  la fonction définie par :  $G(x, y) = 2x + y$ .

$G(x, y)$  sera maximal lorsque la droite  $(D_2)$  d'équation  $2x + y = k$  passera par le point  $B(\frac{0}{0})$ ; donc :  $G_{\max}(x, y) = 16$ .

$G(x, y)$  sera minimal lorsque la droite  $(D_2)$  d'équation  $2x + y = k$  passera par le point  $C(\frac{0}{3})$ ; donc :  $G_{\min}(x, y) = 3$ .



◆ Exercice 36 p. 201

a)  $S = \{(-1, 2, 3)\}$     b)  $S = \{(3, 3, -2)\}$     c)  $S = \{(1, 0, -1)\}$     d)  $S = \{(-\sqrt{2}, -\sqrt{2}, -\sqrt{2})\}$ .

◆ Exercice 37 p. 201

Une équation de la parabole est :  $y = -x^2 - 2x + 3$ .

◆ Exercice 38 p. 201

On désigne respectivement par  $x$ ,  $y$  et  $z$  les nombres de bananes, de mangues et d'ananas.

$x, y$  et  $z$  sont des nombres entiers naturels vérifiant le système :  $\begin{cases} x+y+z=12 \\ 25x+60y+80z=640 \end{cases}$

On a :  $\begin{cases} x+y+z=12 \\ 5x+12y+16z=128 \end{cases} \Leftrightarrow \begin{cases} x+y+z=12 \\ 7y+11z=68 \end{cases} \Leftrightarrow \begin{cases} x=4 \\ y=5 \\ z=3 \end{cases}$

♦ Exercice 39 p. 201  
On désigne par  $a, b$  et  $c$  les dimensions de ce pavé. On a :  $\begin{cases} ab=52 \\ bc=78 \\ ca=96 \end{cases}$

On multiplie membre à membre les trois équations de ce système : on obtient :  $(abc)^2 = 2^4 \times 3^2 \times 13^2$   
On en déduit :  $abc = 2^2 \times 3 \times 13 = 624 \text{ cm}^3$ .

□ Exercices d'approfondissement

♦ Exercice 40 p. 202  
On a :  $S = P = k$ , avec :  $S = x + y$  et  $P = xy$ .  
 $x$  et  $y$ , s'ils existent, sont solutions de l'équation :  $x^2 - kx + k = 0$ . On a :  $\Delta = k^2 - 4k = k(k-4)$ ; donc :  
• si  $k \in ]0; 4[$ , le problème n'a pas de solution ;  
• si  $k = 0$ , le problème a une solution :  $(0, 0)$  ;  
• si  $k = 4$ , le problème a une solution :  $(2, 2)$  ;  
• si  $k \in ]-\infty; 0[ \cup ]4; +\infty[$ , le problème a deux solutions :  $(\frac{k-\sqrt{\Delta}}{2}, \frac{k+\sqrt{\Delta}}{2})$  et  $(\frac{k+\sqrt{\Delta}}{2}, \frac{k-\sqrt{\Delta}}{2})$ .

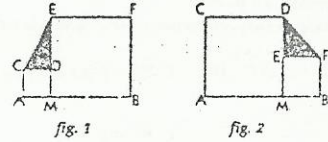
♦ Exercice 41 p. 202  
On a :  $\Delta = m^2(m^2 + 2m + 9)$ .  
Le polynôme  $m^2 + 2m + 9$  a pour discriminant  $-8$  : donc :  $\forall m \in \mathbb{R}, \Delta \geq 0$  et l'équation a deux solutions  $\alpha$  et  $\beta$ , distinctes ou confondues.  
On a :  $\begin{cases} \alpha + \beta = -m(m+3) \\ \alpha\beta = m^3 \\ \alpha^2 = \beta \end{cases} \Leftrightarrow \begin{cases} 2m^2 + 4m = 0 \\ \alpha = m \\ \beta = \alpha^2 \end{cases}$  Donc :  $m = 0$  ou  $m = -2$ .  
• Si  $m = 0$ , alors  $\alpha = \beta = 0$ .  
• Si  $m = -2$ , alors  $\alpha = -2$  et  $\beta = 4$ .

♦ Exercice 42 p. 202  
1. Soit  $P$  le polynôme défini par :  $P(x) = (x-a)(x-b)(x-c)$ , où  $a, b, c$  désignent les dimensions du livre.  
On a :  $P(x) = x^3 - (a+b+c)x^2 + (ab+bc+ca)x - abc$ .  
On sait que :  $\begin{cases} 4(a+b+c) = 180 \\ 2(ab+bc+ca) = 1072 \\ abc = 900 \end{cases}$ ; donc :  $P(x) = x^3 - 45x^2 + 536x - 900$ .  
2.  $P(2) = 0$ ; on en déduit :  $P(x) = (x-2)(x^2 - 43x + 450) = (x-2)(x-18)(x-25)$ .  
Les dimensions de ce livre sont donc : 2cm, 18 cm et 25 cm.

♦ Exercice 43 p. 202  
On a :  $(2-2x)(1-2x) = 1 \Leftrightarrow 4x^2 - 6x + 1 = 0$ .  
Cette équation a deux solutions :  $\frac{3-\sqrt{5}}{4} = 0.19$  et  $\frac{3+\sqrt{5}}{4} = 1.31$ .  
De plus, il faut :  $2x < 1$ ; donc,  $\frac{3-\sqrt{5}}{4}$  est la largeur de la bande coloriée.



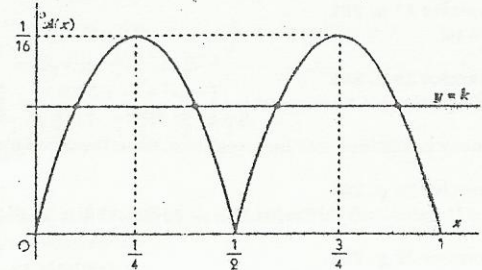
♦ Exercice 44 p. 202  
1. a) • Si  $x \in [0; \frac{1}{2}]$ , on a :  
 $CD = AM = x$  et  $ED = EM - DM = MB - AM = 1 - 2x$ ;  
donc :  $s(x) = \frac{1}{2}x(1-2x)$ .



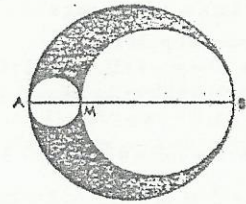
• Si  $x \in ]\frac{1}{2}; 1]$ , on a :  $EF = MB = 1 - x$  et  
 $ED = MD - ME = AM - MB = x - (1-x) = 2x - 1$ ;  
donc :  $s(x) = \frac{1}{2}(1-x)(2x-1)$ .  
b) • Si  $x \in [0; \frac{1}{2}]$ , on a :  $s(x) = k \Leftrightarrow 2x^2 - x + 2k = 0$ .  
On a :  $\Delta = 1 - 16k$ ; donc :  
- si  $k < 0$ , pas de solution, car  $s(x) \geq 0$  ;  
- si  $k = 0$ , deux solutions : 0 et  $\frac{1}{2}$  ;  
- si  $0 < k < \frac{1}{16}$ , deux solutions :  $0 < x' < x'' < \frac{1}{2}$  ;  
- si  $k = \frac{1}{16}$ , une solution :  $\frac{1}{4}$  ;  
- si  $k > \frac{1}{16}$ , pas de solution.

• Si  $x \in ]\frac{1}{2}; 1]$ , on a :  $s(x) = k \Leftrightarrow 2x^2 - 3x + 2k + 1 = 0$ .  
On a :  $\Delta = 9 - 8(2k+1) = 1 - 16k$ ; donc :  
- si  $k < 0$ , pas de solution, car  $s(x) \geq 0$  ;  
- si  $k = 0$ , deux solutions :  $\frac{1}{2}$  et 1 ;  
- si  $0 < k < \frac{1}{16}$ , deux solutions :  $\frac{1}{2} < x' < x'' < 1$  ;  
- si  $k = \frac{1}{16}$ , une solution :  $\frac{3}{4}$  ;  
- si  $k > \frac{1}{16}$ , pas de solution.

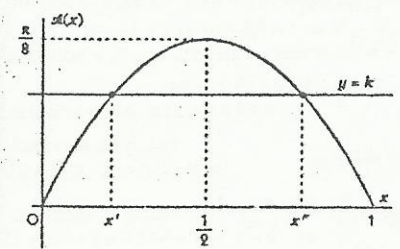
2. a) La courbe représentative de la fonction  $s$  est la réunion de deux parties de paraboles :  
• la parabole d'équation  $y = \frac{1}{2}x(1-2x)$ , sur l'intervalle  $[0; \frac{1}{2}]$  ;  
• la parabole d'équation  $y = \frac{1}{2}(1-x)(2x-1)$ , sur l'intervalle  $[\frac{1}{2}; 1]$ .  
b) On retrouve les résultats précédents en considérant l'intersection de cette courbe avec la droite variable d'équation :  $y = k$ .  
La fonction  $s$  présente un maximum en  $\frac{1}{4}$  et en  $\frac{3}{4}$ .



♦ Exercice 45 p. 202  
1. On a :  $s(x) = \frac{\pi}{4}(1-x^2 - (1-x^2)^2)$  ;  
d'où :  $s(x) = \frac{\pi}{2}(-x^2 + x)$ .  
On a :  $s(x) = \frac{\pi}{8} \Leftrightarrow -x^2 + x = \frac{1}{4} \Leftrightarrow 4x^2 - 4x + 1 = 0 \Leftrightarrow x = \frac{1}{2}$ .



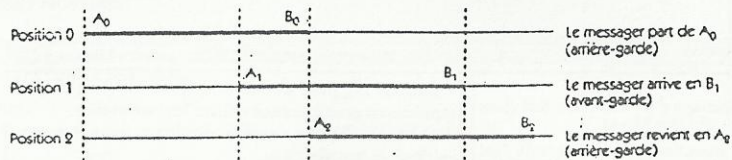
2. On utilisera une méthode graphique.  
• si  $k < 0$ , pas de solution ;  
• si  $k = 0$ , deux solutions : 0 et 1 ;  
• si  $0 < k < \frac{\pi}{8}$ , deux solutions :  $0 < x' < x'' < 1$  ;  
• si  $k = \frac{\pi}{8}$ , une solution :  $\frac{1}{2}$  ;  
• si  $k > \frac{\pi}{8}$ , pas de solution.



Par le calcul, on résout l'équation :  $\pi x^2 - \pi x + 2k = 0$ .

♦ Exercice 46 p. 202

On illustre les trois positions successives du messager par les schémas suivants.



On désigne par  $v$  et  $V$  les vitesses respectives de l'armée et du messager ( $V > v$ ).

Soit  $t_1$  le temps mis par le messager pour arriver à l'avant-garde de l'armée, c'est-à-dire pour parcourir la distance  $A_0B_1$ , et  $t_2$  le temps mis pour revenir à l'arrière, c'est-à-dire pour parcourir la distance  $B_1A_2$ .

On a :  $\begin{cases} A_0B_1 = A_0A_1 + A_1B_1 \\ B_1A_2 = A_2B_2 - B_1B_2 \end{cases} \Leftrightarrow \begin{cases} Vt_1 = vt_1 + 50 \\ Vt_2 = 50 - vt_2 \end{cases} \quad (1)$ . De plus :  $A_0A_2 = 50$  ; donc :  $v(t_1 + t_2) = 50$ .

On pose :  $x = \frac{V}{v}$  ; on a : (1)  $\Leftrightarrow \begin{cases} x-1 = \frac{50}{vt_1} \\ x+1 = \frac{50}{vt_2} \end{cases}$ . On en déduit :  $\frac{1}{x-1} + \frac{1}{x+1} = \frac{v(t_1 + t_2)}{50} = 1$ .

$\frac{1}{x-1} + \frac{1}{x+1} = 1 \Leftrightarrow x^2 - 2x - 1 = 0$ . D'où :  $x = 1 + \sqrt{2}$ .

La distance totale parcourue par le messager est :  $d = V(t_1 + t_2)$ .

Donc :  $\frac{d}{50} = \frac{V}{v} = 1 + \sqrt{2}$  et  $d = 50(1 + \sqrt{2})$  ;  $d = 120,7$  km.

♦ Exercice 47 p. 202

On désigne par  $x$ ,  $y$  et  $z$  les quantités respectives de grains produits par une gerbe de chaque récolte ( $x > y > z$ ).

On a :  $\begin{cases} 2x = 1 + y \\ 3y = 1 + z \\ 4z = 1 + x \end{cases} \Leftrightarrow \begin{cases} 2x - y = 1 \\ x - 12y = 5 \\ z = 3y - 1 \end{cases} \Leftrightarrow \begin{cases} x = \frac{17}{23} \\ y = \frac{11}{23} \\ z = \frac{10}{23} \end{cases}$ .

♦ Exercice 48 p. 202

On désigne par  $x$ ,  $y$ ,  $z$  les chiffres respectifs des centaines, dizaines, unités du nombre  $n$  cherché.

On a :  $n = 100x + 10y + z$ .

On a :  $\begin{cases} x + y + z = 17 \\ 100y + 10x + z = 100x + 10y + z + 360 \\ 100x + 10y + z = 100x + 10y + z - 198 \end{cases} \Leftrightarrow \begin{cases} x + y + z = 17 \\ -x + y = 4 \\ -x + z = -2 \end{cases} \Leftrightarrow \begin{cases} 3x + 2 = 17 \\ y = x + 4 \\ z = x - 2 \end{cases} \Leftrightarrow \begin{cases} x = 5 \\ y = 9 \\ z = 3 \end{cases}$ .

On a donc :  $n = 593$ .

♦ Exercice 49 p. 202

On désigne par  $x$ ,  $y$  et  $z$  les prix respectifs d'un ananas, d'une mangue et d'une papaye et par  $P$  le prix payé par la troisième cliente.

On a :  $\begin{cases} 2x + 5y + 4z = 620 \\ 3x + 5y + z = 530 \\ 2x + 7y + 8z = P \end{cases}$ . Il faut démontrer que la 3<sup>e</sup> équation de ce système est une combinaison des

deux premières, c'est-à-dire déterminer deux nombres réels  $a$  et  $b$  tels que :

$2x + 7y + 8z = a(2x + 5y + 4z) + b(3x + 5y + z)$ .

Donc :  $\begin{cases} 2a + 3b = 2 \\ 5a + 5b = 7 \\ 4a + b = 8 \end{cases} \Leftrightarrow \begin{cases} a = \frac{11}{5} \\ b = -\frac{4}{5} \end{cases}$ . On en déduit :  $P = \frac{11}{5} \times 620 - \frac{4}{5} \times 530 = 940$ .

♦ Exercice 50 p. 202

On désigne par  $x$ ,  $y$  et  $z$  les débits respectifs, en minute des robinets A, B et C et par  $V$  le volume du bassin.

On a :  $\begin{cases} x + y = \frac{V}{20} \\ y + z = \frac{V}{15} \\ x + z = \frac{V}{12} \end{cases}$ . On en déduit :  $x + y + z = \frac{V}{10}$  ; donc :  $x = \frac{V}{30}$ ,  $y = \frac{V}{60}$ ,  $z = \frac{V}{20}$ .

- Il faut respectivement 30, 60 et 20 minutes aux robinets A, B et C pour remplir le bassin.
- Il faut 10 minutes aux trois robinets pour remplir le bassin.

♦ Exercice 51 p. 202

Deux sommets quelconques ont deux faces en communs, donc ils ont deux nombres en communs ; or la somme doit être constante. Ceci n'est possible que lorsque les troisièmes nombres sont identiques.

Il est donc impossible de trouver une telle situation.

♦ Exercice 52 p. 202

On a :  $\begin{cases} a + b + c = 15 \\ 100b + 10c + a = 100a + 10b + c + 432 \\ 100c + 10a + b = 100a + 10b + c - 243 \end{cases} \Leftrightarrow \begin{cases} a + b + c = 15 \\ -11a + 10b + c = 48 \\ -10a - b + 11c = -27 \end{cases} \Leftrightarrow \begin{cases} a = 4 \\ b = 9 \\ c = 2 \end{cases}$ .

# 11. Dénombrement

(pages 203 à 224 du livre de l'élève)

Maîtriser les notions de p-uplets, arrangements et combinaisons pour résoudre des problèmes concrets de dénombrement.

## COMMENTAIRES

Le langage introduit dans la deuxième leçon (compléments sur les ensembles) n'est certes pas indispensable mais trop répandu et universellement utilisé pour être ignoré. L'objectif essentiel de cette leçon n'est pas l'acquisition de ce vocabulaire mais d'attirer l'attention des élèves sur les deux associations d'idées suivantes :

- partition – somme ;
- produit cartésien – produit.

L'expérience montre en effet que beaucoup d'élèves confondent les situations où il faut additionner les cas et celles où il faut les multiplier. Les outils de dénombrement introduits sont : p-uplets, arrangements, permutations et combinaisons. Il y a traditionnellement deux façons d'introduire ces notions :

- celle partant de la notion de p-uplet ;
  - celle partant de la notion d'application d'un ensemble fini dans un autre.
- On a préféré la première par rapport à la seconde pour deux raisons :
- elle est plus concrète et donc plus opérationnelle pour les élèves ;
  - la notion d'application injective, introduite seulement en classe de première au chapitre 9, est trop récente pour les élèves.

On a cependant mentionné, pour chacun des outils introduits, les deux points de vue.

Les élèves ont été habitués à manipuler les arbres de choix dès le premier cycle. On pourra utiliser ces derniers pour illustrer certaines démonstrations de cours, ou pour résoudre des exercices. On évitera cependant de les utiliser systématiquement, l'objectif de ce chapitre étant de mettre au point des outils plus performants.

La principale difficulté pour un élève confronté à un problème de dénombrement est de choisir le bon outil. On l'habitue à exercer ce choix peu à peu en partant de situations simples et diverses.

## SAVOIR ET SAVOIR-FAIRE

### savoirs

Premiers outils pour dénombrer

- Utiliser un comptage.
- Utiliser un diagramme.
- Utiliser un arbre de choix.

Compléments sur les ensembles

- Cardinal d'un ensemble fini.
- Partition d'un ensemble :
  - définition ;
  - cardinal de la réunion de deux ensembles.
- Produit cartésien d'ensembles :
  - définition ;
  - cardinal du produit cartésien de deux ensembles.

p-uplets, arrangements, permutations

- Définitions :
  - p-uplets d'un ensemble ;
  - arrangements ;
  - permutations.

### savoir-faire

- Reconnaître les situations dans lesquelles on doit utiliser une partition et celles dans lesquelles on doit utiliser un produit cartésien.

• Lien entre :

– p-uplets et applications d'un ensemble fini dans un autre ;

– arrangements et injections d'un ensemble fini dans un autre ;

– permutations et bijections d'un ensemble fini dans un autre.

• Formules :

- du nombre de p-uplets d'un ensemble fini ;
- de  $A_n^p$ .

Combinaisons

- définition ;
- propriétés ;
- formule du binôme ;
- triangle de Pascal.

• Calculer  $A_n^p$  pour de faibles valeurs de  $n$  et  $p$  le plus rapidement possible sans utiliser les factorielles.

• Calculer  $A_n^p$  pour de grosses valeurs de  $n$  et  $p$  avec l'aide de la calculatrice.

• Utiliser la notation factorielle dans les calculs.

• Calculer  $C_n^p$  pour de faibles valeurs de  $n$  et  $p$  le plus rapidement possible sans utiliser les factorielles.

• Calculer  $C_n^p$  pour de grosses valeurs de  $n$  et  $p$  avec l'aide de la calculatrice.

• Bien différencier les trois notions fondamentales : p-uplet, arrangement et combinaison.

• Choisir la notion appropriée pour résoudre un problème de dénombrement.

## Exercices du cours

♦ Exercice 1.a p. 207

On procède par comptage. On peut descendre l'escalier des façons suivantes :

$1 + 1 + 1 + 1 + 1 + 1$  : 1 possibilité

$1 + 1 + 1 + 1 + 2$  : 5 possibilités

$1 + 1 + 2 + 2$  : 6 possibilités

$2 + 2 + 2$  : 1 possibilité

$1 + 1 + 1 + 3$  : 4 possibilités ;

$1 + 2 + 3$  : 6 possibilités ;

$3 + 3$  : 1 possibilité.

soit, au total, 24 façons de descendre l'escalier.

♦ Exercice 1.b p. 207

On peut utiliser un arbre :

il y a 5 façons de choisir la première couleur,

4 façons de choisir la deuxième couleur,

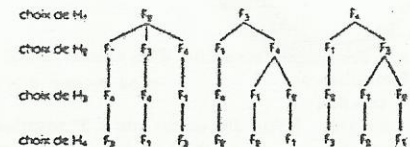
3 façons de choisir la troisième couleur.

On peut donc constituer 60 drapeaux différents.

♦ Exercice 1.c p. 207

On utilise un comptage ou un arbre de choix.

On obtient 9 façons possibles.



♦ Exercice 1.d p. 207

a) Dans le mot ACCRA, il y a deux A, deux C et un R. Soit 1, 2, 3, 4, 5 les numéros d'ordre des lettres :

• il y a 5 façons de placer le R : 1, 2, 3, 4 ou 5 ;

• le R étant placé (par exemple en 5), il y a 6 façons de placer les deux A dans les quatre places restantes : 1 et 2, 1 et 3, 1 et 4, 2 et 3, 2 et 4, 3 et 4 ;

• le R et les deux A étant placés, il y a 1 seule façon de placer les deux C.

Il y a donc  $5 \times 6 = 30$  anagrammes du mot ACCRA.

b) Il y a donc  $6 \times 10 = 60$  anagrammes du mot BAOBAB.

On aurait pu utiliser un arbre de choix.

♦ Exercice 1.e p. 207

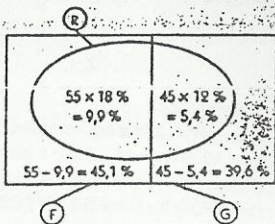
Il y a donc :  $45 \times \frac{12}{100} = 5,4\%$  (de l'effectif total) de garçons n'ayant jamais redoublé.

De même, il y a :  $55 \times \frac{18}{100} = 9,9\%$  (de l'effectif total) de filles n'ayant jamais redoublé.

Donc :

1. Il y a :  $9,9 + 5,4 = 15,3\%$  d'élèves n'ayant jamais redoublé.

2. Il y a :  $\frac{9,9}{9,9 + 5,4} \times 100 = 64,7\%$  de filles parmi les élèves n'ayant jamais redoublé.



♦ Exercice 2.a p. 211

Card  $(\mathcal{P}(E)) = 2^4 = 16$ .

♦ Exercice 2.b p. 211

1. On a :  $M_2 = \{4; 8; 10; 16\}$  et  $M_3 = \{9; 15; 21\}$ .

Donc :  $M_2 \cup M_3 = E$  et  $M_2 \cap M_3 = \emptyset$ . Par suite,  $M_2$  et  $M_3$  forment une partition de E.

2. On a :  $M_2 = \{4; 8; 10; 12; 16; 18\}$  et  $M_3 = \{9; 12; 15; 18; 21\}$ .

$M_2 \cup M_3 = F$ , mais  $M_2 \cap M_3 = \{12; 18\}$ . Donc  $M_2$  et  $M_3$  ne forment pas une partition de F.

♦ Exercice 2.c p. 211

1.  $M_2$ ,  $M_3$  et  $M_6$  ne constituent pas une partition de E car  $M_2 \cup M_3 \cup M_6 \neq E$ . Il y a en effet dans E des nombres qui ne sont ni des multiples de 2, ni des multiples de 3 ou de 6, par exemple, 5.

De plus,  $M_2 \cap M_3 = M_6 \neq \emptyset$ .

2.  $M_2 = \{0; 2; 4; 6; 8; 10; \dots; 50\}$ , Card  $(M_2) = 26$ ;

$M_3 = \{0; 3; 6; 9; \dots; 48\}$ , Card  $(M_3) = 17$ ;

$M_6 = \{0; 6; 12; 18; \dots; 48\}$ , Card  $(M_6) = 9$ ;

$M_2 \cup M_3 = \{0; 3; 4; 6; 8; 9; 10; \dots; 45; 46; 48; 50\}$ , Card  $(M_2 \cup M_3) = 34$ .

On a :  $34 = 26 + 17 - 9$ , donc, Card  $(M_2 \cup M_3) = \text{Card}(M_2) + \text{Card}(M_3) - \text{Card}(M_6)$ .

♦ Exercice 2.d p. 211

Lorsqu'on divise un nombre entier naturel par 5, il y a un reste unique qui est 0, 1, 2, 3 ou 4.

Donc,  $E_0 \cup E_1 \cup E_2 \cup E_3 \cup E_4 = N$  et les ensembles  $E_0, E_1, E_2, E_3$  et  $E_4$  sont deux à deux disjoints.

$E_0, E_1, E_2, E_3$  et  $E_4$  forment une partition de l'ensemble N.

♦ Exercice 2.e p. 211

1.  $E = \{1; 2; 3; 4; 5; 6\}$ . Le nombre de résultats est égal au nombre d'éléments de  $E \times E$ , c'est à dire : 36.

2. On désigne par le couple (a, b) les résultats du tirage : a pour le dé rouge, b pour le dé vert.

Les résultats pour lesquels la somme des deux nombres est supérieure ou égale à 9 sont :

(3, 6), (4, 5), (4, 6), (5, 4), (5, 5), (5, 6), (6, 3), (6, 4), (6, 5), (6, 6). Il y a donc 10 cas possibles.

♦ Exercice 3.a p. 215

Chaque rangement peut être représenté par un quintuplet  $(a_1, a_2, \dots, a_5)$ , où  $a_i$  est le numéro du tiroir ayant reçu la ième paire de chaussettes. Le nombre de rangements est donc égal au nombre de quintuplets d'un ensemble à 3 éléments, c'est à dire :  $3^5 = 243$ .

♦ Exercice 3.b p. 215

Chaque résultat du concours peut être représenté par un triplet  $(a_1, a_2, a_3)$  où  $a_i$  est le nom de la fille ayant reçu le ième prix. Chaque concurrente ne pouvant recevoir qu'un seul prix, ce triplet est un arrangement. Le nombre de résultats possibles est donc égal au nombre d'arrangements de 3 jeunes filles prises parmi 12, c'est à dire :  $A_{12}^3 = 1\,320$ .

♦ Exercice 3.c p. 215

Il y a autant d'alignements possibles que de permutations de l'ensemble des 6 athlètes, c'est à dire :  $6! = 720$ .

♦ Exercice 3.d p. 215

On peut tracer autant de vecteurs que de couples de points distincts. Le nombre de vecteurs est donc égal au nombre d'arrangements de deux éléments pris parmi 10, c'est à dire :  $A_{10}^2 = 90$ .

♦ Exercice 3.e p. 215

Il y a  $6!$  façons, c'est à dire 720 façons, de disposer les 6 drapeaux.

♦ Exercice 4.a p. 218

1. Il faut choisir un sous-ensemble de 3 éléments dans l'ensemble des 10 paires de chaussettes ; il y a donc  $C_{10}^3 = 120$  choix possibles.

2. De même, on a :  $C_{10}^3 \times C_2^3 = 120 \times 10 = 1\,200$  choix possibles.

♦ Exercice 4.b p. 218

1. Il faut choisir 4 élèves parmi 45, donc :  $C_{45}^4 = 148\,995$  choix possibles.

2. Il faut choisir 2 filles parmi 25 et 2 garçons parmi 20, donc :  $C_{25}^2 \times C_{20}^2 = 57\,000$  choix possibles.

3. On dénombre les bureaux ne contenant pas de filles :  $C_{20}^2 = 4\,845$  ; le nombre de bureaux contenant au moins 1 fille est donc :  $148\,995 - 4\,845 = 144\,150$  choix possibles.

♦ Exercice 4.c p. 218

Il faut choisir 11 garçons parmi 25 et 5 filles parmi 15, donc :  $C_{25}^{11} \times C_{15}^5 = 13\,385\,572\,200$  sélections possibles.

♦ Exercice 4.d p. 218

1. Pour tracer une droite, il faut choisir 2 points parmi les 10, donc :  $C_{10}^2 = 45$  droites.

2. Il y a autant de triangles que de combinaisons de 3 points pris parmi 10.

Le nombre de triangles est donc :  $C_{10}^3 = 120$ .

3. Il y a autant de quadrilatères que de combinaisons de 4 points pris parmi 10.

Le nombre de quadrilatères est donc :  $C_{10}^4 = 210$ .

♦ Exercice 5.a p. 221

a) Il y a 8 hauteurs possibles pour la paire  $\{A, R, D, V, 10, 9, 8, 7\}$  ; pour chacune d'elles, il y a  $C_4^3$  choix des 2 cartes qui composent la paire et  $C_{28}^2$  choix des 2 autres cartes.

Le nombre de tirages contenant 1 paire est :  $8 \times C_4^3 \times C_{28}^2 = 157\,248$ .

b) Il y a  $C_4^2$  choix possibles des hauteurs des deux paires ; dans chaque cas, il y a  $C_4^2 \times C_4^2$  choix des 2 cartes qui composent chacune d'elles et 24 choix pour la 5ème carte.

Le nombre de tirages contenant 2 paires est :  $C_4^2 \times C_4^2 \times C_4^2 \times 24 = 24\,192$ .

c) Il y a 8 hauteurs possibles pour le brelan ; pour chacune d'elles, il y a  $C_3^2$  choix des 3 cartes qui composent le brelan et  $C_{28}^2$  choix des 2 autres cartes.

Le nombre de tirages contenant 1 brelan est :  $8 \times C_3^2 \times C_{28}^2 = 12\,096$ .

d) Il y a 8 hauteurs possibles pour le carré ; pour chacune d'elles, il y a 1 choix des 4 cartes qui composent le carré et 28 choix pour la 5ème carte.

Le nombre de tirages contenant 1 carré est :  $8 \times 28 = 224$ .

e) Il y a  $A_4^3$  choix possibles des hauteurs, dans l'ordre, du brelan et de la paire ; il y a  $C_4^2$  choix des 3 cartes qui composent le brelan et  $C_4^2$  choix des 2 cartes qui composent la paire.

Le nombre de tirages contenant 1 full est :  $A_4^3 \times C_4^2 \times C_4^2 = 1\,344$ .

♦ Exercice 5.b p. 221

a) Il y a  $2^{10} = 1\,024$  résultats distincts ; b)  $C_{10}^n = \frac{10!}{n!(10-n)!}$  ; c)  $2^{10} - (C_{10}^0 + C_{10}^1 + C_{10}^2) = 1\,024 - 56 = 968$ .

◆ Exercice 5.c p. 221

1. a)  $C_{20}^3 \times C_5^2 = 17\,100$

b)  $C_{20}^5 - C_{20}^4 = 50\,276$

2. a)  $C_3^1 \times 20^3 \times 6^2 = 2\,880\,000$  ; b)  $26^5 - 20^5 = 8\,681\,376$

c)  $26^5 - (26 \times 25 \times 24 \times 23 \times 22) = 3\,987\,776$

◆ Exercice 5.d p. 221

1. On a  $3^{10} = 59\,049$  résultats possibles.

2. a) Pour arriver à un total de 15 points on peut avoir :

$5 \times 3 + 5 \times 0$  ou  $4 \times 3 + 3 \times 1 + 3 \times 0$  ou  $3 \times 3 + 6 \times 1 + 1 \times 0$ .

Le nombre de possibilités est :  $C_{10}^5 \times C_3^5 + C_{10}^4 \times C_3^4 \times C_3^3 + C_{10}^3 \times C_3^6 \times C_3^1 = 5\,292$ .

b) On cherche le nombre de résultats dont le total T est strictement supérieur à 25 ;

•  $T = 26 : 8 \times 3 + 2 \times 1$ , c'est-à-dire  $C_{10}^8 \times C_1^2 = 45$  résultats.

•  $T = 27 : 9 \times 3 + 1 \times 0$ , c'est-à-dire  $C_{10}^9 \times C_2^1 = 10$  résultats.

•  $T = 28 : 9 \times 3 + 1 \times 1$ , c'est-à-dire  $C_{10}^9 \times C_1^1 = 10$  résultats.

•  $T = 29$  : impossible.

•  $T = 30 : 10 \times 3$ , c'est-à-dire 1 résultat.

Le nombre de résultats dont le total T est strictement supérieur à 25 est donc : 66.

Le nombre de résultats dont le total T est inférieur ou égal à 25 points est :  $59\,049 - 66 = 58\,983$ .

c) On cherche le nombre de résultats dont le total T est inférieur ou égal à 3 :

•  $T = 0 : 10 \times 0$ , c'est-à-dire 1 résultat.

•  $T = 1 : 1 \times 1 + 9 \times 0$ , c'est-à-dire  $C_{10}^1 \times C_1^9 = 10$  résultats.

•  $T = 2 : 2 \times 1 + 8 \times 0$ , c'est-à-dire  $C_{10}^2 \times C_2^8 = 45$  résultats.

•  $T = 3 : 1 \times 3 + 9 \times 0$  ou  $3 \times 1 + 7 \times 0$ , c'est-à-dire  $C_{10}^1 \times C_3^9 + C_{10}^3 \times C_7^7 = 10 + 120 = 130$  résultats.

Le nombre de résultats dont le total T est inférieur ou égal à 3 est donc : 186.

Le nombre de résultats dont le total T est strictement supérieur à 3 points est :  $59\,049 - 186 = 58\,863$ .

☐ Exercices d'apprentissage

PARTITION D'UN ENSEMBLE, PRODUIT CARTÉSIEN

◆ Exercice 1 p. 222

On a :  $\text{Card}(A \cup B) = \text{Card}(A) + \text{Card}(B) - \text{Card}(A \cap B)$ . Donc :  $\text{Card}(A \cap B) = 6$ .

◆ Exercice 2 p. 222

On a :  $P = R \cup C \cup L$  et  $C = R \cap L \neq \emptyset$ . Donc R, C et L ne forment pas une partition de P.

◆ Exercice 3 p. 222

1. Il y a 0 partition à 1 sous-ensemble, 3 partitions à 2 sous-ensembles et 1 partition à 3 sous-ensembles. Il y a donc au total 4 partitions possibles.

2. Il y a 0 partition à 1 sous-ensemble, 7 partitions à 2 sous-ensembles et 6 partitions à 3 sous-ensembles. Il y a donc au total 13 partitions possibles.

◆ Exercice 4 p. 222

On a :  $E_0 \cup E_1 \cup \dots \cup E_9 = E$  ; de plus, les ensembles  $E_0, E_1, \dots, E_9$  sont non vides et deux à deux disjoints. Donc, les ensembles  $E_0, E_1, \dots, E_9$  forment une partition de E.

◆ Exercice 5 p. 222

1. Tout élément de P ne peut être élément de  $E_2, E_3, E_4$  ou  $E_7$ , sinon il ne serait pas premier.

Réciproquement, tout élément de  $E \setminus (E_2 \cup E_3 \cup E_4 \cup E_7)$  est premier car s'il ne l'était pas, il admettrait un diviseur égal à 2, 3, 5 ou 7. Donc :  $P = E \setminus (E_2 \cup E_3 \cup E_4 \cup E_7)$ .

2. On a :  $E = P \cup E_2 \cup E_3 \cup E_4 \cup E_7$  ; mais, ces ensembles ne sont pas disjoints deux à deux : par exemple  $6 \in E_2 \cap E_3$ . Donc, les ensembles P,  $E_2, E_3, E_4, E_7$  ne forment pas une partition de E.

◆ Exercice 6 p. 222

On désigne par x, y et z les cardinaux respectifs des ensembles A, B et C.

On a :  $xy = 18$  et  $xz = 15$  ; donc x est un entier naturel, distinct de 1, diviseur commun de 18 et 15.

On en déduit :  $x = 3$ . Donc,  $y = 6$  et  $z = 5$ .

On a :  $\text{Card}(A) = 3$  ;  $\text{Card}(B) = 6$  ;  $\text{Card}(C) = 5$ .

◆ Exercice 7 p. 222

On désigne respectivement par S, A et G les ensembles des sexes, âges et groupes sanguins.

Cheque fiche est constituée de 3 renseignements donnés dans l'ordre et peut donc être assimilée à un triplet (a, b, c) tel que :  $a \in S, b \in A$  et  $c \in G$ .

Le nombre de fiches est égal au cardinal du produit cartésien  $S \times A \times G$ , c'est-à-dire :  $2 \times 8 \times 8 = 128$ .

◆ Exercice 8 p. 222

Il y a 9 999 nombres compris entre 1 et 9 999. Le nombre de couples de lettres, différentes de O et I, est :  $24^2$ .

Une plaque minéralogique peut être assimilée à un couple (a, b) où a est un nombre compris entre 1 et 9 999 et b un couple de lettres. Le nombre de plaques est donc :  $9\,999 \times 24^2 = 5\,759\,424$ .

◆ Exercice 9 p. 222

1. Pour chacun des modèles A et B, il y a  $2 \times 5$ , c'est-à-dire 10 choix possibles et pour chacun des modèles C et D, il y a  $4 \times 5$ , c'est-à-dire 20 choix possibles.

Le nombre total de choix est donc :  $(2 \times 10) + (2 \times 20) = 60$ .

2. a) Pour une berline, il y a 4 modèles et 5 coloris, soit 20 choix possibles.

b) Par coloris, il y a 2 modèles A, 2 modèles B, 4 modèles C et 4 modèles D, soit 12 choix possibles.

c) Le client a le choix entre :  
• un coupé A ou B en 5 coloris : 10 possibilités ;  
• un coupé ou un cabriolet C ou D en 5 coloris : 20 possibilités.

Le nombre total de choix est donc 30.

P-UPLETS, ARRANGEMENTS, PERMUTATIONS

◆ Exercice 10 p. 222

On désigne par n le cardinal de l'ensemble E.

a)  $A_n^3 = 56 \Leftrightarrow n(n-1) = 56 \Leftrightarrow n = 8$       b)  $A_n^3 = 120 \Leftrightarrow n(n-1)(n-2) = 120 \Leftrightarrow n = 6$ .

◆ Exercice 11 p. 222

Cheque répartition est un arrangement des 3 masques parmi les 10 villageois pouvant les porter.

Le nombre de répartitions possibles est donc :  $A_{10}^3$ , c'est-à-dire 720.

◆ Exercice 12 p. 222

On désigne par n le nombre de villes desservies. Le nombre de vols de la compagnie est  $A_n^2$ .

Il faut donc résoudre dans N l'équation :  $A_n^2 = 7842 \Leftrightarrow n^2 - n - 7842 = 0 \Leftrightarrow n = 87$ .

◆ Exercice 13 p. 222

1. Chaque match peut être assimilé à un arrangement de 2 équipes choisies parmi 16, c'est-à-dire un couple d'équipes distinctes où la première composante est l'équipe qui reçoit, la seconde l'équipe qui est reçue. Le nombre de match à organiser est donc  $A_{16}^2 = 240$  (120 matchs aller et 120 matchs retour).

2. Dans chacune des 4 poules, ainsi que dans la poule finale, il y a  $A_4^2$ , c'est-à-dire 12 matchs.

Au total, il y a donc :  $5 \times 12 = 60$  matchs.

◆ Exercice 14 p. 222

On désigne par C l'ensemble des 3 cahiers et par E l'ensemble des 3 enfants.

a) Si chaque enfant reçoit un cahier, toute distribution est une bijection de C vers E.

Le nombre de répartitions est donc :  $3! = 6$ .

b) Si chaque enfant peut recevoir 0, 1, 2 ou 3 cahiers, toute distribution est une application de C vers E.

Le nombre de répartitions est donc :  $3^3 = 27$ .

◆ Exercice 15 p. 222

Soit C l'ensemble des convives et  $P = \{1; 2; 3; 4; 5; 6\}$  l'ensemble des sièges.

1. Chaque disposition des 6 convives est une bijection de C vers P.

Le nombre de dispositions est donc :  $6! = 720$ .

2. Soit H et F les sous-ensembles hommes et femmes de l'ensemble C.

Toute disposition des 6 convives est :

• soit une bijection de H vers  $\{1; 3; 5\}$  et une bijection de F vers  $\{2; 4; 6\}$  ;

• soit une bijection de F vers  $\{1; 3; 5\}$  et une bijection de H vers  $\{2; 4; 6\}$  ;

Le nombre de dispositions est donc :  $(3! \times 3!) + (3! \times 3!) = 72$ .

◆ Exercice 16 p. 222

1. Il y a autant de nombres distincts que de permutations de l'ensemble de ces 7 plaquettes c'est-à-dire :  $7! = 5\,040$ .

2. a) Il y a 4 choix possibles pour le chiffre des unités (1, 3, 5 ou 7) et 6! permutations possibles des 6 autres plaquettes. Le nombre de possibilités est donc :  $4 \times 6! = 288$ .

b) Le nombre obtenu est divisible par 4 s'il se termine par 12, 32, 52, 72, 24, 44, 64, 16, 36, 56 et 76, soit 11 cas. Dans chacun de ces cas, il y a 5! permutations possibles des 5 autres plaquettes.

Le nombre de possibilités est donc :  $11 \times 5! = 1\,320$ .

COMBINAISONS

◆ Exercice 17 p. 223

Il y a autant de poignées de main que de paires de personnes, c'est-à-dire :  $C_2^7 = 105$ .

◆ Exercice 18 p. 223

On peut construire des triangles, quadrilatères, pentagones et hexagones :

• construire un triangle, c'est choisir 3 points parmi 6, donc  $C_3^6$  possibilités ;

• construire un quadrilatère, c'est choisir 4 points parmi 6, donc  $C_4^6$  possibilités ;

• construire un pentagone, c'est choisir 5 points parmi 6, donc  $C_5^6$  possibilités ;

• construire un hexagone, c'est choisir 6 points parmi 6, donc  $C_6^6$  possibilités.

Le nombre total de polygones est donc :  $C_3^6 + C_4^6 + C_5^6 + C_6^6 = 42$ .

◆ Exercice 19 p. 223

1. Chaque choix de 3 questions est une combinaison de 3 éléments parmi les 10 de l'ensemble des questions ; il y a donc :  $C_3^{10}$ , c'est-à-dire 120 choix possibles.

2. Si on choisit la question 1, il reste à choisir 2 questions parmi les 9 autres ; il y a donc :  $C_2^9$ , c'est-à-dire 36 choix possibles.

◆ Exercice 20 p. 223

On peut assimiler un jury à une combinaison de 6 personnes prises parmi 17.

a) Les six personnes sont à choisir dans l'ensemble des 10 hommes ; le nombre de jurys possibles ne contenant que des hommes est donc :  $C_6^{10} = 210$ .

b) On choisit 4 hommes parmi 10 et deux femmes parmi 7 ; le nombre de jurys possibles contenant 4 hommes et 2 femmes est donc :  $C_4^{10} \times C_2^7 = 4\,410$ .

c) L'ensemble E des jurys cherchés est la réunion des trois ensembles disjoints suivants :

• l'ensemble A des jurys ne contenant aucune femme :  $\text{Card}(A) = 210$  ;

• l'ensemble B des jurys contenant une seule femme :  $\text{Card}(B) = C_1^{10} \times C_5^7 = 1\,764$  ;

• l'ensemble C des jurys contenant deux femmes seulement :  $\text{Card}(C) = 4\,410$ .

On a :  $\text{Card}(E) = \text{Card}(A) + \text{Card}(B) + \text{Card}(C) = 210 + 1\,764 + 4\,410 = 6\,384$ .

◆ Exercice 21 p. 223

1. Chaque choix est une combinaison de 5 cartes choisies parmi 32 ; il y a donc :  $C_5^{32} = 201\,376$  choix.

2. a) Il y a 8 Coeurs et 8 Piques dans un jeu de 32 cartes.

Le nombre de façons de choisir 3 Coeurs et 2 Piques est donc :  $C_3^8 \times C_2^8$ , c'est-à-dire, 1 568.

b) Il y a 4 couleurs et 5 cartes, donc il y aura 2 cartes d'une même couleur. Il y a 4 choix pour la couleur de 2 cartes ; ce choix étant fait, il y a un choix des 2 cartes de la même couleur et 8 choix possibles pour la carte de chacune des autres couleurs.

Le nombre de tirages contenant les quatre couleurs est donc :  $4 \times (C_2^5 \times 8 \times 8 \times 8) = 57\,344$ .

c) Soit E l'ensemble des tirages quelconques et A l'ensemble des tirages ne contenant pas de Coeur.

On a :  $\text{Card}(E) = C_5^{32} = 201\,376$  et  $\text{Card}(A) = C_5^{24} = 42\,504$  ; donc, le nombre de tirages contenant au moins 1 Coeur est :  $C_5^{32} - C_5^{24} = 158\,872$ .

◆ Exercice 22 p. 223

Puisqu'on tire les cartes simultanément, chaque tirage est une combinaison de 8 cartes.

a) On obtient exactement 3 As en choisissant d'abord 3 As parmi les 4, puis 5 cartes parmi les 28 autres. Le nombre de tirages contenant exactement 3 As est donc :  $C_3^4 \times C_5^{28} = 393\,120$ .

b) Un tirage contient au moins 3 As s'il contient 3 ou 4 As :

• le nombre de tirages contenant exactement 3 As est :  $C_3^4 \times C_5^{28} = 393\,120$  ;

• le nombre de tirages contenant exactement 4 As est :  $C_4^4 \times C_5^{28} = 20\,475$ .

Le nombre de tirages contenant au moins 3 As est donc :  $393\,120 + 20\,475 = 413\,595$ .

c) Il y a deux cas possibles : le tirage contient l'As de Coeur ou ne le contient pas.

• Si le tirage contient l'As de Coeur, il y a de plus 2 As parmi les 3 restants, 1 Coeur parmi les 7 restants et 3 cartes parmi les 21 qui ne sont ni des As, ni des Coeurs :  $C_2^3 \times C_1^7 \times C_3^{21}$  tirages

• Si le tirage ne contient pas l'As de Coeur, il y a les 3 autres As, 2 Coeurs parmi les 7 restants et 3 cartes parmi les 21 qui ne sont ni des As, ni des Coeurs :  $C_3^3 \times C_2^7 \times C_3^{21}$  tirages.

Le nombre de tirages contenant exactement 3 As et deux Coeurs est :  $C_3^3 \times C_2^7 \times C_3^{21} + C_3^3 \times C_2^7 \times C_3^{21} = 4\,851$ .

◆ Exercice 23 p. 223

1. Chaque choix est une combinaison de 3 chanteurs parmi les 15.

Le nombre de choix possibles est donc :  $C_3^{15} = 455$ .

2. Le chanteur n°1 étant choisi, il reste à choisir 2 chanteurs parmi les 14 autres ; donc :  $C_2^{14} = 91$  choix possibles.

3. Il faut choisir 3 chanteurs parmi les 7 numéros pairs ; donc :  $C_3^7 = 35$  choix possibles.

☐ Exercices d'approfondissement

◆ Exercice 24 p. 223

On a :  $C_n^p + C_n^{n-p} = \frac{(n-1)! (p+n-p)}{p! (n-p)!} + \frac{n! (n-1)!}{p! (n-p)!} = \frac{n!}{p! (n-p)!} = C_n^n$ .

◆ Exercice 25 p. 223

Soit E l'ensemble des élèves ( $\text{Card}(E) = 50$ ) et A l'ensemble des notes de 0 à 20.

a) Chaque notation est une application de E vers  $A_1 = \{0; 20\}$ , sous-ensemble de A, avec  $\text{Card}(A_1) = 11$ . Le nombre de notations possibles est :  $11^{50} = 1,17 \times 10^{52}$ .

b) Si 20 élèves ont la moyenne, il y a  $C_{20}^{50}$  répartitions possibles de ces élèves, puis  $11^{20} \times 10^{30}$  notations possibles pour chacune de ces répartitions.

Le nombre de notations possibles est :  $C_{20}^{50} \times 11^{20} \times 10^{30}$ .

c) Si 8 élèves ont une note comprise entre 0 et 5, le nombre de notations possibles est :  $C_8^{50} \times 6^8 \times 15^{42}$ .

◆ Exercice 26 p. 223

a) Un mot de 5 lettres est une application de l'ensemble  $\{1; 2; 3; 4; 5\}$  dans l'ensemble des 26 lettres de l'alphabet. Le nombre de mots distincts de 5 lettres est :  $26^5 = 11\,881\,376$ .

b) Si les lettres sont deux à deux distinctes, l'application précédente est injective.

Le nombre de mots de 5 lettres deux à deux distinctes est :  $A_{26}^5 = 7\ 893\ 600$ .

c) Il faut choisir 2 voyelles parmi 6, puis 3 consonnes parmi 20 et dénombrer les permutations de ces 5 lettres. Le nombre de mots distincts obtenus est :  $C_6^2 \times C_{20}^3 \times 5! = 20\ 522\ 000$ .

d) Le nombre de mots ne contenant aucune voyelle est  $20^5$ , donc le nombre de mots distincts contenant au moins une voyelle est :  $26^5 - 20^5 = 8\ 681\ 376$ .

#### ◆ Exercice 27 p. 223

1. Chaque façon de garer les 20 voitures dans les 20 places du parking est une permutation de ces 20 places. Le nombre de façons est :  $20! = 2,433 \times 10^{18}$ .

2. a) Les 10 voitures occupent les 10 places de la rangée A, soit  $10!$  possibilités, ou de la rangée B, soit également  $10!$  possibilités.

Le nombre total de façons de garer les 10 voitures est donc :  $2 \times 10! = 7\ 257\ 600$ .

b) Il y a choix possibles des 6 voitures garées dans la rangée A, puis  $A_{10}^4$  façons de les garer et  $A_4^4$  façons de garer les 4 autres dans la rangée B.

Le nombre total de façons de garer les 10 voitures est donc :  $C_6^6 \times A_{10}^6 \times A_4^4 \times 4! = 1,6 \times 10^{11}$ .

c) Le nombre de façons de ne garer aucune voiture dans la rangée A est  $10!$ ; donc le nombre total de façons de garer au moins une voiture dans la rangée A est :  $A_{20}^{10} - 10! = 6,7 \times 10^{11}$ .

#### ◆ Exercice 28 p. 223

1. Chaque classement est un arrangement de 5 chanteurs parmi 20.

Le nombre de classements possibles est :  $A_{20}^5 = 1\ 860\ 480$ .

2. a) Chaque classement est un quintuplet (a, b, c, d, e) tel que :

• (a, b) est un arrangement de 2 femmes choisies parmi 8 ;

• (c, d, e) un arrangement de 3 chanteurs pris parmi les 12 chanteurs restants.

Le nombre de classements ainsi obtenus est :  $A_8^2 \times A_{12}^3 = 73\ 920$ .

b) Il faut choisir 2 femmes parmi 8, puis 3 hommes parmi 12 et faire une permutation de ces 5 éléments. Le nombre de classements ainsi obtenus est :  $C_8^2 \times C_{12}^3 \times 5! = 739\ 200$ .

c) Les classements ne comportant pas au moins 2 femmes sont les classements comportant 0 ou 1 femme :

• le nombre de classements comportant 0 femme est :  $A_{12}^5$  ;

• le nombre de classements comportant 1 femme est :  $C_8^1 \times C_{12}^4 \times 5!$ .

Le nombre de classements comportant au moins 2 femmes est donc :  $A_{20}^5 - (A_{12}^5 + C_8^1 \times C_{12}^4 \times 5!) = 1\ 290\ 240$ .

3. Le nombre de classements ne contenant pas d'étranger est :  $A_{14}^5$  ; donc le nombre de classements contenant au moins un étranger est :  $A_{20}^5 - A_{14}^5 = 1\ 620\ 240$ .

4. Il y a deux cas : le chanteur étranger est une femme ou un homme.

• Si le chanteur étranger est une femme, on a choisi : 1 femme parmi 2 étrangères, 1 femme parmi 6 non étrangères et 3 hommes parmi 8 non étrangers ; on fait ensuite une permutation de ces 5 élus.

On a :  $2 \times 6 \times C_8^3 \times 5! = 80\ 640$  choix possibles.

• Si le chanteur étranger est un homme, on a choisi : 1 homme parmi 4 étrangers, 2 hommes parmi 8 non étrangers et 2 femmes parmi 6 non étrangères ; on fait ensuite une permutation de ces 5 élus.

On a :  $4 \times C_8^2 \times C_6^2 \times 5! = 201\ 600$  choix possibles.

Le nombre de classements contenant exactement un étranger et deux femmes est donc :  $232\ 240$ .

#### ◆ Exercice 29 p. 223

1. Le numéro de la première boule tirée doit être compris entre 1 et 9 ; il y a 9 choix possibles.

a) Tirages sans remise : il y a ensuite 9 choix pour la 2ème boule, 8 pour la 3ème et 7 pour la 4ème, soit :  $9 \times 8 \times 7 \times 6 = 3\ 024$  nombres distincts.

b) Tirages avec remise : il y a ensuite 10 choix pour la 2ème boule, pour la 3ème et pour la 4ème, soit :  $9 \times 10 \times 10 \times 10 = 9\ 000$ .

2. a) Chaque tirage est une combinaison de 4 boules prises parmi 10 puisque les boules sont tirées simultanément. On peut donc obtenir :  $C_{10}^4 = 210$  tirages différents.

b) Parmi les 210 tirages précédents, il y a  $C_9^4$ , c'est-à-dire 84 tirages contenant le chiffre 0 et  $C_9^4$ , c'est-à-dire 126 tirages ne contenant pas le chiffre 0.

Pour former un nombre de 4 chiffres ne commençant par 0 avec ces tirages, on a :

$84 \times (3 \times 3 \times 2) + 126 \times 4! = 1\ 512 + 3\ 024 = 4\ 536$  possibilités.

C'est bien le résultat trouvé à la question 1.a.

#### ◆ Exercice 30 p. 223

1. On désigne par C l'ensemble des 10 cadeaux et par E l'ensemble des 3 enfants. Toute distribution des 10 cadeaux est une application de C vers E : il y a  $3^{10}$ , c'est-à-dire 59 049 distributions possibles.

2. Les répartitions possibles des 10 cadeaux sont : (4, 3, 3) ou (4, 4, 2).

• Pour la répartition (4, 3, 3), il y a 3! choix possibles de l'ordre de distribution des 3 lots de cadeaux, puis  $C_{10}^4$  façons de choisir les 4 cadeaux du 1er lot et  $C_6^3$  façons de choisir les 3 cadeaux du 2ème lot ; les 3 cadeaux restants constituent le 3ème lot.

Le nombre de distributions du type (4, 3, 3) est donc :  $3! \times C_{10}^4 \times C_6^3 = 25\ 200$ .

• De même, le nombre de distributions du type (4, 4, 2) est :  $3! \times C_{10}^4 \times C_6^2 = 18\ 900$ .

Le nombre total de distributions est donc :  $44\ 100$ .

#### ◆ Exercice 31 p. 224

1. Soit  $A = \{1; 2; 3; 4; 5; 6\}$ . Chaque tirage est un triplet (a, b, c) d'éléments de A où a, b, c représentent les nombres apparus respectivement sur les 3 dés. Le nombre de résultats possibles est donc :  $6^3 = 216$ .

2. a) Il y a 3 choix possibles du dé où apparaît le chiffre 6, puis  $5 \times 5$  résultats possibles pour les deux autres dés. Le nombre de résultats comportant un seul six est donc :  $3 \times 5 \times 5 = 75$ .

b) Le nombre de résultats ne comportant pas de 6 est  $5^3$ . Donc, le nombre de résultats comportant au moins un 6 est  $6^3 - 5^3 = 91$ .

c) L'ensemble des résultats recherchés est la réunion des trois ensembles disjoints suivants :

• l'ensemble E des résultats comportant 2 six et 1 six ;

• l'ensemble F des résultats comportant 1 six et 2 six ;

• l'ensemble G des résultats comportant 1 six et un autre chiffre différent de 1 et 6 ;

Le nombre de résultats comportant au moins un six est :

$\text{Card}(E) + \text{Card}(F) + \text{Card}(G) = 3 + 3 + (3 \times 2 \times 4) = 30$ .

3. Cherchons toutes les décompositions de 13 en une somme de trois nombres entiers compris entre 1 et 6.

On trouve 5 combinaisons de trois nombres compris entre 1 et 6 dont la somme est 13 :

(6; 6; 1) : 3 tirages possibles ; (6; 5; 2) : 3! = 6 tirages possibles ; (6; 4; 3) : 3! = 6 tirages possibles ;

(5; 5; 3) : 3 tirages possibles ; (5; 4; 4) : 3 tirages possibles.

Le nombre de résultats, dont la somme des nombres est 13, est :  $(3 \times 3) + (2 \times 3!) = 21$ .

#### ◆ Exercice 32 p. 224

1. Chaque application de E vers F est définie par le triplet des images respectives des éléments de E.

Les applications surjectives de E vers F sont définies par les triplets :

(a', a', b') ; (a', b', a') ; (a', b', b') ; (b', b', a') ; (b', a', b') ; (b', a', a') ; il y a 6 surjections de E vers F.

2. a) f est surjectif, donc tous les éléments de F ont au moins un antécédent par f.

• Si tous les éléments de F avaient un seul antécédent, l'ensemble de ces antécédents aurait pour cardinal (n - 1).

Il y aurait donc un élément de E qui n'aurait pas d'image et f ne serait pas une application de E vers F.

Donc il existe au moins un élément a' de F ayant deux antécédents distincts a et b dans E.

• Soit  $E' = E - \{a\}$ . On a :  $\text{Card}(E') = \text{Card}(F) = n - 1$  ;

donc, la restriction de f à E' est une bijection de E' vers F.

Par suite, a' est le seul élément de F ayant deux antécédents distincts dans E.

b) On procède en deux étapes :

• il y a n - 1 choix possibles pour l'élément a' de F ayant deux antécédents dans E ;

• a' étant choisi, il y a  $C_n^2$  choix pour les antécédents de a' et (n - 2)! choix pour les antécédents des autres éléments de F.

Le nombre de surjections de E vers F est donc :  $(n - 1) \times C_n^2 \times (n - 2)! = \frac{(n - 1)! n!}{2}$ .

♦ Exercice 33 p. 224

1. Les pions noirs sont indiscernables, de même que les pions blancs.

Chaque configuration est une combinaison de 5 cases parmi 64 et une combinaison de 5 cases parmi les 59 restantes. Le nombre de configurations est donc :  $C_{64}^5 \times C_{59}^5 = 38\ 171\ 250\ 133\ 632$ .

2. a) Il y a 8 choix possibles de la ligne où sont les pions noirs, puis placements des pions sur cette ligne et  $C_{30}^5$  placements des pions blancs sur les cases restantes.

Le nombre de configurations est donc :  $8 \times C_8^1 \times C_{30}^5 = 2\ 242\ 860\ 928$ .

b) Il y a 2 choix possibles des deux lignes où sont respectivement les pions noirs et les pions blancs, puis, sur chacune de ces lignes, placements des pions.

Le nombre de configurations est donc :  $A_2^2 \times C_8^5 \times C_8^5 = 175\ 616$ .

c) Il y a 8 choix possibles de la ligne où sont les pions noirs, 8 choix de la colonne où sont les blancs, puis 3 cas :

- il n'y a pas de pion sur la case intersection de cette ligne et cette colonne :  $C_7^2 \times C_7^2$  possibilités ;
- il y a un pion noir sur cette case :  $C_7^1 \times C_7^2$  possibilités ;
- il y a un pion blanc sur cette case :  $C_7^2 \times C_7^1$  possibilités.

Le nombre de configurations est donc :  $64 \times (C_7^2 \times C_7^2 + 2 \times C_7^1 \times C_7^2) = 122\ 304$ .

♦ Exercice 34 p. 224

1. a) Il y a  $2^{10}$  10-uplet de l'ensemble  $\{P; F\}$  ; le nombre de résultats distincts à l'issue de 10 lancers est 1 024.

b) •  $n_P = n_F$  si on tire 5 fois P et 5 fois F ; chacun de ces résultats est une combinaison de 5 lancers « pile » parmi les 10 lancers.

Donc, le nombre de résultats tels que  $n_P = n_F$  est :  $C_{10}^5 = 252$ .

• Il y a autant de résultats tels que  $n_P > n_F$  que de résultats tels que  $n_P < n_F$ .

Donc, le nombre de résultats tels que  $n_P > n_F$  est :  $\frac{1}{2}(2^{10} - C_{10}^5) = 384$ .

2. a) Le nombre de résultats distincts à l'issue de  $n$  lancers est  $2^n$ .

b) On distingue deux cas :  $n$  pair et  $n$  impair.

• Si  $n$  est pair, par analogie avec la question 1.b, on a :

– le nombre de résultats tels que :  $n_P = n_F$  est  $C_n^{n/2}$  ;

– le nombre de résultats tels que :  $n_P > n_F$  est  $\frac{1}{2}(2^n - C_n^{n/2})$ .

Donc, le nombre de résultats tels que :  $n_P \geq n_F$  est :  $\frac{1}{2}(2^n + C_n^{n/2})$ .

• Si  $n$  est impair, il n'y a pas de résultats tels que  $n_P = n_F$  ; donc, il y a autant de résultats tels que  $n_P > n_F$  que de résultats tels que  $n_P < n_F$ , c'est-à-dire :  $\frac{1}{2} \times 2^n = 2^{n-1}$ .

♦ Exercice 35 p. 224

1. a) Chaque configuration est un quadruplet de l'ensemble  $\{+; -\}$  ; il y a  $2^4 = 16$  configurations.

b) Il y a 1 configuration du type ++++, 1 configuration du type ----

et  $C_4^2 = 6$  configurations du type +-+-.

Le nombre de configurations gagnantes est donc 8 (sur un total de 16).

2. Si on répète 3 fois l'opération précédente, il y a :  $16^3$ , c'est-à-dire 4 096 résultats possibles.

3. A chaque lancer de 4 cauris, il y a 8 configurations gagnantes. Donc, pour trois lancers, il y aura  $8^3$ , c'est-à-dire 512 résultats gagnants (soit, 1 chance sur 8).

♦ Exercice 36 p. 224

1. On désigne par A, B, C les trois joueurs. Il y a 3 joueurs, donc 3 résultats possibles pour chaque coup.

Tout résultat d'une partie de  $n$  coups est un  $n$ -uplet de l'ensemble  $\{A; B; C\}$ .

Donc, le nombre de résultats distincts à l'issue d'une partie de  $n$  coups est :  $3^n$ .

2. a) Le nombre de résultats distincts à l'issue d'une partie de 3 coups est  $3^3$ , c'est-à-dire 27.

b) Tout résultat de cette partie est un triplet de l'ensemble  $E = \{A; B; C\}$ .

• La partie est nulle pour tous les joueurs si chacun d'eux gagne une partie.

Toute permutation de E correspond à une telle partie : il y a  $3!$ , c'est-à-dire 6 résultats nuls pour les 3 joueurs.

• La partie est nulle pour un joueur donné, par exemple A, s'il gagne 1 coup (+ 6 graines) et en perd 2 (- 6 graines).

Tout triplet du type (A, B, C) ou (A, B, B) ou (A, C, C) correspond à une telle partie : il y a  $6 + 3 + 3$ , c'est-à-dire 12 résultats nuls pour un joueur donné.

• Il ne peut y avoir de partie gagnante pour deux joueurs ;

• La partie est gagnante pour un joueur donné, par exemple A, s'il gagne au moins 2 coups.

Tout triplet du type (A, A, A) ou (A, A, B) ou (A, A, C) correspond à une telle partie : il y a  $1 + 3 + 3$ , c'est-à-dire 7 résultats gagnants pour un joueur donné.

♦ Exercice 37 p. 224

Pour aller de A à B, le pion doit se déplacer 7 fois vers l'Est (E) et 7 fois vers le Nord (N).

Chaque déplacement est un 14-uplet contenant 7 fois E et 7 fois N. Le nombre de déplacements sera le nombre de façons de placer les 7 éléments E dans le 14-uplet :  $C_{14}^7$ , c'est-à-dire 3 432.

♦ Exercice 38 p. 224

a) Chaque sommet peut être joint à tous les autres, sauf lui-même est les deux sommets voisins :  $n(n-3)$  ; il faut ensuite diviser ce nombre par 2, car chaque diagonale est comptée deux fois, donc :  $\frac{n(n-3)}{2}$  ;

b) Chaque point d'intersection est une combinaison de deux diagonales ; le nombre maximum de points d'intersection est donc le nombre de combinaisons de 2 éléments pris parmi  $\frac{n(n-3)}{2}$ , c'est-à-dire :

$\frac{n(n-3)(n^2-3n-2)}{8}$  ; on exclut de ce nombre le nombre de paires de diagonales qui se coupent en un

sommet, soit :  $n C_{n-3}^2 = \frac{n(n-3)(n-4)}{2}$ .

On obtient :  $\frac{n(n-3)(n^2-3n-2)}{8} - \frac{n(n-3)(n-4)}{2} = \frac{n(n-3)(n^2-7n+14)}{8}$ .

♦ Exercice 39 p. 224

1. On a :  $(a+b)^n = C_n^0 a^n + C_n^1 a^{n-1} b + C_n^2 a^{n-2} b^2 + \dots + C_n^r a^{n-r} b^r + \dots + C_n^{n-1} a^1 b^{n-1} + C_n^n b^n$ .

En remplaçant  $a$  et  $b$  par 1 dans la relation précédente, on obtient :  $2^n = C_n^0 + C_n^1 + C_n^2 + \dots + C_n^n + \dots + C_n^n$ .

2. On peut construire des triangles, des quadrilatères, ..., des polygones à  $n$  côtés.

• Construire un triangle, c'est choisir 3 points parmi  $n$  :  $C_n^3$  possibilités ;

• Construire un quadrilatère, c'est choisir 4 points parmi  $n$  :  $C_n^4$  possibilités ;

• Construire un polygone à  $n$  côtés, c'est choisir  $n$  points parmi  $n$  :  $C_n^n$  possibilités.

Le nombre total de polygones ainsi construits est :

$$C_n^3 + \dots + C_n^4 + \dots + C_n^n = 2^n - (C_n^0 + C_n^1 + C_n^2) = 2^n - \frac{n^2 + n + 2}{2}$$

# 12. Limites et continuité

(pages 225 à 242 du livre de l'élève)

## OBJECTIFS

- Dégager, de façon intuitive la notion de limite, en plus ou en moins l'infini, en un point et à gauche ou à droite d'un point.
- Calculer algébriquement des limites : limite en l'infini de fonctions polynômes et rationnelles, levée d'indéterminations, ...
- Utiliser des techniques usuelles (théorèmes des gendarmes, ...) pour déterminer des limites.
- Introduire la notion de continuité en un point.

## COMMENTAIRES

- Ce chapitre est l'occasion pour l'élève de découvrir l'analyse mathématique. La notion de limite est introduite de façon intuitive, à l'aide d'exemples. Les définitions des limites et leur usage pour démontrer les théorèmes habituels du chapitre sont hors programme.
- Plusieurs définitions de limite finie en un point existent, elles ne sont pas équivalentes. Celle que nous avons retenue pour les classes scientifiques est compatible avec celle qui est généralement en usage dans l'enseignement supérieur. Nous la donnons à titre indicatif.
- Soit  $f$  une fonction numérique à variable réelle,  $x_0$  un point adhérent à son ensemble de définition  $D_f$  et  $l$  un nombre réel. On dit que  $f$  admet pour limite  $l$  en  $x_0$  lorsque :  $\forall \epsilon, \exists \alpha > 0, \forall x \in D_f \cap ]x_0 - \alpha; x_0 + \alpha[, |f(x) - l| < \epsilon$ . Il est bien sûr hors de question de demander à l'élève de connaître une telle définition.
- Les théorèmes admis de majoration, minoration, comparaison et ceux relatifs aux opérations sur les limites permettront alors de :
  - faire des calculs de limites ;
  - résoudre des problèmes où interviennent ces notions.
- En pratique, la notion de limite sera ultérieurement utilisée pour :
  - introduire la notion de dérivée ;
  - compléter le tableau de variation dans les études de fonctions.

## Notations

$$\lim_{x \rightarrow x_0} f(x) ; \lim_{x \rightarrow x_0} f(x) ; \lim_{x \rightarrow +\infty} f(x)$$

## SAVOIRS ET SAVOIR-FAIRE

### savoirs

### savoir-faire

#### Approche intuitive de la notion de limite

- Limite d'une fonction en l'infini :
  - limite infinie ;
  - limite finie ;
  - limite en l'infini des fonctions :  $x \rightarrow k ; x \rightarrow x^n ; x \rightarrow \frac{1}{x^n} ; x \rightarrow \sqrt{x}$ .
- Limite d'une fonction en  $x_0$  :
  - limite infinie ;
  - limite finie ;
  - limite à gauche, limite à droite ;
  - limite en 0 des fonctions :  $x \rightarrow k ; x \rightarrow x^n ; x \rightarrow \frac{1}{x^n} ; x \rightarrow \sqrt{x}$ .

#### Calculs de limites

- Propriétés de comparaison.
- Limites et opérations sur les fonctions.

- Lire ou conjecturer une limite en observant une courbe.
- Conjecturer une limite en utilisant une calculatrice.

- Calculer les limites en  $x_0$ , en l'infini d'une fonction :

## Exemples de recherche de limite :

- limite en l'infini d'un polynôme ;
- limite en l'infini d'une fraction rationnelle.

## Continuité

- Définition et propriétés.
- Prolongement d'une fonction par continuité.

## en utilisant les propriétés de comparaison ;

- en utilisant les opérations sur les fonctions.
- Lever une indétermination dans des cas simples.
- Démontrer qu'une fonction est continue en un point.
- Déterminer le prolongement par continuité d'une fonction en un point.

## Exercices du cours

### Exercice 1.a p. 230

$$a) \lim_{x \rightarrow +\infty} f(x) = +\infty \quad b) \lim_{x \rightarrow -\infty} f(x) = -\infty \quad c) \lim_{x \rightarrow -\infty} f(x) = +\infty$$

### Exercice 1.b p. 230

$$a) \lim_{x \rightarrow 0} f(x) = 0 ; \lim_{x \rightarrow -\infty} f(x) = 0 ; \lim_{x \rightarrow 0} f(x) = +\infty ; \lim_{x \rightarrow -2} f(x) = -\infty$$

$$b) \lim_{x \rightarrow -\infty} f(x) = 0 ; \lim_{x \rightarrow -\infty} f(x) = 0 ; \lim_{x \rightarrow 0} f(x) = +\infty ; \lim_{x \rightarrow 2} f(x) = +\infty ; \lim_{x \rightarrow 2} f(x) = -\infty$$

### Exercice 1.c p. 230

$$a) \lim_{x \rightarrow -\infty} f(x) = 3 ; \lim_{x \rightarrow -\infty} f(x) = 3 \quad b) \lim_{x \rightarrow +\infty} f(x) = 0 ; \lim_{x \rightarrow -\infty} f(x) = 0$$

$$c) \lim_{x \rightarrow -\infty} f(x) = 1 ; \lim_{x \rightarrow 1} f(x) = 1 \quad d) \lim_{x \rightarrow +\infty} f(x) = 0 ; \lim_{x \rightarrow -\infty} f(x) = 0$$

### Exercice 1.d p. 230

- a)  $f$  n'a pas de limite en  $x_0$  mais  $f$  possède une limite à gauche et à droite en  $x_0$ .
- b)  $c) f$  possède une limite en  $x_0$ .
- d)  $e) f$  n'a pas de limite en  $x_0$ .
- g)  $f$  possède une limite à gauche en  $x_0$ .
- h)  $f$  possède une limite à droite en  $x_0$ .

### Exercice 1.e p. 230

$$d) \lim_{x \rightarrow -\infty} f(x) = +\infty ; \lim_{x \rightarrow -\infty} f(x) = +\infty$$

### Exercice 2.a p. 238

$$a) \lim_{x \rightarrow +\infty} (-x^5 + x^4 + x^2 + x^2 + x + 1) = \lim_{x \rightarrow +\infty} (-x^5) = -\infty ; \lim_{x \rightarrow -\infty} (-x^5 + x^4 + x^3 + x^2 + x + 1) = \lim_{x \rightarrow -\infty} (-x^5) = +\infty$$

$$b) \lim_{x \rightarrow -\infty} \frac{2x^2 - x + 1}{x^2 + x - 1} = \lim_{x \rightarrow -\infty} \frac{2x^2}{x^2} = \lim_{x \rightarrow -\infty} 2x = -\infty ; \lim_{x \rightarrow +\infty} \frac{2x^2 - x + 1}{x^2 + x - 1} = +\infty$$

$$c) \lim_{x \rightarrow -\infty} \frac{\sqrt{x^2 + 1}}{2x + 3} = \frac{1}{2} ; \lim_{x \rightarrow -\infty} (\sqrt{x^2 + 1} + x) = 0$$

### Exercice 2.b p. 238

$$a) \lim_{x \rightarrow 2} \frac{2-x}{x-3} = +\infty ; \lim_{x \rightarrow 3} \frac{2-x}{x-3} = -\infty$$

$$b) \lim_{x \rightarrow 3} \frac{2-x}{9-x^2} = -\infty ; \lim_{x \rightarrow 3} \frac{2-x}{9-x^2} = +\infty$$

$$c) \lim_{x \rightarrow 2} \frac{x+2}{x^2-4} = \lim_{x \rightarrow 2} \frac{1}{x-2} = -\frac{1}{4}$$

$$\lim_{x \rightarrow -2} \frac{x-2}{x^2-x-2} = \lim_{x \rightarrow -2} \frac{-1}{x+1} = \frac{1}{3}$$

### Exercice 2.c p. 238

$$1. \forall x \in ]1; +\infty[, \frac{x - \cos x}{\cos x + 2} \geq \frac{x-1}{3}. \text{ Or } \lim_{x \rightarrow +\infty} \frac{x-1}{3} = +\infty ; \text{ donc } \lim_{x \rightarrow +\infty} \frac{x - \cos x}{\cos x + 2} = +\infty$$

$$2. \forall x \in ]-\infty; -1[, \frac{x - \cos x}{\cos x + 2} \leq x + 1. \text{ Or } \lim_{x \rightarrow -\infty} x + 1 = -\infty ; \text{ donc } \lim_{x \rightarrow -\infty} \frac{x - \cos x}{\cos x + 2} = -\infty$$

◆ Exercice 2.d p. 238

$\forall x \in \mathbb{R}, -\frac{x^2}{1+x^2} \leq f(x) \leq \frac{x^2}{1+x^2}$ . Donc:  $\lim_{x \rightarrow +\infty} f(x) = 0$  et  $\lim_{x \rightarrow -\infty} f(x) = 0$ .

◆ Exercice 3.a p. 240

On a:  $\lim_{x \rightarrow 1^-} x = 1 = f(1)$  et  $\lim_{x \rightarrow 1^+} x^2 = 1 = f(1)$ ; donc  $f$  est continue en 1.

◆ Exercice 3.b p. 240

$f: \mathbb{R} \rightarrow \mathbb{R}$  est définie sur  $\mathbb{R}^*$  et non prolongeable par continuité en 0.  
 $x \rightarrow \frac{1}{x}$

Exercices d'entraînement - Apprentissage

APPROCHE INTUITIVE DE LA NOTION DE LIMITE

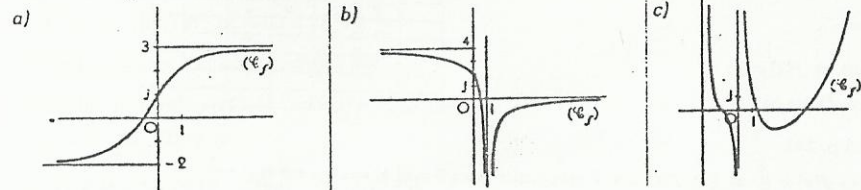
◆ Exercice 1 p. 241

$\lim_{x \rightarrow -\infty} f(x) = -\infty$ ;  $\lim_{x \rightarrow +\infty} f(x) = +\infty$ ;  $\lim_{x \rightarrow 0} f(x) = +\infty$ .

◆ Exercice 2 p. 241

$\lim_{x \rightarrow -\infty} f(x) = 1$ ;  $\lim_{x \rightarrow -2} f(x) = 1$ ;  $\lim_{x \rightarrow -2} f(x) = -\infty$ ;  $\lim_{x \rightarrow -2} f(x) = +\infty$ ;  $\lim_{x \rightarrow -2} f(x) = -\infty$ ;  $\lim_{x \rightarrow -2} f(x) = +\infty$ .

◆ Exercice 3 p. 241



◆ Exercice 4 p. 241

1.  $\forall x \in ]4; +\infty[$ ,  $f(x) - \sqrt{x} = \sqrt{x}(\sqrt{x} - 2)$ ; donc:  $f(x) > \sqrt{x}$ .

2. a) Si  $x > 10^8$ , alors  $f(x) > \sqrt{x} > 10^4$ ;  $A = 10^8$ .

b) Soit  $B > 0$ . Si  $x > B^2$ , alors  $f(x) > \sqrt{x} > B$ ; donc:  $\forall x \in \mathbb{R}^*$ ,  $\exists A = B^2/x > A \Rightarrow f(x) > B$ .

c)  $\lim_{x \rightarrow +\infty} f(x) = +\infty$ .

◆ Exercice 5 p. 241

1.  $\forall x \in \mathbb{R}^*$ ,  $|f(x) - 1| = \left| \frac{1}{x+1} \right| = \frac{1}{|x+1|}$ ; donc:  $\forall x \in \mathbb{R}^*$ ,  $|f(x) - 1| < \frac{1}{x}$ .

a) Si  $x > 10^4$ , alors  $|f(x) - 1| < 10^{-4}$ ;  $A = 10^4$ .

b) Soit  $\epsilon \in \mathbb{R}^*$ .  $\exists A = \frac{1}{\epsilon}/x > \frac{1}{\epsilon} \Rightarrow |f(x) - 1| < \epsilon$ .

c)  $\lim_{x \rightarrow +\infty} f(x) = 1$ .

◆ Exercice 6 p. 241

1.  $\forall x \in ]1; +\infty[$ ,  $f(x) - \frac{x}{2} = \frac{x(x-1)}{2(x+1)}$ ; donc:  $f(x) > \frac{x}{2}$ .

2. a) Si  $x > 2 \times 10^6$ , alors  $|f(x)| > 10^6$ .

b) Soit  $B \in \mathbb{R}^*$ .  $x > 2B$ , alors  $f(x) > B$ . On peut rendre  $f(x)$  aussi grand que l'on veut.

c)  $\lim_{x \rightarrow +\infty} f(x) = +\infty$ .

◆ Exercice 7 p. 241

$\forall x \in \mathbb{R}, x^2 \leq x^2 + \cos^2 x \leq x^2 + 1$ . Donc:  $\forall x \in ]0; +\infty[$ ,  $x \leq f(x) \leq \sqrt{x^2 + 1}$ .

On a:  $\lim_{x \rightarrow +\infty} x = +\infty$  et  $\lim_{x \rightarrow +\infty} \sqrt{x^2 + 1} = +\infty$ ; donc:  $\lim_{x \rightarrow +\infty} f(x) = +\infty$ .

◆ Exercice 8 p. 241

$\forall x \in \mathbb{R}, 0 \leq \sin^2 x \leq 1 \Rightarrow 1 \leq \sqrt{1 + \sin^2 x} \leq \sqrt{2}$ .

$\forall x \in ]0; +\infty[$ ,  $x \leq f(x) \leq x\sqrt{2}$ ; donc:  $\lim_{x \rightarrow +\infty} f(x) = +\infty$ ,  $\forall x \in ]-\infty; 0]$ ,  $x\sqrt{2} \leq f(x) \leq x$ ; donc:  $\lim_{x \rightarrow -\infty} f(x) = -\infty$ .

◆ Exercice 9 p. 241

$\forall x \in ]1; +\infty[$ ,  $f(x) - \sqrt{x} + 1 = \left(\frac{2}{\sqrt{x}-1}\right)$ ; donc:  $f(x) > \sqrt{x} + 1$ . Par suite:  $\lim_{x \rightarrow +\infty} f(x) = +\infty$ .

◆ Exercice 10 p. 241

a)  $\lim_{x \rightarrow +\infty} f(x) = \lim_{x \rightarrow +\infty} 4x^3 = +\infty$ ;  $\lim_{x \rightarrow -\infty} f(x) = \lim_{x \rightarrow -\infty} 4x^3 = -\infty$

b)  $\lim_{x \rightarrow +\infty} f(x) = \lim_{x \rightarrow +\infty} x^4 = +\infty$ ;  $\lim_{x \rightarrow -\infty} f(x) = \lim_{x \rightarrow -\infty} x^4 = +\infty$

c)  $\lim_{x \rightarrow +\infty} f(x) = \lim_{x \rightarrow +\infty} (-x^5) = -\infty$ ;  $\lim_{x \rightarrow -\infty} f(x) = \lim_{x \rightarrow -\infty} (-x^5) = +\infty$

d)  $\lim_{x \rightarrow +\infty} f(x) = \lim_{x \rightarrow +\infty} (-x^6) = -\infty$ ;  $\lim_{x \rightarrow -\infty} f(x) = \lim_{x \rightarrow -\infty} (-x^6) = -\infty$

e)  $\lim_{x \rightarrow +\infty} f(x) = \lim_{x \rightarrow +\infty} \frac{4x}{2x} = 2$ ;  $\lim_{x \rightarrow -\infty} f(x) = \lim_{x \rightarrow -\infty} \frac{4x}{2x} = 2$

f)  $\lim_{x \rightarrow +\infty} f(x) = \lim_{x \rightarrow +\infty} \left(-\frac{5x}{x}\right) = -5$ ;  $\lim_{x \rightarrow -\infty} f(x) = \lim_{x \rightarrow -\infty} \left(-\frac{5x}{x}\right) = -5$

g)  $\lim_{x \rightarrow +\infty} f(x) = \lim_{x \rightarrow +\infty} \frac{x^2}{3x^2} = \frac{1}{3}$ ;  $\lim_{x \rightarrow -\infty} f(x) = \lim_{x \rightarrow -\infty} \frac{x^2}{3x^2} = \frac{1}{3}$

h)  $\lim_{x \rightarrow +\infty} f(x) = \lim_{x \rightarrow +\infty} \frac{x^2}{x^2} = 0$ ;  $\lim_{x \rightarrow -\infty} f(x) = \lim_{x \rightarrow -\infty} \frac{x^2}{x^2} = 0$

i)  $\lim_{x \rightarrow +\infty} f(x) = \lim_{x \rightarrow +\infty} \frac{x^3}{-2x} = -\infty$ ;  $\lim_{x \rightarrow -\infty} f(x) = \lim_{x \rightarrow -\infty} \frac{x^3}{-2x} = -\infty$

j)  $\lim_{x \rightarrow +\infty} f(x) = \lim_{x \rightarrow +\infty} \frac{x^2}{-3x^2} = -\frac{1}{3}$ ;  $\lim_{x \rightarrow -\infty} f(x) = \lim_{x \rightarrow -\infty} \frac{x^2}{-3x^2} = -\frac{1}{3}$

◆ Exercice 11 p. 241

a)  $\lim_{x \rightarrow -2} (x-2)^2 = 0$  et  $(x-2)^2 > 0$ ; donc:  $\lim_{x \rightarrow -2} f(x) = +\infty$ .

b)  $\lim_{x \rightarrow -2} f(x) = \lim_{x \rightarrow -2} (x-2) = -4$

c)  $\lim_{x \rightarrow -1} f(x) = \lim_{x \rightarrow -1} \frac{x+4}{x+1} = \frac{5}{2}$

d)  $\lim_{x \rightarrow 2} f(x) = -\infty$  et  $\lim_{x \rightarrow 2} f(x) = +\infty$

e)  $\lim_{x \rightarrow 0} f(x) = +\infty$  et  $\lim_{x \rightarrow 0} f(x) = -\infty$ .

◆ Exercice 12 p. 241

a)  $f(x) = \sqrt{x+2}$ ; donc:  $\lim_{x \rightarrow 4} f(x) = 4$

b)  $f(x) = \frac{1}{\sqrt{x+2}+2}$ ; donc:  $\lim_{x \rightarrow 2} f(x) = \frac{1}{4}$

c)  $f(x) = \frac{\sqrt{1+x^2}+1}{x}$ ;

donc:  $\lim_{x \rightarrow 0} f(x) = -\infty$  et  $\lim_{x \rightarrow 0} f(x) = +\infty$

d)  $f(x) = -\frac{x^2+4x+16}{x\sqrt{x+8}}$ ; donc:  $\lim_{x \rightarrow 4} f(x) = -3$ .

◆ Exercice 13 p. 241

a)  $f(x) = \frac{1x\sqrt{3+\frac{1}{x^2}}}{x(3-\frac{1}{x})}$ ; donc: si  $x > 0$ ,  $f(x) = \frac{\sqrt{3+\frac{1}{x^2}}}{3-\frac{1}{x}}$  et si  $x < 0$ ,  $f(x) = -\frac{\sqrt{3+\frac{1}{x^2}}}{3-\frac{1}{x}}$ .

Par suite:  $\lim_{x \rightarrow +\infty} f(x) = \frac{\sqrt{3}}{3}$  et  $\lim_{x \rightarrow -\infty} f(x) = -\frac{\sqrt{3}}{3}$ .

b)  $\lim_{x \rightarrow +\infty} f(x) = +\infty$ .

Si  $x < 0$ ,  $f(x) = \frac{7x+3}{x+2-\sqrt{x^2-3x-1}} = \frac{7+\frac{3}{x}}{1+\frac{2}{x}+\sqrt{1-\frac{3}{x}+\frac{1}{x^2}}}$ ; donc:  $\lim_{x \rightarrow -\infty} f(x) = \frac{7}{2}$ .

c) Si  $x > 0$ ,  $f(x) = \frac{\sqrt{3 + \frac{1}{x^2}} + 5}{3 - \frac{1}{x}}$ ; donc:  $\lim_{x \rightarrow +\infty} f(x) = \frac{5 + \sqrt{3}}{3}$ .

Si  $x < 0$ ,  $f(x) = \frac{5 - \sqrt{3 + \frac{1}{x^2}}}{3 - \frac{1}{x}}$ ; donc:  $\lim_{x \rightarrow -\infty} f(x) = \frac{5 - \sqrt{3}}{3}$ .

d) Si  $x > 0$ ,  $f(x) = \frac{1 - \frac{1}{x}}{\sqrt{1 + \frac{1}{x}} + \sqrt{1 + \frac{1}{x^2}}}$ ; donc:  $\lim_{x \rightarrow +\infty} f(x) = \frac{1}{2}$ .

Si  $x < 0$ ,  $f(x) = -\frac{1 - \frac{1}{x}}{\sqrt{1 + \frac{1}{x}} + \sqrt{1 + \frac{1}{x^2}}}$ ; donc:  $\lim_{x \rightarrow -\infty} f(x) = -\frac{1}{2}$ .

e)  $f(x) = \frac{\sqrt{3 + \frac{1}{x^2}}}{\sqrt{4 + \frac{3}{x^2}}}$ ; donc:  $\lim_{x \rightarrow +\infty} f(x) = \frac{\sqrt{3}}{2}$  et  $\lim_{x \rightarrow -\infty} f(x) = \frac{\sqrt{3}}{2}$ .

f) Si  $x > 0$ ,  $f(x) = \frac{1 - \sqrt{1 - \frac{3}{x} + \frac{1}{x^2}}}{2 + \sqrt{4 + \frac{1}{x}}}$ ; donc:  $\lim_{x \rightarrow +\infty} f(x) = 0$ .

Si  $x < 0$ ,  $f(x) = \frac{1 + \sqrt{1 - \frac{3}{x} + \frac{1}{x^2}}}{2 - \sqrt{4 + \frac{1}{x}}}$ ; donc:  $\lim_{x \rightarrow -\infty} f(x) = +\infty$ .

◆ Exercice 14 p. 242

a)  $\lim_{x \rightarrow 0} \frac{x}{\sin x} = 1$

c)  $\lim_{x \rightarrow 0} \frac{\tan x}{x} = \lim_{x \rightarrow 0} \frac{\sin x}{x} \times \frac{1}{\cos x} = 1$

e)  $\lim_{x \rightarrow 0} \frac{\tan 2x}{5x} = \lim_{x \rightarrow 0} \frac{\tan 2x}{2x} \times \frac{2x}{5x} = \frac{2}{5}$

g)  $\lim_{x \rightarrow 0} \frac{\tan 2x}{\tan 5x} = \lim_{x \rightarrow 0} \frac{\tan 2x}{2x} \times \frac{5x}{\tan 5x} \times \frac{2x}{5x} = \frac{2}{5}$

b)  $\lim_{x \rightarrow 0} (\frac{\sin x}{x} + \tan x) = 1$

d)  $\lim_{x \rightarrow 0} \frac{\sin 3x}{2x} = \lim_{x \rightarrow 0} \frac{\sin 3x}{3x} \times \frac{3x}{2x} = \frac{3}{2}$

f)  $\lim_{x \rightarrow 0} \frac{\sin 3x}{\sin 5x} = \lim_{x \rightarrow 0} \frac{\sin 3x}{3x} \times \frac{5x}{\sin 5x} \times \frac{3x}{5x} = \frac{3}{5}$

h)  $\lim_{x \rightarrow 0} \frac{\sin 2x}{x \cos x} = \lim_{x \rightarrow 0} 2 \left( \frac{\sin 2x}{2x} \right) \times \left( \frac{1}{\cos x} \right) = 2$ .

◆ Exercice 15 p. 242

a)  $f(x) = \frac{\sin(\frac{x}{2})}{\frac{x}{2}} \times \cos(\frac{x}{2} + \frac{\pi}{6})$ ; donc:  $\lim_{x \rightarrow 0} f(x) = 1 \times \frac{\sqrt{3}}{2} = \frac{\sqrt{3}}{2}$ .

On peut aussi utiliser:  $f(x) = \frac{\sqrt{3}}{2} \frac{\sin x}{x} + \frac{1}{2} \frac{\cos x - 1}{x}$ .

b)  $f(x) = -\frac{\sin(\frac{x}{2})}{\frac{x}{2}} \times \sin(\frac{x}{2} + \frac{\pi}{4})$ ; donc:  $\lim_{x \rightarrow 0} f(x) = -\frac{\sqrt{2}}{2}$ .

On peut aussi utiliser:  $f(x) = \frac{\sqrt{2}}{2} \frac{\cos x - 1}{x} - \frac{\sqrt{2}}{2} \frac{\sin x}{x}$ .

◆ Exercice 16 p. 242

1.  $\forall x \in ]0; 1[$ ;  $1; \sqrt{x} \in ]0; 1[$ ; donc:  $E(\sqrt{x}) = 0$  et  $f(x) = 0$ ; par suite,  $\lim_{x \rightarrow 0} f(x) = 0$ .

2. Si  $x \in ]0; 1[$ , alors  $f(x) = 0$ ; donc:  $0 \leq f(x) \leq \frac{1}{\sqrt{x}}$ .

Si  $x \in ]1; +\infty[$ , alors  $\sqrt{x} \in ]1; +\infty[$  et  $1 \leq E(\sqrt{x}) \leq \sqrt{x}$ ; donc:  $0 \leq \frac{1}{x} \leq \frac{E(\sqrt{x})}{x} \leq \frac{1}{\sqrt{x}}$ .

Donc:  $\forall x \in ]0; +\infty[$ ,  $0 \leq f(x) \leq \frac{1}{\sqrt{x}}$ . Par suite,  $\lim_{x \rightarrow +\infty} f(x) = 0$ .

◆ Exercice 17 p. 242

1.  $\forall x \in ]0; +\infty[$ ,  $x \leq E(x) \leq x + 1 \Rightarrow 2x \leq x + E(x) \leq 2x + 1$ ; donc:  $2 \leq f(x) \leq \frac{2x+1}{x}$ .

2.  $\lim_{x \rightarrow +\infty} f(x) = 2$ .

◆ Exercice 18 p. 242

a)  $\lim_{x \rightarrow 2} f(x) = -5$  et  $f(2) = -5$ ;  $f$  est continue en 2

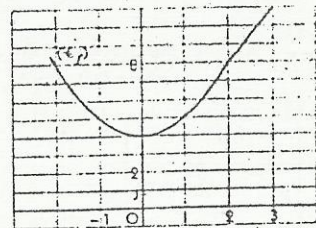
b)  $\lim_{x \rightarrow 4} f(x) = 0$  et  $f(4) = 0$ ;  $f$  est continue en 0

c)  $\lim_{x \rightarrow 1} f(x) = -\frac{3}{2}$  et  $f(1) = -\frac{3}{2}$ ;  $f$  est continue en 1

d)  $D_f = \mathbb{R} - \{-2\}$ ;  $f$  n'est pas continue en  $-2$ .

◆ Exercice 19 p. 242

$f(x) = x^2 + 4$ , si  $x \leq 2$   
 $f(x) = 3x + 2$ , si  $x > 2$ .



2.  $\lim_{x \rightarrow 2} f(x) = 8$  et  $f(2) = 8$ ;

donc:  $f$  est continue en 2.

◆ Exercice 20 p. 242

$f(0) = \frac{1}{3}$ ;  $\lim_{x \rightarrow 0} f(x) = \frac{1}{3}$  et  $\lim_{x \rightarrow 0} f(x) = a$ .  $f$  est continue en 0 et si et seulement si  $a = \frac{1}{3}$ .

◆ Exercice 21 p. 242

a)  $D_f = \mathbb{R} - \{\frac{1}{3}, 2\}$ ,  $\forall x \in D_f$ ,  $f(x) = \frac{x-1}{3x-1}$  et  $\lim_{x \rightarrow 1} f(x) = \frac{1}{5}$ .

$f$  admet un prolongement par continuité  $g$  en 2 défini par:  $\begin{cases} g(x) = \frac{x^2 - 3x + 2}{3x^2 - 7x + 2}, & \text{si } x \in \mathbb{R} - \{\frac{1}{3}, 2\} \\ g(2) = \frac{1}{5} \end{cases}$

b)  $D_f = \mathbb{R}^*$ ;  $\begin{cases} f(x) = -1, & \text{si } x \leq 0 \\ f(x) = 1, & \text{si } x > 0 \end{cases}$ ; donc:  $\begin{cases} \lim_{x \rightarrow 0} f(x) = -1 \\ \lim_{x \rightarrow 0} f(x) = 1 \end{cases}$

$f$  n'admet pas de prolongement par continuité en 0.

c)  $D_f = ]0; +\infty[$ ;  $\forall x \in D_f$ ,  $f(x) = \sqrt{x} - 1$  et  $\lim_{x \rightarrow 0} f(x) = -1$ .

$f$  admet un prolongement par continuité  $g$  en 0 défini par:  $\begin{cases} g(x) = \frac{x - \sqrt{x}}{\sqrt{x}}, & \text{si } x \in ]0; +\infty[ \\ g(0) = -1 \end{cases}$

d)  $D_f = \cup ]-\frac{\pi}{2} + k\pi, \frac{\pi}{2} + k\pi[ - \{0\}$ , avec  $k \in \mathbb{Z}$ ;  $\lim_{x \rightarrow 0} f(x) = 1$ .

$f$  admet un prolongement par continuité  $g$  en 0 défini par:  $\begin{cases} g(x) = \frac{\tan x}{x}, & \text{si } x \in D_f \\ g(0) = 1 \end{cases}$

◆ Exercice 22 p. 242

$D_f = [-1; +\infty[ - \{0\}$  et  $D_g = \{-1; +\infty[$ .

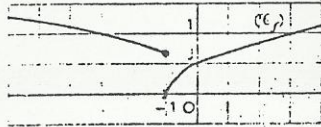
$\forall x \in D_f$ ,  $f(x) = g(x)$ ;  $\lim_{x \rightarrow 0} f(x) = \frac{1}{2} = g(0)$ . Donc  $g$  est le prolongement par continuité de  $f$  en 0.

## Exercices d'approfondissement

### ◆ Exercice 23 p. 242

$$f(-1) = \sqrt{2} ; \lim_{x \rightarrow -1^+} f(x) = \sqrt{2} \text{ et } \lim_{x \rightarrow -1^-} f(x) = 0.$$

$f$  n'est pas continue en  $-1$ , car  $f$  n'a pas de limite en  $-1$ .



### ◆ Exercice 24 p. 242

$$a) \begin{cases} f(x) = -\sin x, & \text{si } x \in [-1; 0[ \\ f(x) = 0, & \text{si } x \in [0; 1] \end{cases}$$

$$\lim_{x \rightarrow 0^+} f(x) = \lim_{x \rightarrow 0^+} (-\sin x) = 0 \text{ et } \lim_{x \rightarrow 0^-} f(x) = 0 ; \text{ donc } : \lim_{x \rightarrow 0} f(x) = 0.$$

$$b) \forall x \in [-1; 1], f(x) = 0 ; \text{ donc } : \lim_{x \rightarrow 0} f(x) = 0.$$

$$c) \begin{cases} f(x) = -1, & \text{si } x \in [-1; 0[ \\ f(x) = 0, & \text{si } x \in [0; 1] \end{cases} ; \text{ donc } : \lim_{x \rightarrow 0^-} f(x) = -1 \text{ et } \lim_{x \rightarrow 0^+} f(x) = 0.$$

Par suite :  $f$  n'a pas de limite en  $0$ .

$$d) \begin{cases} f(x) = -1, & \text{si } x \in [-\frac{\pi}{6}; 0[ \\ f(x) = 0, & \text{si } x \in [0; \frac{\pi}{6}] \end{cases} ; \text{ donc } : \lim_{x \rightarrow 0^-} f(x) = -1 \text{ et } \lim_{x \rightarrow 0^+} f(x) = 0.$$

Par suite :  $f$  n'a pas de limite en  $0$ .

$$e) \forall x \in [-1; 0[ \cup ]0; 1], \frac{1}{x} - 1 < E(\frac{1}{x}) \leq \frac{1}{x}.$$

$$\forall x \in [-1; 0[, 1 \leq f(x) < 1 - x ; \text{ donc } : \lim_{x \rightarrow 0^-} f(x) = 1.$$

$$\forall x \in ]0; 1], 1 - x < f(x) \leq 1 ; \text{ donc } : \lim_{x \rightarrow 0^+} f(x) = 1.$$

Par suite :  $\lim_{x \rightarrow 0} f(x) = 1$ .

$$f) \text{ Si } x \in ]-1; 0[, f(x) = 2 ; \text{ donc } : \lim_{x \rightarrow 0^-} f(x) = 2.$$

$$\text{ Si } x \in ]0; 1[, f(x) = E(x) - 1 = -1 ; \text{ donc } : \lim_{x \rightarrow 0^+} f(x) = -1.$$

Donc,  $f$  n'a pas de limite en  $0$ .

### ◆ Exercice 25 p. 242

Soit  $f$  une fonction continue en  $x_0$ . Démontrons que :  $\lim_{h \rightarrow 0} [f(x_0 + h) - f(x_0 - h)] = 0$ .

Posons :  $x = x_0 - h$  ; dire que  $h$  tend vers  $0$  revient à dire que  $x$  tend vers  $x_0$ .

$$\text{ Or } : f \text{ est continue en } x_0 \Leftrightarrow \lim_{x \rightarrow x_0} f(x) = f(x_0) \Leftrightarrow \lim_{h \rightarrow 0} f(x_0 - h) = f(x_0) ;$$

$$\text{ de même on a } : \lim_{h \rightarrow 0} f(x_0 + h) = f(x_0)$$

$$\text{ Donc } : \lim_{h \rightarrow 0} [f(x_0 + h) - f(x_0 - h)] = f(x_0) - f(x_0) = 0.$$

$$2. \text{ La réciproque est fautive ; en effet, soit } f(x) = \frac{x-1}{\sqrt{x-1}}.$$

$$\text{ On a } : \lim_{h \rightarrow 0} [f(1+h) - f(1-h)] = \lim_{h \rightarrow 0} (\sqrt{1+h} - \sqrt{1-h}) = 0, \text{ mais } f \text{ n'est pas continue en } 1.$$

### ◆ Exercice 26 p. 242

$$\forall x \in \mathbb{R}^*, \frac{1}{x} - 1 \leq f(x) \leq 1 + \frac{1}{x}. \text{ Donc } : \lim_{x \rightarrow 0^+} f(x) = +\infty \text{ et } \lim_{x \rightarrow 0^-} f(x) = -\infty.$$

### ◆ Exercice 27 p. 242

$$\forall x \in \mathbb{R}, 0 \leq \sin^2 x \leq 1 \Rightarrow \frac{1}{3} \leq \frac{1}{\sin^2 x + 2} \leq \frac{1}{2}.$$

$$\text{ Si } x > 1, \text{ alors } \frac{x-1}{3} \leq f(x) \leq \frac{x-1}{2} ; \text{ donc } : \lim_{x \rightarrow +\infty} f(x) = +\infty.$$

$$\text{ Si } x < -1, \text{ alors } \frac{x-1}{2} \leq f(x) \leq \frac{x-1}{3} ; \text{ donc } : \lim_{x \rightarrow -\infty} f(x) = -\infty.$$

### ◆ Exercice 28 p. 242

$$\forall x \in ]0; +\infty[, -1 \leq -\sin(\frac{1}{x}) \leq 1 \Rightarrow \frac{1}{3} \leq \frac{1}{2 - \sin(\frac{1}{x})} \leq 1 ; \text{ donc } : \frac{x}{3} \leq f(x) \leq x.$$

$$\forall x \in ]-\infty; 0[, -1 \leq -\sin(\frac{1}{x}) \leq 1 \Rightarrow \frac{1}{3} \leq \frac{1}{2 - \sin(\frac{1}{x})} \leq 1 ; \text{ donc } : x \leq f(x) \leq \frac{x}{3}.$$

$$\text{ Donc } : \lim_{x \rightarrow -\infty} f(x) = -\infty ; \lim_{x \rightarrow +\infty} f(x) = +\infty \text{ et } \lim_{x \rightarrow 0} f(x) = 0.$$

### ◆ Exercice 29 p. 242

$$1. \forall x \in \mathbb{R}^*, f(x) = \frac{\cos x}{1 + \frac{x}{\sin x}} ; \text{ donc } : \lim_{x \rightarrow 0} f(x) = -\infty \text{ et } \lim_{x \rightarrow \pm\infty} f(x) = +\infty.$$

Par suite :  $f$  n'a pas de limite en  $0$ .

$$2. \forall x \in ]1; +\infty[, \frac{x-1}{x+1} \leq f(x) \leq \frac{x+1}{x-1} ; \text{ donc } : \lim_{x \rightarrow +\infty} f(x) = 1.$$

$$3. \forall x \in ]-\infty; -1[, \frac{x+1}{x-1} \leq f(x) \leq \frac{x-1}{x+1} ; \text{ donc } : \lim_{x \rightarrow -\infty} f(x) = 1.$$

# 13. Dérivation

(pages 243 à 264 du livre de l'élève)

## OBJECTIFS

- Présenter un nouvel outil et l'utiliser pour :
  - préciser l'allure de la courbe représentative d'une fonction « au voisinage » d'un de ses points (tangente) ;
  - déterminer le sens de variation d'une fonction numérique sur un intervalle ;
  - donner une approximation affine locale d'une fonction numérique.

## COMMENTAIRES

- On introduit le nombre dérivé comme limite du rapport  $\frac{f(x) - f(x_0)}{x - x_0}$  lorsque  $x$  tend vers  $x_0$ , l'interprétation graphique conduisant à la notion de tangente.
- La notion de droite tangente à une courbe pourra être rapprochée de celle de tangente à un cercle (un exercice sur ce thème est proposé en fin de chapitre).
- Il serait fastidieux de vouloir démontrer tous les résultats concernant le calcul des dérivées. Le professeur décidera, en fonction du niveau des élèves et du temps disponible, de ceux qui doivent être démontrés en classe, admis ou posés en T.D.
- Par contre, la démonstration de la formule donnant la dérivée de  $nu^n$ , qui introduit le raisonnement par récurrence, doit être présentée avec le plus grand soin. En effet, ce type de raisonnement sera réutilisé plus loin, en particulier au chapitre 15 (suites numériques).
- Tous les résultats repris dans les tableaux récapitulatifs (§ 2.3.) sont évidemment à savoir « par cœur ». Il est important d'habituer les élèves, dès les premiers exercices de calcul de dérivées, à préciser l'ensemble de dérivabilité.
- Le théorème sur le signe de  $f'$  et le sens de variation est une équivalence : on n'oubliera pas de le faire fonctionner dans les deux sens. On n'a pas jugé utile de donner le théorème : si  $f' > 0$ , alors  $f$  est strictement croissante ; en effet, sa réciproque, fautive, vient parfois un théorème-élève.
- Les études de problèmes d'optimisation sont un excellent exercice : l'élève y apprend à modéliser une situation concrète avant de mobiliser l'outil dérivation pour la recherche d'un extremum.
- Le problème de la majoration de l'erreur commise lors d'une approximation par une fonction affine n'a pas été abordé. Par contre, il est souhaitable que l'on vérifie systématiquement la validité de cette approximation à l'aide de la calculatrice.

## SAVOIRS ET SAVOIR-FAIRE

### savoirs

- Dérivation en  $x_0$
- Nombre dérivé en  $x_0$ .
- Équation de la tangente à la courbe représentative en un point.
- Une fonction dérivable en  $x_0$  est continue en  $x_0$ .
- Fonction dérivable à gauche ou à droite en  $x_0$ .
- Interprétation graphique ; extension à la notion de demi-tangentes ou tangentes verticales.
- Une fonction est dérivable en  $x_0$  si et seulement si elle est dérivable à gauche et à droite en  $x_0$  et les nombres dérivés à gauche et à droite sont égaux.

### savoir-faire

- Calculer le nombre dérivé en  $x_0$ .
- Calculer le nombre dérivé à droite ou à gauche en  $x_0$ .
- Déterminer une (des) équation(s) de la (des) demi-tangente(s) à la courbe représentative d'une fonction en un point et la (les) construire.
- Reconnaître et prouver l'existence d'une demi-tangente verticale en un point.

## Calculs de dérivées

- Fonction dérivée.
- Dérivées des fonctions élémentaires.
- Théorèmes relatifs aux dérivées d'une somme, d'un produit, d'un quotient de deux fonctions dérivables.
- Théorèmes relatifs à l'inverse, la racine carrée, la puissance  $n$ -ième et la composée avec une fonction affine d'une fonction dérivable.

### Applications de la dérivation

- Théorèmes liant le sens de variation d'une fonction au signe de sa dérivée.
- Application à la recherche d'extremums relatifs.
- Approximation d'une fonction par une fonction affine.

- Déterminer l'ensemble de dérivabilité et calculer les dérivées de fonctions qui sont la somme, le produit, le quotient, la racine carrée ou la puissance  $n$ -ième de polynômes, de fractions rationnelles ou de fonctions trigonométriques.
- Déterminer l'ensemble de dérivabilité et calculer les dérivées de composées des fonctions précédentes avec une fonction affine.

- Étudier le sens de variation de fonctions numériques et dresser leur tableau de variation.
- Rechercher et donner la nature des extremums relatifs d'une fonction numérique.
- Déterminer l'approximation affine locale d'une fonction numérique en  $x_0$ .
- Utiliser une approximation affine pour déterminer une valeur approchée d'un nombre réel.

## Exercices du cours

◆ Exercice 1.a p. 249

a)  $f'(1) = 1$  ; b)  $f'(2) = -2$  ; c)  $f'(3) = \frac{1}{\sqrt{3}}$ .

◆ Exercice 1.b p. 249

a)  $y = x - 1$  ; b)  $y = -2x + 7$  ; c)  $y = \frac{1}{\sqrt{3}}x + \sqrt{3} - 1$ .

◆ Exercice 1.c p. 249

1.  $\forall x \in \mathbb{R}_+^*$ ,  $\frac{f(x) - f(0)}{x - 0} = 2$  ;  $\lim_{x \rightarrow 0^+} \frac{f(x) - f(0)}{x - 0} = 2$ .  $\forall x \in \mathbb{R}^+$ ,  $\frac{f(x) - f(0)}{x - 0} = x$  ;  $\lim_{x \rightarrow 0^+} \frac{f(x) - f(0)}{x - 0} = 0$ .

La courbe représentative de  $f$  admet au point d'abscisse 0 deux demi-tangentes de coefficients directeurs respectifs 2 et 0.

2. Les nombres dérivés de  $f$  à gauche et à droite en 0 étant distincts,  $f$  n'est pas dérivable en 0.

◆ Exercice 1.d p. 249

1. La courbe (C) se déduit de la courbe représentative de la fonction  $x \mapsto x^2 - 3x + 2$ , qui se déduit elle-même de la courbe représentative de la fonction  $x \mapsto x^2$  par la translation de vecteur  $\frac{3}{2}\vec{OI} - \frac{1}{4}\vec{OJ}$ .

2. On a :  $\forall x \in \mathbb{R} \setminus \{1\}$ ,  $\frac{f(x) - f(1)}{x - 1} = \frac{|x - 1|}{x - 1} |x - 2|$ .

Donc :  $\lim_{x \rightarrow 1^-} \frac{f(x) - f(1)}{x - 1} = -1$  et  $\lim_{x \rightarrow 1^+} \frac{f(x) - f(1)}{x - 1} = 1$ .

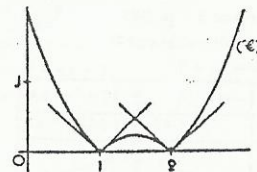
Les nombres dérivés de  $f$  à gauche et à droite en 1 étant distincts,  $f$  n'est pas dérivable en 1.

• On a :  $\forall x \in \mathbb{R} \setminus \{2\}$ ,  $\frac{f(x) - f(2)}{x - 2} = \frac{|x - 2|}{x - 2} |x - 1|$ .

Donc :  $\lim_{x \rightarrow 2^-} \frac{f(x) - f(2)}{x - 2} = -1$  et  $\lim_{x \rightarrow 2^+} \frac{f(x) - f(2)}{x - 2} = 1$ .

Les nombres dérivés de  $f$  à gauche et à droite en 2 étant distincts,  $f$  n'est pas dérivable en 2.

3. Les demi-tangentes à (C) à gauche aux points d'abscisses 1 et 2 ont pour coefficient directeur -1. Les demi-tangentes à (C) à droite aux points d'abscisses 1 et 2 ont pour coefficient directeur 1.



◆ Exercice 1.a p. 249

On a :  $D_f = ]-\infty; 1[ \cup ]2; +\infty[$ .

• On a :  $\forall x \in ]-\infty; 1[$ ,  $\frac{f(x)-f(1)}{x-1} = \sqrt{\frac{x-2}{x-1}}$ ; donc :  $\lim_{x \rightarrow 1^-} \frac{f(x)-f(1)}{x-1} = +\infty$ .

La courbe représentative de  $f$  admet au point d'abscisse 1 une demi-tangente parallèle à la droite (OJ).

• On a :  $\forall x \in ]2; +\infty[$ ,  $\frac{f(x)-f(2)}{x-2} = \sqrt{\frac{x-1}{x-2}}$ ; donc :  $\lim_{x \rightarrow 2^+} \frac{f(x)-f(2)}{x-2} = +\infty$ .

La courbe représentative de  $f$  admet au point d'abscisse 2 une demi-tangente parallèle à la droite (OJ).

◆ Exercice 2.a p. 256

1.  $\forall x \in \mathbb{R}$ ,  $f(x) = -2 \sin x \cos x$ .

2.  $\forall x \in \mathbb{R}$ ,  $g'(x) = 0$ .

◆ Exercice 2.b p. 256

- a) La fonction  $f$  est dérivable sur  $\mathbb{R}$  et sa dérivée est la fonction  $f'$  définie par :  $f'(x) = 1 + \cos x$ .
- b) La fonction  $f$  est dérivable sur  $\mathbb{R}$  et sa dérivée est la fonction  $f'$  définie par :  $f'(x) = \cos x - x \sin x$ .
- c) La fonction  $f$  est dérivable sur  $\mathbb{R} \setminus \{k\pi, k \in \mathbb{Z}\}$  et sa dérivée est la fonction  $f'$  définie par :  $f'(x) = -\frac{\cos x}{\sin^2 x}$ .
- d) La fonction  $f$  est dérivable sur  $\mathbb{R} \setminus \{\frac{\pi}{2} + k\pi, k \in \mathbb{Z}\}$  et sa dérivée est la fonction  $f'$  définie par :  $f'(x) = 2 \tan x + 2 \tan^3 x$ .

◆ Exercice 2.c p. 256

- a) La fonction  $f$  est dérivable sur  $\mathbb{R}$  et sa dérivée est la fonction  $f'$  définie par :  $f'(x) = 12x^2 - 10x$ .
- b) La fonction  $f$  est dérivable sur  $\mathbb{R}$  et sa dérivée est la fonction  $f'$  définie par :  $f'(x) = 7x^6 + 15x^4 - 9x^2 - 9$ .
- c) La fonction  $f$  est dérivable sur  $\mathbb{R} \setminus \{-1; 1\}$  et sa dérivée est la fonction  $f'$  définie par :  $f'(x) = \frac{3x^2 - 4x + 3}{(x^2 - 1)^2}$ .
- d) La fonction  $f$  est dérivable sur  $\mathbb{R}$  et sa dérivée est la fonction  $f'$  définie par :  $f'(x) = \sin^3 x + 3x \sin^2 x \cos x$ .

◆ Exercice 2.d p. 256

- a) L'ensemble de définition de la fonction  $f$  est  $]-\infty; 2[$  ;  $f$  est dérivable sur  $]-\infty; 2[$  et sa dérivée est la fonction  $f'$  définie par :  $f'(x) = 3x^2 \sqrt{2-x} - \frac{x^3 + 2}{2\sqrt{2-x}}$ .
- b) L'ensemble de définition de la fonction  $f$  est  $]0; 3[$  ; la fonction  $f$  est dérivable sur  $]0; 3[$  et sa dérivée est la fonction  $f'$  définie par :  $f'(x) = \frac{3-2x}{2\sqrt{x(3-x)}}$ .
- c) L'ensemble de définition de la fonction  $f$  est  $D_f$  tel que :  $D_f = \mathbb{R} \setminus \{\frac{\pi}{12} + k\frac{\pi}{2}, k \in \mathbb{Z}\}$  ; la fonction  $f$  est dérivable sur  $D_f$  et sa dérivée est la fonction  $f'$  définie par :  $f'(x) = 2[1 + \tan^2(2x + \frac{\pi}{3})]$ .
- d)  $D_f = \mathbb{R}$  ; la fonction  $f$  est dérivable sur  $\mathbb{R}$  et sa dérivée est la fonction  $f'$  définie par :  $f'(x) = 2 \cos 2x$ .

◆ Exercice 3.a p. 261

a)  $f$  est dérivable sur  $\mathbb{R}$ .  
 $f(x) = -2x + 3$ .

$x$	$-\infty$	$\frac{3}{2}$	$+\infty$
$f'(x)$	+	0	-
$f(x)$	↗ $\frac{1}{4}$ ↘		

c)  $f$  est dérivable sur  $\mathbb{R}$ .  
 $f(x) = 2x(4x^2 - 1)$ .

$x$	$-\infty$	$-\frac{1}{2}$	0	$\frac{1}{2}$	$+\infty$
$f'(x)$	-	0	+	0	+
$f(x)$	↘ $-\frac{9}{8}$ ↗ $-1$ ↘ $-\frac{9}{8}$ ↗				

b)  $f$  est dérivable sur  $\mathbb{R}$ .  
 $f(x) = 3x^2$ .

$x$	$-\infty$	0	$+\infty$
$f'(x)$	+	0	+
$f(x)$	↗ $-12$ ↘		

d)  $f$  est dérivable sur  $\mathbb{R}$ .  
 $f(x) = 3x^2 + 4$ .

$x$	$-\infty$	$+\infty$
$f'(x)$	+	
$f(x)$	↗	

◆ Exercice 3.b p. 261

a)  $f$  est dérivable sur  $]-\infty; 2[$  et  $]2; +\infty[$ .

$f'(x) = -\frac{7}{(x-2)^2}$

$x$	$-\infty$	2	$+\infty$
$f'(x)$	-		
$f(x)$	↘ ↘		

c)  $f$  est dérivable sur  $]-\infty; -4[$  et  $]0; +\infty[$ .

$f'(x) = -\frac{x+2}{(x^2+4x)\sqrt{x^2+4x}}$

$x$	$-\infty$	-4	0	$+\infty$
$f'(x)$	+	-		-
$f(x)$	↗	↘		↗

◆ Exercice 3.c p. 261

- 1. a) On a :  $s(x) = x(\frac{x}{2} - x)$ .
- b) La fonction  $s$  est définie et dérivable sur  $]0; \frac{x}{2}[$ .  
On a :  $s'(x) = -2x + \frac{x}{2}$ .
- 2. La fonction  $s$  admet un maximum pour  $x = \frac{x}{2}$ , c'est-à-dire lorsque le rectangle est un carré.

$x$	0	$\frac{x}{4}$	$\frac{x}{2}$
$s'(x)$		+	0
$s(x)$	0	↗ $\frac{x^2}{16}$ ↘	
			0

◆ Exercice 3.d p. 261

La fonction  $f$  est dérivable sur  $]-1; +\infty[$  et sa dérivée est la fonction  $f'$  définie par :  $f'(x) = -\frac{1}{(1+x)^2}$ .  
La meilleure approximation affine de la fonction  $f$ , pour  $x$  « proche de 0 », est la fonction  $x \mapsto f(0) + f'(0)x$ , c'est-à-dire la fonction  $x \mapsto 1 - x$ .  
On a :  $\frac{1}{0,992} = \frac{1}{1 + (-0,008)}$ . Donc :  $\frac{1}{0,992} = 1 - (-0,008) = 1,008$ .  
Une calculatrice donne :  $\frac{1}{0,992} = 1,008\ 064\ 516\ \dots$

◆ Exercice 3.e p. 261

- a) La meilleure approximation affine de la fonction  $f : x \mapsto \sqrt{x}$ , pour  $x$  « proche de 25 », est la fonction  $x \mapsto f(25) + f'(25)(x - 25)$ , c'est-à-dire la fonction :  $x \mapsto \frac{1}{10}x + 2,5$ .  
Donc :  $\sqrt{25,0002} = \frac{1}{10}(25,0002) + 2,5 = 5,000\ 02$ . Une calculatrice donne :  $\sqrt{25,0002} = 5,000\ 620\ 000\ \dots$
- b) La meilleure approximation affine de la fonction  $f : x \mapsto (1+x)^8$ , pour  $x$  « proche de 0 », est la fonction  $x \mapsto f(0) + f'(0)x$ , c'est-à-dire la fonction :  $x \mapsto 8x + 1$ .  
Donc :  $(0,999\ 97)^8 = 8x(-0,000\ 03) + 1 = 0,999\ 76$ . Une calculatrice donne :  $(0,999\ 97)^8 = 0,999\ 760\ 025\ \dots$

☐ Exercices d'entraînement

DÉRIVATION EN  $x_0$

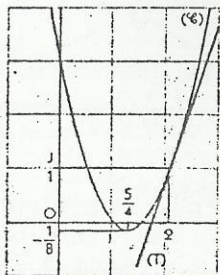
- ◆ Exercice 1 p. 262
- a)  $f(2) = -8$       b)  $f'(-\frac{1}{2}) = \frac{16}{25}$       c)  $f'(1) = -3$       d)  $f'(-\frac{1}{2}) = \frac{1}{2}$

♦ Exercice 2 p. 262

a)  $y = -7x - 5$     b)  $y = -\frac{25}{3}x + \frac{53}{9}$     c)  $y = x - 1$     d)  $y = x - 1$

♦ Exercice 3 p. 262

- On a :  $\forall h \in \mathbb{R}, f(2+h) = (1+h)(1+2h) = 1 + 3h + 2h^2$ .
  - On a :  $\forall h \in \mathbb{R}^*, \frac{f(2+h) - f(2)}{h} = 3 + 2h$ ; donc :  $\lim_{h \rightarrow 2} \frac{f(2+h) - f(2)}{h} = 3$ .
- On en déduit que  $f$  est dérivable en 2 et  $f'(2) = 3$ .
3. Une équation de la tangente (T) est :  $y = 3x - 5$ .



- On a :  $\forall x \in \mathbb{R}, f(x) = 2(x - \frac{5}{4})^2 - \frac{1}{8}$ ; donc la courbe (C) se déduit de la courbe (G) représentative de la fonction  $x \mapsto 2x^2$  par la translation de vecteur  $\frac{5}{4}\vec{Oj} - \frac{1}{8}\vec{Ok}$ .

♦ Exercice 4 p. 262

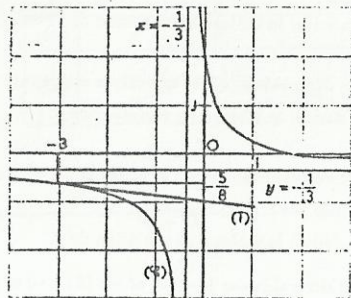
- On a :  $\forall h \in \mathbb{R} \setminus \{\frac{8}{3}\}, -3+h \in \mathbb{R} \setminus \{-\frac{1}{3}\}$  et  $f(-3+h) - f(-3) = \frac{5-h}{3h-8} + \frac{5}{8} = \frac{7h}{24h-64}$ .
- On a :  $\forall h \in \mathbb{R}^* \setminus \{\frac{8}{3}\}, \frac{f(-3+h) - f(-3)}{h} = \frac{7}{24h-64}$ ;

donc :  $\lim_{h \rightarrow 0} \frac{f(-3+h) - f(-3)}{h} = -\frac{7}{64}$ .

On en déduit que  $f$  est dérivable en  $-3$  et  $f'(-3) = -\frac{7}{64}$ .

- Une équation de T est :  $y = -\frac{7}{64}x - \frac{61}{64}$ .

- On a :  $\forall x \in \mathbb{R} \setminus \{-\frac{1}{3}\}, f(x) = -\frac{1}{3} + \frac{\frac{7}{9}}{x + \frac{1}{3}}$ ; donc la courbe (C) se déduit de la courbe (G) représentative de la fonction  $x \mapsto \frac{7}{9x}$  par la translation de vecteur  $-\frac{1}{3}\vec{Oj} - \frac{1}{3}\vec{Ok}$ .



♦ Exercice 5 p. 262

- On a :  $f(1) = 0$ ; donc :  $\forall x \in \mathbb{R}^* \setminus \{1\}, \frac{f(x) - f(1)}{x - 1} = \frac{f(x)}{x - 1} = \frac{\pi f(x)}{\pi(x - 1)} = \pi(x + \frac{1}{x}) \frac{\sin(\pi x)}{\pi(x - 1)}$ .
- De plus :  $\forall x \in \mathbb{R}, \sin(\pi x) = -\sin(\pi x - \pi)$ ; donc :  $\forall x \in \mathbb{R}^* \setminus \{1\}, \frac{f(x) - f(1)}{x - 1} = -\pi(x + \frac{1}{x}) \frac{\sin \pi(x - 1)}{\pi(x - 1)}$ .

- On pose :  $u = \pi(x - 1)$ ; on a :  $\lim_{x \rightarrow 1} \frac{\sin \pi(x - 1)}{\pi(x - 1)} = \lim_{u \rightarrow 0} \frac{\sin u}{u} = 1$ .

On en déduit :  $\lim_{x \rightarrow 1} \frac{f(x) - f(1)}{x - 1} = -2\pi$ ; donc,  $f$  est dérivable en 1 et  $f'(1) = -2\pi$ .

♦ Exercice 6 p. 262

- L'ensemble de définition de  $f$  est  $\mathbb{R}_+$ .

2. On a :  $f(2) = \frac{3\sqrt{2}}{2}$ .

La tangente à (C) au point d'abscisse 2 admet pour équation :  $y = \frac{3\sqrt{2}}{2}x - \sqrt{2}$ .

- On a :  $\forall x \in \mathbb{R}_+ \setminus \{0\}, \frac{f(x) - f(0)}{x} = \sqrt{x}$ ; donc, le nombre dérivé de  $f$  à droite en 0 est :  $\lim_{x \rightarrow 0} \frac{f(x) - f(0)}{x} = 0$ .

La demi-tangente à (C) au point d'abscisse 0 admet pour équation :  $y = 0$ .

♦ Exercice 7 p. 262

- c) Au point d'abscisse  $\frac{1}{2}$ , la courbe admet deux demi-tangentes de coefficients directeurs distincts; donc,  $f$  n'est pas dérivable en  $\frac{1}{2}$ .

- b) La courbe n'admet pas de demi-tangente à gauche au point d'abscisse 1; donc,  $f$  n'est pas dérivable à gauche en 1.

- c) La courbe admet une demi-tangente à gauche au point d'abscisse 2, mais cette demi-tangente est parallèle à l'axe des ordonnées; donc,  $f$  n'est pas dérivable à gauche en 2.

2. a) On a :  $f(-1) = f(0) = 0$ . Le nombre dérivé de  $f$  à droite en 1 est nul.

- b) On a :  $f(-\frac{3}{2}) < 0$ .

♦ Exercice 8 p. 262

- a) La fonction  $f$  est continue en 3 (propriété 1 p. 239).

b) On a :  $\forall x \in \mathbb{R} \setminus \{3\}, \frac{f(x) - f(3)}{x - 3} = \frac{x|x - 3|}{x - 3}$ .

Donc :  $\lim_{x \rightarrow 3} \frac{f(x) - f(3)}{x - 3} = 3$ ;  $f$  est dérivable à droite en 3 et son nombre dérivé est 3.

De plus :  $\lim_{x \rightarrow 3} \frac{f(x) - f(3)}{x - 3} = -3$ ;  $f$  est dérivable à gauche en 3 et son nombre dérivé est  $-3$ .

Les nombres dérivés de  $f$  à droite et à gauche en 3 sont distincts; donc,  $f$  n'est pas dérivable en 3.

2. a) On déduit de la propriété 1 p. 187 que  $f$  est continue en 0.

b) On a :  $\forall x \in \mathbb{R}^*, \frac{f(x) - f(0)}{x} = |x - 3|$ . Donc :  $\lim_{x \rightarrow 0} \frac{f(x) - f(0)}{x} = \lim_{x \rightarrow 0} \frac{f(x) - f(0)}{x} = 3$ .

Les nombres dérivés de  $f$  à droite et à gauche en 0 sont égaux; donc,  $f$  est dérivable en 0 et  $f'(0) = 3$ .

♦ Exercice 9 p. 262

- On a :  $\lim_{x \rightarrow 1} f(x) = \lim_{x \rightarrow 1} (x^2 - 1) = 0$  et  $\lim_{x \rightarrow 1} f(x) = \lim_{x \rightarrow 1} \frac{x-1}{x+1} = 0 = f(1)$ .

Donc :  $\lim_{x \rightarrow 1} f(x) = f(1)$ ; on en déduit que  $f$  est continue en 1.

2. Le nombre dérivé de  $f$  à droite en 1 est  $\frac{1}{2}$ . Le nombre dérivé de  $f$  à gauche en 1 est 2. Les nombres dérivés de  $f$  à droite et à gauche en 1 sont distincts, donc  $f$  n'est pas dérivable en 1.
3. La demi-tangente à droite à la courbe au point d'abscisse 1 a pour équation :  $y = \frac{1}{2}x - \frac{1}{2}$ . La demi-tangente à gauche à la courbe au point d'abscisse 1 a pour équation :  $y = 2x - 2$ .

♦ Exercice 10 p. 262

- L'ensemble de définition de  $f$  est  $\mathbb{R}$ .

2.  $\lim_{x \rightarrow 0} \frac{f(x) - f(0)}{x} = -2$ ; le nombre dérivé de  $f$  à gauche en 0 est donc  $-2$ .

$\lim_{x \rightarrow 0} \frac{f(x) - f(0)}{x} = \lim_{x \rightarrow 0} \left(2 + \frac{1}{\sqrt{x}}\right) = +\infty$ ;  $f$  n'est pas dérivable à droite en 0.

La demi-tangente à gauche à la courbe au point d'abscisse 0 d'équation :  $y = -2x + 3$ ;

La demi-tangente à droite à la courbe au point d'abscisse 0 a pour équation :  $x = 0$ .

CALCULS DE DÉRIVÉES

♦ Exercice 11 p. 263

- $f$  est dérivable sur  $\mathbb{R}$  et sa fonction dérivée est définie par :  $f'(x) = -2x + 3$
- $f$  est dérivable sur  $\mathbb{R}$  et sa fonction dérivée est définie par :  $f'(x) = x^2 + 4x + 3$
- $f$  est dérivable sur  $\mathbb{R}$  et sa fonction dérivée est définie par :  $f'(x) = 12x(2x^2 + 5)^2$
- $f$  est dérivable sur  $\mathbb{R}$  et sa fonction dérivée est définie par :  $f'(x) = (3x - 1)(24x^2 - 4x + 6)$ .

♦ Exercice 12 p. 263

- $f$  est dérivable sur  $] -\infty; -1[$  et  $] -1; +\infty[$ , et sa fonction dérivée est définie par :  $f'(x) = -\frac{1}{(x+1)^2}$
- $f$  est dérivable sur  $] -\infty; -\frac{4}{3}[$  et  $] -\frac{4}{3}; +\infty[$ , et sa fonction dérivée est définie par :  $f'(x) = -\frac{14}{(3x+4)^2}$
- $f$  est dérivable sur  $] -\infty; -3[$  et  $] -3; +\infty[$ , et sa fonction dérivée est définie par :  $f'(x) = \frac{x^2 + 6x - 1}{(x+3)^2}$ .

◆ Exercice 13 p. 263

a)  $f$  est dérivable sur  $]\frac{3}{2}; +\infty[$  et sa fonction dérivée est définie par :  $f'(x) = \frac{1}{\sqrt{2x-3}}$

b)  $f$  est dérivable sur  $\mathbb{R}$  et sa dérivée est définie par :  $f'(x) = \frac{2(x^2+x+1)}{\sqrt{x^2+1}}$

c)  $f$  est dérivable sur  $\mathbb{R}_+$  et sa dérivée est définie par :  $f'(x) = 2x + \frac{1}{2\sqrt{x}}$

d)  $f$  est dérivable sur  $]-\infty; 2[$  et sa dérivée est définie par :  $f'(x) = \frac{1}{2(2-x)\sqrt{2-x}}$

◆ Exercice 14 p. 263

a)  $f$  est dérivable sur  $\mathbb{R}$  et sa dérivée est définie par :  $f'(x) = \frac{1}{2} \cos(2x + \frac{\pi}{3}) - x \sin(2x + \frac{\pi}{3})$

b)  $f$  est dérivable sur  $\mathbb{R}$  et sa dérivée est définie par :  $f'(x) = \sin^2 x (4 + \tan^2 x)$

◆ Exercice 15 p. 263

$f$  est dérivable sur  $]-1; \frac{3}{2}[$  et  $]\frac{3}{2}; +\infty[$ , et sa dérivée est définie par :  $f'(x) = \frac{2x^2 - 9x - 6}{2(2x-3)^2 \sqrt{x+1}}$

◆ Exercice 16 p. 263

$f(x) = -4x^2 + 3x + 4$

◆ Exercice 17 p. 263

1. On a :  $f(x) = -x + 3 + \frac{2}{3-x}$

2. La tangente à la courbe au point d'abscisse 2 a pour équation :  $y = 2$ .

◆ Exercice 18 p. 263

1.  $f$  est dérivable sur  $\mathbb{R}$  et sa dérivée est définie par :  $f'(x) = \frac{-3x^2 + 4x + 1}{(x^2 + 1)^3}$

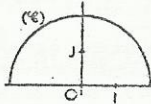
2. On a :  $f(-1) = -\frac{3}{4}$ ;  $f(0) = 1$ ;  $f(1) = \frac{1}{4}$ ;  $f(2) = -\frac{3}{125}$

3. Les tangentes à la courbe représentative de  $f$  aux points d'abscisses respectives  $-1, 0, 1$  et  $2$  admettent pour équations respectives :  $y = -\frac{3}{4}x - \frac{5}{4}$ ;  $y = x - 1$ ;  $y = \frac{1}{4}x - \frac{1}{4}$ ;  $y = -\frac{3}{125}x + \frac{11}{125}$ .

◆ Exercice 19 p. 263

1. L'ensemble de définition de  $f$  est  $[-2; 2]$ . Soit  $x$  un élément de  $[-2; 2]$ .  
On a :  $M(x, y) \in (\mathcal{C}) \Leftrightarrow y = \sqrt{4-x^2} \Leftrightarrow x^2 + y^2 = 4$  et  $y \geq 0 \Leftrightarrow OM = 2$  et  $y \geq 0$ .

$(\mathcal{C})$  est le demi-cercle de centre  $O$  et de rayon 2 situé « au-dessus » de  $(OI)$ .



2.  $f$  est dérivable sur  $]-2; 2[$  et sa dérivée est définie par :  $f'(x) = -\frac{x}{\sqrt{4-x^2}}$

3. a) La tangente à  $(\mathcal{C})$  au point  $M_0$  admet pour équation :  $y = -\frac{x_0}{\sqrt{4-x_0^2}}x + \frac{4}{\sqrt{4-x_0^2}}$

b) Cette équation peut s'écrire :  $x x_0 + \sqrt{4-x_0^2} y = 4$ ; donc,  $\overrightarrow{OM_0} \left( \frac{x_0}{\sqrt{4-x_0^2}} \right)$  est normal à la tangente.

On en déduit que la tangente à  $(\mathcal{C})$  au point  $M_0$  est perpendiculaire à la droite  $(OM_0)$ .

◆ Exercice 20 p. 263

1.  $f$  est dérivable sur  $]-\infty; -3[$  et sur  $]-3; +\infty[$  et sa dérivée est définie par :  $f'(x) = -\frac{7}{(x+3)^2}$

2. a) La tangente à  $(\mathcal{C})$  au point d'abscisse  $-1$  a pour équation :  $y = -\frac{7}{4}x - \frac{1}{4}$

b) Soit  $x_0$  un nombre réel. La tangente à  $(\mathcal{C})$  au point d'abscisse  $x_0$  a pour coefficient directeur  $-\frac{7}{(x_0+3)^2}$ ;

cette tangente est parallèle à la tangente au point d'abscisse  $-1$  si et seulement si  $-\frac{7}{(x_0+3)^2} = -\frac{7}{4}$ .

Donc, les tangentes à  $(\mathcal{C})$  aux points  $M_1 \left( \frac{1}{2} \right)$  et  $M_2 \left( -\frac{5}{2} \right)$  sont parallèles.

3. Pour tout nombre réel strictement négatif  $m$ , l'équation  $f(x) = m$  a deux solutions :  $x_1 = -3 - \sqrt{-\frac{7}{m}}$  et  $x_2 = -3 + \sqrt{-\frac{7}{m}}$ ; donc, il existe deux points de  $(\mathcal{C})$  où la tangente a pour coefficient directeur  $m$ .

APPLICATIONS DE LA DÉRIVATION

◆ Exercice 21 p. 263

1.  $\forall x \in ]-5; -3[ \cup ]3; 4[$ ,  $f'(x) > 0$ ;

$\forall x \in ]-3; -1[ \cup ]1; 3[$ ,  $f'(x) < 0$ ;

$\forall x \in ]-1; 1[$ ,  $f'(x) = 0$ .

2. On en déduit le tableau de variation de  $f$ .

$x$	-5	-3	-1	1	3	4
$f'(x)$	+	0	-	0	-	0
$f(x)$	-6	$\frac{1}{2}$	-1	-1	-5	-1

◆ Exercice 22 p. 263

a)  $f$  est dérivable sur  $\mathbb{R}$  et sa dérivée est définie par :  $f'(x) = 2x$ .

On en déduit le tableau de variation de  $f$ .

$x$	$-\infty$	0	$+\infty$
$f'(x)$	-	0	+
$f(x)$		1	

b)  $f$  est dérivable sur  $\mathbb{R}$  et sa dérivée est définie par :  $f'(x) = 3x(x+2)$ .

On en déduit le tableau de variation de  $f$ .

$x$	$-\infty$	-2	0	$+\infty$
$f'(x)$	+	0	-	0
$f(x)$		5	1	

c)  $f$  est dérivable sur  $]-\infty; 2[$  et sur  $]2; +\infty[$  et sa dérivée est définie par :  $f'(x) = \frac{9}{(2-x)^2}$

On en déduit le tableau de variation de  $f$ .

$x$	$-\infty$	2	$+\infty$
$f'(x)$	+		+
$f(x)$		4	

d)  $f$  est dérivable sur  $]-\infty; 3[$  et sur  $]3; +\infty[$  et sa dérivée est définie par :  $f'(x) = \frac{(2x-5)(2x-7)}{(x-3)^2}$

On en déduit le tableau de variation de  $f$ .

$x$	$-\infty$	$\frac{5}{2}$	3	$\frac{7}{2}$	$+\infty$
$f'(x)$	+	0	-	0	+
$f(x)$		9		17	

e)  $f$  est dérivable sur  $]-\infty; \frac{2}{3}[$  et sa dérivée est définie par :  $f'(x) = -\frac{3}{2\sqrt{2-3x}}$

On en déduit le tableau de variation de  $f$ .

$x$	$-\infty$	$\frac{2}{3}$	$+\infty$
$f'(x)$	-		
$f(x)$		0	

f)  $f$  est dérivable sur  $\mathbb{R}_+^*$  et sa dérivée est définie par :  $f'(x) = \frac{2\sqrt{x}-1}{2\sqrt{x}}$

On en déduit le tableau de variation de  $f$ .

$x$	0	$\frac{1}{4}$	$+\infty$
$f'(x)$	-	0	+
$f(x)$		$-\frac{1}{4}$	

◆ Exercice 23 p. 263

a)  $f$  est dérivable sur  $]0; \pi[$  et sa dérivée est définie par :  $f'(x) = 2\sin(\frac{x}{3})$ .

On en déduit le tableau de variation de  $f$ .

$x$	0	$\frac{\pi}{6}$	$\frac{2\pi}{3}$	$\pi$
$f'(x)$	+	0	-	0
$f(x)$	$\frac{1}{2}$	1	-1	$\frac{1}{2}$

b)  $f$  est dérivable sur  $]-\pi; \pi[$ , et sa dérivée est définie par :  $f'(x) = \sin x (2 \cos x - 1)$ .

On en déduit le tableau de variation de  $f$ .

$x$	$-\pi$	$-\frac{\pi}{3}$	0	$\frac{\pi}{3}$	$\pi$
$f'(x)$	+	0	-	0	-
$f(x)$		$\frac{3}{4}$	1	$\frac{3}{4}$	-1

c)  $f$  est dérivable sur  $]-\pi; \pi[$ , et sa dérivée

est définie par :  $f'(x) = \frac{-15 \sin 3x}{(\cos 3x - 2)^2}$ .

On en déduit le tableau de variation de  $f$ .

$x$	0	$\frac{\pi}{3}$	$\frac{2\pi}{3}$	$\pi$	
$f'(x)$	-	0	+	0	
$f(x)$	2	$\searrow$	$-\frac{4}{3}$	$\nearrow$	2
				$\searrow$	$-\frac{4}{3}$

◆ Exercice 24 p. 263

a) Soit  $f(x) = x^5$ ; on a :  $f'(x) = 5x^4$  et  $A = f(2 + 0,0002)$ .

On a :  $A = f(2) + f'(2) \times 0,0002 = 2^5 + 5 \times 2^4 \times 0,0002 = 32,0160$ .

b) Soit  $f(x) = \frac{1}{x^2}$ ; on a :  $f'(x) = -\frac{2}{x^3}$  et  $A = f(10 + 0,005)$ .

On a :  $A = f(10) + f'(10) \times 0,005 = \frac{1}{100} - \frac{2}{1000} \times 0,005 = 0,00999$ . La calculatrice donne :  $A = 0,00999$ .

c) Soit  $f(x) = \frac{1+x}{x^2}$ ; on a :  $f'(x) = -\frac{x+2}{x^3}$  et  $A = f(1 + 0,0001)$ .

On a :  $A = f(1) + f'(1) \times 0,0001 = 2 - 3 \times 0,0001 = 1,9997$ . La calculatrice donne :  $A = 1,9997$ .

d) Soit  $f(x) = \sin x$ ; on a :  $f'(x) = \cos x$  et  $A = f(10 + 0,002)$ .

On a :  $A = f(10) + f'(10) \times 0,002 = 0,002$ . La calculatrice donne :  $A = 0,00199 = 0,002$ .

◆ Exercice 25 p. 263

1. a) Ensemble des valeurs possibles de  $x$  :  $]0; 50[$ .

b) La hauteur est  $x$  et la base est  $100 - 2x$ ;  $v(x) = x(100 - 2x)^2$ .

2.  $v'(x) = (100 - 2x)(100 - 6x)$ .

3. Le volume de la boîte est maximal pour  $x = \frac{50}{3}$ ;

le volume maximal est  $\frac{2 \times 10^6}{27} \text{ cm}^3$ .

$x$	0	$\frac{50}{3}$	50
$v(x)$	+	0	-
$v(x)$	0	$\nearrow$	$\frac{2 \times 10^6}{27}$
			$\searrow$
			0

## Exercices d'approfondissement

◆ Exercice 26 p. 264

On a :  $f(x) = \frac{3x^2 + 4x + 3}{x^2 + 1}$ .

◆ Exercice 27 p. 264

1.  $f(x) = 2x^2 - 3x + 3$ . 2.  $f(x) = 6x(x - 1)$ .

$f$  admet un maximum relatif en 0 qui est 3.

$f$  admet un minimum relatif en 1 qui est 2.

$x$	--	0	1	++
$f'(x)$	+	0	-	0
$f(x)$	--	$\nearrow$	3	$\searrow$
				2
				$\nearrow$
				++

◆ Exercice 28 p. 264 ◆ Exercice 29 p. 264

$f(x) = \frac{2x^2 + 4}{x^2 + 2}$ .

$f(x) = \frac{x^2 + 5x - 10}{x - 2}$ .

◆ Exercice 30 p. 264

1. Soit  $P(x) = a_n x^n + a_{n-1} x^{n-1} + \dots + a_0$  ( $a_n \neq 0$ ); on a :  $P'(x) = n a_n x^{n-1} + (n-1) a_{n-1} x^{n-2} + \dots + a_1$  et  $\deg(P') = n - 1$ .

2.  $P(x) = (x - \alpha)^2 Q(x)$ , avec  $Q(x) \neq 0$ .

On a :  $P'(x) = 2(x - \alpha)Q(x) + (x - \alpha)^2 Q'(x)$ ; donc  $P'(\alpha) = 0$  et  $\alpha$  est une racine de  $P'$ .

3. Soit :  $P(x) = (x - \alpha)Q(x)$ , avec  $Q(x) \neq 0$ ; on a :  $P'(x) = Q(x) + (x - \alpha)Q'(x)$ .

$P'(\alpha) = 0 \Leftrightarrow Q(\alpha) = 0 \Leftrightarrow \alpha$  est une racine de  $Q$ .

Donc :  $Q(x) = (x - \alpha)R(x)$ , avec  $R(x) \neq 0$ ; par suite :  $P(x) = (x - \alpha)^2 R(x)$ , avec  $R(x) \neq 0$ .

◆ Exercice 31 p. 264

1. a)  $f_1(x) = 1 - \cos x$ ; donc,  $f_1$  est croissante sur  $\mathbb{R}$ .

b)  $f_1(0) = 0$ ; donc :  $\forall x \geq 0, x - \sin x \geq 0$ , c'est-à-dire :  $\sin x \leq x$ .

2. a)  $f_2(x) = -x + \sin x$ ; donc :  $f_2$  est décroissante sur  $\mathbb{R}$ .

b)  $f_2(0) = 0$ ; donc :  $\forall x \geq 0, 1 - \frac{x^2}{2} - \cos x \leq 0$ , c'est-à-dire :  $1 - \frac{x^2}{2} \leq \cos x$ .

3. a)  $f_3$  est une fonction impaire.  $f_3(x) = 1 - \frac{x^2}{2} - \cos x$ ; donc :  $f_3$  est décroissante sur  $\mathbb{R}$ .

b)  $f_3(0) = 0$ ; donc :  $\forall x \geq 0, x - \frac{x^3}{6} - \sin x \leq 0$ , c'est-à-dire :  $x - \frac{x^3}{6} \leq \sin x$ .

4. a)  $f_4$  est impaire.  $f_4(x) = -x + \frac{x^3}{6} + \sin x \geq 0$ ; donc :  $f_4$  est croissante sur  $\mathbb{R}$ .

b)  $f_4(0) = 0$ ; donc :  $\forall x \geq 0, 1 - \frac{x^2}{2} + \frac{x^4}{24} - \cos x \geq 0$ , c'est-à-dire :  $\cos x \leq 1 - \frac{x^2}{2} + \frac{x^4}{24}$ .

On en déduit :  $\frac{23}{48} \leq \sin(\frac{1}{2}) \leq \frac{24}{48}$  et  $\frac{336}{384} \leq \cos(\frac{1}{2}) \leq \frac{337}{384}$ .

◆ Exercice 32 p. 264

1.  $\lim_{h \rightarrow 0} \frac{u(x_0 + h) - u(x_0)}{h} = \lim_{h \rightarrow 0} [a + \varphi(h)] = a$ ; donc :  $u$  est dérivable en  $x_0$  et  $u'(x_0) = a$ .

2.  $\lim_{h \rightarrow 0} \frac{v(x_0 + h) - v(x_0)}{h} = \lim_{h \rightarrow 0} [b + \chi(h)] = b$ ; donc  $v$  est dérivable en  $x_0$  et  $v'(x_0) = b$ .

$$\lim_{x \rightarrow x_0} \frac{(uv)(x) - (uv)(x_0)}{x - x_0} = \lim_{x \rightarrow x_0} \frac{v(x)[u(x) - u(x_0)] + u(x_0)[v(x) - v(x_0)]}{x - x_0} = v(x_0)u'(x_0) + u(x_0)v'(x_0).$$

Donc,  $uv$  est dérivable en  $x_0$  et  $(uv)'(x_0) = v(x_0)u'(x_0) + u(x_0)v'(x_0)$ .

◆ Exercice 33 p. 264

1. Une équation de  $(T_0)$  est :  $y = \frac{1}{2}x_0 x - \frac{1}{4}x_0^2$ .

2. a)  $M_0 J = M_0 H_0 = 1 + \frac{1}{4}x_0^2$ .

$\vec{JH}_0 \begin{pmatrix} x_0 \\ -2 \end{pmatrix}$  et  $\vec{V} \begin{pmatrix} 1 \\ \frac{1}{2}x_0 \end{pmatrix}$  sont des vecteurs directeurs respectifs de  $(JH_0)$  et  $(T_0)$ .

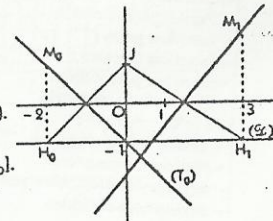
$\vec{JH}_0 \cdot \vec{V} = 0$ ; donc :  $(JH_0) \perp (T_0)$ ; or :  $M_0$  appartient à la médiatrice de  $(JH_0)$ .

Par suite,  $(T_0)$  est la médiatrice de  $(JH_0)$ .

b) Programme de construction

Connaissant  $J$  et  $H_0$  on construit la médiatrice  $(T_0)$  de  $(JH_0)$ .

Pour construire  $M_0$  on construit la perpendiculaire à  $(\mathcal{E})$  passant par  $H_0$ ; elle coupe  $(T_0)$  en  $M_0$ .



◆ Exercice 34 p. 264

1. Une équation de  $(T_0)$  est :  $y = -3x_0^2 + 3)x + 2x_0^2 + 1$ .

2. a)  $(-3x_0^2 + 3)x + 2x_0^2 + 1 = -x^3 + 3x + 1$ .

b) Cette équation est équivalente à :  $(x - x_0)^2(x + 2x_0) = 0$ .

c)  $(T_0)$  et  $(\mathcal{E})$  ont qu'un point commun ssi  $-2x_0 = x_0$ , c'est-à-dire :  $x_0 = 0$ .

# 14. Étude de fonctions

(pages 265 à 282 du livre de l'élève)

**OBJECTIF**  
Maîtriser les représentations graphiques des fonctions numériques.  
Étudier une fonction numérique.

**COMMENTAIRE**  
Le plan proposé pour l'étude de fonctions est purement indicatif.  
Il est commode d'utiliser un repère non orthogonal pour représenter les fonctions.

SAVOIRS	SAVOIR-FAIRE
<p><b>Généralités sur les fonctions</b></p> <ul style="list-style-type: none"> <li>• Parité, périodicité :                     <ul style="list-style-type: none"> <li>- fonction paire ;</li> <li>- fonction impaire ;</li> <li>- fonction périodique.</li> </ul> </li> <li>• Éléments de symétrie :                     <ul style="list-style-type: none"> <li>- axe de symétrie ;</li> <li>- centre de symétrie.</li> </ul> </li> <li>• Notion d'asymptote :                     <ul style="list-style-type: none"> <li>- asymptotes parallèles aux axes du repère ;</li> <li>- asymptotes obliques.</li> </ul> </li> </ul> <p>Fonctions polynômes, fonctions rationnelles</p> <ul style="list-style-type: none"> <li>• Étude de fonctions polynômes.</li> <li>• Étude de fonctions rationnelles.</li> </ul>	<ul style="list-style-type: none"> <li>• Étudier la parité d'une fonction.</li> <li>• Construire la courbe représentative d'une fonction paire ou impaire</li> <li>• Étudier la périodicité d'une fonction</li> <li>• Construire la courbe représentative d'une fonction périodique.</li> <li>• Démontrer qu'un point est centre de symétrie d'une courbe représentative.</li> <li>• Démontrer qu'une droite est axe de symétrie d'une courbe représentative.</li> <li>• Trouver une asymptote parallèle à un axe du repère en observant le tableau de variation.</li> <li>• Démontrer qu'une droite donnée est asymptote oblique d'une courbe.</li> <li>• Réduire l'ensemble d'étude d'une fonction.</li> <li>• Conduire l'étude d'une fonction.</li> </ul>

## Exercices du cours

- ♦ Exercice 1.a p. 271  
a)  $f$  a la même parité que  $n$  b)  $f$  est paire c)  $f$  est impaire d)  $f$  n'est ni paire ni impaire ( $-1 \in D_f$  et  $1 \in D_f$ )
- ♦ Exercice 1.b p. 271  
a)  $D_f = \mathbb{R}$  ;  $f(x + \pi) = (-\sin x)^2 = f(x)$ .  
b)  $D_f = \mathbb{R}$  ;  $f(x + 2\pi) = (-\cos \frac{x}{2})^2 = f(x)$ .
- ♦ Exercice 1.c p. 271  
Dans les quatre cas, l'ensemble de définition est  $\mathbb{R}$ .  
a)  $f(x + 6\pi) = \cos(\frac{x}{3} + 2\pi) = f(x)$ .  
 $f$  est périodique de période  $6\pi, -6\pi, 12\pi$ .  
c)  $f(x + \frac{\pi}{5}) = \sin(5x + \pi + \frac{\pi}{4}) = f(x)$ .  
 $f$  est périodique de période  $\frac{\pi}{5}, \frac{2\pi}{5}, \pi$ .
- ♦ Exercice 1.d p. 271  
On a :  $f(x - 1) = x^4 + 2$ . La fonction  $x \mapsto x^4 + 2$  est une fonction paire ; donc, la droite d'équation  $x = -1$  est un axe de symétrie pour la courbe représentative de  $f$ .

♦ Exercice 1.e p. 271  
On a :  $f(x + 1) - 2 = x + \frac{1}{x}$ . La fonction  $x \mapsto x + \frac{1}{x}$  est une fonction impaire ; donc, le point  $\Omega(\frac{1}{2})$  est un centre de symétrie pour la courbe représentative de  $f$ .

♦ Exercice 1.f p. 271  
Les droites d'équations  $y = 2x + 3$  et  $x = -2$  sont asymptotes à la courbe représentative de  $f$ .

♦ Exercice 1.g p. 271  
On a :  $f(x) - (2x + 5) = \frac{4}{x-1}$  et  $\lim_{x \rightarrow 1} \frac{4}{x-1} = 0$  ; donc, la droite  $(\Delta)$  d'équation  $y = 2x + 5$  est asymptote à  $(C_f)$ .

♦ Exercice 2.a p. 276  
1. On a :  $f(x) = -3x(x-2)$ .

$x$	$-\infty$	0	2	$+\infty$
$f(x)$	-	0	+	0
$f(x)$	$+\infty$	$\searrow$	0	$\nearrow$
			+	$\searrow$
				$-\infty$

2. On a :  $\forall x \in \mathbb{R}, f(x + 1) - 2 = -x^3 + 3x$ .  
La fonction  $x \mapsto -x^3 + 3x$  est impaire ; donc,  $\Omega$  est centre de symétrie de  $(C)$ .  
La tangente à  $(C)$  en  $\Omega$  a pour équation :  $y = 3x - 1$ .

♦ Exercice 2.b p. 276  
1. On a :  $f(x) = 3x(x-2)$ .

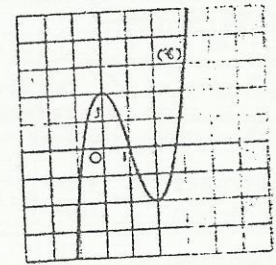
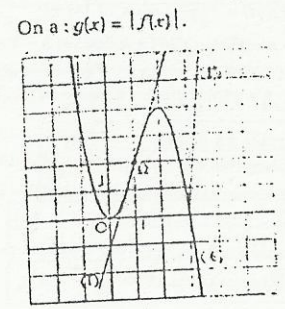
$x$	$-\infty$	0	2	$+\infty$
$f(x)$	-	0	-	0
$f(x)$	$-\infty$	$\nearrow$	2	$\searrow$
			-	$\nearrow$
				$+\infty$

2. Les solutions sont les abscisses des points d'intersection de  $(C)$  et de la droite d'équation  $y = m$ .  
• Si :  $m < -2$  ou  $m > 2$ , l'équation a 1 solution ;  
• si :  $m = -2$  ou  $m = 2$ , l'équation a 2 solutions ;  
• si :  $-2 < m < 2$ , l'équation a 3 solutions.

♦ Exercice 2.c p. 276  
1.  $D_f = \mathbb{R} \setminus \{-2\}$  ;  $\forall x \in D_f, f(x) = 1 - \frac{3}{x+2}$ .  
 $f$  est continue et dérivable en tout point de  $D_f$ .  
 $f(x) = \frac{3}{x+2}$ .

$x$	$-\infty$	-2	$+\infty$
$f(x)$	+		+
$f(x)$	$\nearrow$	$+\infty$	$\nearrow$
			1

$x$	-5	-4	-3	-1	0	1
$f(x)$	2	$\frac{5}{2}$	4	-2	$-\frac{1}{2}$	0

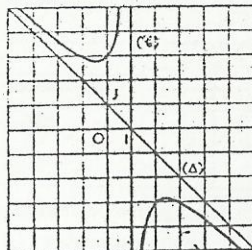
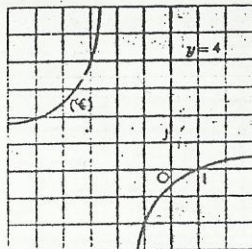


2. • Par lecture graphique, on trouve :

$$S = ]-\infty; -3[ \cup ]1; +\infty[.$$

• On retrouve ce résultat par le calcul.

$$0 < \frac{x-1}{x+2} < 4 \Leftrightarrow 0 < \frac{x-1}{x+2} \text{ et } \frac{x-1}{x+2} < 4.$$



♦ Exercice 2.d p. 276

$$1. D_f = \mathbb{R} \setminus \{1\}.$$

$$\text{On a : } f(x) - (-x+1) = -\frac{2}{x-1} \text{ et } \lim_{x \rightarrow \pm\infty} -\frac{2}{x-1} = 0.$$

La droite ( $\Delta$ ) d'équation  $y = -x + 1$  est asymptote à ( $\mathcal{C}$ ).  
 $f$  est continue et dérivable en tout point de  $D_f$ .

$$f(x) = -\frac{(x-1-\sqrt{2})(x-1+\sqrt{2})}{(x-1)^2}.$$

$x$	$-\infty$	$1-\sqrt{2}$	$1$	$1+\sqrt{2}$	$+\infty$
$f(x)$	$-$	$0$	$+$	$+$	$0$
$f(x)$	$+\infty$	$2\sqrt{2}$	$+\infty$	$-2\sqrt{2}$	$-\infty$

$$2. \text{ On a : } f(x+1) - 0 = -x + \frac{1}{-x}.$$

La fonction  $x \mapsto -x + \frac{1}{-x}$  est impaire ; donc, le point  $\Omega\left(\frac{1}{0}\right)$  est un centre de symétrie de ( $\mathcal{C}$ ).

$x$	$-2$	$-1$	$0$	$2$	$3$	$4$
$f(x)$	$\frac{11}{3}$	$3$	$3$	$-3$	$-3$	$-\frac{11}{3}$

♦ Exercice 3.a p. 279

Soit ( $\mathcal{C}$ ) la courbe représentative de la fonction sinus et ( $\Gamma$ ) celle de la fonction considérée.

a)  $\sin\left(x + \frac{5\pi}{3}\right) = \sin\left(x - \frac{\pi}{3}\right)$ ; donc ( $\Gamma$ ) se déduit de ( $\mathcal{C}$ ) par la translation de vecteur  $\vec{u}\left(\frac{\pi}{3}\right)$ .

b) ( $\Gamma$ ) se déduit de ( $\mathcal{C}$ ) par la translation de vecteur  $\vec{u}\left(\frac{\pi}{4}\right)$ .

c)  $\sin\left(-\frac{2\pi}{3} - x\right) = \sin\left(x - \frac{\pi}{3}\right)$ ; donc ( $\Gamma$ ) se déduit de ( $\mathcal{C}$ ) par la translation de vecteur  $\vec{u}\left(\frac{\pi}{3}\right)$ .

d)  $\cos\left(x + \frac{\pi}{3}\right) = \sin\left(x + \frac{5\pi}{6}\right)$ ; donc ( $\Gamma$ ) se déduit de ( $\mathcal{C}$ ) par la translation de vecteur  $\vec{u}\left(\frac{-5\pi}{6}\right)$ .

e)  $\cos\left(\frac{5\pi}{6} - x\right) = \sin\left(x - \frac{\pi}{3}\right)$ ; donc ( $\Gamma$ ) se déduit de ( $\mathcal{C}$ ) par la translation de vecteur  $\vec{u}\left(\frac{\pi}{3}\right)$ .

f)  $\cos\left(x + \frac{\pi}{4}\right) = \sin\left(x - \frac{3\pi}{4}\right)$ ; donc ( $\Gamma$ ) se déduit de ( $\mathcal{C}$ ) par la translation de vecteur  $\vec{u}\left(\frac{3\pi}{4}\right)$ .

♦ Exercice 3.b p. 279

Soit ( $\mathcal{C}$ ) la courbe représentative de la fonction sinus et ( $\Gamma$ ) celle de la fonction considérée.

a) ( $\Gamma$ ) se déduit de ( $\mathcal{C}$ ) par la translation de vecteur  $\vec{u}\left(\frac{-\pi}{3}\right)$ .

b) ( $\Gamma$ ) se déduit de ( $\mathcal{C}$ ) par la translation de vecteur  $\vec{u}\left(\frac{\pi}{4}\right)$ .

c)  $\tan\left(-\frac{\pi}{2} - x\right) = -\tan\left(x - \frac{\pi}{2}\right)$ ; donc ( $\Gamma$ ) se déduit de ( $\mathcal{C}$ ) par la composée de :

la translation de vecteur  $\vec{u}\left(\frac{\pi}{2}\right)$ .

suivie de la symétrie orthogonale d'axe (OI).

d) ( $\Gamma$ ) se déduit de ( $\mathcal{C}$ ) par la translation de vecteur  $\vec{u}\left(\frac{\pi}{4}\right)$ .

♦ Exercice 3.c p. 279

On a :  $\cos x + \sin x = \sqrt{2} \sin\left(x + \frac{\pi}{4}\right)$ . La courbe représentative de la fonction  $x \mapsto \frac{\cos x + \sin x}{\sqrt{2}}$  est l'image de la fonction sinus par la translation de vecteur  $\vec{u}\left(\frac{\pi}{4}\right)$ .

### Exercices d'apprentissage

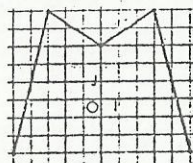
#### GÉNÉRALITÉS SUR LES FONCTIONS

♦ Exercice 1 p. 280

a)  $f$  est paire b)  $f$  n'est ni paire, ni impaire c)  $f$  est impaire d)  $f$  n'est ni paire, ni impaire.

♦ Exercice 2 p. 280

1.



$x$	$-5$	$-3$	$0$	$3$	$5$
$f(x)$	$-3$	$5$	$3$	$5$	$-3$

♦ Exercice 3 p. 280

a) c)  $f$  :  $f$  est impaire

b) d) e) .  $f$  est paire.

♦ Exercice 4 p. 280

a)  $f$  est paire.

b)  $f$  est impaire.

c)  $f$  est impaire.

d)  $f$  est paire.

e)  $f$  est paire.

f)  $f$  n'est ni paire, ni impaire.

g)  $f$  est paire.

h)  $f$  est impaire.

i)  $f$  est paire.

j)  $f$  n'est ni paire, ni impaire.

♦ Exercice 5 p. 280

a) On a :  $\forall x \in \mathbb{R}, \sin^2 x = \frac{1 - \cos 2x}{2}$ ; donc, la fonction est périodique de période  $\pi$

b) La fonction n'est pas périodique

c) La fonction n'est pas périodique

d) La fonction est périodique de période  $2\pi$

e) La fonction est périodique de période  $2\pi$

f) On a :  $\forall x \in \mathbb{R}, \cos^2\left(\frac{x}{2}\right) = \frac{1 + \cos x}{2}$ ; donc, la fonction est périodique de période  $2\pi$ .

♦ Exercice 6 p. 280

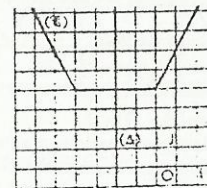
Si  $x \in ]-\infty; -5[$ ,  $f(x) = -2x - 6$ ;

si  $x \in ]-5; -1[$ ,  $f(x) = 4$ ;

si  $x \in ]-1; +\infty[$ ,  $f(x) = 2x + 6$ .

a) La représentation graphique de  $f$  est ( $\mathcal{C}$ ).

b) On a :  $\forall h \in \mathbb{R}, f(-3-h) = f(-3+h)$ ; donc, la droite ( $\Delta$ ) d'équation  $x = -3$  est un axe de symétrie pour la courbe ( $\mathcal{C}$ ).



♦ Exercice 7 p. 280

On a :  $\forall h \in \mathbb{R}, g\left(\frac{1}{2}-h\right) = \frac{1}{\frac{1}{2}-h} + \frac{1}{\frac{1}{2}+h} = g\left(\frac{1}{2}+h\right)$ ;

donc, la droite ( $\Delta$ ) d'équation  $x = \frac{1}{2}$  est un axe de symétrie pour la courbe représentative de  $g$ .

♦ Exercice 8 p. 280

a) Désignons par ( $\mathcal{C}$ ) la courbe considérée et  $f$  la fonction associée.  $\forall x \in \mathbb{R} \setminus \{2\}, f(x+2) - 3 = \frac{1}{x}$ .

La fonction  $x \mapsto \frac{1}{x}$  est impaire ; donc,  $\Omega$  est un centre de symétrie de ( $\mathcal{C}$ ).

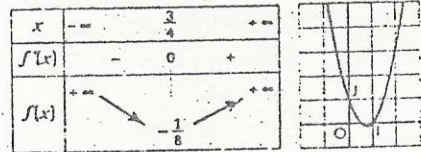
b) et c)  $\Omega$  n'est pas un centre de symétrie de ( $\mathcal{C}$ )

d)  $\Omega$  est un centre de symétrie de ( $\mathcal{C}$ ).

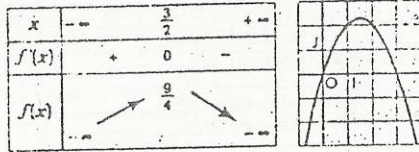
Fonctions Polynômes

♦ Exercice 9 p. 280

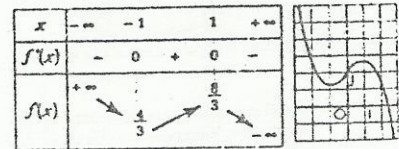
a) On a :  $f(x) = 4x - 3$ .



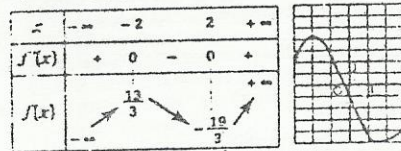
b) On a :  $f(x) = -2x + 3$ .



c) On a :  $f(x) = (1-x)(1+x)$ .

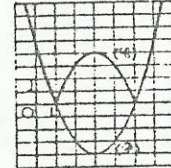
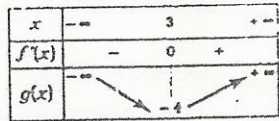


d) On a :  $f(x) = (x-2)(x+2)$ .



♦ Exercice 10 p. 280

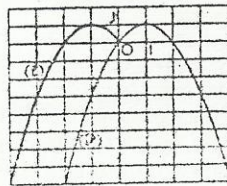
a) On pose :  $f(x) = 3x^2 - 6x + 5$ .



La représentation graphique de  $f$  est la parabole ( $\mathcal{P}$ ) ci-contre.

b) On a :  $g(x) = |f(x)|$ . Soit ( $\mathcal{C}$ ) la représentation graphique de  $g$ .

( $\mathcal{C}$ ) est la réunion des parties des courbes d'équations  $y = f(x)$  et  $y = -f(x)$  situées « au-dessus » de ( $O$ ).



♦ Exercice 11 p. 281

a) On pose :  $f(x) = -x^2 + 2x$ .

La représentation graphique de  $f$  est la parabole ( $\mathcal{P}$ ).

b) On a :  $g(x) = f(|x|)$ .

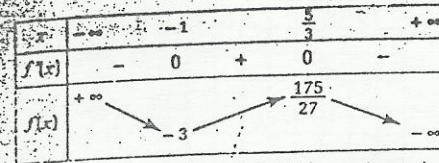
Soit ( $\mathcal{C}$ ) la représentation graphique de  $g$ .

( $\mathcal{C}$ ) est la réunion de la partie de ( $\mathcal{P}$ ) telle que  $x \in [0; +\infty[$  et son symétrique par rapport à ( $O$ ).

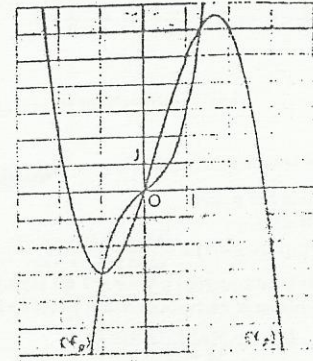

♦ Exercice 12 p. 281

a) On pose :  $f(x) = -x^3 + x^2 + 5x$  ; on désigne par ( $\mathcal{C}$ ) la représentation graphique de  $f$ .

$f(x) = (3x-5)(x+1)$ .



b) On pose :  $g(x) = 2x^3 + x$ . Soit ( $\mathcal{C}_g$ ) la représentation graphique de  $g$ .  
 $g'(x) = 6x^2 + 1$ .



c) On a :  $h(x) = \max(f(x); g(x))$  et on désigne par ( $\mathcal{C}_h$ ) la représentation graphique de  $h$ .

( $\mathcal{C}_h$ ) est la réunion des parties des courbes ( $\mathcal{C}_f$ ) et ( $\mathcal{C}_g$ ) telle que :

• si ( $\mathcal{C}_f$ ) est au dessus de ( $\mathcal{C}_g$ ), alors ( $\mathcal{C}_h$ ) = ( $\mathcal{C}_f$ )

• si ( $\mathcal{C}_g$ ) est au dessus de ( $\mathcal{C}_f$ ), alors ( $\mathcal{C}_h$ ) = ( $\mathcal{C}_g$ )

♦ Exercice 13 p. 281

1. On pose :  $f(x) = ax^2 + bx + c$ .

On doit avoir :  $f(0) = -3, f(-1) = 0$  et  $f(1) = 4$  ;

donc :  $a = 1, b = 2$  et  $c = -3$ .

2. Les courbes ( $\mathcal{C}$ ) et ( $\mathcal{C}'$ ) ci-jointes sont les représentations graphiques des fonctions  $f$  et  $g$ .

( $\mathcal{C}$ ) et ( $\mathcal{C}'$ ) se coupent aux points  $B\left(\frac{1}{3}\right) = 1$  et  $D\left(-\frac{2}{3}\right)$ .

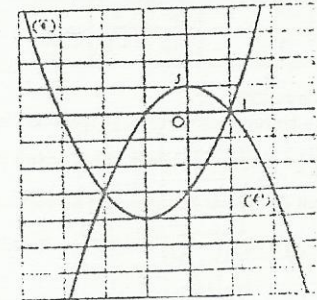
3. La droite ( $BD$ ) a pour équation :  $y = x - 1$ .

4.  $P(x) = f(x) - g(x)$  ; d'après le graphique :

• si  $x \in ]-\infty; -\frac{2}{3}[ \cup ]1; +\infty[$ ,  $P(x) > 0$  ;

• si  $x \in ]-\frac{2}{3}; 1[$ ,  $P(x) < 0$  ;

• si  $x \in \{-\frac{2}{3}; 1\}$ ,  $P(x) = 0$ .



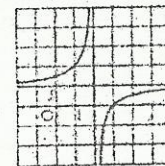
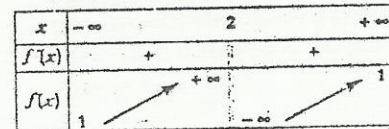
ÉTUDE DE FONCTIONS RATIONNELLES

♦ Exercice 14 p. 281

a)  $D_f = \mathbb{R} \setminus \{2\}$ .

$f$  est continue et dérivable en tout point de  $D_f$ .

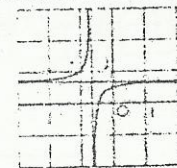
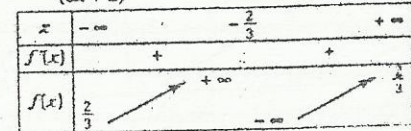
$$f(x) = \frac{1}{(x-2)^2}$$



b)  $D_f = \mathbb{R} \setminus \{-\frac{2}{3}\}$ .

$f$  est continue et dérivable en tout point de  $D_f$ .

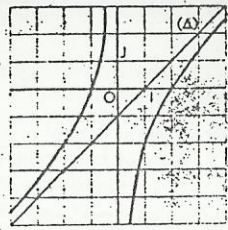
$$f(x) = \frac{1}{(3x+2)^2}$$



c)  $D_f = \mathbb{R}^*$ .  
 On a :  $f(x) - (x-1) = -\frac{2}{x}$  et  $\lim_{|x| \rightarrow +\infty} -\frac{2}{x} = 0$ .

La droite  $(\Delta)$  d'équation  $y = x - 1$  est asymptote à la courbe représentative de  $f$ .  
 $f$  est continue et dérivable en tout point de  $D_f$ .  
 $f'(x) = 1 + \frac{2}{x^2}$ .

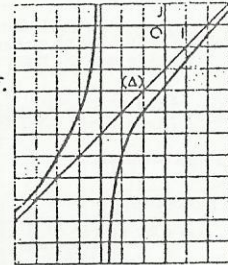
$x$	$-\infty$	$0$	$+\infty$
$f'(x)$		+	+
$f(x)$	$-\infty$	$+\infty$	$+\infty$



d)  $D_f = \mathbb{R} \setminus \{-3\}$ .  
 On a :  $f(x) - (x-2) = -2x+3$  et  $\lim_{|x| \rightarrow +\infty} (-2x+3) = 0$ .

La droite  $(\Delta)$  d'équation  $y = x - 2$  est asymptote à la courbe représentative de  $f$ .  
 $f$  est continue et dérivable en tout point de  $D_f$ .  $f'(x) = 1 + \frac{2}{(x+3)^2}$ .

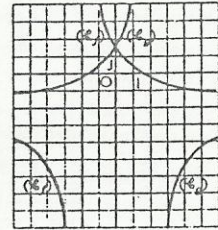
$x$	$-\infty$	$-3$	$+\infty$
$f'(x)$		+	+
$f(x)$	$-\infty$	$+\infty$	$+\infty$



Exercice 15 p. 281  
 Le plan est muni du repère orthogonal  $(O, I, J)$ .

a) On pose :  $f(x) = -\frac{2x+3}{x+2}$  et on désigne par  $(\mathcal{C}_f)$  la représentation graphique de  $f$ .  $af'(x) = \frac{-7}{(x+2)^2}$

$x$	$-\infty$	$-2$	$+\infty$
$f'(x)$		-	-
$f(x)$	$-2$	$+\infty$	$-2$



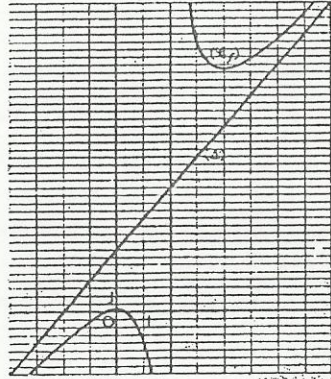
b) On pose :  $g(x) = \frac{2x+3}{-x+2}$  et on désigne par  $(\mathcal{C}_g)$  la représentation graphique de  $g$ .  
 On a :  $g(x) = f(-x)$ .  $(\mathcal{C}_g)$  est l'image de  $(\mathcal{C}_f)$  par la symétrie orthogonale d'axe  $(OJ)$ .

Exercice 16 p. 281  
 a) On a :  $\forall x \in \mathbb{R} \setminus \{2\}$ .  $g(x) = 4x + 8 - \frac{15}{2-x}$ .  
 b) On a :  $f(x) - (4x+8) = -\frac{15}{2-x}$  et  $\lim_{|x| \rightarrow +\infty} -\frac{15}{2-x} = 0$ .

La droite  $(\Delta)$  d'équation  $y = 4x + 8$  est asymptote à la courbe représentative de  $f$ .  
 $f$  est continue et dérivable en tout point de  $\mathbb{R} \setminus \{2\}$ .

$$f'(x) = \frac{(2x-4-\sqrt{15})(2x-4+\sqrt{15})}{(x-2)^2}$$

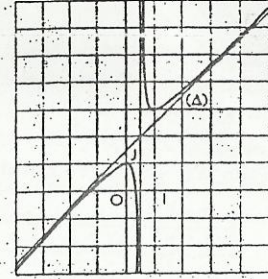
$x$	$-\infty$	$\frac{4-\sqrt{15}}{2}$	$2$	$\frac{4+\sqrt{15}}{2}$	$+\infty$
$f'(x)$		+	0	-	+
$f(x)$	$-\infty$	$16-4\sqrt{15}$	$+\infty$	$16+4\sqrt{15}$	$+\infty$



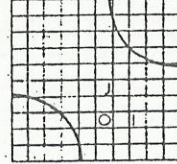
Exercice 17 p. 281  
 a) On a :  $\forall x \in \mathbb{R} \setminus \{\frac{1}{2}\}$ .  $g(x) = x + \frac{3}{2} + \frac{1}{2x-1}$ .

b) On a :  $g(x) - (x + \frac{3}{2}) = \frac{1}{2(2x-1)}$  et  $\lim_{|x| \rightarrow +\infty} \frac{1}{2(2x-1)} = 0$ .  
 La droite  $(\Delta)$  d'équation  $y = x + \frac{3}{2}$  est asymptote à la courbe représentative de  $g$ .  
 $g$  est continue et dérivable en tout point de  $\mathbb{R} \setminus \{\frac{1}{2}\}$ .  
 $g'(x) = \frac{4(x-1)}{(2x-1)^2}$ .

$x$	$-\infty$	$0$	$\frac{1}{2}$	$1$	$+\infty$
$g'(x)$		+	0	-	+
$g(x)$	$-\infty$	$1$	$+\infty$	$3$	$+\infty$



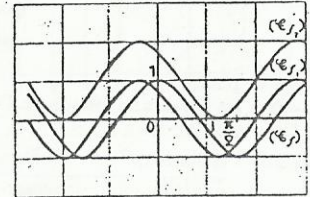
Exercice 18 p. 281  
 1. On a :  $h(x) = \frac{2x+6}{x+1}$ .  
 2.  $(\mathcal{C}_h)$  est la courbe ci-contre.



ÉTUDE DE FONCTIONS TRIGONOMÉTRIQUES

Exercice 19 p. 281  
 a)  $D_f = \mathbb{R}$ .  $f$  est de période  $\pi$  et est paire.  
 Donc, on peut réduire l'intervalle d'étude à  $[0; \frac{\pi}{2}]$ .  
 $f(x) = -2 \sin 2x$ .

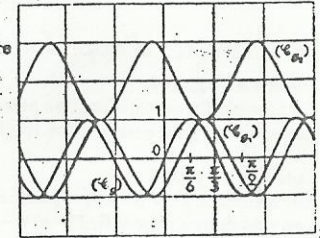
$x$	$0$	$\frac{\pi}{2}$
$f'(x)$	$0$	$0$
$f(x)$	$1$	$-1$



b)  $(\mathcal{C}_{f_1})$  est l'image de  $(\mathcal{C}_f)$  par la translation de vecteur  $\vec{u}(\frac{\pi}{4}; 0)$ .  
 $(\mathcal{C}_{f_2})$  est l'image de  $(\mathcal{C}_{f_1})$  par la translation de vecteur  $\vec{v}(\frac{\pi}{2}; 1)$ .

Exercice 20 p. 281  
 a)  $D_g = \mathbb{R}$ .  $g$  est de période  $\frac{2\pi}{3}$  et est impaire. Donc, on peut réduire l'intervalle d'étude à  $[0; \frac{\pi}{3}]$ .  $g'(x) = 3 \cos 3x$ .

$x$	$0$	$\frac{\pi}{6}$	$\frac{\pi}{3}$
$g'(x)$	$3$	$0$	$-3$
$g(x)$	$0$	$1$	$0$



b)  $(\mathcal{C}_{g_1})$  est l'image de  $(\mathcal{C}_g)$  par la translation de vecteur  $\vec{u}(\frac{\pi}{6}; 0)$ .  
 $(\mathcal{C}_{g_2})$  est l'image de  $(\mathcal{C}_{g_1})$  par la symétrie orthogonale d'axe la droite d'équation  $y = 1$ .

◆ Exercice 21 p. 281

1. a)  $D_f = \mathbb{R}$ .  $f$  est de période  $\pi$  et est paire. Donc on peut réduire l'intervalle d'étude à  $[0; \frac{\pi}{2}]$ .

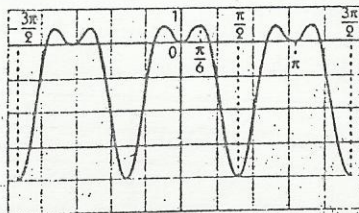
b)  $\forall x \in \mathbb{R}, f(x + \frac{\pi}{2}) = f(\frac{\pi}{2} - x) = -2(1 + \cos 2x)\cos 2x$ .

2. a)  $f(x) = 4\sin 2x(1 - 2\sin x)(1 + 2\sin x)$ .

b)

$x$	0	$\frac{\pi}{6}$	$\frac{\pi}{2}$
$f'(x)$	0	+	0
$f(x)$	0	$\frac{1}{2}$	-4

3. Courbe (C).



◆ Exercice 22 p. 281

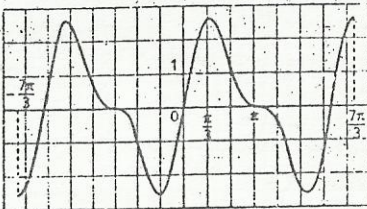
1. a)  $D_f = \mathbb{R}$ .  $f$  est impaire de période  $2\pi$ . Donc, on peut réduire l'intervalle d'étude à  $[0; \pi]$ .

2.  $f(x) = 2(1 + \cos x)(2\cos x - 1)$ .

3.

$x$	0	$\frac{\pi}{3}$	$\pi$
$f'(x)$	4	+	0
$f(x)$	0	$\frac{3\sqrt{3}}{2}$	0

3. Courbe (C).



◆ Exercice 23 p. 281

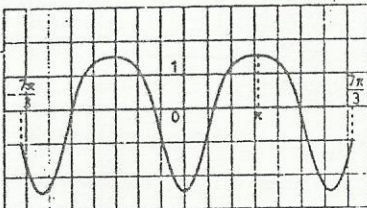
1. a)  $D_f = \mathbb{R}$ .  $f$  est impaire de période  $2\pi$ . Donc, on peut réduire l'intervalle d'étude à  $[0; \pi]$ .

2.  $f(x) = 2\sin x(1 + \cos x)$ .

3.

$x$	0	$\pi$
$f'(x)$	0	+
$f(x)$	$-\frac{5}{2}$	$\frac{3}{2}$

3. Courbe (C).



□ Exercices d'approfondissement

◆ Exercice 24 p. 281

a) Le produit  $f g$  est une fonction paire.

b) Le produit  $f g$  est une fonction paire.

c) Le produit  $f g$  est une fonction impaire.

◆ Exercice 25 p. 281

1. Les fonctions  $f$  et  $x \mapsto f(-x)$  sont égales, elles ont donc même dérivée. On en déduit que :  $\forall x \in \mathbb{R}, f'(-x) = -f'(x)$ ; donc la fonction  $f'$  est impaire.

2. Les fonctions  $f$  et  $x \mapsto -f(-x)$  sont égales, elles ont donc même dérivée. On en déduit que :  $\forall x \in \mathbb{R}, f'(-x) = f'(x)$ ; donc la fonction  $f'$  est paire.

3. Les fonctions  $f$  et  $x \mapsto f(x+p)$  sont égales, elles ont donc même dérivée. On en déduit que :  $\forall x \in \mathbb{R}, f'(x+p) = f'(x)$ ; donc la fonction  $f'$  est périodique de période  $p$ .

◆ Exercice 26 p. 282

1. La fonction  $x \mapsto f(x+a) - b$  est impaire; donc sa dérivée  $x \mapsto f'(x+a)$  est paire et la droite  $(\Delta)$  d'équation  $x = a$  est axe de symétrie de  $(\mathcal{C})$ .

2. La fonction  $x \mapsto f(x+a)$  est paire; donc sa dérivée  $x \mapsto f'(x+a)$  est impaire et le point  $\Omega(\frac{a}{2}, 0)$  est centre de symétrie de  $(\mathcal{C})$ .

◆ Exercice 27 p. 282

1. La fonction  $f$  est définie et dérivable sur  $\mathbb{R}$ .

On a :  $\forall x \in \mathbb{R}, f(x) - 2 = x^3 + px$ .

La fonction  $x \mapsto x^3 + px$  est impaire; donc le point  $\Omega(\frac{0}{2})$  est un centre de symétrie pour la courbe  $(\mathcal{C})$ .

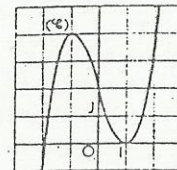
2. La dérivée de  $f$  est la fonction  $f' : x \mapsto 3x^2 + p$ .

Réolvons le système d'équations d'inconnue  $(x; p)$  :  $\begin{cases} f(x) = 0 \\ f'(x) = 0 \end{cases}$

On a :  $\begin{cases} x^3 + px + 2 = 0 \\ 3x^2 + p = 0 \end{cases} \Rightarrow \begin{cases} x = 1 \\ p = -3 \end{cases}$

La fonction  $f$  est donc définie par :  $f(x) = x^3 - 3x + 2$ .

$x$	$-\infty$	-1	1	$+\infty$
$f'(x)$		+	0	-
$f(x)$		$-\infty$	4	0



◆ Exercice 28 p. 282

1.  $f(x) = 2x - 1 + \frac{1}{x}$ .

2.  $D_f = \mathbb{R}^*$ . On a :  $f(x) + 1 = 2x + \frac{1}{x}$ .

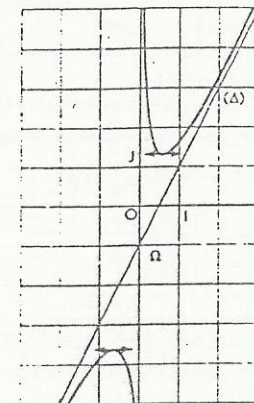
La fonction  $x \mapsto 2x + \frac{1}{x}$  est impaire, donc  $\Omega(\frac{0}{-1})$  est centre de symétrie de  $(\mathcal{C})$ .

3. On a :  $f(x) - (2x - 1) = \frac{1}{x}$  et  $\lim_{|x| \rightarrow +\infty} \frac{1}{x} = 0$ .

La droite  $(\Delta)$  d'équation  $y = 2x - 1$  est asymptote à  $(\mathcal{C})$ .  $f$  est continue et dérivable en tout point de  $D_f$ .

$f(x) = \frac{(x\sqrt{2}-1)(x\sqrt{2}+1)}{x^2}$

$x$	$-\infty$	$-\frac{\sqrt{2}}{2}$	0	$\frac{\sqrt{2}}{2}$	$+\infty$
$f'(x)$		+	0	-	+
$f(x)$		$1 - 2\sqrt{2}$	$+\infty$	$2\sqrt{2} - 1$	$+\infty$



◆ Exercice 29 p. 282

1. Soit  $a$  un nombre réel et  $t_a$  la translation de vecteur  $\vec{u}(\begin{smallmatrix} -2a \\ -2a \end{smallmatrix})$ .

Soit  $M(\frac{x}{y})$  un point et  $M'$  son image par  $t_a$ .

Le point  $M'$  a pour coordonnées  $(x - 2a; y - 2a)$ .

$M' \in (\mathcal{P}_a) \Leftrightarrow y - 2a = \frac{1}{2}(x - 2a)^2 + 2a(x - 2a) - 2a(1 - a)$

$\Leftrightarrow y = \frac{1}{2}x^2 \Leftrightarrow M \in (\mathcal{P}_0)$ .

Donc,  $(\mathcal{P}_a)$  est l'image de  $(\mathcal{P}_0)$  par la translation  $t_a$ .

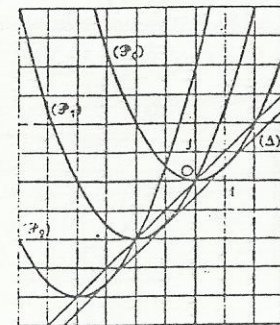
2.  $(\mathcal{P}_0) : y = \frac{1}{2}x^2$ ;

$(\mathcal{P}_1) = t_{\vec{v}}(\mathcal{P}_0)$ , avec  $\vec{v}(\begin{smallmatrix} -2 \\ -2 \end{smallmatrix})$ ;

$(\mathcal{P}_2) = t_{\vec{w}}(\mathcal{P}_0)$ , avec  $\vec{w}(\begin{smallmatrix} -4 \\ -4 \end{smallmatrix})$ .

3. Pour tout nombre réel  $a$ , le sommet de  $(\mathcal{P}_a)$  est le point

$S_a(\frac{-2a}{-2a})$ .  $S_a$  décrit la droite  $(\mathcal{S})$  d'équation  $y = x$ .



4. Les translations conservent le contact ;  $(\Delta)$  est donc globalement invariante par les translations  $t_a$ .  $(\Delta)$  admet donc pour vecteur directeur  $\vec{r}\left(\frac{1}{2}\right)$ , son coefficient directeur est 1.

Le point de  $(\mathcal{P}_0)$  où la tangente a pour coefficient directeur 1 est le point  $A\left(\frac{1}{2}\right)$  ;  $(\Delta) : y = x - \frac{1}{2}$ .

◆ Exercice 30 p. 282

1.  $f_0$  est la fonction affine  $x \mapsto -3x + 1$ .

$f_{\frac{1}{2}}$  est le polynôme  $x \mapsto \frac{1}{2}x^3 - 3x + 1$ .

$f_{\frac{1}{2}}$  est définie et dérivable sur  $\mathbb{R}$ .  $f'_{\frac{1}{2}} : x \mapsto \frac{3}{2}x^2 - 3$ .

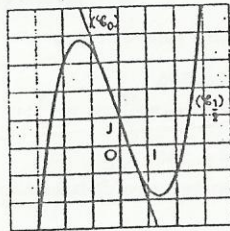
2. Les courbes  $(\mathcal{C}_a)$  passent toutes par le point  $\Omega = J$ .

3. La fonction  $x \mapsto ax^3 - 3x$  est impaire : donc, le point  $\Omega$  est centre de symétrie de la courbe  $(\mathcal{C}_a)$ .

4. La fonction  $f_a$  est définie et dérivable sur  $\mathbb{R}$ . Sa dérivée est définie par :  $f'_a : x \mapsto 3ax^2 - 3$ .

- Si  $a \leq 0$ , alors  $f_a$  est strictement décroissante sur  $\mathbb{R}$ .
- Si  $a > 0$ , on a le tableau suivant.

$x$	$-\infty$	$-\frac{\sqrt{a}}{a}$	$\frac{\sqrt{a}}{a}$	$+\infty$
$f'_a(x)$	+	0	-	+
$f_a(x)$		$2\frac{\sqrt{a}}{a} + 1$		$-2\frac{\sqrt{a}}{a} + 1$



◆ Exercice 31 p. 282

1.  $D_f = \mathbb{R} \setminus \{-2\}$ .

La courbe  $(\mathcal{C})$  admet deux asymptotes, les droites d'équation  $y = 2$  et  $x = -2$ .

Elles se coupent au point  $\Omega\left(-2, 2\right)$ .

2.  $(\mathcal{C})$  est la courbe ci-contre.

3. La dérivée de  $f$  est  $f' : x \mapsto \frac{7}{(x+2)^2}$ .

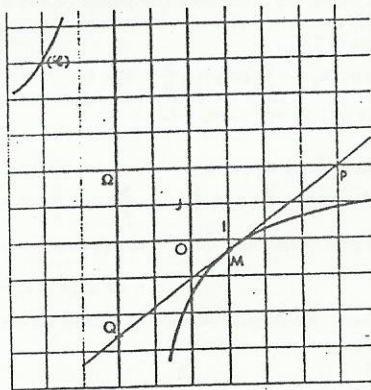
Soit  $m$  l'abscisse de  $M$  ;  $(\Delta_m)$  a pour équation :

$$y - \frac{2m-3}{m+2} = \frac{7}{(m+2)^2}(x-m)$$

On a :  $P(-2; \frac{2m-10}{m+2})$  et  $Q(2m+2; 2)$ .

Donc :  $\vec{OP} \times \vec{OQ} = -28$ .

Les points  $M, P, Q$  sont alignés et  $x_M = \frac{x_P + x_Q}{2}$  ; donc,  $M$  est le milieu du segment  $[PQ]$ .



◆ Exercice 32 p. 282

1.  $(\mathcal{P})$  est la courbe ci-contre.

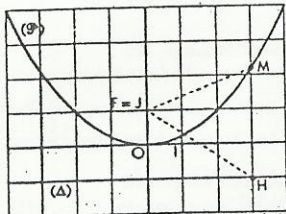
2. Soit  $(x, \frac{x^2}{4})$  les coordonnées du point  $M$ .

On a donc :  $MF = MH = 1 + \frac{x^2}{4}$ .

Réciproquement, les coordonnées d'un point équidistant de  $F$  et de

$(\Delta)$  vérifient :  $y = \frac{x^2}{4}$ .

$(\mathcal{P})$  est l'ensemble des points équidistants de  $F$  et de  $(\Delta)$ .



◆ Exercice 33 p. 282

1. Le prix de revient de  $n$  articles est  $750\,000 + 1\,200n$ .

On a donc :  $r = 1\,200 + \frac{750\,000}{n}$ .

2. a) L'ensemble de définition de la fonction  $r$  est  $\mathbb{R}^*$  ;  $r$  est dérivable sur  $\mathbb{R}^*$ .

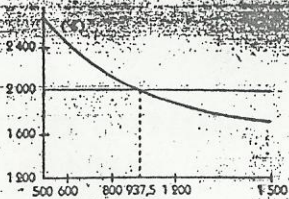
On a :  $r' : x \mapsto -\frac{750\,000}{x^2}$ .

b)  $(\mathcal{C})$  est la représentation graphique de  $r$  sur  $[500; 1\,500]$ .

3. On doit avoir :  $r \leq 2\,000$ . Donc :  $n \geq 937,5$ .

Le nombre minimum d'articles à produire, pour que l'entreprise soit rentable est de 938 articles.

4. L'entreprise est rentable lorsque la droite d'équation  $y = 2\,000$  est au-dessus de la courbe  $(\mathcal{C})$ .



◆ Exercice 34 p. 282

1. a) La fonction  $f$  est un polynôme, son ensemble de dérivabilité est  $\mathbb{R}$ .

On a :  $f(x) = 6(x-5)(x-15)$ .

$x$	$-\infty$	5	15	$+\infty$			
$f'(x)$	+	0	-	0	+		
$f(x)$			1 000		0		$+\infty$

b)  $(\Delta) : y = 450x$ .

$x$	5	10	15	20
$f(x)$	1 000	500	0	1 000

d) L'équation admet trois solutions :  $10 - 5\sqrt{3}$  ; 10 et  $10 + 5\sqrt{3}$ .

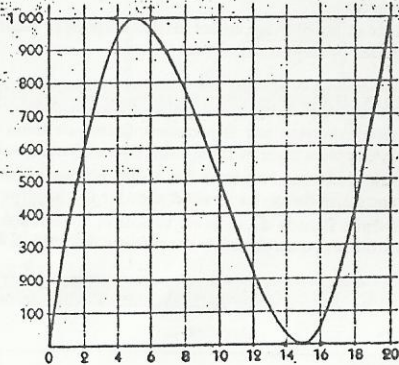
2. a) et b) L'unité de longueur étant le cm, la boîte a pour dimensions  $x, 15-x, 30-2x$  et pour volume  $v(x) = x(15-x)(30-2x) = v(x) = 2x^3 - 60x^2 + 450x$ .

Pour  $x = 10$ , on obtient un volume de :  $v = 10 \times 5 \times 10 = 500 \text{ cm}^3$ .

c) D'après l'étude précédente,  $V$  est maximal pour  $x = 5$ , la boîte a alors un volume de 1 l.

d) Pour réaliser des boîtes de  $500 \text{ cm}^3$ , le fabricant peut attribuer à  $x$  la valeur  $10 - 5\sqrt{3}$  ou 10.

Il préférera sans doute prendre  $x = 10$  et se faciliter ainsi la construction.



# 15. Suites numériques

(pages 283 à 300 du livre de l'élève)

## OBJECTIFS

- Définir une suite numérique ; déterminer une suite numérique à l'aide d'une formule explicite ou d'une formule de récurrence et représenter graphiquement une telle suite.
- Étudier les propriétés fonctionnelles des suites numériques : minoration/majoration, sens de variation, convergence.
- Définir et étudier les suites arithmétiques et les suites géométriques ; utiliser de telles suites pour résoudre des problèmes concrets.

## COMMENTAIRES

- Le raisonnement par récurrence, introduit dans le chapitre « Dérivations », sera très souvent utilisé dans ce chapitre pour la résolution d'exercices, ainsi que pour la démonstration de certaines propriétés.
- L'étude de la convergence des suites utilise les résultats du chapitre « Limites et continuité » qu'il est donc conseillé de traiter avant d'aborder le chapitre « Suites numériques ».
- De même, l'étude du sens de variation et la représentation graphique des suites numériques fait appel aux résultats acquis dans les chapitres « Fonctions » et « Étude de fonctions ».

## SAVOIRS ET SAVOIR-FAIRE

### savoirs

### savoir-faire

#### Généralités

- Définition d'une suite numérique.

#### Étude d'une suite numérique

- Suite minorée, majorée ; suite positive, négative.
- Suite convergente, suite divergente.

#### Suites arithmétiques, suites géométriques

- Suites arithmétiques :
  - définition ;
  - expression du terme général ;
  - expression de la somme de  $n$  termes consécutifs.
- Suites géométriques :
  - définition ;
  - expression du terme général ;
  - expression de la somme de  $n$  termes consécutifs ;
  - condition de convergence.

- Calculer des termes d'une suite numérique définie par :
  - une formule explicite
  - une formule de récurrence.
- Représenter graphiquement une suite numérique définie par une formule explicite :
  - sur un axe ;
  - dans le plan.
- Représenter graphiquement une suite numérique définie par une formule de récurrence :
  - sur un axe ;
  - sur l'axe  $(OJ)$  d'un repère  $(O, I, J)$  en utilisant la première bissectrice.

- Déterminer le signe d'une suite numérique, son sens de variation :
  - par le calcul ;
  - graphiquement.
- Étudier la convergence d'une suite numérique et calculer sa limite éventuelle.

- Démontrer qu'une suite est arithmétique, géométrique.
- Calculer le terme de rang  $n$  d'une suite arithmétique ou géométrique.
- Calculer la somme de  $n$  termes consécutifs d'une suite arithmétique ou géométrique.
- Déterminer le premier terme et la raison d'une suite arithmétique ou géométrique connaissant deux de ses termes.
- Calculer la limite d'une suite géométrique convergente et la limite de la somme de ses termes.
- Utiliser les suites arithmétiques et géométriques pour la résolution de problèmes concrets.

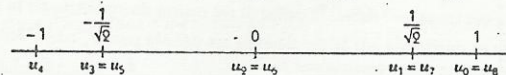
## Exercices du cours

### ◆ Exercice 1.a p. 286

1. Les deux termes suivants sont :  $\frac{13}{243}$  et  $\frac{16}{729}$ .  
 2. Pour tout  $n \in \mathbb{N}$ , on a :  $u_n = \frac{3n+1}{3^{n-1}}$ .

### ◆ Exercice 1.b p. 286

1. Les 8 premiers termes de cette suite sont :  $1 ; \frac{1}{\sqrt{2}} ; 0 ; -\frac{1}{\sqrt{2}} ; -1 ; -\frac{1}{\sqrt{2}} ; 0$  et  $\frac{1}{\sqrt{2}}$ .



2. Pour tout entier naturel  $n$ ,  $u_{n+8} = \cos\left(\frac{(n+8)\pi}{4}\right) = \cos\left(\frac{n\pi}{4} + 2\pi\right) = \cos\left(\frac{n\pi}{4}\right) = u_n$ .

### ◆ Exercice 1.c p. 286

1.  $u_1 = \frac{1}{3} ; u_2 = \frac{4}{3} ; u_3 = \frac{10}{3} ; u_4 = \frac{19}{3} ; u_5 = \frac{31}{3}$ .  
 2. Pour tout  $n \in \mathbb{N}^*$ ,  $u_n = \frac{n(n-1)}{2} + \frac{1}{3}$ .

### ◆ Exercice 1.d p. 286

1. La courbe représentative de la fonction  $f$  est la demi-parabole  $(C)$  ci-contre.

2. On a :  $f(0) = -1$ , donc :  $u_0 = -1$  ; de même, les ordonnées des points de  $(C)$  d'abscisses respectives 1, 2, 3, 4, 5 et 6 sont les termes  $u_1, u_2, u_3, u_4, u_5$  et  $u_6$  de la suite  $(u_n)$ .

On a :  $u_1 = -\frac{8}{9} ; u_2 = -\frac{5}{9} ; u_3 = 0$  ;

$u_4 = \frac{7}{9} ; u_5 = \frac{16}{9} ; u_6 = 3$ .

### ◆ Exercice 1.e p. 286

1. On a :  $u_0 = \frac{3}{2} ; u_1 = \frac{5}{2} ; u_2 = \frac{3}{2} ; u_3 = \frac{5}{2} ; u_4 = \frac{3}{2}$ .

On peut conjecturer que : si  $n$  est pair,  $u_n = \frac{3}{2}$  ;

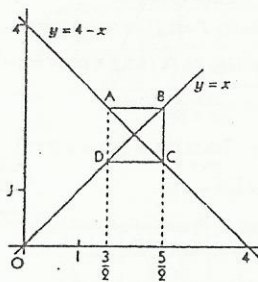
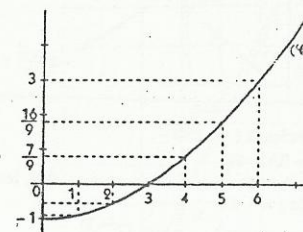
si  $n$  est impair,  $u_n = \frac{5}{2}$ .

2. Sur le graphique ci-contre, ABCD est un carré.

On a :  $y_A = y_B = x_C$ . Donc :

si  $u_n = \frac{3}{2}$ ,  $u_{n+1} = \frac{5}{2}$  ;

si  $u_n = \frac{5}{2}$ ,  $u_{n+1} = \frac{3}{2}$ .



### ◆ Exercice 2.a p. 290

- a) La suite  $(u_n)$  admet 0 pour majorant ; elle n'admet pas de minorant.  
 b) La suite  $(v_n)$  admet 2 pour majorant et  $\frac{3}{2}$  pour minorant.  
 c) La suite  $(w_n)$  admet 1 pour minorant ; elle n'admet pas de majorant.

### ◆ Exercice 2.b p. 290

- a)  $(u_n)$  est décroissante

b)  $(v_n)$  est croissante

c)  $(w_n)$  est décroissante.

### ◆ Exercice 2.c p. 290

a)  $\lim u_n = \frac{3}{5}$

b)  $\lim v_n = 0$

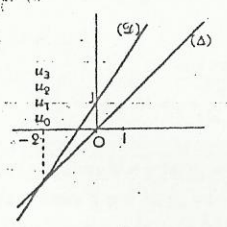
c)  $\lim w_n = 1$

◆ Exercice 2.d p. 290

1. a) On trace les droites (D) et (Δ) d'équations respectives  $y = \frac{3}{2}x + 1$  et  $y = x$ .  
Sur la figure, on construit  $u_1, u_2, u_3$ , connaissant  $u_0 = 0$ .

b)  $\lim_{n \rightarrow +\infty} u_n = +\infty$ .

2.  $u_0 = -2$



$\forall n \in \mathbb{N}^*, u_n = -2$ .

◆ Exercice 3.a p. 296

- a)  $(u_n)$  est une suite arithmétique de 1<sup>er</sup> terme  $u_0 = 0$  et de raison  $r = \frac{1}{5}$
- b)  $(u_n)$  est une suite géométrique de 1<sup>er</sup> terme  $u_0 = 4$  et de raison  $q = -2$
- c)  $(u_n)$  est une suite géométrique de 1<sup>er</sup> terme  $u_0 = 9$  et de raison  $q = 3$
- d)  $(u_n)$  est une suite arithmétique de 1<sup>er</sup> terme  $u_0 = -1$  et de raison  $r = 5$ .

◆ Exercice 3.b p. 296

- 1.  $(v_n)$  est une suite arithmétique de 1<sup>er</sup> terme  $v_1 = 2$  et de raison  $r = 0,5$ .  
 $\forall n \in \mathbb{N}^*, v_n = v_1 + (n-1)r = \frac{n+3}{2}$ .
- 2.  $S = \frac{20}{2} \times (v_1 + v_{20}) = 135$ .
- 3.  $s_n = \frac{n}{2}(v_1 + v_n) = \frac{n(n+7)}{4}$ . Donc :  $s_n = 1422 \Leftrightarrow n^2 + 7n - 5688 = 0$ .  $\Delta = 151^2$ ; donc :  $n = 72$ .

◆ Exercice 3.c p. 296

On a :  $S_n = 2 \left[ \left(\frac{1}{2}\right)^n - 1 \right]$ . Donc :  $\lim_{n \rightarrow +\infty} S_n = -2$ .

◆ Exercice 3.d p. 296

Le 1<sup>er</sup> terme de cette suite est  $u_0 = 6561$  et sa raison est  $q = \frac{1}{3}$ . On a :  $\lim_{n \rightarrow +\infty} u_n = 0$ .

◆ Exercice 3.e p. 296

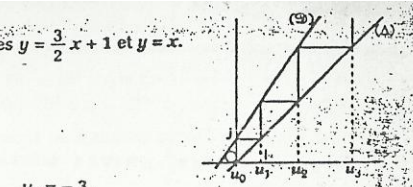
- 1. On vérifie que :  $u_1 = \frac{13}{3}$ ;  $u_2 = \frac{40}{9}$ ;  $u_3 = \frac{121}{27}$ ;  $u_4 = \frac{364}{81}$ .
- 2. On a :  $u_n = \frac{1}{2} \left( \frac{3^{n+2} - 1}{3^n} \right) = \frac{1}{2} \left( 9 - \frac{1}{3^n} \right)$ .
- 3. On a :  $\lim_{n \rightarrow +\infty} u_n = \frac{9}{2}$ .

□ Exercices d'apprentissage

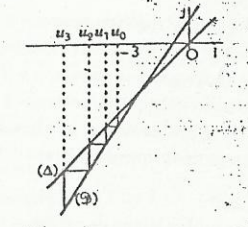
GÉNÉRALITÉS

◆ Exercice 1 p. 297

$u_0 = 3$ ;  $u_1 = 3,1$ ;  $u_2 = 3,14$ ;  $u_3 = 3,141$ ;  $u_4 = 3,1416$ ;  $u_5 = 3,14159$ ;  $u_6 = 3,141593$ ;  
 $u_7 = 3,1415926$ ;  $u_8 = 3,14159265$ ;  $u_9 = 3,141592654$ .



$u_0 = -3$ .



$\lim_{n \rightarrow +\infty} u_n = -\infty$ .

◆ Exercice 2 p. 297

a) 0,1010010001 ; 0,101001000100001 ; 0,101001000100001000001 ; b)  $\frac{31}{32}$ ;  $\frac{63}{64}$ ;  $\frac{127}{128}$  ; c) 3, 8, 15, 24, 35, 48, 63, 80, 99, 120, 143, 170, 200, 233, 270, 310, 353, 400, 450, 503, 560, 620, 683, 750, 820, 893, 970, 1050, 1133, 1220, 1310, 1403, 1500, 1600, 1703, 1810, 1920, 2033, 2150, 2270, 2400, 2533, 2670, 2810, 2953, 3100, 3250, 3403, 3560, 3720, 3883, 4050, 4220, 4400, 4583, 4770, 4960, 5160, 5370, 5583, 5800, 6020, 6250, 6483, 6720, 6960, 7210, 7463, 7720, 7980, 8250, 8530, 8820, 9120, 9430, 9750, 10080, 10420, 10770, 11130, 11500, 11880, 12270, 12680, 13100, 13530, 14000, 14480, 14970, 15480, 16000, 16530, 17080, 17640, 18220, 18820, 19440, 20080, 20740, 21420, 22120, 22840, 23580, 24340, 25120, 25920, 26740, 27580, 28440, 29320, 30220, 31140, 32080, 33040, 34020, 35020, 36040, 37080, 38140, 39220, 40320, 41440, 42580, 43740, 44920, 46120, 47340, 48580, 49840, 51120, 52420, 53740, 55080, 56440, 57820, 59220, 60640, 62080, 63540, 65020, 66520, 68040, 69580, 71140, 72720, 74320, 75940, 77580, 79240, 80920, 82620, 84340, 86080, 87840, 89620, 91420, 93240, 95080, 96940, 98820, 100720, 102640, 104580, 106540, 108520, 110520, 112540, 114580, 116640, 118720, 120820, 122940, 125080, 127240, 129420, 131620, 133840, 136080, 138340, 140620, 142920, 145240, 147580, 149940, 152320, 154720, 157140, 159580, 162040, 164520, 167020, 169540, 172080, 174640, 177220, 179820, 182440, 185080, 187740, 190420, 193120, 195840, 198580, 201340, 204120, 206920, 209740, 212580, 215440, 218320, 221220, 224140, 227080, 230040, 233020, 236020, 239040, 242080, 245140, 248220, 251320, 254440, 257580, 260740, 263920, 267120, 270340, 273580, 276840, 280120, 283420, 286740, 290080, 293440, 296820, 300220, 303640, 307080, 310540, 314020, 317520, 321040, 324580, 328140, 331720, 335320, 338940, 342580, 346240, 349920, 353620, 357320, 361040, 364780, 368540, 372320, 376120, 379940, 383780, 387640, 391520, 395420, 399340, 403280, 407240, 411220, 415220, 419240, 423280, 427340, 431420, 435520, 439640, 443780, 447940, 452120, 456320, 460540, 464780, 469040, 473320, 477620, 481940, 486280, 490640, 495020, 499420, 503840, 508280, 512740, 517220, 521720, 526240, 530780, 535340, 539920, 544520, 549140, 553780, 558440, 563120, 567820, 572540, 577280, 582040, 586820, 591620, 596440, 601280, 606140, 611020, 615920, 620840, 625780, 630740, 635720, 640720, 645740, 650780, 655840, 660920, 666020, 671140, 676280, 681440, 686620, 691820, 697040, 702280, 707540, 712820, 718120, 723440, 728780, 734140, 739520, 744920, 750340, 755780, 761240, 766720, 772220, 777740, 783280, 788840, 794420, 800020, 805640, 811280, 816940, 822620, 828320, 834040, 839780, 845540, 851320, 857120, 862940, 868780, 874640, 880520, 886420, 892340, 898280, 904240, 910220, 916220, 922240, 928280, 934340, 940420, 946520, 952640, 958780, 964940, 971120, 977320, 983540, 989780, 996040, 1002320, 1008620, 1014940, 1021280, 1027640, 1034020, 1040420, 1046840, 1053280, 1059740, 1066220, 1072720, 1079240, 1085780, 1092340, 1098920, 1105520, 1112140, 1118780, 1125440, 1132120, 1138820, 1145540, 1152280, 1159040, 1165820, 1172620, 1179440, 1186280, 1193140, 1200020, 1206920, 1213840, 1220780, 1227740, 1234720, 1241720, 1248740, 1255780, 1262840, 1269920, 1277020, 1284140, 1291280, 1298440, 1305620, 1312820, 1320040, 1327280, 1334540, 1341820, 1349120, 1356440, 1363780, 1371140, 1378520, 1385920, 1393340, 1400780, 1408240, 1415720, 1423220, 1430740, 1438280, 1445840, 1453420, 1461020, 1468640, 1476280, 1483940, 1491620, 1499320, 1507040, 1514780, 1522540, 1530320, 1538120, 1545940, 1553780, 1561640, 1569520, 1577420, 1585340, 1593280, 1601240, 1609220, 1617220, 1625240, 1633280, 1641340, 1649420, 1657520, 1665640, 1673780, 1681940, 1690120, 1698320, 1706540, 1714780, 1723040, 1731320, 1739620, 1747940, 1756280, 1764640, 1773020, 1781420, 1789840, 1798280, 1806740, 1815220, 1823720, 1832240, 1840780, 1849340, 1857920, 1866520, 1875140, 1883780, 1892440, 1901120, 1909820, 1918540, 1927280, 1936040, 1944820, 1953620, 1962440, 1971280, 1980140, 1989020, 1997920, 2006840, 2015780, 2024740, 2033720, 2042720, 2051740, 2060780, 2069840, 2078920, 2088020, 2097140, 2106280, 2115440, 2124620, 2133820, 2143040, 2152280, 2161540, 2170820, 2180120, 2189440, 2198780, 2208140, 2217520, 2226920, 2236340, 2245780, 2255240, 2264720, 2274220, 2283740, 2293280, 2302840, 2312420, 2322020, 2331640, 2341280, 2350940, 2360620, 2370320, 2380040, 2389780, 2399540, 2409320, 2419120, 2428940, 2438780, 2448640, 2458520, 2468420, 2478340, 2488280, 2498240, 2508220, 2518220, 2528240, 2538280, 2548340, 2558420, 2568520, 2578640, 2588780, 2598940, 2609120, 2619320, 2629540, 2639780, 2649940, 2660120, 2670320, 2680540, 2690780, 2701040, 2711320, 2721620, 2731940, 2742280, 2752640, 2763020, 2773420, 2783840, 2794280, 2804740, 2815220, 2825720, 2836240, 2846780, 2857340, 2867920, 2878520, 2889140, 2899780, 2910440, 2921120, 2931820, 2942540, 2953280, 2964040, 2974820, 2985620, 2996440, 3007280, 3018140, 3029020, 3039920, 3050840, 3061780, 3072740, 3083720, 3094720, 3105740, 3116780, 3127840, 3138920, 3150020, 3161140, 3172280, 3183440, 3194620, 3205820, 3217040, 3228280, 3239540, 3250820, 3262120, 3273440, 3284780, 3296140, 3307520, 3318920, 3330340, 3341780, 3353240, 3364720, 3376220, 3387740, 3399280, 3410840, 3422420, 3434020, 3445640, 3457280, 3468940, 3480620, 3492320, 3504040, 3515780, 3527540, 3539320, 3551120, 3562940, 3574780, 3586640, 3598520, 3610420, 3622340, 3634280, 3646240, 3658220, 3670220, 3682240, 3694280, 3706340, 3718420, 3730520, 3742640, 3754780, 3766940, 3779120, 3791320, 3803540, 3815780, 3828040, 3840320, 3852620, 3864940, 3877280, 3889640, 3902020, 3914420, 3926840, 3939280, 3951740, 3964220, 3976720, 3989240, 4001780, 4014340, 4026920, 4039520, 4052140, 4064780, 4077440, 4090120, 4102820, 4115540, 4128280, 4141040, 4153820, 4166620, 4179420, 4192240, 4205080, 4217940, 4230820, 4243720, 4256640, 4269580, 4282540, 4295520, 4308520, 4321540, 4334580, 4347640, 4360720, 4373820, 4386940, 4399080, 4412240, 4425420, 4438620, 4451840, 4465080, 4478340, 4491620, 4504920, 4518240, 4531580, 4544940, 4558320, 4571720, 4585140, 4598580, 4612040, 4625520, 4639020, 4652540, 4666080, 4679640, 4693220, 4706820, 4720440, 4734080, 4747740, 4761420, 4775120, 4788840, 4802580, 4816340, 4830120, 4843920, 4857740, 4871580, 4885440, 4899320, 4913220, 4927140, 4941080, 4955040, 4969020, 4983020, 4997040, 5011080, 5025140, 5039220, 5053320, 5067440, 5081580, 5095720, 5109880, 5124040, 5138220, 5152420, 5166640, 5180880, 5195140, 5209420, 5223720, 5238040, 5252380, 5266740, 5281120, 5295520, 5309940, 5324380, 5338840, 5353320, 5367820, 5382340, 5396880, 5411440, 5426020, 5440620, 5455240, 5469880, 5484540, 5499220, 5513920, 5528640, 5543380, 5558140, 5572920, 5587720, 5602540, 5617380, 5632240, 5647120, 5662020, 5676940, 5691880, 5706840, 5721820, 5736820, 5751840, 5766880, 5781940, 5797020, 5812120, 5827240, 5842380, 5857540, 5872720, 5887920, 5903140, 5918380, 5933640, 5948920, 5964220, 5979540, 5994880, 6010240, 6025620, 6041020, 6056440, 6071880, 6087340, 6102820, 6118320, 6133840, 6149380, 6164940, 6180520, 6196120, 6211740, 6227380, 6243040, 6258720, 6274420, 6290140, 6305880, 6321640, 6337420, 6353220, 6369040, 6384880, 6400720, 6416580, 6432440, 6448320, 6464220, 6480140, 6496080, 6512040, 6528020, 6544020, 6560040, 6576080, 6592140, 6608220, 6624320, 6640440, 6656580, 6672740, 6688920, 6705120, 6721340, 6737580, 6753840, 6770120, 6786420, 6802740, 6819080, 6835440, 6851820, 6868220, 6884640, 6901080, 6917540, 6934020, 6950520, 6967040, 6983580, 7000140, 7016720, 7033320, 7049940, 7066580, 7083240, 7099920, 7116620, 7133320, 7150040, 7166780, 7183540, 7200320, 7217120, 7233940, 7250780, 7267640, 7284520, 7301420, 7318340, 7335280, 7352240, 7369220, 7386220, 7403240, 7420280, 7437340, 7454420, 7471520, 7488640, 7505780, 7522940, 7540120, 7557320, 7574540, 7591780, 7609040, 7626320, 7643620, 7660940, 7678280, 7695640, 7713020, 7730420, 7747840, 7765280, 7782740, 7800220, 7817720, 7835240, 7852780, 7870340, 7887920, 7905520, 7923140, 7940780, 7958440, 7976120, 7993820, 8011540, 8029280, 8047040, 8064820, 8082620, 8100440, 8118280, 8136140, 8154020, 8171920, 8189840, 8207780, 8225740, 8243720, 8261720, 8279740, 8297780, 8315840, 8333920, 8352020, 8370140, 8388280, 8406440, 8424620, 8442820, 8461040, 8479280, 8497540, 8515820, 8534120, 8552440, 8570780, 8589140, 8607520, 8625920, 8644340, 8662780, 8681240, 8699720, 8718220, 8736720, 8755240, 8773780, 8792340, 8810920, 8829520, 8848140, 8866780, 8885440, 8904120, 8922820, 8941540, 8960280, 8979040, 8997820, 9016620, 9035440, 9054280, 9073140, 9092020, 9110920, 9129840, 9148780, 9167740, 9186720, 9205720, 9224740, 9243780, 9262840, 9281920, 9301020, 9320140, 9339280, 9358440, 9377620, 9396820, 9416040, 9435280, 9454540, 9473820, 9493120, 9512440, 9531780, 9551140, 9570520, 9589920, 9609340, 9628780, 9648240, 9667720, 9687220, 9706740, 9726280, 9745840, 9765420, 9785020, 9804640, 9824280, 9843940, 9863620, 9883320, 9903040, 9922780, 9942540, 9962320, 9982120, 10001940, 10021780, 10041620, 10061480, 10081340, 10101220, 10121120, 10141020, 10160940, 10180880, 10200840, 10220820, 10240820, 10260840, 10280880, 10300940, 10321020, 10341120, 10361240, 10381380, 10401540, 10421720, 10441920, 10462140, 10482380, 10502640, 10522920, 10543220, 10563540, 10583880, 10604240, 10624620, 10645020, 10665440, 10685880, 10706340, 10726820, 10747320, 10767840, 10788380, 10808940, 10829520, 10850120, 10870740, 10891380, 10912040, 10932720, 10953420, 10974140, 10994880, 11015640, 11036420, 11057220, 11078020, 11098840, 11119680, 11140540, 11161420, 11182320, 11203240, 11224180, 11245140, 11266120, 11287120, 11308140, 11329180, 11350240, 11371320, 11392420, 11413540, 11434680, 11455840, 11477020, 11498220, 11519440, 11540680, 11561940, 11583220, 11604520, 11625840, 11647180, 11668540, 11689920, 11711320, 11732740, 11754180, 11775640, 11797120, 11818620, 11840140, 11861680, 11883240, 11904820, 119264

◆ Exercice 10 p. 297

- a)  $\forall n \in \mathbb{N}, u_n \geq 0$ ;  $(u_n)$  croissante;  $\lim_{n \rightarrow +\infty} u_n = 1$     b)  $\forall n \in \mathbb{N}, u_n \geq 0$ ;  $(u_n)$  croissante;  $\lim_{n \rightarrow +\infty} u_n = 1$   
 c)  $\forall n \in \mathbb{N}, (u_n) < 0$ ;  $(u_n)$  croissante;  $\lim_{n \rightarrow +\infty} u_n = 0$     d)  $\forall n \in \mathbb{N}, (u_n) \geq 0$ ;  $(u_n)$  croissante;  $\lim_{n \rightarrow +\infty} u_n = +\infty$   
 e)  $\forall n \in \mathbb{N}, u_n > 0$ ;  $(u_n)$  croissante;  $\lim_{n \rightarrow +\infty} u_n = +\infty$     f)  $\forall n \in \mathbb{N}, u_n \geq 0$ ;  $(u_n)$  croissante;  $\lim_{n \rightarrow +\infty} u_n = 1$

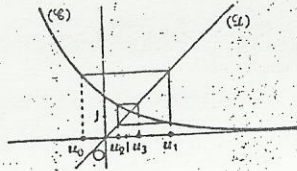
◆ Exercice 11 p. 297

1. Voir construction ci-contre.

2. D'après cette construction, on peut conjecturer que la suite  $(u_n)$  n'est ni croissante, ni décroissante.

3. D'après le graphique cette suite admet une limite  $u$  telle que  $1 < u < 2$ .

(Ce nombre est l'abscisse du point d'intersection de la courbe  $(\mathcal{C})$  et de la droite  $(\mathcal{D})$ .)



◆ Exercice 12 p. 297

a) Soit  $(\mathcal{D})$  et  $(\Delta)$  les droites d'équations respectives  $y = -\frac{1}{2}x + 3$  et  $y = x$ . D'après la construction ci-contre, on peut conjecturer que la suite n'est ni croissante, ni décroissante.

On peut également conjecturer que cette suite a pour limite 2.

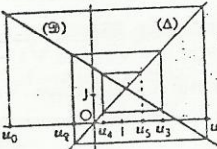
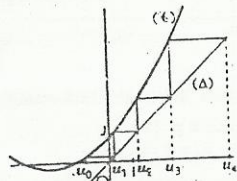
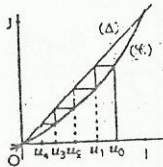
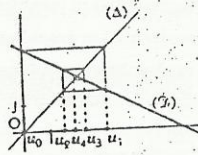
b) Soit  $(\mathcal{C})$  et  $(\Delta)$  les courbes d'équations respectives :

$$y = \frac{x}{2-x} \text{ et } y = x. \text{ On limitera les tracés à l'intervalle } ]0; 1[.$$

On en déduit une construction des termes de la suite  $u_n$ .

On peut conjecturer que la suite est décroissante.

On peut également conjecturer que cette suite a pour limite l'abscisse du point d'intersection de  $(\mathcal{C})$  et  $(\Delta)$ , c'est-à-dire 0.



◆ Exercice 13 p. 298

a)  $u_0 = -1$ ;  $u_1 = 0,2$ ;  $u_2 = 1,208$ ;  $u_3 = 2,499$ ;  $u_4 = 4,748$ .

Soit  $(\mathcal{C})$  et  $(\Delta)$  les courbes d'équations respectives :  $y = 0,2x^2 + x + 1$  et  $y = x$ . On en déduit une construction des termes de la suite.

On peut conjecturer que :

- la suite est croissante ;
- la suite n'admet pas de limite finie, elle est divergente.

b)  $u_0 = -3$ ;  $u_1 = 4$ ;  $u_2 = -\frac{2}{3}$ ;  $u_3 = \frac{22}{9}$ ;  $u_4 = \frac{10}{27}$ .

Soit  $(\mathcal{D})$  et  $(\Delta)$  les droites d'équations respectives :  $y = -\frac{2}{3}x + 2$  et  $y = x$ .

On en déduit une construction des termes de la suite.

On peut conjecturer que :

- la suite n'est ni croissante, ni décroissante ;
- la suite a pour limite l'abscisse du point d'intersection des deux droites, c'est-à-dire  $\frac{6}{5}$ .

◆ Exercice 14 p. 298

1.  $\forall n \in \mathbb{N}^*, u_n = \frac{1}{n} - \frac{1}{n+1}$     2.  $\forall n \in \mathbb{N}^*, s_n = 1 - \frac{1}{n+1}$     3.  $\lim_{n \rightarrow +\infty} s_n = 1$

SUITES ARITHMÉTIQUES, SUITES GÉOMÉTRIQUES

◆ Exercice 15 p. 298

- a)  $(u_n)$  est une suite géométrique de raison  $-1$  et de 1<sup>er</sup> terme 1.  
 b) La suite  $(u_n)$  n'est ni arithmétique, ni géométrique.  
 c)  $(u_n)$  est une suite arithmétique de raison  $-3$  et de 1<sup>er</sup> terme  $-6$ .  
 d)  $(u_n)$  est une suite géométrique de raison  $-\frac{3}{2}$  et de 1<sup>er</sup> terme 9.  
 e) La suite  $(u_n)$  n'est ni arithmétique, ni géométrique.  
 f)  $(u_n)$  est une suite géométrique de raison  $10^{-2}$  et de 1<sup>er</sup> terme 1.

◆ Exercice 16 p. 298

- a)  $(u_n)$  est une suite arithmétique de raison  $-3$  et de 1<sup>er</sup> terme 7.  
 b)  $(u_n)$  est une suite arithmétique de raison  $-\frac{2}{5}$  et de 1<sup>er</sup> terme 1.

◆ Exercice 17 p. 298

- a)  $(u_n)$  est une suite géométrique de raison 2 et de 1<sup>er</sup> terme 8.  
 b)  $(u_n)$  est une suite géométrique de raison 4 et de 1<sup>er</sup> terme  $\frac{1}{4}$ .  
 c)  $(u_n)$  est une suite géométrique de raison  $\frac{1}{8}$  et de 1<sup>er</sup> terme 1.  
 d)  $(u_n)$  est une suite géométrique de raison  $\frac{2}{5}$  et de 1<sup>er</sup> terme 4.

◆ Exercice 18 p. 298

1. Soit  $u_n = u_0 + nr$ .

$$\begin{aligned} u_p + u_q &= (u_0 + pr) + (u_0 + qr) = 2u_0 + (p+q)r \\ &= 2u_0 + (p'+q')r \\ &= (u_0 + p'r) + (u_0 + q'r) = u_{p'} + u_{q'} \end{aligned}$$

2. Soit  $v_n = v_0 a^n$ .

$$\begin{aligned} v_p \times v_q &= v_0^2 a^{p+q} = v_0^2 a^{p'+q'} \\ &= v_0 a^{p'} \times v_0 a^{q'} = v_{p'} \times v_{q'} \end{aligned}$$

◆ Exercice 19 p. 298

On désigne par  $r$  la raison de la suite cherchée.

On a :  $x = y - r$  et  $x = y + r$ , donc  $y$  et  $r$  sont les solutions du système :

$$\begin{cases} (y-r) + y + (y+r) = 9 \\ (y-r)^2 + y^2 + (y+r)^2 = 9 \end{cases} \Leftrightarrow \begin{cases} 3y = 9 \\ 3y^2 + 2r^2 = 59 \end{cases} \Leftrightarrow \begin{cases} y = 3 \\ r^2 = 16 \end{cases}$$

Si  $r = 4$ , on a :  $(x, y, z) = (-1; 3; 7)$ . Si  $r = -4$ , on a :  $(x, y, z) = (7; 3; -1)$ .

◆ Exercice 20 p. 298

On désigne par  $q$  la raison de la suite cherchée.

On a :  $y = qx$  et  $x = q^2x$ , donc  $x$  et  $q$  sont les solutions du système :

$$\begin{cases} x + qx + q^2x = 63 \\ \frac{1}{x} + \frac{1}{qx} + \frac{1}{q^2x} = \frac{7}{16} \end{cases} \Leftrightarrow \begin{cases} x(1+q+q^2) = 63 \\ \frac{1+q+q^2}{q^2x} = \frac{7}{16} \end{cases} \Leftrightarrow \begin{cases} x(1+q+q^2) = 63 \\ q^2x^2 = 16 \times 9 \end{cases} \Leftrightarrow \begin{cases} qx = 12 \\ 4q^2 - 17q + 4 = 0 \end{cases}$$

Si  $q = 4$ , on a :  $(x, y, z) = (3; 12; 48)$ .

Si  $q = \frac{1}{4}$ , on a :  $(x, y, z) = (48; 12; 3)$ .

◆ Exercice 21 p. 298

a)  $s_1 = 5n^2 + 5n + 1$

b)  $s_2 = \frac{10^{n+1} - 1}{9}$

c)  $s_3 = \frac{1 - (-10)^{n+1}}{11}$

◆ Exercice 22 p. 298

Chaque année, l'effectif de la population est multiplié par 1,02.

Après 1 an, la population est :  $P_1 = 50 \times 10^6 \times 1,02 = 51\,000\,000$ .

Après 2 ans, la population est :  $P_2 = 50 \times 10^6 \times (1,02)^2 = 52\,020\,000$ .

Après 10 ans, la population est :  $P_{10} = 50 \times 10^6 \times (1,02)^{10} = 60\,950\,000$ .

◆ Exercice 23 p. 298

a) On a :  $u_1 = 1 ; u_2 = 11 ; u_3 = 111 ; u_4 = 1111 ; u_5 = 11111$

b)  $u_1 = 1 ; u_2 = 1 + 10 ; u_3 = 1 + 10 + 10^2 ; u_4 = 1 + 10 + 10^2 + 10^3 ; u_5 = 1 + 10 + 10^2 + 10^3 + 10^4$

On démontre par récurrence que :  $\forall n \in \mathbb{N}^*, u_n = 1 + 10 + 10^2 + \dots + 10^{n-1}$

Donc, pour tout entier naturel  $n$  non nul,  $u_n$  est la somme de  $n$  termes consécutifs d'une suite géométrique de raison 10 et de premier terme 1.

c) On a :  $\forall n \in \mathbb{N}^*, u_n = \frac{10^n - 1}{9}$

◆ Exercice 24 p. 298

1.  $\forall n \in \mathbb{N}, v_{n+1} = \frac{1}{5} v_n$  ( $v_n$ ) est une suite géométrique de raison  $\frac{1}{5}$  et de premier terme  $v_0 = u_0 - 1 = 5$ .

2.  $\forall n \in \mathbb{N}, v_n = \frac{5}{5^n} = \frac{1}{5^{n-1}}$  et  $u_n = \frac{1}{5^{n-1}} + 1$  3.  $\lim_{n \rightarrow +\infty} v_n = 0$  et  $\lim_{n \rightarrow +\infty} u_n = 1$ .

◆ Exercice 25 p. 298

1. a) Si  $\alpha = 0 \pmod{2\pi}$ , alors  $\forall n \in \mathbb{N}, u_n = 1$  ; ( $u_n$ ) est une suite constante.

b) Si  $\alpha = \pi \pmod{2\pi}$ , alors  $\forall n \in \mathbb{N}, u_n = (-1)^n$  ; ( $u_n$ ) est une suite alternée  $(-1 ; 1 ; -1 ; 1 ; \dots)$ .

c) Si  $\alpha = \frac{\pi}{2} \pmod{\pi}$ , alors  $\forall n \in \mathbb{N}, u_n = 0$  ; ( $u_n$ ) est la suite nulle.

2. Si  $\alpha$  est différent des valeurs précédentes, alors ( $u_n$ ) est une suite géométrique de raison  $\cos \alpha$  tel que :  $0 < |\cos \alpha| < 1$  ; donc :  $\lim_{n \rightarrow +\infty} u_n = 0$ .

◆ Exercice 26 p. 298

On a une suite géométrique de raison 2 et de premier terme 10 :

$u_1 = 10 ; u_2 = 10 \times 2 ; u_3 = 10 \times 2^2 ; \dots ; u_{32} = 10 \times 2^{31}$ .

Le prix de vente de la maison est la somme des 32 termes de cette suite :  $S = 10 \times \frac{2^{32} - 1}{2 - 1} = 42\,949\,672\,950$ .

◆ Exercice 27 p. 298

1. Les loyers successifs forment une suite géométrique ( $L_n$ ) de raison 1.06 et de premier terme  $L_0 = 50\,000$ .  
Donc :  $\forall n \in \mathbb{N}, L_n = 50\,000 \times (1.06)^n$ . Dans 8 ans, le loyer sera :  $L_8 = 50\,000 \times (1.06)^8 = 79\,692$ .

2.  $L_n = 100\,000$  équivaut à  $(1.06)^n = 2$ . On a :  $(1.06)^{11} = 1.89$  et  $(1.06)^{12} = 2.01$ .

Donc, le loyer doublera au bout de 12 ans.

3. Au bout des 10 premières années, le montant total des loyers est le produit par 12 (mois) de la somme des 10 premiers termes de la suite :  $S = 12 \times 50\,000 \times \frac{(1.06)^{10} - 1}{0.06} = 7\,908\,477$ .

□ Exercices d'approfondissement

◆ Exercice 28 p. 298

1. Le patriarche a  $n$  enfants,  $n \times n$  petits-enfants,  $n \times n \times n$  arrière-petits-enfants et  $n \times n \times n \times n$  arrière-arrière-petits-enfants.

Donc, le nombre de membres de cette famille est :  $N = 1 + n + n^2 + n^3 + n^4 = \frac{n^5 - 1}{n - 1}$ .

2. On a :  $\frac{n^5 - 1}{n - 1} = 2\,801 \Leftrightarrow n = 7$ .

◆ Exercice 29 p. 299

1. Pour tout entier naturel  $k$  de  $[2 ; n]$ , on a :  $v_k = \frac{1}{2} v_{k-1}$ .

Donc, ( $v_k$ ) est une suite géométrique de  $n$  termes, de raison  $\frac{1}{2}$  et de premier terme  $v_1$ .

Pour tout entier naturel  $k$  de  $[2 ; n]$ , on a :  $v_k = v_1 \times \left(\frac{1}{2}\right)^{k-1}$ .

2. a) Le nombre total de voix réunies par les  $n$  candidats est la somme des  $n$  termes de cette suite géométrique :

$$S = v_1 \times \frac{1 - \left(\frac{1}{2}\right)^n}{1 - \frac{1}{2}} = 2v_1 \left[1 - \left(\frac{1}{2}\right)^n\right]$$

b) On a :  $s_n < 2v_1 \Leftrightarrow v_1 > \frac{1}{2} s_n$  ; donc, le candidat placé au premier rang est élu au premier tour.

On a :  $s_n = 945$  et  $v_1 = 480$ . Donc :  $945 = 960 \left[1 - \left(\frac{1}{2}\right)^n\right] \Leftrightarrow n = 6$ .

◆ Exercice 30 p. 299

1. a) On pose :  $C_0 = 1\,000\,000$  ; l'intérêt annuel est  $0,065 \times C_0$ , c'est-à-dire 65 000 F.

$C_1 = C_0 + 65\,000 = 1\,065\,000$  ;  $C_2 = C_1 + 65\,000 = 1\,130\,000$  ;  $C_3 = C_2 + 65\,000 = 1\,195\,000$ .

b) Pour tout entier naturel  $n$  tel que  $n \geq 2$ , on a :  $C_n = C_{n-1} + 65\,000$ .

Donc, ( $C_n$ ) est une suite arithmétique de premier terme 1 000 000 et de raison 65 000.

2. a) On a :  $D_1 = 1\,065\,000$  ;  $D_2 = 1\,134\,225$  ;  $D_3 = 1\,207\,950$ .

b) Pour tout entier naturel  $n$  tel que  $n \geq 2$ , on a :  $D_n = D_{n-1} \times 1,065$ .

Donc, ( $D_n$ ) est une suite géométrique de premier terme 1 000 000 et de raison 1,065.

On a :  $\forall n \in \mathbb{N}, C_n = 1\,000\,000 + 65\,000n$  ; donc :  $C_{10} = 1\,650\,000$ .

$\forall n \in \mathbb{N}, D_n = 1\,000\,000 \times (1,065)^n$  ; donc :  $D_{10} = 1\,877\,137$ .

◆ Exercice 31 p. 299

1. a) Soit  $u_n$  le nombre de cercles après  $n$  divisions ; on a :  $\forall n \in \mathbb{N}, u_n = 2^n$ .

Pour tout entier naturel  $n$ , la somme des diamètres de ces  $2^n$  cercles est égale à 2 ; de plus, ces diamètres sont égaux. Donc :  $\forall n \in \mathbb{N}, r_n = \frac{1}{2^n}$ .

b) ( $r_n$ ) est une suite géométrique de premier terme est 1 et de raison  $\frac{1}{2}$ . On a :  $\lim_{n \rightarrow +\infty} r_n = 0$ .

2. a)  $\forall n \in \mathbb{N}, a_n = 2^n \times \pi \left(\frac{1}{2}\right)^{2n} = \frac{\pi}{2^n}$ .

( $a_n$ ) est une suite géométrique de premier terme  $\pi$  et de raison  $\frac{1}{2}$ .

b) On a :  $\lim_{n \rightarrow +\infty} a_n = 0$ .

◆ Exercice 32 p. 299

1.  $\forall n \in \mathbb{N}, L_n = L_{n-1} \times \frac{2}{3}$  ;  $L_n = L_{n-1} \times \frac{3}{4}$ ,  $a_n = a_{n-1} \times \frac{1}{2}$ .

• ( $l_n$ ) est une suite géométrique de premier terme 30 de raison  $\frac{2}{3}$  ;

• ( $L_n$ ) est une suite géométrique de premier terme 40 de raison  $\frac{3}{4}$  ;

• ( $a_n$ ) est une suite géométrique de premier terme 1 200 de raison  $\frac{1}{2}$ .

2.  $\lim_{n \rightarrow +\infty} L_n = \lim_{n \rightarrow +\infty} L_n = \lim_{n \rightarrow +\infty} a_n = 0$ .

3. a)  $\forall n \in \mathbb{N}, s_n = 1\,200 \times \left[1 - \left(\frac{1}{2}\right)^n\right]$ .

b) On a :  $\lim_{n \rightarrow +\infty} s_n = 1200 = \text{Aire (ABCD)}$ .

◆ Exercice 33 p. 299

1.  $\forall n \in \mathbb{N}^*, A_n B_n = A_{n-1} B_{n-1} \times \frac{1}{\sqrt{2}}$  ; donc, ( $A_n B_n$ ) est une suite géométrique de premier terme 10 et de raison  $\frac{1}{\sqrt{2}}$ .

$\forall n \in \mathbb{N}, A_n B_n = 10 \times \left(\frac{1}{\sqrt{2}}\right)^n$ . On convient que :  $A_0 B_0 = AB$ .

Donc :  $A_{10} B_{10} = 10 \times \left(\frac{1}{\sqrt{2}}\right)^{10} = \frac{10}{32} = 0,3125$  et Aire ( $A_{10} B_{10} C_{10} D_{10}$ ) = 0,0975 ;

$A_{25} B_{25} = 10 \times \left(\frac{1}{\sqrt{2}}\right)^{25} = 1,726 \times 10^{-3}$  et Aire ( $A_{25} B_{25} C_{25} D_{25}$ ) =  $2,98 \times 10^{-6}$ .

2. a) ( $c_n$ ) est une suite géométrique de premier terme 10 et de raison  $\frac{1}{\sqrt{2}}$ .

$(a_n)$  est une suite géométrique de premier terme 100 et de raison  $\frac{1}{2}$ .

b)  $\forall n \in \mathbb{N}^*, c_n = 10 \times \left(\frac{1}{\sqrt{2}}\right)^n$  et  $a_n = 100 \times \left(\frac{1}{2}\right)^n$ .

Donc :  $\lim_{n \rightarrow +\infty} c_n = \lim_{n \rightarrow +\infty} a_n = 0$ .

◆ Exercice 34 p. 299

1. a)  $u_0 = 16$ ;  $u_1 = 16 \times \frac{1}{\sqrt{2}} = 8\sqrt{2}$ ;  $u_2 = 8\sqrt{2} \times \frac{1}{\sqrt{2}} = 8$ ;  $u_3 = 8 \times \frac{1}{\sqrt{2}} = 4\sqrt{2}$ .

b)  $\forall n \in \mathbb{N}^*, u_n = u_{n-1} \times \frac{1}{\sqrt{2}}$ ; donc  $(u_n)$  est une suite géométrique de premier terme 16 et de raison  $\frac{1}{\sqrt{2}}$ .

$\forall n \in \mathbb{N}, u_n = 16 \times \left(\frac{1}{\sqrt{2}}\right)^n$ ; donc :  $\lim_{n \rightarrow +\infty} u_n = 0$ .

2. a)  $\forall n \in \mathbb{N}^*, A_{n-1}A_n = u_n$ ; donc :  $s_n = u_1 + u_2 + \dots + u_n = 16 \times \frac{1 - \left(\frac{1}{\sqrt{2}}\right)^n}{\sqrt{2} - 1}$ .

On en déduit que :  $\lim_{n \rightarrow +\infty} s_n = 16(\sqrt{2} + 1)$ .

3. a)  $a_0 = \frac{1}{2} \times (u_1)^2 = 64$ ;  $a_1 = \frac{1}{2} \times (u_2)^2 = 32$ ;  $a_2 = \frac{1}{2} \times (u_3)^2 = 16$ ;  $a_3 = \frac{1}{2} \times (u_4)^2 = 8$ .

b)  $\forall n \in \mathbb{N}^*, a_n = \frac{1}{2} \times a_{n-1}$ ; donc  $(a_n)$  est une suite géométrique de premier terme 64 et de raison  $\frac{1}{2}$ .

$\forall n \in \mathbb{N}, a_n = 64 \times \left(\frac{1}{2}\right)^n$ ; donc :  $\lim_{n \rightarrow +\infty} a_n = 0$ .

c)  $\forall n \in \mathbb{N}, \sigma_n = 128 \times \left[1 - \left(\frac{1}{2}\right)^n\right]$ ; donc :  $\lim_{n \rightarrow +\infty} \sigma_n = 128$ .

◆ Exercice 35 p. 300

1. Chaque étape consiste à découper un ou plusieurs carrés non hachurés en 9 carrés égaux et à en hachurer 1 sur les 9. Donc, après chaque découpage, le côté du carré est divisé par 3. On en déduit :

- après 1 découpage, il reste 8 carrés de côtés  $\frac{1}{3}$  non hachurés;
- après 2 découpages, il reste  $8 \times 8$ , c'est-à-dire  $8^2$  carrés de côtés  $\frac{1}{3^2}$  non hachurés;
- après 3 découpages, il reste  $8^2 \times 8$ , c'est-à-dire  $8^3$  carrés de côtés  $\frac{1}{3^3}$  non hachurés...

Donc, si après  $n - 1$  découpages, il reste  $8^{n-1}$  carrés de côtés  $\frac{1}{3^{n-1}}$  non hachurés, alors après  $n$  découpages, il reste  $8^n$  carrés de côtés  $\frac{1}{3^n}$ , c'est-à-dire  $8^n$  carrés de côtés  $\frac{1}{3^n}$  non hachurés.

On en déduit que pour tout entier naturel  $n$  non nul, après  $n$  découpages, il reste  $8^n$  carrés de côtés  $\frac{1}{3^n}$  non hachurés.

2. a)  $a_1 = 1 - 8 \times \left(\frac{1}{3}\right)^2 = \frac{1}{9}$ ;  $a_2 = 1 - 8^2 \times \left(\frac{1}{3^2}\right)^2 = 1 - 8^2 \times \frac{1}{3^4} = \frac{17}{81}$ ;  $a_3 = 1 - 8^3 \times \left(\frac{1}{3^3}\right)^2 = 1 - 8^3 \times \frac{1}{3^6} = \frac{217}{729}$ .

b)  $\forall n \in \mathbb{N}^*, a_n = 1 - 8^n \times \left(\frac{1}{3^n}\right)^2 = 1 - 8^n \times \frac{1}{3^{2n}} = 1 - \left(\frac{8}{9}\right)^n$ .

c)  $\lim_{n \rightarrow +\infty} a_n = 1$ .

◆ Exercice 36 p. 300

1.  $u_1 = 1$ ;  $u_2 = 1,1$ ;  $u_3 = 1,11$ ;  $u_4 = 1,111$ ;  $u_5 = 1,1111$ .

2.  $\forall n \in \mathbb{N}^*, u_n = 1 + \frac{1}{10} + \frac{1}{10^2} + \dots + \frac{1}{10^{n-1}}$ .

$u_n$  est la somme de  $n$  termes consécutifs de la suite  $\left(\frac{1}{10^k}\right)$  qui est une suite géométrique de raison 0,1 et de premier terme 1.

3.  $\forall n \in \mathbb{N}^*, u_n = \frac{10}{9} \times [1 - (0,1)^n]$ ; donc :  $\lim_{n \rightarrow +\infty} u_n = \frac{10}{9}$ .

4.  $s_n = \frac{10n}{9} - \frac{10}{9} \left[ \frac{1}{10} + \frac{1}{10^2} + \frac{1}{10^3} + \dots + \frac{1}{10^n} \right] = \frac{10n}{9} - \frac{10}{9} \left[ \frac{1}{10} \left( \frac{1 - \left(\frac{1}{10}\right)^n}{1 - \frac{1}{10}} \right) \right] = \frac{10n}{9} - \frac{10}{9^2} \left( \frac{1}{10^n} - 1 \right)$ .

Donc :  $\lim_{n \rightarrow +\infty} s_n = +\infty$ .

◆ Exercice 37 p. 300

1.  $\forall n \in \mathbb{N}^*, u_n = u_{n-1} + \frac{9}{10^{n+1}}$ .

2. On a :  $u_1 = 0,1 + \frac{9}{10^2}$ ;  $u_2 = u_1 + \frac{9}{10^3}$ ;  $u_3 = u_2 + \frac{9}{10^4}$ ; ... ;  $u_n = u_{n-1} + \frac{9}{10^{n+1}}$ .

En additionnant membre à membre les  $n$  égalités, on obtient :  $u_n = 0,1 + 9 \left( \frac{1}{10^2} + \frac{1}{10^3} + \dots + \frac{1}{10^{n+1}} \right)$ .

Entre parenthèses, on a la somme de  $n$  termes de la suite géométrique de raison  $\frac{1}{10}$  et de premier terme  $\frac{1}{10^2}$ .

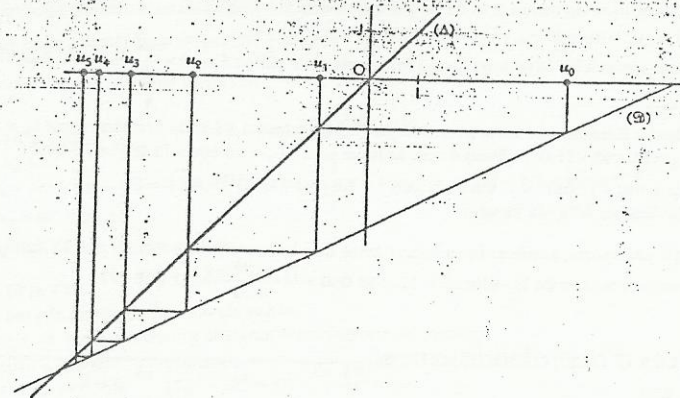
Donc :  $u_n = 0,1 + \frac{9}{10^2} \times \frac{1 - \frac{1}{10^n}}{1 - \frac{1}{10}} = 0,1 + 0,1 \left( 1 - \frac{1}{10^n} \right) = 0,2 - \frac{1}{10^{n+1}}$ .

3. On en déduit que :  $\lim_{n \rightarrow +\infty} u_n = 0,2$ .

◆ Exercice 38 p. 300

1. Dans le repère  $(O, I, J)$ , on trace les droites  $(\Delta)$  et  $(\Omega)$  d'équations respectives  $y = x$  et  $y = \frac{1}{2}x - 3$ .

On construit  $u_0, u_1, u_2, u_3, u_4$  comme indiqué sur la figure.



2. a)  $\forall n \in \mathbb{N}^*, u_{n+1} - u_n = \left(\frac{1}{2}u_n - 3\right) - \left(\frac{1}{2}u_{n-1} - 3\right) = \frac{1}{2}(u_n - u_{n-1})$ .

b) Soit  $(v_n)$  la suite définie pour tout entier naturel  $n$  non nul par :  $v_n = u_n - u_{n-1}$ .

$(v_n)$  est une suite géométrique de raison  $\frac{1}{2}$  et de premier terme  $v_1 = u_1 - u_0 = -5$ .

Donc :  $\forall n \in \mathbb{N}^*, u_{n+1} - u_n = v_{n+1} = -5 \left(\frac{1}{2}\right)^n$ .

c)  $\forall n \in \mathbb{N}, u_{n+1} - u_n < 0$ ; donc, la suite  $(u_n)$  est décroissante.

3. a)  $\forall n \in \mathbb{N}^*, u_n + 6 = \left(\frac{1}{2}u_{n-1} - 3\right) + 6 = \frac{1}{2}u_{n-1} + 3 = \frac{1}{2}(u_{n-1} + 6)$ .

b) Soit  $(w_n)$  la suite définie pour tout entier naturel  $n$  non nul par :  $w_n = u_n + 6$ .

La suite  $(w_n)$  est une suite géométrique de raison  $\frac{1}{2}$  et de premier terme  $w_0 = u_0 + 6 = 10$ .

On en déduit que pour tout entier naturel  $n$ , on a :  $u_n + 6 = (u_0 + 6) \left(\frac{1}{2}\right)^n$ .

c)  $\lim_{n \rightarrow +\infty} u_n = -6$ .

◆ Exercice 39 p. 300

Les distances successives, exprimées en mètres, séparant Achille de la tortue sont : 100 ; 10 ; 1 ; 0,1 ; 0,01 ; 0,001 ; ...

Ces distances forment une suite géométrique de raison 0,1 et de premier terme  $u_0 = 100$ .

Le terme général de cette suite est  $u_n = 100 \times (0,1)^n$ .

La somme des  $n$  premiers termes de cette suite est :  $s_n = 100 \times \frac{1 - (0,1)^n}{1 - 0,1} = \frac{1000}{9} \times (1 - (0,1)^n)$ .

On en déduit :

- la limite de cette suite est 0, donc Achille rattrapera la tortue ;
- la limite de  $s_n$  est  $\frac{1000}{9}$  ; donc il aura alors parcouru 111,111... m.

◆ Exercice 40 p. 300

1. Pour tout entier naturel  $n$  non nul, on considère les carrés de côtés respectifs  $a_{n-1}$  et  $a_n$ .

Dans le triangle rectangle  $A_n B_{n-1} B_n$ , on a :

$$A_n B_n^2 = A_n B_{n-1}^2 + B_{n-1} B_n^2 \Leftrightarrow a_n^2 = (a_{n-1} - 1)^2 + 1.$$

On en déduit que :  $\forall n \in \mathbb{N}^*, a_n = \sqrt{1 + (a_{n-1} - 1)^2}$ .

2. Dans le triangle rectangle  $A_n B_{n-1} B_n$ , on a :

$$1 \leq A_n B_n \leq A_n B_{n-1} + B_{n-1} B_n \Rightarrow 1 \leq a_n \leq a_{n-1}.$$

Donc, la suite  $(a_n)$  est décroissante et minorée strictement par 1.

$$\begin{aligned} 3. a) \forall n \in \mathbb{N}^*, a_n &= \sqrt{1 + (a_{n-1} - 1)^2} \Leftrightarrow a_n^2 = 1 + (a_{n-1} - 1)^2 \\ &\Leftrightarrow a_n^2 - 1 = (a_{n-1} - 1)^2 \\ &\Leftrightarrow a_n - 1 = \frac{(a_{n-1} - 1)^2}{a_n + 1} \end{aligned}$$

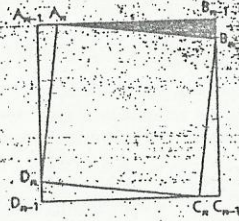
$$b) \forall n \in \mathbb{N}, a_n \geq 1 \Rightarrow a_n + 1 \geq 2 ; \text{ donc } \forall n \in \mathbb{N}^*, 0 \leq a_n - 1 \leq \frac{1}{2} (a_{n-1} - 1)^2.$$

c) On a :  $u_0 = 8 ; u_1 = 7,07 ; u_2 = 6,15 ; u_3 = 5,24 ; u_4 = 4,36 ; u_5 = 3,51 ; u_6 = 2,70 ; u_7 = 1,97 ; \dots$

Donc : si  $n \geq 7$ , alors  $a_n \leq 2$ .

$$\begin{aligned} \text{On en déduit que : pour tout entier } n \text{ tel que } n \geq 8, 0 \leq a_n - 1 &\leq \frac{1}{2} (a_{n-1} - 1)^2 \Rightarrow 0 \leq a_n - 1 \leq \frac{1}{2^n} (a_0 - 1)^2 \\ &\Rightarrow 0 \leq a_n - 1 \leq \frac{7}{2^n}. \end{aligned}$$

Donc :  $\lim_{n \rightarrow +\infty} a_n = 1$ .



# 16. Statistiques

(pages 301 à 318 du livre de l'élève)

- Maîtriser les notions de caractéristiques de position et de dispersion.
- Représenter les séries à deux caractères quantitatifs et aborder l'ajustement linéaire.

Comme souvent en statistiques, le cours comportera essentiellement des exercices bien choisis et peu nombreux.

Les notions relatives aux séries à modalités regroupées en classes sont analogues à celles qui ont été présentées en seconde pour les séries à modalités non regroupées en classes. En particulier, la moyenne, la variance et l'écart type se calculent de la même manière, en remplaçant chaque classe par son centre. La seule nouveauté est l'interpolation linéaire, qui est ici très souvent utilisée. Il faudra veiller à chaque fois que les calculs soient correctement posés et effectués ; il ne s'agit en fait que de la recherche d'une coordonnée d'un point dont on connaît l'autre coordonnée, ce point appartenant à une droite définie par deux points.

Pour déterminer la droite de régression par la méthode des moindres carrés, l'élève devra apprendre à dresser un tableau de calculs, à représenter la droite obtenue et à juger de la fiabilité de son résultat ; pour ce faire, il pourra s'entraîner à faire un « ajustement manuel ».

## SAVOIR FAIRE

savoirs	savoir-faire
<p><b>Séries statistiques présentant un regroupement en classes</b></p> <ul style="list-style-type: none"> <li>Effectifs cumulés, fréquences cumulées.</li> <li>Caractéristiques de position.</li> <li>Caractéristiques de dispersion.</li> </ul>	<ul style="list-style-type: none"> <li>Déterminer les effectifs (fréquences) cumulé(e)s croissant(e)s ou décroissant(e)s, construire les polygones correspondants.</li> <li>Déterminer la classe modale ; déterminer la médiane graphiquement ou par interpolation linéaire.</li> <li>Calculer la moyenne, l'écart moyen, la variance et l'écart type.</li> <li>Savoir interpréter l'écart type d'une série statistique.</li> </ul>
<p><b>Séries statistiques à deux caractères</b></p> <ul style="list-style-type: none"> <li>Organisation des données.</li> <li>séries marginales ;</li> <li>nuage de points ;</li> <li>point moyen d'un nuage ;</li> <li>Ajustement linéaire.</li> <li>covariance ;</li> <li>droites de régression de <math>y</math> en <math>x</math> et de <math>x</math> en <math>y</math> ;</li> <li>coefficient de corrélation.</li> </ul>	<ul style="list-style-type: none"> <li>Construire le nuage de points.</li> <li>Déterminer le point moyen du nuage.</li> <li>Calculer la covariance, le coefficient de corrélation.</li> <li>Déterminer et construire les droites de régression.</li> <li>Savoir apprécier la fiabilité d'une estimation en fonction du coefficient de corrélation.</li> </ul>

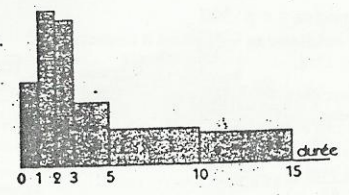
## Exercices de cours

### ◆ Exercice 1.a p. 306

1. Le graphique ci-contre est un histogramme représentant cette série.

2. On a :

Classe	[0 ; 1[	[1 ; 2[	[2 ; 3[	[3 ; 5[	[5 ; 10[	[10 ; 15[
Eff. cum. croissant	30	84	135	180	243	300
Eff. cum. décroissant	300	270	216	165	120	57



Les polygones des effectifs cumulés croissants et décroissants sont représentés ci-contre.

3. a) L'ordonnée  $n_1$  du point d'abscisse 4 du polygone des effectifs cumulés décroissants vérifie :

$$\frac{n_1 - 165}{4 - 3} = \frac{120 - 165}{5 - 3}$$

D'où :  $n_1 = 142,5$ .

Il y a 142 communications de durée supérieure à 4 min.

b) L'ordonnée  $n_2$  du point d'abscisse 7 du polygone des effectifs cumulés croissants vérifie :

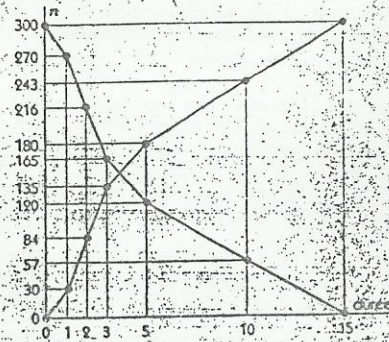
$$\frac{n_2 - 180}{7 - 5} = \frac{243 - 180}{10 - 5}$$

D'où :  $n_2 = 205,2$ .

Il y a 205 communications de durée inférieure à 7 min.

c) Il y a donc  $300 - 142 = 158$  communications de durée inférieure à 4 min et  $300 - 205 = 95$  communications de durée supérieure à 7 min.

Donc il y a  $300 - (158 + 95) = 47$  communications de durée comprise entre 4 et 7 min.



◆ Exercice 1.b p. 306

1. On a :

Classe	[0 ; 4[	[4 ; 8[	[8 ; 12[	[12 ; 16[	[16 ; 20]
Eff. cum. croissant	10 %	38 %	78 %	92 %	100 %
Eff. cum. décroissant	100 %	90 %	62 %	22 %	8 %

Les polygones des fréquences cumulées croissantes et décroissantes sont représentées ci-contre.

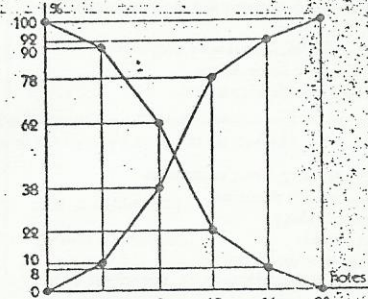
2. a) La classe modale est [8 ; 12[.

La médiane  $m$  est l'abscisse du point du polygone des fréquences cumulées croissantes dont l'ordonnée est 50%.

Elle vérifie :  $\frac{50 - 38}{m - 8} = \frac{78 - 38}{12 - 8}$  ; d'où  $m = 9,2$ .

b) La moyenne  $\bar{x}$  des notes obtenues par l'élève qui s'est classé quizième au concours est l'abscisse du point du polygone des fréquences cumulées décroissantes dont l'ordonnée est 30%.

Elle vérifie :  $\frac{30 - 62}{\bar{x} - 8} = \frac{22 - 62}{12 - 8}$  ; d'où  $\bar{x} = 11,2$ .



◆ Exercice 1.c p. 306

1. La médiane  $m$  appartient à l'intervalle [165 ; 170].

Elle vérifie :  $\frac{20 - 11}{m - 165} = \frac{21 - 11}{170 - 165}$  ;

D'où :  $m = 169,5$ .

D'après le tableau ci-contre, on a :

$$\bar{x} = \frac{6780}{40} = 169,5$$

2. Le tableau de calculs est dressé ci-contre.

3. On en déduit :

$$\text{l'écart moyen : } \bar{e}_m = \frac{224}{40} = 5,6 ;$$

$$\text{l'écart type : } \sigma = \sqrt{\frac{1\ 150\ 950}{40}} = 169,5^2 ;$$

d'où :  $\sigma = 6,595$ .

Centre de la classe ( $x_i$ )	157,5	162,5	167,5	172,5	177,5	182,5	Total
$n_i$	3	8	10	10	7	2	40
$n_i x_i$	472,5	1 300	1 675	1 725	1 242,5	355	6 780

Centre de la classe ( $x_i$ )	Effectif ( $n_i$ )	$ x_i - \bar{x} $	$n_i  x_i - \bar{x} $	$n_i x_i^2$
157,5	3	12	36	74 418,75
162,5	8	7	56	211 250
167,5	10	2	20	280 562,5
172,5	10	3	30	297 562,5
177,5	7	8	56	220 543,75
182,5	2	13	26	66 612,5
	40		224	1 150 950

◆ Exercice 1.d p. 306

1. Du tableau de calculs ci-contre, on déduit :

$$\bar{x} = \frac{464}{50} = 9,28$$

2. a) On a :  $V = \frac{5\ 192}{50} - 9,28^2 = 17,722$  ;  $\sigma = 4,210$ .

b) On a :  $\bar{x} - \sigma = 5,070$  et  $\bar{x} + \sigma = 13,490$ .

Soit  $y_1$  et  $y_2$  les ordonnées respectives des points d'abscisses 4,21 et 13,49 du polygone des fréquences cumulées croissantes

$$\text{On a : } \frac{y_1 - 10}{4,21 - 4} = \frac{38 - 10}{8 - 4} \text{ et } \frac{y_2 - 78}{13,49 - 12} = \frac{92 - 78}{16 - 12} \text{ D'où : } y_1 = 11,47 \text{ et } y_2 = 83,215$$

On a :  $y_1 - y_2 = 71,745$ . Donc, 71,745 % des élèves ont une moyenne dans l'intervalle  $[\bar{x} - \sigma ; \bar{x} + \sigma]$ .

Centre de la classe ( $x_i$ )	Effectif ( $n_i$ )	$x_i^2$	$x_i n_i$
2	5	10	20
6	14	84	504
10	20	200	2 000
14	7	98	1 372
18	4	72	1 296
Total	50	464	5 192

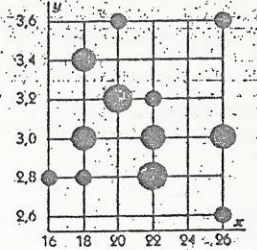
◆ Exercice 2.a p. 314

1. On obtient le tableau à double entrée ci-dessous.

$x_i \backslash y_j$	16	18	20	22	26
2,6	0	0	0	0	1
2,8	1	1	0	3	0
3	0	2	0	2	2
3,2	0	0	3	1	0
3,4	0	2	0	0	0
3,6	0	0	1	0	1

Age ( $x_i$ )	16	18	20	22	26
Effectif	1	5	4	6	4

Poids ( $y_j$ )	2,6	2,8	3	3,2	3,4	3,6
Effectif	1	5	6	4	2	2



◆ Exercice 2.b p. 314

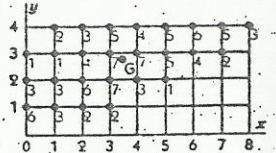
1. a) Les séries marginales sont représentées dans les tableaux ci-dessous.

$x_i$	0	1	2	3	4	5	6	7	8
$n_i$	10	9	15	21	14	11	10	7	3

$y_j$	1	2	3	4
$n_j$	13	23	31	33

b) Les moyennes respectives des séries marginales sont :  $\bar{x} = 3,46$  et  $\bar{y} = 2,84$ .

2. Le nuage et son point sont représentés ci-contre.



◆ Exercice 2.c p. 314

1. Le nuage est représenté ci-contre.

2. On a le tableau de calculs ci-contre.

On en déduit :  $\bar{x} = 0,25$  ;  $\bar{y} = 1,5$ .

3. D'où  $V(x) = \frac{35}{4} - 0,25^2 = 8,6875$  ;

$$V(y) = \frac{22}{4} - 1,5^2 = 3,25 ;$$

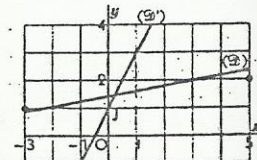
$$\text{Cov}(x, y) = \frac{8}{4} - 0,25 \times 1,5 = 1,625$$

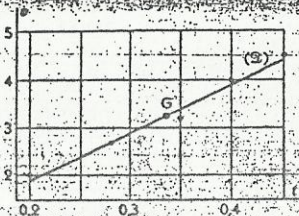
La droite (D) de régression de  $y$  en  $x$  a pour équation :  $y - \bar{y} = \frac{1,625}{8,6875} (x - \bar{x})$  ; ou :  $y = 0,187x + 1,453$ .

La droite (D') de régression de  $x$  en  $y$  a pour équation :  $x - \bar{x} = \frac{1,625}{3,25} (y - \bar{y})$  ; ou :  $y = 2x + 1$ .

4. Le coefficient de corrélation linéaire est :  $r = \frac{1,625}{\sqrt{8,6875} \sqrt{3,25}}$  ; donc :  $r = 0,306$ .

$x_i$	$y_i$	$x_i^2$	$y_i^2$	$x_i y_i$		
-3	1	9	1	-3		
-1	-1	1	1	1		
0	4	0	16	0		
5	2	25	4	10		
Total		1	6	35	22	8





$t_i$	$v_i$	$t_i^2$	$v_i^2$	$t_i v_i$
0,20	2	0,04	4	0,40
0,28	2,7	0,0784	7,29	0,756
0,35	3,2	0,1225	10,24	1,12
0,40	4	0,16	16	1,6
0,45	4,5	0,2025	20,25	2,025
<b>Total</b>	<b>16,4</b>	<b>0,6034</b>	<b>57,78</b>	<b>5,901</b>

- Le nuage est représenté ci-dessus.
- On déduit du tableau de calculs ci-dessus :  $t = 0,336$  ;  $v = 3,28$ .  
D'où le point moyen du nuage :  $G(0,336 ; 3,28)$ .
- a) On a :  $V(t) = 0,00778$  ;  $V(v) = 0,7976$  ;  $Cov(t, v) = 0,07812$ . Soit  $r$  le coefficient de corrélation linéaire. On a :  $r = 0,9917$ . Donc il y a une bonne corrélation linéaire entre  $v$  et  $t$  et un ajustement linéaire est justifié.  
b) La droite (9) de régression de  $v$  en  $t$  a pour équation :  
 $v = 3,28 = 10,04(t - 0,336)$  ; ou :  $v = 10,04 t - 0,9934$ .
- On a :  $\rho = 10$ .

### Exercices d'entraînement

#### Exercice 1 p. 315

1. On obtient le tableau statistique suivant.

Classe	[0 ; 300[	[300 ; 600[	[600 ; 900[	[900 ; 1 200[	[1 200 ; 1 500[
Effectif	21	14	6	6	2
Fréquence (%)	42,86	28,57	12,245	12,245	4,08
Fréquence cum. croissante	42,86	71,43	83,675	95,92	100

- La classe modale de cette série est : [0 ; 300[.
- a) La moyenne de la série avant regroupement en classes est :  $\bar{x} = \frac{22\ 140}{49}$  ; d'où  $\bar{x} = 451,84$ .

b) Du tableau de calculs ci-contre, on déduit la moyenne de la série après regroupement en classes :

Centre de la classe ( $x_i$ )	350	450	750	1 050	1 350	Total
Effectif ( $n_i$ )	21	14	6	6	2	49
$n_i x_i$	3 150	6 300	4 500	6 300	2 700	22 950

$\bar{x} = \frac{22\ 950}{49}$  ; d'où  $\bar{x} = 468,37$ .

#### Exercice 2 p. 315

1. Le polynôme des effectifs cumulés décroissants est représenté ci-contre.

2. D'après le graphique, on a :  $m = 4,3$ .

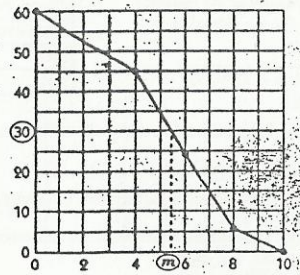
Par interpolation linéaire, on obtient :  $\frac{30 - 45}{m - 4} = \frac{24 - 45}{6 - 4}$  ;

On en déduit :  $m = 5,4285$ .

3. On a le tableau suivant :

Centre de la classe ( $x_i$ )	2	5	7	9	Total
Effectif ( $n_i$ )	15	21	18	6	60
$n_i x_i$	30	105	126	54	315

On en déduit la moyenne :  $\bar{x} = \frac{315}{60}$  ; d'où  $\bar{x} = 5,25$ .



On obtient le tableau suivant :

Classe	[-2 ; -1[	[-1 ; 0[	[0 ; 2[	[2 ; 4[
Eff. cum. croissant		20	39	50
Eff. cum. décroissant	50	36	20	12


Les polygones des effectifs cumulés croissants et décroissants sont représentés ci-contre.

a) Le point d'abscisse 1 du polygone des effectifs cumulés croissants a pour ordonnée 34 ; il y a donc 34 individus dont la modalité est inférieure à 1.

b) Le point d'abscisse -0,4 du polygone des effectifs cumulés décroissants a pour ordonnée 26,5 ; il y a donc 26 individus dont la modalité est supérieure à -0,4.

a) Le point d'ordonnée 9 du polygone des effectifs cumulés décroissants a pour abscisse 2,5 ; les 9 individus de modalité la plus grande appartiennent à l'intervalle [2,5 ; 4[.

b) Le point d'ordonnée 20 du polygone des effectifs cumulés croissants a pour abscisse -0,63 ; les 20 individus de modalité la plus petite appartiennent à l'intervalle [-0,63 ; 2[.



#### Exercice 4 p. 315

On obtient le tableau ci-contre.

Centre des classes ( $x_i$ )	1,5	4	6	8,5	Total
Fréquence ( $f_i$ )	10 %	25 %	35 %	30 %	1
$f_i x_i$	0,15	1	2,1	2,55	5,8
$f_i x_i^2$	0,225	4	12,6	21,675	38,5

- la moyenne  $\bar{x} = 5,8$  ;
- la variance  $V_x = 38,5 - 5,8^2 = 4,86$  ;
- l'écart type  $\sigma = \sqrt{4,86} = 2,205$ .

#### Exercice 5 p. 315

1. On a le tableau de calcul suivant :

Centre des classes ( $x_i$ )	55	65	75	85	95	105	115	125	Total
Effectif ( $n_i$ )	10	15	35	40	30	20	15	5	170
$n_i x_i$	550	975	2 625	3 400	2 850	2 100	1 725	625	14 850
$n_i x_i^2$	30 250	63 375	196 875	289 000	270 750	220 500	198 375	78 125	1 347 250

On en déduit :  $\bar{x} = \frac{14\ 850}{170} = 87,35$  ;  $V = \frac{1\ 347\ 250}{170} - 87,35^2 = 294,98$  ;  $\sigma = 17,17$ .

2. La médiane  $m$  de la série appartient à l'intervalle [80 ; 90[.

On a :  $\frac{85 - 60}{m - 80} = \frac{100 - 60}{90 - 80}$  ; donc :  $m = 86,25$ .


#### Exercice 6 p. 315

1. L'histogramme des effectifs est représenté ci-contre.

2. Les classes modales sont [165 ; 170[ et [170 ; 175[.

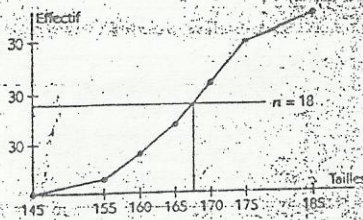
On a le tableau suivant :

Centre des classes ( $x_i$ )	150	157,5	162,5	167,5	172,5	180	Total
Effectif ( $n_i$ )	3	5	8	8	8	6	36
$n_i x_i$	450	787,5	975	1 340	1 380	1 080	6 012,5



On en déduit la moyenne :  $\bar{x} = \frac{612,5}{36} = 167$ .

3. Le polygone des effectifs cumulés croissants est représenté ci-contre. La médiane de la série est le milieu de l'intervalle [165 ; 170], c'est à dire 167,5.



◆ Exercice 7 p. 315

1. Les polygones des effectifs cumulés croissants et décroissants sont représentés ci-contre.

2. a) Soit  $n_1$  l'ordonnée du point d'abscisse 3 du polygone des effectifs cumulés croissants.

On a :  $n_1 = 258 + \frac{133}{2} = 324,5$ .

Il y a donc 324 individus dont la modalité est inférieure à 3.

b) Soit  $n_2$  l'ordonnée du point d'abscisse 5,3 du polygone des effectifs cumulés décroissants.

On a :  $n_2 = 445 + 0,3 \times (337 - 445) = 412,5$ .

Il y a donc 412 individus dont la modalité est supérieure à 5,3.

c) Il y a  $1\ 000 - (324 + 412) = 264$  individus dont la modalité est comprise entre 3 et 5,3.

3. On a le tableau ci-contre. On en déduit :

la moyenne :  $\bar{x} = 4,6455$  ;

la variance :  $V = 27,32175 - 4,6455^2$  ;

d'où  $V = 5,741$  ;

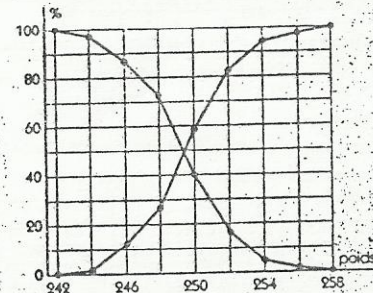
l'écart type :  $\sigma = 2,396$ .

Centre des classes ( $x_i$ )	3,5	3	4,5	5,5	7,5	Total
Effectif ( $n_i$ )	258	133	164	108	337	1 000
$n_i \cdot x_i$	387	399	738	594	2 527,5	4 645,5
$n_i \cdot x_i^2$	589,5	1 197	3 321	3 267	18 956,25	27 321,75

◆ Exercice 8 p. 315

1. a) On a le tableau des fréquences cumulées suivant.

Classe	Fréquence (%)	Fréq. cum. croissante (%)	Fréq. cum. décroissante (%)
[242 ; 244[	1,6	1,6	100
[244 ; 246[	11,2	12,8	98,4
[246 ; 248[	14,4	27,2	87,2
[248 ; 250[	32	59,2	72,8
[250 ; 252[	24	83,2	40,8
[252 ; 254[	12	95,2	16,8
[254 ; 256[	3,2	98,4	4,8
[256 ; 258[	1,6	100	1,6



On en déduit les polygones des fréquences cumulées croissantes et décroissantes représentées ci-contre.

b) La médiane  $m$  de la série appartient à l'intervalle [248 ; 250].

On a :  $m = 248 + 2 \times \frac{50 - 27,2}{59,2 - 27,2} = 249,425$ .

2. a) On a le tableau de calculs ci-après. On en déduit :  $\bar{x} = \frac{31\ 181}{125} = 249,448$  ;

$\sigma = \sqrt{\frac{7\ 779\ 013}{125} - 249,448^2}$  ; d'où  $\sigma = 2,793$ .

On a :  $\bar{x} = \sigma = 246,655$  ;  $\sigma = 252,241$ .

Soit  $f_1$  et  $f_2$  les ordonnées respectives des points d'abscisses 246,655 et 252,241 du polygone des fréquences cumulées croissantes.

On a :  $f_1 = 12,8$  ;  $f_2 = 27,2 - 12,8 = 14,4$ .

$f_1 = 83,2$  ;  $f_2 = 95,2 - 83,2 = 12$ .

Donc :  $f_1 = 17,5$  et  $f_2 = 84,6$ .

On a :  $84,6 - 17,5 = 67,1$  ; donc 67,1% des sacs ont un poids compris entre  $\bar{x} - \sigma$  et  $\bar{x} + \sigma$ .

On a :  $\bar{x} - 2\sigma = 243,862$  ;  $\bar{x} + 2\sigma = 255,034$ . Soit  $f_1$  et  $f_2$  les ordonnées respectives des points d'abscisses 243,862 et 255,034. Par interpolation linéaire, on obtient :  $f_1 = 1,5$  et  $f_2 = 96,9$ .

On a :  $96,9 - 1,5 = 95,4$  ; donc 95,4% des sacs ont un poids compris entre  $\bar{x} - 2\sigma$  et  $\bar{x} + 2\sigma$ .

◆ Exercice 9 p. 316

1. Les aires des rectangles sont proportionnelles aux fréquences donc si on désigne par  $f_1, f_2, f_3, f_4$  et  $f_5$  les fréquences respectives des classes [0 ; 2[ ; [2 ; 3[ ; [3 ; 4[ ; [4 ; 5[ ; [5 ; 8[ on a :

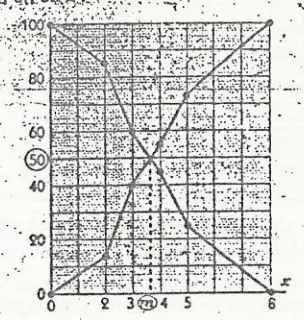
$f_1 : f_2 : f_3 : f_4 : f_5 = f_1 + f_2 + f_3 + f_4 + f_5 = 8 + 15 + 9 + 11 + 15 = 58$

On en déduit le tableau des fréquences de la série.

Classes	[0 ; 2[	[2 ; 3[	[3 ; 4[	[4 ; 5[	[5 ; 8[
Fréquences (%)	13,79	25,86	15,52	18,97	25,86

Les classes modales de la série sont [2 ; 3[ et [5 ; 8[.

Classes	[0 ; 2[	[2 ; 3[	[3 ; 4[	[4 ; 5[	[5 ; 8[
Fréquences (%)	13,79	25,86	15,52	18,97	25,86
Fréq. cum croissante (%)	13,79	39,65	55,17	74,14	100
Fréq. cum décroissante (%)	100	86,21	60,35	44,83	25,86



Les polygones des fréquences cumulées croissantes et décroissantes sont représentés ci-contre. La médiane  $m$  appartient à l'intervalle [3 ; 4[.

On a :  $\frac{50 - 39,65}{m - 3} = \frac{55,17 - 39,65}{4 - 3}$  ; d'où :  $m = 3,68$ .

3. On a le tableau de calculs ci-contre. On en déduit :

Centre des classes ( $x_i$ )	1	2,5	3,5	4,5	6,5	Total
Fréquences ( $f_i$ )	0,1333	0,25	0,1667	0,2	0,25	1
$f_i \cdot x_i$	0,1333	0,625	0,5834	0,9	1,625	3,8666
$f_i \cdot x_i^2$	0,1333	1,5625	2,0421	4,05	10,5625	18,3504

Le tableau des effectifs est dressé ci-contre.

Classes	[0 ; 2[	[2 ; 3[	[3 ; 4[	[4 ; 5[	[5 ; 8[
Effectifs	99	185	112	137	186

◆ Exercice 10 p. 316

1. Le tableau des effectifs est dressé ci-contre.

Classes	[60 ; 80[	[80 ; 90[	[90 ; 110[	[110 ; 130[	[130 ; 180[
Effectifs	32	74	346	48	30

2. a) Le pourcentage de véhicules en infraction est la fréquence de la classe [130 ; 180], c'est à dire  $\frac{30}{530} = 5,66\%$ .

b) Soit  $n$  l'ordonnée du point d'abscisse 140 du polygone des effectifs cumulés croissants.

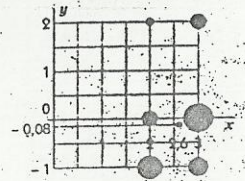
On a :  $\frac{n - 500}{140 - 130} = \frac{530 - 500}{180 - 130}$  ; donc  $n = 506$ . Il y a 506 voitures roulant à une vitesse inférieure ou égale à 140 km/h, donc 24 amendes seront distribuées.

3. La classe modale est : [90 ; 110].  
 Du tableau de calculs ci-contre, on déduit :  $\bar{x} = \frac{53\ 540}{530} = 101,02$  km/h.

Centre des classes ( $x_i$ )	70	85	100	120	155	Total
Effectifs ( $n_i$ )	32	74	348	48	30	530
$n_i x_i$	2 240	6 290	34 600	5 760	4 650	53 540

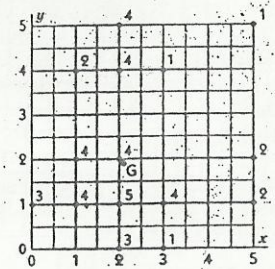
◆ Exercice 11 p. 316

1. Le nuage de points est représenté ci-contre.  
 2. on a :  $\bar{y} = \frac{10 \times (-1) + 11 \times 0 + 4 \times 2}{25} = -0,08$  ;  
 $\bar{x} = \frac{10 \times 2 + 15 \times 3}{25} = 2,6$ .  
 Les coordonnées de G sont : (-0,08 ; 2,6).



◆ Exercice 12 p. 316

1. Le nuage de point est représenté ci-contre.  
 2. Les coordonnées du point moyen sont ( $\bar{x}$  ;  $\bar{y}$ ) tel que :  
 $\bar{x} = \frac{3 \times 0 + 8 \times 1 + 18 \times 2 + 6 \times 3 + 5 \times 5}{40} = 2,175$  ;  
 $\bar{y} = \frac{4 \times 0 + 18 \times 1 + 8 \times 2 + 7 \times 4 + 3 \times 5}{40} = 1,925$ .



◆ Exercice 13 p. 316

1. Les tableaux des effectifs et des fréquences des séries marginales sont dressés ci-dessous.

$x_i$	0	1	2	3	4
Effectif	152	212	243	129	64
Fréquence (%)	19	26,5	30,375	16,125	8

$y_i$	0	1	2	3	4	5
Effectif	170	206	197	138	57	32
Fréquence (%)	21,25	25,75	24,625	17,25	7,125	4

2. Le nuage de points est représenté ci-contre. Les coordonnées de G sont ( $\bar{x}$  ;  $\bar{y}$ ) tel que :

3.  $\bar{x} = \frac{152 \times 0 + 212 \times 1 + 243 \times 2 + 129 \times 3 + 64 \times 4}{800} = 1,67625$  ;  
 $\bar{y} = \frac{170 \times 0 + 206 \times 1 + 197 \times 2 + 138 \times 3 + 57 \times 4 + 32 \times 5}{800} = 1,7525$ .

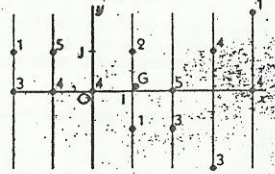
◆ Exercice 14 p. 316

1. Les tableaux des effectifs des séries marginales sont dressés ci-dessous.

$x_i$	-2	-1	0	1	2	3	4
Effectif	4	9	4	3	8	7	5

2. Les coordonnées de G sont ( $\bar{x}$  ;  $\bar{y}$ ) tel que :

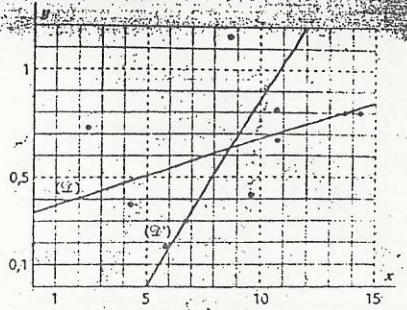
$\bar{x} = \frac{4 \times (-2) + 9 \times (-1) + 4 \times 0 + 3 \times 1 + 8 \times 2 + 7 \times 3 + 5 \times 4}{40} = 1,075$  ;  
 $\bar{y} = \frac{3 \times (-2) + 4 \times (-1) + 20 \times 0 + 12 \times 1 + 1 \times 2}{40} = 0,1$ .



◆ Exercice 15 p. 317

1. Le nuage de points est représenté ci-contre.  
 2. On a le tableau de calculs suivant.

$x_i$	$y_i$	$x_i^2$	$y_i^2$	$x_i y_i$	
5,6	0,18	31,36	0,0324	1,008	
10,6	0,69	112,36	0,4761	7,314	
5,6	0,3	43,56	0,09	1,98	
13,6	0,8	184,96	0,64	10,88	
10,6	0,81	112,36	0,6561	8,586	
14,3	0,8	204,49	0,64	11,44	
2,3	0,73	5,29	0,5329	1,679	
9,5	0,42	90,25	0,1764	3,99	
8,6	1,15	73,96	1,3225	9,89	
4,3	0,38	18,49	0,1444	1,634	
Total :	86	6,28	877,08	4,7108	58,401

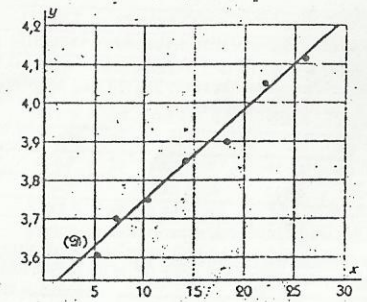


On en déduit :  $\bar{x} = 8,6$  ;  $\bar{y} = 0,626$  ;  $V(x) = 13,748$  ;  $V(y) = 0,079204$  ;  $Cov(x, y) = 0,4565$ .  
 Équation de la droite (D) de régression de  $y$  en  $x$  :  $y = 0,033x + 0,34$ .  
 Équation de la droite (D') de régression de  $x$  en  $y$  :  $y = 0,174x - 0,866$ .  
 3. Le coefficient de corrélation linéaire  $r$  tel que :  $r = 0,437$ .

◆ Exercice 16 p. 317

1. Le nuage de points est représenté ci-contre.  
 2. On a le tableau de calculs suivants.

$x_i$	5	7	10	14	18	22	26	30
$y_i$	3,61	3,7	3,75	3,85	3,9	4,05	4,12	4,2
$x_i^2$	25	49	100	196	324	484	676	900
$x_i y_i$	18,05	25,9	37,5	53,9	70,2	89,1	107,12	126
Total :								



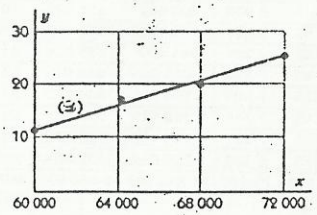
On en déduit :  $\bar{x} = 14,571$  ;  $\bar{y} = 3,854$  ;  $V(x) = 52,31$  ;  $Cov(x, y) = 1,239$ .  
 Équation de la droite (D) de régression de  $y$  en  $x$  :  
 $y = 0,02358x + 3,510$ .

3. On a :  $0,02358 \times 30 + 3,510 = 4,2174$  ; on peut donc estimer à 4,22 kg le poids du nourrisson 30 jours après sa naissance.

◆ Exercice 17 p. 317

1. Le nuage de points est représenté ci-contre.  
 3. On a le tableau de calculs suivant.

$x_i$	$y_i$	$x_i^2$	$x_i y_i$	
60 000	11	3 600 000 000	660 000	
64 000	17	4 096 000 000	1 088 000	
68 000	20	4 624 000 000	1 360 000	
72 000	25	5 184 000 000	1 800 000	
Total :	264 000	73	17 504 000 000	4 898 000




On en déduit :  $\bar{x} = 66\ 000$  ;  $\bar{y} = 18,25$  ;  $V(x) = 20\ 000\ 000$  ;  $Cov(x, y) = 22\ 500$ .  
 Équation de la droite (D) de régression de  $y$  en  $x$  :  $y = 0,001125x - 56$ .

4. On a :  $0,001125x - 56 = 30 \Rightarrow x = 76\ 444$  ; on peut donc estimer à 76 500 francs le salaire que doit proposer le directeur s'il veut recruter 30 ouvriers.

◆ Exercice 18 p. 317

1. Les nuages de points sont représentés ci-contre.
2. On a le tableau de calculs suivant.

$x_i$	$y_i$	$x_i^2$	$y_i^2$	$x_i y_i$	$x_i z_i$			
1	40	1	1 600	40	0			
2	45	4	2 025	90	-6			
3	35	9	1 225	105	3			
4	35	16	1 225	140	16			
5	30	25	900	150	-5			
Total :	15	185	1	55	6 975	27	525	8

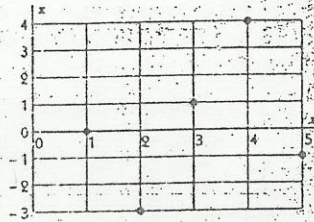


On en déduit :  $\bar{x} = 3$  ;  $\bar{y} = 37$  ;  $\bar{z} = 0,2$  ;  $V(x) = 2$  ;  $Cov(x, y) = -6$  ;  $Cov(x, z) = 1$ .

D'où : une équation de la droite de régression de  $y$  en  $x$  est  $y = -3x + 46$  ; une équation de la droite de régression de  $z$  en  $x$  est  $z = 0,5x - 1,3$ .

3. On a :  $V(y) = 26$  ;  $V(z) = 5,36$ .

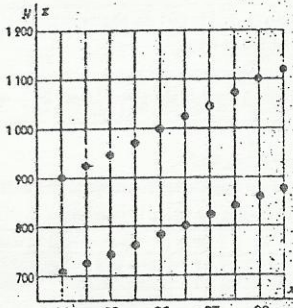
Les coefficients de corrélation linéaire respectifs des séries  $(x_i, y_i)$  et  $(x_i, z_i)$  sont  $r_1 = -0,832$  et  $r_2 = 0,305$ . C'est donc la série  $(x_i, y_i)$  qui se prête le mieux à un ajustement linéaire.



◆ Exercice 19 p. 317

1. Les nuages de points sont représentés ci-contre.
2. On a le tableau de calculs suivant, où la dernière ligne est celle des totaux.

$x_i$	$y_i$	$x_i^2$	$y_i^2$	$x_i y_i$	$x_i z_i$
81	905	710	6 561	819 025	504 100
82	927	727	6 724	859 329	528 529
83	949	745	6 889	900 601	555 025
84	973	763	7 056	946 729	582 169
85	997	782	7 225	994 009	611 524
86	1 025	805	7 396	1 050 625	648 025
87	1 051	825	7 569	1 104 601	680 625
88	1 077	845	7 744	1 159 929	714 025
89	1 102	865	7 921	1 214 404	748 225
90	1 121	878	8 100	1 256 641	770 884
855	10 127	7 945	73 185	10 305 893	6 343 131



On en déduit :  $\bar{x} = 85,5$  ;  $\bar{y} = 1 012,7$  ;  $\bar{z} = 794,5$  ;  $V(x) = 8,25$  ;  $Cov(x, y) = 203,55$  ;  $Cov(x, z) = 159,35$ .

D'où une équation de la droite de régression de  $y$  en  $x$  est  $y = 24,673x - 1 096,8$  ; une équation de la droite de régression de  $z$  en  $x$  est  $z = 19,315x - 856,9$ .

3. On a :  $24,673 \times 95 - 1 096,8 = 1 247,1$  et  $19,315 \times 95 - 856,9 = 978$ . On peut donc estimer le cheptel ovin et caprin en Côte d'Ivoire en 1995 à respectivement 1 247 000 et 978 000 têtes.

◆ Exercice 20 p. 317

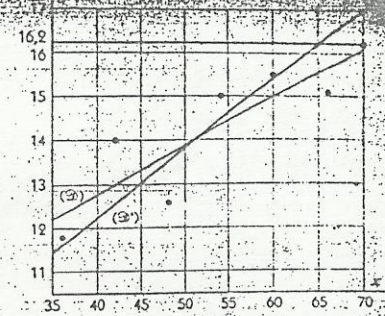
1. Le nuage de points est représenté ci-contre.
2. On a le tableau de calculs suivant.

$x_i$	$y_i$	$x_i^2$	$y_i^2$	$x_i y_i$	
36	11,8	1 296	139,24	424,8	
42	14	1 764	196	588	
48	12,6	2 304	158,76	604,8	
54	15	2 916	225	810	
60	15,5	3 600	240,25	930	
66	15,1	4 356	228,01	996,6	
Total :	306	84	16 236	1 187,26	4 354,2

On en déduit :  $\bar{x} = 51$  ;  $\bar{y} = 14$  ;  $V(x) = 105$  ;  $V(y) = 1,877$  ;  $Cov(x, y) = 11,7$ . Équation de la droite (3) de régression de  $y$  en  $x$  :  $y = 0,111x + 8,33$ .  
Équation de la droite (2) de régression de  $x$  en  $y$  :  $x = 0,166y + 5,82$ .

3. Le coefficient de corrélation linéaire est  $r$  tel que  $r = 0,833$ .

4. Le point de coordonnées  $(70 ; 16,2)$  est situé entre les deux droites de régression ; d'autre part, on a une assez bonne corrélation linéaire entre les deux caractères. On peut donc considérer que 16,2 est une tension « normale » à 70 ans.



◆ Exercice 21 p. 317

1. Le nuage de points est représenté ci-contre.
2. On a le tableau de calculs suivant.

$x_i$	$y_i$	$x_i^2$	$y_i^2$	$x_i y_i$	
5,8	128	33,64	16 384	742,4	
4	102	16	10 404	408	
6,4	138	40,96	19 044	883,2	
4,6	116	21,16	13 456	533,6	
5,2	118	27,04	13 924	613,6	
7	142	49	20 164	994	
Total :	33	744	187,8	93 376	4 174,8

On en déduit :  $\bar{x} = 5,5$  ;  $\bar{y} = 124$  ;  $V(x) = 1,05$  ;  $V(y) = 186,67$  ;  $Cov(x, y) = 13,8$ .

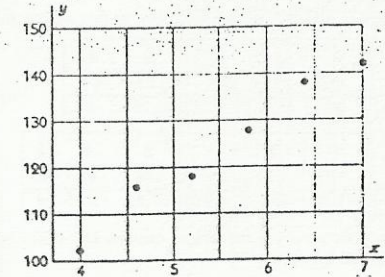
Le coefficient de corrélation linéaire est  $r$  tel que :  $r = 0,986$ .

Ce coefficient est très près de 1, ce qui justifie un ajustement linéaire.

3. Équation de la droite (3) de régression de  $y$  en  $x$  :  $y = 13,143x + 51,71$ .

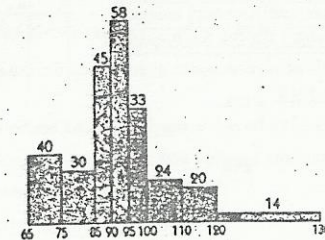
4. a) On a :  $13,143 \times 9 + 51,71 = 169,997$  ; si l'on engage 9 millions de francs de publicité, on peut donc espérer un chiffre d'affaires de 170 millions de francs.

b) On a :  $13,143x + 51,71 = 200 \Rightarrow x = 11,28$  ; il faut donc prévoir un budget de 11 300 000 francs pour espérer réaliser un chiffre d'affaires de 200 millions de francs.




◆ Exercice 22 p. 317

1. L'histogramme représentant la série est représenté ci-dessous.



2.2) On obtient le tableau des effectifs et des fréquences cumulées croissantes suivant :

Classe	Eff. cum. croissant	Fréq. cum. croissant (%)
[65; 75]	40	15,15
[75; 85]	70	26,52
[85; 90]	115	43,56
[90; 95]	173	65,53
[95; 100]	208	78,03
[100; 110]	230	87,12
[110; 120]	250	94,70
[120; 150]	264	100



b) Le polygone des fréquences cumulées croissantes est représenté ci-contre.

3.  $S_1$ ,  $S_2$  et  $S_3$  sont les abscisses respectives des points du polygone des fréquences cumulées croissantes d'ordonnées 25,60 et 75%.

Une détermination graphique donne :

$$S_1 = 83,6; S_2 = 91,4; S_3 = 98,8.$$

Par interpolation linéaire, on obtient :

$$\frac{25 - 15,15}{85 - 75} = \frac{26,52 - 15,15}{85 - 75} \Rightarrow S_1 = 83,66;$$

$$\frac{50 - 43,56}{95 - 90} = \frac{65,53 - 43,56}{95 - 90} \Rightarrow S_2 = 91,47;$$

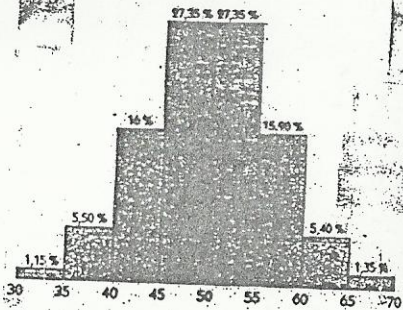
$$\frac{75 - 65,53}{100 - 95} = \frac{78,03 - 65,53}{100 - 95} \Rightarrow S_3 = 98,79.$$

◆ Exercice 23 p. 318

1. Le programme des fréquences est représenté ci-contre.

2. Le tableau des fréquences cumulées décroissantes est le suivant.

Classe	Fréq. cum. décroissante (%)
[30; 35]	100
[35; 40]	98,85
[40; 45]	93,35
[45; 50]	77,35
[50; 55]	50
[55; 60]	22,65
[60; 65]	6,75
[65; 70]	1,35



On en déduit le polygone des fréquences cumulées décroissantes représenté ci-après.

3. a) Le poids minimum  $x$  des dix pour cent des élèves les plus lourds est l'abscisse du point d'ordonnée 10 du polygone. On peut le déterminer graphiquement ; une interpolation linéaire donne :

$$\frac{102 - 22,65}{60 - 55} = \frac{6,75 - 22,65}{60 - 55} \Rightarrow x = 58,98 \text{ kg.}$$

b) Soit  $y_1$  et  $y_2$  les ordonnées respectives des points du polygone d'abscisses 42,5 et 52,5.

$$\text{On a : } y_1 = \frac{83,35 + 77,35}{2} = 80,35; y_2 = \frac{50 + 22,65}{2} = 36,32.$$

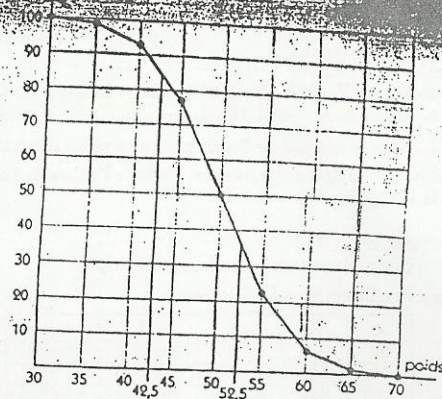
D'où :  $y_1 - y_2 = 44,03$ ; donc 51% des élèves ont un poids compris entre 42,5 et 52,5 kg.

4. On a le tableau de calcul suivant.

Centre de la classe ( $x_i$ )	Fréq. ( $f_i$ )	$f_i \cdot x_i$	$f_i \cdot x_i^2$
32,5	0,0115	0,37375	12,146875
37,5	0,055	2,0625	77,34375
42,5	0,16	6,8	289
47,5	0,2735	12,99125	617,084375
52,5	0,2735	14,35875	753,834375
57,5	0,159	9,1425	525,69375
62,5	0,054	3,375	210,9375
67,5	0,0135	0,91125	61,509375
Total	50,015	2547,55	

On en déduit :

- la moyenne  $\bar{x} = 50,015$  ;
- l'écart type  $\sigma = 6,786$ .



◆ Exercice 24 p. 318

1. On a le tableau de calculs ci-contre.

On en déduit, pour la machine A :

- la moyenne 49,7975 kg ;
- la variance 0,1550 ;
- l'écart type 0,3937 kg.

On a de même, pour la machine B :

- la moyenne 49,89 kg ;
- la variance 0,1379 ;
- l'écart type 0,3713 kg.

Centre de la classe ( $x_i$ )	Eff. A ( $n_iA$ )	$n_iAx_i$	$n_iAx_i^2$	Eff. B ( $n_iB$ )	$n_iBx_i$	$n_iBx_i^2$
49,1	7	343,7	16 875,67	4	196,4	9 643,24
49,3	6	295,8	14 582,94	6	295,8	14 582,94
49,5	14	693	34 303,5	9	445,5	22 052,25
49,7	14	695,8	34 581,26	11	546,7	27 170,99
49,9	11	548,9	27 390,11	14	698,6	34 860,14
50,1	14	701,4	35 140,14	16	801,6	40 160,16
50,3	9	452,7	22 770,81	17	855,1	43 011,53
50,5	5	252,5	12 751,25	3	151,5	7 650,75
Total	80	3 983,8	198 395,68	80	3 991,2	199 132

2. Les deux machines vérifient donc les deux premières conditions exigées. Par contre, pour la machine A, 84,375 % seulement des sacs ont un poids compris entre 49,3 kg et 50,5 kg. Ce pourcentage devient 89,375 % pour la machine B ; c'est donc celle-ci qu'il faut acheter.

3. Pour la machine B, on a :  $\bar{x} - \sigma = 49,519$  et  $\bar{x} + \sigma = 50,261$ . Par interpolation linéaire, on a :

l'effectif cumulé croissant correspondant à 49,519 kg :  $10 + 9 \frac{49,519 - 49,4}{49,6 - 49,4} = 15,355$  ;

l'effectif cumulé croissant correspondant à 50,261 kg :  $60 + 17 \frac{50,261 - 50,2}{50,4 - 50,2} = 65,185$ .

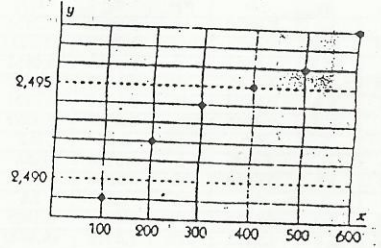
On a :  $\frac{65,185 - 15,355}{80} = 0,623$  ; il y a donc 62,3% des sacs dont le poids est compris entre  $\bar{x} - \sigma$  et  $\bar{x} + \sigma$ .

◆ Exercice 25 p. 318

1. Le nuage de points est représenté ci-contre.

2. On a le tableau de calculs suivant :

$x_i$	$y_i$	$x_i^2$	$x_i y_i$	
100	2,489	10 000	248,9	
200	2,492	40 000	498,4	
300	2,494	90 000	748,2	
400	2,495	160 000	998	
500	2,496	250 000	1 248	
600	2,498	360 000	1 498,8	
Total :	2 100	14,964	910 000	5 240,3



On en déduit :  $\bar{x} = 350$  ;  $\bar{y} = 2,494$  ;  $V(x) = 29\,167$  ;  $Cov(x, y) = 0,4833$ .

Une équation de la droite de régression de  $y$  en  $x$  est donc :  $y = 0,0000166x + 2,488$ .

3. a) L'usure moyenne de l'outil pour une pièce produite est  $0,0000166$  cm, c'est à dire  $166 \times 10^{-9}$  m.


b) On a :  $0,0000166x = 0,015 \Rightarrow x = 903$  ; l'usure de l'outil atteint-elle la valeur de 15 centièmes de mm vers la 900<sup>e</sup> pièce.

♦ Exercice 26 p. 318

1. a) Le nuage de points est représenté ci-contre.

b) On a le tableau de calculs suivant.

$x_i$	$y_i$	$x_i^2$	$y_i^2$	$x_i y_i$	
60	952	3 600	906 304	57 120	
80	805	6 400	648 025	64 400	
100	630	10 000	396 900	63 000	
120	522	14 400	272 484	62 640	
140	510	19 600	260 100	71 400	
160	324	25 600	104 976	51 840	
180	205	32 400	42 025	36 900	
200	84	40 000	7 056	16 800	
Total :	1 040	4 032	152 000	2 637 870	424 100



On en déduit :  $\bar{x} = 130$  ;  $\bar{y} = 504$  ;  $V(x) = 2\,100$  ;  $V(y) = 75\,717,75$  ;  $Cov(x, y) = -12\,507,5$ .

Le coefficient de corrélation linéaire est donc  $r$  tel que :  $r = -0,992$  ; cette valeur justifie la recherche d'un ajustement linéaire.

2. Une équation de la droite de régression de  $y$  en  $x$  est donc :  $y = -5,956x + 1\,278,28$ .

3. a) Pour  $y$  exemplaires vendus à  $x$  milliers de francs, le bénéfice réalisé est :  $z = y(x - 25) - 28\,000$  ;

on a donc :  $z = (-5,956x + 1\,278,28)(x - 25) - 28\,000 = -5,956x^2 + 1\,427,18x - 59\,957$ .

b) La fonction  $x \mapsto z(x)$  atteint son maximum en  $x = \frac{1\,427,18}{2 \times 5,956}$  ; le bénéfice réalisé est donc maximum pour un prix de vente d'environ 119 810 francs.

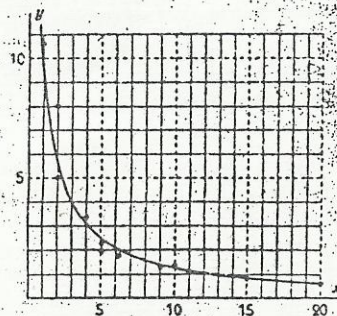
Ce bénéfice, exprimé en milliers de francs, est égal à  $z(119,81)$ , c'est à dire : environ 25 538 415 francs.

♦ Exercice 27 p. 318

1. Le nuage de points est représenté ci-dessous. Le nuage a une forme évoquant une hyperbole plutôt qu'une droite ; elle ne suggère pas un ajustement linéaire.

2. a) On a le tableau de calculs suivant.

$x_i$	$y_i$	$x_i$	$x_i^2$	$x_i^2$	$x_i x_i$	
4	3,3	0,3030	16	0,0918	1,2121	
20	0,6	1,6667	400	2,7778	33,3333	
1	10,5	0,0952	1	0,0091	0,0952	
10	1,3	0,7692	00	0,5917	7,6923	
9	1,3	0,7692	81	0,5917	6,9231	
5	2,2	0,4545	25	0,2066	2,2727	
2	5	0,2	4	0,04	0,4	
2	8	0,125	4	0,0156	0,25	
6	1,8	0,5556	36	0,3088	3,3333	
5	2	0,5	25	0,25	2,5	
11	1,2	0,8333	121	0,6944	9,1667	
15	0,9	1,1111	225	1,2348	16,6667	
Total :	90	36,1	7,3828	1038	6,8119	83,8454



On en déduit :  $\bar{x} = 7,5$  ;  $\bar{y} = 0,6152$  ;  $V(x) = 30,25$  ;  $V(y) = 0,1892$  ;  $Cov(x, y) = 2,3731$ . Le coefficient de corrélation linéaire est donc  $r$  tel que :  $r = 0,992$  ; cette valeur justifie la recherche d'un ajustement linéaire.

b) Une équation de la droite de régression de  $x$  en  $y$  est donc :  $x = 0,0784y + 0,027$ .

3. a) On a :  $y = \frac{1}{x}$ . La fonction cherchée est donc la fonction  $f$  définie par :  $f(x) = \frac{1}{0,0784x + 0,027}$ .