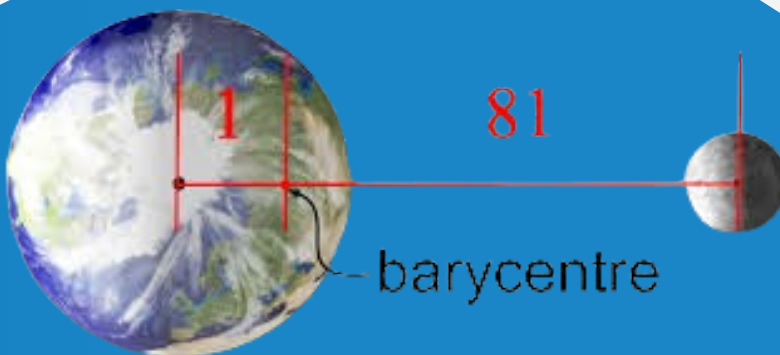


THEME : BARYCENTRE

Barycentre
Construction
 $\alpha \vec{GA} + \beta \vec{GB} = \vec{0}$

$$\vec{AG} = \frac{b\vec{AB} + c\vec{AC}}{a+b+c}$$



MEMBRE DU GROUPE

- 1) TRAORE Aminata
- 2) DJEVIE Moahé
- 3) COULIBALY Mariam
- 4) KOUADJO Elimelec
- 5) SOGODOGO Assita
- 6) KOUASSI Amino Larissa
- 7) KONE Gêh
- 8) N'GUESSAN Elodie

Prof. : M. THIEDE

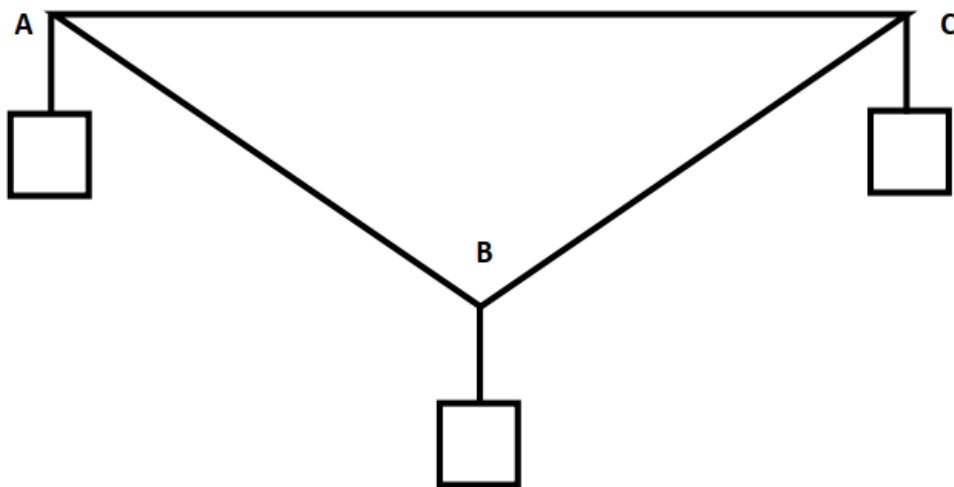
SITUATION D'APPRENTISSAGE

Au cours d'une séance de travaux pratiques, les élèves d'une classe de première scientifique découvrent le dispositif ci-dessous.

Ce dispositif est une plaque triangulaire ABC de masse négligeable. On suspend à chacun de ses sommets des solides de masse ($m_A = 2\text{g}$) ; ($m_B = 5\text{g}$) et ($m_C = 3\text{g}$).

Les élèves veulent déterminer en quel point G, accrocher le fil pour que la plaque reste en équilibre.

L'un des élèves affirme que le point G cherché doit vérifier la relation : $2\vec{GA} + 5\vec{GB} + 3\vec{GC} = \vec{0}$, mais n'arrive pas à justifier son affirmation. Ils décident de s'organiser pour déterminer la position exacte de G.



THEME : BARYCENTRE

PLAN

I. Barycentre de deux points pondérés

1. Point pondéré

2. Propriété et Définition

a. Consequence

b. Théorème

3. Propriétés

a. Homogénéité du barycentre

b. Isobarycentre

c. Conservation du barycentre par projection

d. Réduction de la somme : $a\overline{MA} + b\overline{MB}$

e. Coordonnées du barycentre

II. Barycentre de trois points pondérés

1. Définition et propriété

2. Propriétés

a. Homogénéité du barycentre

b. Isobarycentre

c. Réduction de la somme : $a\overline{MA} + b\overline{MB} + c\overline{MC}$

d. Coordonnées du barycentre

3. Barycentre partiel

III. Barycentre de quatre points pondérés

1. Définition et propriété

2. Conséquence

IV. Ligne de niveau d'une application f :

1. Définition

2. Ligne de niveau de l'application $M \mapsto aMA^2 + bMB^2$

3. Ligne de niveau de l'application $M \mapsto \frac{MA}{MB}$

SITUATION COMPLEXE

THEME :

BARYCENTRE

I. Barycentre de deux points pondérés

1. Point pondéré

Définition

Soit A est un point du plan et a un réel non nul, on appelle point pondéré, le couple (A, a) .

Exemple : les couples $(A, 2)$; $(B, -5)$. Sont des points pondérés

2. Propriété et Définition

A et B sont deux points du plan, a et b sont deux nombres réels tels que : $a + b \neq 0$.

Il existe un point G et un seul tel que : $a\overrightarrow{GA} + b\overrightarrow{GB} = \vec{0}$

Ce point G est appelé barycentre des points pondérés (A, a) et (B, b) .

Notation

Le barycentre G de deux points pondérés (A, a) et (B, b) se note :

$$G = \text{bar} \{(A, a) ; (B, b)\}$$

$$G = \text{bar} \begin{array}{|c|c|} \hline A & B \\ \hline a & b \\ \hline \end{array}$$

Exercice de fixation

Soient A, B et G trois points du plan tels que : $2\overrightarrow{GA} - 3\overrightarrow{GB} = \vec{0}$.

A partir de cette égalité vectorielle, détermine les points pondérés, pour lesquels G est le barycentre.

Solution

$2\overrightarrow{GA} - 3\overrightarrow{GB} = \vec{0} \Leftrightarrow 2\overrightarrow{GA} + 3\overrightarrow{GB} = \vec{0}$. Donc G est le barycentre des points pondérés $(A, 2)$ et $(B, 3)$. On note $G = \text{bar} \{(A, 2); (B, 3)\}$

a. Conséquence

$$G = \text{bar} \{(A, a); (B, b)\} \Leftrightarrow \overrightarrow{AG} = \frac{b}{a+b}\overrightarrow{AB}$$

Exemple

$$G = \text{bar} \{(A, 2); (B, -3)\} \Leftrightarrow \overrightarrow{AG} = \frac{-3}{2+(-3)}\overrightarrow{AB} = 3\overrightarrow{AB}$$

De même

$$G = \text{bar} \{(A, 2); (B, -3)\} \Leftrightarrow \overrightarrow{BG} = \frac{2}{2+(-3)}\overrightarrow{BA} = -2\overrightarrow{BA}$$

b. Théorème : Le barycentre de deux points A et B appartient à la droite (AB)

Exercice de fixation

Soient A,B et K trois points du plan tels que : $-2\overrightarrow{KB} - 2\overrightarrow{BA} - 5\overrightarrow{AB} = \vec{0}$

Justifie que K appartient à la droite (AB).

Solution

$$\begin{aligned} \text{On a : } -2\overrightarrow{KB} - 2\overrightarrow{BA} - 5\overrightarrow{AB} = \vec{0} &\Leftrightarrow -2\overrightarrow{KB} + 2\overrightarrow{AB} - 5\overrightarrow{AB} = \vec{0} \\ &\Leftrightarrow -2\overrightarrow{KB} - 3\overrightarrow{AB} = \vec{0} \\ &\Leftrightarrow -2\overrightarrow{KB} - 3\overrightarrow{AK} - 3\overrightarrow{KB} = \vec{0} \\ &\Leftrightarrow -5\overrightarrow{KB} + 3\overrightarrow{KA} = \vec{0} \\ &\Leftrightarrow K = \text{bar} \{(A, 3); (K, -5)\} \Leftrightarrow K \in (CD) \end{aligned}$$

Remarque

- Si les coefficients sont de même signe, alors le barycentre $G \in [AB]$
- Si les coefficients sont de signes contraires, alors le barycentre $G \in (AB) \setminus [AB]$
- Si les coefficients sont égaux, alors le barycentre G est le milieu de $[AB]$

3. Propriétés

a. Homogénéité du barycentre

Propriété

Soit k un nombre réel non nul et deux points pondérés (A, a) et (B, b).

G est barycentre des points pondérés (A, a) et (B, b) équivaut à G est barycentre des points pondérés (A, ka) et (B, kb).

Exercice de fixation

On donne $G = \text{bar} \{(A,2); (B,7)\}$

Détermine le nombre réel a tel que $G = \text{bar} \{(A,a); (B,21)\}$

Solution

On a $G = \text{bar} \{(A,2); (B,7)\}$. Comme $21 = 3 \times 7$, alors $a = 2 \times 7 = 14$.

Donc $G = \text{bar} \{(A,14); (B,21)\}$

b. Isobarycentre

Définition

Le barycentre des points pondérés (A, α) et (B, α) où $\alpha \neq 0$ est appelé l'isobarycentre des points A et B, c'est le milieu de $[AB]$.

Exemple : $G = \text{bar} \{(A,3); (B,3)\}$ équivaut à G est l'isobarycentre des points A et B
G est le milieu du segment $[AB]$.



c. Conservation du barycentre par projection

Propriété

Le projeté du barycentre de deux points pondérés est le barycentre des projetés de ces points affectés des mêmes coefficients.

Exercice de fixation

Soit $G = \text{bar} \{(A, a); (B, b)\}$ et P une projection tel que : $P(A) = A'$, $P(B) = B'$ et $P(G) = G'$. Quel est le barycentre des points pondérés (A', a) et (B', b) .

Solution

Comme $G = \text{bar} \{(A, a); (B, b)\}$ et que $P(A) = A'$, $P(B) = B'$, $P(G) = G'$, alors:
 $G' = \text{bar} \{(A', a); (B', b)\}$

d. Réduction de la somme : $a\overrightarrow{MA} + b\overrightarrow{MB}$

Propriété

Soit (A, a) et (B, b) deux points pondérés tels que $a + b \neq 0$ et G leur barycentre.

Pour tout point M du plan on a : $a\overrightarrow{MA} + b\overrightarrow{MB} = (a + b)\overrightarrow{MG}$.

Exercice de fixation

Soit le barycentre K des points pondérés $(C, 3)$ et $(D, 1)$. Pour tout point M du plan exprime $3\overrightarrow{MC} + \overrightarrow{MD}$ en fonction de \overrightarrow{MK} .

Solution Pour tout point M du plan, $3\overrightarrow{MC} + \overrightarrow{MD} = 4\overrightarrow{MK}$

Remarque Lorsque $a + b = 0$, alors $a\overrightarrow{MA} + b\overrightarrow{MB} = a\overrightarrow{MA} - a\overrightarrow{MB} = a(\overrightarrow{MA} - \overrightarrow{MB}) = a\overrightarrow{BA}$.

e. Coordonnées du barycentre

Propriété

Le plan est muni du repère (O, \vec{i}, \vec{j}) .

Si $A(x_A; y_A)$, $B(x_B; y_B)$ et si G est le barycentre de (A, a) et (B, b) , alors $G(\frac{ax_A + bx_B}{a+b}, \frac{ay_A + by_B}{a+b})$

Exercice de fixation

Soit $A(1, 2)$ et $B(-1, 3)$ dans le repère $(O; \vec{i}, \vec{j})$

Détermine les coordonnées du barycentre G du système $\{(A, -1); (B, 2)\}$ dans un repère $(O; \vec{i}, \vec{j})$

Solution : $G(\frac{-1 \times 1 + 2 \times (-1)}{-1 + 2}; \frac{-1 \times 2 + 2 \times 3}{-1 + 2})$; $G(-3; 4)$

II. Barycentre de trois points pondérés

1. Définition et propriété

Soit (A, a) , (B, b) et (C, c) trois points pondérés tels que $a + b + c \neq 0$.

Il existe un unique point G vérifiant $a\overrightarrow{GA} + b\overrightarrow{GB} + c\overrightarrow{GC} = \vec{0}$.

Le point G s'appelle le barycentre des points pondérés (A, a) , (B, b) et (C, c) .

Notation : $G = \text{bar} \{(A, a); (B, b); (C, c)\}$

Exercice de fixation

Soient A, B, C et G quatre points du plan tels que : $\overrightarrow{AG} + 2\overrightarrow{BG} + \overrightarrow{GC} = \vec{0}$

A partir de cette égalité vectorielle, détermine les points pondérés, pour lesquels G est le barycentre.

Solution

$$\overrightarrow{AG} + 2\overrightarrow{BG} + \overrightarrow{GC} = \vec{0} \Leftrightarrow \overrightarrow{AG} + 2\overrightarrow{BG} - \overrightarrow{CG} = \vec{0}$$

Donc $G = \text{bar} \{(A, 1); (B, 2); (C, 1)\}$ car $1 + 2 + 1 \neq 0$

Conséquence

$$a\overrightarrow{GA} + b\overrightarrow{GB} + c\overrightarrow{GC} = \vec{0} \text{ équivaut à } \overrightarrow{AG} = \frac{b}{a+b+c}\overrightarrow{AB} + \frac{c}{a+b+c}\overrightarrow{AC}$$

Exemple

$$-2\overrightarrow{GA} + 6\overrightarrow{GB} + \overrightarrow{GC} = \vec{0} \text{ équivaut à } \overrightarrow{AG} = \frac{6}{5}\overrightarrow{AB} + \frac{1}{5}\overrightarrow{AC}$$

2. Propriétés

a. Homogénéité du barycentre

Propriété

Soit k un nombre réel non nul et trois points pondérés (A, a) , (B, b) et (C, c) .

G est barycentre des points pondérés (A, a) , (B, b) et (C, c) équivaut à G est barycentre des points pondérés (A, ka) , (B, kb) et (C, kc) .

Exercice de fixation

On donne $G = \text{bar} \{(A, 1); (B, -7); (C, -4)\}$

Détermine les nombres réels a et c tels que $G = \text{bar} \left\{ (A, a); \left(B, \frac{14}{3} \right); (C, c) \right\}$

Solution

On a $G = \text{bar} \{(A, 1); (B, -7); (C, -4)\}$. Comme $\frac{14}{3} = -\frac{2}{3} \times (-7)$,

alors $a = -\frac{2}{3} \times 1 = -\frac{2}{3}$ et $c = -\frac{2}{3} \times (-4) = \frac{8}{3}$

Donc $G = \text{bar} \left\{ \left(A, -\frac{2}{3} \right); \left(B, \frac{14}{3} \right); \left(C, \frac{8}{3} \right) \right\}$

b. Isobarycentre

Définition

Le barycentre des points pondérés (A, α) , (B, α) et (C, α) où $\alpha \neq 0$ est appelé L'isobarycentre des trois points A, B et C.

Exemple

$-4\overrightarrow{GE} - 4\overrightarrow{GH} - 4\overrightarrow{GF} = \vec{0}$ équivaut à G est l'isobarycentre de E, F et H.

Remarque

L'isobarycentre de trois points non alignés A, B et C est le centre de gravité du triangle ABC.

c. Réduction de la somme : $a\overrightarrow{MA} + b\overrightarrow{MB} + c\overrightarrow{MC}$

Propriété

Soit (A, a) , (B, b) et (C, c) trois points pondérés tels que $a + b + c \neq 0$ et G leur barycentre.

Pour tout point M du plan on a : $a\overrightarrow{MA} + b\overrightarrow{MB} + c\overrightarrow{MC} = (a + b + c)\overrightarrow{MG}$

Exercice de fixation

Soit le barycentre E des points pondérés $(A, -1)$, $(B, 4)$ et $(C, -7)$.

Pour tout point M du plan exprime $-\overrightarrow{MA} + 4\overrightarrow{MB} - 7\overrightarrow{MC}$ en fonction de \overrightarrow{ME} .

Solution

$$-\overrightarrow{MA} + 4\overrightarrow{MB} - 7\overrightarrow{MC} = -4\overrightarrow{ME}$$

Remarque

Lorsque $a + b + c = 0$, $a\overrightarrow{MA} + b\overrightarrow{MB} + c\overrightarrow{MC}$ est indépendant du point M.

Exemples $a\overrightarrow{MA} + b\overrightarrow{MB} + (-a - b)\overrightarrow{MC} = a\overrightarrow{CA} + b\overrightarrow{CB}$

$$-2\overrightarrow{MA} + 5\overrightarrow{MB} - 3\overrightarrow{MC} = 5\overrightarrow{AB} - 3\overrightarrow{AC}$$

d. Coordonnées du barycentre

Propriété

Le plan est muni du repère (O, \vec{i}, \vec{j}) .

Si $A(x_A; y_A)$, $B(x_B; y_B)$, $C(x_C; y_C)$ et si G est le barycentre de (A, a) , (B, b) et (C, c) , alors

$$G\left(\frac{ax_A + bx_B + cx_C}{a+b+c}, \frac{ay_A + by_B + cy_C}{a+b+c}\right)$$

Exercice de fixation

Soit $A(1, 2)$, $B(-1, 3)$ et $C(0, -2)$ dans le repère $(O; \vec{i}, \vec{j})$

Détermine les coordonnées du barycentre G du système $\{(A, -1); (B, 2); (C, 3)\}$ dans un repère $(O; \vec{i}, \vec{j})$

Solution : $G\left(\frac{-3}{4}; \frac{-2}{4}\right)$

3. Barycentre partiel

Propriété et définition

Soient (A, a) ; (B, b) et (C, c) trois points pondérés tels que $a + b + c \neq 0$ et $a + b \neq 0$. Si G est le barycentre du système $\{(A, a); (B, b); (C, c)\}$ et H le barycentre du système $\{(A, a); (B, b)\}$ alors G est le barycentre du système $\{H, (a + b); (C, c)\}$.

H est appelé barycentre partiel des points pondérés (A, a) ; (B, b) .

Exercice de fixation

Soit $G = \text{bar}\{(A, 1); (B, 2); (C, 3)\}$

Exprime G comme l'isobarycentre de deux points.

Solution

Soit $H = \text{bar}\{(A, 1); (B, 2)\}$

Comme $G = \text{bar}\{(A, 1); (B, 2); (C, 3)\}$ alors $G = \text{bar}\{(H, 3); (C, 3)\}$. G est donc l'isobarycentre de H et C .

Remarque

On ne change pas le barycentre de trois points pondérés en remplaçant deux d'entre eux par leur barycentre partiel (s'il existe) affecté de la somme des deux coefficients à condition que cette somme soit non nulle.

III. Barycentre de quatre points pondérés

1. Définition et propriété

Soit $(A,a),(B,b),(C, c)$ et (D, d) quatre points pondérés tels que $a + b + c + d \neq 0$.
Il existe un unique point G vérifiant : $a\overrightarrow{GA} + b\overrightarrow{GB} + c\overrightarrow{GC} + d\overrightarrow{GD} = \vec{0}$.
Le point G s'appelle le barycentre des points pondérés (A, a) , (B, b) , (C, c) et (D, d) .

Notation: $G = \text{bar} \{(A, a); (B, b); (C, c); (D, d)\}$

Remarque : L'isobarycentre des sommets d'un parallélogramme est le centre de ce parallélogramme.

Exercice de fixation

Soient A, B, C, D et G des points du plan tels que : $\overrightarrow{GA} - \overrightarrow{GB} + 4\overrightarrow{GC} - 2\overrightarrow{GD} = \vec{0}$
A partir de cette égalité vectorielle, détermine les points pondérés, pour lesquels G est le barycentre.

Solution

$$\overrightarrow{GA} - \overrightarrow{GB} + 4\overrightarrow{GC} - 2\overrightarrow{GD} = \vec{0} \Leftrightarrow G = \text{bar} \{(A, 1); (B, -1); (C, 4); (D, -2)\}$$

car $1 - 1 + 4 - 2 \neq 0$

2. Conséquence

Si $a + b + c + d \neq 0$ et $G = \text{bar} \{(A, a); (B, b); (C, c); (D, d)\}$, alors pour tout point M du plan,
 $a\overrightarrow{MA} + b\overrightarrow{MB} + c\overrightarrow{MC} + d\overrightarrow{MD} = (a + b + c + d)\overrightarrow{MG}$.

Exemple

Soit $H = \text{bar} \{(A, 4); (B, -2); (C, 4); (D, -5)\}$

Pour tout point M du plan, on a : $4\overrightarrow{MA} - 2\overrightarrow{MB} + 4\overrightarrow{MC} - 5\overrightarrow{MD} = \overrightarrow{MH}$

IV. Ligne de niveau d'une application f :

1. Définition

Soit f une application du plan dans \mathbb{R} et k un nombre réel.
la ligne de niveau k de l'application f est l'ensemble des points M du plan tels que $f(M) = k$.

Exemple

Soit O un point du plan et f l'application du plan dans \mathbb{R} qui à tout point M associe la distance OM .

La ligne de niveau 3 de f est l'ensemble des points M tels que $OM = 3$; C'est donc le cercle de centre O et de rayon 3.

2. Ligne de niveau de l'application $M \mapsto aMA^2 + bMB^2$

Propriété

Soit A et B deux points distincts du plan, a et b deux nombres réels tous non nuls. f l'application du plan dans \mathbb{R} tel que : $f(M) \mapsto aMA^2 + bMB^2$

Si $a + b \neq 0$, on désigne par G le barycentre des points pondérés (A, a) et (B, b) .

la ligne de niveau k de l'application f est : soit l'ensemble vide, soit le point G , soit un cercle de centre G .

Exercice de fixation

On donne deux points A et B tels que $AB = 12$.

Soit l'application $f: M \mapsto MA^2 + MB^2$

Détermine la ligne de niveau 122 de f .

Solution

Soit G l'isobarycentre de A et B .

La ligne de niveau 122 de f est l'ensemble des points M tels que : $MA^2 + MB^2 = 122$.

$$MA^2 + MB^2 = 122 \Leftrightarrow (\overrightarrow{MG} + \overrightarrow{GA})^2 + (\overrightarrow{MG} + \overrightarrow{GB})^2 = 122$$

$$\Leftrightarrow MG^2 + GA^2 + 2(\overrightarrow{MG} \cdot \overrightarrow{GA}) + MG^2 + GB^2 + 2(\overrightarrow{MG} \cdot \overrightarrow{GB}) = 122$$

$$\Leftrightarrow 2MG^2 + GA^2 + GB^2 + 2\overrightarrow{MG}(\overrightarrow{GA} + \overrightarrow{GB}) = 122$$

$$\Leftrightarrow 2MG^2 + GA^2 + GB^2 = 122 \text{ car } \overrightarrow{GA} + \overrightarrow{GB} = \vec{0}$$

Comme G est le milieu du segment $[AB]$, alors $GA = GB = 6$

$$\text{Donc } 2MG^2 + GA^2 + GB^2 = 122 \Leftrightarrow 2MG^2 + 36 + 36 = 122$$

$$\Leftrightarrow MG^2 = 25$$

$$\Leftrightarrow MG = 5$$

la ligne de niveau 122 de f est le cercle de centre G et de rayon 5.

3. Ligne de niveau de l'application $M \mapsto \frac{MA}{MB}$

Propriété

Soit A et B deux points distincts du plan \mathcal{P} et f l'application de $\mathcal{P} \setminus \{B\}$ dans \mathbb{R} tel que : $f(M) \mapsto \frac{MA}{MB}$

la ligne de niveau k de l'application f est :

- La médiatrice de $[AB]$ si $k = 1$
- Un cercle de centre G si $k \neq 1$

Exercice de fixation

Soit A et B deux points du plan tels $AB = 6$

Détermine la ligne de niveau 3 de l'application $f: M \mapsto \frac{MA}{MB}$

Solution

La ligne de niveau 3 de l'application $f: M \mapsto \frac{MA}{MB}$ est l'ensemble des points M tels que $\frac{MA}{MB} = 3$.

$$\frac{MA}{MB} = 3 \Leftrightarrow MA^2 - 9MB^2 = 0$$

Soit $G = \text{bar} \{(A, 1); (B, -9)\}$

$$\begin{aligned} MA^2 - 9MB^2 = 0 &\Leftrightarrow (\overrightarrow{MG} + \overrightarrow{GA})^2 - 9(\overrightarrow{MG} + \overrightarrow{GB})^2 = 0 \\ &\Leftrightarrow MG^2 + GA^2 + 2(\overrightarrow{MG} \cdot \overrightarrow{GA}) - 9MG^2 - 9GB^2 - 18(\overrightarrow{MG} \cdot \overrightarrow{GB}) = 0 \\ &\Leftrightarrow -8MG^2 + GA^2 - 9GB^2 + 2\overrightarrow{MG}(\overrightarrow{GA} - 9\overrightarrow{GB}) = 0 \\ &\Leftrightarrow -8MG^2 + GA^2 - 9GB^2 = 0 \text{ car } \overrightarrow{GA} - 9\overrightarrow{GB} = \vec{0} \end{aligned}$$

Comme $\overrightarrow{GA} - 9\overrightarrow{GB} = \vec{0}$, alors $\overrightarrow{GA} = 9\overrightarrow{GB}$ donc $GA^2 = 81GB^2$

$$\begin{aligned} \text{On a donc } -8MG^2 + GA^2 - 9GB^2 = 0 &\Leftrightarrow -8MG^2 + 72GB^2 = 0 \\ &\Leftrightarrow MG^2 = 9GB^2 \\ &\Leftrightarrow MG = 3GB \end{aligned}$$

la ligne de niveau 0 de f est le cercle de centre G et de rayon $3GB$.

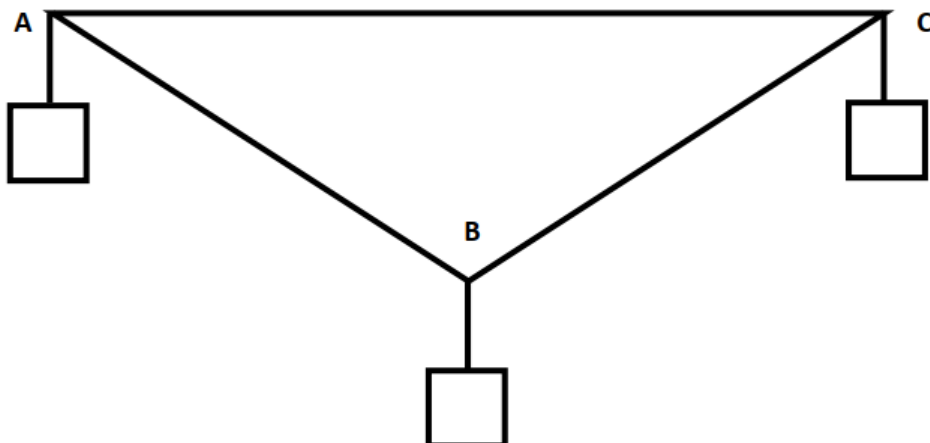
SITUATION COMPLEXE

Au cours d'une séance de travaux pratiques, les élèves d'une classe de première scientifique découvrent le dispositif ci-dessous.

Ce dispositif est une plaque triangulaire ABC de masse négligeable. On suspend à chacun de ses sommets des solides de masse ($m_A = 2\text{g}$); ($m_B = 5\text{g}$) et ($m_C = 3\text{g}$).

Les élèves veulent déterminer en quel point G , accrocher le fil pour que la plaque reste en équilibre.

Détermine la position exacte du point G , en expliquant ta démarche.



Solution

Pour déterminer la position du point G , je vais utiliser des notions de barycentre.

Pour cela, je vais :

- Déterminer H , le barycentre partiel du système $\{(A, 2); (C, 3)\}$
- Déterminer le point G , barycentre du système $\{(A, 2); (B, 5); (C, 3)\}$
- Préciser la position de G .

Déterminons H , le barycentre partiel du système $\{(A, 2); (C, 3)\}$

$$\text{On a : } 2\overrightarrow{HA} + 3\overrightarrow{HC} = \vec{0} \text{ donc } \overrightarrow{AH} = \frac{3}{5}\overrightarrow{AC}$$

Déterminons le point G , barycentre du système $\{(A, 2); (B, 5); (C, 3)\}$

$$\text{On a : } G = \text{bar} \{(A, 2); (B, 5); (C, 3)\} \text{ donc } G = \text{bar} \{(H, 5); (B, 5)\}$$

G est l'isobarycentre des point H et B .

Donc la position exacte du point G est le milieu de $[BH]$.