



**SUJETS**

# mon journal de compositions

Primaire  
**CP1**



Fomesoutra.com  
ça soutra !




Fomesoutra.com

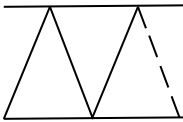
**COMPOSITION N°1 DU 7 décembre 2017**

**1-GRAPHISME**

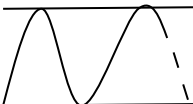
1- Je trace des traits du haut vers le bas



2- Je construis selon le modèle suivant



3- Je dessine les vagues entre lignes

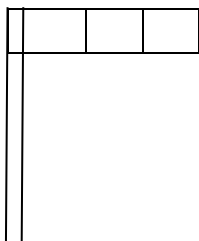


4- Je dessine des ponts entre les lignes



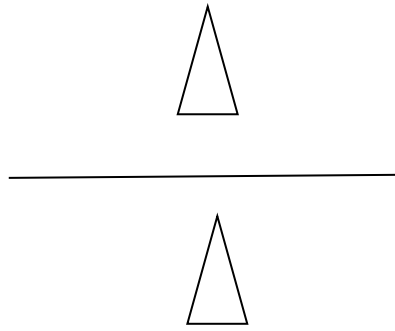
5- EDHC

Je colorie le drapeau ivoirien




# MATHEMATIQUES

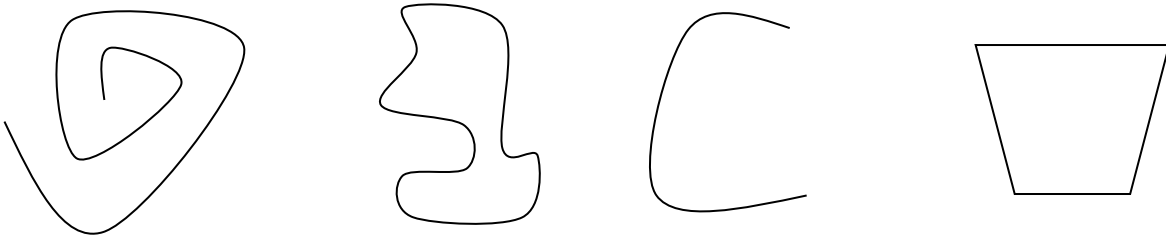
1- J'entoure le triangle sous le trait.




2- Je dessine une croix loin de l'étoile.




3- Entoure les lignes courbes fermées.



4- J'entoure les lignes brisées.



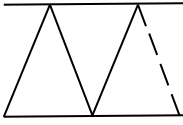
5- Je continue le rythme.



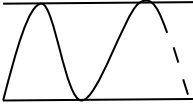
# COMPOSITION N°1 DU 19 Novembre 2019

## 1-GRAPHISME

1- Continues selon le modèle



2- Fais des vagues

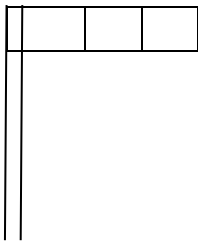


3- Construis les ponts entre les lignes



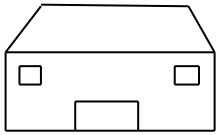
4- EDHC

Colorie le drapeau de la Côte d'Ivoire.

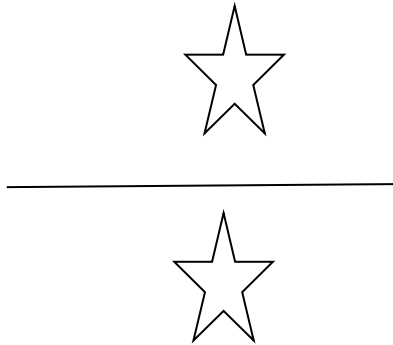


# MATHEMATIQUES

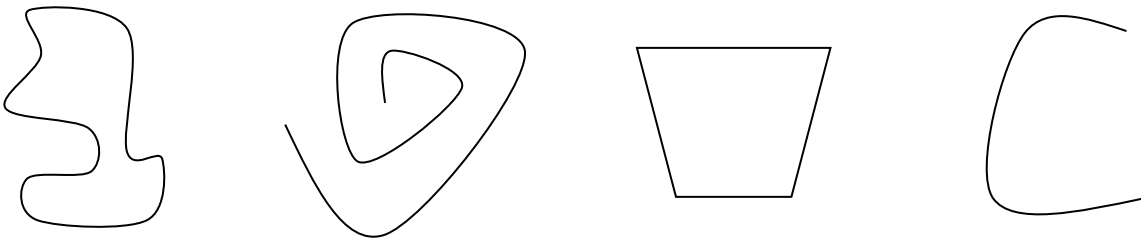
1- Dessine une croix près de la maison




2- Entoure l'étoile sous le trait.




3- Entoure les lignes courbes fermées.



4- J'entoure les lignes brisées.




5- Je continue le rythme.



6- Dessin

Colorie en vert cette banane.




# COMPOSITION N°1 DU 1<sup>er</sup> Décembre 2020

## 1-GRAPHISME

1- Trace des traits du haut vers le bas.



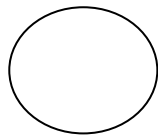
2- Construit selon le modèle suivant.



3- dessine les vagues entre les lignes


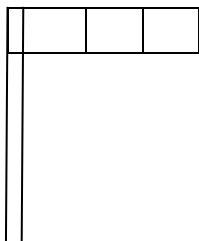


4- Continue les points à l'intérieur du cercle.



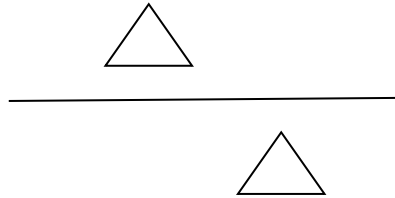
5- EDHC

Colorie le drapeau de la Côte d'Ivoire.

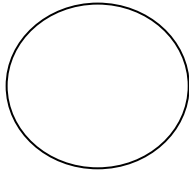


## MATHEMATIQUES

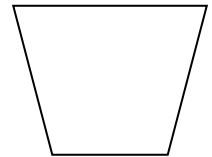


1- Entoure le triangle qui est sous le trait.





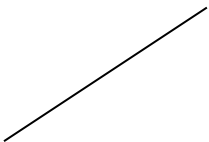
2- Dessine une croix loin du rond.



3- Entoure les lignes courbes fermées.



4- Entoure les lignes brisées.



**COMPOSITION N°2 DU 30 janvier 2018**

**1 - ECRITURE**

*a*.....

*a*.....

**2 - COPIE** : je copie le mot

*ali*.....

**3 - EXPRESSION ECRITE**

Complète les mots avec les lettres suivants : *a – a – i – l*

*Une bal...e - une t...mate - une t...sse - une am...*

.....

**4 - ORTHOGRAPHE**

Entoure les syllabes où il y a : *a – i*

*si        la        ta        ri        la        ta        tu        sa        ra*

**5-DICTEE**

---

---

---

---

---

---

---

---

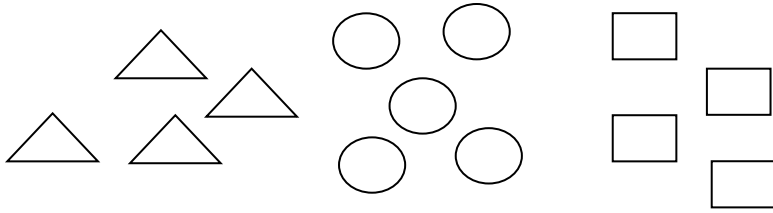
**6-EDHC**

Coche la case du comportement de paix

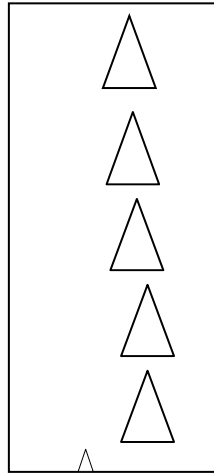
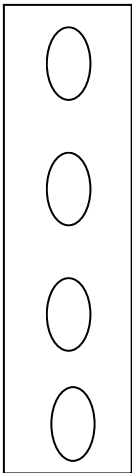
- Je respecte mon délégué de classe.
- S'opposer à la décision du groupe.
- Me soigner lorsque je suis malade.

# MATHEMATIQUES

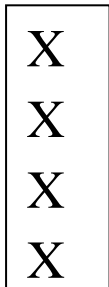
1- Entoure les objets de mêmes formes.



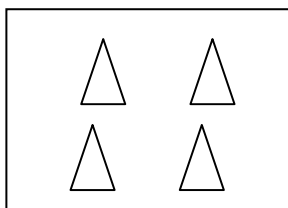
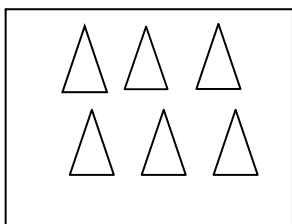
2- je relie un pour un.




3- je dessine autant de ronds que de croix.



4- Je mets une croix sous la collection où il y a plus d'éléments.



5- Observe et continue.



# COMPOSITION N°2 DU 21 janvier 2020

## 1 - ECRITURE

a.....

a.....

## 2 - COPIE : je copie le mot

*une moto*.....

## 3 - EXPRESSION ECRITE

1- Ecris une phrase avec les mots suivants

*un-a- pot-ama*

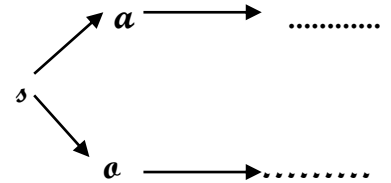
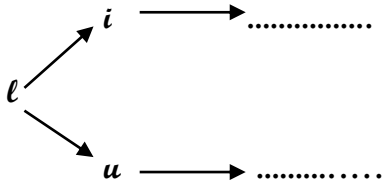
.....

2- Complète les mots avec : *a - a - i*

*un vél... ; du m...l ; une dab...*

## 4-ORTHOGRAPHE

Forme les syllabes.



## 5-DICTEE

---

---

---

---

---

---

---

## 6-EDHC

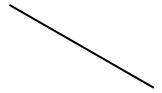
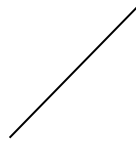

Mets une croix dans la case qui correspond bon comportement.

Je jette les bouts de papier en classe.

Je jette les ordures dans la poubelle.

# MATHEMATIQUES

1- Entoure les lignes droites.



2- Colorie les grands carrés.



3- Continue cette sériation



4- Continue pour avoir un rythme simple



## COMPOSITION N°2 DU 19 Janvier 2021

### 1 - ECRITURE

*a*.....

*u*.....

### 2 - COPIE : je copie le mot

*ali*.....

### 3 - EXPRESSION ECRITE

Complète les mots avec : *a - o - u - i*

*Un p...t ; un ...mi ; une ...gname ; un m...x*

### 4 - ORTHOGRAPHE

Entoure o - u - i

Moto            cuvette            pavé            mise

### 5-DICTEE

---

---

---

---

---

---

---

### 6-EDHC

Coche la bonne réponse de la case qui indique le bon comportement.

1 - Je respecte mon délégué de classe.     

2 - s'opposer à la décision du groupe.



## COMPOSITION N°2 DU 18 Janvier 2022

### 1 - ECRITURE

*a*.....

*u*.....

### 2 - COPIE : je copie le mot

*Ali a un lit*

.....

### 3 - EXPRESSION ECRITE

Complète les mots avec : *a - o - u - i*

*Un ép... ; un m...r ; une s...lle ; un p...t*

### 4 - ORTHOGRAPHE

Entoure les syllabes ou il y a : u - o - i

to - la - ri - ro - tu - ru

### 5-DICTEE

---

---

---

---

---

---

---

### 6-EDHC

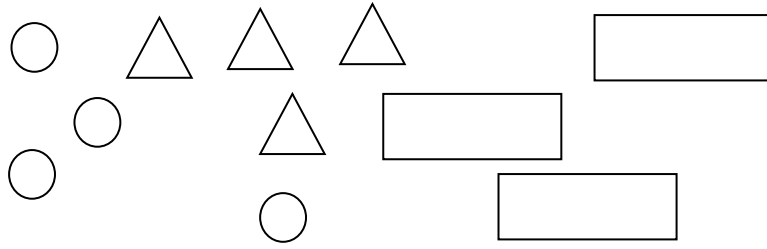
Mets une croix devant le comportement qui montre que tu acceptes l'autre avec ses différentes.

1 – accepter de jouer avec ceux qui sont handicapés.

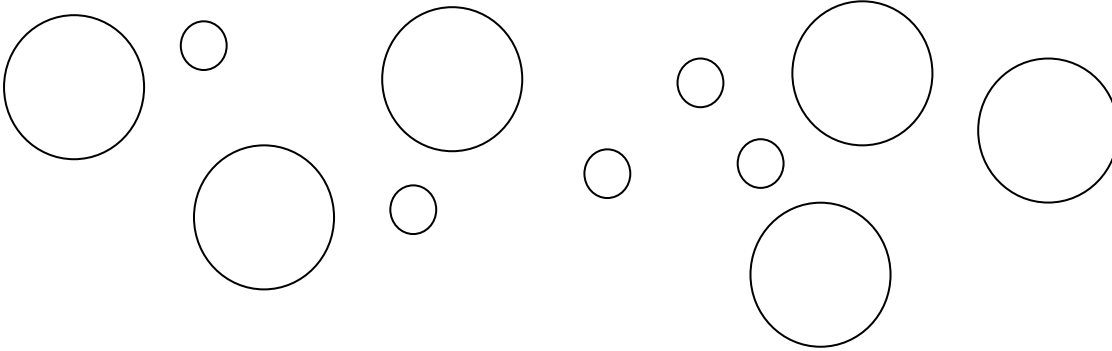
2 - se moquer de celui qui n'est pas bon en classe.

## MATHEMATIQUES

1- Entoure l'ensemble des objets de la même forme.




2- Colorie les grands ronds en jaune.



3- Colorie en rouge le triangle et en bleu le carrés



4- Observe et continue la sériation selon la forme.



**COMPOSITION N°3 DU 20 mars 2018**

**1 - ECRITURE**

*r*.....

*t*.....

**2 - COPIE** : je copie le mot

*la rue*.....

**3 - EXPRESSION ECRITE**

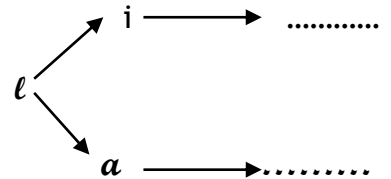
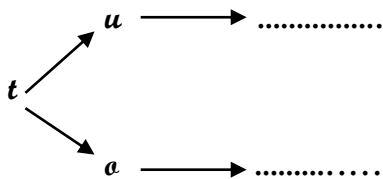
Ecris une phrase avec les mots suivants

*a-un lit-Sali*

.....

**4 - ORTHOGRAPHE**

a- Je forme des syllabes.



b- Entoure les syllabes dans les mots suivants

*ta- li - pa*

*Une patate*

*un lit*

*une tomate*

**5-DICTEE**

---

---

---

---

---

---

---

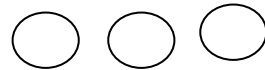
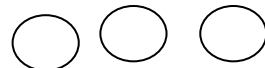
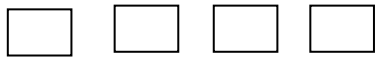
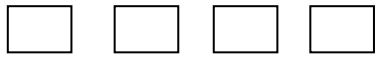
**6-EDHC**

Coche la case du comportement de paix


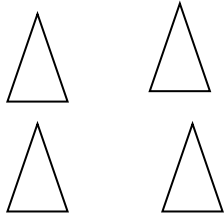
- Saluer ses camarades d'école
- Faire des palabres avec tout le monde

# MATHEMATIQUES


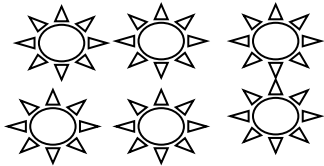
5- Entoure autant de carrés qu'il y a de ronds



6- Entoure la collection qui a plus d'éléments



7- Entoure la collection qui a moins d'éléments


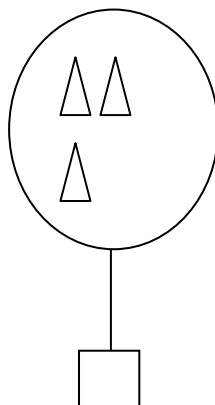
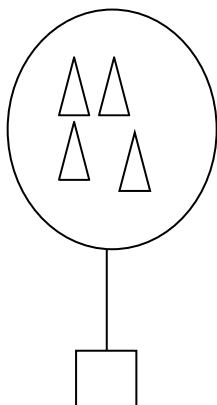


8- Ecris en lettres ou en chiffres

un = .....

3 = .....

9- Ecris le nombre d'éléments de chaque collection



10- Continue

1			4
---	--	--	---

# COMPOSITION N°3 DU 10 mars 2020

## 1 - ECRITURE

t.....

r.....

ra.....

## 2 - COPIE : je copie le mot

*une télé*.....

*la lutte*.....

## 3 - EXPRESSION ECRITE

Complète les mots avec : pa - do - lé - ta - re

*Une ...tate ; une ...ble ; un lu... ; la té... ; un ri...*

## 4 - ORTHOGRAPHE

Entoure les syllabes ou il y a « s » ou « t »

pu - ta - ti - la - tu - so - sa

## 5-DICTEE

---

---

---

---

---

---

---

## 6-EDHC

Coche la bonne réponse de la case qui indique le bon comportement.

1 - En allant à l'école je dis aurevoir à mes parents.

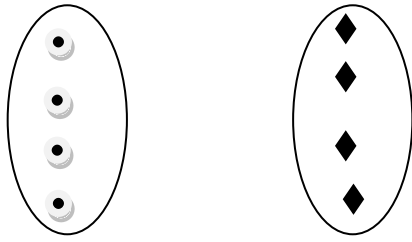
2 - Je dois faire la paix avec tout le monde.

3 - A l'école, je monte sur les bancs.

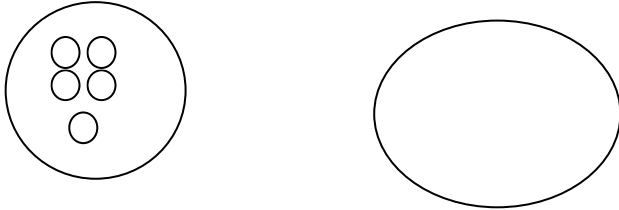
4 - Je dois aider maman à la maison.

## MATHEMATIQUES

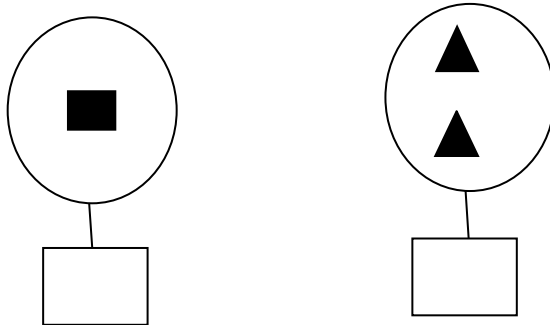
1- Fais la correspondance « un pour un »



2- Dessine autant de croix que de ronds dans la collection de droite.



3- Ecris l'étiquette-nombre de chaque collection.



**COMPOSITION N°3 DU 8 mars 2022**

**1 - ECRITURE**

s.....

l.....

**2 - COPIE** : je copie le mot

*Ali a un lit.*

.....

**3 - EXPRESSION ECRITE**

Complète les mots avec : **a – a – s – t**

*Une t...sse ; le l...ta ; un lo...us ; un tis...u*

**4 - ORTHOGRAPHE**

Forme les syllabes

daba          bébé          biberon

**5-DICTEE**

---

---

---

---

---

---

---

**6-EDHC**

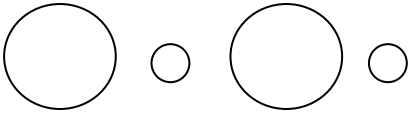
Mets une croix dans la case du bon comportement.

1 - Je suis poli avec les enseignants.     

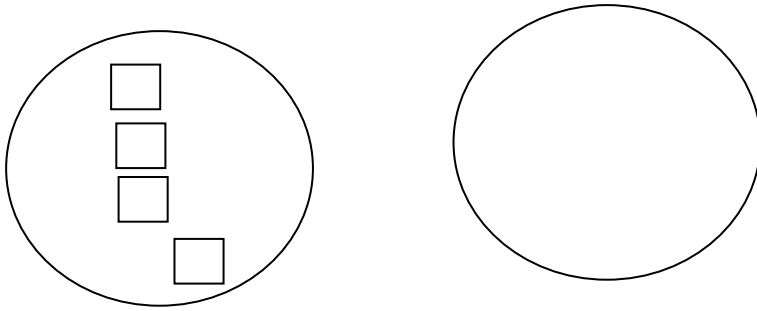
2 - Je viens en retard à l'école.

## MATHEMATIQUES

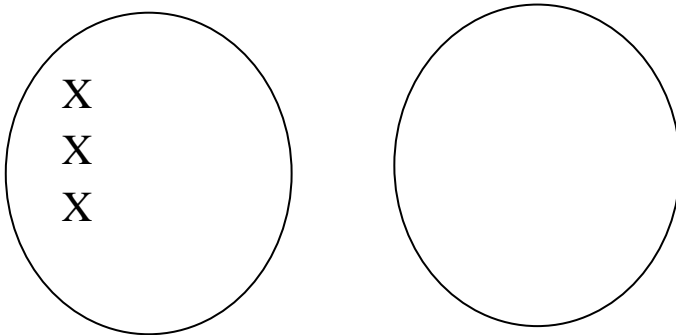
1- Dessine autant de ronds qu'il y a de carrés.



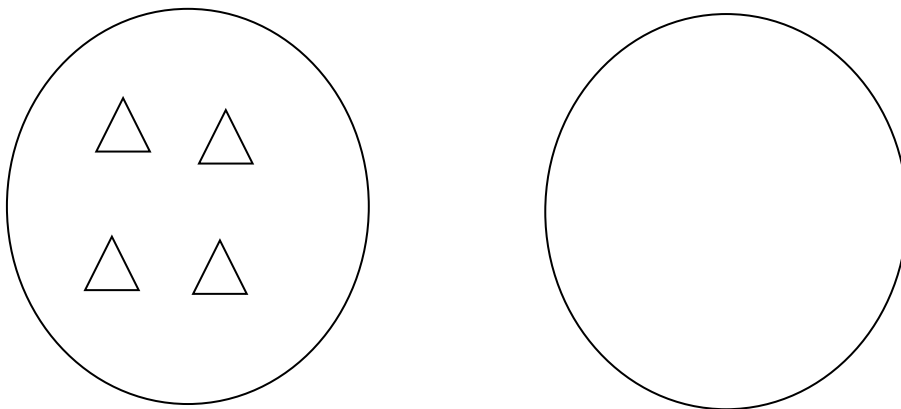
2- Dessine au stylo un élément de plus dans la collection.



3- Dessine un rond de plus que les croix.



4- Dessine un carré de moins que les triangles.



**COMPOSITION N°4 DU 22 mai 2018**

**1 - ECRITURE**

*on*.....

*an*.....

**2 - COPIE** : je copie le mot

*la pantalon* .....

**3 - EXPRESSION ECRITE**

a- Ecris une phrase avec les mots suivants

*a-mouton-alou-un*

.....

b- Complète la phrase avec les mots suivants : *vélo – du foutou*

*Sali pile* .....

*Vohi a un* .....

**4 - ORTHOGRAPHE**

a- Complète la phrase avec les mots suivants : *on – ai-d-ou*

*Un mout..... ; une p...le ; une ...aba ; une c...sse*

**5-DICTEE**

---

---

---

---

---

---

---

**6-EDHC**

Mets une croix (X) dans la case pour les phrases exprimant l'hygiène.

- Se laver le matin et le soir
- Porter des habits sales
- Se brosser les dents

## MATHEMATIQUES

1- Ecris en lettres ou en chiffres

Deux = .....

7 = .....

Dix = .....

2- Je compare avec les signes < ; > ou = .

5.....3

6.....9

8.....8

3- Je range les nombres du plus petit au plus grand

6 – 5 – 1 – 9

..... < ..... < ..... < .....

4- Je calcule

3 + 0 = .....

4 + 2 = .....

1 + 6 = .....

**COMPOSITION N°4 DU 30 mai 2017**

**1 - ECRITURE**

*ou*.....

*une roue*.....

**2 - COPIE** : je copie la phrase.

*Papa lave sa moto* .....

**3 - EXPRESSION ECRITE**

c- Ecris une phrase avec les mots suivants.

*pile-abiba-du foutou*

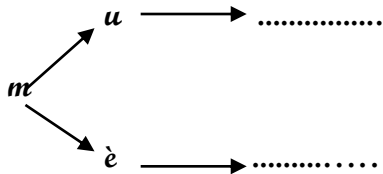
.....

**4 - ORTHOGRAPHE**

a- Complète la phrase avec les mots suivants : *an - ou-i*

*Un mout..... ; un l...t ; du f...tou*

b- Je forme des syllabes :



**5-DICTEE**

---

---

---

---

---

---

---

**6-EDHC**

Mets une croix (X) devant la bonne attitude à l'école.

1- Il faut faire la paix avec les autres.

2- Il faut venir en retard.

3- Il faut être travailleur.

## MATHEMATIQUES

5- Ecris en lettres ou en chiffres

neuf = .....

0 = .....

onze = .....

6- Je compare avec les signes < ; > ou = .

5.....3

7.....4

9.....9

7- Je range les nombres du plus petit au plus grand

7 - 4 - 12 - 0

--	--	--	--

8- Je calcule

3 + 4 = .....

6 + 3 = .....

# COMPOSITION N°4 DU 30 Juin 2020

## 1 - ECRITURE

a.....

a.....

ali.....

## 2 - COPIE : je copie la phrase.

*Jojo a une poupée.*

.....

## 3 - EXPRESSION ECRITE

a- Complète les mots avec : *lai – mo – nu – ne*

*Une ...to ; une bana..... ; une te....e ; du ....t*

b- Reconstitue la phrase : *sa moto - allume - papa*

.....

## 4 - ORTHOGRAPHE

Entoure les syllabes où il y a : « f » ou « c »

Pu - fa - ca - la - cau - fou - sa

## 5-DICTEE

---

---

---

---

---

---

---

## 6-EDHC

Ecris vrai ou faux devant chaque affirmation.

- a) Les couleurs du drapeau ivoirien sont : Orange-blanc-vert.
- b) Le chef de classe est choisi par le maître ou la maîtresse.
- c) Un enfant a droit à un nom et un prénom.
- d) Les couleurs des feux tricolores sont : le rouge, le vert et l'orange.
- e) Lorsque le feu est vert, les piétons passent.

## MATHEMATIQUES

1- Dessine des ronds ou écris le chiffre.

2- Ecris en lettres ou en chiffres

1 = .....

3 = .....

cinq = .....

zéro = .....

3- Complète .

	1		3
--	---	--	---

4- Calcule

$1 + 2 = \dots\dots\dots$

$3 + 2 = \dots\dots\dots$

# COMPOSITION N°4 DU 27 Août 2021

## 1 - ECRITURE

*m*.....

*ta*.....

## 2 - COPIE : je copie la phrase.

*rita a une tasse.*

.....

## 3 - EXPRESSION ECRITE

Complète les mots avec : *t – l – ai*

*Une ...le ; une ....une. ; une toma...e*

## 4- ORTHOGRAPHE

Entoure le mot si tu vois « d »

Une natte - une daba - la gourde - une usine

## 5-DICTEE

---

---

---

---

---

---

---

---

## 6-EDHC

Mets une croix dans la case qui est devant la bonne réponse.

- a) il faut venir en retard à l'école.
- b) Les couleurs de notre drapeau sont orange blanc vert.
- c) Un enfant doit aller tous les jours au champ.

# MATHEMATIQUES

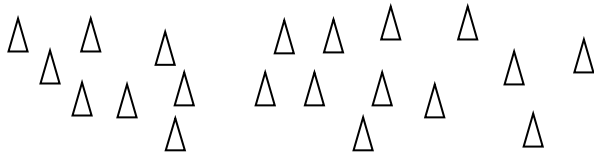
1- Ecris en chiffres.

Trois : ..... cinq : .....

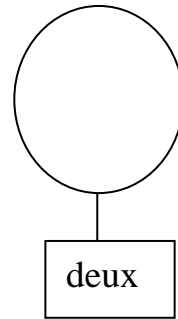
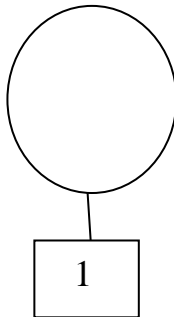
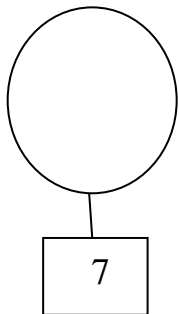
2- Ecris en lettres.

2 : ..... 6 : .....

3- Regroupe ces éléments par nombre de quatre.



4- Dessine le nombre d'objets dans chaque collection.



COMPOSITION N°4 DU 27 Mai 2022

1 - ECRITURE

*m*.....  
*un lit*.....

2 - COPIE : je copie la phrase.

*Vali salit la nappe.*

.....  
.....

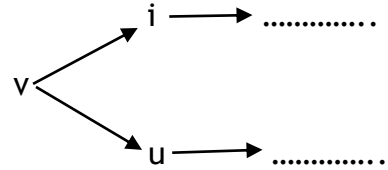
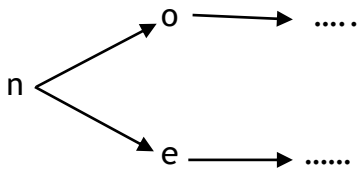
3 - EXPRESSION ECRITE

Complète les mots avec : *u - l - u - r - n*

*Le ...oto ; la f....mée. ; la ...atte ; un a...ion ; la ...une*

5 - ORTHOGRAPHE

Forme les syllabes



5-DICTEE

.....  
.....  
.....  
.....  
.....

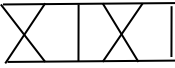
6 - EDHC

Mets une croix dans la case qui est devant la bonne réponse.

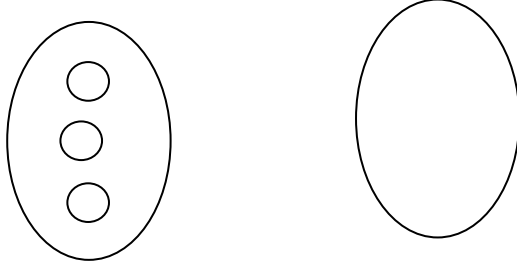
- a) le drapeau de la Côte d'Ivoire est : orange – blanc - vert.
- b) Le drapeau de la Côte d'Ivoire est : orange – blanc - jaune.
- c) Le drapeau de la Côte d'Ivoire est : vert – blanc - orange.

# MATHEMATIQUES


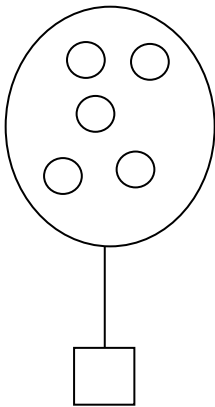
1- Continue le rythme simple.



2- Dessine autant de croix qu'il y a de ronds et fais la correspondance.



3- Ecris l'étiquette nombre de chaque collection



4- Complète le tableau suivant.

	2			5
--	---	--	--	---

5- Mets une croix dans la case de la bonne réponse.

$5 > 2$

$5 < 2$

6- Dessine le nombre d'objets dans chaque collection.

