

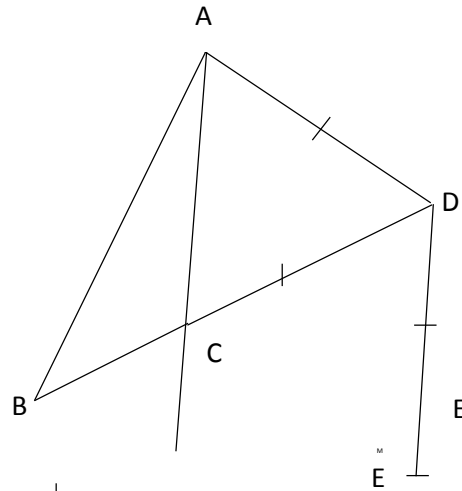


EXERCICES DE REVISION N°6

EXERCICE 1

Observe la figure codée ci-contre :

- 1) Cite tous les segments qui y sont tracés
(Chaque segment sera nommé une seule fois)
- 2) Cite tous les segments de même longueur



EXERCICE 2

Observe les figures ci-dessous

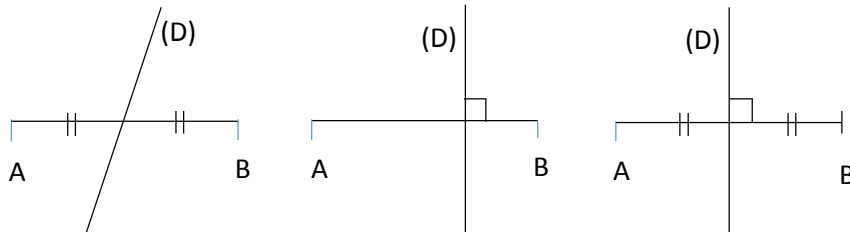
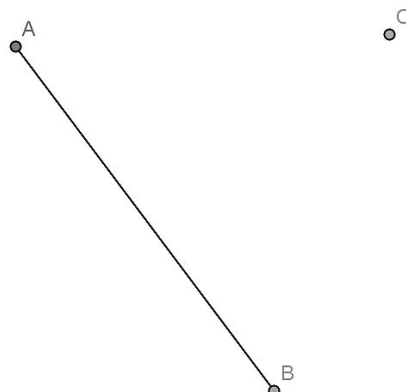


Figure 1 Figure 2 Figure 3

Complète : (D) est la médiatrice de [AB] dans la figure.....

EXERCICE 3

- 1) Au cours d'un jeu EVELINE et GUILLAUME décide de placer trois objets non alignés : un anacarde, un bonbon et un caillou tels que la distance entre le caillou et l'anacarde est égale à la distance entre le caillou et le bonbon comme le présente la figure ci-dessous. Le jeu consiste à tracer une droite (D) passant par le caillou et le milieu du segment qui lie le bonbon et l'anacarde ; **on prendra A pour l'anacarde, B pour le bonbon et C pour le caillou.**



Aide EVELINE et GUILLAUME à construire la droite (D)

- 2) Que représente la droite (D) pour le segment qui lie le bonbon et l'anacarde