

ANNEE SCOLAIRE : 2021 – 2022

NIVEAU : 6^{ème}

Classe :-----

Durée : 15 mn

Enseignant : M. KABY


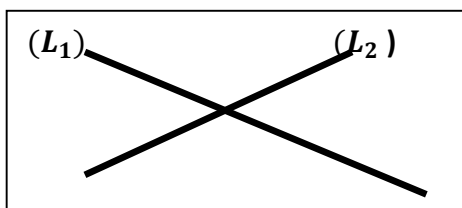
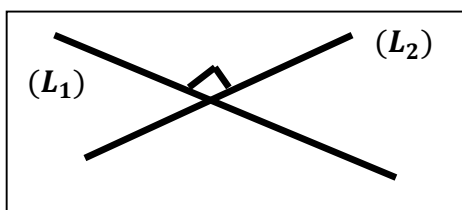
INTERROGATION ECRITE

Nom :----- Prénoms :-----	<u>Note</u> /10	<u>Observations</u>	<u>Visa du parent</u>
------------------------------	------------------------	---------------------	-----------------------

EXERCICE 1

On donne deux droites (L_1) et (L_2).

Relie une figure de la première colonne à l'affirmation correspondante de la deuxième colonne.



•

•

•

(L_1) et (L_2) sont parallèles

(L_1) et (L_2) sont perpendiculaires

(L_1) et (L_2) sont sécantes

EXERCICE 2

Il est question dans cet exercice de dire si les affirmations suivantes sont vraies ou fausses en mettant devant la phrase V pour Vrai ou F pour Faux.

Une droite est illimitée veut dire qu'elle ne peut pas être prolongée.	
Par deux points, il passe seulement une seule droite	
Deux droites sécantes sont deux droites qui ont deux points en commun	
Deux droites parallèles sont deux droites perpendiculaires à une même droite	

