

MATHS

1^{ère} D

LIVRE DU PROFESSEUR

CORRIGÉS DES EXERCICES

- Fixations
- Renforcements / Approfondissements
- Situations d'évaluations
- Devoirs de niveaux

Maths

1^{ère} D

CORRIGÉS DES EXERCICES

- Fixations
- Renforcements / Approfondissements
- Situations d'évaluations
- Devoirs de niveaux



SOMMAIRE

	Pages
Leçon 1 : Équations et inéquations du second degré dans \mathbb{R}	5
Leçon 2 : Dénombrement	18
Leçon 3 : Généralités sur les fonctions	27
Leçon 4 : Limites et continuité	41
Leçon 5 : Probabilité	49
Leçon 6 : Dérivation	56
Leçon 7 : Barycentre	66
Leçon 8 : Extension de la notion de limite	81
Leçon 9 : Étude et représentation graphique d'une fonction	100
Leçon 10 : Angles orientés et trigonométrie	117
Leçon 11 : Équations dans \mathbb{R}^2 et dans \mathbb{R}^3	137
Leçon 12 : Suites numériques	146
Leçon 13 : Orthogonalité dans l'espace	159
Leçon 14 : Composées de transformations du plan	173
Leçon 15 : Statistique à une variable	192
<i>Devoir de niveau 1</i>	207
<i>Devoir de niveau 2</i>	209
<i>Devoir de niveau 3</i>	211

1

EQUATIONS ET INEQUATIONS DU SECOND DEGRE DANS IR

SOLUTIONS DES EXERCICES

Solution de la situation d'apprentissage

CONTEXTE : organisation de concert à San Pedro

CIRCONSTANCE : transport des artistes et du matériel d'Abidjan à San Pedro.

TACHE : connaissant un certain nombre de données, il s'agit de faire des calculs pour savoir si le concert pourra démarrer à l'heure prévue à San Pedro.

I- EQUATION DU SECOND DEGRE

1- Résolution d'une équation du second degré

Solution des exercices de fixation

Exercice 1

$$\Delta = (5)^2 - 4(2)(-3) = 49$$

Exercice 2

$$\Delta = (-4)^2 - 4(1)(5) = -4$$

Exercice 3

$$1) \quad \Delta = (-1)^2 - 4(-1)(6) = 25$$

$$2) \quad \Delta = (0)^2 - 4(2)(5) = -40$$

$$3) \quad \Delta = (1)^2 - 4(1)(0) = 1$$

$$4) \quad \Delta = (-2\sqrt{3})^2 - 4(4)(1) = -4$$

Propriété 1 : résolution

Solution des exercices de fixation

- 1) $\Delta = (13)^2 - 4(3)(-10) = 289$. Donc $S = \left\{-5; \frac{2}{3}\right\}$
- 2) $\Delta = -100$; $\Delta < 0$ donc $S = \emptyset$
- 3) $\Delta = 408$. Donc $S = \{7 - \sqrt{102}; 7 + \sqrt{102}\}$

Propriété 2 : factorisation d'un polynôme du second degré dans IR.

Solution des exercices de fixation

Exercice 1

- 1) Le discriminant de ce polynôme est $\Delta = 526$; $\Delta > 0$. Le polynôme P est donc factorisable.
- 2) La forme factorisée de P est $P(x) = -7(x + 3)(x - \frac{2}{7})$

Exercice 2

- 1) $\Delta' = 4 - 4 = 0$. Le polynôme P est donc factorisable.
- 2) $P(x) = -2(x - 1)^2$

Exercice 3

10 est paire, utilisons le discriminant réduit $\Delta' = 25 - 25 - \sqrt{3} = -\sqrt{3}$. Le discriminant réduit est strictement négatif. Donc le polynôme P ne peut s'écrire comme produit de polynômes du 1^{er} degré.

2- Somme et produit des zéros d'un polynôme du second degré

Solution des exercices de fixation

Exercice 1

L'équation : $x^2 - 12x + 35 = 0$ a pour solutions 5 et 7. Les nombres sont donc 5 et 7.

Exercice 2

	$x^2 + 9x + 20$	$x^2 - 4x - 45$	$x^2 - 8x - 9$	$x^2 - 11,3x + 13$
S	-9	4	8	11,3
P	20	-45	-9	13

Exercice 3

	$x^2 - 1,5x - 4,5 = 0$	$P = -2$	$S = -6$	$S = 5 ; P = 6$
x_1	-3	-0,5	-1	2
x_2	4,5	4	-5	3

II- INEQUATION DU SECOND DEGRE

1- Signe d'un polynôme du second degré

Solution des exercices de fixation

Exercice 1

- Si le discriminant d'un polynôme du second degré est strictement négatif, alors ce polynôme est négatif **FAUX**.....
- Si le discriminant d'un polynôme du second degré est nul, alors ce polynôme est positif..... **FAUX**
- Soit $P(x) = x^2 - x$. On a $P(3) = 6 ; P(3) > 0$.
Donc pour tout x de \mathbb{R} , $P(x) > 0$... **FAUX**
- Pour tout x de \mathbb{R} , $1 - 4x^2$ a le même signe que -4 **FAUX**
- $x^2 + 1 \leq 0 \Leftrightarrow -1 \leq x \leq 1$ **FAUX**

Exercice 2

On a pour $x = -4$; $(-4)^2 + 8(-4) + 15 = -1$; le résultat est négatif. Donc dire que « Pour tout x de \mathbb{R} , $x^2 + 8x + 15 \geq 0$ » est fausse.

Le contre-exemple ici est -4

Exercice 3

- 1) Le discriminant réduit de P est $-2 < 0$. Donc P(x) possède le signe de 1 (coefficient de x^2). Donc pour tout x de IR, $P(x) > 0$.
- 2) $P(x) = \left(x - \frac{2}{5}\right)\left(x - \frac{1}{2}\right)$. Donc $\forall x \in \left]-\infty; \frac{2}{5}\right] \cup \left[\frac{1}{2}; +\infty\right[$, $P(x) \geq 0$ et $\forall x \in \left]\frac{2}{5}; \frac{1}{2}\right[$, $P(x) < 0$
- 3) $P(x) = -3x^2 + 6x - 3$
 $P(x) = -3(x - 1)^2$. Donc $\forall x \in \text{IR}$, $P(x) \leq 0$

2- Résolution d'inéquation du second degré.

Solution des exercices de fixation

Exercice 1

$$S = \left]-\infty; 1 - \sqrt{5}\right] \cup \left[1 + \sqrt{5}; +\infty\right[$$

Exercice 2

$\Delta' = -8$. Donc le polynôme possède le signe de 1. Donc $\forall x \in \text{IR}$, $x^2 - 6x + 17 > 0$.

Il en résulte que $S = \emptyset$

Exercice 3

$$x^2 - 14x + 49 = (x - 7)^2. \text{ Donc } S = \{7\}$$

III- EQUATION ET INEQUATION IRRATIONNELLE

1- Equation irrationnelle

Solution des exercices de fixation

Exercice 1

$$\sqrt{1 - 4x} = 5 \Rightarrow \sqrt{1 - 4x}^2 = 25 \Rightarrow x = -6.$$

Vérification : $\sqrt{1 - 4(-6)} = \sqrt{25} = 5$. Donc -6 est la solution de cette équation.
Donc $S = \{-6\}$

Exercice 2

Soit l'équation (E) : $x \in \mathbb{R}, \sqrt{x^2 + 2x - 3} = x - 3$

- 1) $V =]-\infty; -3] \cup [1; +\infty[$
- 2) On trouve $S = \emptyset$

2- Inéquation irrationnelle

Solution des exercices de fixation

Exercice 1

$$\sqrt{x+3} \leq 7 \Leftrightarrow \begin{cases} x+3 \geq 0 \\ x+3 \leq 49 \end{cases} \Leftrightarrow \begin{cases} x \geq -3 \\ x \leq 46 \end{cases} \Leftrightarrow -3 \leq x \leq 46.$$

Donc $S = [-3; 46]$

Exercice 2

$$\sqrt{x^2 - 4} \leq -2x \Leftrightarrow \begin{cases} x^2 - 4 \leq 4x^2 \\ x^2 - 4 \geq 0 \\ -2x \geq 0 \end{cases} \Leftrightarrow \begin{cases} 3x^2 + 4 \geq 0 \\ x \leq 0 \\ x \leq -2 \text{ ou } x \geq 2 \end{cases} \Leftrightarrow x \leq -2.$$

Donc $S =]-\infty; -2]$

Solution de la situation d'apprentissage

Modélisation : Soit t le temps du camion. Alors le temps de la berline est : $t - 2$ h.

Soit v la vitesse du camion. Alors la vitesse moyenne de la berline est : $v + 20$ km/h

Mise en équation : $\frac{480}{t-2} = \frac{480}{t} + 20$. Cette équation est équivalente à

$$20t^2 - 40t = 960.$$

Le temps t est donc solution de l'équation du second degré : $x^2 - 2x - 48 = 0$.

L'unique solution positive est 8. Donc le camion a mis 8 heures de temps pour arriver à destination tandis que la berline a mis 6 heures.

Le camion est arrivé à 14h et $14h + 5h = 19h$. or le concert commence à 20 heures.

Donc les organisateurs peuvent être tranquilles, le concert peut commencer avant 20heures.

SOLUTIONS DES EXERCICES DE RENFORCEMENT/APPROFONDISSEMENT

Exercice 1

- 1) 1 est solution de l'équation

$$ax^2 + bx + c = 0 \Leftrightarrow a(1^2) + b(1) + c = 0 \Leftrightarrow a + b + c = 0$$

- 2) La somme des coefficients de cette équation est nulle. Donc 1 est une solution.

Le produit des solutions est -6 . Donc l'autre solution est -6 .

Il en résulte les deux solutions de cette équation sont : 1 et -6

Exercice 2

- 1) La proposition est fausse car -3 par exemple est une solution de l'inéquation. En effet : $2(-3)^2 + (-3) + 3 = 18$ et $18 > 0$. Donc l'équation admet au moins une solution.

En fait le discriminant étant négatif, le polynôme a le signe de 2, coefficient de x^2 .

Donc l'ensemble des solutions de cette inéquation est \mathbb{R}

- 2) La proposition est fausse car 10 par exemple est une solution de l'inéquation. En effet : $(10)^2 + (10) - 12 = 98$ et $98 \geq 0$.

On sait que $x^2 + x - 12 \geq 0$ pour tout x de $]-\infty; -4] \cup [3; +\infty[$.

Donc l'ensemble des solutions de cette inéquation est $]-\infty; -4] \cup [3; +\infty[$.

Exercice 3

On peut procéder par « tâtonnement » en essayant plusieurs nombres, ou bien on peut étudier le signe du polynôme $x^2 + 9x - 10$ et choisir les solutions dans un intervalle sur lequel $x^2 + 9x - 10$ est positif. Dans tous les cas, trois solutions de l'inéquation sont : 0 ; -3 et -1

Exercice 4

- 1) $S = \{-1; 2\}$
- 2) $S = \{-1 - \sqrt{2}; -1 + \sqrt{2}\}$
- 3) $S = \{\frac{\sqrt{2}}{2}; -3\}$
- 4) a) $(3\sqrt{3} - \sqrt{7})^2 = 34 - 6\sqrt{21}$
b) $S = \{\sqrt{7} - \sqrt{3}; 2\sqrt{3}\}$
- 5) $S = \{-\frac{8}{7}; \frac{10}{7}\}$

Exercice 5

- 1) $P(x) = (x - 7)(x + 3)$
- 2) $Q(x) = -3(x - \frac{1}{3})(x + 2) = (1 - 3x)(x + 2)$
- 3) Impossible car $\Delta' = -4$.
- 4) $L(x) = 25(x - \frac{1}{5})(x + \frac{3}{5}) = (5x - 1)(5x + 3)$
- 6) $\Delta = -10$. Donc impossible de factoriser : $S(x) = x^2 + x\sqrt{2} + 3$

ATTENTION : il fallait lire :

Exercice 6

On trouve : -5 et 9

Exercice 7

- 1) On trouve : $\frac{1}{2}$ et -3
- 2) On trouve : -5 et 2
- 3) Impossible car le discriminant de l'équation : $x^2 + x + 10 = 0$ est strictement négatif (il vaut -39)
- 4) On trouve : 0,11 et 0,4
- 5) On trouve : -1,4 et 2,6

Exercice 8

- 1) On trouve : $\begin{cases} a = 1 \text{ et } b = 5 \\ \text{ou} \\ a = 5 \text{ et } b = 1 \end{cases}$ ou $\begin{cases} a = -1 \text{ et } b = -5 \\ \text{ou} \\ a = -5 \text{ et } b = -1 \end{cases}$
- 2) On trouve : $\begin{cases} a = -3 \text{ et } b = 2 \\ \text{ou} \\ a = 2 \text{ et } b = -3 \end{cases}$

Exercice 9

Notons L la longueur et l largeur.

$$\text{On a } \begin{cases} P = 2(l + L) = 43 \\ A = Ll = 112,5 \end{cases} \Leftrightarrow \begin{cases} L + l = 21,5 \\ Ll = 112,5 \end{cases}. \text{ On trouve } \begin{cases} L = 12,5 \text{ m} \\ l = 9 \text{ m} \end{cases}$$

Exercice 10

La somme des deux solutions est -6. Donc l'autre solution est -7

Exercice 11

- 1) On trouve $\{-6; -3; 3; 6\}$
- 2) $S = \{2\}$
- 3) On trouve $S = \{-\sqrt{3}; -2\}$
- 4) $S = \{-\frac{1}{2}; -1; \frac{1}{2}; 1\}$
- 5) On trouve $S = \{-\sqrt{7}; \sqrt{7}\}$
- 6) On trouve $S = \{-\frac{1}{2}; 0; \frac{1}{2}\}$

Exercice 12

- 1) L'erreur se trouve ici : $x^2 \leq 4 \Leftrightarrow x \leq 2$. En effet si on prend $x = -3$, on a $-3 \leq 2$ et pour tant $(-3)^2 = 9$; 9 n'est pas plus petit que 4
- 2) $x^2 - 4 \leq 0 \Leftrightarrow x^2 \leq 4 \Leftrightarrow -2 \leq x \leq 2$. Donc $S = [-2; 2]$

Exercice 13

- 1) A l'aide d'un tableau de signes, on obtient les résultats suivants :

Pour $x \leq -4$ ou $x \geq 1$, $P(x) \geq 0$ et pour $-4 < x < 1$, $P(x) < 0$

2) Le discriminant est -23 , il est strictement négatif. Donc pour tout x de \mathbb{R} , $P(x) > 0$

3) A l'aide d'un tableau de signes, on obtient les résultats suivants :
Pour $x \leq \sqrt{3}$ ou $x \geq 5$, $Q(x) \leq 0$ et pour $\sqrt{3} < x < 5$, $P(x) > 0$

4) A l'aide d'un tableau de signes, on obtient les résultats suivants :

Pour $x \leq -2,4$ ou $x \geq 0,2$, $S(x) \leq 0$ et pour $-2,4 < x < 0,2$, $P(x) > 0$

Exercice 14

1) 1^{er} cas : $m=1$

(E_1): $-5x + 1 = 0 \Leftrightarrow x = 0,2$: une solution unique

2^{ème} cas : $m \neq 1$

Le discriminant est $\Delta(m) = 16m + 9$

- Si $m = -\frac{9}{16}$, $\Delta(m) = 0$: il y a une unique solution.
- Si $m < -\frac{9}{16}$, $\Delta(m) < 0$: zéro solution (pas de solution).
- Si $m > -\frac{9}{16}$, $\Delta(m) > 0$: deux solutions distincts.

Conclusion : si $m < -\frac{9}{16}$, zéro solution. Si $m > -\frac{9}{16}$, et $m \neq 1$: deux solutions distinctes.

Si $m = 1$ ou $m = -\frac{9}{16}$: une unique solution.

2) Pour avoir deux solutions positives, il est nécessaire que $m > -\frac{9}{16}$, et $m \neq 1$ puis ensuite la somme et le produit des solutions doivent être positifs. Ce qui donne :

$$m > -\frac{9}{16}, \text{ et } m \neq 1 \text{ et } S = \frac{2m+3}{m-1} \geq 0 \text{ et } P = \frac{m}{m-1} \geq 0.$$

Ce qui donne finalement l'ensemble $A =]1; +\infty[$.

- 3) Pour avoir deux solutions négatives, il est nécessaire que $m > -\frac{9}{16}$, et $m \neq 1$ puis ensuite la somme des solutions est négative et le produit des solutions est positif. Ce qui donne :

$$m > -\frac{9}{16}, \text{ et } m \neq 1 \text{ et } S = \frac{2m+3}{m-1} \leq 0 \text{ et } P = \frac{m}{m-1} \geq 0.$$

Ce qui donne finalement l'ensemble $B = \left[-\frac{9}{16}; 0\right]$

- 4) Pour avoir deux solutions contraires, il est nécessaire que $m > -\frac{9}{16}$, et $m \neq 1$ puis ensuite le produit des solutions est négatif. Ce qui donne :

$$m > -\frac{9}{16}, \text{ et } m \neq 1 \text{ et } P = \frac{m}{m-1} \leq 0. \text{ Ce qui donne finalement l'ensemble } C = [0; 1[$$

Exercice 15

- 1) $S = \left[-\frac{1}{2}; \frac{1}{3}\right]$
- 2) $S = \mathbb{R} - \{5\}$
- 3) $S =]-\infty; -4\sqrt{5}] \cup [3\sqrt{5}; +\infty[$
- 4) $S = \emptyset$
- 5) $S = [-1; 1]$

Exercice 16

- 1) L'ensemble de définition de cette fonction est $Df =]-\infty; -3] \cup \left[\frac{1}{2}; +\infty\right[$
- 2) Les antécédents de 0 sont -3 et $\frac{1}{2}$.

Les antécédents de $\sqrt{3}$ sont : 0 et $\frac{5}{2}$

L'équation $\sqrt{-2x^2 - 5x + 3} = 3$ n'a pas de solution dans \mathbb{R} ; donc 3 n'a pas d'antécédents.

Exercice 17

1) $S = \{3\}$

2) $V =]-\infty; -4] \cup \left[\frac{1}{2}; +\infty[$

Pour tout x de V , $\sqrt{2x^2 + 7x - 4} = -x \Leftrightarrow \begin{cases} 2x^2 + 7x - 4 = x^2 \\ -x \geq 0 \end{cases} \Leftrightarrow \begin{cases} x = \frac{-7-\sqrt{65}}{2} \\ \text{ou} \\ x = \frac{-7+\sqrt{65}}{2} \\ x \leq 0 \end{cases}$

Donc $S = \left\{ \frac{-7-\sqrt{65}}{2} \right\}$

Exercice 18

Soit c la mesure de l'hypoténuse, a et b les mesures des deux côtés perpendiculaires.

On a : $\begin{cases} a + b + c = 43,2 \\ c = 18 \end{cases}$. Or d'après le théorème de Pythagore, $a^2 + b^2 = c^2$.

On obtient donc après calculs,

$$\begin{cases} a + b = 25,2 \\ a^2 + b^2 = 324 \end{cases} \quad \text{soit} \quad \begin{cases} a + b = 25,2 \\ ab = 155,52 \end{cases}$$

Réolvons : $X^2 - 25,2X + 155,52 = 0$.

Les solutions sont 10,8 et 14,4.

Donc les mesures des côtés perpendiculaires du triangle sont : 10,8cm et 14,4cm.

Exercice 19

$L = 2l$, l'aire totale de la pelouse est $A_T = L'l'$ avec $L' = L + 6$; $l' = l + 6$.

Donc $L'l' = 360 \Leftrightarrow (L + 6)(l + 6) = 360 \Leftrightarrow (2l + 6)(l + 6) = 360 \Leftrightarrow (l + 3)(l + 6) = 180$.

La résolution de l'équation $x^2 + 9x + 18 = 180$ donne les solutions -18 et 9.

Donc $l = 9$ m et $L = 18$ m

Exercice 20

Soit N le nombre d'arbres lorsque l'espacement est de 4 m. Alors dans ce cas le nombre d'arbres est $(N - 1)^2$ et le côté du terrain est $4N$.

Soit N' le nombre d'arbres lorsque l'espacement est de 5 m. Alors dans ce cas le nombre d'arbres est $(N' - 1)^2$ et le côté du terrain est $5N'$

Donc $N' = \frac{4}{5}N$ et $(N' - 1)^2 = (N - 1)^2 + 560$. Après développement, cette mise en équation donne l'équation : $-9N^2 + 10N + 14\,000 = 0$. Résolvons dans \mathbb{N} l'équation : $-9X^2 + 10X + 14\,000 = 0$.

La solution positive est 40. Donc $N = 40$ m et le côté du terrain mesure 160m

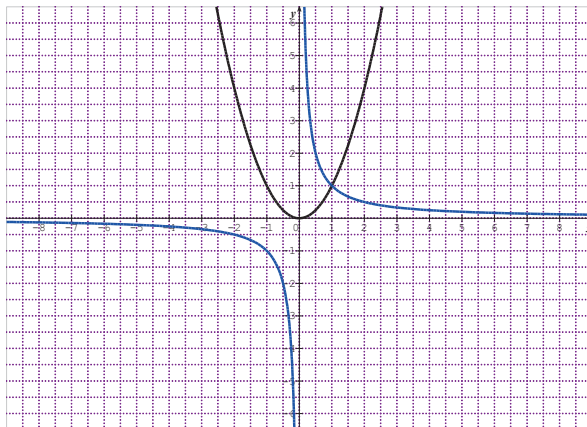
Exercice 21

3m correspondent à 300cm. D'où $\frac{p+p'}{pp'} = \frac{1}{f}$. Avec $p+p'=300$, on obtient le système d'équations : $\begin{cases} p + p' = 300 \\ pp' = 21600 \end{cases}$. La résolution de l'équation $X^2 - 300X + 21600 = 0$ donne les solutions 120cm et 180cm.

Donc on peut placer la lentille soit à 1,2m de l'écran soit à 1,8m de l'écran.

Exercice 22

- 1) On obtient les tracés suivants : la courbe de f en noir et celle de g en bleu.



2)

Sur l'intervalle $]0; 1[$, la courbe de f est en-dessous de celle de g .
Au point d'abscisse 1, les deux courbes se coupent.

Sur l'intervalle $]1; +\infty[$, la courbe de f est au-dessus de celle de g .

- a) L'ensemble des solutions de l'équation $f(x) = g(x)$ est $S = \{1\}$
b) L'ensemble des solutions de l'inéquation $f(x) < g(x)$ est $]0; 1[$.
L'ensemble des solutions de l'inéquation $f(x) > g(x)$ est $]1; +\infty[$
- 3) Résolution par calculs : on considère la fonction

$$u(x) = f(x) - g(x) = x^2 - \frac{1}{x} = \frac{x^3 - 1}{x}.$$

$$u(x) = \frac{(x-1)(x^2+x+1)}{x}.$$

Pour tout x de $]0; +\infty[$, $x^2 + x + 1 > 0$. Donc $u(x)$ a le même signe que $x - 1$

On obtient donc les résultats suivants : $\forall x \in]0; 1[$, $u(x) < 0$; $\forall x \in]1; +\infty[$, $u(x) > 0$ et pour $x = 1$, $u(x) = 0$.

On obtient donc les résultats de la question précédente.

SITUATION D'ÉVALUATION

- 1) R et R' sont inverses car $\frac{1}{2,5} = 0,4$. Ensuite $R_1 + R_2 = 2,5$ et

$$\frac{1}{R_1} + \frac{1}{R_2} = 2,5.$$

Donc $R_1 + R_2 = \frac{1}{R_1} + \frac{1}{R_2} = \frac{R_1 + R_2}{R_1 R_2}$. Ce qui prouve que $R_1 R_2 = 1$. Les deux nombres R_1 et R_2 sont donc inverses.

- 2) R_1 et R_2 sont solutions de l'équation : $x^2 - 2,5x + 1 = 0$. Donc $R_1 = 2\Omega$ et $R_2 = \frac{1}{2}\Omega$ ou vice versa.

2

DENOMBREMENT SOLUTIONS DES EXERCICES

SITUATION D'APPRENTISSAGE

CONTEXTE : kermesse organisée par une O.N.G.

CIRCONSTANCE : participation à jeu de tirages au hasard de cartons

TACHE : faire des calculs en vue de déterminer le type de tirage permettant de gagner le maximum de tee shirt.

I- ENSEMBLES FINIS

1- Ensemble fini

2- Cardinal d'un ensemble

Exercice de fixation

On fait la liste et on compte. On trouve 10.

3- Intersection de deux ensembles

Exercice de fixation

$$A = \{2,3,5,7,11,13,17,19\}; B = \{1,3,5,7,9,11,13,15,17,19\}$$

$A \cap B = \{3,5,7,11,13,17,19\}$. On a donc $\text{card}(A \cap B) = 7$

4- Réunion de deux ensembles

Exercice de fixation

$$A \cup B = \{3,9,15,21,27\}$$

5- Propriété du cardinal

Exercice de fixation

Prenons $A = \{1,2,6,7,9,13\}$ et $B = \{8,7,9,10,11\}$. On a $A \cup B = \{1,2,6,7,8,9,10,11,13\}$.

Donc $\text{card}(A \cup B) = 9$.

Ensuite $\text{card}A = 6$ et $\text{card}B = 5$ d'où $\text{card}A + \text{card}B = 11$. On a $\text{card}(A \cup B) \neq \text{card}A + \text{card}B$.

L'affirmation est donc fausse car on a trouvé deux ensembles finis qui ne la vérifient pas.

6- Ensembles disjoints, complémentaires d'un ensemble

Exercice de fixation

Le complémentaire de A dans E est l'ensemble $\bar{A} = \{3; 7; 13; 17\}$

Le complémentaire de A dans E est l'ensemble $\bar{A} = \{3; 7; 13; 17\}$

II-DENOMBREMENT D'ENSEMBLES FINIS

1- Produit cartésien

Exercice de fixation

Un code est élément du produit cartésien $E \times F^3$ où E est l'ensemble des consonnes ;

$cardE = 20$ et F est l'ensemble des chiffres ; $cardF = 10$

Il y a donc $20 \times 10^3 = 20\,000$ codes possibles.

2- Dénombrement de p-uplets

Exercice de fixation

Les mots comme par exemple BAC, BAB, BAA ou BAW font partie de la liste. Ces mots sont donc des 3-uplets formés à partir des lettres de l'alphabet français et commençant par BA. Il y a donc 26 mots.

3- Dénombrements d'arrangements

Solution de l'exercice de fixation

On peut modéliser ce rangement de la façon suivante :

Encyclopédies	E1	E2	E3
Rangement 1	T2	T5	T1
Rangement 2	T2	T1	T4
Rangement 3	T5	T4	T3
.....			

Finalement on constate qu'un rangement des trois encyclopédies est un arrangement de trois tiroirs.

Il y a donc $A_3^3 = 5 \times 4 \times 3 = 60$ rangements possibles de ces encyclopédies.

4- Dénombrements de permutations **Exercice de fixation**

Toutes les permutations de cet ensemble sont : 123 ; 132 ; 213 ; 231 ; 312 ; 321.

Exercice de fixation

Ils peuvent se garer de $5! = 120$ façons différentes.

5- Dénombrements de combinaisons

Exercice de fixation

Un groupe de deux exposants est une combinaison de deux élèves pris parmi quatre.

Il y a donc $C_4^2 = 6$ façons différents de les choisir.

6- Quelques propriétés des nombres C_n^p

Exercice de fixation

Il est nécessaire que $n \geq 2$ ensuite $C_n^2 = \frac{n(n-1)}{2}$;

donc $n(n-1) = 132$

La résolution de l'équation $x(x-1) = 132$ donne les solutions :

-11 et 12.

Donc $n = 12$.

SOLUTION DE LA SITUATION D'APPRENTISSAGE

Pour :

- Un tirage simultané de deux cartons, le nombre de tirages possibles est : 6. Soit un gain de six tee-shirts.
- Deux tirages successifs avec remise de deux cartons, le nombre de tirages possibles est : 12. Soit un gain de douze tee-shirts.
- Deux tirages successifs sans remise de deux cartons, le nombre de tirages possibles est : 16. Soit un gain de seize tee-shirts.

CORRIGES DES EXERCICES DE RENFORCEMENT/APPROFONDISSEMENT

EXERCICE 1

- Le nombre d'arrangement de n éléments pris parmi n éléments est égal à $n!$
- Le nombre de p -uplets de n éléments est égal à $nxn \dots xn$ (p facteurs)
- Le nombre d'arrangement de p éléments pris parmi n éléments est égal à $n(n-1)(n-2) \dots (n-p+1)$
- Le nombre de combinaisons de p éléments d'un ensemble de n éléments est égal à $\frac{n(n-1)(n-2) \dots (n-p+1)}{p(p-1)(p-2) \dots x2x1}$

EXERCICE 2

- 1) 2^5
- 2) 24
- 3) Un arrangement

EXERCICE 3

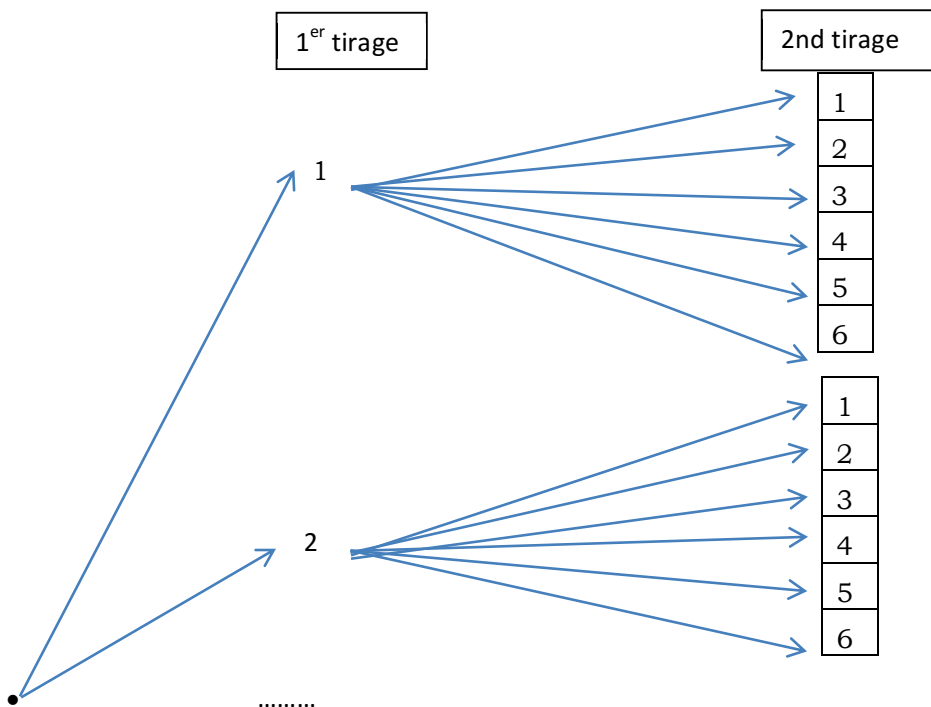
- 1) On trouve 60
- 2) On trouve 126
- 3) On trouve 0 car $C_8^5 = C_8^3$

EXERCICE 4

- 1) Le nombre de résultats est : $C_1^1 \times C_5^2 = 10$
- 2) Le nombre de résultats est : $C_3^3 = 1$

EXERCICE 5

- 1) Le nombre de tirages possibles est : 36



Au premier tirage, on a 6 possibilités ; au deuxième tirage, chacun possibilité donne droit à six possibilités. Le nombre total de possibilités est donc 36.

2) Tableau à double entrée :

	1	2	3	4	5	6
1	(1,1)	(1,2)	(1,3)	(1,4)	(1,5)	(1,6)
2	(2,1)	...				
3	(3,1)		...			
4	(4,1)					
5	(5,1)					
6	(6,1)					...

En remplissant ce tableau, on obtient ainsi 36 résultats.

EXERCICE 6

$$1) C_n^n = \frac{A_n^n}{n!} = \frac{n!}{n!} = 1$$

$$2) C_n^1 = \frac{A_n^1}{n!} = \frac{n}{1!} = n$$

$$3) C_n^p = \frac{n(n-1)\dots(n-p+1)}{p!} \text{ et } C_n^{n-p} = \frac{n(n-1)\dots(n-p+1)}{(n-p)!}.$$

Supposons que $n - p \leq p$. Alors $C_n^{n-p} = \frac{n(n-1)\dots(n-p+1)}{(n-p)!}$ peut-être complété comme suit :

$$C_n^{n-p} = \frac{n(n-1)\dots(n-p+1)}{(n-p)!} = \frac{n(n-1)\dots(n-p+1)p(p-1)\dots(n-p+1)}{p(p-1)\dots(n-p+1)(n-p)!}.$$

$$\text{Or } \frac{n(n-1)\dots(n-p+1)p(p-1)\dots(n-p+1)}{p(p-1)\dots(n-p+1)(n-p)!} = \frac{n(n-1)\dots(n-p+1)}{p!}. \text{ Donc } C_n^{n-p} = C_n^p$$

EXERCICE 7

Il s'agit ici de tirages successifs sans remise. Un résultat est un arrangement de deux chiffres pris parmi six.

Le nombre total est donc : $6 \times 5 = 30$

EXERCICE 8

Un mot de quatre lettres est une permutation des quatre lettres.

Il y a donc $4! = 24$ mots possibles

EXERCICE 9

1) 1125 ; 1445 ; 1234 sont trois éléments de Ω .

2) Le complémentaire de A est l'ensemble \bar{A} défini par : « on obtient un nombre impaire ».

3) On a $\text{card } \Omega = 6^4 = 1\,296$

- 4) $\text{card}A = 6^3 \times 3 = 648$. Donc $\text{card}\bar{A} = 1\,296 - 648 = 648$. On voit qu'il y a autant de nombres pairs que de nombres impairs.
- 5) \bar{B} est l'ensemble défini par : « on obtient au plus une fois le chiffre 1 ».
- 6) On a $\text{card}\bar{B} = C_5^3 + 1 \times C_5^2 = 10 + 10 = 20$. Donc $\text{card}B = 1\,296 - 20 = 1\,276$

EXERCICE 10

Considérons les deux ensembles suivants : $A = \{5,6,7,8,9\}$ et $B = \{\text{oui}; \text{non}\}$.

Un type de formulaire est élément du produit cartésien $A \times B$ c'est-à-dire par exemple (9 ; non).

Il y a donc 10 types de formulaires possibles.

EXERCICE 11

- 1) 30 élèves ont fait uniquement « droites et plans de l'espace ».
- 2) 6 élèves ont fait uniquement la leçon sur « homothéties et rotations ».
- 3) 96 élèves n'ont fait aucune des deux leçons.

EXERCICE 12

- 1) 65 élèves ont la moyenne
- 2) On obtient les réponses suivantes :
 - a) 16 élèves ont la moyenne uniquement en mathématique
 - b) 15 élèves ont la moyenne uniquement en anglais
 - c) 23 élèves ont la moyenne uniquement en EPS
- 3) 5 élèves n'ont pas la moyenne dans aucune de ces trois matières.

EXERCICE 13

Le nombre de plats susceptibles d'être servi est : $6 \times 4 \times 5 = 120$

EXERCICE 14

- 1) 15 élèves apprennent les deux langues
- 2) On trouve le résultat suivant : 25 élèves apprennent uniquement l'espagnol et 14 uniquement l'allemand.

Donc 39 élèves apprennent une seule langue.

EXERCICE 15

On trouve 12 couples de ce type

EXERCICE 16

- Le nombre 3612 convient, en fixant 2, on obtient 6 multiples de 6 ;
- Le nombre 1452 convient, en fixant 2, on obtient 6 multiples de 6 ;
- Le nombre 3462 convient, en fixant 2, on obtient 6 multiples de 6
- Le nombre 2364 convient, en fixant 4, on obtient 6 multiples de 6 ;
- Le nombre 2154 convient, en fixant 4, on obtient 6 multiples de 6 ;
- Le nombre 3564 convient, en fixant 4, on obtient 6 multiples de 6 ;
- Le nombre 1236 convient, en fixant 6, on obtient 6 multiples de 6 ;
- Le nombre 2346 convient, en fixant 6, on obtient 6 multiples de 6 ;
- Le nombre 3456 convient, en fixant 6, on obtient 6 multiples de 6 ;

On obtient au total 54 multiples de 6.

EXERCICE 17

Les enfants sont au nombre de trois et il y a quatre cadeaux. Chaque choix de trois cadeaux parmi un arrangement de trois cadeaux. Il y a donc 24 choix possibles

EXERCICE 18

Il y a $18 \times 17 \times 16 = 756$ tiercés possibles.

EXERCICE 19

- 1) On peut élire : $A_{28}^2 = 756$ bureaux possibles.
- 2) On peut élire : $C_4^2(2 \times A_{28}^2) = 9\,072$ bureaux possibles.

EXERCICE 20

- 1) Il peut constituer $C_{40}^5 = 658\,008$ groupes.
- 2) Il peut constituer $C_{11}^5 = 462$ groupes.
- 3) Il peut constituer $C_{29}^3 \times C_{11}^2 = 3\,709$ groupes.
- 4) Il peut constituer $658\,008 - C_{29}^5 = 539\,253$ groupes.

EXERCICE 21

- 1) Il y a : $6^5 = 7\,776$ résultats possibles.
- 2) On a : $\text{card}A = 3^2 \times 6^3 = 1\,944$
- 3) On a : $\text{card}B = 2 \times 6^4 = 2\,592$
- 4) On a : $\text{card}C = 10(3^2 \times 6^3) = 19\,440$
- 5) On obtient les résultats suivants :

- a) On a : \bar{D} « on obtient aucune face rouge »
 b) On a : $card\bar{D} = 3^5 = 243$
 c) On a : $cardD = 7\,776 - 243 = 7\,533$

EXERCICE 22

- 1) Il y a 120 tirages possibles.
 2) On obtient les résultats suivants :
 a) Il y a 10 tirages possibles
 b) Il y a $C_3^3 + C_5^3 = 11$ tirages possibles.
 c) Il y a $3 \times 2 \times 5 = 30$ tirages possibles.
 d) Si les deux couleurs sont le rouge et le noir.
 - 1 noire et 2 rouges : il y a $3 \times 10 = 10$ résultats.
 - 2 noires et 1 rouge : il y a $3 \times 5 = 15$ résultats
 Soit : 25 résultats
 Si les deux couleurs sont le rouge et le blanc ;
 - 1 boule noire et 2 rouges : il y a $3 \times 10 = 30$ résultats
 - 2 boules noires et 1 boule rouge : il y a $3 \times 5 = 15$ résultats
 Soit : 45 résultats.
 Si les deux couleurs sont le noir et le blanc.
 - 1 boule blanche et 2 boules noires : Il y a $2 \times 3 = 6$ résultats.
 - 2 boules blanches et 1 boule noire : il y a $1 \times 3 = 3$ résultats
 Soit : 9 résultats.
 On obtient donc au total : 79 résultats possibles.
 e) Il y a : $120 - C_8^3 = 78$ résultats possibles.
 f) Il y a : $120 - C_5^3 = 110$ résultats possibles

SITUATION D'ÉVALUATION

- Pour un tirage simultané de deux cartons, il y a 6 possibilités ; 6 tee-shirts.
- Pour des tirages successifs sans remise, il y a 12 possibilités ; soit 12 tee-shirts ;
- Pour des tirages successifs avec remise, il y a 16 possibilités ; soit 16 tee-shirts.

En conclusion, les tirages sans remise sont plus avantageux, car ils permettent de gagner plus de tee-shirts que les autres tirages.

GENERALITES SUR LES FONCTIONS

3

SOLUTIONS DES EXERCICES

Situation d'apprentissage

CONTEXTE : l'évolution de la production mondiale d'une certaine matière première.

CIRCONSTANCE : évolution après la production de 150 000 tonnes de cette même matière première.

TACHE : partir d'une courbe déjà tracée pour obtenir le tracer de son image.

I. GENERALITES

1- Egalité de deux fonctions, restriction d'une fonction

Solution de l'exercice de fixation

$$Df = \mathbb{R}^* \text{ et } Dg = \mathbb{R}^* \text{ de plus } \forall x \in \mathbb{R}^*, f(x) = \frac{x}{x^2} = \frac{1}{x} = g(x)$$

Donc les deux fonctions sont égales.

Définition 2

Exercice 1 de fixation

ATTENTION : il fallait lire $]-\infty; 2]$.

On sait que $|x - 2| = x - 2$, si $x \geq 2$ et $|x - 2| = -x + 2$, si $x < 2$

*Donc pour tout x de $]-\infty; 2]$, $f(x) = 2$ et pour tout x de $[2; +\infty[$, $f(x) = 2$;
par suite $g(x) = 2$.*

Exercice 2 de fixation

$[-1; 0]$ est inclus dans l'intervalle $]-\infty; 1]$. Donc $h(x) = x^2 - 4$

2- Composition de fonctions

Définition

Solutions de l'exercice de fixation

$$1) Df = \mathbb{R} - \{-1\}; Dg = \mathbb{R} - \{3\};$$

$$Df \circ g = \mathbb{R} - \{1; 3\}.$$

$$Dg \circ f = \mathbb{R} - \left\{-1; -\frac{1}{2}\right\};$$

$$Df \circ f = \mathbb{R} - \left\{-1; -\frac{3}{2}\right\}$$

$$2) \forall x \in Df \circ g, (f \circ g)(x) = f(g(x)) = \frac{2}{3} \frac{2x-3}{x-1}$$

$$\forall x \in Dg \circ f, (g \circ f)(x) = g(f(x)) = \frac{-2(x+2)}{2x+1}$$

$$\forall x \in Df \circ f, (f \circ f)(x) = f(f(x)) = \frac{3x+4}{2x+3}$$

Propriété

Solution de l'exercice de fixation

On a d'une part, $Dfo(goh) = D(fog)oh = \mathbb{R}$.

D'autre part pour tout x de $Dfo(goh)$, $(goh)(x) = F(x) = 2x^3 + 1$ d'où
 $fo(goh)(x) = foF(x) = (2x^3 + 1)^2$

Ensuite $(fog)(x) = H(x) = (2x + 1)^2$ d'où $(fog)oh(x) = Hoh(x) = (2x^3 + 1)^2$

On a donc $fo(goh)(x) = (fog)oh(x)$

III. APPLICATIONS INJECTIVES, SURJECTIVES, BIJECTIVES

1- Application injective

Propriété

Solution de l'exercice de fixation

Soit a et b deux nombres réels quelconques positifs tels que $f(a) = f(b)$.

$$f(a) = f(b) \Rightarrow a^2 = b^2 \Rightarrow a = b \text{ car } a \text{ et } b \text{ sont positifs.}$$

Donc $f(a) = f(b) \Rightarrow a = b$; il en résulte que f est injective.

2- Application surjective

Définition

Solution de l'exercice de fixation

Soit y un élément quelconque de \mathbb{R}^+ . Cherchons si y a au moins un antécédent par f . Pour cela, on résout dans \mathbb{R} l'équation : $f(x) = y$

$f(x) = y \Leftrightarrow x^2 = y \Leftrightarrow x = \sqrt{y}$ ou $x = -\sqrt{y}$. L'équation admet deux solutions ; donc y a au moins un antécédent par f .

Par conséquent f est surjective.

3- Application bijective

Solution de l'exercice de fixation

- 1) Soit $b \in \mathbb{R}^+$. L'équation : $f(x) = b$ admet une unique solution qui est b^2 .

Donc f est une bijection de \mathbb{R}^+ dans \mathbb{R}^+

2) $f^{-1}(2\sqrt{2}) = x \Leftrightarrow f(x) = 2\sqrt{2} \Leftrightarrow x = 8$. Donc $f^{-1}(2\sqrt{2}) = 8$

3) $f^{-1}(5) = x \Leftrightarrow f(x) = 5 \Leftrightarrow x = 25$. Donc $f^{-1}(5) = 25$

3) $f^{-1}: \mathbb{R}^+ \rightarrow \mathbb{R}^+$, tel que $f^{-1}(x) = x^2$

IV. OPERATIONS SUR LES FONCTIONS

1- Somme, produit, quotient de fonctions

Solution de l'exercice de fixation

$$1) f + g: \mathbb{R} \rightarrow \mathbb{R}, x \mapsto (f + g)(x) = f(x) + g(x) = \frac{1}{x^2-1} + \frac{(x+1)(x+2)}{x}.$$

$$Df = \mathbb{R} - \{-1; 1\};$$

$$Dg = \mathbb{R}^*.$$

$$D(f + g) = Df \cap Dg = \mathbb{R} - \{-1; 0; 1\}$$

$$2) fg: \mathbb{R} \rightarrow \mathbb{R}, x \mapsto (fg)(x) = f(x)g(x) = \frac{(x+1)(x+2)}{(x^2-1)x}$$

$$D(fg) = Df \cap Dg = \mathbb{R} - \{-1; 0; 1\}$$

$$3) \frac{f}{g}: \mathbb{R} \rightarrow \mathbb{R}, x \mapsto \left(\frac{f}{g}\right)(x) = \frac{f(x)}{g(x)} = \frac{\frac{1}{x^2-1}}{\frac{(x+1)(x+2)}{x}}.$$

$$D\left(\frac{f}{g}\right) = (Df \cap Dg) \cap \{x \in \mathbb{R} \text{ tel que } g(x) \neq 0\} = \mathbb{R} - \{-2; -1; 0; 1\}$$

2- Comparaison de fonctions

Définition :

Solution de l'exercice de fixation

Pour tout x de $[0; +\infty[$, $f(x) = \frac{x^2-x-2}{x+3} = x - 4 + \frac{10}{x+3}$. Soit $(x-4) - f(x) = \frac{-10}{x+3}$. Or $\frac{-10}{x+3} < 0$

Donc pour tout x de $[0; +\infty[$: $g(x) \leq f(x)$

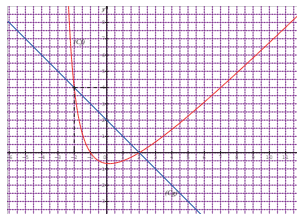
Résolution graphique de la comparaison

Solution de l'exercice de fixation

- Sur l'intervalle $]-\infty; -2[$, (Cf) est au-dessus de (Cg) .
- Sur l'intervalle $]-2; 2[$, (Cf) est en-dessous de (Cg) .
- Sur l'intervalle $]2; +\infty[$, (Cf) est au-dessus de (Cg) .

Conclusion :

- $\forall x \in]-\infty; -2[$, $f(x) \geq g(x)$
- $\forall x \in]-2; 2[$, $f(x) \leq g(x)$
- $\forall x \in]2; +\infty[$, $f(x) \geq g(x)$
- $\forall x \in \{-2; 2\}$, $f(x) = g(x)$



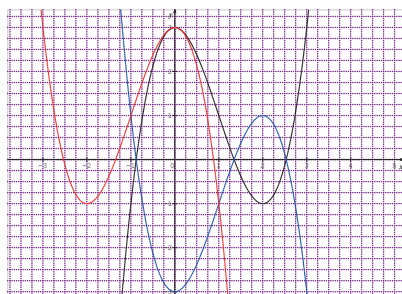
V. FONCTIONS ASSOCIEES

1- Fonctions du type $x \mapsto f(-x)$; $x \mapsto -f(x)$; $x \mapsto -f(-x)$

Solution des exercices de fixation

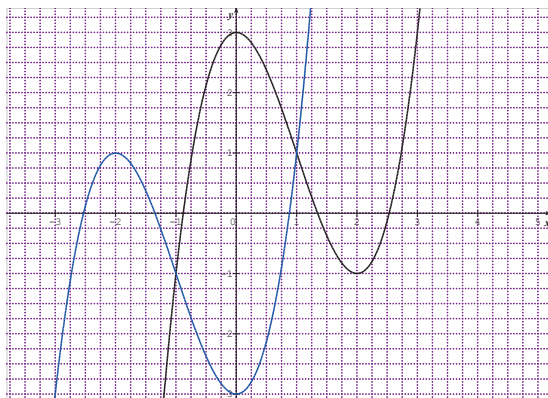
Exercice 1

Les courbes : $x \mapsto f(x)$ (en noir) ; $x \mapsto f(-x)$ (rouge) et $x \mapsto -f(x)$ (en bleu)



Exercice 2

$x \mapsto -f(-x)$ (en bleu)

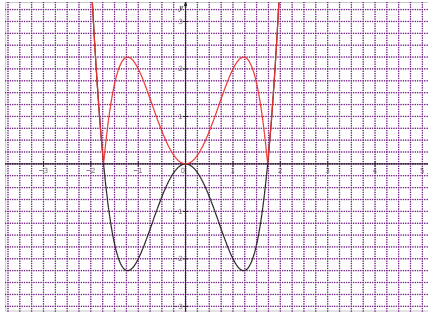


2- Fonctions du type $x \mapsto |f(x)|$

Propriété

Solution de l'exercice de fixation

$x \mapsto -f(-x)$ (en rouge)



3- Fonctions du type $x \mapsto f(x - a)$; $x \mapsto f(x) + b$; $x \mapsto f(x - a) + b$

Propriétés

Solution des exercices de fixation

Exercice 1

$(Cf) = t_{\vec{u}}(Cg)$ avec

1) $\vec{u} \begin{pmatrix} -3 \\ 0 \end{pmatrix}$

2) $\vec{u} \begin{pmatrix} 0 \\ -1 \end{pmatrix}$

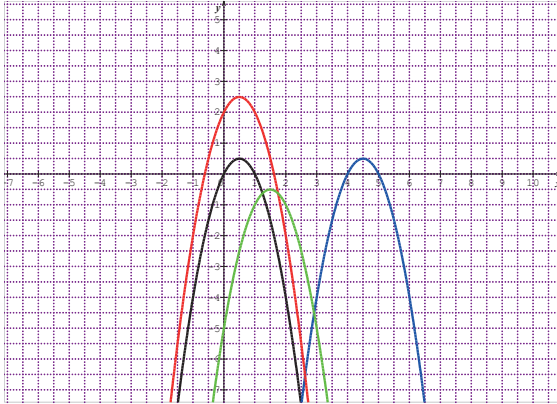
3) $\vec{u} \begin{pmatrix} -2 \\ -3 \end{pmatrix}$

Exercice 2 :

1) $(Cg) = t_{\vec{u}}(Cf)$ avec : $\vec{u} \begin{pmatrix} -3 \\ 0 \end{pmatrix}$ en bleu

2) $(Ch) = t_{\vec{u}}(Cf)$ avec $\vec{u} \begin{pmatrix} 0 \\ -1 \end{pmatrix}$ en rouge

3) $(Ci) = t_{\vec{u}}(Cf)$ $\vec{u} \begin{pmatrix} -2 \\ -3 \end{pmatrix}$ en vert

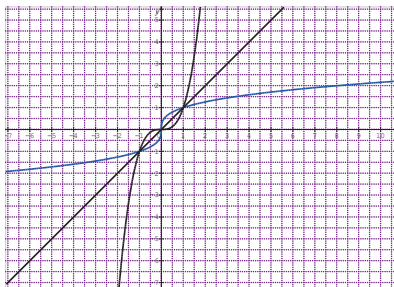


4- Représentation graphique de deux bijections réciproques

Propriété

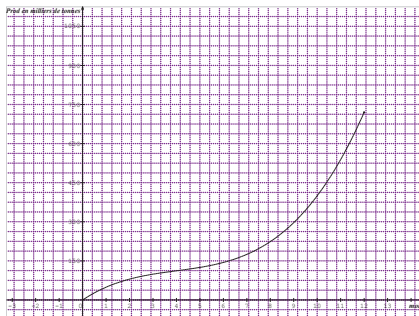
Solution de l'exercice de fixation

Par symétrie par rapport à la première bissectrice, on obtient le tracé suivant (en bleu)



SITUATION D'APPRENTISSAGE

Si on note (C) la courbe de la production P, la courbe de la nouvelle production P' est l'image de (C) par la translation de vecteur de coordonnées (0 ; 150 000). Il suffit donc de faire ce tracé.



SOLUTION DES EXERCICES DE RENFORCEMENT/APPROFONDISSEMENT

Exercice 1

- 1- Toute application bijective est surjective... **VRAI** car une application est bijective si et seulement si elle est à la fois injective et surjective
- 2- Soit f une application de \mathbb{R} dans \mathbb{R} telle que : $f(-1) = f(3) = 9$
 - a) L'application est injective..... **FAUX** car 9 a deux antécédents.....
 - b) L'application est bijective **FAUX** car cette application n'est pas injective
- 3- Soit f une application de \mathbb{R} dans \mathbb{R} telle que le nombre réel -3 n'a pas d'antécédent par f .
Une telle application est surjective... **FAUX** car il existe au moins un nombre réel qui n'a pas d'antécédent par f

- 4- Si $g(x) = f(x + 3)$ alors $(Cg) = t_{\vec{u}}(Cf)$ avec $\vec{u} \begin{pmatrix} 3 \\ 0 \end{pmatrix} \dots$ **FAUX** car $\dots \vec{u} \begin{pmatrix} -3 \\ 0 \end{pmatrix} \dots$
- 5- Si f est bijective, alors (Cf) et (Cf^{-1}) sont symétriques par rapport à la 1^{ère} bissectrice.
- 6- Si une application n'est pas bijective, alors elle n'est pas injective : **FAUX** car l'application $f: \mathbb{R} - \{1\} \rightarrow \mathbb{R}, x \mapsto \frac{2x+3}{x-1}$ n'est pas bijective (car 2 n'a pas d'antécédent). Et pourtant on peut montrer qu'elle est injective.
- 7- Les courbes des fonctions f et $g: x \mapsto -f(x)$ dans le plan muni d'un repère orthogonal (O, I, J) sont symétriques par rapport à la droite $(OJ) \dots$ **FAUX** car ces deux courbes sont plutôt symétriques par rapport à la droite (OI)
- 8- Si $f(x) = \frac{x^2-1}{x+3}$ et si $g(x) = 2x + 5$ alors $fog(x) = \frac{(2x+5)^2-1}{x+3} \dots$ **FAUX** car $fog(x) = \frac{(2x+5)^2-1}{(2x+5)+3}$
- 9- Pour toutes fonctions f et g ; on a $fog = gof$ **FAUX** car si $f(x) = 2x + 1$ et $g(x) = -x + 4$ alors $fog(0) = 9$ alors que $gof(0) = 3$
- 10- Les fonctions $f: \mathbb{R} \rightarrow \mathbb{R}, x \mapsto \frac{x+1}{x^2-1}$; $g: \mathbb{R} \rightarrow \mathbb{R}, x \mapsto \frac{1}{x-1}$ sont égales car $f(2) = g(2) = 1 \dots$ **FAUX** car ces deux fonctions n'ont pas le même ensemble de définition. En effet, $Df = \mathbb{R} - \{-1; 1\}$ alors que $Dg = \mathbb{R} - \{1\}$
- 11- Les fonctions $f: \mathbb{R} \rightarrow \mathbb{R}, x \mapsto \frac{1}{(x-1)}$ et $g: \mathbb{R} \rightarrow \mathbb{R}, x \mapsto \frac{1}{|x-1|}$ car elles ont le même ensemble de définition. **FAUX** car $f(-2) = -\frac{1}{3}$ alors $g(-2) = \frac{1}{3}$

Exercice 2

$Df = [0; +\infty[$ et $Dg = \mathbb{R}$. Les deux fonctions n'ont pas le même ensemble de définition. Donc elles ne sont pas égales.

Exercice 3

- 1) Soit a et b deux éléments de $\mathbb{R} - \{-5\}$ tel que $f(a) = f(b)$. Alors $\frac{2a-3}{a+5} = \frac{2b-3}{b+5}$ ce qui entraîne après calculs que $a = b$. Donc f est injective.
- 2) L'équation : $\frac{2x-3}{x+5} = 2$ n'a pas de solution. Donc $S = \emptyset$
- 3) Cette application n'est pas surjective car le nombre réel 2 n'a pas d'antécédent par f . Il en résulte que f n'est pas bijective.

Exercice 4

Solution en bleu



Exercice 5

- 1) Soit y un élément quelconque de $[3; +\infty[$ tel que $(x - 2)^2 + 3 = y \Leftrightarrow x = -2 + \sqrt{y - 3}$.
L'équation admet une solution unique. Donc g est bijective.
- 2) $g^{-1}: [3; +\infty[\rightarrow \mathbb{R}^+, x \mapsto -2 + \sqrt{x - 3}$

Exercice 6

La restriction de f à l'intervalle $[-1; 1]$ est la fonction : $[-1; 1] \rightarrow \mathbb{R}, x \mapsto x^2 + 1$

Exercice 7

- 1) $Df = \mathbb{R} - \{0\}$ et $Dg = \mathbb{R} - \{-3; 3\}$
- 2) $Dfg = Df \cap Dg = \mathbb{R} - \{-3; 0; 3\}$; $D(f + g) = Df \cap Dg = \mathbb{R} - \{-3; 0; 3\}$
 $D\frac{f}{g} = Df \cap Dg \cap \{x \in \mathbb{R} \text{ tel que } g(x) \neq 0\} = \mathbb{R} - \{-3; 0; 3\}$
- 3) $(fg)(x) = \frac{x(x+3)}{x(x^2-9)}$; $(f+g)(x) = \frac{x^3+4x^2-9x-27}{x(x^2-9)}$; $\left(\frac{g}{f}\right)(x) = \frac{\frac{x+3}{x}}{\frac{x}{x^2-9}}$

Exercice 8

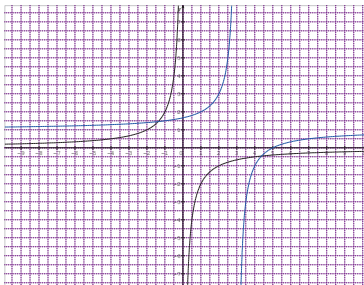
- 1) $(E1) = \{-1; 1\}$ et $(E) = \{0\}$
- 2) *Ensembles de définition*
 - a) $D_f = [-3; +\infty[$ et $D_g = \mathbb{R} - \{-1; 1\}$
 - b) $D_{f \circ g} = [0; 1] \cup]1; +\infty[$ et $D_{g \circ f} =]-1; -\frac{1}{3}] \cup]-1; +\infty[$
 - c) Pour tout x de $D_{f \circ g}$, $(f \circ g)(x) = \sqrt{\frac{3|x|-2}{|x|-1}}$ et pour tout x de $D_{g \circ f}$, $(f \circ g)(x) = \frac{1}{\sqrt{x+3}-1}$

Exercice 9

- 1) $f(x) = g(x-2) + 1$. Donc $(Cf) = t_{\vec{u}}(Cg)$ avec $\vec{u} \begin{pmatrix} 2 \\ 1 \end{pmatrix}$
- 2) $f(x) = (x-2)^2 - 5$. Donc $f(x) = g(x-2) + 1$. Donc $(Cf) = t_{\vec{u}}(Cg)$ avec $\vec{u} \begin{pmatrix} 3 \\ -5 \end{pmatrix}$
- 3) $f(x) = g(x+7) - 10$. Donc $(Cf) = t_{\vec{u}}(Cg)$ avec $\vec{u} \begin{pmatrix} -7 \\ -10 \end{pmatrix}$

Exercice 10

- 1) Une équation de la courbe (C') est $y = -\frac{2}{x-3} + 1$



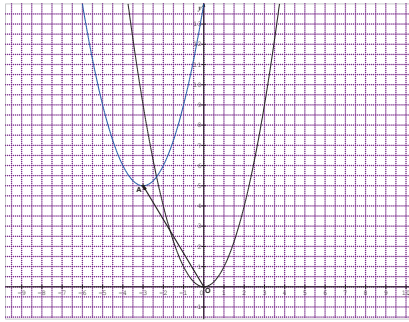
2)

Exercice 11

- 1) 0 a deux antécédents : -2 et 1. Donc f n'est pas injective.
- 2) L'application f n'est pas bijective car elle n'est pas injective.
- 3) Dans l'intervalle $[-2,5; 2]$ la droite d'équation $y = m$ pour m variant dans \mathbb{R} , coupe au moins une fois la courbe (C). Donc f est surjective.

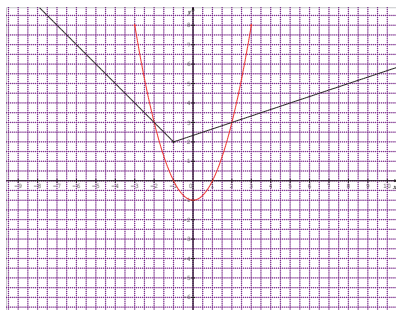
Exercice 12

- 1) On a $f(x) = (x + 3)^2 + 5$. C'est-à-dire $f(x) = g(x + 3) - 5$. Donc \vec{u} a pour coordonnées $\begin{pmatrix} -3 \\ 5 \end{pmatrix}$
- 2)



Exercice 13

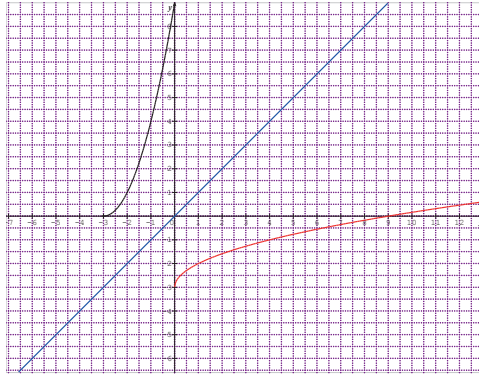
- 1) $f(x) \leq g(x)$ dans l'intervalle $[-3; 3]$. L'ensemble des solutions est $[-2; 2]$
- 2) a) Si $x \in [-3; -1]$, $g(x) = -x + 1$.
Donc $(x) \leq g(x) \Leftrightarrow x^2 - 1 \leq -x + 1 \Leftrightarrow x^2 + x - 2 \leq 0$. Ensemble des solutions : $S = [-2; -1]$
Si $x \in]-1; 3]$, $g(x) = \frac{x+7}{3}$. Donc $f(x) \leq g(x) \Leftrightarrow x^2 - 1 \leq \frac{x+7}{3} \Leftrightarrow 3x^2 - x - 10 \leq 0$
Ensemble des solutions : $S = [-1; 2]$
Finalement : l'ensemble des solutions de l'inéquation : $f(x) \leq g(x)$ est $[-2; -1] \cup [-1; 2]$. Soit $S = [-2; 2]$
- b) On trouve le même ensemble de solutions.



Exercice 14

Soit $f: \mathbb{R} \rightarrow [0; +\infty[$, $x \mapsto (x+3)^2$ et $g: \mathbb{R} \rightarrow \mathbb{R}$, $x \mapsto \frac{x+3}{\sqrt{x}}$

- 1) $g \circ f(-1) = g(f(-1)) = g(4) = \frac{7}{2}$ et $f \circ g(1) = f(g(1)) = f(4) = 49$.
- 2) a) $Df = \mathbb{R}$ et $=]0; +\infty[$ donc $Dg \circ f = \mathbb{R} - \{-3\}$ et $Df \circ g =]0; +\infty[$
 c) $g \circ f(x) = \frac{(x+3)^2+3}{|x+3|}$ et $f \circ g(x) = \left(\frac{x+3}{\sqrt{x}} + 3\right)^2$
- 3) Soit $y \in [0; +\infty[$ tel que $f(x) = y$. Cette équation admet deux solutions : $-3 + \sqrt{y}$ et $-3 - \sqrt{y}$. Donc f est surjective.
- 4) On a $f(-6) = 9$ et $f(0) = 9$. Donc 9 a deux antécédents. Il en résulte que f n'est pas injective.
- 5) On considère maintenant h l'application de $[-3; +\infty[$ dans $[0; +\infty[$ telle que $h(x) = (x+3)^2$.
 Soit $y \in [0; +\infty[$, l'équation $f(x) = y$ admet une unique solution : $-3 + \sqrt{y}$
 Donc h est bijective.
- 6) a) $h^{-1}(25) = x \Leftrightarrow h(x) = 25 \Leftrightarrow x = 2$ Donc ;
 $h^{-1}(25) = 2$. On calcule de même $h^{-1}(1) = -2$ et $h^{-1}(9) = 0$.
 b) Voir courbes ci-dessous.



Situation d'évaluation

1. Le bénéfice en fonction de x est $B(x) = C(x) - R(x)$;

$$B(x) = x^2 - 70x + 1000$$

2. $B(x) = (x - 35)^2 - 225$ pour $x \in [0; 60]$. La fonction est maximal pour $x = 60$

3. Le bénéfice est donc maximal pour $x = 60$ tonnes.

4

LIMITE ET CONTINUITÉ

SOLUTIONS DES EXERCICES

SITUATION D'APPRENTISSAGE

- CONTEXTE : jeu « génies en herbe » organisé par le club de mathématique d'un Lycée.
- CIRCONSTANCE : préparation en vue d'une participation
- TACHE : étudier la continuité d'une fonction en 0.

I- NOTION DE LIMITE FINIE EN UN POINT

1- Une approche intuitive

Solution de l'exercice de fixation

$$f(x) = \frac{x^2 - 1}{x - 1}$$

x	0,9	0,99	0,999	1	1,0001	1,001	1,01	1,1
$f(x)$	1,9	1,99	1,999		2,0001	2,001	2,01	2,1

On constate que lorsque x est proche de 1, $f(x)$ est proche de 2 ; donc on peut conjecturer que la limite de f en 1 est 2.

2- Propriété

Solution de l'exercice de fixation

1. VRAI
2. FAUX
3. FAUX
4. FAUX

II- OPERATIONS SUR LES LIMITES

1- On admettra les résultats suivants

2- Limites de quelques fonctions de référence

Solution de l'exercice de fixation

$$\lim_{x \rightarrow -1} (1 - x^3) = 2 ; \quad \lim_{x \rightarrow 2} (3x^2 + \sqrt{x} - 1) = 11 + \sqrt{2} ; \quad \lim_{x \rightarrow 0} \frac{2}{x-1} = -2$$

III- CONTINUITÉ D'UNE FONCTION NUMÉRIQUE

1- Continuité d'une fonction numérique en point

Définition

Solutions des exercices de fixation

Exercice 1

N°	Affirmations	Réponses
1	Si une fonction ne possède pas de limite en un point, alors elle est continue en ce point	Faux
2	Toute fonction continue en point est définie en ce point	Vrai
3	Si $\lim_{x \rightarrow a} f(x) = k$ et $f(a) \neq k$ alors f est continue en a .	Faux

Exercice 2

- 1) La fonction f a pour ensemble de définition, l'intervalle $[0; +\infty[$ qui contient 0. Donc f est définie en 0 et $f(0) = 0$. Enfin, $\lim_{x \rightarrow 0} f(x) = 0$. Donc f est continue en 0.
- 2) On a $f(0) = 0$; donc la fonction g n'est pas définie en 0 car 0 n'a pas d'inverse.
Il en résulte que g n'est pas continue en 0.

2. Continuité d'une fonction numérique sur intervalle

3. Propriétés des fonctions continues en point

Solution de l'exercice de fixation

N°	Affirmations	Réponses
1	La fonction polynôme P définie par $P(x) = x^3 - x^2 + x - 1$ est continue sur l'intervalle $[-2; 8]$	Vrai
2	Toute fonction rationnelle est continue sur \mathbb{R}	Vrai
3	La fonction rationnelle k définie par $k(x) = \frac{1-2x}{4x-5}$ est continue sur l'intervalle $[0; 2]$	Faux

IV- LIMITE D'UNE RESTRICTION

1. Continuité d'une fonction numérique en point

Solution des exercices de fixation

Exercice 1

$$\lim_{x \rightarrow -3} \frac{x^2 - 9}{x + 3} = \lim_{x \rightarrow -3} (x - 3) = -6 ; \lim_{x \rightarrow 1} \frac{x^2 + 2x - 3}{x - 1} = \lim_{x \rightarrow 1} (x + 3) = 4 ;$$

$$\lim_{x \rightarrow 2} \frac{x - 3}{x^2 - 3x} = \lim_{x \rightarrow 2} \frac{1}{x} = \frac{1}{2}$$

Exercice 2

$$1) \quad \forall x \in \mathbb{R}^+ \setminus \{1\}, \frac{x - \sqrt{x}}{x - 1} = \frac{(x - \sqrt{x})(x + \sqrt{x})}{(x - 1)(x + \sqrt{x})} = \frac{\sqrt{x}}{x + \sqrt{x}}$$

$$2) \quad \text{D'après la question ci-dessus, } \lim_{x \rightarrow 1} \frac{x - \sqrt{x}}{x - 1} = \lim_{x \rightarrow 1} \frac{\sqrt{x}}{x + \sqrt{x}} = \frac{1}{2}$$

2. Limite à gauche, limite à droite

Solution des exercices de fixation

Exercice 1

$$\lim_{x \rightarrow 0} f(x) = 0 ; \lim_{x \rightarrow 0} f(x) = 0$$

$\begin{matrix} > & & < \end{matrix}$

Exercice 2

$$\lim_{x \rightarrow -1} f(x) = 0 ; \lim_{x \rightarrow -1} f(x) = -1$$

$\begin{matrix} < & & > \end{matrix}$

3. Propriété

Solutions des exercices de fixation

Exercice 1

N°	Affirmations	Réponses
1	Si f une fonction numérique définie en a telle que la limite à gauche au point a est égale à la limite à droite de f au point a , toutes deux égales à $f(a)$ alors f est continue en a .	Vrai

2	Si f une fonction numérique non définie en a telle que la limite à gauche au point a est égale à la limite à droite de f au point a , alors f possède une limite au point a .	Vrai
3	Si f une fonction numérique non définie en a telle que la limite à gauche au point a est égale à la limite à droite de f au point a , alors f est continue au point a .	Faux
4	Si f une fonction numérique définie en a telle que la limite à gauche au point a est égale à la limite à droite de f au point a , toutes deux différentes de $f(a)$, alors f possède une limite au point a .	

Exercice 2

$$\lim_{x \rightarrow 1^+} f(x) = \lim_{x \rightarrow 1^-} f(x) = 1 \neq f(1)$$

Donc f n'est pas continue en 1

Exercice 3

$$\lim_{x \rightarrow 1^+} f(x) = \lim_{x \rightarrow 1^-} f(x) = 1 = f(1)$$

Donc f possède une limite en 1.

SOLUTIONS DES EXERCICES DE RENFORCEMENTS/APPROFONDISSEMENT

Exercice 1

On entoure les fonctions de 1. Et 3.

Exercice 2

1. Ici $m = 2$
2. Ici, $m = -4$

Exercice 3

Cas 1
a-vrai
b-faux
c-faux
d-faux
e-vrai

Cas 2
a-faux
b-faux
c-vrai
d-vrai
e-faux

Cas 3
a-faux
b-faux
c-faux
d-vrai
e-vrai

Cas 4
a-vrai
b-vrai
c-vrai
d-faux
e-vrai

Cas 5
a-vrai
b-faux
c-faux
d-faux
e-faux

Cas 6
a-vrai
b- vrai
c- vrai
d- vrai
e-vrai

Cas 7
a-faux
b- faux
c- vrai
d- vrai
e-faux

Cas 8
a-faux
b-faux
c- vrai
d- vrai
e-faux

Exercice 4

- 1) $\lim_{x \rightarrow 1} f(x) = 1 ; \lim_{x \rightarrow 1} f(x) = 2$
- 2) $\lim_{x \rightarrow 1} f(x) = 1 ; \lim_{x \rightarrow 1} f(x) = 1$
- 3) $\lim_{x \rightarrow 3} f(x) = +\infty ; \lim_{x \rightarrow 3} f(x) = -\infty$

Exercice 5

On a $\lim_{x \rightarrow 2} f(x) = 8 \neq \lim_{x \rightarrow 2} f(x)$.

Donc la fonction f n'admet pas de limite en 2

Exercice 6

On a, $f(1) = 1$ et $\lim_{\substack{x \rightarrow 1 \\ <}} f(x) = 1 = \lim_{\substack{x \rightarrow 1 \\ >}} f(x)$.

Donc la fonction f est continue en 1.

Exercice 7

On a $f(-5) = a$ et $\lim_{x \rightarrow -5} f(x) = \lim_{x \rightarrow -5} \frac{1}{x-2} = -\frac{1}{7}$. Donc la fonction f est continue en -5 si et seulement si $a = -\frac{1}{7}$.

Exercice 8

Démontrons que $\lim_{x \rightarrow 0} f(x) = 0$.

Pour tout x différent de 0, $f(x) = \frac{\sqrt{1+x^2}-1}{x} = \frac{x^2}{x(\sqrt{1+x^2}+1)} = \frac{x}{\sqrt{1+x^2}+1}$. On a ensuite $\lim_{x \rightarrow 0} \frac{x}{\sqrt{1+x^2}+1} = 0$

Donc $\lim_{x \rightarrow 0} f(x) = 0$.

Exercice 9

- 1) L'ensemble de définition de la fonction $(h.g)$ est $\mathbb{R} \setminus \{3\}$.
- 2) La formule explicite de la fonction $(h.g)$ est $(h.g)(x) = \frac{(x+1)(x-3)}{x-3}$
- 3) Pour tout x différent de 3, $(h.g)(x) = x + 1$. D'où $\lim_{x \rightarrow 3} f(x) = 4$

alors que $f(3) = 5$.

On a donc $\lim_{x \rightarrow 3} f(x) \neq f(3)$. La fonction f n'admet pas de limite en 3 ; elle n'est donc pas continue en 3.

Exercice 10

On a $f(-1) = 7$ et $\lim_{\substack{x \rightarrow -1 \\ <}} f(x) = 1 + a$ et $\lim_{\substack{x \rightarrow -1 \\ >}} f(x) = -3 - b$.

La fonction f est continue en -1 si et seulement si $\begin{cases} 1 + a = 7 \\ \text{et} \\ -3 - b = 7 \end{cases} \Leftrightarrow \begin{cases} a = 6 \\ \text{et} \\ b = 4 \end{cases}$.

Exercice 11

On a $f(0) = 2$, ensuite $\lim_{x \rightarrow 0^-} f(x) = \lim_{x \rightarrow 0^-} 1 + \frac{|x|}{x} = \lim_{x \rightarrow 0^-} (1 - 1) = 0$ et

$\lim_{x \rightarrow 0^+} f(x) = \lim_{x \rightarrow 0^+} 1 + \frac{|x|}{x} = \lim_{x \rightarrow 0^+} (1 + 1) = 2$. On a $\lim_{x \rightarrow 0^-} f(x) \neq \lim_{x \rightarrow 0^+} f(x)$. Donc la fonction f n'admet pas de limite en 0 ; elle n'est donc pas continue en 0.

SITUATION D'APPRENTISSAGE

Soit la fonction f de \mathbb{R} vers \mathbb{R} définie par : $f(x) = \frac{x^2 + |x|}{x}$

Étudions la continuité de f en 0.

L'ensemble de définition de la fonction f est $\mathbb{R} - \{0\}$.

La fonction f n'est pas définie en 0 ; elle n'est donc pas continue en 0.

SITUATION D'ÉVALUATION

1) La fonction f de \mathbb{R} vers \mathbb{R} est définie par :

$$\begin{cases} f(x) = 150x \text{ pour } x \in [0; 5] \\ f(x) = 750 \text{ pour } x \in]5; 10] \\ f(x) = 100x \text{ pour } x \in]10; 30] \\ f(x) = 3000 + 50x \text{ pour } x \in]30; +\infty[\end{cases}$$

La fonction f a pour ensemble de définition : \mathbb{R}

2) La représentation graphique est la suivante :



- 3) Sur la représentation graphique, on constate qu'au point d'abscisse 5 de la courbe, il n'y a pas de « cassure » alors qu'au point d'abscisse 30, il y a « cassure ».

On peut démontrer que la fonction f est continue en 5 alors qu'elle est discontinue en 30.

Le premier élève a donc raison.

5

PROBABILITÉ CORRIGES DES EXERCICES

I- VOCABULAIRE DES PROBABILITES

1- Expérience- aléatoire-univers

2- Eventualité-évènement

3- Evènements incompatibles-évènement contraire

Solution des exercices de fixation

Exercice 1

N°	AFFIRMATIONS	REPONSE
1	L'univers Ω de cette expérience est $\Omega = \{1 ; 2 ; d ; h ; m ; 7 ; s ; g\}$	Faux
2	L'évènement « indexer une voyelle » est un évènement impossible	Vrai
3	Les évènements « indexer une voyelle » et « indexer un chiffre » sont contraires	Faux
4	Les évènements « indexer une lettre » et « indexer un chiffre » sont deux évènements incompatibles.	Vrai

Exercice 2

On lance un dé cubique équilibré dont les faces sont marquées comme suit :

Une face 1, deux faces 2, une face 3 et les autres par la lettre a.

1- L'univers est : $\Omega = \{1, 2, 3, a\}$

2- Un évènement est : A : « on obtient 1 »

3- Deux évènements contraires sont : A : « on obtient 1 » et son contraire est A' : « on obtient 2 ou 3 ou a »

4- Deux évènements incompatibles sont A : « on obtient la face marquée 1 » ; B : « on obtient 2 » sont incompatibles.

4. Intersection d'évènements : « A et B »

5. réunion d'évènements : « A ou B »

Solution de l'exercice de fixation

1) $A = \{11; 22; 33; 44; 55; 66\}$;

$B = \{12; 15; 21; 24; 33; 36; 42; 45; 51; 54; 63; 66\}$ et

$C = \{15; 25; 35; 45; 55; 65\}$

2) Le contraire de A est l'évènement \overline{A} défini par : « on obtient deux chiffres différents ».

3) $A \cup B = \{11; 22; 33; 44; 55; 66; 12; 15; 21; 24; 36; 42; 45; 51; 54; 63\}$

$A \cup C = \{11; 22; 33; 44; 55; 66; 15; 25; 35; 65\}$

4) $A \cap B = \{33; 66\}$; $A \cap C = \{55\}$; $C \cap B = \{45\}$

II- PROBABILITES

1. Définition

2. L'hypothèse d'équiprobabilité

3. Propriétés des probabilités

Solution de l'exercice de fixation

1) L'univers a pour cardinal : 11

2) On a $p(A) = \frac{6}{11}$

3) On a $p(B) = \frac{10}{11}$

SOLUTIONS DES EXERCICES DE RENFORCEMENT/APPROFONDISSEMENT

Exercice 1

- 1) **VRAI** car résulte d'une propriété du cours.
- 2) **FAUX** car une probabilité est un nombre réel compris entre 0 et 1.
- 3) **VRAI** car résulte d'une propriété du cours.
- 4) **VRAI** car c est la définition d'une probabilité.
- 5) **VRAI** car ici $p(A \cup B) = p(A) + p(B)$

Exercice 2

Chaque résultat est un 4-uplet formé avec les éléments de l'ensemble $\{F; P\}$. Il y a donc 16 résultats possibles.

$$p(A) = \frac{1}{16} \text{ ensuite } p(B) = 1 - p(\bar{B}) = 1 - \frac{1}{16}. \text{ Donc } p(A) = \frac{15}{16}$$

Exercice 3

$$P(E \cup F) = 0,94$$

Exercice 4

$$P(A \cup B) = P(A) + P(B) - P(A \cap B) = 0,25$$

$P(A \cap B) \neq 0$ donc les événements A et B ne sont pas incompatibles.

Exercice 5

1	La probabilité de tirer une boule noire est	$\frac{1}{2}$	$\frac{1}{3}$	$\frac{1}{5}$
2	La probabilité de tirer une boule blanche est	$\frac{1}{3}$	$\frac{2}{3}$	$\frac{2}{5}$

Exercice 6

N°	QUESTIONS	REPONSE	REPONSE	REPONSE
		A	B	C
1	La probabilité de l'évènement « on obtient un nombre supérieur ou égal à 5 » est	$\frac{1}{3}$	$\frac{2}{3}$	$\frac{1}{6}$
2	La probabilité de l'évènement « on obtient un nombre pair » est :	$\frac{2}{3}$	$\frac{1}{3}$	$\frac{1}{2}$
3	La probabilité de l'évènement « on obtient un multiple de 3 » est	$\frac{1}{2}$	$\frac{1}{3}$	$\frac{1}{6}$

Exercice 7

	Gris	Bleu	Noir	Blanc
Probabilité	$\frac{1}{4}$	$\frac{1}{4}$	$\frac{1}{8}$	$\frac{1}{4}$

Exercice 8

1- $p(A) = \frac{90}{150} = 0,6$

2- $p(B) = \frac{27}{150} = 0,18$

3- $p(C) = \frac{105}{150} = 0,7$

Exercice 9

- 1- Il y a 10 000 cartes magnétiques possibles.
- 2- Le nombre de codes possibles est : 1 000.

La probabilité est donc : $\frac{1}{10}$

- 3- La probabilité est : $\frac{4!}{10\,000} = 0,0024$

Exercice 10

- 1- Le nombre de tirages possibles est égale à $11^3 = 1331$
- 2- $p(A) = \frac{197}{1331} \cong 0,15$; $p(B) = 1 - \frac{216}{1331} = \frac{1115}{1331} \cong 0,84$;

$$p(C) = 1 - p(A) = \frac{1134}{1331} \cong 0,85$$

Exercice 11

- 1- Les nombres 50982 ; 20598 ; 98025 ; 80529 et 05928 sont cinq résultats possibles.
- 2- $\{50982\}$; $\{59820\}$ et $\{59802\}$ sont trois évènements élémentaires.
- 3- Il y a $5! = 120$ résultats possibles.
- 4- Il y a 96 nombres de cinq chiffres possibles (en tenant compte de la restriction imposée). Donc la probabilité d'obtenir un nombre de cinq chiffres est $\frac{1}{96}$

L'évènement S est décrit comme suit : « on obtient un nombre divisible par 10 »

$$\text{Ensuite } p(S) = \frac{24}{120} = 0,2$$

Considérons les évènements suivants :

A : « obtenir un nombre dont le chiffre des unités est 9 » et B : « obtenir un nombre dont le chiffre des unités est 0 ». Alors $Q = A \cup B$.

L'évènement A est impossible ; donc $p(A) = 0$. Donc $p(A \cap B) = 0$

$$\text{Donc } p(Q) = p(A) + p(B) - p(A \cap B) = p(B) = 0,2$$

Exercice 12

1) Il y a 2730 classements possibles

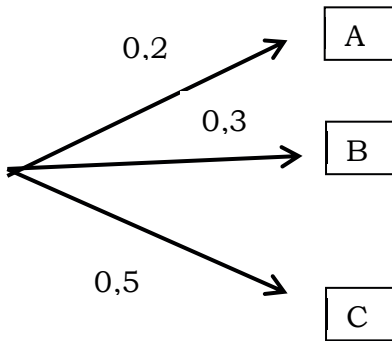
2) $cardE = 7 \times 6 \times 13 = 546$; $p(A) = \frac{546}{2730} = 0,2$; $p(F) = 1 - \frac{1320}{2730} \cong 0,52$;

$cardG = 3(5 \times 4 \times 13) = 780$; $p(G) = \frac{780}{2730} \cong 0,29$

Exercice 13

1) $p(A) = 0,2$; $p(B) = 0,3$ et $p(C) = 0,5$

2)



Exercice 14

L'aire du grand écran est $2700cm^2$; celle de l'écran intérieur est $1728cm^2$

La probabilité est donc $\frac{1728}{2700}$ soit 0,64.

Exercice 15

1) $\frac{4}{32} = \frac{1}{8}$

2) $\frac{11}{32}$

3) $\frac{1}{32}$

Exercice 16

1) $C_{30}^3 = 4060$

2) La probabilité est : $1 - \frac{220}{4060} = \frac{3840}{4060} = 0,95$

3) La probabilité est : $\frac{136}{4060} = 0,03$

Exercice 17

Considérons les évènements suivants :

R : « l'élève pratique uniquement le rugby »,

B : « l'élève pratique uniquement le basket-ball ».

On a $cardR = 102 - (12 + 10 + 5) = 75$ et $cardB = 107 - (10 + 20 + 5) = 72$.

Ensuite $p(R) = \frac{75}{300} = 0,25$ et $p(B) = \frac{72}{300} = 0,24$. On a $p(R) > p(B)$.

Donc l'affirmation est exacte.

Exercice 18

1) L'évènement \bar{S} est décrit comme suit : « on n'obtient aucun 6 »

2) La probabilité de l'évènement \bar{S} est $(\frac{5}{6})^n$

3) On sait que $p(S) + p(\bar{S}) = 1$. Donc $p(S) = 1 - (\frac{5}{6})^n$

On obtient les résultats suivants arrondis au centième.

n	1	2	3	4	5	6	7	8	9
$p(S)$	0,17	0,31	0,42	0,52	0,6	0,67	0,72	0,77	0,81

D'après les calculs ci-dessus, il faut lancer au moins huit dés pour que la probabilité de S soit supérieure à 0,75.

SITUATION D'ÉVALUATION

D'après les données,

- 96 élèves pratiquent uniquement le football ;
 - 60 élèves pratiquent uniquement le rugby.
- 1) La probabilité qu'un élève choisi au hasard pratique uniquement le football est donc : $\frac{96}{350}$ soit environ 0,27
 - 2) La probabilité qu'un élève choisi au hasard pratique uniquement le rugby est donc : $\frac{60}{350}$ soit environ 0,17

La probabilité de pratiquer le football est supérieure à celle de pratiquer le rugby.

Donc l'affirmation de l'élève est justifiée.

6

DERIVATION

SOLUTIONS DES EXERCICES

SITUATION D'APPRENTISSAGE

- CONTEXTE : élaboration de logo par une entreprise
- CIRCONSTANCE : intégrer un logo dans un carré
- TÂCHES : trouver l'emplacement de M sur le carré de sorte que l'aire du logo soit minimale et déterminer cette aire minimale.

(Voir à la fin de la leçon pour une solution)

I- DERIVABILITE

1- Nombre dérivé

Solutions des exercices de fixation

Exercice 1

Calculons $\lim_{h \rightarrow 0} \frac{f(3+h)-f(3)}{h}$. On a $\frac{f(3+h)-f(3)}{h} = -2(6+h)$.

Donc $\lim_{h \rightarrow 0} \frac{f(3+h)-f(3)}{h} = \lim_{h \rightarrow 0} -2(6+h) = -12$. La limite du taux existe et est finie. Donc f est dérivable en 3 et $f'(3) = -12$.

Exercice 2

Calculons $\lim_{h \rightarrow 0} \frac{f(0+h)-f(0)}{h}$. On a $\frac{f(0+h)-f(0)}{h} = \frac{1}{\sqrt{h}}$ après calculs. Donc

$$\lim_{h \rightarrow 0} \frac{f(0+h)-f(0)}{h} = \lim_{h \rightarrow 0} \frac{1}{\sqrt{h}} = +\infty.$$

La limite du taux existe mais elle est infinie. Donc f n'est pas dérivable en 0.

Définition 2

Solution de l'exercice de fixation

- 1) La fonction sinus est dérivable sur \mathbb{R} . Donc

$$\lim_{x \rightarrow 0} \frac{\sin x}{x} = \lim_{x \rightarrow 0} \frac{\sin x - \sin 0}{x - 0} = (\sin)'(0)$$

$$\text{Or } \cos 0 = 1. \text{ Donc } \lim_{x \rightarrow 0} \frac{\sin x}{x} = 1$$

- 2) La fonction tangente est dérivable sur $\left] -\frac{\pi}{2}; \frac{\pi}{2} \right[$.

$$\text{Donc } \lim_{x \rightarrow 0} \frac{\tan x}{x} = \lim_{x \rightarrow 0} \frac{\tan x - \tan 0}{x - 0} = (\tan)'(0) = 1 + \tan^2 0 = 1. \text{ Donc}$$

$$\lim_{x \rightarrow 0} \frac{\tan x}{x} = 1$$

- 1) $\lim_{h \rightarrow 0} \frac{\cos\left(\frac{h+\pi}{3}\right) - \frac{1}{2}}{h} = \lim_{h \rightarrow 0} \frac{\cos\left(\frac{h+\pi}{3}\right) - \cos\left(\frac{\pi}{3}\right)}{h} = (\cos)' \left(\frac{\pi}{3}\right) = -\sin\left(\frac{\pi}{3}\right) = -\frac{\sqrt{3}}{2}$

2- Dérivabilité et continuité

3- Interprétation graphique du nombre dérivé

Solution des exercices de fixation

Exercice 1

- 1) Il suffit de calculer $\lim_{h \rightarrow 0} \frac{f(-1+h) - f(-3)}{h}$. On a $\frac{f(-1+h) - f(-3)}{h} = \frac{3}{-1+h}$
d'où

$$\lim_{h \rightarrow 0} \frac{f(-1+h) - f(-3)}{h} = \lim_{h \rightarrow 0} \frac{3}{-1+h} = -3. \text{ La limite du taux existe et est}$$

finie. Donc la fonction f est dérivable en -1 et $f'(-1) = -3$

- 2) La fonction f étant dérivable en -1 , sa courbe représentative admet au point d'abscisse -1 une tangente d'équation : $y - f(-1) = f'(-1)(x + 1)$. Soit $y = -3x - 6$.

Exercice 2

- 1) La tangente à la courbe représentative de f a une équation de la forme $y = mx + b$; elle n'est donc pas parallèle à l'axe des ordonnées. Il en résulte que la fonction est dérivable en -5 .
- 2) $f'(-5)$ est égale au coefficient directeur de cette tangente. C'est-à-dire que $f'(-5) = -1$.

Ensuite $y = -x + 6$ s'écrit également : $y = -1(x + 5) + 11$ donc $f(-5) = 11$

II- FONCTION DERIVEE

1- Définition

2- Tableau de fonctions dérivées de fonctions élémentaires

3- Opérations sur les fonctions dérivées

Solutions des exercices de fixation

Exercice 1

- 1) $f'(x) = \frac{1}{\sqrt{x}} - \frac{3}{x^4}$
- 2) $f'(x) = -18x^5 - \sin x$
- 3) $f'(x) = 10x + 1$

Exercice 2

- 1) $f'(x) = 5 + 6(2x + 3)^2$
- 2) $f'(x) = \frac{-1}{(-x+1)^2}$
- 3) $f'(x) = \frac{-6}{(6x+7)^2}$
- 4) $f'(x) = (x + 5)(9x + 23)$
- 5) $f'(x) = -20(-x + 10)^{19}$

4- Dérivée de fonction du type : $x \mapsto f(ax + b)$

Solution de l'exercice de fixation

Exercice 1

- 1) $f(x) = g(2x - 9)$ où $g(x) = \sqrt{x}$. On a $g'(x) = \frac{1}{\sqrt{x}}$ d'où $f'(x) = 2g'(2x - 9) = \frac{2}{2\sqrt{2x-9}}$
Soit $f'(x) = \frac{1}{\sqrt{2x-9}}$
- 2) $f(x) = g(-5x + 2)$ où $g(x) = -\cos x$. On a $g'(x) = \sin x$
d'où $f'(x) = -5g'(-x + 2) = -5\sin(-5x + 2)$.
Soit $f'(x) = -5\sin(-5x + 2)$
- 3) $f(x) = g\left(-x + \frac{\pi}{6}\right)$ où $g(x) = \sin x$. On a $g'(x) = \cos x$ d'où

$$f'(x) = -g' \left(-x + \frac{\pi}{6} \right) = -\cos \left(-x + \frac{\pi}{6} \right)$$

$$\text{Soit } f'(x) = -\cos \left(-x + \frac{\pi}{6} \right)$$

5. fonction dérivée et sens de variation

Solutions des exercices de fixation

Exercice 1

$\forall x \in]-1; 1[\cup]2; 3[$, $f'(x) \leq 0$. La fonction f est donc décroissante sur $]-1; 1[$ puis sur $]2; 3[$

$\forall x \in]1; 2[$, $f'(x) \geq 0$. La fonction f est donc croissante sur $]1; 2[$.

Exercice 2

Pour tout x de \mathbb{R} , $f'(x) = 2(x - 1)^2$. Pour tout x de \mathbb{R} , $f'(x) \geq 0$ donc la fonction f est croissante sur \mathbb{R} .

6. Extremum relatif

Solutions des exercices de fixation

Exercice 1

- La fonction dérivée de f s'annule en $1,5$;
- La fonction dérivée de f est négative sur $] -3; 1,5[$ et positive sur $]1,5; +\infty[$.

Donc la fonction admet un extremum relatif en $1,5$. Cet extremum relatif est un minimum relatif et sa valeur est -2 . En fait il s'agit d'un minimum relatif.

Exercice 2

La fonction dérivée de f s'annule en -5 ; est positive sur $] -\infty; -5[$ et positive sur $] -5; 3[$.

Donc la fonction f n'admet pas d'extremum relatif en -5 .

SOLUTION DE LA SITUATION D'APPRENTISSAGE

Soit x la distance AM , c'est le côté du petit carré en gris ; le triangle en gris intérieur au grand carré est isocèle rectangle de côtés perpendiculaires de mesure $10 - x$.

L'aire du logo est donc : $\mathcal{A}(x) = x^2 + \frac{(10-x)^2}{2}$ soit $\mathcal{A}(x) = \frac{3x^2 - 20x + 100}{2}$.

Pour tout x de $]0 ; 10[$, $\mathcal{A}'(x) = \frac{6x-20}{2}$. La fonction \mathcal{A}' s'annule en $\frac{10}{3}$; elle est négative sur l'intervalle $]0 ; \frac{10}{3}[$ et positive sur l'intervalle $]\frac{10}{3} ; 10[$. La fonction aire \mathcal{A} admet donc un minimum en $\frac{10}{3}$; ce minimum est en $\frac{100}{3}$.

En conclusion : le logo occupe une distance minimale dans le carré si M est placé au tiers de $[AD]$ et dans ce cas, son aire est égale à $\frac{100}{3} \text{ cm}^2$ soit environ $33,3 \text{ cm}^2$.

SOLUTIONS DES EXERCICES DE RENFORCEMENT / D'APPROFONDISSEMENT

Exercice 1

Les fonctions sinus, cosinus, et carrée sont dérivables en 0.

Les fonctions $x \mapsto \sqrt{x}$, $x \mapsto \frac{1}{x}$ et $x \mapsto \frac{1}{x(x-1)}$ de \mathbb{R} vers \mathbb{R} sont non dérivables en 0.

Exercice 2

Il suffit de calculer $\lim_{h \rightarrow 0} \frac{f(0+h) - f(0)}{h}$. On a pour tout h non nul,

$$\frac{f(0+h) - f(0)}{h} = \frac{2}{3(h+3)}.$$

Donc $\lim_{h \rightarrow 0} \frac{f(0+h) - f(0)}{h} = \lim_{h \rightarrow 0} \frac{2}{3(h+3)} = \frac{2}{9}$. Donc f est dérivable en 0 et $f'(0) = \frac{2}{9}$.

Exercice 3

Cet élève s'est effectivement trompé. En effet la dérivée de la fonction $\frac{1}{f}$ est $-\frac{f'}{f^2}$ cette formule est générale. Appliquée à $\frac{1}{x}$ elle donne $\frac{-1}{x^2}$; appliquée à $\frac{1}{7x+1}$, elle donne $-\frac{7}{(7x+1)^2}$. Donc la dérivée de $\frac{1}{7x+1}$ est $-\frac{7}{(7x+1)^2}$

Exercice 4

- 1) FAUX car d'après une propriété du cours, $(fg)' = f'g + fg'$
- 2) FAUX car la fonction f de \mathbb{R} vers \mathbb{R} définie par : $f(x) = (x - 1)^3$ a pour dérivée $f'(x) = 3(x - 1)^2$, vérifie $f'(1) = 0$ et pourtant f n'admet pas d'extremum en 1 car sa fonction dérivée garde un signe constant.
- 3) FAUX car la fonction $x \mapsto \sqrt{-x}$ est une fonction du type $x \mapsto f(ax + b)$ avec $f(x) = \sqrt{x}$ et $a = -1$; $b = 0$. Sa dérivée est donc $\frac{-1}{2\sqrt{-x}}$
- 4) FAUX car la fonction racine carrée est continue en 0 mais elle n'est pas dérivable en 0
- 5) VRAI d'après une propriété du cours
- 6) FAUX car la dérivée de $\cos(2x)$ est $-2\sin(2x)$
- 7) VRAI d'après le cours

Exercice 5

Déterminons le coefficient directeur de la tangente. $x + 2y + 7 = 0 \Leftrightarrow y = -\frac{1}{2}x - \frac{7}{2}$. Le coefficient directeur de cette tangente est : $\frac{-1}{2}$. Cette tangente n'est pas parallèle à l'axe des ordonnées. Donc f est dérivable en 1 et $f'(1) = \frac{-1}{2}$. Ensuite $y = -\frac{1}{2}(x - 1) - 4$ donc $f(1) = -4$.

Exercice 6

- 1) On a $\lim_{h \rightarrow 0} \frac{f(2+h) - f(2)}{h} = \lim_{h \rightarrow 0} \frac{h^2 + 5h + 3}{1+h} = 3$. Donc f est dérivable en 2 et $f'(2) = 3$
- 2) Une équation de la tangente est $y = 3x - 1$

Exercice 7

- 1) Aux points A et B les tangentes sont parallèles à l'axe des abscisses. Donc $f'(0) = 0$ et $f'(2) = 0$
Au point C la tangente est oblique ; on utilise la méthode graphique de détermination de la pente d'une droite. La pente est donc 3. Donc $f'(-1) = 3$.
- 2) En A une équation de la tangente est $y = 1$ en B une équation de la tangente est $y = -3$
En C une équation est $y = 3(x + 1) - 1$ soit $y = 3x + 2$

Exercice 8

- 1) $f'(x) = 4\cos\left(2x - \frac{\pi}{3}\right)$
- 2) $f'(x) = 1 + \tan^2 x = \frac{1}{\cos^2 x}$
- 3) $f'(x) = 4x^3 - 6x + 7$
- 4) $f'(x) = \frac{\frac{1}{2}}{2\sqrt{\frac{x}{2}}} = \frac{\sqrt{2x}}{4x}$
- 5) $f'(x) = \frac{-3\sin x}{(2\cos x + 1)^2}$

Exercice 9

Soit f une paire et dérivable.

On a pour tout x de E , $f(-x) = f(x)$. En dérivant chaque membre, on obtient $-f'(-x) = f'(x)$ ou encore

$f'(-x) = -f'(x)$. Ce qui prouve f' est impaire.

Exercice 10

- 1) La fonction est décroissante sur les intervalles : $]-\infty; 1[$ et $]3; 5[$.
Elle est croissante sur les intervalles $]1; 3[$ et $]5; +\infty[$.
- 2) Tableau de variation de f

x	$-\infty$	1	3	5	$+\infty$
f'(x)	-	+	0	+	
f(x)	$+\infty$	0	4	0	$+\infty$

Exercice 11

- 1) $f'(x) = 3 + \frac{2x}{(x^2+1)^2}$. Donc $f'(-1) = \frac{5}{2}$
- 2) $f'(x) = \frac{1}{\sqrt{2x+7}}$. Donc $f'(x) = \frac{\sqrt{7}}{7}$
- 3) $f'(x) = 2 \cos(2x) + \sin x$. Donc $f'(-\frac{\pi}{6}) = \frac{1}{2}$

Exercice 12

- 1) $h = 5,4 - l$ et $L = 11 - l$
- 2) Le volume d'un parallélépipède rectangle est donné par la formule $V = Llh$ ce qui donne en remplaçant,
 $V = l(59,4 + 16,4l + l^2)$.
- 3) Pour tout x de $]1; 4[$: $f(x) = x^3 - 16,4x^2 + 59,4x$
 - a) $f'(x) = 3x^2 - 32,8x + 59,4$; donc la valeurs approchée au dixième du zéro contenu dans $]1; 4[$ est : 3m.
La fonction f est croissante sur $]1; 3[$ et décroissante sur $]3; 4[$ et puis $f'(x)$ change de signes sur les deux intervalles.
 - b) Il en résulte de f admet un maximum relatif en 3 ; ce maximum est d'environ 62.
- 4) De ce qui précède, le volume du conteneur est maximal pour $l = 3m$; $L = 8m$ et $h = 2,4m$. Le volume maximal du conteneur est $57,6m^3$

Exercice 13

Selon la courbe, la valeur minimale de la consommation est de 6 litres, atteints pour une vitesse moyenne 50 km/h

Exercice 14

- 1) Les dimensions de la boîte sont $h = x$; $L = 20 - 2x$ et $l = 15 - 2x$
- 2) Le volume est donc $V = x(15 - 2x)(20 - 2x)$ ce qui donne la relation

$$V(x) = 4x^3 - 70x^2 + 300x$$

Etudions les variations de la fonction $V(x)$. $V'(x) = 4(3x^2 - 35x + 150)$. On doit avoir $15 - 2x \geq 0$ et $20 - 2x \geq 0$ soit $x \in]0; 7,5[$

La fonction dérivée s'annule en 2,8 (arrondi au dixième)

Le tableau de variation de V est donc :

x	0	2,8	7,5
$V'(x)$	+	0	-
$V(x)$	0	537,1	0

D'après cette étude, si on enlève un carré de 2,8 cm dans chaque coin, on obtiendra une boîte de volume maximale égale à environ 537cm^2

Exercice 15

Posons $A(x; 0)$ alors $B(x; \sqrt{9-x})$. L'aire du triangle OAB est donc $\frac{x\sqrt{9-x}}{2}$

Soit pour tout x de $[0; 9]$, $f(x) = \frac{x\sqrt{9-x}}{2}$. On a $f'(x) = \frac{18-3x}{4\sqrt{9-x}}$; la fonction f est croissante sur $]0; 6[$ et décroissante sur $]6; 9[$; $f'(6) = 0$ et f' change de signe sur chacun des intervalles.

Donc f possède un maximum relatif en 6 qui est $3\sqrt{3}$.

En conclusion l'aire du triangle est maximale si A possède l'abscisse $3\sqrt{3}$

SOLUTION DE LA SITUATION D'ÉVALUATION

Soit x le côté du carré. De part et d'autre du côté du carré on enlève $2x$. donc l'aire de la base de la boîte est égale $\mathcal{A}(x) = (1,2 - 2x)^2$.
 Ensuite la hauteur de la boîte est x . Donc le volume de la boîte égal à : $\mathcal{V}(x) = x(1,2 - 2x)^2$.
 Etudions le sens de variation de la fonction volume définie sur l'intervalle $]0; 1,2[$ par : $\mathcal{V}(x) = x(1,2 - 2x)^2$. Pour tout x de $]0; 1,2[$, $\mathcal{V}'(x) = (1,2 - 2x)(1,2 - 6x)$ le tableau de variation est

x	0	0,2	0,6	1,2
$\mathcal{V}'(x)$		0	0	
	+		-	+
$\mathcal{V}(x)$	0	0,128	0	1,728

Selon cette étude, le volume de la boîte est maximal si $x = 0,2$ m.

Ce qui donne les dimensions suivantes de la boîte : hauteur : 0,2m ;
 largeur = longueur = 0,8 m.

SOLUTIONS DES EXERCICES DE BARYCENTRE

7

SITUATION D'APPRENTISSAGE

- CONTEXTE : entrepreneuriat ;
- CIRCONSTANCE : fabrique d'un dispositif pour suspendre trois objets ;
- TACHE : Trouver en fonction des masses des objets, le point d'attache du dispositif pour qu'il reste en équilibre.

BARYCENTRE DE TROIS POINTS

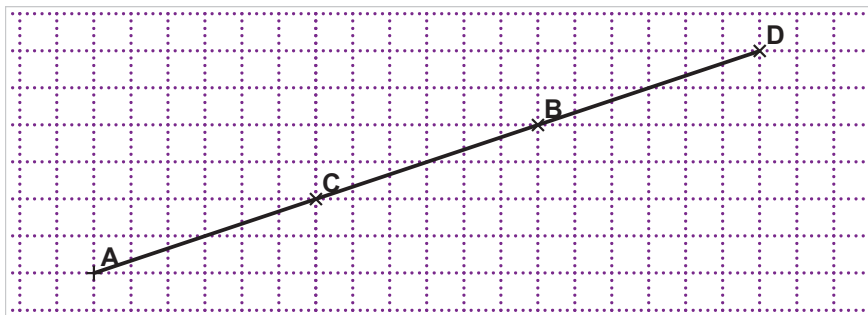
1- Propriété et définition

Solution l'exercice de fixation

- 1) $\overrightarrow{AB} - 3\overrightarrow{BG} = \vec{0} \Leftrightarrow -\overrightarrow{GA} + 4\overrightarrow{GB} = \vec{0}$. Donc $a = -1$ et $b = 4$
- 2) $2\overrightarrow{GA} + \overrightarrow{BG} = 2\overrightarrow{GB} \Leftrightarrow 2\overrightarrow{GA} - 3\overrightarrow{GB} = \vec{0}$. Donc $a = 2$ et $b = -3$
- 3) $-4\overrightarrow{AB} + 9\overrightarrow{GB} = \vec{0} \Leftrightarrow 4\overrightarrow{GA} + 5\overrightarrow{GB} = \vec{0}$. Donc $a = 4$ et $b = 5$

Propriété 2

Solution de l'exercice de fixation



- 1) $B = \text{bar}\{(A, 1); (D, 2)\}$
- 2) $A = \text{bar}\{(C, 2); (B; -1)\}$

Propriété 3

Solution de l'exercice de fixation

Les points A, B et C sont non alignés. Donc (ABC) est bien un plan. Ensuite G étant le centre de gravité du triangle ABC, est l'isobarycentre de A, B et C. donc G appartient au plan (ABC).

2- Propriétés

Propriété 1 : homogénéité

Solution de l'Exercice de fixation

On utilise la propriété de l'homogénéité avec le coefficient $k = -6$

Propriété 2 : réduction

Solution de l'exercice de fixation

On obtient : $\overrightarrow{KP} + 5\overrightarrow{KL} - 3\overrightarrow{KC} = (1 + 5 - 3)\overrightarrow{KF}$; soit $\overrightarrow{KP} + 5\overrightarrow{KL} - 3\overrightarrow{KC} = 3\overrightarrow{KF}$

Propriété 3 : le barycentre partiel (ou associativité du barycentre)

Solution de l'exercice de fixation

En utilisant la propriété du barycentre partiel ; on obtient : $M = \text{bar}\{(B, -3); (J, 4)\}$

Propriété 4 : les coordonnées du barycentre

Solution de l'exercice de fixation

On obtient : $E\left(\frac{7}{2}; \frac{5}{2}\right)$

Propriété 5 : caractérisation vectorielle du milieu d'un segment

Solution de l'exercice de fixation

$-\overrightarrow{AB} + 2\overrightarrow{AC} = \vec{0} \Leftrightarrow \overrightarrow{CA} + \overrightarrow{CB} = \vec{0}$. Donc C est le milieu du segment $[AB]$.

Propriété 6 : caractérisation vectorielle du centre de gravité d'un triangle

Solution de l'exercice de fixation :

On a $A = \text{bar}\{(G, -3); (I, 2)\} \Leftrightarrow G = \text{bar}\{(A, 1); (I, 2)\} \Leftrightarrow G = \text{bar}\{(A, 1); (B, 1); (C, 1)\}$ car I est le milieu de $[BC]$.

SOLUTION DE LA SITUATION D'APPRENTISSAGE

D'après nos connaissances sur le barycentre, pour que le dispositif soit en équilibre, il suffit de mettre une pointe au point, barycentre des points pondérés $(A, m_a); (B, m_b); (C, m_c)$.

EXERCICES DE RENFORCEMENT/APPROFONDISSEMENT

Solution de l'exercice 1 (solutions en vert)

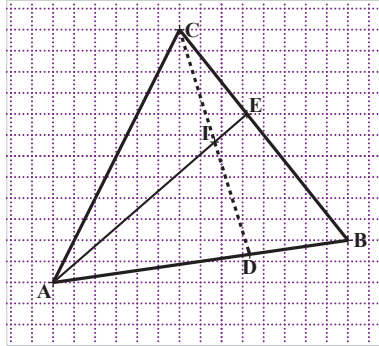
N°	QUESTIONS	PROPOSITIONS DE REPONSE		
		A	B	C
1	Si $-3\overrightarrow{BC} + 2\overrightarrow{AB} = \vec{0}$ alors B est le barycentre de :	$\{(C, -3; (A, 2))\}$	$\{(C, 3; (A, -2))\}$	$\{(C, -3; (A, -2))\}$
2	Si $\overrightarrow{GM} = \frac{-3}{4}\overrightarrow{GK}$ alors M est le barycentre de :	$\{(K, 3; (G, -7))\}$	$\{(K, -3; (G, 4))\}$	$\{(K, -3; (G, 1))\}$
3	Si $K = \text{bar}\{(A, 3); (C, -1)\}$ alors :	$\overrightarrow{CK} = \frac{3}{2}\overrightarrow{CA}$	$\overrightarrow{CK} = \frac{-1}{2}\overrightarrow{CA}$	$\overrightarrow{CK} = -3\overrightarrow{CA}$
4	Si $G = \text{bar}\{(E, -5); (F, -2)\}$ alors G est le barycentre de	$\{(E, -3; (F, -7))\}$	$\{(E, 5; (F, 2))\}$	$\{(E, -3; (F, 7))\}$
5	On donne : $A(0 ; 1) ; D(6 ; 5)$ et $G = \text{bar}\{(A, 5); (B, -3)\}$ Alors les coordonnées de G sont	$(6 ; 6)$	$(-9 ; -5)$	$(5 ; -3)$
6	$\overrightarrow{AG} = -\frac{3}{5}\overrightarrow{AB} + \frac{6}{5}\overrightarrow{AC}$. Alors G est le barycentre de	$(A, 2) ; (B, -3)$ et $(C, 6)$	$(A, 5) ; (B, -3)$ et $(C, 6)$	$(A, -3) ; (B, 5)$ et $(C, 6)$
7	Si $\overrightarrow{AG} = -3\overrightarrow{AB} + \frac{1}{2}\overrightarrow{AC}$ alors G est le barycentre de	$(A, 1) ; (B, -3) ; (C, \frac{1}{2})$	$(A, 1) ; (B, -3) ; (C, 2)$	$(A, 7) ; (B, -6) ; (C, 1)$

Solution de l'exercice 2

- 1) Le barycentre de $(A, 6)$ et $(C, -9)$ est le même que le barycentre de $(A, -2)$ et $(C, 3)$**VRAI**...
- 2) Le système de points pondérés $\{(A, 2); (B, 3); (C, -5)\}$ admet un barycentre.....**FAUX car la somme des coefficients est nulle**
- 3) Si un point G est un barycentre des points A, B, C alors G est aligné avec les points A, B, C...**FAUX car les points A, B et C peuvent être les sommets d'un triangle**
- 4) L'isobarycentre de deux points distincts A et B est le milieu du segment $[AB]$**VRAI d'après la caractérisation vectorielle du milieu d'un segment**
- 5) Le vecteur $-5\overrightarrow{MA} + 3\overrightarrow{MB} + 2\overrightarrow{MC}$ est indépendant du point M.....**VRAI car la somme des coefficients des points pondérés (A,-5) ; (B,3) et (C,2) est nulle**
- 6) Si $G = \text{bar}\{(A, -10); (B, 7)\}$ alors A appartient à la droite (GB).....**VRAI car $\overrightarrow{AG} = -\frac{7}{3}\overrightarrow{AB}$ càd que les points A, G et B sont alignés.**
- 7) Si $I = \text{bar}\{(A, 650); (B, 650)\}$ alors I est le milieu de $[AB]$**VRAI car $I = \text{bar}\{(A, 1); (B, 1)\}$**
- 8) Si $\overrightarrow{PG} = \frac{-1}{3}\overrightarrow{PQ}$ alors $G = \text{bar}\{(P, 4); (Q, -1)\}$
VRAI car $\overrightarrow{PG} = \frac{-1}{3}\overrightarrow{PQ} \Leftrightarrow \overrightarrow{PG} = \frac{-1}{-1+4}\overrightarrow{PQ} \Leftrightarrow G = \text{bar}\{(P, 4); (Q, -1)\}$.
- 9) Si $K = \text{bar}\{(M, 2); (N, -5)\}$ alors $N = \text{bar}\{(K, 3); (M, 2)\}$
VRAI car $K = \text{bar}\{(M, 2); (N, -5)\} \Leftrightarrow 2\overrightarrow{KM} - 5\overrightarrow{KN} = \vec{0} \Leftrightarrow 2\overrightarrow{NM} + 3\overrightarrow{NK} = \vec{0}$
- 10) $\overrightarrow{AL} = \frac{2}{3}\overrightarrow{AF}$ si et seulement si $F = \text{bar}\{(L, -3); (A, 1)\}$**VRAI car $\overrightarrow{AL} = \frac{2}{3}\overrightarrow{AF} \Leftrightarrow -3\overrightarrow{FL} + \overrightarrow{FA} = \vec{0}$**

Solution de l'exercice 3

1)



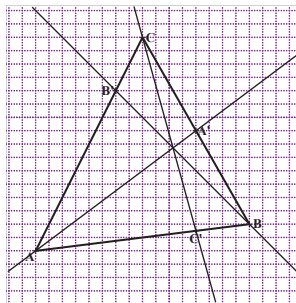
2) $D = \text{bar}\{(B, 2); (C, 1)\} \Leftrightarrow B = \text{bar}\{(D, 3); (A, -1)\}$. Donc $E = \text{bar}\{(C, 3); (D, 3); (A, -1)\}$.

Donc $E = \text{bar}\{(I, 6)(A, -1)\}$ car I est le milieu de $[CD]$. Les points A, I et E sont donc alignés.

Solution de l'exercice 4

1) On a d'après les relations vectorielles, $A' = \text{bar}\{(B, 1); (C, 1)\}$; $B' = \text{bar}\{(A, 1); (C, 3)\}$ et $C' = \text{bar}\{(A, 1); (B, 3)\}$

2) Considérons le point $K = \text{bar}\{(C', 4); (C, 3)\}$. Donc $K \in (CC')$. Ensuite par application de la propriété du barycentre partiel, $K = \text{bar}\{(A', 6); (A, 1)\}$; donc $K \in (AA')$.



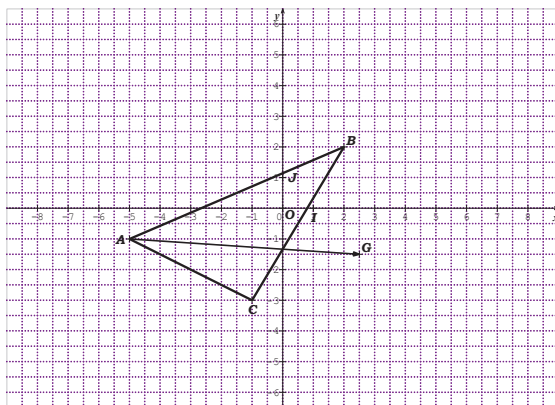
Les droites (AA') , (BB') et (CC') sont donc concourantes.

Solution de l'exercice 5

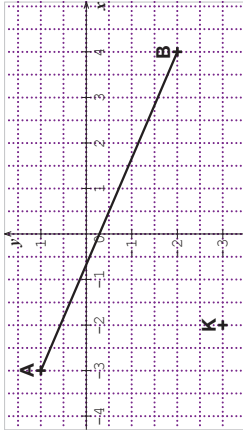
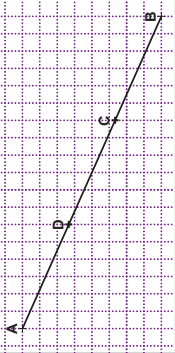
On a $G = \text{bar}\{(A, 1); (B, 1); (C, 1)\} = \text{bar}\{(A, 1); (A', 2)\} = \text{bar}\{((C'2); (C, 1))\}$. Donc G appartient aux médianes (AA') et (CC'). G est donc le centre de gravité du triangle ABC.

Solution de l'exercice 6

- 1) On a $\overrightarrow{AB} \begin{pmatrix} 7 \\ 3 \end{pmatrix}$ et $\overrightarrow{AC} \begin{pmatrix} 4 \\ -2 \end{pmatrix}$ puis $\det(\overrightarrow{AB}, \overrightarrow{AC}) = -26 \neq 0$. Les points A, B et C sont donc non alignés.
- 2) On obtient :
 - a) Dans (A, B, C). On a $\overrightarrow{AG} = \frac{1}{2}\overrightarrow{AB} + \overrightarrow{AC}$. Donc $G(\frac{1}{2}, 1)$
 - b) Dans (O, I, J), $G(\frac{5}{2}, -\frac{3}{2})$
- 3) On obtient la représentation graphique ci-dessous.

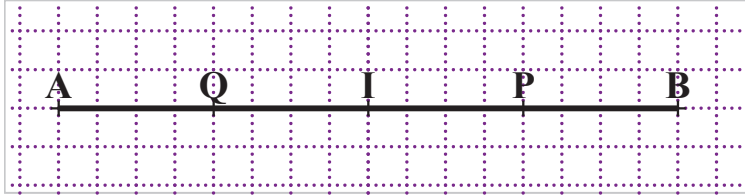


Solution de l'exercice 7

N° Propositions	Réponse VRAI/FAUX	Justifications
<p>1 Le point K est un barycentre de A et B.</p> 	<p>.....FAUX.....</p>	<p>Les points A, K et B ne sont pas alignés</p>
<p>2 Le point G tel que : $2\vec{GA} - \vec{BG} - \vec{CG} = \vec{0}$ est un barycentre des points A, B et C</p>	<p>FAUX</p>	<p>La somme des coefficients des points pondérés (A,2) ; (B,-1) et (C,-1) est nulle.</p>
<p>3 Sur une droite régulièrement graduée, on a disposé les points A, B, C et D.</p> <ul style="list-style-type: none"> • $A = \text{bar}\{(D, 1)(B, 3)\}$ • $C = \text{bar}\{(D, 1)(B, 1)\}$ • $D = \text{bar}\{(A, 2)(B, 1)\}$ 	<p>.....FAUX..... VRAI..... VRAI..... </p>	<p>Car $A = \text{bar}\{(D, 3); (B, -1)\}$ Car C est le milieu du segment [BD]. Par application de la définition.</p>
<p>4 Si $m \neq -4$ alors les points pondérés (A, m) ; (B, 1) et (C, 3) admettent un barycentre</p>	<p>.....VRAI..... </p>	<p>Car $m + 1 + 3 \neq 0$</p>

Solution de l'exercice 8

- 1) On sait que $\overrightarrow{IA} + 3\overrightarrow{IB} = 4\overrightarrow{IP}$ et $3\overrightarrow{IA} + \overrightarrow{IB} = 4\overrightarrow{IQ}$. L'addition membre à membre donne $4\overrightarrow{IA} + 4\overrightarrow{IB} = 4\overrightarrow{IP} + 4\overrightarrow{IQ}$. Or $4\overrightarrow{IA} + 4\overrightarrow{IB} = \vec{0}$ car I est le milieu de [AB]. Donc $4\overrightarrow{IP} + 4\overrightarrow{IQ} = \vec{0}$ ou $\overrightarrow{IP} + \overrightarrow{IQ} = \vec{0}$ par conséquent I est le milieu de [PQ].
- 2) Trace le segment [AB] puis construis les points I, P et Q



Solution de l'exercice 9

- 1) On écrit $\overrightarrow{OA} + b\overrightarrow{OB} + c\overrightarrow{OC} = (a + b + c)\overrightarrow{OG} + a\overrightarrow{GA} + b\overrightarrow{GB} + c\overrightarrow{GC}$. Or $a\overrightarrow{GA} + b\overrightarrow{GB} + c\overrightarrow{GC} = \vec{0}$. D'où le résultat.
- 2) Le vecteur $a\overrightarrow{OA} + b\overrightarrow{OB} + c\overrightarrow{OC}$ a pour coordonnées $(ax_A + bx_B + cx_C; ay_A + by_B + cy_C)$. On sait que $a + b + c \neq 0$; donc le point G a pour coordonnées $\left(\frac{ax_A + bx_B + cx_C}{a+b+c}; \frac{ay_A + by_B + cy_C}{a+b+c}\right)$

Solution de l'exercice 10

Le vecteur $2\overrightarrow{MA} + 3\overrightarrow{MB} - m\overrightarrow{MC}$ est indépendant de m si et seulement si $2 + 3 + m = 0$.

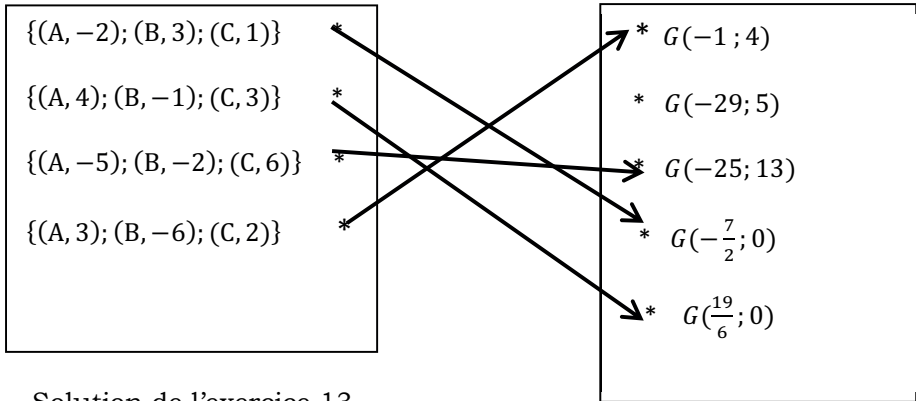
Donc le $2\overrightarrow{MA} + 3\overrightarrow{MB} - m\overrightarrow{MC}$ est indépendant de m si et seulement si $m = -5$

Solution de l'exercice 11

On sait O est le milieu de [AC] et [BD].

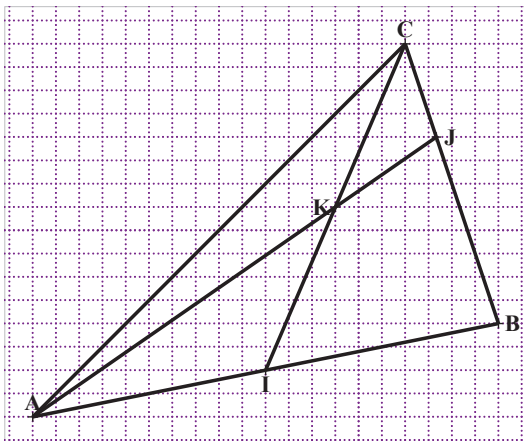
Donc $\overrightarrow{MA} + \overrightarrow{MC} + \overrightarrow{MB} + \overrightarrow{MD} = 2\overrightarrow{MO} + 2\overrightarrow{MO}$. D'où le résultat

Solution de l'exercice 12



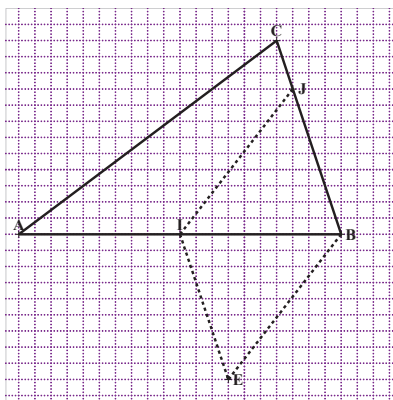
Solution de l'exercice 13

- 1) Par application de la propriété du barycentre partiel, $K = \text{bar}\{(I, 2); (C, 2)\}$ puis de la propriété d'homogénéité, on obtient : $K = \text{bar}\{(I, 1); (C, 1)\}$ d'où le résultat.
- 2)
 - a) Du fait que $J = \text{bar}\{(A, -1); (K, 4)\}$, on a $J \in (AK)$.
Ensuite $J = \text{bar}\{(A, -1); (A, 1); (B, 1); (C, 2)\}$ soit
 $J = \text{bar}\{(B, 1); (C, 2)\}$. Donc $J \in (BC)$
 - b) Après avoir construit I le milieu de $[AB]$, on construit le point K milieu de $[IC]$.
Enfin on construit J le point d'intersection des droites (AK) et (BC) .



Solution de l'exercice 14

1)



2) On sait que $\overrightarrow{BJ} = \frac{3}{4}\overrightarrow{BC}$, il suffit donc de démontrer que

$$\overrightarrow{EI} = \frac{3}{4}\overrightarrow{BC}.$$

Remarquons que $2\overrightarrow{AI} + 5\overrightarrow{BI} - 3\overrightarrow{CI} = 4\overrightarrow{EI}$. D'autre part,

$$2\overrightarrow{AI} + 5\overrightarrow{BI} - 3\overrightarrow{CI} = \overrightarrow{AB} - \frac{5}{2}\overrightarrow{AB} - 3\overrightarrow{IC}.$$

Donc $2\overrightarrow{AI} + 5\overrightarrow{BI} - 3\overrightarrow{CI} = -\frac{3}{2}\overrightarrow{AB} + \frac{3}{2}\overrightarrow{AB} - 3\overrightarrow{CB} = 3\overrightarrow{BC}$. Donc $4\overrightarrow{EI} = 3\overrightarrow{BC}$
c'est-à-dire $\overrightarrow{EI} = \frac{3}{4}\overrightarrow{BC}$.

Donc BJIE est un parallélogramme.

3) E est donc le quatrième sommet du parallélogramme BJIE

Solution de l'exercice 15

$$1) G = \text{bar}\{(A, 4); (B, -1); (B, -1)\} = \text{bar}\{(A, 4); (I, -2)\} = \text{bar}\{(A, 2); (I, -1)\}.$$

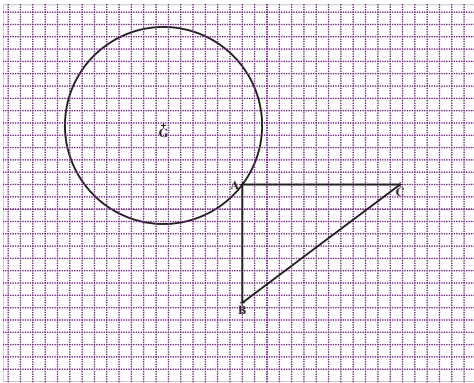
On peut donc écrire : $2\overrightarrow{GA} - \overrightarrow{GI} = \vec{0}$, ce qui entraîne $\overrightarrow{AI} + \overrightarrow{AG} = \vec{0}$.
Donc A est le milieu du segment [GI]. D'où le résultat.

2) Déduis-en la construction de G.

On construit G, symétrique de I par rapport à A.

3)

- a) On a $4\overrightarrow{AA}^2 - \overrightarrow{AB}^2 - \overrightarrow{AC}^2 = -(AB^2 + AC^2) = -64$. Donc A appartient à l'ensemble (E).
- b) L'ensemble (E) est soit un cercle, soit un singleton soit l'ensemble vide. (E) n'est pas vide car il contient A, ce n'est pas un singleton car $A \neq G$. Donc (E) est le cercle de centre G et de rayon AG.
- c) Construction de l'ensemble (E).

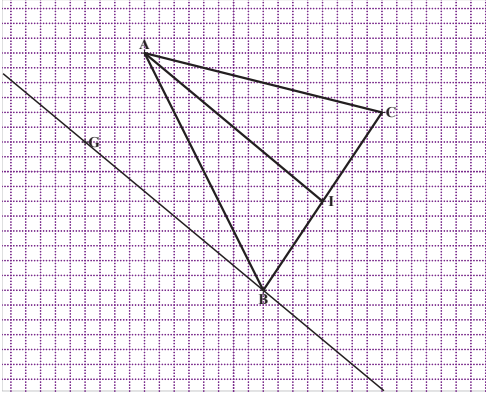


Solution de l'exercice 16

- 1) On a $2\overrightarrow{GA} + \overrightarrow{GB} - \overrightarrow{GC} = \vec{0} \Leftrightarrow \overrightarrow{CB} = -2\overrightarrow{GA}$. Donc les droites (BC) et (GA) sont parallèles.
- 2)
 - a) Par la formule de réduction, on obtient : $\vec{u} = 2\overrightarrow{MG}$. Le vecteur $2\overrightarrow{MA} - \overrightarrow{MB} - \overrightarrow{MC}$ est indépendant de M ; on a donc $2\overrightarrow{MA} - \overrightarrow{MB} - \overrightarrow{MC} = 2\overrightarrow{IA} - \overrightarrow{IB} - \overrightarrow{IC} = 2\overrightarrow{IA}$ car I étant le milieu de [BC], $\overrightarrow{IB} + \overrightarrow{IC} = \vec{0}$. Donc $\vec{v} = 2\overrightarrow{IA}$
 - b) Les vecteurs \vec{u} et \vec{v} sont colinéaires si et seulement si la droite (IA) est parallèle à la droite (MG).

L'ensemble des points M est donc la droite passant par G et parallèle à (IA).

c) Construction de l'ensemble.



Solution de l'exercice 17

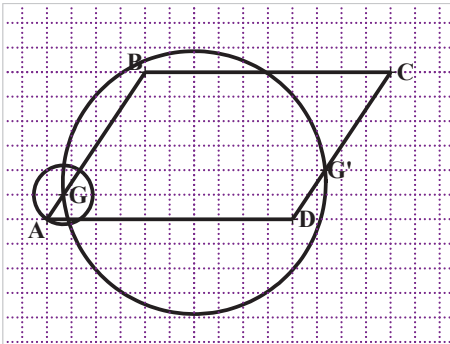
1) On a $\|5\overrightarrow{MA} + \overrightarrow{MB}\| = \|\overrightarrow{MC} - \overrightarrow{MD}\| \Leftrightarrow GM = \frac{CD}{6}$ où $G = \text{bar}\{(A, 5); (B, 1)\}$.

L'ensemble (E_1) est donc le cercle de centre G et de rayon $\frac{CD}{6}$ (ce cercle contient le point A)

2) On a $(5\overrightarrow{MA} + \overrightarrow{MB}) \cdot (\overrightarrow{MC} + 2\overrightarrow{MD}) = 0 \Leftrightarrow (6\overrightarrow{MG}) \cdot (3\overrightarrow{MG}') = 0$ où $G' = \text{bar}\{(C, 1); (D, 2)\}$

L'ensemble (E_2) est donc le cercle de diamètre $[GG']$.

3) Construction des ensembles (E_1) et (E_2)

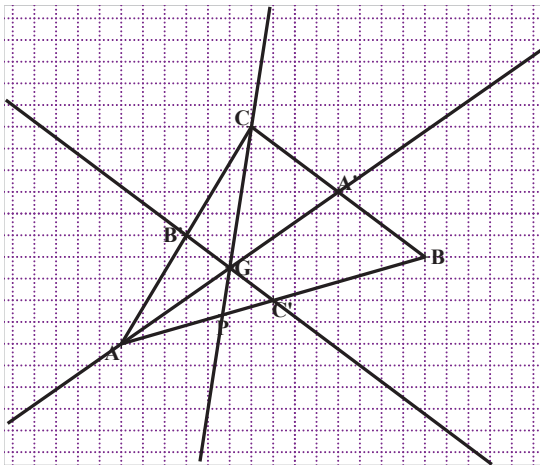


Solution de l'exercice 18

- 1) On sait que $G = \text{bar}\{(P, 3); (C, 1)\}$. Or $P = \text{bar}\{(A, 2); (B, 1)\}$.
Donc $G = \text{bar}\{(A, 2); (B, 1), (C, 1)\}$.

Ce qui permet donc d'écrire que $2\overrightarrow{GA} + \overrightarrow{GB} + \overrightarrow{GC} = \vec{0}$.

- 2) On réécrit $G = \text{bar}\{(A, 2); (B, 1), (C, 1)\}$; donc $G = \text{bar}\{(A, 2); (A', 2)\}$. Donc G est le milieu du segment $[AA']$.
- 3) On réécrit $G = \text{bar}\{(A, 2); (B, 1), (C, 1)\}$; puis $G = \text{bar}\{(A, 1); (A, 1); (B, 1), (C, 1)\}$. En regroupant, on obtient que $G = \text{bar}\{(B', 2); (C', 2)\}$
- 4) D'après ce qui précède, le point G appartient à la fois aux droites (PC), (AA') et (C'B')
- 5) Construction du point G.



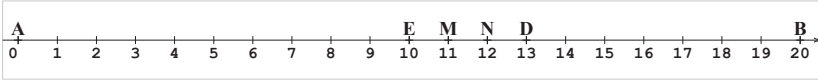
Exercice 19 : barycentre et moyenne

- 1) La moyenne de l'élève est $\bar{X} = \frac{1 \times 13 + 2 \times 10}{1 + 2} = 11$.
- 2) On représente sur un segment de droite $[AB]$ les notes de 0 à 20 (0 en A et 20 en B).

Soit (D,1) et (E,2) deux points pondérés. Sur le segment gradué $[AB]$, le point D a pour abscisse 13 et le point E a pour abscisse 10.

La moyenne est l'abscisse du point M, barycentre de $\{(D, 1); (E, 2)\}$.

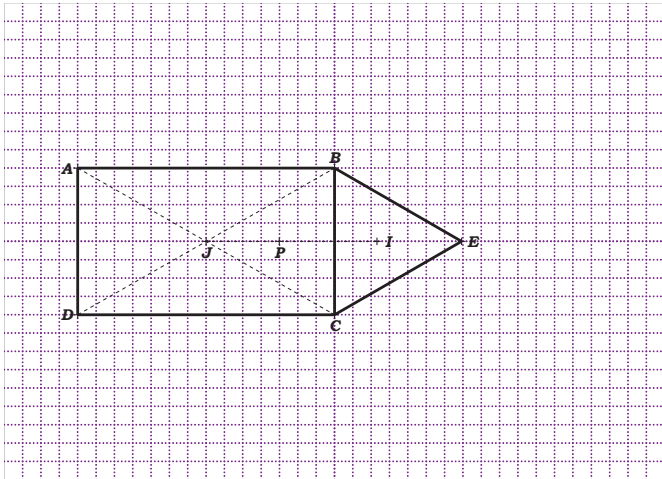
- 3) La moyenne de cet élève est 12 sur 20. Sur la droite graduée D a pour abscisse 13 et E a pour abscisse 10. Le



point N est donc le barycentre $(D, 2)$ et $(E, 1)$.

SOLUTION DE LA SITUATION D’EVALUATION

D’après les notations ci-dessous, soit J l’isobarycentre du rectangle ABCD et I l’isobarycentre du triangle équilatéral CEB. La point du ferronnier sera placée au point P, barycentre des points pondérés $(J, 4)$ et $(I, 3)$. Ce qui donne la construction ci-dessous.



8

EXTENSION DE LA NOTION DE LIMITE

SOLUTIONS DES EXERCICES

SITUATION D'APPRENTISSAGE

- CONTEXTE : Cours de mathématiques dans une classe de 1^{ère}
- CIRCONSTANCE : Droites « particulières » d'une représentation graphique
- TACHE : identification de ces droites : définitions, noms, équations

I- LIMITE INFINIE D'UNE FONCTION REELLE EN UN NOMBRE

1- Limite infinie

2- Limite de fonctions : $x \mapsto \frac{1}{(x-a)^n}$

Solution de l'exercice de fixation

- 1) 8 est un nombre pair par conséquent $\lim_{x \rightarrow 0} \left[\frac{1}{x^8} \right] = +\infty$
- 2) 5 est un nombre impair par conséquent $\lim_{x \rightarrow 0} \frac{1}{x^5} = -\infty$
- 3) 11 est un nombre impaire par conséquent : $\lim_{x \rightarrow -3} \frac{1}{(x+3)^{11}} = -\infty$
- 4) Quel que soit la parité de 5 : $\lim_{x \rightarrow 0} \frac{1}{x^5} = +\infty$
- 5) Quel que soit la parité de 3 : $\lim_{x \rightarrow 1} \frac{1}{(x-1)^3} = +\infty$

3- Asymptote d'équation $x = a$

Solution des exercices de fixation

Exercice 1

Il suffit de calculer $\lim_{x \rightarrow -3} \left[\frac{1}{x+3} \right]$

On a $\lim_{x \rightarrow -3} \left[\frac{1}{x+3} \right] = +\infty$. La droite d'équation $x = -3$ est une asymptote à la courbe (C)

Exercice 2

- 1) On a $\lim_{x \rightarrow 1} f(x) = \lim_{x \rightarrow 1} \frac{1}{(x-1)^2} = +\infty$.
- 2) On a $\lim_{x \rightarrow 1} f(x) = +\infty$. Donc la représentation graphique de f admet une asymptote.
Une équation de cette asymptote est $x = 1$.

Exercice 3

Il s'agit de la figure 3 ; l'équation de l'asymptote est $x = \frac{\pi}{2}$ et de la figure 2, l'équation de l'asymptote est $x = 1$

II- LIMITE A L'INFINI D'UNE FONCTION REELLE

1- Limite finie à l'infinie

Solution de l'exercice de fixation

- 1) $\lim_{x \rightarrow -\infty} (-2) = -2$
- 2) $\lim_{x \rightarrow +\infty} (-80) = -80$
- 3) $\lim_{x \rightarrow -\infty} \frac{1}{x^8} = 0$
- 4) $\lim_{x \rightarrow +\infty} \frac{1}{x^{25}} = 0$

2- Asymptote d'équation $y = b$

Solution des exercices de fixation

Exercice 1

Posons : $f(x) = -3 + \frac{1}{x+1}$

Il suffit de calculer $\lim_{x \rightarrow -\infty} [f(x) + 3]$ et $\lim_{x \rightarrow +\infty} [f(x) + 3]$

On a $f(x) + 3 = \frac{1}{x+1}$; ensuite $\lim_{x \rightarrow -\infty} \frac{1}{x+1} = \lim_{x \rightarrow +\infty} \frac{1}{x+1} = 0$

Donc $\lim_{x \rightarrow -\infty} [f(x) + 3] = 0$ et $\lim_{x \rightarrow +\infty} [f(x) + 3] = 0$. D'où le résultat.

Exercice 2

Il s'agit de :

- la figure 1 l'équation de l'asymptote est $y = 0$
- la figure 3, l'équation de l'asymptote est $y = 3$

III- LIMITE DE FONCTIONS POLYNÔMES ET DE FONCTIONS RATIONNELLES

1- Limite d'une fonction polynôme

Solution de l'exercice de fixation

- 1) $\lim_{x \rightarrow +\infty} (-x^3 + 10x^2 - 10x) = \lim_{x \rightarrow +\infty} -x^3 = -\infty$
- 2) $\lim_{x \rightarrow -\infty} \left(-\frac{4}{3}x^4 + 10x^3 + 20x^2 + 2\right) = \lim_{x \rightarrow -\infty} \left(-\frac{4}{3}x^4\right) = -\infty$
- 3) $\lim_{x \rightarrow -\infty} (x^{18} - 10x^{21} - x + 5) = \lim_{x \rightarrow -\infty} (x^{18}) = +\infty$

2- Limite d'une fonction rationnelle

Solution de l'exercice de fixation

- 1) La fonction $x \mapsto \frac{5-20x}{-\sqrt{2}x^2+7x}$ est rationnelle.

$$\text{Donc } \lim_{x \rightarrow -\infty} \frac{5-20x}{-\sqrt{2}x^2+7x} = \lim_{x \rightarrow -\infty} \frac{-20x}{-\sqrt{2}x^2} = \lim_{x \rightarrow -\infty} \frac{20}{\sqrt{2}x} = 0$$

- 2) La fonction $x \mapsto \frac{x^{18}-13x^8-58}{-2x^{20}+45x+1}$ est rationnelle.

$$\text{Donc } \lim_{x \rightarrow -\infty} \frac{9x^4-13x^2+8}{-2x^4+7x-1} = \lim_{x \rightarrow -\infty} \frac{9x^4}{-2x^4} = \lim_{x \rightarrow -\infty} \frac{9}{-2} = -\frac{9}{2}$$

- 3) La fonction $x \mapsto \frac{x^{18}-13x^8-58}{-2x^{20}+45x+1}$ est rationnelle.

$$\text{Donc } \lim_{x \rightarrow +\infty} \frac{x^{18}-13x^8-58}{-2x^{20}+45x+1} = \lim_{x \rightarrow +\infty} \frac{x^{18}}{-2x^{20}} = \lim_{x \rightarrow +\infty} -\frac{1}{2x^2} = 0$$

- 4) La fonction $x \mapsto \frac{5x^6-13x^5+8}{-2x^3-7x+1}$ est rationnelle.

$$\text{Donc } \lim_{x \rightarrow +\infty} \frac{5x^6 - 13x^5 + 8}{-2x^3 - 7x + 1} = \lim_{x \rightarrow +\infty} \frac{5x^6}{-2x^3} = \lim_{x \rightarrow +\infty} -\frac{5x^3}{2} = -\infty$$

IV- ASYMPTOTE D'ÉQUATION $y = ax + b$ avec $a \neq 0$

Solution des exercices de fixation

Exercice 1

Posons $f(x) = 2x - 1 + \frac{1}{x^2}$

On a $\lim_{x \rightarrow -\infty} (f(x) - (2x - 1)) = \lim_{x \rightarrow -\infty} \frac{1}{x^2} = 0$ de même $\lim_{x \rightarrow +\infty} (f(x) - (2x - 1)) = \lim_{x \rightarrow +\infty} \frac{1}{x^2} = 0$

D'où le résultat.

Exercice 2

Les courbes qui admettent une asymptote oblique sont les courbes des figures 1 à 3

Figure 1, équation : $y = x - 1$; figure 2, équation : $y = x$; figure 3, équation, $y = -x + 3$

V- LIMITES ET OPERATIONS SUR LES FONCTIONS

1- Limite de la somme de deux fonctions

Solutions des exercices de fixation

Exercice 1

$\lim_{x \rightarrow -2} f(x)$	0	$-\infty$	$+\infty$	$-\infty$	$+\infty$
$\lim_{x \rightarrow -2} g(x)$	-1	0	-5	$-\infty$	$+\infty$
$\lim_{x \rightarrow -2} (f + g)(x)$	-1	$-\infty$	$+\infty$	$-\infty$	$+\infty$

Exercice 2

- 1) $\lim_{x \rightarrow -\infty} \frac{4x+1}{x+2} = 4$ et $\lim_{x \rightarrow -\infty} \frac{x+1}{-6x+5} = -\frac{1}{6}$
2) Il résulte de la question 1) que : $\lim_{x \rightarrow -\infty} \left(\frac{4x+1}{x+2} + \frac{x+1}{-6x+5} \right) = 4 - \frac{1}{6} = \frac{23}{6}$

2- Limite du produit de deux fonctions

Solution des exercices de fixation

Exercice 1

$\lim_{x \rightarrow -\infty} f(x)$	0	$-\infty$	$+\infty$	-7	$-\infty$
$\lim_{x \rightarrow -\infty} g(x)$	0	$+\infty$	-5	$-\infty$	$-\infty$
$\lim_{x \rightarrow -\infty} (fg)(x)$	0	$-\infty$	$-\infty$	$+\infty$	$+\infty$

Exercice 2

- 1) $\lim_{x \rightarrow +\infty} \frac{-2x^2+5}{x} = -2$ et $\lim_{x \rightarrow +\infty} (-x^2 + 3x + 1) = -\infty$
2) Il résulte de la question 1) que : $\lim_{x \rightarrow +\infty} \left[\left(\frac{-2x^2+5}{x} \right) (-x^2 + 3x + 1) \right] = +\infty$

3- Limite de l'inverse d'une fonction

Solutions des exercices de fixation

Exercice 1

- 1) $\lim_{x \rightarrow -\infty} x^4 - 3x^2 = \lim_{x \rightarrow -\infty} x^4 = +\infty$
2) Il résulte de la question 1) que : $\lim_{x \rightarrow -\infty} \frac{1}{x^4 - 3x^2} = 0$

Exercice 2

- 1) $\lim_{x \rightarrow +\infty} \frac{-1}{x^2} + 3 = 3$
2) De la question 1), on déduit que : $\lim_{x \rightarrow +\infty} \frac{1}{\frac{-1}{x^2} + 3} = \frac{1}{3}$

4- Limite de la valeur absolue d'une fonction

Solution de l'exercice de fixation

On a $\lim_{x \rightarrow -\infty} \frac{x+5}{-2x+3} = \lim_{x \rightarrow -\infty} \frac{x}{-2x} = -\frac{1}{2}$. Donc $\lim_{x \rightarrow -\infty} f(x) = \left| -\frac{1}{2} \right| = \frac{1}{2}$

5- Limite de la racine carrée d'une fonction

Solution des exercices de fixation

Exercice 1

$\lim_{x \rightarrow +\infty} [x^3 - 13x + 1] = \lim_{x \rightarrow +\infty} x^3 = +\infty$. Donc $\lim_{x \rightarrow +\infty} \sqrt{x^3 - 13x + 1} = +\infty$

Exercice 2

$\lim_{x \rightarrow +\infty} \frac{x^2 - 13x + 1}{4x^2 + 3} = \frac{1}{4}$; donc $\lim_{x \rightarrow +\infty} \sqrt{\frac{x^2 - 13x + 1}{4x^2 + 3}} = \sqrt{\frac{1}{4}} = \frac{1}{2}$

RESOLUTION DE LA SITUATION D'APPRENTISSAGE

La fonction f de \mathbb{R} vers \mathbb{R} est définie par : $f(x) = \frac{x^3 - 3x^2 - x + 4}{x^2 - 1}$

Son ensemble de définition est $Df =]-\infty; -1[\cup]-1; 1[\cup]1; +\infty[$.

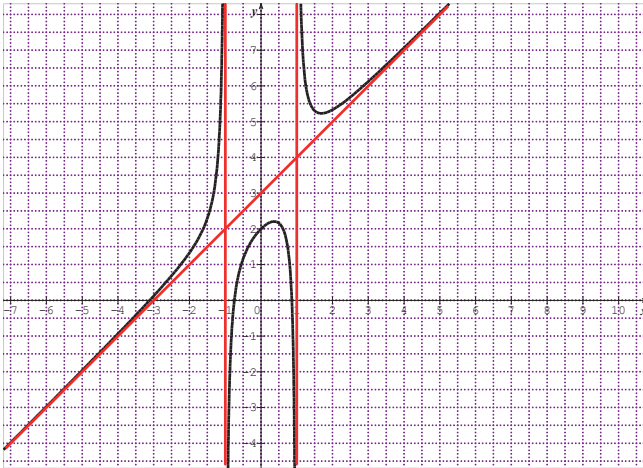
Pour tout x de Df , $f(x) = x - 3 + \frac{1}{x^2 - 1}$. Donc $\lim_{x \rightarrow +\infty} [f(x) - (x + 3)] =$

$$\lim_{x \rightarrow +\infty} \frac{1}{x^2 - 1} = 0$$

De même $\lim_{x \rightarrow -\infty} [f(x) - (x + 3)] = \lim_{x \rightarrow -\infty} \frac{1}{x^2 - 1} = 0$. Il en résulte que la droite d'équation $y = x + 3$ est une asymptote à la courbe de f en $-\infty$ et en $+\infty$.

Ensuite même $\lim_{x \rightarrow -1}^- f(x) = +\infty$; $\lim_{x \rightarrow 1}^- f(x) = -\infty$. Ces deux limites suffisent pour affirmer que les droites d'équations $x = -1$ et $x = 1$ sont des asymptotes à la courbe de f .

On donne ci-dessous une représentation graphique de la fonction f . En rouge, on a les trois asymptotes.



SOLUTION DE L'EXERCICE DE RENFORCEMENT/ APPROFONDISSEMENT

Exercice 1

N°		
1	$\lim_{x \rightarrow -\infty} -12$	-12
2	$\lim_{x \rightarrow +\infty} -\sqrt{x}$	$-\infty$
3	$\lim_{x \rightarrow -\infty} -\frac{1}{x}$	0
4	$\lim_{x \rightarrow +\infty} -\frac{1}{x}$	0
5	$\lim_{x \rightarrow -\infty} -x^{133}$	$+\infty$
6	$\lim_{x \rightarrow +\infty} -x^{106}$	$-\infty$
7	$\lim_{x \rightarrow 0^<} \left[\frac{-1}{x^{205}} \right]$	$+\infty$

8	$\lim_{x \rightarrow 0} \left[\frac{-1}{x^{205}} \right]$	$-\infty$
9	$\lim_{x \rightarrow +\infty} -x^7 - 25x^5 + 4$	$-\infty$
10	$\lim_{x \rightarrow -\infty} -x^7 - 25x^5 + 4$	$+\infty$
11	$\lim_{x \rightarrow +\infty} \frac{-x^7 - 25x^5 + 4}{2x^4 + 18x^3 - 2x + 1}$	$-\infty$
12	$\lim_{x \rightarrow -\infty} \frac{-x^7 - 25x^5 + 4}{2x^7 + 18x^3 - 2x + 1}$	$-\frac{1}{2}$
13	$\lim_{x \rightarrow -\infty} \frac{3x - 5}{x + 1}$	3
14	$\lim_{x \rightarrow +\infty} \frac{x^2}{4 - x^5}$	0
15	$\lim_{x \rightarrow -\infty} \frac{-x^2}{1 - x^3}$	0
16	$\lim_{x \rightarrow 0} -\frac{1}{x^{10}}$	$-\infty$
17	$\lim_{x \rightarrow +\infty} \frac{-1}{x\sqrt{x}}$	0
18	$\lim_{x \rightarrow +\infty} \sqrt{\frac{x+3}{x+2}}$	1
19	$\lim_{x \rightarrow -\infty} \sqrt{\frac{1-2x}{1-x}}$	$\sqrt{2}$
20	$\lim_{x \rightarrow +\infty} \frac{\sqrt{x+4}}{\sqrt{4x+1}}$	$\frac{1}{2}$

Exercice 2

1) Vrai

Justifications : c'est la définition d'une asymptote horizontale.

2) Faux

Justifications : $\lim_{x \rightarrow -\infty} \frac{-2}{x^4} = 0$ et $\lim_{x \rightarrow -\infty} +3 = 3$. Donc $\lim_{x \rightarrow -\infty} \frac{-2}{x^4} + 3 = 3$

3) Faux

Justifications : $\lim_{x \rightarrow 2} (x-2)^2 = 0$ et $\forall x \neq 2, (x-2)^2 > 0$. Donc $\lim_{x \rightarrow 2} \frac{1}{(x-2)^2} = +\infty$

4) Faux

Justifications : $\lim_{x \rightarrow -1} x^2 - 1 = 0$ et $\forall x \in]-1; 1[, x^2 - 1 < 0$.

Donc $\lim_{x \rightarrow -1} \frac{1}{x^2 - 1} = +\infty$

5) Faux

Justifications : par définition d'une asymptote oblique, la droite d'équation $y=5x+3$ est une asymptote oblique si et seulement si

$$\lim_{x \rightarrow +\infty} (f(x) - (5x + 3)) = 0.$$

Exercice 3

1) 5 est impair d'où $\lim_{x \rightarrow 3} \left[\frac{1}{(x-3)^5} \right] = -\infty$, 2 est pair d'où

$$\lim_{x \rightarrow 3} \left[\frac{1}{(x-3)^2} \right] = +\infty$$

2) L'une des fonctions tend vers $-\infty$ et l'autre tend vers $+\infty$. Ces deux résultats ne permettent d'avoir la limite de la somme des deux fonctions : il y a une forme indéterminée.

3) Pour lever l'indétermination, mettons $\frac{1}{(x-3)^2}$ en facteur.

Il vient : $\left[\frac{1}{(x-3)^5} + \frac{1}{(x-3)^2} \right] = \frac{1}{(x-3)^2} \left[\frac{1}{(x-3)^3} + 1 \right]$; on a alors $\lim_{x \rightarrow 3} \frac{1}{(x-3)^2} = +\infty$ et

$$\lim_{x \rightarrow 3} \left[\frac{1}{(x-3)^3} + 1 \right] = -\infty.$$

Donc $\lim_{x \rightarrow 3} \left[\frac{1}{(x-3)^5} + \frac{1}{(x-3)^2} \right] = -\infty$.

Exercice 4

$\lim_{x \rightarrow +\infty} (\sqrt{x} - x) = \lim_{x \rightarrow +\infty} \sqrt{x}(1 - \sqrt{x}) = -\infty$ car $\lim_{x \rightarrow +\infty} \sqrt{x} = +\infty$ et $\lim_{x \rightarrow +\infty} (1 - \sqrt{x}) = -\infty$

Exercice 5

$$1) \lim_{x \rightarrow 2^-} (x - 3) = -1; \lim_{x \rightarrow 2^-} \frac{1}{x-2} = -\infty \text{ donc } \lim_{x \rightarrow 2^-} \frac{x-3}{x-2} = +\infty$$

$$\lim_{x \rightarrow 2^+} (x - 3) = -1; \lim_{x \rightarrow 2^+} \frac{1}{x-2} = +\infty \text{ donc } \lim_{x \rightarrow 2^+} \frac{x-3}{x-2} = -\infty$$

$$2) \lim_{x \rightarrow 2^-} 4 - x^2 = 0 \text{ et } \forall x < 2, 4 - x^2 > 0. \text{ Donc } \lim_{x \rightarrow 2^-} \frac{1}{4-x^2} = +\infty (*).$$

$$\text{Ensuite } \lim_{x \rightarrow 2^-} (3 - x) = 1 (**).$$

$$\text{Finalement } (*) \text{ et } (**) \text{ donnent : } \lim_{x \rightarrow 2^-} \frac{3-x}{4-x^2} = +\infty$$

$$\lim_{x \rightarrow 2^+} 4 - x^2 = 0 \text{ et } \forall x > 2, 4 - x^2 < 0. \text{ Donc } \lim_{x \rightarrow 2^+} \frac{1}{4-x^2} = -\infty (^\circ). \text{ Ensuite}$$

$$\lim_{x \rightarrow 2^+} (3 - x) = 1 (^\circ\circ). \text{ Finalement } (^\circ) \text{ et } (^\circ\circ) \text{ donnent : } \lim_{x \rightarrow 2^+} \frac{3-x}{4-x^2} = -\infty$$

Exercice 6

$$1. \lim_{x \rightarrow 2^+} [-\sqrt{x-2}] = 0$$

2. On a $\lim_{x \rightarrow 2^+} [-\sqrt{x-2}] = 0$ ensuite pour tout $x > 2$, $-\sqrt{x-2} < 0$; donc

$$\lim_{x \rightarrow 2^+} \frac{1}{-\sqrt{x-2}} = -\infty$$

Exercice 7

$$1. \text{ Pour tout } x \text{ non nul, } \sqrt{x^2 + 1} = \sqrt{x^2 \left(1 + \frac{1}{x^2}\right)} = \sqrt{x^2} \sqrt{1 + \frac{1}{x^2}} =$$

$$|x| \sqrt{1 + \frac{1}{x^2}}.$$

$$2. \text{ Pour tout } x \text{ non nul, } f(x) = \frac{\sqrt{x^2+1}}{2x+3} = \frac{|x| \sqrt{1+\frac{1}{x^2}}}{x(2+\frac{3}{x})}$$

3. Lorsque x tend vers $-\infty$, x est strictement négatif.

$$\text{Donc } |x| \sqrt{1 + \frac{1}{x^2}} = -x \sqrt{1 + \frac{1}{x^2}} \text{ d'où}$$

$$f(x) = \frac{-x\sqrt{1+\frac{1}{x^2}}}{x(2+\frac{3}{x})} = \frac{-\sqrt{1+\frac{1}{x^2}}}{2+\frac{3}{x}}. \text{ Enfin } \lim_{x \rightarrow -\infty} \frac{1}{x^2} = \lim_{x \rightarrow -\infty} \frac{3}{x} = 0 \text{ donc finalement}$$

$$\lim_{x \rightarrow -\infty} f(x) = -\frac{1}{2}$$

Lorsque x tend vers $+\infty$, x est strictement positif. Donc $|x|\sqrt{1+\frac{1}{x^2}} = x\sqrt{1+\frac{1}{x^2}}$

d'où

$$f(x) = \frac{x\sqrt{1+\frac{1}{x^2}}}{x(2+\frac{3}{x})} = \frac{\sqrt{1+\frac{1}{x^2}}}{2+\frac{3}{x}}. \text{ Enfin } \lim_{x \rightarrow -\infty} \frac{1}{x^2} = \lim_{x \rightarrow -\infty} \frac{3}{x} = 0 \text{ donc finalement}$$

$$\lim_{x \rightarrow +\infty} f(x) = \frac{1}{2}$$

Exercice 8

N°	Limites	Résultats
1	$\lim_{x \rightarrow +\infty} [\sqrt{x}] = +\infty$ et $\lim_{x \rightarrow +\infty} [-2x + 3] = -\infty$ Donc $\lim_{x \rightarrow +\infty} [\sqrt{x} + (-2x + 3)]$	NC
2	$\lim_{x \rightarrow -\infty} \left[\frac{1}{x+4} \right] = 0$ et $\lim_{x \rightarrow -\infty} [-2x+3] = +\infty$ Donc $\lim_{x \rightarrow -\infty} \left[\frac{\frac{1}{x+4}}{-2x+3} \right]$	NC
3	$\lim_{x \rightarrow +\infty} [x^3 - 3x^2 + 5] = +\infty$ et $\lim_{x \rightarrow +\infty} [-2x^3 + 4] = -\infty$ Donc $\lim_{x \rightarrow +\infty} \left[\frac{x^3 - 3x^2 + 5}{-2x^3 + 4} \right]$	NC
4	$\lim_{x \rightarrow +\infty} (\sqrt{x}) = +\infty$ et $\lim_{x \rightarrow +\infty} (x + 10) = +\infty$ Donc $\lim_{x \rightarrow +\infty} [\sqrt{x} + (x + 10)]$	$+\infty$
5	$\lim_{x \rightarrow 5} \left[\frac{1}{(x-5)^2} \right] = +\infty$ et $\lim_{x \rightarrow +\infty} [x^6 - 15x + 2] = +\infty$ Donc $\lim_{x \rightarrow +\infty} \left[\frac{1}{(x-5)^2} (x^6 - 15x + 2) \right]$	NC
6	$\lim_{x \rightarrow 5} \left[\frac{-2x^2}{(x-5)^2} \right] = -2$ et $\lim_{x \rightarrow +\infty} (x^3 - 13x + 2) = +\infty$ Donc $\lim_{x \rightarrow +\infty} \left[\frac{-2x^2}{(x-5)^2} (x^3 - 13x + 2) \right]$	$-\infty$

7	$\lim_{x \rightarrow +\infty} \left[\frac{1}{x} \right] = 0$ et $\lim_{x \rightarrow +\infty} (-x^2 + 3) = -\infty$ Donc $\lim_{x \rightarrow +\infty} \left[\frac{1}{x} - (-x^2 + 3) \right]$	$+\infty$
8	$\lim_{x \rightarrow -\infty} \left[\frac{2x^3}{x^2 + 4x + 2} \right] = -\infty$ et $\lim_{x \rightarrow -\infty} (7x^3 + 10x) = -\infty$ Donc $\lim_{x \rightarrow -\infty} \left[\frac{2x^3}{x^2 + 4x + 2} (7x^3 + 10x) \right]$	$+\infty$

1)

N°1 il y a une forme indéterminée. Calculons $\lim_{x \rightarrow +\infty} [\sqrt{x} + (-2x + 3)]$

D'abord pour tout x strictement positif, $\sqrt{x} + (-2x + 3) = \sqrt{x} \left(1 - 2\sqrt{x} + \frac{3}{\sqrt{x}} \right)$.

Ensuite $\lim_{x \rightarrow +\infty} \sqrt{x} = +\infty$, $\lim_{x \rightarrow +\infty} \left(1 - 2\sqrt{x} + \frac{3}{\sqrt{x}} \right) = -\infty$.

Donc $\lim_{x \rightarrow +\infty} [\sqrt{x} + (-2x + 3)] = -\infty$

N°2 il y a une forme indéterminée. Calculons $\lim_{x \rightarrow -\infty} \left[\frac{\frac{1}{-2x+3}}{\frac{1}{x+4}} \right]$

D'abord pour tout x strictement négatif, $\frac{\frac{1}{-2x+3}}{\frac{1}{x+4}} = \frac{x+4}{-2x+3}$. Ensuite $\lim_{x \rightarrow -\infty} \frac{x+4}{-2x+3} = -\frac{1}{2}$.

Donc $\lim_{x \rightarrow -\infty} \left[\frac{\frac{1}{-2x+3}}{\frac{1}{x+4}} \right] = -\frac{1}{2}$

N°3 il y a une forme indéterminée. Calculons $\lim_{x \rightarrow +\infty} \left[\frac{x^3 - 3x^2 + 5}{-2x^3 + 4} \right]$

En appliquant la propriété du calcul de limite de fonction rationnelle à l'infini, on obtient le résultat suivant :

$$\lim_{x \rightarrow +\infty} \left[\frac{x^3 - 3x^2 + 5}{-2x^3 + 4} \right] = -\frac{1}{2}$$

N°5 il y a une forme indéterminée. Calculons $\lim_{x \rightarrow +\infty} \left[\frac{1}{(x-5)^2} (x^6 - 15x + 2) \right]$

D'abord $\frac{1}{(x-5)^2} (x^6 - 15x + 2) = \frac{x^6 - 15x + 2}{(x-5)^2} = \frac{x^6 - 15x + 2}{x^2 - 10x + 25}$. ensuite $\lim_{x \rightarrow +\infty} \frac{x^6 - 15x + 2}{x^2 - 10x + 25} = \lim_{x \rightarrow +\infty} x^4 = +\infty$

Donc $\lim_{x \rightarrow +\infty} \left[\frac{1}{(x-5)^2} (x^6 - 15x + 2) \right] = +\infty$.

Exercice 9

Lorsque x tend vers $-\infty$, x est strictement négatif donc $\sqrt{100x^2 + 4} = -x \sqrt{100 + \frac{4}{x^2}}$

Ensuite $5x - 1 = x(5 - \frac{1}{x})$. Donc $\lim_{x \rightarrow -\infty} f(x) = \lim_{x \rightarrow -\infty} -\frac{\sqrt{100 + \frac{4}{x^2}}}{5 - \frac{1}{x}} = -\frac{\sqrt{100}}{5} = -2$ car $\lim_{x \rightarrow -\infty} \frac{4}{x^2} = \lim_{x \rightarrow -\infty} \frac{-1}{x} = 0$

Un raisonnement similaire donne $\lim_{x \rightarrow +\infty} f(x) = 2$

Exercice 10

- $$\lim_{x \rightarrow -\infty} f(x) = \lim_{x \rightarrow -\infty} \frac{-2x+3}{\sqrt{x^2+2}} = \lim_{x \rightarrow -\infty} \frac{-2x+3}{|x|+2} = \lim_{x \rightarrow -\infty} \frac{-2x+3}{-x+2} = 2$$

$$\lim_{x \rightarrow +\infty} f(x) = \lim_{x \rightarrow +\infty} \frac{-2x+3}{\sqrt{x^2+2}} = \lim_{x \rightarrow +\infty} \frac{-2x+3}{|x|+2} = \lim_{x \rightarrow +\infty} \frac{-2x+3}{x+2} = -2$$
- $$\lim_{x \rightarrow -\infty} f(x) = \lim_{x \rightarrow -\infty} \left[\frac{2x^3+5}{x+2} + (-x+1) \right] = \lim_{x \rightarrow -\infty} \left[\frac{2x^3 - x^2 - x + 5}{x+2} \right] =$$

$$\lim_{x \rightarrow -\infty} \frac{2x^3}{x} = \lim_{x \rightarrow -\infty} 2x^2 = +\infty$$

$$\lim_{x \rightarrow +\infty} f(x) = \lim_{x \rightarrow +\infty} \left[\frac{2x^3+5}{x+2} + (-x+1) \right] = \lim_{x \rightarrow +\infty} \left[\frac{2x^3 - x^2 - x + 5}{x+2} \right]$$

$$= \lim_{x \rightarrow +\infty} \frac{2x^3}{x} = \lim_{x \rightarrow +\infty} 2x^2 = +\infty$$
- $$\lim_{x \rightarrow -\infty} f(x) = \lim_{x \rightarrow -\infty} \frac{-2}{1-10x^7} = 0 \text{ car } \lim_{x \rightarrow -\infty} (1-10x^7) = +\infty$$

$$\lim_{x \rightarrow +\infty} f(x) = \lim_{x \rightarrow +\infty} \frac{-2}{1-10x^7} = 0 \text{ car } \lim_{x \rightarrow +\infty} (1-10x^7) = -\infty$$
- $$\lim_{x \rightarrow +\infty} f(x) = \lim_{x \rightarrow +\infty} \frac{x^3 - \sqrt{x}}{2x^3 + 1} = \lim_{x \rightarrow +\infty} \frac{x^3}{2x^3 + 1} + \lim_{x \rightarrow +\infty} \frac{-\sqrt{x}}{2x^3 + 1} = \frac{1}{2} \text{ car } \lim_{x \rightarrow +\infty} \frac{x^3}{2x^3} = \frac{1}{2} \text{ et}$$

$$\lim_{x \rightarrow +\infty} \frac{-\sqrt{x}}{2x^3 + 1} = \lim_{x \rightarrow +\infty} \frac{-1}{(2x^2 + \frac{1}{x})\sqrt{x}} = 0$$

Exercice 11

- 1) La fonction f de \mathbb{R} vers \mathbb{R} définie par : $f(x) = \frac{2x^2}{(x-1)^2}$ en est un exemple.

En effet, $\lim_{x \rightarrow -\infty} \frac{2x^2}{(x-1)^2} = \lim_{x \rightarrow -\infty} \frac{2x^2}{x^2-2x+1} = 2$; donc la droite d'équation $y = 2$ est une asymptote horizontale à la courbe de f .

Ensuite $\lim_{x \rightarrow 1} \frac{2x^2}{(x-1)^2} = +\infty$; donc la droite d'équation $x = 1$ est une asymptote verticale à la courbe de f

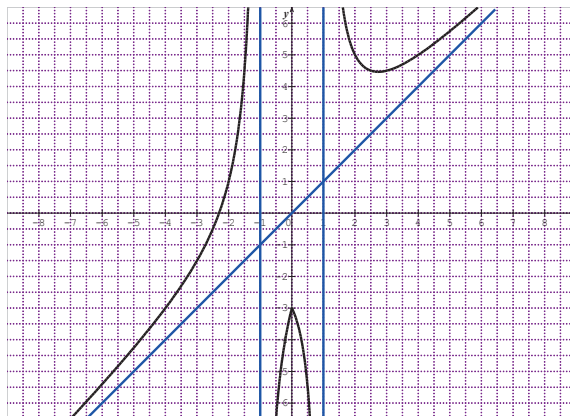
- 2) La fonction f de \mathbb{R} vers \mathbb{R} définie par : $f(x) = -x + 2 + \frac{1}{x^2+1}$ en est un exemple.

En effet, l'ensemble de définition de f est \mathbb{R} et $\lim_{x \rightarrow -\infty} [f(x) - (-x + 2)] = \lim_{x \rightarrow -\infty} \frac{1}{x^2+1} = 0$.

La courbe de f admet la droite d'équation $y = -x + 2$ comme asymptote oblique en $-\infty$ mais cette n'admet pas d'asymptote verticale.

- 3) la fonction f de \mathbb{R} vers \mathbb{R} définie par : $f(x) = x + \frac{1}{|x|+1}$ en est un exemple.

En effet voici sa représentation graphique :



- 4) la fonction f de $[-2; 2]$ vers \mathbb{R} définie par : $f(x) = (x + 1)^2 - x^3$ en est un exemple.

En effet voici sa représentation graphique :



Exercice 12

$\lim_{x \rightarrow -\infty} \frac{-3x^2 - 1}{2x^2 + 1} = -\frac{3}{2}$. La droite d'équation $y = -\frac{3}{2}$ est donc asymptote horizontale.

Exercice 13

- $\lim_{x \rightarrow 3^-} f(x) = +\infty$ et $\lim_{x \rightarrow 3^+} f(x) = -\infty$
- Il résulte des limites suivantes : $\lim_{x \rightarrow 3^-} f(x) = +\infty$ et $\lim_{x \rightarrow 3^+} f(x) = -\infty$ que la droite d'équation $x = 3$ est une asymptote verticale à la représentation graphique de la fonction f .

Exercice 14

- Pour tout x différent de -4 , rendons $x - 2 - \frac{1}{x+4}$ au même dénominateur ; on trouve $\frac{x^2 + 2x - 9}{x+4}$. D'où le résultat.

- 2) Pour tout x différent de -4 , $f(x) - (x - 2) = -\frac{1}{x+4}$. Donc $\lim_{x \rightarrow +\infty} [f(x) - (x - 2)] = 0$
- 3) Il résulte de la question 2) que la droite d'équation $y = x - 2$ est une asymptote oblique à la courbe de f .

Exercice 15

- 1) L'ensemble de définition de f est $]-\infty; 0[\cup]2; +\infty[$.
- 2) a) Pour tout $x < 0$, $f(x) = x + \sqrt{x^2 - 2x} = \frac{[\sqrt{x^2 - 2x + x}][\sqrt{x^2 - 2x - x}]}{\sqrt{x^2 - 2x - x}} = \frac{-2x}{\sqrt{x^2 - 2x - x}}$. Ensuite mettons x en facteur au numérateur et au dénominateur ; il vient : $f(x) = \frac{-2x}{|x|(\sqrt{1 - \frac{2}{x} + 1})}$. Comme x est strictement négatif, on obtient donc : $f(x) = \frac{2}{\sqrt{1 - \frac{2}{x} + 1}}$.
- b) $\lim_{x \rightarrow -\infty} \frac{2}{\sqrt{1 - \frac{2}{x} + 1}} = 1$ car $\lim_{x \rightarrow -\infty} \sqrt{1 - \frac{2}{x} + 1} = 2$. Donc $\lim_{x \rightarrow -\infty} f(x) = 2$.
- c) Compte du fait que $\lim_{x \rightarrow -\infty} f(x) = 2$, en déduit que la droite d'équation $y = 2$ est une asymptote horizontale à la courbe de f .
- 3) Soit (D) la droite d'équation : $y = 2x - 1$.
- a) Pour tout $x > 0$, $f(x) - (2x - 1) = \frac{[\sqrt{x^2 - 2x - (x-1)}][\sqrt{x^2 - 2x + (x-1)}]}{\sqrt{x^2 - 2x + x - 1}} = \frac{1}{\sqrt{x^2 - 2x + x - 1}}$.
- b) $\lim_{x \rightarrow +\infty} [f(x) - (2x - 1)] = \lim_{x \rightarrow +\infty} \frac{1}{\sqrt{x^2 - 2x + x - 1}} = 0$ car $\lim_{x \rightarrow +\infty} \sqrt{x^2 - 2x + x - 1} = +\infty$ Donc $\lim_{x \rightarrow +\infty} [f(x) - (2x - 1)] = 0$
- c) Il résulte du résultat suivant $\lim_{x \rightarrow +\infty} [f(x) - (2x - 1)] = 0$ que la droite d'équation $y = 2x - 1$ est une asymptote oblique à la courbe de f .

Exercice 16

- 1) $Df = \mathbb{R} - \{-1; 1\} =]-\infty; -1[\cup]-1; 1[\cup]1; +\infty[$
- 2) $\lim_{x \rightarrow +\infty} \frac{2x^3 - 5x^2 - 2x + 4}{x^2 - 1} = \lim_{x \rightarrow +\infty} \frac{2x^3}{x^2} = \lim_{x \rightarrow +\infty} 2x = +\infty$ de même
- $\lim_{x \rightarrow -\infty} \frac{2x^3 - 5x^2 - 2x + 4}{x^2 - 1} = \lim_{x \rightarrow -\infty} 2x = -\infty$

Donc $\lim_{x \rightarrow +\infty} f(x) = +\infty$ et $\lim_{x \rightarrow -\infty} f(x) = -\infty$

$\lim_{x \rightarrow 1^-} x^2 - 1 = 0$ et $x^2 - 1 > 0$ donc $\lim_{x \rightarrow 1^-} \frac{1}{x^2 - 1} = +\infty$ ensuite $\lim_{x \rightarrow 1^-} 2x^3 - 5x^2 - 2x + 4 = -1$. Donc $\lim_{x \rightarrow 1^-} f(x) = -\infty$

$\lim_{x \rightarrow 1^+} x^2 - 1 = 0$ et $x^2 - 1 < 0$ donc $\lim_{x \rightarrow 1^+} \frac{1}{x^2 - 1} = -\infty$ ensuite $\lim_{x \rightarrow 1^+} 2x^3 - 5x^2 - 2x + 4 = -1$. Donc $\lim_{x \rightarrow 1^+} f(x) = +\infty$

$\lim_{x \rightarrow -1^-} x^2 - 1 = 0$ et $x^2 - 1 < 0$ donc $\lim_{x \rightarrow -1^-} \frac{1}{x^2 - 1} = -\infty$ ensuite $\lim_{x \rightarrow -1^-} 2x^3 - 5x^2 - 2x + 4 = -1$. Donc $\lim_{x \rightarrow -1^-} f(x) = +\infty$

$\lim_{x \rightarrow -1^+} x^2 - 1 = 0$ et $x^2 - 1 > 0$ donc $\lim_{x \rightarrow -1^+} \frac{1}{x^2 - 1} = +\infty$ ensuite $\lim_{x \rightarrow -1^+} 2x^3 - 5x^2 - 2x + 4 = -1$. Donc $\lim_{x \rightarrow -1^+} f(x) = -\infty$

Cela fait au total six limites.

- 3) Le résultat $\lim_{x \rightarrow -1^-} f(x) = -\infty$ assure que la droite d'équation $x = -1$ est une asymptote à (C).

Le résultat $\lim_{x \rightarrow 1^+} f(x) = -\infty$ assure que la droite d'équation $x = 1$ est une asymptote à (C).

Ces deux asymptotes sont parallèles à (OJ)

- 4) Pour tout x de Df , $f(x) = 2x - 5 + \frac{-1}{x^2-1}$ il suffit de réduire $2x - 5 + \frac{-1}{x^2-1}$ au même dénominateur.
- 5) $\lim_{x \rightarrow +\infty} [f(x) - (2x - 5)] = \lim_{x \rightarrow +\infty} \frac{-1}{x^2-1} = 0$. De même $\lim_{x \rightarrow -\infty} [f(x) - (2x - 5)] = \lim_{x \rightarrow -\infty} \frac{-1}{x^2-1} = 0$ d'où les résultats.
- 6) Il suffit d'étudier le signe de $[f(x) - (2x - 5)]$ c'est-à-dire de $\frac{-1}{x^2-1}$.

Il vient : $\forall x \in]-1; 1[$, $\frac{-1}{x^2-1} > 0$; ensuite $\forall x \in]-\infty; -1[\cup]1; +\infty[$, $\frac{-1}{x^2-1} < 0$

Il en résulte donc : $\forall x \in]-1; 1[$, $[f(x) - (2x - 5)] > 0$; (C) est au-dessus de (D) l'intervalle $]-1; 1[$ et $\forall x \in]-\infty; -1[\cup]1; +\infty[$, $[f(x) - (2x - 5)] < 0$; (C) est au-dessous de (D) sur les intervalles $]-\infty; -1[$ et $]1; +\infty[$.

7)



Solution de la situation d'évaluation

1) On a un cylindre avec deux couvercles (des disques) de rayon x .

L'aire des deux disques est donc $2\pi x^2$. Ensuite il faut calculer l'aire latérale du cylindre ; c' est $2\pi xH$. Mais le volume du cylindre est $\pi x^2 h = 2$. Donc $H = \frac{2}{\pi x^2}$.

L'aire latérale vaut donc $2\pi x \left(\frac{2}{\pi x^2}\right) = \frac{4}{x}$.

L'aire totale qui est la somme des deux aires donne donc $S(x) = 2\pi x^2 + \frac{4}{x}$.

2) Lorsque $\frac{4}{x}$ tend vers zéro, cela signifie que x devient indéfiniment grand (càd que x tend vers $+\infty$).

Ce qui est inimaginable car l'aire $S(x)$ du tonneau au lieu d'être minimale deviendrait plutôt indéfiniment grande. C'est pourquoi, Jean Luc a tort.

3) Pour connaître l'aire minimale, il faut étudier « rigoureusement » la fonction $S(x)$ sur l'intervalle $]0; +\infty[$.

Cette fonction est dérivable et $S'(x) = \frac{4(\pi x^3 - 1)}{x^2}$; $S'(x) = 0 \Leftrightarrow x = \frac{1}{\sqrt[3]{\pi}}$. La fonction dérivée S' est négative sur $]0; \frac{1}{\sqrt[3]{\pi}}[$ et positive sur $]\frac{1}{\sqrt[3]{\pi}}; +\infty[$. La fonction S admet donc un minimum en $\frac{1}{\sqrt[3]{\pi}}$. Ce minimum est $S\left(\frac{1}{\sqrt[3]{\pi}}\right) = 6\sqrt[3]{\pi}$.

En conclusion : l'aire $S(x)$ est minimale pour $x = \frac{1}{\sqrt[3]{\pi}}m \cong 1,5 m$; dans ce cas l'aire minimale du tonneau est $9m^2$

ETUDE ET REPRESENTATION GRAPHIQUE D'UNE FONCTION

9

SOLUTIONS DES EXERCICES

Situation d'évaluation

- CONTEXTE : vente de baguettes de pain dans une boulangerie
- CIRCONSTANCE : le bénéfice réalisé par la vente d'un certain nombre de baguettes
- TACHE : calcul du nombre de baguettes à vendre afin de réaliser un bénéfice maximal.

1- Fonction paire

Définition

Solutions des exercices de fixation

Exercice 1

L'ensemble de définition de f est $D_f = \mathbb{R} - \{-1; 1\}$.

$\forall x \neq 1$ et $x \neq -1$, on a $-x \neq -1$ et $-x \neq 1$. Donc D_f est symétrique par rapport à 0.

Ensuite $f(-x) = \frac{3}{(-x)^2-1} = \frac{3}{x^2-1}$. Donc $f(-x) = f(x)$.

Conclusion : f est une fonction paire.

Exercice 2

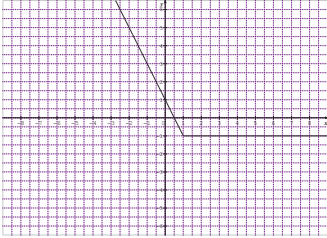
L'ensemble de définition de f est $D_f =]1, +\infty[$ cet ensemble n'est pas symétrique par rapport à 0 car $2 \in D_f$ mais $-2 \notin D_f$. Donc f n'est pas paire.

Définition

Solution de l'exercice de fixation

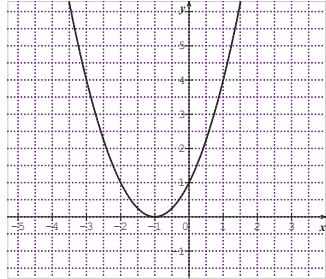
Parmi les courbes ci-dessous, coche la courbe d'une fonction paire

La fonction est définie sur \mathbb{R}



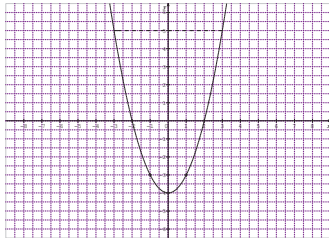
.....

La fonction est définie sur \mathbb{R}



.....

La fonction est définie sur \mathbb{R}



.....X.....

2- Fonction impaire

Définition

Solutions des exercices de fixation

Exercice 1

L'ensemble de définition de f est $D_f = \mathbb{R} - \{-1; 1\}$.

$\forall x \neq 1$ et $x \neq -1$, on a $-x \neq -1$ et $-x \neq 1$. Donc D_f est symétrique par rapport à 0.

Ensuite $f(-x) = \frac{-(-x)}{(-x)^2-1} = \frac{x}{x^2-1}$. Donc $f(-x) = -f(x)$.

Conclusion : f est une fonction impaire.

Exercice 2

L'ensemble de définition de f est $D_f = \mathbb{R}$.

Donc D_f est symétrique par rapport à 0.

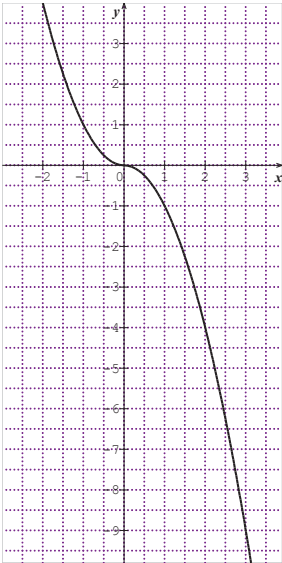
Mais $f(-3) = \frac{8}{10}$ alors que $f(3) = \frac{2}{10}$; $f(-3) \neq -f(3)$. Donc f n'est pas impaire.

Propriété

Solution de l'exercice de fixation

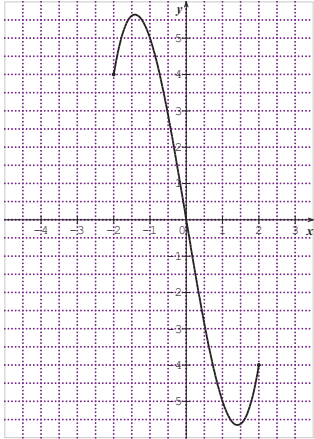
Parmi les courbes ci-dessous, coche la courbe d'une fonction impaire

La fonction est définie sur $[-2; 3]$



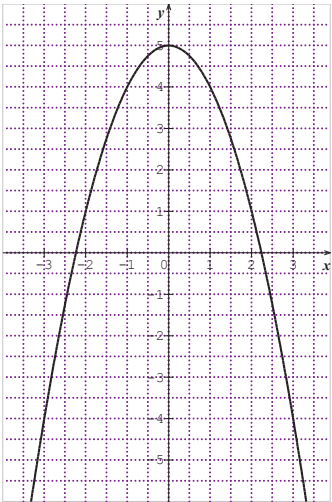
.....

La fonction est définie sur $[-2; 2]$



.....**X**.....

La fonction est définie sur \mathbb{R}



3- Axe de symétrie d'équation : $x = a$

Propriété 1

Solution de l'exercice de fixation

Considérons la fonction $g : \mathbb{R} \rightarrow \mathbb{R}, x \mapsto f(x + \frac{1}{2})$,

$g(x) = 1 - \frac{2}{x^2 + \frac{3}{4}}$. Démontrons que g est paire.

L'ensemble de définition de g est \mathbb{R} , il est donc symétrique par rapport à 0.

Ensuite $g(-x) = g(x)$. Donc g est paire.

Il en résulte que la droite (D) est axe de symétrie de la courbe g .

Propriété 2

Solution de l'exercice de fixation

L'ensemble de définition de f est \mathbb{R} . Donc pour tout x de D_f , $6 - x$ appartient à D_f .

Ensuite $f(6 - x) = (6 - x - 3)^2 + 1 = (x - 3)^2 + 1$.

C'est-à-dire que $f(6 - x) = f(x)$.

Donc la droite (D) est un axe de symétrie.

4- Centre de symétrie

Propriété 1

Exercice de fixation

La fonction $g : \mathbb{R} \rightarrow \mathbb{R}, x \mapsto f(x + a) - b$; $g(x) = x^3 - 3x$

Démontrons que g est impaire.

L'ensemble de définition de g est \mathbb{R} ; il est donc symétrique par rapport à 0.

D'autre part

$g(-x) = (-x)^3 - 3(-x) = -x^3 + 3x = -g(x)$. Donc g est impaire.

Propriété 2

Solution de l'exercice de fixation

L'ensemble de définition de f est $D_f = \mathbb{R} - \{1\}$. Pour tout $x \neq 1$, on a $2 - x \neq 1$. Donc si $x \in D_f$, $2 - x \in D_f$.

De plus $f(2 - x) + f(x) = \frac{2x-7}{x-1} + \frac{2x+3}{x-1} = \frac{4x-4}{x-1} = 4$

$f(2 - x) + f(x) = 4$.

Donc le point A est centre de symétrie.

5- Extremums relatifs d'une fonction

Propriété

Solution des exercices de fixation

Exercice 1

Les extremums relatifs de la fonction f sont :

- -4 qui est un minimum relatif ; il est atteint en 0 ;
- 0 qui est un maximum relatif ; il est atteint en 2 ;
- -2 qui est minimum relatif ; il est atteint en 5

Exercice 2

D'après la représentation graphique de la fonction f sur l'intervalle $[-3; 3]$, sont $2,5$; -2 ; $\frac{20}{3}$.

- $2,5$ est atteint en -2 ;
- -2 est atteint en 1
- $\frac{20}{3}$ est atteint en 3 .

6- Asymptote parallèle à l'axe des ordonnées

Définition

Solution de l'exercice de fixation

Il suffit de démontrer que $\lim_{x \rightarrow -3} f(x) = +\infty$ ou $-\infty$.

$$\text{On a } \left\{ \begin{array}{l} \lim_{x \rightarrow -3} \frac{1}{x+3} = +\infty \\ \text{et} \\ \lim_{x \rightarrow -3} x^2 + 2x = +3 \end{array} \right. \quad \text{donc } \lim_{x \rightarrow -3} f(x) = +\infty. \text{ D'où le résultat.}$$

7- Asymptote parallèle à l'axe des abscisses

Définition

Solution de l'exercice de fixation

Il suffit de démontrer que : $\lim_{x \rightarrow +\infty} (f(x) - 1) = 0$

On a $\lim_{x \rightarrow -\infty} (f(x) - 1) = \lim_{x \rightarrow -\infty} \frac{-4x-3}{2x^2+3} = 0$. D'où le résultat.

8- Asymptote oblique

Définition

Solution de l'exercice de fixation

Il suffit de démontrer que : $\lim_{x \rightarrow -\infty} (f(x) - (2x + 3)) = 0$

On a $\lim_{x \rightarrow -\infty} (f(x) - (2x + 3)) = \lim_{x \rightarrow -\infty} \frac{5}{2x-1} = \lim_{x \rightarrow -\infty} \frac{5}{2x} = 0$. D'où le résultat.

SOLUTION DE LA SITUATION D'APPRENTISSAGE

La fonction bénéfice B est définie par : $B(q) = -28\,000 + 350q - 0,7q^2$ où q est le nombre de baguettes de pain vendues par semaine. Ce nombre appartient à l'intervalle [100; 400].

Considérons la fonction f définie sur l'intervalle [100; 400] par :

$$f(x) = -28\,000 + 350x - 0,7x^2$$

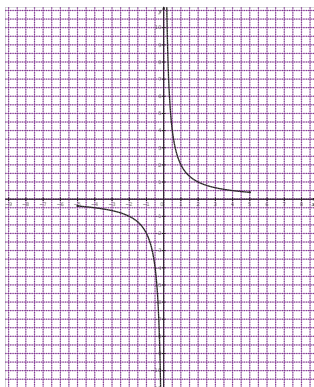
La fonction f est dérivable sur [100; 400] et $f'(x) = 350 - 1,4x$; $f'(x) > 0 \Leftrightarrow 100 < x < 250$ et ; $f'(x) < 0 \Leftrightarrow 250 < x < 400$. Donc la fonction f admet un maximum sur [100; 400] en 250 ; ce maximum est $f(250) = 15\,750$.

En conclusion : le bénéfice de cette boulangerie est maximal si elle vend au moins 250 baguettes de pain par semaine. Ce bénéfice est estimé à 15 750 FCFA.

EXERCICES DE RENFORCEMENT- D'APPROFONDISSEMENT

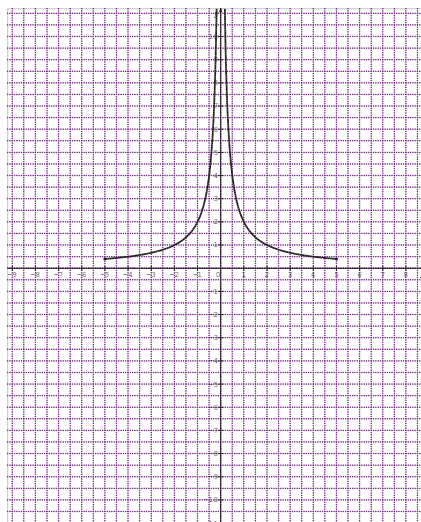
Exercice 1

On obtient le tracé suivant :



Exercice 2

On obtient le tracé suivant :



Exercice 3

- 1) Le minimum relatif de f est 1. Il est atteint en 2. Le maximum relatif de f est 5. Il est atteint en 0.
- 2) Etablis le tableau de variation de f

x	$-\infty$	0	2	$+\infty$
$f'(x)$		+	-	+
$f(x)$		$\nearrow 5$	$\searrow 1$	$\nearrow +\infty$

Exercice 4

$$f(-1) = -1 - 1 + 1 = -2; \quad f(1) = 1 - 1 + 1 = 1$$

On a $f(-1) \neq f(1)$. Donc f n'est pas paire.

On a $f(-1) \neq -f(1)$. Donc f n'est pas impaire.

Exercice 5

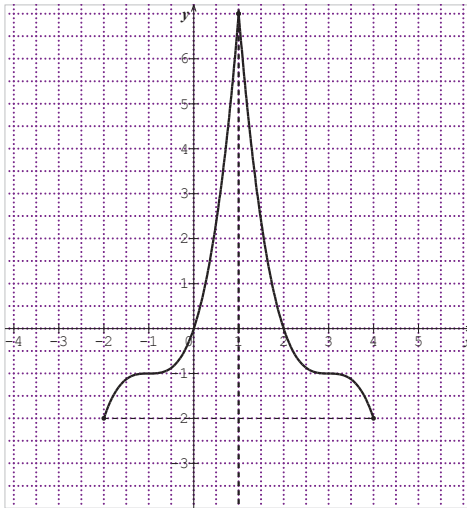
- 1) L'ensemble définition de f est $D_f = \mathbb{R} - \{-3; 3\}$
- 2) L'ensemble de définition de f est symétrique par rapport à 0. De plus
$$\frac{1}{3+x} - \frac{1}{3-x} = -\left(\frac{1}{3-x} - \frac{1}{3+x}\right)$$
. C'est-à-dire que $f(-x) = -f(x)$. La fonction f est donc impaire.

Exercice 6

- 1) L'ensemble définition de f est $D_f = \mathbb{R} - \{-1; 1\}$
- 2) L'ensemble de définition de f est symétrique par rapport à 0. De plus
$$\frac{1}{|-x|-1} - (-x)^2 = \frac{1}{|x|-1} - x^2$$
. C'est-à-dire que $f(-x) = f(x)$. La fonction f est donc paire.

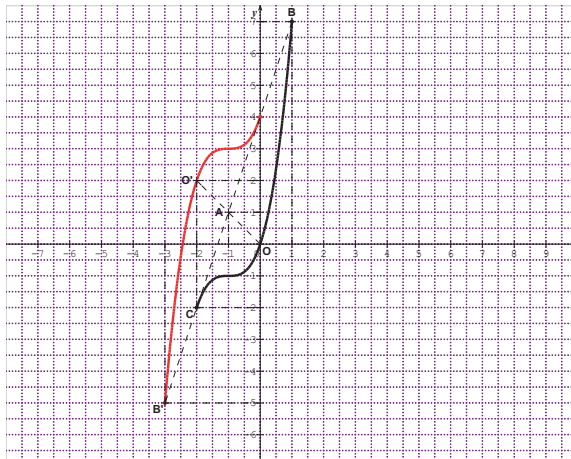
Exercice 7

On obtient le tracé suivant.



Exercice 8

On obtient la courbe en rouge



Exercice 9

- 1) Démontre que pour tout x de $[-3; 1]$, $f'(x) = (3x - 1)(x + 2)$
- 2) Pour tout x de $] -3; -2[\cup]\frac{1}{3}; 1[$, $f'(x) > 0$ et pour tout x de $] -2; \frac{1}{3}[$, $f'(x) < 0$.
- 3) Donc f est croissante sur $] -3; -2[$ et sur $]\frac{1}{3}; 1[$ et f est décroissante sur $] -2; \frac{1}{3}[$.
- 4) Tableau de variation de f .

x	-3	-2	$\frac{1}{3}$	1
$f(x)$	+		-	+
$f'(x)$	$\frac{5}{2}$	7	$\frac{35}{54}$	$\frac{5}{2}$

Diagramme de variation : des flèches indiquent une augmentation de $f(x)$ de $\frac{5}{2}$ à 7 et de $\frac{35}{54}$ à $\frac{5}{2}$, et une diminution de 7 à $\frac{35}{54}$.

Le maximum relatif de f est 7 . Il est atteint en -2 . Le minimum relatif de f est $\frac{35}{54}$. Il est atteint en $\frac{1}{3}$.

Exercice 10

- 1) Posons $f(x) = 3 + \frac{-5}{x-2}$. On a $f(4-x) + f(x) = 3 + \frac{-5}{2-x} + 3 + \frac{-5}{x-2} = 6 = 2 \times 3$. D'où le résultat.
- 2) Posons $g(x) = (x-2)^3 + 3$. On a $(4-x-2)^3 + 3 + (x-2)^3 + 3 = 6 = 2 \times 3$. D'où le résultat.

Exercice 11

- 1) Posons $f(x) = (4+x)^2 - 15$. On a $f(-8-x) = (-4-x)^2 - 15 = f(x)$. D'où le résultat.
- 2) Posons $g(x) = |x+4| + 1$. On a $g(-8-x) = |-x-4| + 1 = g(x)$. D'où le résultat.

Exercice 12

1) $f'(x) = \frac{a-b}{(x+1)^2}$; donc $f'(0) = a - b$ c'est à dire que $a - b = -3$. Ensuite

$$f(-2-x) + f(x) = -4 \text{ or } f(-2-x) + f(x) = \frac{-ax-2a+b}{-x-1} + \frac{ax+b}{x+1} = \frac{ax2a-b}{x+1} + \frac{ax+b}{x+1} = 2a$$

Donc $2a = -4$. Soit $a = -2$. Par suite $b = 1$.

On trouve donc $f(x) = \frac{-2x+1}{x+1}$.

2) On démontre que pour tout x de $]-1; +\infty[$, $f'(x) = -\frac{3}{(x+1)^2}$

3) Pour tout x de $]-1; +\infty[$, $-\frac{3}{(x+1)^2} < 0$. Donc la fonction f est strictement décroissante sur l'intervalle $]-1; +\infty[$

4) a) $\lim_{x \rightarrow -1^+} \frac{-2x+1}{x+1} = +\infty$

b) Il en résulte que la droite d'équation $x = -1$ est une asymptote à la courbe de f .

5) a) $\lim_{x \rightarrow +\infty} \frac{-2x+1}{x+1} = -2$

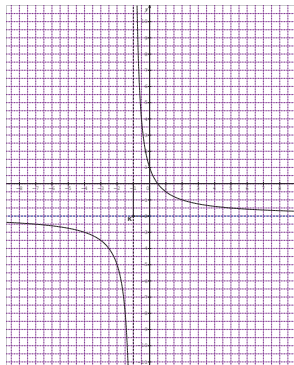
b) Il en résulte que la droite d'équation $y = -2$ est une asymptote à la courbe de f

6) Le tableau de variation de f est :

7)

x	-1	$+\infty$
$f'(x)$	-	
$f(x)$	$+\infty$	-2

8)



Exercice 13

1) $Df = \mathbb{R} - \{1\}$

2) Pour tout x de Df , $f(x) = \frac{(1-x)^2+4}{1-x} = 1 - x + \frac{4}{1-x}$

3) a) $\lim_{x \rightarrow 1^+} f(x) = -\infty$ et $\lim_{x \rightarrow 1^-} f(x) = +\infty$

b) La droite d'équation $x = 1$ est une asymptote à la courbe (C).

4) $\lim_{x \rightarrow +\infty} f(x) = -\infty$ et $\lim_{x \rightarrow -\infty} f(x) = +\infty$

On admet que f est dérivable sur Df .

5) a) $f'(x) = -1 + \frac{4}{(1-x)^2} = \frac{(1+x)(3-x)}{(1-x)^2}$

b) Pour tout x de $] -1; 1[\cup] 1; 3[$, $f'(x) > 0$ et pour tout x de $] -\infty; -1[\cup] 3; +\infty[$,
 $f'(x) < 0$

Donc f est croissante sur $] -1; 1[$ et sur $] 1; 3[$ et f est décroissante sur $] -\infty; -1[$ et sur $] 3; +\infty[$.

c) Etablis le tableau de variation de f

x	$-\infty$	-1	1	3
	$+\infty$			
$f'(x)$	-	+	+	-
$f(x)$	$+\infty$	4	$+\infty$	-4
		$-\infty$		$-\infty$

6) $f(0) = 5$ et $f'(0) = 3$ Donc (T) a pour équation $y = 3x + 5$

7) Soit (D) la droite d'équation $y = -x + 1$

a) On a $\lim_{x \rightarrow +\infty} (f(x) - (-x + 1)) = 0$ et $\lim_{x \rightarrow -\infty} (f(x) - (-x + 1)) = 0$.
 Donc (D) est une asymptote à (C) en $+\infty$ et en $-\infty$.

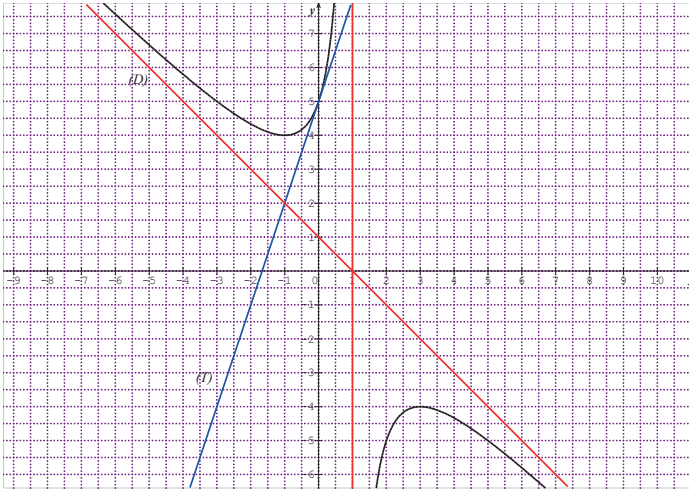
b) On a $f(x) - (-x + 1) = \frac{4}{1-x}$; pour x de $] -\infty; 1[$, $\frac{4}{1-x} > 0$ et pour x de $] 1; +\infty[$, $\frac{4}{1-x} < 0$. Donc sur $] -\infty; 1[$ (C) est au-dessus de (D) et sur $] 1; +\infty[$ (C) est au-dessous de (D).

8) Soit g la fonction de \mathbb{R} vers \mathbb{R} définie par $g(x) = f(x + 1)$

a) $g(x) = -x - \frac{4}{x}$; l'ensemble de définition de g est $\mathbb{R} - \{0\}$; il est symétrique par rapport à 0. De plus $g(-x) = -g(x)$. Donc g est impaire

b) Le point de coordonnées $(1; 0)$ est centre de symétrie de (C).

9)

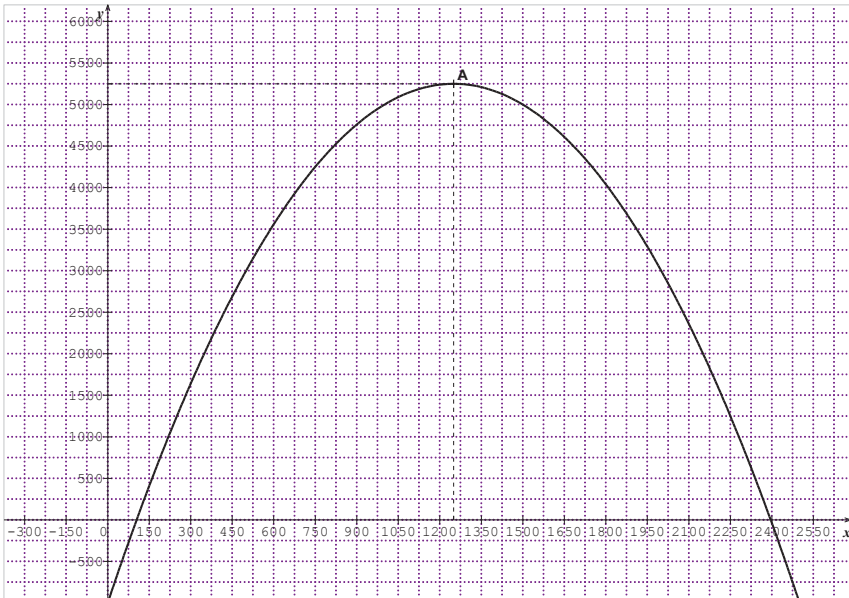


Exercice 14

- 1) On a $B(x) = -0,004x^2 + 10x - 1000$. Il suffit de résoudre l'équation $B(x) = 0$. On trouve 2396 et 104. Donc le bénéfice est nul si elle produit 2396 galettes ou 104 galettes.
- 2) a) Pour tout x ; $B'(x) = -0,008x + 10$.
 b) $B'(x) \geq 0$ pour $x \leq 1250$ et $B'(x) > 0$ et pour $x < 1250$. Donc B est croissante sur $]0; 1250[$ et décroissante sur $]1250; +\infty[$.
 c) Déduis-en les valeurs de x pour lesquelles le bénéfice est positif.
 D'après ce qui précède, le bénéfice est positif pour un nombre de galettes compris entre 104 et 2396.
- 3) Etablissons le tableau de variation de f

x	0	1250	$+\infty$
$B'(x)$		+	-
$B(x)$	-1000	5250	$+\infty$

D'après le tableau de variation, le bénéfice maximal est 5250F, il correspond à 1250 galettes.



SOLUTION DE LA SITUATION D'ÉVALUATION 1

La fonction f est une fonction polynôme de degré 3. Elle est donc de la forme :
 $f(x) = ax^3 + bx^2 + cx + d$ avec $a \neq 0$

- La courbe de f passe par A, origine du repère ; donc $d = 0$
- La courbe de f passe par B ; donc $f(3) = 2$ c'est-à-dire : $27a + 9b + 3c = 2$
- La tangente à la courbe de f est la droite des abscisses ; donc $f'(0) = 0$ cela donne : $c = 0$.
Donc : $f(x) = ax^3 + bx^2$
- La tangente en B à la courbe de f fait un angle α avec l'horizontal tel que $\tan \alpha = 3$. Donc $f'(3) = 3$ c'est-à-dire que $27a + 6b = 3$.

On obtient donc le système d'équations suivantes : $\begin{cases} 27a + 9b = 2 \\ 27a + 6b = 3 \end{cases}$ dont la résolution donne $a = \frac{5}{27}$ et $b = -\frac{1}{3}$.

Donc finalement $f(x) = \frac{5}{27}x^3 - \frac{1}{3}x^2$

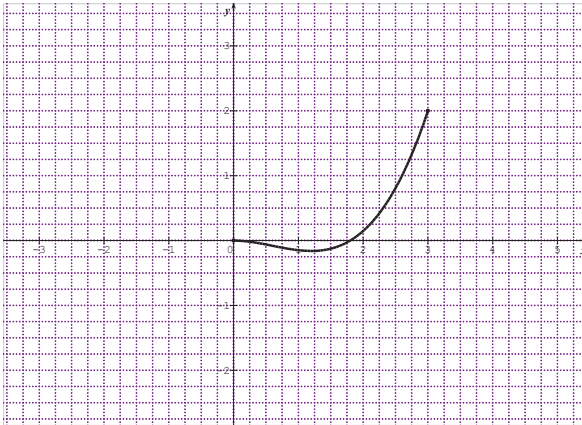
Etude et représentation graphique de la fonction f

La fonction f est continue et dérivable sur \mathbb{R} car c'est une fonction polynôme.

Pour tout x de \mathbb{R} , $f'(x) = \frac{x}{3} \left(\frac{5}{3}x - 2 \right)$. Le tableau de variation de f est le suivant :

La fonction f est décroissante sur l'intervalle $\left[0; \frac{6}{5}\right]$ et elle est croissante sur l'intervalle $\left]\frac{6}{5}; 3\right]$ ensuite

$$f\left(\frac{6}{5}\right) = -\frac{52}{25}$$



SOLUTION DE LA SITUATION D'ÉVALUATION 2

1. Dans un circuit monté en parallèle, $\frac{1}{R_e} = \frac{1}{R_1} + \frac{1}{R_2}$.

Dans un circuit monté en série, $R'_e = R_1 + R_2$

Donc $R_e = \frac{R_1 R_2}{R_1 + R_2}$ et $R'_e = R_1 + R_2$

2. Soit la fonction f définie et dérivable sur l'intervalle $[0; +\infty[$ par :

$$f(x) = \frac{x^2 + x}{2x + 1}$$

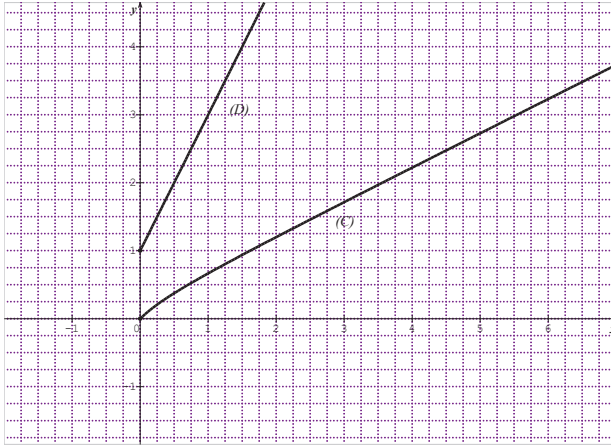
3. Pour tout x de $[0; +\infty[$, $f'(x) = \frac{2x^2 + 2x + 1}{(2x + 1)^2}$ le polynôme $2x^2 + 2x + 1$ est strictement positif car son discriminant est négatif. Il en résulte que Pour tout x de $[0; +\infty[$, $f'(x) > 0$.

D'après ce qui précède, $R_e = f(x)$ et $R'_e = 2x + 1$

Pour comparer graphiquement R_e , on représente (C) de la fonction f et la demi-droite (D) sur l'intervalle $[0; +\infty[$. On obtient les représentations graphiques suivantes :

Selon ces représentations graphiques, $R'_e < R_e$

On peut donc affirmer que l'élève a tort.



Solution de la situation d'évaluation 3

1. Soit un rectangle d'aire de mesure S donnée et de côtés x et y . Son périmètre est :

$$P = 2(x + y). \text{ Le périmètre est donc : } P = 2\left(x + \frac{S}{x}\right).$$

2. On considère la fonction f dérivable et définie sur l'intervalle

$$]0; +\infty[\text{ par : } f(x) = 2x + \frac{2S}{x}$$

Pour tout $x > 0$, $f'(x) = 2\left(1 - \frac{S}{x^2}\right)$, donc $f'(x) < 0$ pour $x \in]0; \sqrt{S}[$

et $f'(x) > 0$ pour tout $x \in]\sqrt{S}; +\infty[$. Il en résulte que la fonction

f est décroissante sur l'intervalle $]0; \sqrt{S}[$ et croissante sur

l'intervalle $]\sqrt{S}; +\infty[$. Enfin $f(\sqrt{S}) = 4\sqrt{S}$.

3. D'après ce qui précède, la fonction f admet un minimum en \sqrt{S} ; ce minimum est égal à $4\sqrt{S}$.

En conclusion tous les rectangles d'aire donnée S qui ont un

périmètre minimum sont des carrés de côté \sqrt{S} unités. Ce

périmètre minimum est : $4\sqrt{S}$ unité d'aire.

10

ANGLES ORIENTES ET TRIGONOMETRIE

SOLUTIONS DES EXERCICES

I- ANGLES ORIENTES

1- Mesures d'un angle orienté

Propriétés-définitions

Solution des exercices de fixation

Exercice 1

Les mesures de (\vec{u}, \vec{v}) sont $\frac{79\pi}{6} - 216\pi$; $\frac{79\pi}{6} - 8\pi$; $\frac{79\pi}{6} + 1102\pi$ et $\frac{-5\pi}{6}$ car $\frac{-5\pi}{6} = \frac{79\pi}{6} - 14\pi$

Exercice 2

1) Parmi les mesures suivantes, coche celles qui sont des mesures principales :

Mesures	$\frac{-41\pi}{75}$	271π	$\frac{3\pi}{10}$	$\frac{-6\pi}{5}$	$\frac{-3640\pi}{991}$	0	$\frac{-3\pi}{4}$	$-\pi$	π
Cases à cocher									

2) Dans chacun des cas ci-dessous, détermine la mesure principale

- a) -230π b) 371π c) $\frac{45\pi}{2}$ d) $\frac{-191\pi}{12}$ e) $\frac{151\pi}{6}$ f) $\frac{-32\pi}{3}$
 g) $\frac{-2\pi}{3}$

Les mesures principales associées :

$$-230\pi \rightarrow 0 \text{ car } -230\pi = 0 + 2(-115\pi) ; 371\pi \rightarrow \pi \text{ car } 371\pi = \pi + 2(185\pi)$$

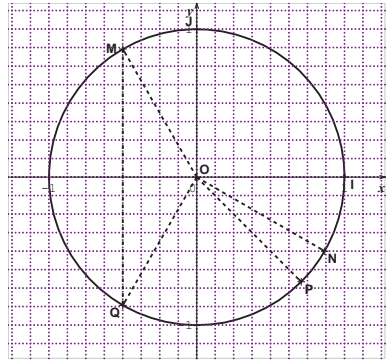
$$\frac{45\pi}{2} \rightarrow \frac{\pi}{2} \text{ car } \frac{45\pi}{2} = \frac{\pi}{2} + 22\pi ; \frac{-191\pi}{12} \rightarrow \frac{\pi}{12} \text{ car } \frac{-191\pi}{12} = \frac{\pi}{12} - 16\pi ; \frac{151\pi}{6} \rightarrow \frac{-5\pi}{6} \text{ car } \frac{151\pi}{6} = \frac{-5\pi}{6} + 26\pi$$

$$\frac{-32\pi}{3} \rightarrow \frac{-2\pi}{3} \text{ car } \frac{-32\pi}{3} = \frac{-2\pi}{3} - 30\pi ; \frac{-2\pi}{3} \rightarrow \frac{-2\pi}{3} \text{ car } \frac{-2\pi}{3} \in]-\pi; \pi].$$

On obtient donc le tableau récapitulatif suivant :

Mesures d'angles orientés	-230π	371π	$\frac{45\pi}{2}$	$\frac{-191\pi}{12}$	$\frac{151\pi}{6}$	$\frac{-32\pi}{3}$	$\frac{-2\pi}{3}$
Mesures principales associées	0	π	$\frac{\pi}{2}$	$\frac{\pi}{12}$	$\frac{-5\pi}{6}$	$\frac{-2\pi}{3}$	$\frac{-2\pi}{3}$

Exercice 3



2- Mesures de la somme et de la différence de deux angles orientés

Solution des exercices de fixation

Exercice 1

$\text{mes}(\hat{\alpha})$	0	$\frac{-2\pi}{3}$	$\frac{\pi}{4}$	π
$\text{mes}(\hat{\beta})$	$\frac{\pi}{2}$	$-\pi$	$\frac{7\pi}{12}$	$\frac{-5\pi}{6}$
$\text{mes}(\hat{\alpha} + \hat{\beta})$	$\frac{\pi}{2}$	$\frac{-5\pi}{3}$	$\frac{5\pi}{6}$	$\frac{\pi}{6}$
$\text{mes}(\hat{\alpha} - \hat{\beta})$	$-\frac{\pi}{2}$	$\frac{\pi}{3}$	$\frac{-\pi}{3}$	$\frac{11\pi}{6}$

Exercice 2

Mes($\widehat{\alpha}$)	0	$\frac{-2\pi}{3}$	$\frac{5\pi}{6}$	$\frac{2\pi}{5}$	26°
mes($\widehat{\beta}$)	π	$-\pi$	$\frac{5\pi}{4}$	$\frac{21\pi}{4}$	1109°
Mes($\widehat{\alpha} + \widehat{\beta}$)	π	$\frac{\pi}{3}$	$\frac{\pi}{12}$	$\frac{-7\pi}{20}$	55°
Mes($\widehat{\alpha} - \widehat{\beta}$)	π	$\frac{\pi}{3}$	$\frac{-5\pi}{12}$	$\frac{-17\pi}{20}$	-3°

3- Propriétés des angles orientés

Propriété 1 : relation de Chasles

Solution de l'exercice de fixation

En utilisant la relation de Chasles, $(\widehat{AB, AC}) = (\widehat{AB, CA}) + (\widehat{CA, AC}) \hat{\pi} + (\widehat{AB, CA})$

Les vecteurs \overrightarrow{CA} et \overrightarrow{AC} sont colinéaires de sens contraires. Donc $(\widehat{CA, AC}) = \hat{\pi}$.

Par suite $(\widehat{AB, AC}) = (\widehat{AB, CA}) + \hat{\pi}$

Propriété 2

Propriété 3

Solution de exercices de fixation

Exercice 1

mes($\widehat{u, v}$)	0	$\frac{-2\pi}{3}$	$\frac{-19\pi}{4}$	317π
Mes($\widehat{-u, -v}$)	0	$\frac{-2\pi}{3}$	$\frac{-3\pi}{4}$	π
Mes($\widehat{25u, 13v}$)	0	$\frac{-2\pi}{3}$	$\frac{-3\pi}{4}$	π
Mes($\widehat{-5u, v}$)	π	$\frac{\pi}{3}$	$\frac{\pi}{4}$	0

Exercice 2

$$(\overrightarrow{AB}, \overrightarrow{AC}) + (\overrightarrow{CA}, \overrightarrow{CB}) + (\overrightarrow{BC}, \overrightarrow{BA}) = (\overrightarrow{AB}, \overrightarrow{AC}) + (\overrightarrow{AC}, \overrightarrow{CB}) + \hat{\pi} + (\overrightarrow{BC}, \overrightarrow{BA})$$

$$(\overrightarrow{AB}, \overrightarrow{AC}) + (\overrightarrow{CA}, \overrightarrow{CB}) + (\overrightarrow{BC}, \overrightarrow{BA}) = (\overrightarrow{AB}, \overrightarrow{CB}) + (\overrightarrow{CB}, \overrightarrow{AB}) + \hat{\pi} = (\overrightarrow{AB}, \overrightarrow{AB}) + \hat{\pi} = \hat{\pi}$$

$$\text{Donc } (\overrightarrow{AB}, \overrightarrow{AC}) + (\overrightarrow{BC}, \overrightarrow{BA}) + (\overrightarrow{CA}, \overrightarrow{CB}) = \hat{\pi}$$

II- LIGNES TRIGONOMETRIES D'ANGLES ORIENTES

1- Cosinus, sinus et tangente d'un angle orienté

Solutions des exercices de fixation

Exercice 1

- 1) Sur le cercle trigonométrique, $-\frac{5\pi}{3}$ et $\frac{\pi}{3}$ ont le même point image.

$$\text{Donc } \cos\left(-\frac{5\pi}{3}\right) = \cos\left(\frac{\pi}{3}\right) = \frac{1}{2} \quad \text{et} \quad \sin\left(-\frac{5\pi}{3}\right) = \sin\left(\frac{\pi}{3}\right) = \frac{\sqrt{3}}{2}$$

- 2) Sur le cercle trigonométrique, les points images de $\frac{7\pi}{4}$ et $\frac{\pi}{4}$ sont

symétriques par rapport à l'axe des abscisses. Donc $\cos\left(\frac{7\pi}{4}\right) =$

$$\cos\left(\frac{\pi}{4}\right) = \frac{\sqrt{2}}{2} \quad \text{et} \quad \sin\left(\frac{7\pi}{4}\right) = -\sin\left(\frac{\pi}{4}\right) = -\frac{\sqrt{2}}{2}$$

Exercice 2

$$\tan\left(-\frac{5\pi}{3}\right) = \frac{\frac{\sqrt{3}}{2}}{\frac{1}{2}} = \sqrt{3}; \quad \tan\left(\frac{7\pi}{4}\right) = -1$$

Exercice 3

- a) $\tan(0) = 0$; b) $\tan\left(\frac{\pi}{4}\right) = 1$; c) $\tan\left(\frac{-2\pi}{3}\right) = -\tan\left(\frac{2\pi}{3}\right) = \sqrt{3}$.

Exercice 4

$$1. \quad \tan\left(\frac{\pi}{3}\right) = \frac{\sin\left(\frac{\pi}{3}\right)}{\cos\left(\frac{\pi}{3}\right)} = \frac{\frac{\sqrt{3}}{2}}{\frac{1}{2}} = \sqrt{3}$$

$$2. \quad \tan\left(\frac{\pi}{2} + \frac{\pi}{3}\right) = \frac{\sin\left(\frac{\pi}{2} + \frac{\pi}{3}\right)}{\cos\left(\frac{\pi}{2} + \frac{\pi}{3}\right)} = \frac{\cos\left(\frac{\pi}{3}\right)}{-\sin\left(\frac{\pi}{3}\right)}. \text{ Donc } \tan\left(\frac{\pi}{2} + \frac{\pi}{3}\right) = \frac{-1}{\tan\left(\frac{\pi}{3}\right)}$$

$$3. \quad \frac{5\pi}{6} = \frac{\pi}{2} + \frac{\pi}{3} \text{ donc } \tan\left(\frac{5\pi}{6}\right) = \frac{-1}{\tan\left(\frac{\pi}{3}\right)} = \frac{-\sqrt{3}}{3}$$

Conséquences de la définition

Solution de l'exercice de fixation

$$1) \quad \text{On sait que } \cos^2 x + \sin^2 x = 1. \text{ D'où } \sin x = -\sqrt{1 - \cos^2 x} = -\sqrt{1 - \frac{1}{9}} = -\frac{2\sqrt{2}}{3}$$

$$2) \quad \cos(\alpha + 10\pi) = \cos(\alpha + 2(5\pi)) = \cos \alpha. \text{ Donc } \cos(\alpha + 10\pi) = \frac{1}{3} \text{ et } \sin(\alpha - 38\pi) = \sin(\alpha + 2(-19\pi)) = \sin \alpha. \text{ Donc } \sin(\alpha - 38\pi) = -\frac{3}{5}$$

Solution de l'exercice de fixation

$$A = 3\cos x + \sqrt{3}\sin x = \sqrt{3^2 + \sqrt{3}^2} \left(\frac{3}{\sqrt{3^2 + \sqrt{3}^2}} \cos x + \frac{\sqrt{3}}{\sqrt{3^2 + \sqrt{3}^2}} \sin x \right) =$$

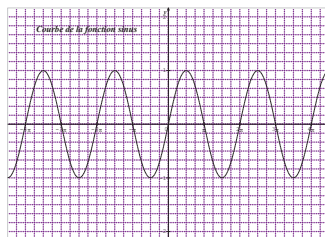
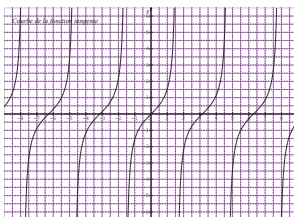
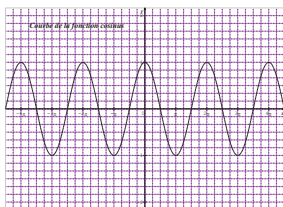
$$2\sqrt{3} \left(\frac{\sqrt{3}}{2} \cos x + \frac{1}{2} \sin x \right) = 2\sqrt{3} \cos \left(x - \frac{\pi}{6} \right).$$

$$\text{Donc } A = 2\sqrt{3} \cos \left(x - \frac{\pi}{6} \right). \text{ Remarquons qu'on a aussi } A = 2\sqrt{3} \sin \left(x + \frac{\pi}{6} \right)$$

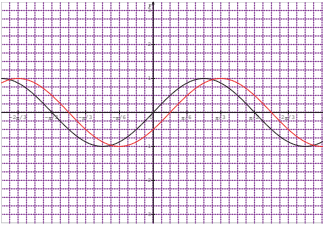
2- Fonction sinus et fonction cosinus

Solution des exercices de fixation

Exercice 1



Exercice 2



3- Fonction périodique

Solution de l'exercice de fixation

- La période de $\cos 2x$ est π ;
- La période de $\sin\left(-3x + \frac{\pi}{3}\right)$ est $\frac{2\pi}{3}$;
- La période de $\tan\left(\frac{2x}{3}\right)$ est $\frac{3\pi}{2}$

4- Formules de trigonométrie

Solution des exercices de fixation

Exercice 1

$$3 \cos(\pi + x) = -3\cos x ; 5 \sin\left(\frac{\pi}{2} + x\right) = 5\cos x ; 3 \cos(-x + \pi) = -3 \cos(-x) = -3\cos x.$$

La somme donne : $-3\cos x + 5\cos x - 3\cos x = 5\cos x - 6\cos x$

$$\text{Donc } \cos x + 3 \cos(\pi + x) + 5 \sin\left(\frac{\pi}{2} + x\right) + 3 \cos(-x + \pi) = 6\cos x - 6\cos x = 0$$

Exercice 2

$$\sin\left(-x - \frac{3\pi}{2}\right) = -\sin\left(x + \frac{3\pi}{2}\right). \text{ Ensuite } \sin\left(x + \pi + \frac{\pi}{2}\right) = \sin\left(x + \frac{\pi}{2}\right) = -\cos x.$$

$$\text{Donc } \sin\left(-x - \frac{3\pi}{2}\right) = \cos x.$$

Propriété 2 : formules d'addition

Solution des exercices de fixation

Exercice 1

$$\cos\left(x + \frac{7\pi}{2}\right) = \cos\left(x - \frac{\pi}{2}\right) = \cos\left(\frac{\pi}{2} - x\right) = \sin x. \text{ Ensuite } \cos\left(x + \frac{5\pi}{6}\right) = \frac{-\sqrt{3}}{2} \cos x - \frac{1}{2} \sin x$$

$$\text{Donc } \cos\left(x + \frac{7\pi}{2}\right) + \cos\left(x + \frac{5\pi}{6}\right) = \sin x - \frac{\sqrt{3}}{2} \cos x - \frac{1}{2} \sin x = \frac{1}{2} \sin x - \frac{\sqrt{3}}{2} \cos x = \sin\left(x - \frac{\pi}{3}\right)$$

Exercice 2

$$1) \frac{\pi}{3} - \frac{\pi}{4} = \frac{\pi}{12}$$

$$2) \text{ a) } \cos \frac{\pi}{12} = \frac{\sqrt{2}}{4} + \frac{\sqrt{6}}{4} \text{ et } \sin \frac{\pi}{12} = \frac{\sqrt{6}}{4} - \frac{\sqrt{2}}{4}. \text{ Donc}$$

$$\text{ b) } \cos \frac{5\pi}{12} = \cos\left(\frac{\pi}{2} - \frac{\pi}{12}\right) = \sin \frac{\pi}{12} = \frac{\sqrt{6}}{4} - \frac{\sqrt{2}}{4} \text{ et donc } \sin \frac{5\pi}{12} = \cos \frac{\pi}{12} = \frac{\sqrt{2}}{4} + \frac{\sqrt{6}}{4}$$

$$\text{ c) } \cos \frac{7\pi}{12} = \cos\left(\frac{\pi}{2} + \frac{\pi}{12}\right) = -\sin \frac{\pi}{12} = -\frac{\sqrt{6}}{4} + \frac{\sqrt{2}}{4} \text{ et } \sin\left(\frac{7\pi}{12}\right) = \cos \frac{\pi}{12} = \frac{\sqrt{2}}{4} + \frac{\sqrt{6}}{4}.$$

$$\text{ d) } \cos \frac{19\pi}{12} = \cos\left(\pi + \frac{7\pi}{12}\right) = -\cos \frac{7\pi}{12} = \sin \frac{7\pi}{12} = \frac{\sqrt{2}}{4} + \frac{\sqrt{6}}{4} \text{ et } \sin\left(\frac{19\pi}{12}\right) = -\sin \frac{7\pi}{12} = -\left(\frac{\sqrt{2}}{4} + \frac{\sqrt{6}}{4}\right)$$

Propriété 3 : formule de duplication

Solution de l'exercice de fixation

$$1) \sin^2 \theta = 1 - \cos^2 \theta = \frac{2 - \sqrt{2}}{4}. \text{ Donc } \cos 2\theta = \left(\frac{\sqrt{2 + \sqrt{2}}}{2}\right)^2 - \frac{2 - \sqrt{2}}{4} = \frac{\sqrt{2}}{2}$$

$$2) \sin^2 \theta = 1 - \cos^2 \theta = \frac{16}{25} \text{ et } \sin \theta > 0. \text{ Donc } \sin \theta = \frac{4}{5}$$

Propriété 4 : formules de linéarisation

Solution de l'exercice de fixation

- 1) a) $\cos^2 \frac{\pi}{8} = \frac{1 + \cos 2 \frac{\pi}{8}}{2} = \frac{1 + \cos \frac{\pi}{4}}{2} = \frac{1 + \frac{\sqrt{2}}{2}}{2} = \frac{2 + \sqrt{2}}{4}$. Donc $\cos^2 \frac{\pi}{8} = \frac{2 + \sqrt{2}}{4}$.
- b) La valeur exacte de $\cos \frac{\pi}{8}$ est donc $\frac{\sqrt{2 + \sqrt{2}}}{2}$ et $\cos \frac{\pi}{8} > 0$ car $\frac{\pi}{8} \in [0; \frac{\pi}{2}]$. Donc $\cos \frac{\pi}{8} = \frac{\sqrt{2 + \sqrt{2}}}{2}$

Propriété 5 : formules de transformation d'une somme en produit

Solution de l'exercice de fixation

- $\sin x - \sin 3x = 2 \sin(-x) \cos(2x)$
- $\cos 2x + \cos 5x = 2 \cos\left(\frac{7}{2}x\right) \cos\left(\frac{3}{2}x\right)$
- $\cos(3x) - \cos\left(\frac{\pi}{3}\right) = -2 \sin\left(\frac{3}{2}x + \frac{\pi}{6}\right) \sin\left(\frac{3}{2}x - \frac{\pi}{6}\right)$

Propriété 6 : formules de transformation d'un produit en somme

Solution de l'exercice de fixation

- $\cos(2x) \cos(2x) = \frac{1}{2} [\cos(5x) + \cos x]$
- $\sin(x) \cos(3x) = \frac{1}{2} [\cos(4x) + \cos(2x)]$
- $\sin'2x \sin(8x) = \frac{1}{2} [\sin(10x) + \sin(-6x)]$

III- EQUATIONS TRIGONOMETRIQUES

Propriétés

Solution de l'exercice de fixation

- 1) $\cos x = \cos\left(\frac{\pi}{5}\right) \Leftrightarrow \begin{cases} \alpha = \frac{\pi}{5} + 2k\pi, & k \in \mathbb{Z} \\ \text{ou} \\ \alpha = -\frac{\pi}{5} + 2k'\pi, & k' \in \mathbb{Z} \end{cases}$.

Dans $]0; 2\pi[$, on trouve les solutions $\frac{\pi}{5}$ et $\frac{9\pi}{5}$. Donc $S = \left\{ \frac{\pi}{5}; \frac{9\pi}{5} \right\}$

$$2) \sin x = \frac{1}{2} \Leftrightarrow \sin x = \sin\left(\frac{\pi}{6}\right) \Leftrightarrow \begin{cases} \alpha = \frac{\pi}{6} + 2k\pi, & k \in \mathbb{Z} \\ \text{ou} \\ \alpha = \pi - \frac{\pi}{6} + 2k'\pi, & k' \in \mathbb{Z} \end{cases} \Leftrightarrow$$

$$\begin{cases} \alpha = \frac{\pi}{6} + 2k\pi, & k \in \mathbb{Z} \\ \text{ou} \\ \alpha = \frac{5\pi}{6} + 2k'\pi, & k' \in \mathbb{Z} \end{cases}$$

Dans l'intervalle $]-\pi; 0]$, on trouve la solution est : $\frac{-5\pi}{6}$. Donc $S = \left\{ \frac{-5\pi}{6} \right\}$

$$3) \tan(x) = \tan\left(-\frac{\pi}{3}\right) \Leftrightarrow x = -\frac{\pi}{3} + k\pi, k \in \mathbb{Z}. \text{ Dans l'intervalle }]-\pi; 2\pi],$$

on trouve les solutions : $\frac{-\pi}{3}; \frac{2\pi}{3}$ et $\frac{5\pi}{3}$. Donc $S = \left\{ \frac{-\pi}{3}; \frac{2\pi}{3}; \frac{5\pi}{3} \right\}$

IV- INEQUATIONS TRIGONOMETRIQUES

Solution de l'exercice de fixation

$$1- \cos x = -\frac{1}{2} \Leftrightarrow \cos x = \cos\left(\frac{2\pi}{3}\right) \Leftrightarrow \begin{cases} x = \frac{2\pi}{3} + 2k\pi, & k \in \mathbb{Z} \\ \text{ou} \\ x = \frac{-2\pi}{3} + 2k\pi, & k \in \mathbb{Z} \end{cases}$$

$$S = \left\{ \frac{2\pi}{3} + 2k\pi, k \in \mathbb{Z} \right\} \cup \left\{ \frac{-2\pi}{3} + 2k\pi, k \in \mathbb{Z} \right\}$$

$$2- \sin x = -1 \Leftrightarrow \sin x = \sin\left(\frac{-\pi}{2}\right) \Leftrightarrow \begin{cases} x = \frac{-\pi}{2} + 2k\pi, & k \in \mathbb{Z} \\ \text{ou} \\ x = \frac{3\pi}{2} + 2k\pi, & k \in \mathbb{Z} \end{cases}$$

$$S = \left\{ \frac{-\pi}{2} + 2k\pi, k \in \mathbb{Z} \right\} \cup \left\{ \frac{3\pi}{2} + 2k\pi, k \in \mathbb{Z} \right\}$$

$$3- \tan x = 0 \Leftrightarrow x = k\pi, k \in \mathbb{Z}. S = \{k\pi, k \in \mathbb{Z}\}$$

SOLUTION DE LA SITUATION D'APPRENTISSAGE

Soit h la hauteur de l'arbre. A l'aide des formules des sinus dans un triangle vues en 2^{nde} C, on démontre que $h = \frac{\sin 16^\circ}{\sin 122^\circ} \frac{\sin 30^\circ}{\sin 18^\circ} \times 28,5\text{m} \cong 14,98\text{m}$. Soit environ 15 mètres

EXERCICES DE RENFORCEMENT/APPRENTISSAGE

Solution de l'exercice 1

Répons par vrai ou faux puis justifie ta réponse

- 1) On peut trouver un nombre réel α tel que : $\cos \alpha = -2$**FAUX**
car pour tout x de \mathbb{R} , $-1 \leq \cos x \leq 1$.
- 2) Pour tout nombre réel x , $\cos^2 x + \sin^2 x = 1$**VRAI car c'est une propriété du cours**
- 3) Les nombres 0 et 200π ont le même point image sur le cercle trigonométrique **VRAI car la mesure principale associée à 200π est 0**
- 4) $\cos\left(-\frac{11\pi}{3}\right) = \cos\frac{\pi}{3}$**VRAI car $-\frac{11\pi}{3} + 4\pi = \frac{\pi}{3}$**
- 5) Pour tout nombre réel x différent de $\frac{\pi}{2} + 2k\pi$, $\tan x = \frac{\sin x}{\cos x}$**VRAI car c'est la définition de $\tan x$**
- 6) Pour tous nombres réel a et b , $\cos(a + b) = \cos a \cos b + \sin a \sin b$
FAUX car $\cos(a + b) = \cos a \cos b - \sin a \sin b$
- 7) Le point $M\left(\frac{1}{2}; \frac{1}{2}\right)$ est sur le cercle trigonométrique (de rayon 1) **FAUX**
car $\left(\frac{1}{2}\right)^2 + \left(\frac{1}{2}\right)^2 \neq 1$
- 8) Les nombres $\sin\left(\frac{9\pi}{8}\right)$ et $\sin\left(-\frac{\pi}{8}\right)$ ont le même signe.....**FAUX car pour tout x de \mathbb{R} , $\sin(-x) = -\sin x$**
- 9) On peut trouver un nombre réel α tel que $\tan \alpha > 1$ **VRAI car $\tan \frac{\pi}{3} = \sqrt{3}$**
- 10) Pour tout nombre réel x différent de $k\pi$ et de $\frac{\pi}{2} + k\pi$, $\tan\left(\frac{\pi}{2} - x\right) = \frac{1}{\tan x}$
VRAI car

$$\tan\left(\frac{\pi}{2} - x\right) = \frac{\sin\left(\frac{\pi}{2} - x\right)}{\cos\left(\frac{\pi}{2} - x\right)} = \frac{\cos x}{\sin x} = \frac{1}{\tan x}$$

Solution de l'exercice 2

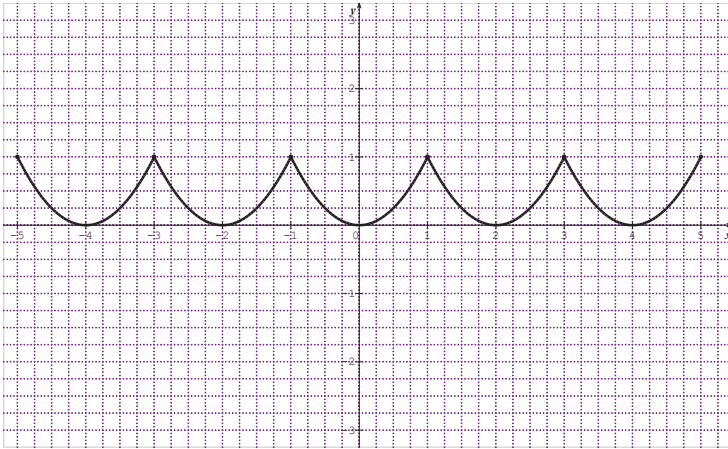
N°	QUESTIONS	PROPOSITION DE REPONSE		
		A	B	C
1	Si $\text{Mes}(\widehat{\vec{u}, \vec{v}}) = \frac{\pi}{3}$ alors $\text{Mes}(\widehat{-\vec{u}, \vec{v}})$ vaut	$\frac{-\pi}{3}$	$\frac{\pi}{3}$	$\frac{-2\pi}{3}$
2	Si $\text{Mes}(\widehat{\vec{u}, \vec{v}}) = \frac{-3\pi}{4}$ alors $\text{Mes}(\widehat{-\vec{u}, -\vec{v}})$ vaut	$\frac{-3\pi}{4}$	$\frac{\pi}{4}$	$\frac{3\pi}{4}$
3	Si $\sin x = 0$ et $x \in \left[\frac{\pi}{2}; \frac{3\pi}{2}\right]$ alors x est égal à	0	π	$\frac{\pi}{4}$
4	Si $\cos x = 0$ et $x \in \left[-\pi; \frac{\pi}{4}\right]$ alors x est égal à	0	$\frac{-\pi}{2}$	$\frac{\pi}{6}$
5	$\cos^2 x - \sin^2 x$ est égale à	1	-1	$\cos 2x$
6	$\cos^2 \frac{\pi}{4} + \sin^2 \frac{\pi}{3}$ est égale à	1	$\frac{3}{4}$	$\frac{\sqrt{2}}{2}$

Solution de l'exercice 3

- $(\widehat{AB, CA}) = \hat{\pi} + (\widehat{AB, AC}) = \hat{\pi} + \frac{\hat{\pi}}{3} = \frac{4\hat{\pi}}{3} = \frac{-2\hat{\pi}}{3}$. Donc $\text{Mes}(\widehat{AB, CA}) = \frac{-2\pi}{3}$
- $(AB) \perp (CO)$. Donc $\text{Mes}(\widehat{AB, CO}) = \frac{\pi}{2}$
- $(AB) \parallel (IJ)$. Donc $\text{Mes}(\widehat{AB, IJ}) = 0$
- $(\widehat{AI, IJ}) = \hat{\pi} + (\widehat{IA, IJ}) = \hat{\pi} + (\widehat{AI, AB}) = \hat{\pi} - \frac{\hat{\pi}}{6} = \frac{5\hat{\pi}}{6}$. Donc $\text{Mes}(\widehat{AI, IJ}) = \frac{5\pi}{6}$

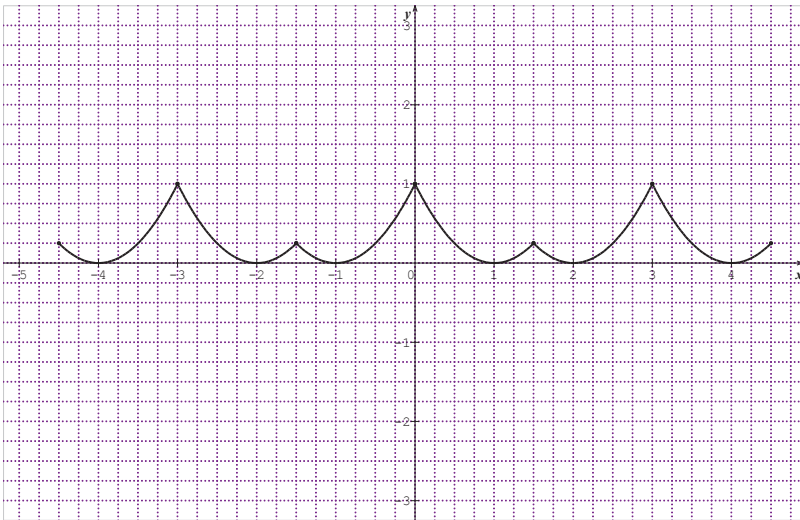
Solution de l'exercice 4

On obtient le tracé suivant :



Solution de l'exercice 5

1) On obtient le tracé suivant :



2) La période de la fonction est 1,5

Solution de l'exercice 6

1) La fonction f est définie sur \mathbb{R} ,

$$f(x + 4\pi) = \sin(2(x + 4\pi)) + \cos\left(\frac{(x+4\pi)}{2}\right) = \sin(2x + 8\pi) + \cos\left(\frac{x}{2} + 2\pi\right) = \sin(2x) + \cos\left(\frac{x}{2}\right).$$

Donc $f(x + 4\pi) = f(x)$

2) La période de $x \mapsto \sin(4x)$ est $\frac{2\pi}{4} = \frac{\pi}{2}$; celle de $x \mapsto \cos(6x)$ est $\frac{2\pi}{6} = \frac{\pi}{3}$.

Le plus petit multiple commun strictement positif de $\frac{\pi}{2}$ et $\frac{\pi}{3}$ est π .

Donc la période de f est π

Solution de l'exercice 7

1) $\cos\left(x + \frac{2\pi}{3}\right) = -\frac{1}{2}\cos x - \frac{\sqrt{3}}{2}\sin x$ et $\cos\left(x + \frac{4\pi}{3}\right) = -\frac{1}{2}\cos x + \frac{\sqrt{3}}{2}\sin x$
d'où le résultat.

2) $\sin\left(x + \frac{2\pi}{3}\right) = -\frac{1}{2}\sin x + \frac{\sqrt{3}}{2}\cos x$ et $\sin\left(x + \frac{4\pi}{3}\right) = -\frac{1}{2}\sin x - \frac{\sqrt{3}}{2}\cos x$
d'où le résultat.

Solution de l'exercice 8

1) $\cos x > 0$ d'où $\cos x = \sqrt{1 - \left(\frac{3}{5}\right)^2} = \frac{4}{5}$. $\sin 2x = 2\sin x \cos x = \frac{12}{25}$

2) $\sin x < 0$ d'où $\sin x = -\sqrt{1 - \left(\frac{1}{\sqrt{3}}\right)^2} = -\frac{\sqrt{6}}{3}$. $\sin 2x = 2\sin x \cos x = \frac{-\sqrt{2}}{3}$

Solution de l'exercice 9

1) $\cos^4 x - \sin^4 x = (\cos^2 x + \sin^2 x)(\cos^2 x - \sin^2 x) = \cos 2x$

2) $(\cos^2 x + \sin^2 x)^2 = \cos^4 x + \sin^4 x + 2\cos^2 x \sin^2 x$. Mais $(\cos^2 x + \sin^2 x)^2 = 1$ et $2\cos^2 x \sin^2 x = \frac{1}{2}\sin^2 2x$

Donc $\cos^4 x + \sin^4 x = 1 - \frac{1}{2}\sin^2 2x$

Solution de l'exercice 10

On a : $\sin^4 x = \left(\frac{1-\cos 2x}{2}\right)^2 = \frac{1-2\cos 2x+\cos^2 2x}{4} = \frac{3-4\cos 2x+\cos 4x}{8}$. D'où le résultat.

Solution de l'exercice 11

- 1) $\cos 3x = \cos(x+2x) = \cos x \cos 2x - \sin x \sin 2x = \cos x(2\cos^2 x - 1) - 2\cos x(1 - \cos^2 x) = 4\cos^3 x - 3\cos x$
- 2) $\frac{\cos 3x}{\cos x} - \frac{\sin 3x}{\sin x} = \frac{\sin x \cos 3x - \sin 3x \cos x}{\cos x \sin x} = \frac{\sin(x-3x)}{\cos x \sin x} = \frac{\sin(-2x)}{\cos x \sin x} = -2$

Solution de l'exercice 12

- 1) $\cos x - \sin x = \sqrt{2} \left(\frac{\sqrt{2}}{2} \cos x - \frac{\sqrt{2}}{2} \sin x \right) = \sqrt{2} \left(\sin \frac{\pi}{4} \cos x - \sin x \cos \frac{\pi}{4} \right) = \sqrt{2} \sin \left(\frac{\pi}{4} - x \right)$
- 2) Pour tout $x \in]-\pi; \pi]$, $\sin \left(\frac{\pi}{4} - x \right) \geq 0 \Leftrightarrow \frac{-3\pi}{4} \leq x \leq \frac{\pi}{4}$ et $\sin \left(\frac{\pi}{4} - x \right) \leq 0 \Leftrightarrow \frac{\pi}{4} \leq x \leq \pi$

Conclusion : Pour tout $x \in]-\pi; \pi]$, $\cos x = \sin x \Leftrightarrow x = \frac{-3\pi}{4}$ ou $\frac{\pi}{4}$

$$\cos x > \sin x \Leftrightarrow \frac{-3\pi}{4} < x < \frac{\pi}{4}$$

$$\cos x < \sin x \Leftrightarrow \frac{\pi}{4} < x < \pi$$

Solution de l'exercice 13

1) Pour $x \in \left[\frac{-\pi}{2}; \frac{\pi}{2} \right]$, $\cos x \geq 0$. Donc $\cos x = \frac{\sqrt{2}+\sqrt{6}}{4}$.

2) $\sin x \leq 0$ et $\cos x \geq 0$ donc $x \in \left[-\frac{\pi}{12}; \frac{-5\pi}{12} \right]$.

On a $|\sin x| = \frac{\sqrt{6}-\sqrt{2}}{4}$ et $\frac{\sqrt{6}-\sqrt{2}}{4} \leq \frac{\sqrt{6}+\sqrt{2}}{4}$ c'est-à-dire que $|\sin x| \leq |\cos x|$.

Or $\left| \sin \frac{-\pi}{12} \right| \leq \left| \cos \frac{-\pi}{12} \right|$ et $\left| \sin \frac{-5\pi}{12} \right| \geq \left| \cos \frac{-5\pi}{12} \right|$. Donc $x = -\frac{\pi}{12}$

Solution de l'exercice 14

1) $1 + \tan^2 x = \frac{\cos^2 x + \sin^2 x}{\cos^2 x} = \frac{1}{\cos^2 x}$

2) a) $\cos x = \frac{2\sqrt{5}}{5}$ et $\sin x = \frac{\sqrt{5}}{5}$

b) $\tan x = -\frac{\sqrt{3}}{2}$ et $x \in \left] -\frac{\pi}{2}; 0 \right]$ cela entraîne $\cos x \leq 0$ et $\sin x \geq 0$. Donc

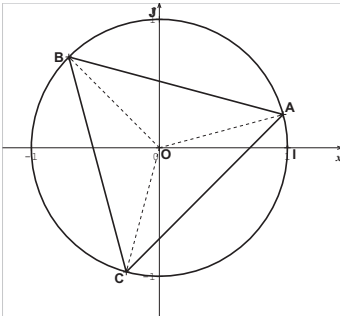
$\cos x = -\frac{2\sqrt{7}}{7}$ et $\sin x = \frac{\sqrt{21}}{7}$

Solution de l'exercice 15

Pour tout $x \in [-2\pi; \pi]$ $\cos x - \sqrt{3}\sin x = -1 \Leftrightarrow \cos\left(\frac{\pi}{3} + x\right) = -\frac{1}{2} \Leftrightarrow x \in \left\{-\pi; \pi; \frac{\pi}{3}; \frac{-5\pi}{3}\right\}$

Donc $S = \left\{-\pi; \pi; \frac{\pi}{3}; \frac{-5\pi}{3}\right\}$

Solution de l'exercice 16



1) $Df = \mathbb{R} - \left\{\frac{\pi}{2} + k\pi, k \in \mathbb{Z}\right\}$

2) $Dg = \mathbb{R} - \{k\pi, k \in \mathbb{Z}\}$

3) $Dh = \mathbb{R} - \{2k\pi, k \in \mathbb{Z}\}$

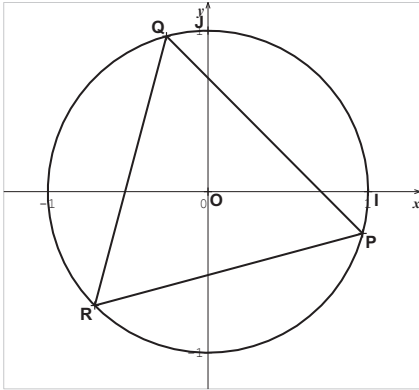
Solution de l'exercice 17

Ensemble des solutions : $S = \left\{\frac{\pi}{12} + \frac{2k\pi}{3}; k \in \mathbb{Z}\right\} \cup \left\{\frac{-\pi}{12} + \frac{2k\pi}{3}; k \in \mathbb{Z}\right\}$

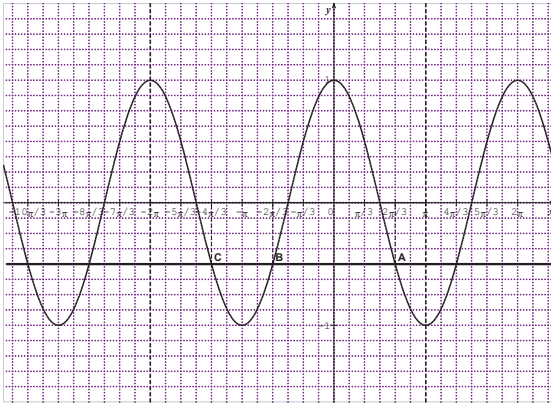
Pour les représentations graphiques, dans chaque cas, on fait varier k de 0 à 2.

Appelons A, B et C les points images $\frac{\pi}{12}$; $\frac{9\pi}{12}$ et $\frac{-7\pi}{12}$. Puis P, Q et R les images de $\frac{-\pi}{12}$; $\frac{7\pi}{12}$ et $\frac{-3\pi}{4}$.

ABC et PQR sont des triangles équilatéraux.



Solution de l'exercice 18



L'ensemble des solutions est donc : $S = \left\{ \frac{-4\pi}{3}; \frac{-2\pi}{3}; \frac{2\pi}{3} \right\}$

Solution de l'exercice 19

Après résolutions, on obtient les ensembles des solutions suivantes :

- 1) $S = \left\{ \frac{-4\pi}{3}; \frac{-2\pi}{3}; \frac{2\pi}{3}; \frac{4\pi}{3} \right\}$
- 2) $S = \left\{ \frac{\pi}{6}; \frac{5\pi}{6} \right\}$
- 3) $S = \left\{ \frac{-\pi}{6}; \frac{5\pi}{6} \right\}$

Selon le graphique ci-dessous, l'ensemble des solutions est :

$$S = \left[\frac{-11\pi}{6}; \frac{-7\pi}{6} \right] \cup \left[\frac{\pi}{6}; \frac{5\pi}{6} \right]$$

Solution de l'exercice 24

$$x \in [0, 2\pi[, 2\sin^2x + 7\cosx - 5 < 0 \Leftrightarrow x \in [0, 2\pi[, -2\cos^2x + 7\cosx - 3 < 0$$

L'équation : $-2X^2 + 7X - 5 = 0$ a pour solution : 3 et $\frac{1}{2}$

$$\text{Donc } x \in [0, 2\pi[, -2\cos^2x + 7\cosx - 3 < 0 \Leftrightarrow -2(\cosx - 3) \left(\cosx - \frac{1}{2} \right) < 0 \Leftrightarrow \cosx - \frac{1}{2} < 0 \text{ car}$$

$$-2(\cosx - 3) > 0. \text{ Donc } S = \left[\frac{\pi}{3}; \frac{5\pi}{6} \right[$$

Solution de l'exercice 25

$$1) (\sqrt{3} + \sqrt{2})^2 = 5 + 2\sqrt{6}$$

$$2) S = \left\{ -\frac{\sqrt{3}}{2}; \frac{\sqrt{2}}{2} \right\}$$

$$3) x \in [0; 2\pi[, -4\sin^2x + 2(\sqrt{3} - \sqrt{2})\cosx - \sqrt{6} + 4 = 0 \Leftrightarrow -4\cos^2x + 2(\sqrt{3} - \sqrt{2})\cosx - \sqrt{6} = 0$$

$$-4\cos^2x + 2(\sqrt{3} - \sqrt{2})\cosx - \sqrt{6} = 0 \Leftrightarrow (\cosx = -\frac{\sqrt{3}}{2} \text{ ou } \cosx = \frac{\sqrt{2}}{2}) \Leftrightarrow$$

$$x \in \left\{ \frac{5\pi}{6}; \frac{7\pi}{6} \right\} \cup \left\{ \frac{\pi}{4}; \frac{7\pi}{4} \right\}$$

$$\text{Donc } S = \left\{ \frac{5\pi}{6}; \frac{7\pi}{6}; \frac{\pi}{4}; \frac{7\pi}{4} \right\}$$

Solution de l'exercice 26

Appelons $\hat{\alpha}$ l'angle orienté de mesure principale $\frac{\pi}{3}$; M le point image de $\hat{\alpha}$ sur le cercle trigonométrique dans le plan muni du repère orthonormé direct (O, I, J).

Donc M a pour coordonnées $(\cos(\frac{\pi}{3}); \sin(\frac{\pi}{3}))$ dans ce repère.

Soit H le projeté orthogonal de M sur (OI) et K le projeté orthogonal de M sur (OJ).

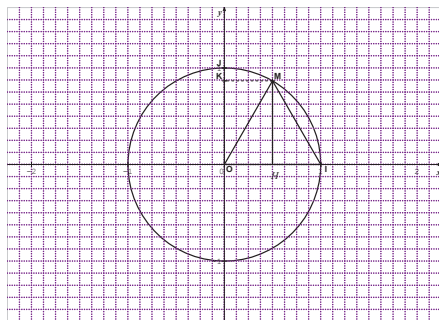
Le triangle OIM est isocèle en O et il possède un angle de mesure $\frac{\pi}{3}$. ce triangle est donc équilatéral.

H étant le projeté orthogonal de M sur (OI) ; H est donc le milieu de [OI].

Donc $OH = \frac{1}{2}$. M est sur le cercle trigonométrique, donc $OH^2 + OK^2 = 1$ par suite $OK = \frac{\sqrt{3}}{2}$.

Donc M a pour coordonnées $(\frac{1}{2}; \frac{\sqrt{3}}{2})$. Ce qui donne : $\cos(\frac{\pi}{3}) = \frac{1}{2}$ et $\sin(\frac{\pi}{3}) = \frac{\sqrt{3}}{2}$

Enfin : $\cos(\frac{\pi}{6}) = \cos(\frac{\pi}{2} - \frac{\pi}{3}) = \sin(\frac{\pi}{3})$. Donc $\cos(\frac{\pi}{6}) = \frac{\sqrt{3}}{2}$ et $\sin(\frac{\pi}{6}) = \frac{1}{2}$



SOLUTIONS DES SITUATIONS D'ÉVALUATION

Situation 1

1. Considérons le trapèze ABCE de bases [AB] et [EC], soit D le milieu de [AB].

Dans le triangle ADE, isocèle de sommet A, la formule des sinus donne :

$$\frac{ED}{\sin(\alpha)} = \frac{AD}{\sin(\frac{\pi}{2} - \alpha)}. \text{ Donc } ED = 2AD \sin(\frac{\alpha}{2}).$$

Dans le triangle EDC isocèle de sommet D, si on note H le projeté orthogonal de D sur [EC], H est le milieu de [ED], les angles \widehat{HED} et \widehat{EAD} ont la même mesure car ils sont alternes-internes et (EC) est parallèles à (AD).

Donc $\cos\left(\frac{\pi}{2} - \frac{\alpha}{2}\right) = \frac{EH}{ED}$. Donc $EH = ED \sin\left(\frac{\alpha}{2}\right)$. Mais $L(\alpha) = 2EH$ ce qui donne finalement $L(\alpha) = 4AD \sin^2\left(\frac{\alpha}{2}\right)$.

D'après ce qui précède, $l(\alpha) = ED$ c'est-à-dire que : $l(\alpha) = 2AD \sin\left(\frac{\alpha}{2}\right)$

2. On a : $L(\alpha) > l(\alpha) \Leftrightarrow 2AD \sin\left(\frac{\alpha}{2}\right) \left[2 \sin\left(\frac{\alpha}{2}\right) - 1\right] > 0$. Comme $0 < \alpha < \frac{\pi}{2}$, on a $0 < \frac{\alpha}{2} < \frac{\pi}{4}$; d'où $\sin\left(\frac{\alpha}{2}\right) > 0$.

Donc : $2AD \sin\left(\frac{\alpha}{2}\right) \left[2 \sin\left(\frac{\alpha}{2}\right) - 1\right] > 0 \Leftrightarrow 2 \sin\left(\frac{\alpha}{2}\right) - 1 > 0$ donc $\frac{\pi}{3} < \alpha < \frac{\pi}{2}$.

Conclusion : $L(\alpha) > l(\alpha) \Leftrightarrow \frac{\pi}{3} < \alpha < \frac{\pi}{2}$

Situation 2

- 1) Le triangle DAF est isocèle de sommet principal A car $AF = DA$ de plus une mesure de $(\overrightarrow{AB}, \overrightarrow{AF})$ est $\frac{\pi}{3}$ car le triangle ABF est équilatéral. Il en résulte qu'une mesure de $(\overrightarrow{AF}, \overrightarrow{AD})$ est égale à : $\frac{\pi}{6}$. Donc une mesure de $(\overrightarrow{DA}, \overrightarrow{DF})$ est égale à : $\frac{5\pi}{12}$.
Les angles $(\overrightarrow{DA}, \overrightarrow{DF})$ et $(\overrightarrow{DF}, \overrightarrow{DC})$ étant complémentaires, il en résulte qu'une mesure de $(\overrightarrow{DF}, \overrightarrow{DC})$ est égale à : $\frac{\pi}{12}$.
- 2) On a $(\overrightarrow{CD}, \overrightarrow{CE}) = (\overrightarrow{CD}, \overrightarrow{CB}) + (\overrightarrow{CB}, \overrightarrow{CE})$. Donc une mesure de $(\overrightarrow{CD}, \overrightarrow{CE})$ est égale à : $\frac{5\pi}{6}$.
Le triangle CDE est isocèle de sommet C. Donc une mesure de $(\overrightarrow{DC}, \overrightarrow{DE})$ est égale à : $\frac{\pi}{12}$.
- 3) a) On a $(\overrightarrow{DF}, \overrightarrow{DE}) = (\overrightarrow{DF}, \overrightarrow{DC}) + (\overrightarrow{DC}, \overrightarrow{DE})$; donc une mesure de $(\overrightarrow{DF}, \overrightarrow{DE})$ est égale à : $\frac{\pi}{12} + \left(\frac{\pi}{12}\right)$. Donc c'est-à-dire qu'une mesure de $(\overrightarrow{DF}, \overrightarrow{DE})$ est égale à : 0.
b) L'élève a effectivement raison car une mesure de $(\overrightarrow{DF}, \overrightarrow{DE})$ étant égale à 0, il en résulte que les points D, F et E sont alignés.

SOLUTIONS DES EXERCICES

1- DETERMINANTION D'UN SYSTEME DE DEUX EQUATIONS A DEUX INCONNUES

Exercices de fixation

Exercice 1

1. FAUX
2. FAUX
3. FAUX
4. FAUX

Exercice 2

1. FAUX
2. VRAI
3. VRAI

Exercice 3

- Le déterminant de (S1) est 23
 - Le déterminant de (S2) est -6
 - Le déterminant de (S3) est -4
- 2- PROPRIETE RELATIVE A L'EXISTENCE ET A L'UNICITE DE LA SOLUTION D'UN SYSTEME DE DEUX EQUATIONS DU PREMIER DEGRE

Exercices de fixation

Exercice 1

1. FAUX
2. FAUX
3. VRAI
4. VRAI

Exercice 2

Le déterminant du système est : $-5\sqrt{3}$, il est non nul. Donc le système d'équations admet une unique solution.

Exercice 3

ATTENTION : il fallait considérer le système suivant :

$$\begin{cases} -x\sqrt{2} + 2y = 5 \\ 2x\sqrt{2} + 4y = 2 \end{cases}$$

Le déterminant du système est : $-4\sqrt{2} - 4\sqrt{2}$, il est non nul. Donc le système d'équations admet unique de solution.

3- RESOLUTION D'UN SYSTEME D'EQUATIONS DANS \mathbb{R}^2 OU DANS \mathbb{R}^3

1. Résoudre un système de deux équations linéaires dans \mathbb{R}^2

a) Par substitution

Exercices de fixation

$$1) \begin{cases} 3x - 2y = -7 \\ -x + 8y = 2 \end{cases} \Leftrightarrow \begin{cases} x = 8y - 2 \\ 3(8y - 2) - 2y = -7 \end{cases} \Leftrightarrow \begin{cases} x = -\frac{26}{11} \\ y = -\frac{1}{22} \end{cases}$$

$$\text{Donc } S = \left\{ \left(-\frac{26}{11}; -\frac{1}{22} \right) \right\}$$

$$2) \begin{cases} 0,3x + 1,5y = -7 \\ -0,2x + 3y = \frac{1}{3} \end{cases} \Leftrightarrow$$

$$\begin{cases} 3x + 15y = -70 \\ 6x + 90y = 10 \end{cases} \begin{cases} x = -5y - \frac{70}{3} \\ 6\left(-5y - \frac{70}{3}\right) + 90y = 10 \end{cases} \Leftrightarrow \begin{cases} x = -\frac{35}{12} \\ y = -\frac{1}{12} \end{cases}$$

$$\text{Donc } S = \left\{ \left(-\frac{35}{12}; -\frac{1}{12} \right) \right\}$$

b) Par combinaison

Exercices de fixation

$$1) \begin{cases} 2x - 7y = -3 \\ -x + 8y = 2 \end{cases} \Leftrightarrow \begin{cases} 2x - 7y = -3 \\ -2x + 16y = 4 \end{cases}$$

Par addition membre à membre, on obtient finalement : $\begin{cases} y = \frac{1}{9} \\ y = -\frac{10}{9} \end{cases}$. Donc

$$S = \left\{ \left(-\frac{10}{9}; \frac{1}{9} \right) \right\}$$

$$2) \begin{cases} 0,2x + 1,5y = -1 \\ -0,4x + 2y = 5 \end{cases} \Leftrightarrow \begin{cases} 2x + 15y = -10 \\ -4x + 20y = 50 \end{cases} \Leftrightarrow \begin{cases} 4x + 30y = -20 \\ -4x + 20y = 50 \end{cases}$$

Par addition membre à membre, on obtient finalement : $\begin{cases} y = \frac{3}{5} \\ x = -\frac{19}{2} \end{cases}$. Donc

$$S = \left\{ \left(-\frac{19}{2}; \frac{3}{5} \right) \right\}$$

2. Résoudre un système de trois équations linéaires dans \mathbb{R}^3

a) Par substitution

Exercice de fixation

$$1) \begin{cases} -x + 3y - z = 2 \\ 2x - y + 3z = -1 \\ 2x + 9y + 5z = 0 \end{cases} \Leftrightarrow \begin{cases} x = 3y - z - 2 \\ 5y + z = 3 \\ 15y + 3z = 0 \end{cases}$$

On a : $\begin{cases} 5y + z = 3 \\ 15y + 3z = 0 \end{cases} \Leftrightarrow \begin{cases} z = 3 - 5y \\ 15y - 15y + 9 = 0 \end{cases}$; ce dernier système n'a pas de solution.

Donc finalement $S = \emptyset$

$$2) \begin{cases} 3x + 2z = 1 \\ x + 2y - z = 8 \\ 3x + 2y + 2z = 7 \end{cases} \Leftrightarrow \begin{cases} x = -2y + z + 8 \\ -6y + 5z = -23 \\ -4y + 5z = -17 \end{cases}$$

On a : $\begin{cases} -6y + 5z = -23 \\ -4y + 5z = -17 \end{cases} \Leftrightarrow \begin{cases} y = 3 \\ z = -1 \end{cases}$

$$\text{Donc } \begin{cases} 3x + 2z = 1 \\ x + 2y - z = 8 \\ 3x + 2y + 2z = 7 \end{cases} \Leftrightarrow \begin{cases} x = 1 \\ y = 3 \\ z = -1 \end{cases}$$

Donc finalement $S = \{(1, 3, -1)\}$.

b) Par la méthode du pivot de Gauss.

Exercice de fixation

$$1) \quad (S1) : \begin{cases} -x - 3y - z = 2 \\ 2x - y + 3z = -1 \\ 4x + 9y + 5z = 0 \end{cases} \Leftrightarrow \begin{cases} -x - 3y - z = 2 \\ y - 3z = -\frac{8}{3} \\ -7y + 5z = 3 \end{cases} \Leftrightarrow$$

$$\begin{cases} -x - 3y - z = 2 \\ y - 3z = -\frac{8}{3} \\ -16z = -\frac{47}{3} \end{cases} \Leftrightarrow \begin{cases} -x - 3y - z = 2 \\ y - 3z = -\frac{8}{3} \\ z = \frac{47}{48} \end{cases}.$$

$$\text{Donc : } \begin{cases} x = -\frac{11}{6} \\ y = \frac{13}{48} \\ z = \frac{47}{48} \end{cases}$$

Donc finalement $S = \left\{ \left(-\frac{11}{6}, \frac{13}{48}, \frac{47}{48} \right) \right\}$

$$2) \quad \begin{cases} 3x + 2z = 1 \\ x + 2y - z = 8 \\ -2x + 2y + 2z = 7 \end{cases} \Leftrightarrow \begin{cases} x = -2y + z + 8 \\ -5y + 5z = -23 \\ 6y = 23 \end{cases} \Leftrightarrow \begin{cases} x = -\frac{13}{30} \\ z = -\frac{23}{30} \\ y = \frac{23}{6} \end{cases}.$$

Donc finalement $S = \left\{ \left(-\frac{13}{30}, \frac{23}{6}, -\frac{23}{30} \right) \right\}$.

SOLUTIONS DES EXERCICES DE RENFORCEMENT/APPROFONDISSEMENT

Exercice 1

- FAUX
- VRAI
- VRAI

Exercice 2

ATTENTION : dans la deuxième ligne du tableau, colonne C il fallait lire : « $ab' - a'b$ »

1-B ; 2-C ; 3-A

Exercice 3

1-C ; 2-A ; 3-A ; 4-A ; 5-B ; 6-B

Exercice 4

- Le déterminant de (S1) est 3
- Le déterminant de (S2) est 0
- Le déterminant de (S3) est 0
- Le déterminant de (S1) est 0

Exercice 5

Par la méthode de substitution, la résolution du système (S1) donne

l'ensemble des solutions suivant : $S = \left\{ \left(\frac{17}{9}, \frac{23}{27} \right) \right\}$

De même l'ensemble des solutions du système (S2) donne l'ensemble des solutions suivant : $S = \emptyset$

De même : $S(S3) = \{(5 - 4t, t) ; t \in \mathbb{R}\}$ et $S(S4) = \emptyset$

Exercice 6

En résolvant par la méthode des combinaisons, on obtient :

$$S(S1) = \{-4, -17\}; S(S2) = \emptyset; S(S3) = \left\{\left(\frac{164}{105}, -\frac{13}{35}\right)\right\}; S(S4) = \emptyset.$$

Exercice 7

Par la méthode de substitution, on obtient :

$$S(S) = \{(2,3,1)\}; S(R) = \{(-1,2,3)\}; S(T) = \left\{\left(-\frac{5}{2}, \frac{5}{16}, \frac{23}{16}\right)\right\}$$

Exercice 8

Par la méthode du pivot de Gauss, on obtient : $S(T) = \{(2, -3, 2)\}$;

$$S(L) = \{(3, 3, -2)\}$$

Exercice 9

Les résolutions donnent : $S(K) = \emptyset$; $S(L) = \left\{\left(\frac{4}{3}, 0, -\frac{5}{3}\right)\right\}$;

$$S(P) = \{(-\sqrt{2}, -\sqrt{2}, -\sqrt{2})\}$$

Exercice 10

1. Pour $f(x) = a(x - 1)^2 + bx^2 + c(x + 1)^2$, on trouve $a = b = 0$ et $c = 5$.
2. Pour $f(x) = a(x - 1)^2 + b(x - 3)^2 + c(x - 2)(x - 2)$, $a = \frac{85}{4}$, $b = -25$ et $c = \frac{35}{4}$.

Exercice 11

Les résolutions donnent : $S(S1) = \left\{\left(\frac{3}{2}, \frac{7}{2}, \frac{13}{2}\right)\right\}$ et $S(S2) = \{(1, -1, 1)\}$

Exercice 12

Notons N ce nombre de trois chiffres et a, b, c les chiffres des centaines, des dizaines et des unités respectivement.

On a donc $N = 100a + 10b + c$.

- Si on permute le chiffre des unités et celui des centaines, on obtient le nombre N' tel que : $N' = 100b + 10a + c$. D'après les hypothèses, $N' = N + 360$
- Si on permute le chiffres des unités et celui des dizaines, on obtient le nombre N'' tel que : $N'' = N - 198$.
- La somme des chiffres de N est égale à 17, c'est-à-dire : $a + b + c = 17$

Finalement, on obtient :
$$\begin{cases} a + b + c = 17 \\ 100a + 10b + c + 360 = 100b + 10a + c \\ 100a + 10b + c - 198 = 100c + 10b + a \end{cases}$$

Ce système d'équations est équivalent à :
$$\begin{cases} a + b + c = 17 \\ a - b = -4 \\ a - c = 2 \end{cases}$$
 dont la résolution

donne :
$$\begin{cases} a = 5 \\ b = 9. \\ c = 3 \end{cases}$$

On obtient donc le nombre : $N = 593$.

SITUATIONS D'ÉVALUATION

Situation 1

1. Soient a, b et c les débits des robinets A, B et C respectivement.

Notons V le volume du bassin. Les robinets A et B remplissent le bassin en 20 minutes. Donc la quantité d'eau versée par le robinet A est $20a$, celle du robinet B est $20b$.

Donc $20a + 20b = V$

On raisonne de la même manière pour obtenir les équations suivantes :
 $15b + 15c = V$ et $12a + 12c = V$

On obtient donc le système suivant :
$$\begin{cases} a + b = \frac{V}{20} \\ b + c = \frac{V}{15} \\ a + c = \frac{V}{12} \end{cases}$$

La résolution donne :
$$\begin{cases} a = \frac{V}{30} \\ b = \frac{V}{60} \\ c = \frac{V}{20} \end{cases}$$

Dont un individuellement, le robinet A met 30 minutes, le robinet B 60 minutes et le robinet C 20 minutes pour remplir le bassin.

Il faut donc conseiller le robinet C à Yasmine car lui qui met le moins de temps pour remplir le bassin par rapport aux deux autres.

D'après les résultats obtenus, le robinet met le moins de temps que les deux autres pour remplir le bassin. C'est donc ce robinet qu'il faut conseiller à Yasmine.

2. Si les trois robinets sont simultanément ouverts, ils mettront le même temps t pour remplir le bassin. Dans ce cas, le robinet A versera ta quantité d'eau, le robinet B, tb quantité d'eau et le robinet C tc quantité d'eau. La somme donne V .

Donc $t \frac{V}{30} + t \frac{V}{60} + t \frac{V}{20} = V$. Soit $t=10$ minutes.

Ainsi donc si les trois robinets ouverts simultanément mettront 10 minutes pour remplir le bassin.

Situation 2

Soient x, y et z les avoirs initiaux de Koné, Yapi et Adjoua.

Soient x_1, y_1 et z_1 les avoirs de Koné, Yapi et Adjoua à l'issue de la 1^{ère} partie ; x_2, y_2 et z_2 les avoirs de Koné, Yapi et Adjoua à l'issue de la 2^{ème} partie et x_3, y_3 et z_3 les avoirs de Koné, Yapi et Adjoua à l'issue de la 3^{ème} partie.

On traduit les hypothèses de la manière suivante :

$$\begin{cases} x_1 = x - (y + z) \\ y_1 = 2y \\ z_1 = 2z \end{cases} ; \begin{cases} x_2 = 2x_1 \\ y_2 = y_1 - (x_1 + z_1) \\ z_2 = 2z_1 \end{cases} ; \begin{cases} x_3 = 2x_2 \\ y_3 = 2y_2 \\ z_3 = z_2 - (x_2 + y_2) \end{cases} .$$

A la fin des parties, chacun détient la même somme d'argent c'est-à-dire 2400.

$$\text{Donc : } \begin{cases} x_3 = 2400 \\ y_3 = 2400 \\ z_3 = 2400 \end{cases} . \text{ La résolution donne finalement : } \begin{cases} x = 3900 \\ y = 2100 \\ z = 1200 \end{cases}$$

L'avoir initial de Koné est donc 3900FCFA, celui de Yapi est 2100 F CFA et celui de Adjoua est 1200 F CFA.

12

SUITES NUMERIQUES

SOLUTIONS DES EXERCICES

1- NOTION DE SUITES NUMERIQUES

1. Définition
2. Notation et vocabulaire

Exercices de fixation

Exercice 1

La fonction v n'est pas une suite numérique car son ensemble de départ n'est pas une partie de \mathbb{N} (en effet cet ensemble contient 0,5 qui n'est pas un entier)

Exercice 2

- FAUX
- VRAI

ATTENTION, il fallait lire : « la fonction f définie sur \mathbb{N} par :

$$\forall x \in \mathbb{N} f(x) = -3x + 7 \dots »$$

- FAUX
- FAUX

2- DETERMINATION D'UNE SUITE

1. Détermination d'une suite par une formule explicite

Exercices de fixation

Exercice 1

- FAUX
- VRAI
- FAUX

Exercice 2

- 1) $u_0 = 0 ; u_1 = \frac{1}{2} ; u_2 = \frac{2}{3}$
- 2) $u_0 = 3 ; u_1 = 1 ; u_2 = \frac{3}{5}$
- 3) $u_0 = -2 ; u_1 = -1 ; u_2 = 2$
- 4) $u_0 = \frac{1}{2} ; u_1 = 2 ; u_2 = 8$
- 5) $u_0 = 10 ; u_1 = -1 ; u_2 = \frac{2}{31}$

2. Détermination d'une suite par une formule explicite

Exercices de fixation

Exercice 1

- FAUX
- VRAI
- FAUX

Exercice 2

$$u_1 = -1 ; u_2 = -1 \quad u_3 = -1 \quad u_4 = -1$$

3- REPRESENTATION GRAPHIQUES DES TERMES D'UNE SUITE NUMERIQUE DEFINIE PAR UNE FORMULE DE RECURRENCE.

Exercices de fixation

Exercice 1

1. $u_1 \cong 0,2$ les autres valeurs trop proches de zéro pour être lues
2. $u_1 = u_2 = u_3 = 4$

Exercice 2

Il s'agit de la suite définie dans la question 2)

Exercice 3

La suite est définie par :
$$\begin{cases} u_0 = 0 \\ \forall n \in \mathbb{N}, u_{n+1} = \sqrt{2u_n + 3} \end{cases}$$

4- SUITES ARITHMETIQUES

Exercices de fixation

Exercice 1

- FAUX
- VRAI
- VRAI
- VRAI
- FAUX

Exercice 2

On a : $\forall n \in \mathbb{N}, f(n+1) = \sqrt{3} + f(n)$. Donc f est une suite arithmétique de raison $\sqrt{3}$ et de premier terme $f(0) = 1$

Propriété

Exercices de fixation

Exercice 1

$$u_8 = u_2 + 24$$

Si $u_2 = 5$ alors $u_8 = 29$ et $u_0 = -3$

Exercice 2

- $r = \frac{u_{11} - u_3}{8}$, d'où $r = -\frac{13}{8}$
- $\forall n \in \mathbb{N}, u_n = u_3 + (n-3)r$; donc $u_n = \frac{87-13n}{8}$

Exercice 3

$$u_5 = 20$$

Somme des n termes d'une suite arithmétique

Exercices de fixation

Exercice 1

$$S = u_0 + u_1 + \dots + u_{19} ; S = 820$$

Exercice 2

$$S = \frac{(n+1)(10-3n)}{2}$$

5- SUITES GEOMETRIQUES

Définition

Exercices de fixation

Exercice 1

- VRAI
- FAUX
- VRAI
- FAUX
- FAUX

Exercice 2

On a : $\forall n \in \mathbb{N}, f(n+1) = \frac{1}{4}f(n)$. Donc f est une suite arithmétique de raison $\frac{1}{4}$ et de premier terme $f(0) = 5$. D'où le résultat.

Exercice 3

La suite ainsi définie n'est pas géométrique car $v_0 = 0$ et $v_1 = 1$ et il n'existe pas de nombre réel q tel que $v_1 = qv_0$.

Propriété

Exercices de fixation

Exercice 1

$$u_5 = \frac{1}{8}u_2$$

Pour $u_2 = 5$, $u_5 = \frac{5}{8}$ et $u_0 = 20$

Exercice 2

- On a $q = 2$
- $\forall n \in \mathbb{N}, v_n = 2^{n+2}$

Exercice 3

$$u_{16} = -\frac{1}{9}$$

Somme des n premiers termes d'une suite géométrique

Exercices de fixation

Exercice 1

- FAUX
- FAUX
- VRAI
- VRAI
- VRAI

Exercice 2

$$S = v_0 + v_1 + \dots + v_9 = v_0 \frac{(4^{10}-1)}{4-1}; S = 1\,048\,575$$

Exercice 3

$$S_n = u_2 + u_3 + \dots + u_n = u_2 \frac{(5^{n-1}-1)}{5-1}. \text{ Donc } S_n = 12,5(5^{n-1} - 1)$$

SOLUTIONS DES EXERCICES DE RENFORCEMENT/APPROFONDISSEMENT

Exercice 1

$$u_1 = 0 ; u_2 = -3 \quad u_3 = -8 \quad u_4 = -17$$

Exercice 2

$$1) \quad u_1 = 4 ; u_2 = \frac{9}{4} \quad u_3 = \frac{16}{9} \quad u_4 = \frac{25}{16}$$

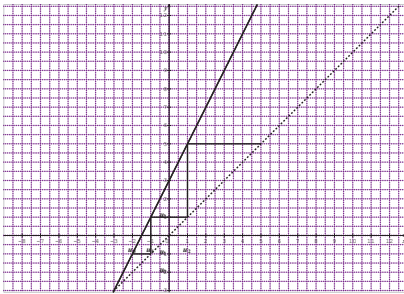
$$2) \quad v_0 = 1 ; v_1 = \frac{4}{3} \quad v_2 = \frac{13}{9}$$

Exercice 3

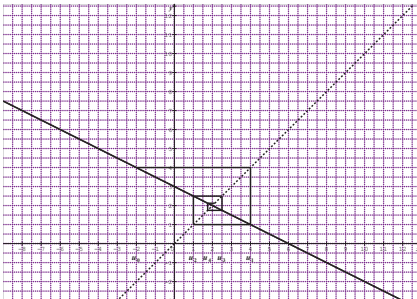
$$1) \quad v_0 = 1 \quad ; \quad v_1 = 3 \quad ; \quad v_3 = 4 \quad ; \quad v_4 = 5 \quad ; \quad v_5 = 6 \quad \text{et} \quad v_6 = 7$$

$$2) \quad v_0 = 3 \quad ; \quad v_1 = 5 \quad ; \quad v_3 = \frac{9}{2} \quad \text{et} \quad v_4 = \frac{17}{4} \quad ; \quad v_5 = \frac{35}{8} \quad \text{et} \quad v_6 = \frac{69}{16}$$

Exercice 4



Exercice 5



Exercice 6

- On a une suite arithmétique car u_n est de la forme $a + bn$ où a et b sont des nombres réels avec $a = 0$ et $b = 32$ en est la raison.
- On a une suite géométrique car u_n est de la forme aq^n où a et q sont des nombres réels et n un nombre entier naturel avec $a = 1$ et $q = -1$ en est la raison.
- On a une suite arithmétique car u_n est de la forme $a + bn$ où a et b sont des nombres réels avec $a = 10$ et $b = -5$ en est la raison.
- On a une suite géométrique car u_n est de la forme aq^n où a et q sont des nombres réels et n un nombre entier naturel avec $a = 1$ et $q = 10$ en est la raison.
- On a une suite géométrique car u_n est de la forme aq^n où a et q sont des nombres réels et n un nombre entier naturel avec $a = 1$ et $q = \frac{7}{5}$ en est la raison.

Exercice 7

ATTENTION : il fallait considérer la suite suivante :

$$\begin{cases} u_5 = 5 \\ \forall n \in \mathbb{N}, 5u_{n+1} = 5u_n - 2 \end{cases}$$

Solution :

- On démontre que : $\forall n \in \mathbb{N}, u_{n+1} = u_n - \frac{2}{5}$. Donc la suite (u_n) est arithmétique de raison $-\frac{2}{5}$ et de premier terme u_0 tel que $u_5 = u_0 + 5(-\frac{2}{5})$ soit $u_0 = 7$
- $\forall n \in \mathbb{N}, u_n = u_0 + (-\frac{2}{5})n$ soit $\forall n \in \mathbb{N}, u_n = 7 - \frac{2n}{5}$

Exercice 8

- On a une suite arithmétique car v_n est de la forme $a + bn$ où a et b sont des nombres réels avec $a = 3$ et $b = 5$ en est la raison.

$$2. S = v_0 + v_1 + \dots + v_9 = 255$$

Exercice 9

1. On a une suite géométrique car u_n est de la forme aq^n où a et q sont des nombres réels et n un nombre entier naturel avec $a = 4$ et $q = 5$ en est la raison.
2. La formule de récurrence de cette suite est :

$$\begin{cases} u_0 = 4 \\ \forall n \in \mathbb{N}, u_{n+1} = 5u_n \end{cases}$$

Exercice 10

1. $u_{2n} = (2n)^2 = 4n^2$. D'où le résultat.
2. $u_{3n} = (3n)^2 = 9n^2 = 9u_n$. D'où le résultat.

Exercice 11

1. On démontre que : $\forall n \in \mathbb{N}, v_{n+1} = 3v_n$. Donc la suite (v_n) est une suite arithmétique de raison $q = 3$ et de premier terme $v_0 = -3$
2. $\forall n \in \mathbb{N}, v_n = -3^{n+1}$.
3. $\forall n \in \mathbb{N}, u_n = 2 - 3^{n+1}$

Exercice 12

Considérons la suite arithmétique (v_n) de raison 3 et de premier terme 2. On aura donc : $2 + 5 + 8 + 11 + \dots + (3n + 2) = u_0 + u_1 + \dots + u_n = \frac{(n+1)(u_0+u_n)}{2}$.

Ce qui donne effectivement $2 + 5 + 8 + 11 + \dots + (3n + 2) = \frac{(n+1)(3n+4)}{2}$.

Exercice 13

1. On démontre que : $\forall n \in \mathbb{N}, v_{n+1} = \frac{1}{5}v_n$. Donc la suite (v_n) est une suite géométrique de raison $q = \frac{1}{5}$ et de premier terme $v_0 = 5$

2. $\forall n \in \mathbb{N}, v_n = 5\left(\frac{1}{5}\right)^n.$

3. $\forall n \in \mathbb{N}, u_n = 1 + 5\left(\frac{1}{5}\right)^n.$

4. La somme des 20 premiers termes de la suite (u_n) est :

$$u_0 + u_1 + \dots + u_n = 20 + v_1 + v_1 + \dots + v_n = 20 + v_0 \left(\frac{1 - \left(\frac{1}{5}\right)^{20}}{1 - \frac{1}{5}} \right)$$

La valeur exacte de cette somme est donc : $u_0 + u_1 + \dots + u_n = 20 + \frac{25}{4} \left(1 - \left(\frac{1}{5}\right)^{20}\right).$

Une valeur approchée est de cette somme est : $\frac{105}{4}.$

Exercice 14

On a $v_{n-1} \times v_{n+1} = v_{n-1} \times (qv_n) = q(v_{n-1}v_n) = q(v_{n-1}qv_{n-1}) = q^2(v_{n-1})^2$ or justement $v_n = qv_{n-1}$. Donc finalement : $\forall n \in \mathbb{N}, v_{n-1} \times v_{n+1} = v_n^2.$

Exercice 15

1. Soit l_n le loyer à la $n^{\text{ième}}$ année. Alors $l_1 = 50\,000$ et $l_{n+1} = l_n + \frac{6}{100}l_n.$

Donc $l_{n+1} = 1,06l_n$. La suite (l_n) est donc une suite géométrique de raison 1,06 et de premier terme l_1 .

Il résulte de tout ce précède que : $l_8 = (1,06)^7l_1$. Soit $l_8 = 75\,000$ FCFA.

2. La somme des loyers payés pendant les dix premières années est égale à :

$l_1 + l_2 + \dots + l_{10} = l_1 \left(\frac{1 - (1,06)^{10}}{1 - 1,06} \right)$. Après calculs, on trouve environ 659 000 FCFA.

Exercice 16

D'après les données, on obtient les systèmes d'équations suivantes :

$$\begin{cases} a + b + c = 9 \\ a^2 + b^2 + c^2 = 59 \end{cases} \text{ et ensuite } -b = b - a . \text{ La résolution de ces} \\ \text{équations donne } \begin{cases} a = -1 \\ b = 3 \\ c = 7 \end{cases} \text{ ou } \begin{cases} a = 7 \\ b = 3 \\ c = -1 \end{cases}$$

Exercice 17

Les calculs donnent $u_{10} = \frac{251}{11}$

Exercice 18

ATTENTION : il fallait lire : « $b_{10} + b_{11} + \dots + b_{20}$ »

$$b_{10} + b_{11} + \dots + b_{20} = \frac{11(b_{10} + b_{20})}{2}.$$

$$\text{Soit } b_{10} + b_{11} + \dots + b_{20} = \frac{11}{2}(12 + 32) = 242.$$

$$\text{Donc : } b_{10} + b_{11} + \dots + b_{20} = 242.$$

Exercice 19

La valeur exacte de S est $2(1 - (\frac{1}{2})^{40})$. Une valeur approchée de S est donc 2.

SITUATIONS D'ÉVALUATIONS

Situation 1

1. Le capital initial est : $C_0 = 1\,000\,000$. A la première année,
$$C_1 = C_0 + \frac{6,5}{100}C_0 .$$

Donc $C_1 = 1,065C_0$. Le calcul donne : $C_1 = 1\,065\,000FCFA$.

De cette même manière, on calcul $C_2 = C_1 + \frac{6,5}{100}C_0 = 1\,130\,000FCFA$ et $C_3 = C_2 + \frac{6,5}{100}C_0 = 1\,195\,000FCFA$.

Donc $C_1 = 1\,065\,000FCFA$; $C_2 = 1\,130\,000FCFA$ et $C_3 = 1\,195\,000FCFA$

2. On a : $C_{n+1} = C_n + \frac{6,5}{100}C_0$. Soit $C_{n+1} = C_n + 65\,000$.

3. La suite (C_n) est une suite arithmétique de raison $65\,000FCFA$

et de premier terme $1\,000\,000FCFA$. Il en résulte que $\forall n \in \mathbb{N}, C_n = 1\,000\,000 + n65\,000$

4. Le capital initial est toujours : $D_0 = 1\,000\,000$.

A la première année, $D_1 = D_0 + \frac{6,5}{100}D_0$. Donc $D_1 = 1,065D_0$. Soit: $D_1 = 1\,065\,000FCFA$.

De cette même manière, $D_2 = 1,065D_1$; soit $D_2 = 1\,134\,225FCFA$ et $D_3 = 1,065D_2$ donc $D_3 = 1\,280\,950FCFA$ environ.

En conclusion : $D_2 = 1,065D_1$; $D_2 = 1\,134\,225FCFA$ et $D_3 = 1\,280\,950FCFA$.

5. $D_{n+1} = D_n + \frac{6,5}{100}D_n$ soit $D_{n+1} = 1,065D_n$.

La suite (D_n) est donc une suite géométrique de raison et de premier terme .

Donc $1\,000\,000$.

$\forall n \in \mathbb{N}, D_n = 1\,000\,000(1,065)^n$

6. Pour choisi la meilleur condition, calculons la somme des montants versés après dix ans.

Condition 1 : A la 10^è année, il percevra $1\,650\,000FCFA$.

Condition 2 : A la 10^e année, il percevra 1 877 140 FCFA.

La condition 2 est donc plus avantageuse. C'est le placement à conseiller.

Situation 2

Prix du loyer à la fin du bail : le bail dure 3ans soit 36 mois.

1. **Premier contrat** : Soit P_n le prix du loyer au nième mois.

D'après les données, $P_1 = 20\,000$ et $P_{n+1} = P_n + 500$. La suite (P_n) est donc une suite arithmétique de raison 500 et de premier terme $20\,000$ FCFA. Donc $\forall n \geq 1, P_n = 20000 + 500(n - 1)$.

Le prix du loyer à la fin du bail est : $P_{36} = 20000 + 500 \times 35$ soit $37\,500$ FCFA.

Deuxième contrat : Soit D_n le prix du loyer au nième mois.

D'après les données, $D_{n+1} = D_n + \frac{3}{100}D_n$ soit $D_{n+1} = 1,03D_n$. La suite (D_n) est donc une suite géométrique de raison 1,03 et de premier terme $20\,000$ FCFA.

Donc $\forall n \geq 1, D_n = 20000(1,03)^{n-1}$

Le prix du loyer à la fin du bail est : $D_{36} = 20000(1,03)^{35}$ soit $56\,230$ FCFA.

2. **Premier contrat** : Calculons donc la somme : $P_1 + P_2 + \dots + P_{36}$ des loyers versés à la fin du bail.

On a : $P_1 + P_2 + \dots + P_{36} = \frac{36}{2}(P_1 + P_{36})$ soit $P_1 + P_2 + \dots + P_{36} = 1\,035\,000$ FCFA.

Deuxième contrat : Calculons donc la somme : $D_1 + D_2 + \dots + D_{36}$ des loyers versés à la fin du bail.

On a : $D_1 + D_2 + \dots + D_{36} = D_1 \left(\frac{1-1,03^{36}}{1-1,03} \right)$ soit $P_1 + P_2 + \dots + P_{36} = 1\,265\,520 \text{ FCFA}$.

3. La somme des loyers versés au premier contrat est inférieure à la somme des loyers versés au deuxième contrat.

Le premier contrat est donc le plus avantageux pour le jeune étudiant AKA.

Situation 3

$$1. \quad P(x+1) - P(x) = x^2 \Leftrightarrow \begin{cases} a = \frac{1}{3} \\ b = -\frac{1}{2} \\ c = \frac{1}{6} \end{cases}$$

2. ATTENTION : il fallait lire « $S = 1^2 + 2^2 + \dots + 100^2$ »

D'après ce qui précède, $S = [P(2) - P(1)] + [P(3) - P(2)] + \dots + [P(101) - P(100)]$

Donc $S = P(101) - P(1)$ après simplifications successives. Donc d'après la question 1, $S = \frac{101^3}{3} - \frac{101^2}{2} + \frac{101}{6} - \left(\frac{1}{3} - \frac{1}{2} + \frac{1}{6} \right)$ soit $S = 338\,350$

La somme des carrés des cents premiers entiers naturels non nuls est donc 338 350.

C'est donc Akissi qui a raison.

13

ORTHOGONALITE DANS L'ESPACE

I. Droites et plans orthogonaux

1) Droites orthogonales

Exercices de fixation

1

1	Deux droites orthogonales sont toujours perpendiculaires	Faux
2	Deux droites perpendiculaires sont orthogonales	Vrai
3	Deux droites orthogonales sont toujours sécantes	Faux
4	Deux droites orthogonales à une même droite sont toujours parallèles	Faux

2

La figure ci-contre est un pavé droit.

a) Justifie que les droites (EH) et (CD) sont orthogonales.

(BC) et (CD) sont perpendiculaires et (EH) parallèle à (BC). Donc (EH) et (CD) sont orthogonales.

b) Détermine sur ce pavé droit, deux droites orthogonales à la droite (AB)

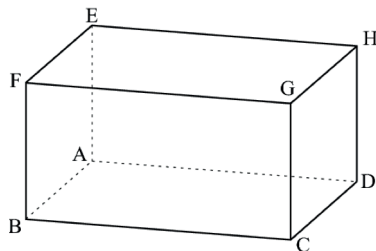
(FG) ; (EH)

c) Dis en justifiant ta réponse si les droites (FE) et (CD) sont orthogonales

(FE) parallèle à (GH) et (GH) parallèle à (CD) donc (FE) parallèle à (CD)

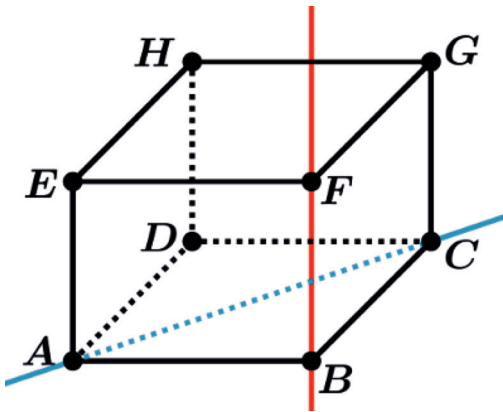
d) Propriétés

Exercices de fixation



1	Si deux droites sont orthogonales, toute droite orthogonale à l'une est toujours parallèle à l'autre	Faux
2	Si deux droites sont parallèles, toute droite orthogonale à l'une est orthogonale à l'autre.	Vrai
3	Si deux droites sont parallèles, toute droite orthogonale à l'une est parallèle à l'autre	Faux
4	Si deux droites sont orthogonales, toute droite parallèle à l'une est orthogonale à l'autre.	Vrai

2) Droites et plans orthogonaux



Exercices de fixation

1

En reprenant la figure ci-dessus de l'exemple, justifie que la droite (EF) est orthogonale au plan (AHD)

$(EF) \perp (EH)$ et $(EF) \perp (EA)$ donc $(EF) \perp (EHA)$ ou encore $(EF) \perp (AHD)$

2

Reprends la figure ci-dessus de l'exemple.

1	La droite (DC) est orthogonale au plan (ABD)	faux
2	La droite (DC) est orthogonale au plan (HBD).	faux
3	La droite (HG) est orthogonale au plan (EAD)	vrai
4	La droite (AC) est orthogonale au plan (FGC)	faux

3

En considérant le cube ABCDEFGH, justifie que la droite (BD) est orthogonale à la droite (EA)

$(BD) \perp (HD)$ et $(BD) \perp (AD)$ donc $(BD) \perp (AHD)$ or (EA) est une droite du plan (AHD) donc (BD) est orthogonale à la droite (EA)

4

L'affirmation ci-dessous est elle vraie ? Justifie ta réponse

« Une droite orthogonale à deux droites parallèles d'un plan est toujours orthogonale à ce plan »

Elle est fausse voir le cas du cube ci-dessus. (AD) orthogonale aux droites parallèles (HD) et (FB) du plan (HDB) et (AD) non orthogonale à ce plan.

d) Conséquences de la définition

Exercices de fixation

1

En reprenant la figure ci-dessus de l'exemple, justifie que la droite (EA) est parallèle au plan (HDC)

La droite (EA) est parallèle à (HD) donc elle est parallèle au plan (HDC)

2

Reprends la figure ci-dessus de l'exemple.

1	La droite (DC) est parallèle au plan (ABE)	vrai
2	Les droites (DC) et (EH) sont parallèles.	faux
3	La droite (HG) est parallèle au plan (EAD)	faux
4	Les plans (ACD) et (EFG) sont parallèles	vrai
5	Les droites (DH) et (FB) sont parallèles	vrai
6	Les droites (HF) et (CG) sont orthogonales	vrai

3

Reprends la figure ci-dessus de l'exemple.

Justifie que la droite (CD) est orthogonale à la droite (AH)

La droite (CD) orthogonale aux droites (DH) et (AD) est orthogonale au plan (AHD). (AH) est une droite de ce plan. Donc la droite (CD) est orthogonale à la droite (AH).

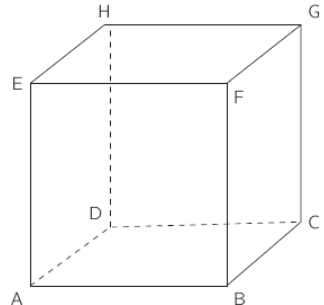
II) Projection orthogonale sur un plan

Exercices de fixation

1

Reprends la figure ci-dessus.

- E est le projeté orthogonal de F sur le plan (FGB)
- E est le projeté orthogonal de A sur le plan (EFG)



c) H est le projeté orthogonal de G sur le plan (ADE)

2

Reprends la figure ci-dessus de l'exemple.

1	D est le projeté orthogonal de C sur le plan (BCG)	faux
2	F est le projeté orthogonal de G sur le plan (ABE)	vrai
3	A est le projeté orthogonal de C sur le plan (ADE)	faux
4	F est le projeté orthogonal de B sur le plan (EHG)	vrai
5	E est le projeté orthogonal de D sur le plan (EFG)	faux
6	H est le projeté orthogonal de D sur le plan (EFG)	vrai

3

Reformuler l'affirmation 2 du cahier comme indiquée ci-dessous

1	Le projeté orthogonal d'un point A de l'espace sur un plan (P) est l'intersection de (P) et d'une droite passant par A	faux
2	M et M' étant deux points distincts d'une droite (D), si la droite (MM') est perpendiculaire au plan (P), alors M' est toujours le projeté de M sur le plan (P)	Faux
3	Le projeté orthogonal d'un point B de l'espace sur un plan (P) est l'intersection de (P) et de la droite passant par B et orthogonale à (P)	Vrai
4	Si F' est le projeté orthogonal de F sur un plan (P), alors F' n'appartient pas au plan (P)	faux
5	Si N' est le projeté orthogonal de N sur un plan (P), alors N' appartient au plan (P)	vrai

2) Propriétés

Exercices de fixation

1

1	L'image d'une droite par la projection orthogonale sur un plan est segment	faux
2	L'image d'une droite par la projection orthogonale sur un plan est une droite ou un singleton	vrai
3	L'image d'un segment par la projection orthogonale sur un plan est toujours un segment	faux
4	L'image d'une droite orthogonale à un plan par la projection orthogonale sur ce plan est une droite	faux

2 Reprends la figure ci-dessus de l'exemple

Justifions que l'image de la droite (HB) par la projection orthogonale sur le plan (ADC) est la droite (DB)

$$P((HB)) = (DB) \text{ car } p(H) = D \text{ et } p(B) = B$$

3 Reprends la figure ci-dessus de l'exemple

Déterminons l'image du segment [FC] par la projection orthogonale sur le plan (AED)

$p(F) = E$ et $p(C) = D$ donc l'image du segment [FC] par la projection orthogonale sur le plan (AED) est le segment [ED]

4 Reprends la figure ci-dessus de l'exemple

Soit O le centre du carré EFGH, détermine le projeté orthogonal de O sur le plan (ABC)

Justifie ta réponse

(Lire le carré EFGH) dans le cahier

$P([EG]) = [AC]$, O milieu de [EG] donc $p(O)$ est le milieu de ([AC])

III) Plans perpendiculaires

1) Définition

Exercice de fixation

1 Reprends la figure ci-dessus de l'exemple

1	Les plans (ABC) et (CGF) sont perpendiculaires	vrai
2	Les plans (AED) et (GFE) sont perpendiculaires	vrai
3	Les plans (ABC) et (EFG) sont perpendiculaires	faux
4	Les plans (DFG) et (ABF) sont perpendiculaires	faux
5	Les plans (DEA) et (CBF) sont perpendiculaires	faux

2 Reprends la figure ci-dessus de l'exemple

- Justifions que les plans (EHB) et (ABE) sont perpendiculaires.

(EH) orthogonale à (AB) et (EH) orthogonal à (AE) donc (EH) orthogonale au plan (ABE). Le plan (EHB) contient la droite (EH) donc les plans (EHB) et (ABE) sont perpendiculaires

Deux plans perpendiculaires à un même plan sont-ils toujours parallèles ?
Justifie ta réponse

- Oui en effet, soient (P_1) et (P_2) deux plans perpendiculaires à un plan (P)
 (P_1) contient une droite (D_1) orthogonale à (P) et (P_2) contient une droite (D_2) orthogonale à (P) . Il en résulte que les droites (D_1) et (D_2) sont parallèles. On a donc (D_1) parallèle à (P_2) et (D_2) parallèle à (P_1) . Dans le plan déterminé par les droites (D_1) et (D_2) , on considère une droite perpendiculaire à (D_1) . Cette droite perpendiculaire à (D_2) est orthogonale au plan (P_1) et au (P_2) d'où le parallélisme des plan (P_1) et (P_2) .

Exercices de fixation

On considère un cube ABCDEFGH

Justifions que les plans (ABC) et (EAC) sont perpendiculaires.

La droite (EA) est perpendiculaire au plan (ABC) et (EA) est contenue dans le plan (EAC) donc les plans (ABC) et (EAC) sont perpendiculaires.

EXERCICES DE RENFORCEMENT ET D'APPROFONDISSEMENT

Exercice 1

1) $(EH) \perp (ABC)$ donc $(BC) \perp (HE)$ or $(BC) \perp (AH)$ (hauteur) donc $(BC) \perp (AHE)$.

La droite (BC) étant contenue dans le plan (ABC) donc $(ABC) \perp (AHE)$.

2) indication : $(AB) \perp (EH)$ et $(AB) \perp (HC)$ donc : $(AB) \perp (EHC)$ soit $(AB) \perp (EC)$.

Idem pour les deux autres côtés opposés

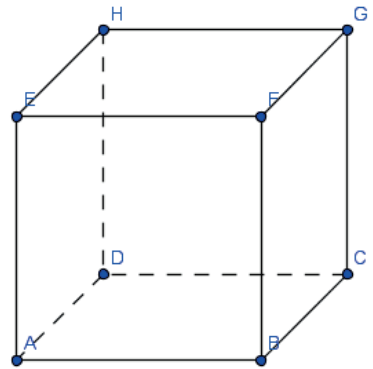
Exercice 2

1) $(AD) \perp (DC)$ et $(AD) \perp (DH)$ donc $(AD) \perp (DHC)$

soit $(AD) \perp (CH)$

2) $(AD) \perp (CH)$ et $(AD) \perp (CD)$ donc $(AD) \perp (CHD)$

Ou $(AD) \perp (CHG)$ donc les plans (ADG) et (GHD)



Exercice 3

1) La droite (BC) est orthogonale à la face (ABB'A') donc la droite (BC) est orthogonale à toute droite contenue le plan (ABB').

La droite (AB') est contenue dans le plan (ABB') donc la droite (BC) est orthogonale à la droite (AB') .

$ABB'A'$ est un carré, les diagonales d'un carré sont perpendiculaires, donc les droites (AB') et $(A'B)$ sont perpendiculaires.

Les droites (BC) et $(A'B)$ sont sécantes en B .

La droite (AB') est orthogonale à deux droites sécantes du plan $(A'BC)$, donc la droite (AB') est orthogonale au plan $(A'BC)$.

2) La droite (AB') est orthogonale à toute droite contenue dans le plan $(A'BC)$.

La droite $(A'C)$ est contenue dans le plan $(A'BC)$. Par conséquent, les droites (AB') et $(A'C)$ sont orthogonales.

3) De même, la droite (DC) est orthogonale à la face $(ADD'A')$ donc la droite (DC) est orthogonale à toute droite contenue dans le plan (ADD') .

La droite (AD') est contenue dans le plan (ADD') donc la droite (DC) est orthogonale à la droite (AD') .

$ADD'A'$ est un carré, les diagonales d'un carré sont perpendiculaires, donc les droites (AD') et $(A'D)$ sont perpendiculaires.

Les droites (DC) et $(A'D)$ sont sécantes en D .

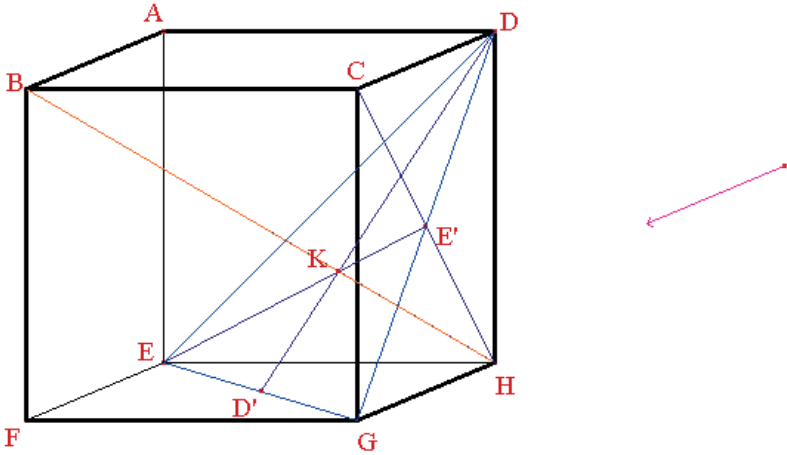
La droite (AD') est orthogonale à deux droites sécantes du plan $(A'DC)$, donc la droite (AD') est orthogonale au plan $(A'DC)$ et est donc orthogonale à la droite $(A'C)$

4) Les droites (AB') et $(A'C)$ sont orthogonales. Les droites (AD') et $(A'C)$ sont orthogonales.

Les droites (AB') et (AD') sont sécantes en A .

La droite $(A'C)$ est orthogonale à deux droites sécantes du plan $(AB'D')$ donc la droite $(A'C)$ est orthogonale au plan $(AB'D')$.

Exercice 4



1. Toutes les arêtes du tétraèdre $BEDG$ sont des diagonales des faces du cube, par suite les faces du tétraèdre sont équilatérales : c'est un tétraèdre régulier.
2. Considérons le plan (BFH) : en tant que diagonales du carré $EFGH$, (FH) est perpendiculaire à (EG) . Mais (BF) est orthogonale à la face $(EFGH)$, donc (BF) est orthogonale à (EG) . La droite (EG) qui est perpendiculaire à deux droites sécantes du plan (BFH) est donc orthogonale à ce plan, donc, en particulier à (BH) .
3. Considérer le plan (BCH) : tout comme précédemment, (CH) est perpendiculaire à (GD) et (BC) est perpendiculaire à la face $(CDHG)$, donc orthogonale à (GD) . Par suite (GD) est orthogonale au plan (BCH) , donc, en particulier à (BH) .
4. La droite (BH) étant orthogonale à deux droites sécantes du plan (EDG) est orthogonale à ce plan. K est donc la projection orthogonale de B sur (EDG) et de 1° on déduit que K est l'orthocentre du triangle EDG (c'est aussi le centre de gravité et le centre du cercle circonscrit). D'où la construction : on trace la médiane (DD') issue de D et la médiane (EE') issue de E , elles se coupent en K .

Exercice 5

La figure ci-contre ABCDEFGH représente un cube. I est le centre du carré BCGF et J le milieu du segment [GH].

- 1) $(FC) \perp (BG)$ et $(FC) \perp (AB)$ donc (FC) est orthogonale au plan (ABG) .
- 2) (GH) parallèle à (AB) donc (BH) est une droite du plan (ABG) donc $(FC) \perp (BH)$

(BH) et (AI) sont coplanaires et $(BH) \perp (ACF)$ et (AI) est contenue dans le plan (ACF) donc les droites (AI) et (BH) sont perpendiculaires.

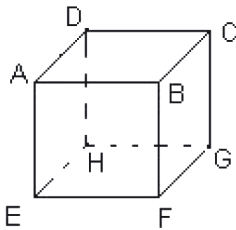
Or (BH) est parallèle (IJ) (droite des milieux) donc (IJ) et (AI) sont perpendiculaires.

Le triangle AIJ est donc rectangle en I

Exercice 6

(A reformuler à la prochaine édition)

Exercice 7



- 1) (KJ) parallèle à (EH) donc les points E, K, H et L sont coplanaires.
- 2) (BC) parallèle à (EH) donc la droite (BC) est parallèle au plan (EHK)
- 3) lire plan (ABF) au lieu de (ABD)

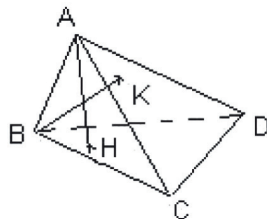
(BC) orthogonale au plan (ABF) et (BC) parallèle au plan (EHK) donc les plans (ABF) et (EHJ) sont orthogonaux.

Exercice 8

Un tétraèdre ABCD est tel que les arêtes $[AB]$ et $[CD]$ sont orthogonales

Soit H et K les projetés orthogonaux respectifs de A sur le plan (BCD) et de B sur le plan (ACD).

Démontrez que la droite (CD) est orthogonale au plan (ABH) et au plan (ABK).



• On a par hypothèse : $(CD) \perp (AB)$ et $(CD) \perp (AH)$

donc $(CD) \perp (ABH)$

• On a par hypothèse : $(CD) \perp (AB)$ et $(CD) \perp (BK)$ donc $(CD) \perp (ABK)$

Exercice 9

ABCDEFGH représente un pavé droit.

1) (FA) parallèle à (GD) et (FH) parallèle à (BD) donc les plans (AFH) et (GBD) sont parallèles.

(Parallélisme de deux couples de droites sécantes de chaque plan)

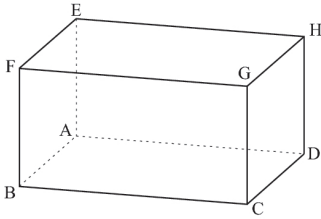
2) Considérons le triangle FAH on a : J milieu de [FA] et I milieu de [AH]

Donc (IJ) parallèle à (FH) et $IJ = \frac{1}{2} FH$

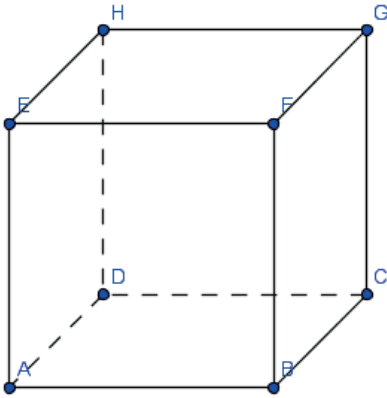
En considérant de même le triangle BGD on a : (KL) parallèle à (BD) et $KL = \frac{1}{2} BD$

Or (BD) et (FH) sont parallèles et $BD = FH$. On a donc : (IJ) parallèle à (KL) et $IJ = KL$.

Le quadrilatère IJKL est donc un parallélogramme.



Exercice 10



1) Construction du projeté orthogonal du point B sur le plan (AGF)

On a : $(BE) \perp (AF)$ et $(BE) \perp (AD)$ donc $(BE) \perp (AFD)$. Le projeté orthogonal de B sur le plan (AGF) est le point d'intersection des droites (BE) et (AF) c'est-à-dire le centre O du carré ABFE.

On a : $p(B) = O$.

En utilisant le même raisonnement on a : $p(H) = O'$ ou O' est le centre du carré DCGH.

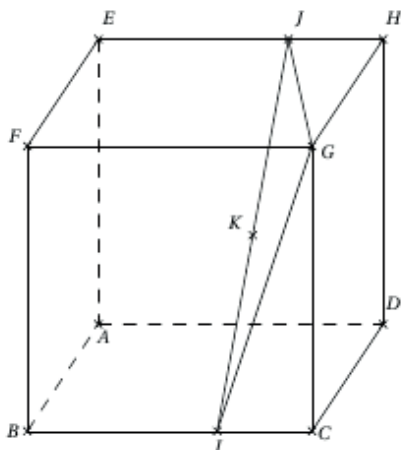
$p(C) = O'$; $p(E) = O$

2) $p([BC]) = [OO']$: M est le milieu de [BC] donc p(M) est le milieu de $[OO']$.

N est le milieu de $[GC]$ or $p(G) = G$ et $p(C) = O'$ donc $p(N)$ est le milieu de $[GO']$.

Situation d'évaluation

- ABCDEFGH représente un cube d'arête 1
- $\overrightarrow{BI} = \frac{2}{3} \overrightarrow{BC}$
- $\overrightarrow{EJ} = \frac{2}{3} \overrightarrow{EH}$
- K est le milieu de $[IJ]$
- La droite (GK) est orthogonale à la droite (IJ)



1) Théorème de Pythagore dans le triangle rectangle FBI rectangle en B : $FI^2 = FB^2 + BI^2$ donc $FI^2 = \frac{13}{4}$. De même dans le triangle rectangle en E, FEJ, on a : $FJ^2 = FE^2 + EJ^2$ on a : $FJ^2 = \frac{13}{4}$ on a donc : $FJ = FI$. Le triangle FIJ est donc isocèle en F.

2) Le triangle FIJ isocèle en F et K le milieu de $[IJ]$ donc la droite (FK) est la hauteur issue du point K. Donc $(FK) \perp (IJ)$.

3) $(IJ) \perp (FK)$ et $(IJ) \perp (GK)$ (par hypothèse) donc $(IJ) \perp (GKF)$

COMPOSEES DE TRANSFORMATIONS DU PLAN

14

SOLUTIONS DES EXERCICES

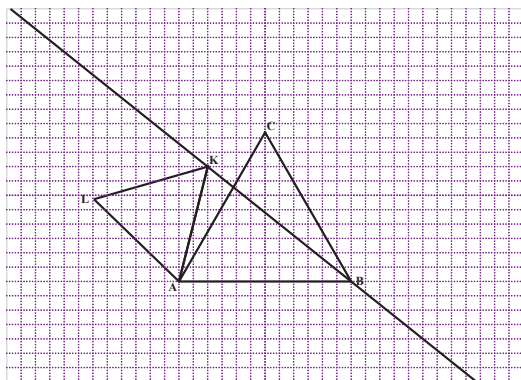
I- COMPOSEE DE ROTATIONS

1- Définition d'une rotation

Solutions des exercices de fixation

Exercice 1

- 1) Les triangles ABC et AKL sont équilatéraux directs.
- 2) L'image de la droite (KB) est la droite (K'L).

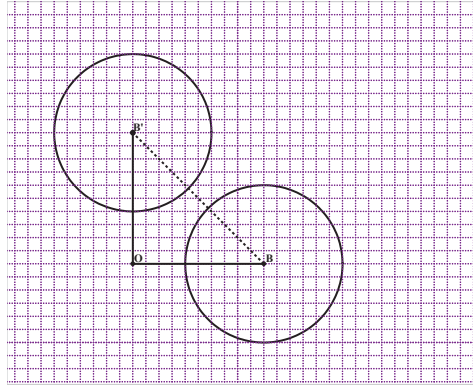


Exercice 2

1. L'angle de la rotation est égale à $(\overrightarrow{AB}, \overrightarrow{BA})$ c'est-à-dire π . Cette rotation est donc une symétrie centrale ou un demi-tour.
2. Cette rotation est une symétrie centrale de centre O ; on sait qu'elle transforma A en B. donc O est le milieu du segment [AB].
3. Cette est une conséquence directe de ce qui précède ; en effet $r(M) = M' \Leftrightarrow \overrightarrow{OM'} = -\overrightarrow{OM}$.

Exercice 3

1. Soit C l'image de B par le quart de tour direct de centre O. Le cercle (C') est un cercle de centre C.
2. Le rayon du cercle (C') est égal à 3 car une rotation conserve la distance.



Exercice 4

- 1) On écrit :
$$\begin{cases} AC = AB \\ \text{et} \\ \text{Mes}(\widehat{AC, AB}) = -\frac{\pi}{3} \end{cases} \text{Donc}$$

L'angle de la rotation est égal à : $-\frac{\pi}{3}$

- 2) L'angle de la rotation est une mesure de $(\widehat{AB, BC})$.

$$\text{Or } (\widehat{AB, BC}) = \hat{\pi} + (\widehat{BA, BC}) = \frac{2\pi}{3}.$$

Donc l'angle de la rotation est $\frac{2\pi}{3}$

Le centre est le point d'intersection des médiatrices de [AB] et [BC].

C'est donc le point O

II- COMPOSEE DE DEUX ROTATIONS DE MEME CENTRE

Définition

Propriété

Solutions des exercices de fixation

Exercice 1

Il suffit d'additionner les angles et de déterminer si besoin la mesure principale associée. On obtient

- 1) $r_{(0, \frac{\pi}{2})} \circ r_{(0, \frac{2\pi}{3})} = r_{(0, -\frac{5\pi}{6})}$
- 2) $r_{(K, \frac{-\pi}{2})} \circ r_{(K, \frac{\pi}{2})} = r_{(K, 0)} = \text{id}_P$
- 3) $r_{(0, \pi)} \circ r_{(0, \frac{\pi}{3})} = r_{(0, -\frac{2\pi}{3})}$

Exercice 2

On fait la somme des mesures puis on détermine la principale. L'angle de la composée est donc égale à : $-\frac{\pi}{3}$

III- COMPOSEE D'HOMOTHETIES DE MEME CENTRE

1- Définition d'une homothétie

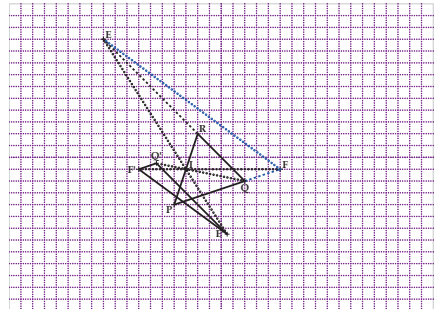
Solutions des exercices de fixation

Exercice 1

- 1) $\overrightarrow{AC} = -3\overrightarrow{AB}$ équivaut à dire que B a pour image C par l'homothétie de centre A et de rapport -3
- 2) $\overrightarrow{BC} = 3\overrightarrow{AB} \Leftrightarrow \overrightarrow{AC} = 4\overrightarrow{AB}$. B a pour image C par l'homothétie de centre A et de rapport 4
- 3) $\overrightarrow{BC} - \overrightarrow{AB} = \overrightarrow{0} \Leftrightarrow \overrightarrow{AC} = 2\overrightarrow{AB}$. Donc B a pour image C par l'homothétie de centre A et de rapport 2.

Exercice 2

- 1) Voir constructions ci-contre
- 2) Voir constructions ci-contre



2- Composée d'homothéties de même centre

Définition

Propriété

Solutions des exercices de fixation

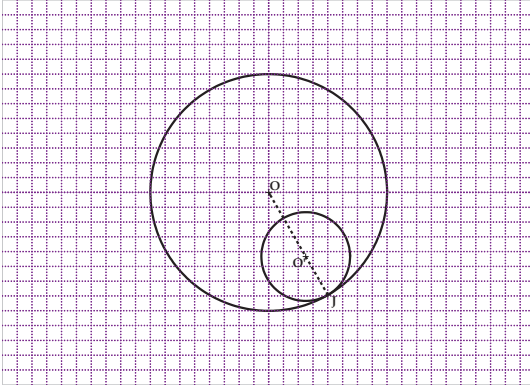
Exercice 1

Il suffit de multiplier les différents rapports. On obtient :

- 1) $h_{(0,2)} \circ h_{(0,-3)}$ a pour rapport -6
- 2) $h_{(K,-\frac{1}{3})} \circ h_{(K,3)}$ a pour rapport -1
- 3) $h_{(0,4)} \circ h_{(0,\frac{1}{2})}$ a pour rapport 2

Exercice 2

- 1) Voir figure ci-dessous.



- 2) Après mesure, le rayon du cercle est $1,5\text{cm}$. On pouvait prévoir ce résultat. En effet $h_{(J,-\frac{3}{4})} \circ h_{(J,-\frac{1}{2})}$ est l'homothétie de centre J et de rapport $\frac{3}{8}$. Une homothétie multiplie les distances par la valeur absolue de son rapport. L'homothétie $h_{(J,\frac{3}{8})}$ transforme (F) en (F') ; le rayon de (F') est $4\text{cm} \times \frac{3}{8} = 1,5\text{cm}$.
Le résultat était donc prévisible.

SOLUTIONS DES EXERCICES DE RENFORCEMENT/D'APPROFONDISSEMENT

Exercice 1

- 1) Vrai. C'est une propriété du cours ;
- 2) Vrai car c'est une propriété du cours ;
- 3) Vrai car : $r_{(J, \frac{-\pi}{2})}$ or $(J, \frac{-\pi}{2}) = r_{(J, -\pi)}$; or $-\pi$ et π sont des mesures d'un même angle orienté ;
- 4) Vrai car c'est une propriété du cours ;
- 5) Faux car les distances AC et AB peuvent être différentes ;
- 6) Faux car les points A, B, C peuvent ne pas être alignés.

Exercice 2

- 1) $\overrightarrow{BA} = -\frac{2}{3}\overrightarrow{AC} \Leftrightarrow \overrightarrow{AC} = \frac{3}{2}\overrightarrow{AB}$. Donc $k = \frac{3}{2}$
- 2) $2\overrightarrow{AB} = 3\overrightarrow{AC} \Leftrightarrow \overrightarrow{AC} = \frac{2}{3}\overrightarrow{AB}$. Donc $k = \frac{2}{3}$
- 3) $3\overrightarrow{BA} = -5\overrightarrow{BC} \Leftrightarrow \overrightarrow{AC} = \frac{8}{5}\overrightarrow{AB}$. Donc $k = \frac{8}{5}$

Exercice 3

- 1) Le quart de tour indirect de centre A envoie C en B car $AB = AC$ et $Mes(\overrightarrow{AC}, \overrightarrow{AB}) \equiv \frac{-\pi}{2}$
- 2) L'homothétie qui envoie la droite (IO) sur la droite (AB) a pour centre C et pour rapport 2 car $\overrightarrow{CA} = 2\overrightarrow{CI}$ et $\overrightarrow{CB} = 2\overrightarrow{CO}$
- 3) Le quart de tour direct de centre A envoie A en A car A est le centre de ce quart de tour.
- 4) L'homothétie qui envoie A en J et C en O a pour centre B car les droites (AJ) et (CO) se coupent en B et pour rapport $\frac{1}{2}$ car $\overrightarrow{JO} = \frac{1}{2}\overrightarrow{AC}$.
- 5) La rotation d'angle π , de centre O envoie B en C car O est le milieu du segment [BC].
- 6) L'image de la droite (OA) par l'homothétie de centre J et rapport -1 est la droite parallèle à (OA) passant par le point B car cette homothétie envoie A en B ($\overrightarrow{JB} = -\overrightarrow{JA}$).
- 7) Le quart de tour indirect de centre O envoie J en I car le quadrilatère AJOI est un carré direct.

- 8) La rotation de centre d'angle $\frac{-3\pi}{4}$ centre A envoie O en K car $AO = AK = \frac{\sqrt{2}}{2}AB$ et la mesure principale de $(\overrightarrow{AO}, \overrightarrow{AK})$ est égale à $\frac{-3\pi}{4}$
- 9) Le quart de tour direct de centre J transforme la droite (BC) en la droite (OA) car cette rotation envoie B en O et O en A.

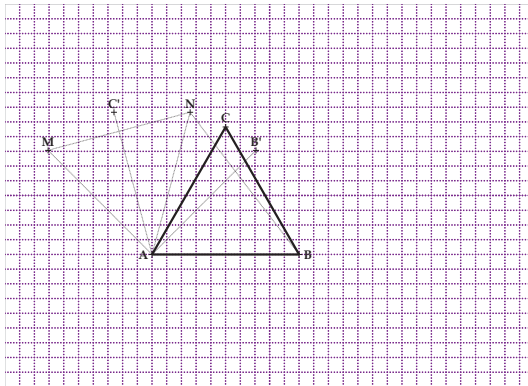
Exercice 4

On a $\overrightarrow{M'A} + \overrightarrow{M'B} - \overrightarrow{3M'M} = \vec{0}$. Soit I le milieu du segment [AB].

On a donc $\overrightarrow{M'A} + \overrightarrow{M'B} - \overrightarrow{3M'M} = \vec{0} \Leftrightarrow \overrightarrow{IM'} = 3\overrightarrow{IM}$. L'application f est donc l'homothétie de centre I et rapport 3.

Exercice 5

- 1) On obtient les constructions suivantes :



- 2) La mesure principale de l'angle $(\widehat{AB, AN})$ est égale à $\frac{5\pi}{12}$. Celle de l'angle orienté $(\overrightarrow{AN}, \overrightarrow{AM})$ est égale à celle de $(\overrightarrow{AB}, \overrightarrow{AC})$ car une rotation conserve les angles orientés. Donc la mesure principale de $(\widehat{AN, AM})$ est égale à : $\frac{\pi}{3}$

Exercice 6

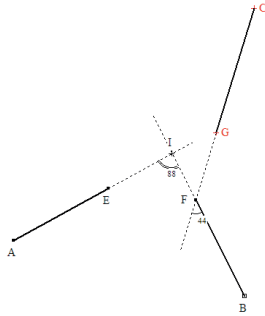
- 1) On sait par hypothèse que $EA=FB$. Il existe donc une unique rotation qui transforme A en B et E en F.

Soit O le centre de cette rotation.

- 2) Le centre O de cette rotation est le point d'intersection des médiatrices des segments $[EF]$ et $[AB]$.

Ces deux médiatrices ne sont ni identiques, ni parallèles car les droites (EF) et (AB) ne sont pas parallèles.

- 3) L'angle orienté de la rotation f est égal à : $\frac{22\pi}{454}$; celui de la rotation g est égal à : $\frac{13\pi}{15}$.
- 4) La composée gof est celle de deux rotations de même centre O. Il s'agit donc d'une rotation de centre O. Son angle est la somme des

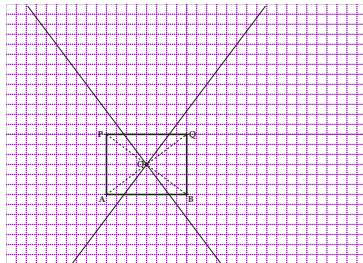


angles de f et de g. C'est donc : $\frac{61\pi}{45}$ c'est-à-dire : $\frac{-29\pi}{45}$

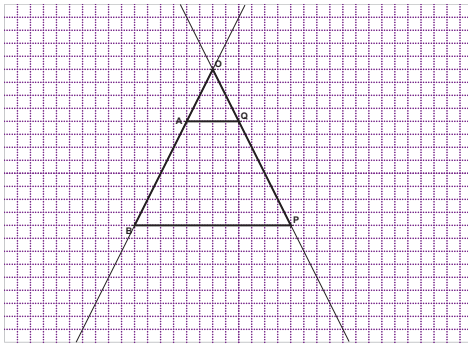
Exercice 7

On donne les deux segments $[AB]$ et $[PQ]$ avec $AB = PQ$.

- 1) On suppose que $ABQP$ est un rectangle.
- a) Le centre O de la rotation r qui envoie A en Q et B en P est le point d'intersection des médiatrices des segments $[AQ]$ et $[BP]$. C'est donc le centre du rectangle $ABQP$.



- b) Une mesure en radian de l'angle orienté de cette rotation est une mesure $(\overrightarrow{AB}, \overrightarrow{QP})$; c'est π .
- 2) On suppose que $ABPQ$ est un trapèze isocèle de bases $[AQ]$ et $[BP]$
- a) Ici les médiatrices des segments $[AQ]$ et $[BP]$ sont identiques. Le centre de cette rotation est le point d'intersection des droites (AB) et (PQ) .



- b) On détermine une mesure de $(\overrightarrow{OA}, \overrightarrow{OQ})$ en degrés que l'on convertit en radians.

Exercice 8

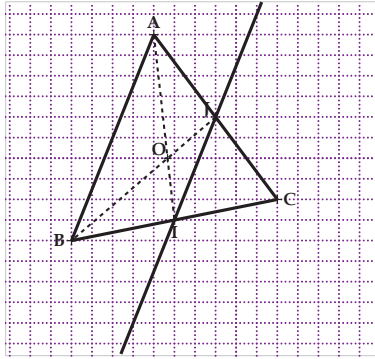
- 1) Démontrons le rapport de l'homothétie est égal à $-\frac{1}{2}$.

Le point J est le milieu du segment $[AC]$ car dans un triangle, la droite qui passe par le milieu d'un côté et qui est parallèle au support d'un deuxième côté, passe par le milieu du troisième côté. De plus $IJ = \frac{1}{2}AB$.

Donc $\vec{IJ} = \frac{-1}{2}\vec{AB}$. Enfin le centre de l'homothétie est aligné avec B et I et aligné avec A et J. c'est donc le point C.

- 2) L'homothétie h' est de centre O et envoie A en I. l'image du point B par h' est le point d'intersection des droites (OB) et de la droite parallèle à (AB) passant par I. C'est donc le point J

En outre le rapport de h' est le nombre réel $-\frac{IJ}{AB}$ c'est-à-dire $-\frac{1}{2}$.



Exercice 9

On a les deux relations vectorielles suivantes : $\overrightarrow{OB} = 2\overrightarrow{OA}$ et $\overrightarrow{OC} = -\frac{1}{2}\overrightarrow{OA}$.

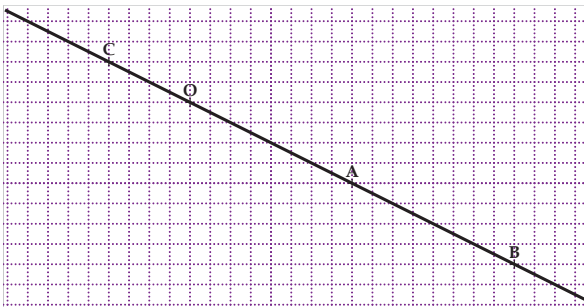
1. La relation vectorielle $\overrightarrow{OC} = -\frac{1}{2}\overrightarrow{OA}$ prouve que l'homothétie h de centre O qui envoie A en C a pour rapport : $-\frac{1}{2}$
2. Ecrivons l'homothétie h comme la composée deux homothéties de même centre que h .

Il découle des deux relations vectorielles ci-dessus que : $\overrightarrow{OC} = -\frac{1}{4}\overrightarrow{OA}$.

Considérons l'homothétie h_1 de centre O qui envoie A en B ; son rapport est 2 , puis l'homothétie h_2 de centre O qui envoie B en C ; son rapport est $-\frac{1}{4}$. La composée $h_2 \circ h_1$ est l'homothétie de centre O

qui envoie A en C ; son rapport est $2 \times (-\frac{1}{4})$ c'est-à-dire $-\frac{1}{2}$. Donc

$$h = h_2 \circ h_1$$



Exercice 10

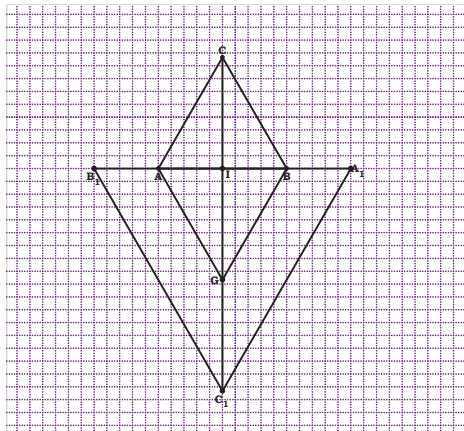
1. La relation $5\overrightarrow{AF} + 2\overrightarrow{FQ} = \vec{0}$ est équivalente à $5\overrightarrow{AF} = -2\overrightarrow{FQ}$ ce qui prouve que les points A, F, Q sont alignés. Ensuite la relation $\overrightarrow{AQ} = 3\overrightarrow{AP}$ prouve que les points A, Q et P sont alignés.
En conclusion, les quatre points A, F, P et Q sont alignés.
2. a) D'après la relation $\overrightarrow{AQ} = 3\overrightarrow{AP}$, le rapport de cette homothétie est égal à : 3.

La relation $5\overrightarrow{AF} = -2\overrightarrow{FQ}$ est équivalente à $\overrightarrow{QA} = \frac{3}{5}\overrightarrow{QF}$. Donc le rapport de cette homothétie est : $\frac{3}{5}$

- c) La relation $5\overrightarrow{AF} = -2\overrightarrow{FQ}$ est équivalente à $\overrightarrow{AQ} = \frac{-3}{2}\overrightarrow{AF}$. Donc le centre de cette homothétie est le point A.
- d) L'image de F est le point Q car $\overrightarrow{AQ} = -\frac{3}{2}\overrightarrow{AF}$

Exercice 11

1)



- 2) La composée $h_{(I, \frac{1}{2})} \circ h_{(I, -2)}$ est l'homothétie de centre I et de rapport -1 ; en outre pour tout point M d'image M' par $h_{(I, \frac{1}{2})} \circ h_{(I, -2)}$,
 $\overrightarrow{IM'} = -\overrightarrow{IM}$. Donc $h_{(I, \frac{1}{2})} \circ h_{(I, -2)}$ est la symétrie de centre I.

- 3) On sait que I est le milieu de $[AB]$; donc $\vec{IB} = -\vec{IA}$. Cette égalité peut s'écrire également

$$\vec{IB} = -\vec{IA} = \frac{1}{2}(-2\vec{IA}) \text{ or } \vec{IA}_1 = -2\vec{IA}. \text{ Donc } \vec{IB} = -\vec{IA}_1. \text{ Ce qui prouve } B = h_{(I, \frac{1}{2})}(A_1).$$

On prouve de même que $A = h_{(I, \frac{1}{2})}(B_1)$.

- 4) Le triangle ABC est équilatéral par hypothèse ; l'image du triangle ABC par $h_{(I, -2)}$ est le triangle $A_1B_1C_1$

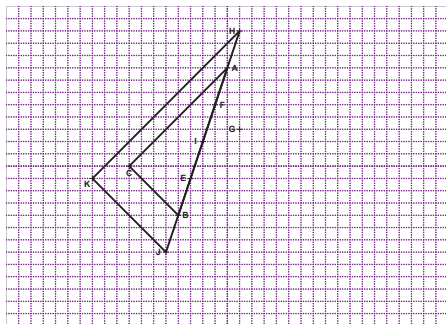
D'où $\vec{A_1B_1} = -2\vec{AB}$, $\vec{B_1C_1} = -2\vec{BC}$ et $\vec{C_1A_1} = -2\vec{CA}$; ce qui donne successivement $A_1B_1 = 2AB$; $B_1C_1 = 2BC$ et $C_1A_1 = 2CA$. Or $AB=BC=CA$. Donc $A_1B_1 = B_1C_1 = C_1A_1$. Le triangle $A_1B_1C_1$ est équilatéral.

- 5) La composée $h_{(I, \frac{1}{2})} \circ h_{(I, -2)}$ c'est-à-dire S_I envoie A en B ; C en G. Donc le quadrilatère ACBG est un parallélogramme de centre I de plus, (IC) est perpendiculaire à (AB) car ABC est un triangle équilatéral et I est le milieu de $[AB]$. Le parallélogramme ACBG a ses diagonales $[AB]$ et $[GC]$ de supports perpendiculaires. C'est donc un losange.

Exercice 12

ATTENTION : ajouter aux hypothèses « I milieu du segment $[AB]$ »

- 1) On a la construction suivante :

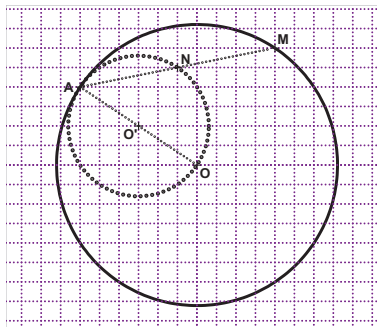


- 2) L'application f est la composée de deux homothéties de même centre I et de rapports -3 et $-\frac{1}{2}$. C'est donc une homothétie de centre O et de rapport $\frac{3}{2}$.

- 3) ATTENTION : il fallait lire « justifie que triangle HJK est rectangle »
 D'après les hypothèses, l'image du triangle ABC par l'homothétie f est le triangle JHK. On en déduit que le triangle HJK est rectangle en K car une homothétie conservant les angles.
- 4) ATTENTION : il fallait lire « détermine l'aire du triangle HJK »
 L'aire du triangle JHK est égale à : $12\left(\frac{3}{2}\right)^2 \text{cm}^2$ c'est-à-dire 27cm^2 .

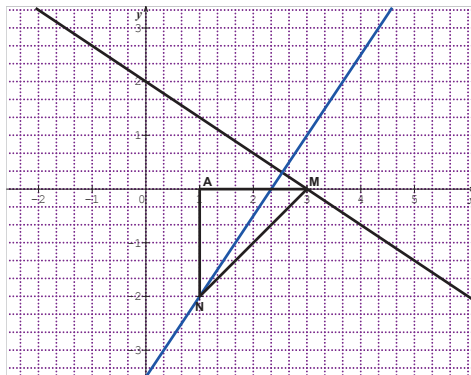
Exercice 13

Soit N le milieu de $[AM]$. Alors $\overrightarrow{AN} = \frac{1}{2}\overrightarrow{AM}$. Il en résulte que $N = h_{(A, \frac{1}{2})}(M)$.
 Donc le point N décrit l'image de (C) par $h_{(A, \frac{1}{2})}$. N décrit donc le cercle de centre O' image de O par l'homothétie $h_{(A, \frac{1}{2})}$ et de rayon $\frac{OA}{2}$



Exercice 14

- 1) On a la construction suivante :



- 2) Le quart de tour indirect de centre A envoie M en N. Donc lorsque M parcourt la droite (D), le point N parcourt la droite (D') image de (D) par ce quart de tour indirect.

Exercice 15

Le triangle AMM' étant équilatéral direct, on peut écrire : $AM' = AM$ et $\text{Mes}(\overrightarrow{AM}, \overrightarrow{AM'}) = \frac{\pi}{3}$. Cela signifie que la rotation $r_{(A, \frac{\pi}{3})}$ envoie M en M'.

Donc l'ensemble des points M' est le cercle (C'), image de (C) par $r_{(A, \frac{\pi}{3})}$.

Exercice 16

- 1) $\overrightarrow{AI} = \frac{1}{2}\overrightarrow{AM}$. Il en résulte que l'homothétie de centre A et de rapport $\frac{1}{2}$ envoie M en I
- 2) Lorsque M décrit le cercle de diamètre [AB], I décrit le cercle de diamètre [AB'] où B' est l'image de B par cette homothétie.
- 3) $-3\overrightarrow{GA} + \overrightarrow{GB} + \overrightarrow{GM} = \vec{0} \Leftrightarrow \overrightarrow{JG} = \frac{1}{3}\overrightarrow{JM}$. Il en résulte que l'homothétie h' de centre J et de rapport $\frac{1}{3}$ envoie M en G.
- 4) L'ensemble des points G est donc la droite perpendiculaire à la droite (AB) passant par B''=h'(B).

Exercice 17

Soit r la rotation de centre O et d'angle $\frac{\pi}{3}$

Analyse d'une figure.

Le triangle OEF étant un triangle équilatéral direct, la rotation r envoie donc E en F. E appartient (D), donc F appartient (D'') image de la droite (D) par la rotation r.

Programme de construction

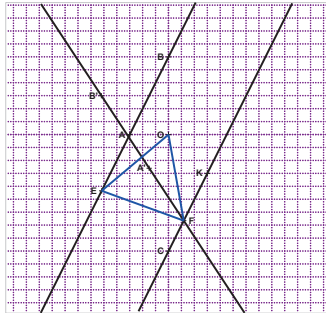
- Trace la droite (D''), image de la droite (D) par la rotation r ;
- Prends F le point d'intersection des droites (D') et (D'') ;
- Construis le point E, image de F par la rotation r^{-1} .
- Le triangle OEF est une solution au problème.

Justifications du programme de construction

Les droites (D) et (D') sont parallèles. Les droites (D) et (D'') sont sécantes car $Mes(\vec{u}, \vec{u}'') = \frac{\pi}{3}$ ou $Mes(\vec{u}, \vec{u}'') = \frac{-2\pi}{3}$ où \vec{u} et \vec{u}'' sont des vecteurs directeurs respectifs des droites (D) et (D'').

La rotation r^{-1} de centre O d'angle $-\frac{\pi}{3}$ envoie F en E. Donc le point E appartient à la droite (D) et le triangle OEF est équilatéral direct.

Construction



Exercice 18

- 1) Le centre de l'homothétie h_1 est I et son rapport est $-\frac{IE}{IG}$. Le centre de l'homothétie h_2 est I et son rapport est $-\frac{IH}{IF}$. La composée $h_2 \circ h_1$ est donc l'homothétie de centre I et de rapport $\frac{IE}{IG} \times \frac{IH}{IF}$.

Deux homothéties de même centre commutent ; ce qui prouve

que : $h_2 \circ h_1 = h_1 \circ h_2$.

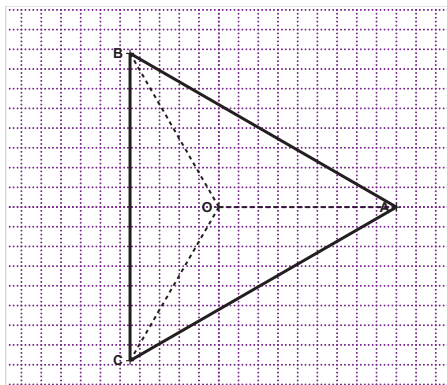
- 2) L'image de la droite (GC) par l'homothétie h_1 est la droite (EF) et l'image de la droite (EF) par l'homothétie h_2 est la droite (HB). Donc l'image de la droite (GC) par l'homothétie $h_2 \circ h_1$ est la droite (HB).
- 3) L'image de la droite (CF) par l'homothétie h_2 est la droite (HG) et l'image de la droite (HG) par l'homothétie h_1 est la droite (ED). Donc l'image de la droite (CF) par l'homothétie $h_1 \circ h_2$ est la droite (ED).
- 4) Les homothéties $h_1 \circ h_2$ et $h_2 \circ h_1 = h_1$ étant identiques, c'est la même homothétie de centre I qui transforme la droite (GC) en la droite (HB) et la droite (CF) en la droite (ED). Les droites (GC) et (CF) se coupent en C et les droites (HB) et (ED) se coupent en A.

Donc l'image du point C par cette même homothétie est donc le point A. Il en résulte que le point I appartient à la droite (AC).

Comme I appartient déjà aux droites (HF) et (GE), il en résulte finalement que les trois droites (HF), (GE) et (AC) sont concourantes au point I.

Exercice 19

1. ATTENTION : il fallait lire « on pose $r = r_{(O, \frac{2\pi}{3})}$ »



2. Les triangles OAB, OBC et OCA sont isocèles en O et
 $mes\widehat{AOC} = mes\widehat{BOC} = mes\widehat{AOB} = 120^{\circ}$.

Donc $mes\widehat{CAB} = mes\widehat{BAC} = mes\widehat{ACB} = 60^{\circ}$. Il en résulte que le triangle ABC est équilatéral. Ce triangle est de sens direct car OAB est un triangle de sens direct.

Exercice 20

ATTENTION : il fallait lire plutôt « il s'agit de démontrer que (AA') est parallèle à (CC') »

D'après les données, h_2oh_1 transforme A en C. ensuite on démontre aisément que h_1oh_2 transforme A' en C'.

Les deux homothéties h_2oh_1 et h_1oh_2 sont identiques car h_1 et h_2 ont le même centre. Donc h_1oh_2 transforme A en C et A' en C'. Il en résulte que les droites (AA') et (CC') sont parallèles.

Exercice 21

Analyse de la figure

Le cercle (C) est tangent aux deux droites (D) et (D') en H et H' respectivement. Donc le centre I du cercle (C) appartient à la bissectrice de l'angle $\widehat{HOH'}$. Mais ne contient pas le point P. L'une des contraintes n'est pas vérifiée.

Deux contraintes sont vérifiées ; à savoir que le cercle (C) est tangent à la droite (D) et tangent à la droite (D').

Il faut donc « agrandir » le cercle (C) de manière à obtenir un cercle qui passe par P et qui reste tangent aux droites (D) et (D').

La droite (OP) coupe (C) en deux points M et N. Soit h l'homothétie de centre O qui envoie M en P. L'image (C') de (C) par h est un cercle passant par P et tangent aux droites (D) et (D').

Programme de construction

- Trace la bissectrice (d) de l'angle \widehat{EOF} où $E \in (D)$ et $F \in (D')$;
- Prends un point I sur (d) ; puis projette I orthogonalement en H sur (D) et orthogonalement en K sur (D').
- Trace le cercle (C) de centre I et de rayon IH.
- Trace la droite (OP) qui coupe (C) en M et N ;
- Par l'homothétie h de centre O qui envoie M en P, construis le cercle (C'), image de (C) par h.

Justifications du programme

Le cercle (C) est effectivement tangent aux droites (D) et (D') car le point I est sur la bissectrice de l'angle \widehat{EOF} .

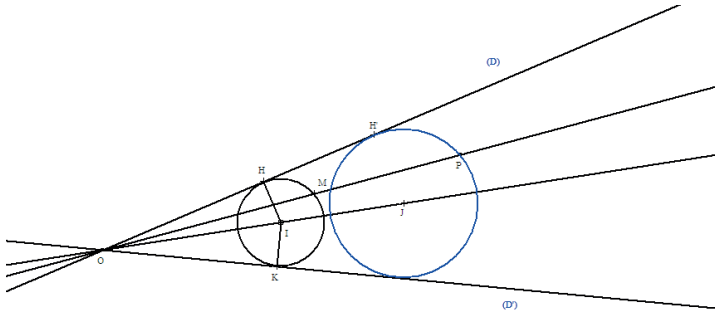
Le point M appartient à (C) donc son image P par l'homothétie h appartient au cercle (C').

Les droites (D) et (D') sont globalement invariantes par h car elles contiennent le centre de h.

Enfin (D) et (D') sont tangentes à (C') car une homothétie conserve le contact.

Le cercle (C') ainsi obtenu vérifie les trois contraintes. C' est donc un cercle solution.

Une construction est donnée ci-dessous. Le cercle en bleu est le cercle solution.



Exercice 22

$ABCD$ étant un trapèze de bases $[AB]$ et $[DC]$, les droites (AD) et (BC) sont sécantes. Soit O leur point d'intersection.

Soit h_1 l'homothétie de centre O qui transforme D en A . Donc h_1 transforme C en B .

Les droites (PB) et (DQ) étant parallèles (par hypothèse), considérons h_2 l'homothétie de centre O qui transforme P en D . Donc h_2 transforme B en Q .

D'une part la composée h_2oh_1 est une homothétie de centre O (car la composée de deux homothéties de même centre est une homothétie) qui transforme C en Q . D'autre part la composée h_1oh_2 est une homothétie de centre O qui transforme P en A . Les deux homothéties h_2 et h_1 ont le même centre ; donc elles commutent c'est-à-dire que : $h_1oh_2 = h_2oh_1$.

Ainsi donc h_2oh_1 transforme C en Q et P en A . Il en résulte donc que les droites (CP) et (AQ) sont parallèles.

Exercice 23

Notons $ABCD$ les sommets du carré en bleu, puis par $A_1B_1C_1D_1$ les sommets du carré en noir et enfin par $A_2B_2C_2D_2$ les sommets du carré en rouge. On a : $A_1 \in (AA_2)$, $B_1 \in (BB_2)$, $C_1 \in (CC_2)$ et $D_1 \in (DD_2)$.

Les droites (AA_2) , (BB_2) , (CC_2) et (DD_2) sont concourantes en un point O .

L'homothétie h_1 de centre O qui transforme A en A_2 transforme le carré en rouge en le carré en noir et enfin l'homothétie h_2 transforme le carré en noir en le carré en rouge. D'où le résultat.

SITUATION D'ÉVALUATION

Partie A

- a) Le quadrilatère $IJKL$ est un carré ; donc la médiatrice de $[IJ]$ est également la médiatrice de $[KL]$. Or le point O appartient à la médiatrice de $[KL]$ car les points K et L sont sur un arc de cercle de centre O .

Donc le point O appartient à la médiatrice de $[IJ]$.

b) On a $JB=IA$ car $OA=OI+IA$; $OB=OI+JB$ et $OI=OJ$. Donc $\frac{JO}{IA} = \frac{JO}{JB}$ et $I \in [OA]$ et $J \in [OB]$. D'après la réciproque de la propriété de Thalès, les droites (IJ) et (AB) sont parallèles.
- L'image du point J par cette homothétie est le point B car les points O, J et B sont alignés et la droite (IJ) est parallèle à la droite (AB) . On sait que $IJKL$ est un carré d'image $ABCD$ par l'homothétie h . On sait aussi qu'une homothétie conserve les rapports des distances c'est-à-dire que $\frac{IJ}{AB} = \frac{JK}{BC} = \frac{KL}{CD} = \frac{IL}{AD}$ ainsi que les angles c'est-à-dire que : $mes\widehat{ABC} = mes\widehat{IJK} = 90^\circ$. Donc le quadrilatère $ABCD$ est un carré.
- Le carré $ABCD$ de côté $[AB]$ situé dans le demi-plan de bord (AB) ne contenant pas les points C et D est unique. Son image $IJKL$ par l'homothétie h' réciproque de l'homothétie h est également unique (car h' est une bijection)

Partie B

1. Voir construction ci-dessous
2. Soit h l'homothétie de centre O qui transforme D en L (h existe car O, L et D sont alignés)

Remarque : l'homothétie h est différente de celle définie dans la partie A

Construction de $I, I=h(A)$

- Trace la parallèle à (AD) passant par L ;
- Prends I intersection de (OA) et de la parallèle à (AD) passant par L .

Construction de $J, J=h(B)$

- Trace la parallèle à (DB) passant par L ;
- Prends J intersection de (OB) et de la parallèle à (DB) passant par L .

Construction de $K, K=h(C)$

- Trace la droite (OC) ;
- Prends K intersection de (OC) et de la parallèle à (DC) passant par L .

Justifications

Le carré $ABCD$ a pour image $IJKL$ par l'homothétie h . Donc $IJKL$ est également un carré. Le rapport de h est un nombre réel strictement positif inférieur à 1. Donc on a successivement $I \in [OA]$ et $J \in [OB]$.

Les triangles OBC et OAD sont tels que :

$OB=OA, BC=AD$ et $\widehat{OBC} = \widehat{OAD}$. Les deux triangles sont donc semblables. Donc $OC=OD$. L'image de l'arc DC de centre O par l'homothétie h , est l'arc AB de centre O .

Donc le point K image de C par l'homothétie h appartient à l'arc AB de centre O .

STATISTIQUE A UNE VARIABLE

SOLUTIONS DES EXERCICES

1-REGROUPEMENT EN CLASSES

1. Présentation

Exercice de fixation 1

N°	Affirmation	Réponse
1	La classe modale est la classe ayant le plus petit effectif	Faux
2	L'amplitude d'une classe $[a; b[$ est le nombre réel $a - b$	Faux
3	La classe modale est la classe ayant le plus grand effectif	Vrai
4	La fréquence d'une classe est le quotient de l'effectif de cette classe par 2	Faux
5	Le centre d'une classe $[a; b[$ est le nombre réel c tel que : $c = \frac{(a+b)}{2}$	Vrai

Exercice de fixation 2

ATTENTION : il fallait lire « dans l'exemple précédent »

Dans l'exemple précédent, la fréquence en pourcentage de la classe $[7; 9[$ est égale à : $\frac{12 \times 100}{45} = 26,66\%$

2. Moyenne arithmétique

Exercice de fixation

La durée moyenne du trajet des élèves est égale à : $\frac{10 \times 7,5 + 15 \times 17,5 + 8 \times 22,5}{33} = \frac{65}{6}$
soit environ 11 minutes.

2-HISTOGRAMME ET POLYGONE DES EFFECTIFS

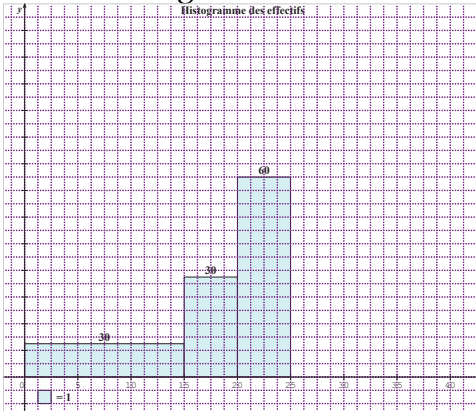
1. Présentation

2. Polygone des effectifs (ou des fréquences)

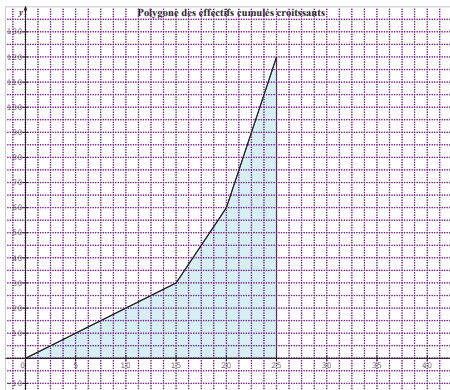
Exercice de fixation

Durée du trajet en minutes	$[0; 15[$	$[15; 20[$	$[20; 25[$
Effectifs	30	30	60

- Histogramme des effectifs



- Polygone des effectifs cumulés croissants



3- Polygones des effectifs cumulés et des fréquences cumulées

Une enquête a permis de dresser la durée du trajet des élèves d'une classe de première pour se rendre à l'école.

Durée du trajet en minutes	[0; 15[[15; 20[[20; 25[[25; 30[
Effectifs	10	15	8	12

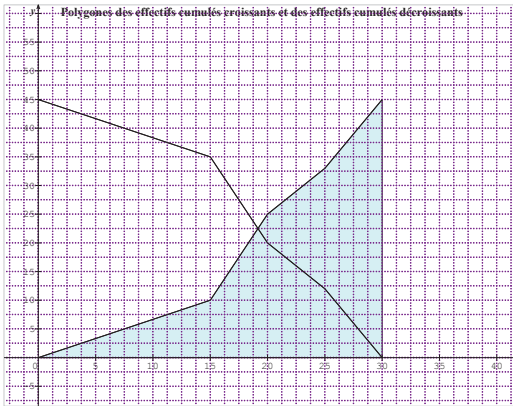
Constructions du polygone des effectifs cumulés croissants (ECC) et du polygone des effectifs cumulés décroissants (ECD).

Solution

On complète le tableau ci-dessus, on créant les tableaux des ECC et de ECD.

Durée du trajet en minutes	[0; 15[[15; 20[[20; 25[[25; 30[
Effectifs	10	15	8	12
Effectifs cumulés croissants (ECC)	10	25	33	45
Effectifs cumulés décroissants (ECD)	45	35	20	12

Puis on place les points correspondants aux extrémités de chaque classe sur un graphique.



4- MEDIANE QUARTILES D'UNE SERIE STATISTIQUE REGROUPEE EN CLASSES

Solution de l'exercice 1 de fixation

On détermine le troisième quartile q_3 par la méthode d'interpolation linéaire :

D'abord q_3 est la valeur qui est telle que 75% des valeurs soient inférieures ou égales à q_3 et 25% des valeurs soient supérieures ou égales à q_3 .

Donc q_3 est à chercher dans la classe [9; 11[. On obtient le tableau suivant :

9	q_3	11
32	33,75	40

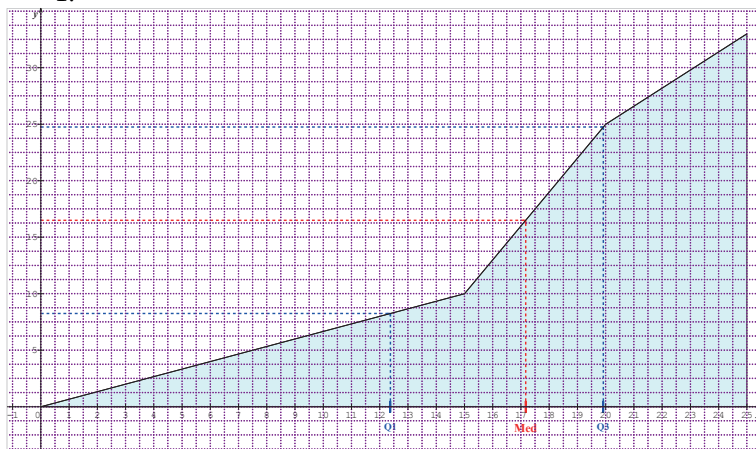
Soit donc : $\frac{11-9}{40-32} = \frac{11-q_3}{40-33,75}$. Ce qui donne $q_3 \approx 9,4$

Solution de l'exercice 2 de fixation

1. Le nombre total des salariés est 116
2. Le salaire médian est d'environ 118 000F
- 3.

Solution de l'exercice 3 de fixation

1.



2. Graphiquement, le premier quartile est environ 12,4. La médiane est environ 17,2.
3. Vérifications à l'aide du calcul.

On complète le tableau en y insérant la ligne des ECC.

Durée du trajet en minutes	[0; 15[[15; 20[[20; 25[
Effectifs	10	15	8
ECC	10	25	33

- On détermine le premier quartile q_1 par la méthode d'interpolation linéaire :

D'abord q_1 est la valeur qui est telle que 25% des valeurs soient inférieures ou égales à q_1 et 75% des valeurs soient supérieures ou égales à q_1 .

Donc q_1 est à chercher dans la classe [0; 15[. On obtient le tableau suivant :

0	q_1	15
0	8,25	10

Soit donc : $\frac{10-0}{15-0} = \frac{15-q_1}{10-8,25}$. Ce qui donne $q_1 = 12,375$ soit environ 12,4

- On détermine médiane M_e par la méthode d'interpolation linéaire :
D'abord M_e est la valeur qui est telle que 50% des valeurs soient inférieures ou égales à M_e et 50% des valeurs soient supérieures ou égales à M_e
Donc M_e est à chercher dans la classe [15; 20[. On obtient le tableau suivant :

15	M_e	20
10	16,5	25

Soit donc : $\frac{20-15}{25-10} = \frac{M_e-15}{16,5-10}$. Ce qui donne $M_e = \frac{103}{6}$ soit environ 17,2

5- CARACTERISTIQUES DE DISPERSION D'UNE SERIE STATISTIQUE REGROUPEE EN CLASSES

Solution de l'exercice de fixation

On complète le tableau en y insérant deux lignes, l'une est celle des centres c_i des classes et celle des produits $n_i c_i$ où les n_i représentent les effectifs des classes.

Durée du trajet en minutes	[0; 15[[15; 20[[20; 25[
Effectifs	10	15	8
Centres c_i des classes	7,5	17,5	22,5
Les produits $n_i c_i$	75	262,5	180

- La moyenne est donc $\bar{X} = \frac{75+262,5+180}{33} = \frac{345}{22}$ soit environ 15,7
- La variance est donc : $V = \frac{10 \times 7,5^2 + 15 \times 17,5^2 + 8 \times 22,5^2}{33} - \left(\frac{345}{22}\right)^2$ donc $V \approx 33,06$
- L'écart type est $\sigma = \sqrt{V}$ soit $\sigma \approx 5,75$

SOLUTIONS DES EXERCICES DE RENFORCEMENT/APPROFONDISSEMENT

Exercice 1

1. La médiane est une caractéristique de position d'une série statistique : VRAI
2. La moyenne est une caractéristique de dispersion d'une série statistique : FAUX
3. On ne peut pas calculer la moyenne dans le cas d'une série statistique regroupée en classes : FAUX
4. Si par exemple les modalités sont en cm alors la variance est également en cm : FAUX
5. La classe médiane est une classe qui contient la médiane : VRAI
6. L'écart-type est la racine carrée de la variance : FAUX
7. Le premier quartile Q_1 est tel qu'au moins 25% des modalités (rangées dans l'ordre croissant) sont inférieures ou égales à Q_1 : VRAI
8. La classe modale est identique à la classe médiane : FAUX

Exercice 2

- a. Dans une série statistique regroupée en classes, toute classe qui a un effectif (ou une fréquence) maximal est appelée classe modale : VRAI
- b. Dans une série statistique regroupée en classes, la moyenne de la série des centres de classes associées correspond à la moyenne de cette série : VRAI
- c. La médiane d'une série statistique est le nombre M_e , tel que : 50% au moins des individus ont une valeur supérieure à M_e : VRAI
- d. Le premier quartile d'une série statistique, noté Q_1 correspond au plus petit nombre de la série tel qu'au moins 25% des données soient inférieures ou égales à ce nombre : VRAI
- e. Il existe trois quartiles, le deuxième quartile correspond à la médiane : FAUX
- f. Les quartiles sont toujours des nombres plus grands que la médiane : FAUX

Exercice 3

De la gauche vers la droite, les histogrammes correspondent au 2^e et au 3^e diagramme.

Exercice 4

1. La vitesse moyenne est égale à : $V_m = \frac{15 \times 60 + 90 \times 80 + 35 \times 105 + 5 \times 135}{145}$ soit environ 86 km/h
2. Le nombre d'automobiliste qui respectent cette limitation de vitesse est : $15 + 90 + 35 = 140$

Exercice 5

- 1) Le nombre total d'entreprises concernées par cette enquête est : $21 + 14 + 7 + 2 = 44$
- 2) Calculons
 - a. Le chiffre d'affaire moyen : $\frac{21 \times 3,5 + 14 \times 6,5 + 7 \times 9 + 2 \times 12,5}{44}$ soit environ 5,74 millions de francs CFA.
 - b. Calculons d'abord la variance : $V = \frac{21 \times 3,5^2 + 14 \times 6,5^2 + 7 \times 9^2 + 2 \times 12,5^2}{44} - 5,74^2$ soit environ : 6,33.
L'écart-type est alors égal à $\sigma = \sqrt{6,33}$ soit environ 2,52 millions.
 - c. Le nombre d'entreprise qui ont moins de 10 millions de chiffre d'affaire est $21 + 14 + 7 = 42$

Exercice 6

ATTENTION : il fallait lire « le graphique suivant représente le polygone des ECC d'une série de notes à un devoir surveillé »

En se référant au graphique, on obtient le tableau suivant :

Notes	[0; 5[[5; 8[[8; 10[[10; 12[[12; 15[[15; 18[
ECC	6	16	20	23	24	27
Effectifs	6	10	4	3	1	3

1. Le nombre d'élèves qui ont eu plus de 10 sur 20 est :
2. Le nombre d'élèves qui ont eu moins de 08 sur 20 est : 16
3. Calculons la moyenne de la classe au devoir : $\bar{X} = \frac{6 \times 2,5 + 10 \times 6,5 + 4 \times 9 + 3 \times 21 + 1 \times 13,5 + 3 \times 16,5}{27}$ soit environ 7,85.
4. La moyenne de la classe à ce devoir est inférieure à 10 sur 20. Le devoir n'est donc pas réussi.
5. On calcule le premier quartile, on trouve : $Q_1 \approx 5$ puis le troisième quartile, on trouve : $Q_3 \approx 10$.

L'écart interquartile est $Q_3 - Q_1 = 5$

Interprétation : 25% des élèves ont eu une note inférieure ou égale à 05 tandis que 25% des élèves ont eu une note supérieure ou égale à 10. Donc près de la moitié des élèves ont eu une note comprise entre 05 et 10. Ces 50% ont donc une note dont l'écart à Q_1 ou Q_3 est inférieure à 5 sur 20.

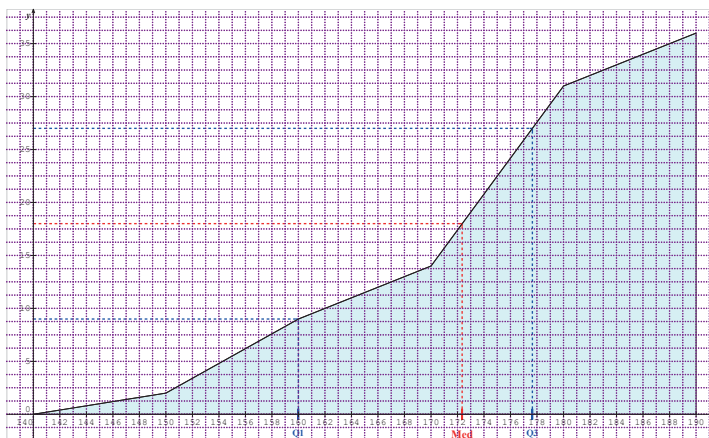
La variance : $V = \frac{6 \times 2,5^2 + 10 \times 6,5^2 + 4 \times 9^2 + 3 \times 11^2 + 1 \times 13,5^2 + 3 \times 16,5^2}{27} - 7,85^2 = 17,86$
 donc l'écart-type est égal à $\sigma = \sqrt{17,86} = 4,22$

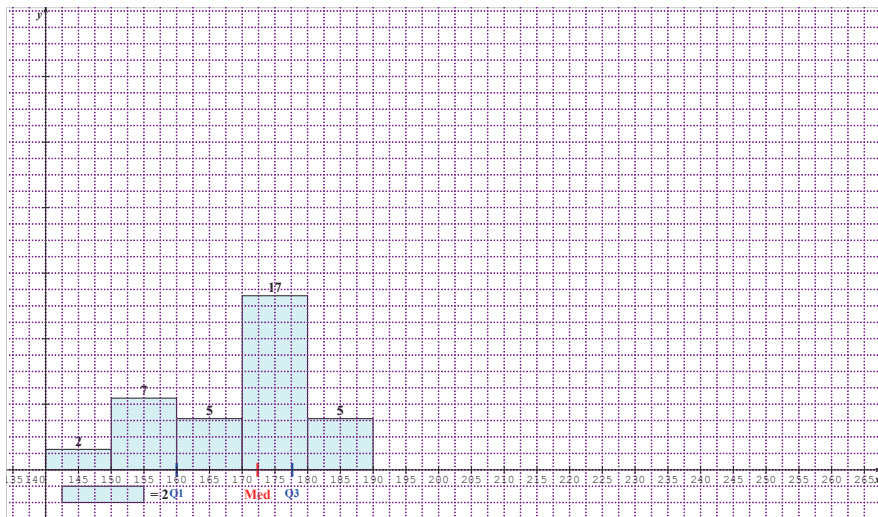
Interprétation : cet écart -type est relativement grand. Cela signifie que les notes ne sont donc pas resserrées autour de la moyenne. Le niveau de la classe à ce devoir n'est donc pas homogène.

Exercice 7

Tailles en cm	[140; 150[[150; 160[[160; 170[[170; 180[[180; 190[
Nombre d'élèves	2	7	5	17	5

1. La classe modale est la classe [170; 180[. Le mode en est le centre. C'est-à-dire 175 cm.
2. La taille médiane est d'environ 173 cm
3. La taille moyenne est d'environ : 170 cm
4. La variance vaut : $V = \frac{2(145-170)^2 + 7(155-170)^2 + 5(165-170)^2 + 17(175-170)^2 + 5(185-170)^2}{36} = 125$. Donc l'écart type est égal à $\sigma = 12$.
5. La médiane par calcul. On procède comme dans les exercices précédents ; on trouve :





Exercice 8

1. La classe modale est la classe $[600; 700[$
2. On calcule Q_1 et Q_3 par la méthode d'interpolation. On trouve :
 $Q_1 = 569$ heures et $Q_3 = 861$ heures.
3. Significations :

Au moins 25% des tubes a une durée de vie inférieure ou égale à 569 heures tandis qu'au moins 75% des tubes ont une durée de vie inférieure ou égale à 861 heures.

Exercice 9

Salaire mensuel (en FCFA)	Effectifs	Fréquences des salaires en %	Fréquences cumulées croissantes (FCC)	
$[0; 4000[$	24	3	3	24
$[4000; 6000[$	144	18	21	168
$[6000; 7000[$	166	20,75	41,75	334
$[7000; 8000[$	124	15,5	57,25	458
$[8000; 9000[$	112	14	71,25	570
$[9000; 11000[$	100	12,5	83,75	670
$[11000; 15000[$	80	10	93,75	750
$[15000; 20000[$	50	6,25	100	800

Détermination de la médiane :

L'effectif total est 800 ; 50% de FCC qui correspond à la classe [7000; 8000].

Par la méthode d'interpolation, on obtient :

7000	M_e	8000
41,75	50	57,25

Donc $\frac{8000-7000}{57,25-41,75} = \frac{M_e-7000}{50-41,75}$. Ce qui donne $M_e = 73532,26 \text{ FCFA}$

On calcule Q_1 et Q_3 de la même manière. On utilise les tableaux suivants :

6000	Q_1	7000
21	25	41,75

On trouve $Q_1 = 6192,77 \text{ FCFA}$

9000	Q_3	11000
71,25	75	83,75

On trouve : $Q_3 = 9600 \text{ FCFA}$

L'écart interquartile est donc : $Q_3 - Q_1 = 3407,23$.

Interprétation : 25% des salariés ont un salaire inférieur ou égal à 6192 F

CFA tandis que 25% des salariés ont un salaire supérieur ou égal à

9600FCFA. Donc près de la moitié des salariés ont un salaire compris entre

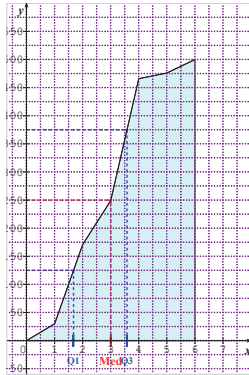
6192 FCFA et 9600FCFA.

Exercice 10

1.

Distance en km	[0; 1[[1; 2[[2; 3[[3; 4[[4; 5[[5; 6[
Nombre d'élèves	30	141	78	217	10	24
ECC	30	171	249	466	476	500
FCC	0,06	0,342	0,498	0,932	0,952	1

2.



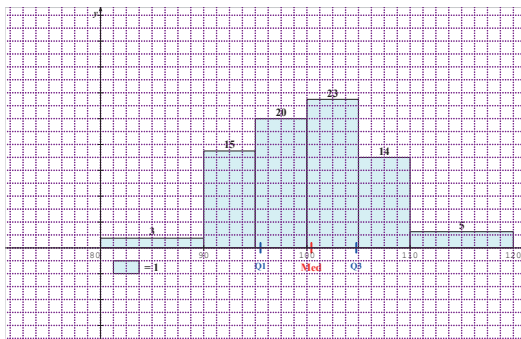
3. Graphiquement, le premier quartile Q_1 vaut environ 1,7 km, tandis que le troisième quartile Q_3 vaut environ 3,6 km.
 4. La distance moyenne est égale à :

$$\frac{30 \times 0,5 + 141 \times 1,5 + 78 \times 2,5 + 217 \times 3,5 + 10 \times 4,5 + 24 \times 5,5}{500} = 2,716 \text{ km}$$
 5. L'intervalle interquartile est égal à : [1,7; 3,6]
- Interprétation : Près de la moitié des salariés parcourent entre 1,7 km et 3,6 km pour se rendre à leur lieu de travail.

Exercice 11

Distance en km	[80; 90[[90; 95[[95; 100[[100; 105[[105; 110[[110; 120[
Effectifs	3	15	20	23	14	5

1.



- La distance moyenne parcourue est égale à 100,375 km
- L'écart-type est environ 6,790 km
- On calcule comme précédemment, le premier quartile Q_1 vaut environ 95,5 km, tandis que le troisième quartile Q_3 vaut environ 104,783 km.

Exercice 12

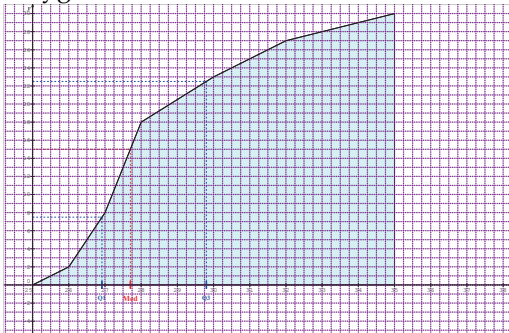
- Le salaire moyen dans cette entreprise est 3492,5 FCFA
- La classe modale est la classe [2; 3]. Cela signifie que qu'il y a plus de journaliers qui gagnent entre 2 000FCFA et 3 000FCFA par jour.

Exercice 13

1.

Consommation n	[25; 26[[26; 27[[27; 28[[28; 30[[30; 32[[32; 35[
Nombre de véhicules	2	6	10	5	4	3
ECC	2	8	18	23	27	30

- La consommation moyenne est égale à 28,48 litres
- Polygone des ECC.

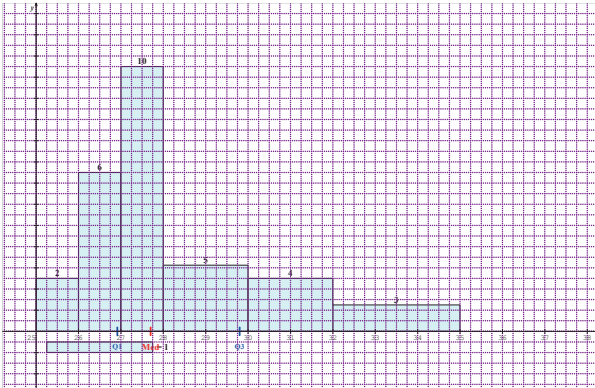


- Graphiquement la consommation médiane est environ 27,7 litres
- La consommation médiane par calculs :

27	M_e	28
8	15	18

Donc $\frac{28-27}{18-8} = \frac{M_e-27}{15-8}$. Ce qui donne $M_e = 27 + \frac{7}{10} = 27,7$

La consommation médiane est donc 27,7 litres.

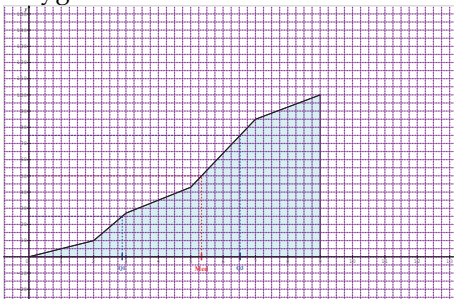


Exercice 14

1.

Durée (en heure)	[0; 2[[2; 3[[3; 5[[5; 7[[7; 9[
Fréquence de téléspectateurs en %	10	17	16	42	15
Fréquences cumulées croissantes	10	27	43	85	100

2. Polygone



3. Graphiquement

- On a 35% des habitants qui passent moins de quatre heures à regarder la télé.
- Environ 90% des habitants passent 8 heures à regarder la télé.
- La moitié des habitants passent près de 5h 20 minutes à regarder la télé.

SITUATIONS D'ÉVALUATION

Exercice 1

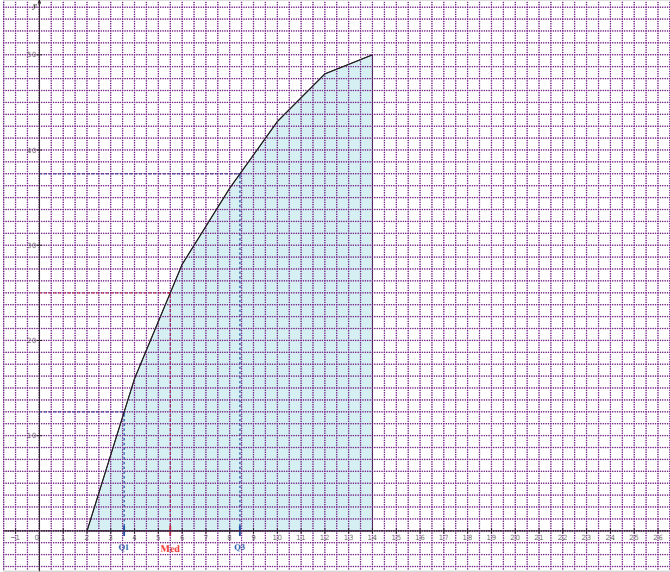
Diamètre	Effectif	Effectifs cumulés croissants
[24,2; 24,4[5	5
[24,4 ; 24,6[13	18
[24,6; 24,8[24	42
[24,8; 25[19	61
[25; 25,2[14	75
[25,2; 25,4[10	85
[25,4; 25,6[8	93
[25,6; 25,8[5	98
[25,8 ; 26[2	100

- 1) Le diamètre moyen de cette production est $\bar{X} = 24,946 \text{ mm}$.
L'écart-type est $\sigma = 0,386 \text{ mm}$.
- 2) On a bien $24,9 < \bar{X} < 25,1$ et $\sigma < 0,4$. Ensuite $\bar{X} - 2\sigma = 24,174$ et $\bar{X} + 2\sigma = 24,718$.

L'intervalle $[\bar{X} - 2\sigma; \bar{X} + 2\sigma]$ est donc $[24,174; 24,718]$. Il n'y a que 42% de l'effectif qui appartient à l'intervalle $[\bar{X} - 2\sigma; \bar{X} + 2\sigma]$.

Sur les trois conditions imposées, deux seulement sont satisfaites. Donc cette production n'est pas bonne.

Exercice 2



Le tonnage moyen est 6,16 tonnes. La condition 1 est donc bien remplie par cette centrale.

Cependant le tonnage moyen est 5,5 tonnes qui sont largement inférieure à 13 tonnes.

En conclusion, cette centrale ne peut pas bénéficier du crédit.

DEVOIR DE NIVEAU N° 1 DE MATHÉMATIQUE**Durée : 2 heures / CORRIGÉ****EXERCICE 1 (2 points)****Réponds par vrai ou faux à chacune des propositions suivantes :**

- 1) FAUX.
- 2) FAUX
- 3) FAUX
- 4) FAUX

EXERCICE 2 (2 points)

N°	Proposition	Réponses		
		A	B	C
1	Le nombre de combinaisons de 3 éléments pris parmi 10 éléments est égal à :	30	105	120
2	Le nombre de 5-listes que l'on peut former à partir de 2 éléments est égal à :	2^5	5^2	2×5
3	Pour tous A et B évènements, on a $P(A \cup B) =$	$P(A) + P(B)$	$P(A) \times P(B)$	$P(A) + P(B) - P(A \cap B)$
4	Soit A et B deux évènements incompatibles tels que $P(A) = 0,32$ et $P(B) = 0,1$. On a $P(A \cup B) =$	0,22	0,42	$\frac{10}{32}$

EXERCICE 3 (6 points)

1) Soit $g(x) = -\frac{1}{2}x^3 + \cos x + \sqrt{x}$.

$g'(x) = -\frac{3}{2}x^2 - \sin x + \frac{1}{2\sqrt{x}}$ pour tout $x \in]0; +\infty[$

2) Soit la fonction f de \mathbb{R} vers \mathbb{R} définie par : $f(x) = \frac{1}{-3x+1}$

a) $Df = \mathbb{R} - \left\{ \frac{1}{3} \right\}$ et $f(1) = -\frac{1}{2}$

b) Pour tout $x \neq \frac{1}{3}$: $\frac{f(x)-f(1)}{x-1} = \frac{3}{2(3x-1)}$. Donc $\lim_{x \rightarrow 1} \frac{f(x)-f(1)}{x-1} = \frac{3}{4}$.

c) La fonction f est dérivable en 1 car : $\lim_{x \rightarrow 1} \frac{f(x)-f(1)}{x-1}$ est un nombre réel ;

on a donc $f'(1) = \frac{3}{4}$

EXERCICE 4 (6 points)

Une boîte contient douze bâtons de craie dont : cinq blancs, quatre rouges et trois verts.

On tire au hasard trois bâtons de craie dans cette boîte.

- 1) Un tirage de 3 bâtons de craie est une combinaison de trois parmi 12.
Donc il y a 220 tirages possibles.
- 2) Soit les événements suivants :

A : « on tire trois bâtons de la même couleur » ;

B : « on tire trois bâtons de couleurs différentes » ;

C : « on tire trois bâtons de trois couleurs différentes ».

- a) On a $\text{card}A = 10 + 4 + 1 = 15$. Donc $P(A) = \frac{15}{220}$. La probabilité de l'évènement A est égale à $\frac{3}{44}$.
- b) Les événements B et A sont contraires. Donc $P(B) = 1 - P(A)$.
Donc $P(B) = \frac{41}{44}$.
- c) On a $\text{card}C = 5 \times 4 \times 3 = 60$. Donc $P(C) = \frac{60}{220}$. Donc la probabilité de l'évènement C est égale à $\frac{3}{11}$.

Exercice 5 (4 points)

On note x la longueur l'un des deux côtés.

- 1) En appliquant le théorème de Pythagore, on obtient : $x^2 + (x + 3)^2 = 15^2$

Ce qui donne : $x^2 + 3x - 108 = 0$

- 2) La résolution de l'équation : $x^2 + 3x - 108 = 0$ donne les solutions 9 et -12 ; comme $x > 0$ alors $x = 9$.

Les dimensions sont donc 9 mètres , 12 mètres et 15 mètres.

DEVOIR DE NIVEAU N°2 DEMATHEMATIQUE

Durée : 2 heures / CORRIGE

Exercice 1(2 points)

- 1) VRAI
- 2) VRAI
- 3) FAUX
- 4) VRAI

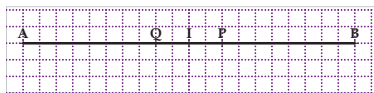
Exercice 2 (2 points)

N°	Proposition	Réponses		
		A	B	C
1	Pour tout nombre réel x , $\sin^2 x$ est égal à :	$\frac{1 + \cos 2x}{2}$	$\frac{1 - \cos 2x}{2}$	$2\cos x \sin x$
2	Si P est le barycentre de (A,3) et (B,-1) alors :	B est le barycentre de (A,3) et (P,-2)	A est le barycentre de (B,1) et (P,1)	B est le barycentre de (A,-2) et (P,3)
3	La mesure principale associée à $\frac{-14\pi}{3}$ est :	$\frac{-\pi}{3}$	$\frac{\pi}{3}$	$\frac{-2\pi}{3}$
4	Dans IR, l'ensemble des solutions de l'équation : $\cos x = 0$ est :	$\{0 + 2k\pi, k \in \mathbb{Z}\}$	$\{\frac{\pi}{2} + k\pi, k \in \mathbb{Z}\}$	$\{\pi + 2k\pi, k \in \mathbb{Z}\}$

Exercice 3(6points)

Soit A et B deux points tels que $AB = 10$ cm et I le milieu du segment $[AB]$.

- 1) On obtient ceci :



- 2) On a $A = \text{bar}\{(P, -2); (Q, 3)\}$ et $B = \text{bar}\{(P, 3); (Q, -2)\}$
 3) on sait que I est le milieu du segment $[AB]$; d'où $I = \text{bar}\{(A, 1); (B, 1)\}$,
 Appliquons la propriété du barycentre partie :

$I = \text{bar}\{(P, -2); (Q, 3); (P, 3); (Q, -2)\}$ ce qui donne $I = \text{bar}\{(P, 1); (Q, 1)\}$

Donc le point I est le milieu du segment $[PQ]$

Exercice 4 (6points)

Soit la fonction f définie sur l'intervalle $]-2; +\infty[$ par : $f(x) = x - 1 + \frac{4}{x+2}$.

On note (C) la représentation graphique de f dans le plan muni d'un repère (O, I, J)

- 1) La limite de f en -2 est $+\infty$. Il en résulte que la droite d'équation $x = -2$ est une asymptote à la courbe (C).
- 2) La limite $(f(x) - (x - 1))$ en $+\infty$ est nulle. D'où le résultat.
- 3) On suppose que f est dérivable sur l'intervalle $]-2; +\infty[$.
 - a) Pour tout x de $]-2; +\infty[$, $f'(x) = \frac{x(x+4)}{(x+2)^2}$
 - b) La fonction f est croissante sur l'intervalle $]0, +\infty[$ et elle est décroissante sur l'intervalle $]-2; 0[$
 - c) Tableau de variation de f .

x	-2	0	$+\infty$
$f'(x)$			
$f(x)$	$-\infty$	1	$+\infty$

Exercice 5 (4 points)

Le responsable de la logistique dans une entreprise effectue une commande de trois ordinateurs et d'une imprimante au prix total de 900 000 FCFA.

Etant satisfait de la qualité du matériel, un mois plus tard, il passe une autre commande de deux ordinateurs et trois imprimantes au prix total de 950 000 FCFA.

Soit x le prix d'un ordinateur et y celui d'une imprimante.

Le prix de trois ordinateurs et d'une imprimante est égal à $3x + y$ et ce prix vaut également 900 000 FCFA. Donc $3x + y = 900\,000$.

Le prix de deux ordinateurs et de trois imprimantes est égal à $2x + 3y$ et ce prix vaut également 950 000 FCFA. Donc $2x + 3y = 950\,000$.

Finalement on obtient système suivant :
$$\begin{cases} 3x + y = 900\,000 \\ 2x + 3y = 950\,000 \end{cases}$$

On résout le système ci-dessus ; on obtient $x=250\,000$ FCFA et $y=150\,000$ FCFA. Donc le prix d'un ordinateur est 250 000 FCFA et celui d'une imprimante est 150 000 FCFA

DEVOIR DE NIVEAU DU TROISIEME TRIMESTRE

Durée : 2 heures/CORRIGE

EXERCICE 1 (2 points)

Réponds par vrai ou faux à chacune des propositions suivantes.

- 1) VRAI
- 2) FAUX
- 3) FAUX
- 4) FAUX

EXERCICE 2 (2 points)

- 1) L'image d'une droite (D) par une **homothétie** est une droite parallèle à (D).
- 2) La composée de deux rotations d'angle $-\frac{\pi}{2}$ est une **rotation** d'angle π .
- 3) Si une droite est **orthogonale** à deux droites sécantes d'un plan, alors est elle orthogonale à ce plan.
- 4) Deux homothéties de **même centre** commutent.

Exercice 4 (6 points)

On considère la suite numérique (u_n) définie par :
$$\begin{cases} u_0 = \frac{1}{2} \\ \forall n \in \mathbb{N}, u_{n+1} = \frac{u_n}{1+2u_n} \end{cases}$$

- 1) On calcule et on obtient : $u_1 = \frac{1}{4}$ et $u_2 = \frac{1}{6}$
- 2) On suppose que pour tout nombre entier naturel n , $u_n \neq 0$ et on définit la suite la suite (v_n) par : $v_n = 1 + \frac{1}{u_n}$.
 - a) Le calcul donne : $v_0 = 3$
 - b) $\forall n \in \mathbb{N}, v_{n+1} = 1 + \frac{1}{u_{n+1}} = 3 + \frac{1}{u_n} = 2 + (1 + \frac{1}{u_n})$.

Donc $\forall n \in \mathbb{N}, v_{n+1} = 2 + v_n$. d'où le résultat.

c) $\forall n \in \mathbb{N}, v_n = 3 + 2n$.

ATTENTION : il fallait lire « Déduis-en que pour tout n de \mathbb{N} , de $u_n = \frac{1}{2n+2}$ »

d) $\forall n \in \mathbb{N}, u_n = \frac{1}{v_n-1}$ ce qui donne finalement : $u_n = \frac{1}{2n+2}$

EXERCICE 3 (4 points)

Soit ABC un triangle rectangle en A.

- 1) Les points A, B et C déterminent un plan car ils sont non alignés.
- 2) (D) est la droite contenant le point A et orthogonale au plan (ABC).
 - a) Démontrons que $(MA) \perp (BC)$. La droite (MA) est la droite (D) ; or $(D) \perp (ABC)$ et (BC) est incluse dans le plan (ABC). Donc $(MA) \perp (BC)$
 - b) Démontrons $(AB) \perp (MAC)$. On sait que $(AB) \perp (AC)$ car le triangle ABC est rectangle en A et $(AB) \perp (MA)$ c'est une conséquence de la question ci-dessous. Donc (AB) est orthogonale à deux droites sécantes du plan (MAC). Il en résulte que $(AB) \perp (MAC)$.
 - c) On sait que $(AB) \perp (MAC)$ or la droite (MC) est incluse dans le plan (MAC). Donc $(AB) \perp (MC)$

Exercice 5 (6 points)

1. Soient a, b et c les débits des robinets A, B et C respectivement.

Notons V le volume du bassin. Les robinets A et B remplissent le bassin en 20 minutes. Donc la quantité d'eau versée par le robinet A est $20a$, celle du robinet B est $20b$.

Donc $20a + 20b = V$. On raisonne de la même manière pour obtenir les équations suivantes : $15b + 15c = V$ et $12a + 12c = V$

On obtient donc le système suivant :
$$\begin{cases} a + b = \frac{V}{20} \\ b + c = \frac{V}{15} \\ a + c = \frac{V}{12} \end{cases}$$

La résolution de ce système donne :
$$\begin{cases} a = \frac{V}{30} \\ b = \frac{V}{60} \\ c = \frac{V}{20} \end{cases}$$

Dont un individuellement, le robinet A met 30 minutes, le robinet B met 60 minutes et le robinet C met 20 minutes pour remplir le bassin.

Il faut donc conseiller le robinet C à Yasmine car il met le moins de temps pour remplir le bassin par rapport aux deux autres.

2. Si les trois robinets sont simultanément ouverts, ils mettront le même temps t pour remplir le bassin. Dans ce cas, le robinet A versera ta quantité d'eau, le robinet B, tb quantité d'eau et le robinet C tc quantité d'eau. La somme des trois quantités d'eau donne la quantité totale V du bassin.

Donc $t \frac{V}{30} + t \frac{V}{60} + t \frac{V}{20} = V$. Donc $t=10$ minutes.

Ainsi donc si les trois robinets ouverts simultanément elle mettra 10 minutes pour remplir le bassin.

Achévé d'imprimer sous les presses de : JD Éditions
Pour le compte de JD Éditions.
Tél. : 23 00 17 50
Mise en page : JD Éditions