

MINISTRE DE L'EDUCATION
NATIONALE,
DE L'ALPHABETISATION ET
DE L'ENSEIGNEMENT
TECHNIQUE

DIRECTION REGIONALE DE
BONDOUKOU

EXPLOITATION DE TEXTE

REPUBLIQUE DE COTE D'IVOIRE



Union – Discipline – Travail

Année scolaire 2025-2026

EVALUATION N°3
MARDI 03 MARS 2026

IEPP.....

NIVEAU : CM1

...../50

ECOLE:.....

NOM:PRENOMS.....

Très jeune déjà Tieoulé a oublié ce que jouer veut dire. Il est le garçon à tout faire d'une riche famille. Il fait tous les travaux domestiques. Il s'occupe même des enfants. Ses parents pauvres espéraient qu'il recevrait dans cette famille un peu d'éducation en échange de son travail, mais en réalité, il subissait toutes les humiliations.

A douze ans, son visage ressemblait à celui d'un vieux car les travaux le fatiguent beaucoup.

I- COMPREHENSION DE TEXTE

1. De qui parle-t-on dans le texte ?

.....
.....

2. Cite les travaux que fait TIEOULE.

.....
.....

3. Pourquoi son visage ressemble-t-il à celui d'un vieux à l'âge de douze ans ?

.....
.....

4. Entoure la bonne réponse

a) Les travaux domestiques, ce sont :

les travaux des champs – les travaux de la maison

b) L'humiliation, c'est :

la félicitation - la dévalorisation

5. Ajoute un suffixe au mot : **travail**

.....

II. MANIEMENT DE LA LANGUE

1. Complète les phrases avec : là - l'a - la

Ce jour le vainqueur a reçu.....coupe, puis il.....montrée les bras levés.

2. Trouve la nature des mots soulignés dans le texte :

Ticoulé :.....

Il :.....

des enfants :.....

3. « il subissait toutes les humiliations. »

a- souligne le verbe de cette phrase.

b- Donne le temps de ce verbe :.....

c- Donne son infinitif :.....

d- Donne son groupe :.....

III- EXPRESSION ECRITE

Ecris en 6 lignes un texte pour montrer les dangers du travail des enfants.

.....

.....

.....

.....

.....

.....



IEPP:

ECOLE:

NOM : PRENOMS :

...../90

I- ÉCRITURE...../10

b

bé

le bébé

II- COPIE...../10

Papa a une télé

III- DICTÉE..... /10

IV- EXPRESSION ÉCRITE/10

a- Entoure : n

nina - du néré - nid

b- Associe selon le modèle

d - u → du d - O → ; i - d → ; d - é →

V- EDHC/10

Mets une croix dans la case indiquant la bonne réponse :

a- Avant de traverser la route, je regarde à droite puis à gauche

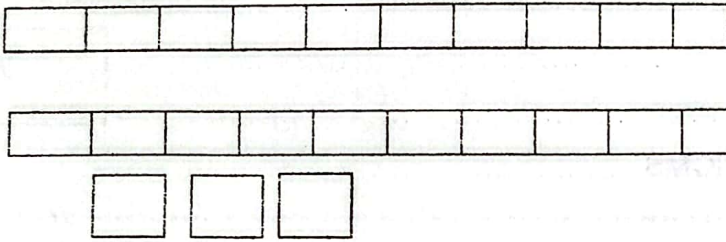
b- Je traverse uniquement sur les bandes blanches pour éviter les accidents

c- Je dois me battre en classe

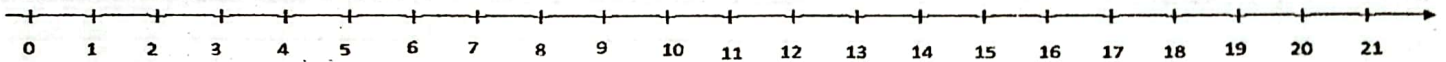
d- Je dois écrire sur les murs des classes

VI- MATHÉMATIQUES/10

1- Ecris les nombres qui correspondent à ce matériel base 10 dans la case.



2- Calcule à l'aide de la droite numérique



$7 + 10 = \dots\dots\dots$

$12 + 9 = \dots\dots\dots$


$20 + 1 = \dots\dots\dots$

$15 - 6 = \dots\dots\dots$

$19 - 8 = \dots\dots\dots$

$21 - 10 = \dots\dots\dots$

VII- DESSIN/10 dessine un ballon



VIII- LECTURE/10 (à l'initiative du maître)

IX- POÉSIE /CHANT/10



IEPP: ECOLE:/90

NOM : PRENOMS :

I. ÉCRITURE /10

am

une lampe

II. COPIE /10

Alain trace un trait au tableau.

III. EXPRESSION ÉCRITE /10

A) Complète les mots avec : (mon - je - elle)

- 1- suis en classe.
- 2- frère fait son devoir.
- 3- a une belle robe.

B) Reconstitue la phrase suivante :

un cadeau - achète - Papa

IV. DICTÉE /10

V. EDHC /10

Mets une croix devant la bonne réponse :

1) Il faut rejeter les albinos.

2) Il faut participer aux activités de la maison.

3) Il faut respecter les biens publics.

4) Il ne faut pas jouer sur la route.

5) Il faut abîmer le robinet de l'école.

VI. MATHEMATIQUES /10

1- Compare les nombres avec les signes < ; > ; =

356 749 ; 472 472+2

2- Trouve les nombres manquants :



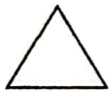
15	20		30		40
----	----	--	----	--	----

3- Effectue les opérations suivantes :

$$\begin{array}{r} + 26 \\ 33 \\ \hline \end{array}$$

$$\begin{array}{r} + 135 \\ 324 \\ \hline \end{array}$$

4- Entoure la figure qui représente l'empreinte de la face plane du cylindre.



VII. DESSIN /10

Dessine une orange

VIII. LECTURE /10 à l'initiative de l'enseignant(e)

IX. POESIE OU CHANT /10 à l'initiative de l'enseignant(e)



IEPP:

DUREE : 1 heure 15 min

ECOLE:

...../30

NOM : PRENOMS :

Mon village est un hameau. Il est situé entre la lagune Ebrié et une rivière aux eaux potables. Il est construit dans une vallée verdoyante aux terres fertiles.

Extrait du livre élève CE1 page 21

I- COMPREHENSION

1. Entoure le titre convenable du texte

Ma ville - Mon village - La vallée

2. Ecris vrai ou faux

a) Mon village est en hameau.

b) Mon village est situé entre la lagune Aby et une rivière.

3. Emploi dans une phrase « **hameau** ».

.....

II. MANIEMENT DE LA LANGUE

1. Entoure les adjectifs qualificatifs dans ces phrases.

a – **Le bon chef achète une maison.** ; b – **Le chien méchant est à la porte.**

2. Relie les phrases à leurs types.

- Les élèves préparent la fête ● ● type interrogatif

-As-tu lavé ton vêtement ? ● ● type déclaratif

3. Soit la phrase « Les enfants chantent l'Abidjanaise ».

a- Le verbe conjugué est ; b - Son infinitif est

c- Il est conjugué au

III. EXPRESSION ECRITE

Raconte la fête de Noël en 3 ou 4 lignes.

.....
.....
.....
.....



IEPP:

DUREE: 1 heure 15

...../50

ECOLE:

NOM : PRENOMS :

Le bon citoyen

Monsieur Yao est un entrepreneur. Il a déclaré à l'Etat ses biens : maisons et terrains. Il paie régulièrement ses impôts. Il porte assistance à ses employés lorsqu'ils sont malades. Monsieur Yao est un bon citoyen.

I- COMPREHENSION

1) Dis de quoi parle le texte :

.....

2) Relève dans le texte les phrases qui montrent que Monsieur Yao est un bon citoyen

.....
.....
.....

3) Entoure la bonne explication

a) **Déclarer ses biens** : faire du bien ; rendre public ce que l'on possède ; avoir beaucoup de biens

b) **Porter assistance** : porter des bagages ; aider quelqu'un ; payer les impôts

II-MANIEMENT DE LA LANGUE

1) Remplace les pointillés par « é ; er »

Après avoir répar.....sa maison, la maitresse a invit.....ses voisins à venir partag.....un repas avec sa famille. Le jour de la réception, elle est allée chercher le repas qu'elle a command.....

2) Remplace le groupe sujet (GS) par le pronom personnel qui convient

a) Les fonctionnaires payent l'impôt.....payent l'impôt

b) Koné et moi déclarons nos biens.....déclarons nos biens

c) Monsieur Yao assiste ses employés malades :.....assiste ses employés malades

3) Monsieur Yao déclare ses employés.

Dans cette phrase, indique :

- a) Le verbe
- b) Son infinitif
- c) Son temps

4) Ecris cette phrase au futur simple de l'indicatif

.....

III- EXPRESSION ECRITE

Ton ami est un citoyen, il refuse de payer ses impôts. Explique-lui en quatre lignes l'importance de payer ses impôts.

.....
.....
.....
.....
.....
.....



IEPP:

DURÉE : 1 heure

...../50

ÉCOLE:

NOM : PRENOMS :

I. HISTOIRE ET GÉOGRAPHIE

1. Relie les objets au repère qui convient

- | | |
|------------|------------------------|
| Rivière • | • Repère naturel |
| Boussole • | |
| Montagne • | • Repère conventionnel |

2. Répond par Vrai ou Faux

a) L'homme peut pratiquer l'élevage dans les plaines
.....

b) Les plaines, les plateaux et les montagnes sont les types de relief

3. Parmi ces personnes, entoure celles qui peuvent te permettre de connaître l'histoire de ton village :

Le Grand-Père – Le Chef de Village – Les Notables

II. EDHC
Écris Vrai ou Faux

L'enfant a droit à	L'éducation	
	Danser	
	La Santé	
	La nationalité	
	Mentir	



IEPP:

DURÉE : 1 heure 15

...../50

ÉCOLE:

NOM : PRENOMS :

I- HISTOIRE / GÉOGRAPHIE

Coche la bonne réponse

1) Les Krou sont venus du Ghana, du Libéria, du Mali

2) Entoure les Akan dans cette liste :

Les Guéré - Les Dida - Les Attié - Les Agni - Les Kroumen - Les Wê - Les Baoulé -
Les Abron

3) Cites trois cultures vivrières :

4) Cites deux cultures industrielles :

I- EDHC

1) Complète avec : **vert – rouge – orange**

a- Quand le feu est....., les voitures, les motos et les cyclistes s'arrêtent.

b- Quand le feu est....., les voitures, les motos et les cyclistes passent.

c- Quand le feu est....., les voitures, les motos et les cyclistes ralentissent.

2) Entoure les droits de l'enfant :

Travailler au champ - parler mal aux parents - aller à l'école – se faire soigner

II-SCIENCES ET TECHNOLOGIES

I- Relie chaque organe à son sens

L'œil	*	* Le toucher
La langue	*	* La vue
La peau	*	* L'ouïe
Le nez	*	* Le goût
L'oreille	*	* L'odorat

II- Mets vrai ou faux devant chaque affirmation

a- Faire le sport est un danger pour les muscles.

b- Le corps humain a quatre grandes parties.

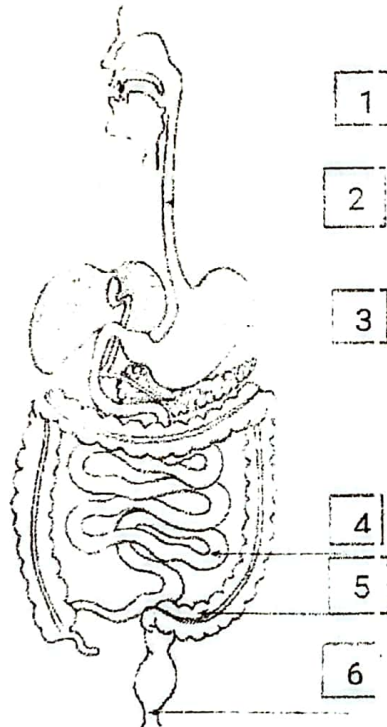
c- La jambe est reliée à la cuisse par le genou.

III- Entoure les mouvements respiratoires :

L'expiration - l'expiration - l'inspiration

IV- Associe à chaque numéro du schéma ci-dessous le nom correspondant:

Le gros intestin - l'anus - la bouche - l'intestin grêle - l'œsophage



1
2
3
4
5
6

.....

DICTEE

.....

.....

.....

.....

.....

.....

.....

.....

.....

.....



IEPP.....

NIVEAU : CM1

...../50

ECOLE:.....

NOM:PRENOMS.....

I HISTOIRE GEOGRAPHIE 10 / 10

Exercice 1

1) Ecris vrai ou faux devant la bonne réponse

Les Agni- bafé sont venus du Ghana	
Sékou OUATTARA a fondé le royaume de Kong	
Amon N'doufou est le roi actuel du royaume de Krindjabo	

2) Entoure les différentes formes de relief en Côte d'Ivoire

La lagune, les montagnes, la forêt, les plaines, les plateaux

3) Complète par vrai ou faux

Le relief est l'ensemble des différentes formes de la surface de la terre

II EDHC 10 / 10

1) Mets une croix dans la case qui correspond aux droits de l'enfant

L'enfant a droit :

- à la santé
- à payer l'impôt
- aux loisirs
- à une vie familiale

<input type="checkbox"/>
<input type="checkbox"/>
<input type="checkbox"/>
<input type="checkbox"/>

2) parmi les noms suivants, entoure le nom du premier président de la Côte d'Ivoire :

Félix Houphouët Boigny, Alassane OUATTARA, Henri Konan BEDIE, Laurent GBAGBO

III SCIENCES ET TECHNOLOGIE 30 / 30

1) Classe les animaux selon leur mode de reproduction :

La grenouille, la poule, la chèvre, la jument, la vipère, le requin

LES VIVIPARES	LES OVIPARES	LES OVOVIVIPARES

2) Ecris vrai ou faux

- a) L'igname se reproduit par bouturage.....
- b) Les grenouilles sont des mammifères.....
- c) La chauve-souris est un vivipare.....
- d) Le manioc se reproduit par marcottage.....

3) Reconstitue les différentes étapes de la reproduction chez les oiseaux
La ponte, la couvaison, l'éclosion, la fécondation, l'accouplement

.....
.....
.....

DICTEE

.....
.....
.....
.....
.....
.....
.....
.....
.....
.....
.....
.....
.....
.....
.....



COMPOSITION N°03

MARDI 03 MARS 2026

CE1

IEPP:

DUREE: 1 heure

...../30

ECOLE:

NOM: PRENOMS :

EXERCICE 1

1. Range les nombres du plus grand au plus petit:
1201- 4300 - 2601 - 3500 - 4900

2. Ecris en chiffre les nombres qui correspondent à cette schématisation



EXERCICE 2

1. -Ecris en chiffre ou en lettre

4000 :.....

Deux-mille-six-cent-huit :.....

2. Complète les nombres manquants de cette bande numérique

690	700		720		740		760
-----	-----	--	-----	--	-----	--	-----

3. Entoure parmi les nombres la régularisation de cette bande

20 - 10 - 30

EXERCICE 3

Effectue les opérations suivantes :

<p>a)</p> $\begin{array}{r} + 3450 \\ 1236 \\ \hline \end{array}$	<p>b)</p> $\begin{array}{r} - 4736 \\ 335 \\ \hline \end{array}$	<p>d)</p> $\begin{array}{r} \times 1201 \\ 3 \\ \hline \end{array}$
---	--	---

RAISONNEMENT LOGIQUE

Konan a 25 mangues. Il donne 5 mangues à sa petite sœur.

1- Fais le graphique en représentant le nombre total de mangues de Konan et le nombre de mangues qui lui reste

2-

3- Trouve le nombre de mangue qui lui reste

.....



IEPP:

DUREE : 1 heure

...../50

ECOLE:

NOM : PRENOMS :

EXERCICE 1

I – Ecris le nombre correspondant :

a) 6 dizaines et 3 unités :

b) 5 unités de mille ; 7 centaines ; 0 dizaine et 4 unités :

II- Ecris en chiffres ou en lettres

a) 2000 :

b) Deux-cent-trente-sept :

III- Complète avec un produit de deux nombres

a) $4 + 4 + 4 + 4 = \dots\dots\dots X \dots\dots$

b) $6 + 6 = \dots\dots\dots X \dots\dots$

IV- Complète le tableau

0	3	5	6	9

(X 4)

EXERCICE 2

Effectue les opérations suivantes :

a) $\begin{array}{r} 7510 \\ + 300 \\ \hline \end{array}$	b) $\begin{array}{r} 7553 \\ - 675 \\ \hline \end{array}$	c) $\begin{array}{r} 120 \\ \times 5 \\ \hline \end{array}$	d) $\begin{array}{r} 87 \quad \quad 7 \\ \hline \end{array}$
--	--	--	---

EXERCICE 3

L'effectif d'une classe est de 63 élèves. Le nombre de garçons est de 27.

- Calcule le nombre de filles.

.....

.....

.....

.....



IEPP.....

NIVEAU : CM1

...../50

ÉCOLE:.....

NOM:PRENOMS.....

EXERCICE 1/20

Effectue les opérations suivantes

$\begin{array}{r} 47,13 \\ + 503,412 \\ \hline \end{array}$	$\begin{array}{r} 57,206 \\ - 3,174 \\ \hline \end{array}$	$\begin{array}{r} 81,17 \\ \times 5,12 \\ \hline \end{array}$	<table style="border-collapse: collapse; margin: auto;"> <tr> <td style="border-right: 1px solid black; padding: 5px 10px;">8615</td> <td style="padding: 5px 10px;">22</td> </tr> <tr> <td style="border-right: 1px solid black; border-bottom: 1px solid black; padding: 5px 10px;"></td> <td style="border-bottom: 1px solid black; padding: 5px 10px;"></td> </tr> </table>	8615	22		
8615	22						

EXERCICE 2/8

- a. 10% de 1700 c'est
- b. Le triple de 30 c'est
- c. Entoure les fractions décimales

$$\frac{23}{10}$$

$$\frac{15}{6}$$

$$\frac{35}{7}$$

$$\frac{60}{100}$$

- d. Complète le tableau ci-dessous

:.....	1	3		10
	7		49	

:.....

X 7

EXERCICE 3/ 6

Ecris vrai ou faux en face de chaque affirmation

- a) Le rectangle a deux diagonales.....
- b) Le grand côté du rectangle est appelé largeur.....
- c) Les diagonales du carré sont perpendiculaires.....
- d) Le rectangle a 4 angles droits

EXERCICE 4...../16

Un fermier ramasse le dimanche matin 1340 œufs dans sa ferme. Il remplit les plateaux d'œufs qui comptent 30 œufs chacun.

1- Calcule le nombre de plateaux d'œufs obtenu par le fermier le dimanche

2- Sachant qu'un plateau d'œuf coûte 1500 FCFA sur le marché

Calcule la somme qu'obtiendra le fermier après vente

3- Après avoir remplir les plateaux, combien d'œufs lui reste – t- il ?

BAREME + CORRECTION CP1

LE BARÈME

1- Ecriture 10/10

2- Copie 10/10

3- Expression écrite 10/10

a- Entoure : n

ni(n)a (2pts) - du(n)éré (1pt) - (n)id(1pt)

b- Associe selon le modèle

d - u → du d - o → ...do (2pts) ; i - d → ...id (2pts) ; d - é → dé(2pts)

4- dictée 10/10

P (1pt) ; m (1pt) ; le (1 pt) ; ludo (1pt) ; papa a une télé. papa (2pts) ; a (1pt) une (1pt) ; télé (2pts)

5- EDHC 10/10

5 pts/bonne réponse

6- mathématiques 10/10

1- 23 (4 pts)

2- 1 pt par bonne réponse

7 dessin 10/10

8- lecture 10/10

9- Poésie /chant 10/10

BARÈME CP2

I. ECRITURE 10 /10

II. COPIE 10/10

III. EXPRESSION ECRITE 10 /10

C) Complète les mots avec : (mon - je - elle)

4- **je** suis en classe. (2 pts)

5- **mon** frère fait son devoir. (2 pts)

6- **elle** a une belle robe. (2 pts)

D) Reconstitue la phrase suivante : **Papa achète un cadeau** (2 pts)

IV. DICTEE 10 /10

un palmier(2 pts) - une montre(2 pts) - nous(1 pt) sommes(2 pts) des (1 pt)
élèves(2 pts)

V. EDHC 10 /10

Mets une croix devant la bonne réponse : (2 pts) par bonne réponse

1)		2)	X	3)	X	4)	X	5)	
----	--	----	---	----	---	----	---	----	--

VI. MATHEMATIQUES 10 /10

1- Compare : $356 < 749$; $472 = 472+2$

2- Trouve les nombres manquants :

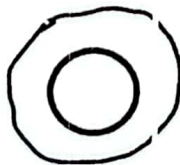
15	20	25(1 pt)	30	35 (1pt)	40
----	----	----------	----	----------	----

3- Effectue les opérations suivantes : (1 pt) par bonne réponse

$$\begin{array}{r} + 26 \\ 33 \\ \hline 59 \end{array}$$

$$\begin{array}{r} + 135 \\ 324 \\ \hline 459 \end{array}$$

4- Entoure la figure.



VII. DESSIN 10 /10

Dessine une orange

VIII. LECTURE 10 /10 à l'initiative de l'enseignant(e)

IX. POESIE OU CHANT 10/10 à l'initiative de l'enseignant(e)

BAREME CE1 EXPLOITATION DE TEXTE /30

Compréhension 10/10

1-

1- Mon village **3pts**

2- Ecris vrai ou faux

a) Vrai **2pts**

b) Faux **2pts**

2-Phrase bien construite **3pts**


II/ MANIEMENT DE LA LANGUE 14/14

1-Le chef achète une maison. **2pts**
bon

Le chien est à la porte. **2pts**
méchant

2-Relie les phrases aux différents types de phrases.

-Les élèves préparent la fête



type interrogatif **2pts**

-As-tu lavé ton vêtement

type déclaratif **2pts**

3-Soit la phrase « Les enfants chantent l'abidjanaise »

a) Les verbes conjugué est chantent. **2 pts**

b) Son infinitif est chanter. **2 pts**

c) Il est conjugué au présent de l'indicatif.

III/ EXPRESSION ECRITE 6/6

Forme 2 pts ; Fond 2 pts ; Phrase juste 2pts

BAREMI / MATHEMATIQUES CE1/30

Exercice 1 6 /6

1. Range les nombres du plus grand au plus petit:

4900 > 4300 > 3500 > 2601 > 1201 **3pts**

2. 3410 **3pts**

Exercice 2 12 /12

1. Ecris en chiffre ou en lettre

4000 : Quatre cent-mille **2pts**

Deux-mille-six-cent-huit : 2608 **2pts**

2. Complète les nombres manquants de cette bande numérique

690	700	710 2pts	720	730 2pts	740	750 2pts	760
-----	-----	-----------------	-----	-----------------	-----	-----------------	-----


Exercice 3 6 /6

3450+1236= 4686 **2pts** - 4736-335= 4401 **2pts** - 1201×3= 3603 **2pts**

RAISONNEMENT LOGIQUE 6/6

1. Représente le diagramme à l'aide d'un digramme

les 5 mangues données



3pts

Les 25 mangues de Konan :

2. Trouve le nombre de mangue qui lui reste :

25-5 = 20 **3pts**

EPREUVE DE DICTEE CE1/ COMPOSITION N° 03

DICTEE : Les vitrines

Pendant les fêtes, les vitrines des magasins se remplissent de marchandises. On y retrouve des tissus de soie, des foulards légers et des nouveautés.

BARIME CE1 20/20

- Une faute de grammaire retire 2 points.
 - Une faute d'orthographe retire 1 point.
 - Une faute de conjugaison retire 2 points.
 - Une faute d'accent retire ¼ de point.
 - L'omission d'un mot retire 2 points.
-

BAREME EVEIL AU MILIEU CE1

Histoire-géographie 10/10

1-Relie les objets au repère qui convient



2- Répond par Vrai ou Faux

- a) Vrai 1pt
- b) Faux 1pt

3-Les personnes qui peuvent permettre de connaître l'histoire de ton village sont :

1pt le grand-père 1pt les notables

I. EDHCS/5

Ecris Vrai ou Faux

L'enfant a droit à	L'éducation	Vrai 1pt
	Danser	Faux 1pt
	A la santé	Vrai 1pt
	La nationalité	Vrai 1pt
	Mentir	Faux 1pt

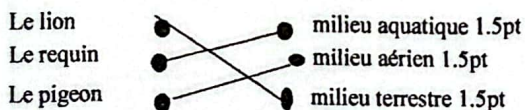
II. SCIENCES ET TECHNOLOGIE 15/15

1- Les différentes parties de la plante sont : les feuilles 1.5pt la tige 1.5pt les racines 1.5pt

2-Classe les animaux selon leur régime alimentaire

ANIMAUX CARNIVORE	ANIMAUX HERBIVORE
-Le chat 1.5 pt -Le lion 1.5 pt	-La gazelle 1.5 pt -Le mouton 1.5pt

3-Relie les animaux à leur milieu de vie



I- COMPREHENSION 15/15

- 1) **du bon citoyen ; des impôts** (accepter Monsieur Yao) **3pts**
 2) Il paie régulièrement ses impôts 2pts Il a déclaré à l'Etat ses biens 2pts Il porte assistance à ses employés 2pts
 3) Entoure la bonne explication
 a) rendre public ce que l'on possède **3pts**
 b) aider quelqu'un **3pts**

II- MANIEMENT DE LA LANGUE 25/25

1) Remplace les pointillés par « é ; er » **1pt / réponse juste (4pt)**
 Après avoir réparé sa maison, la maitresse a invité ses voisins à venir partager un repas avec sa famille. Le jour de la réception, elle est allée chercher le repas qu'elle a commandé.

- 2)
 a) ils payent l'impôt. **3pts**
 b) nous déclarons nos biens. **3pts**
 c) il assiste ses employés malades. **3pts**
 3)
 a) déclare **3pts**
 b) Déclarer **3pts**
 c) Au présent de l'indicatif **3pts**
 d) Monsieur Yao déclarera ses employés. **3pts**

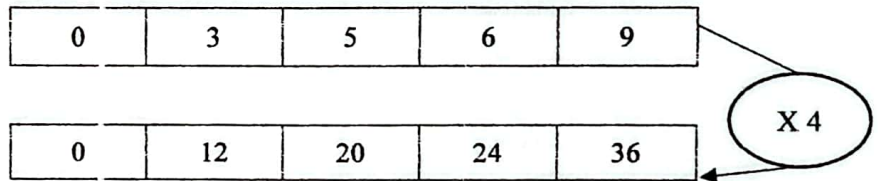
4) EXPRESSION ECRITE 10/10

- Fond **3 pts**
- Forme **3 pts**
- Structure **3 pts**

BAREME MATHEMATIQUES

EXERCICE 1 20/20

- I-
 a) 63 **1pt**
 b) 5704 **1pt**



- II-
 a) Deux mille **2pts**
 b) 237 **2pts**

IV - 3pts / réponse juste (10pts)

- III- Complète avec un produit de deux nombres
 a) 4 X 4 **2pts**
 b) 6 X 2 **2pts**

EXERCICE 2 20/20

<p>a)</p> $\begin{array}{r} 7510 \\ + 300 \\ \hline 7810 \\ \text{5pts} \end{array}$	<p>b)</p> $\begin{array}{r} 7553 \\ - 675 \\ \hline 6883 \\ \text{5pts} \end{array}$	<p>c)</p> $\begin{array}{r} 120 \\ \times 5 \\ \hline 600 \\ \text{5pts} \end{array}$	<p>d)</p> <table style="width: 100%; border-collapse: collapse;"> <tr> <td style="border-right: 1px solid black; padding: 5px;"> $\begin{array}{r} 87 \\ -7 \\ \hline 17 \\ -14 \\ \hline 03 \end{array}$ </td> <td style="padding: 5px;"> $\begin{array}{r} 7 \\ \hline 12 \\ \hline \text{5pts} \end{array}$ </td> </tr> </table>	$\begin{array}{r} 87 \\ -7 \\ \hline 17 \\ -14 \\ \hline 03 \end{array}$	$\begin{array}{r} 7 \\ \hline 12 \\ \hline \text{5pts} \end{array}$
$\begin{array}{r} 87 \\ -7 \\ \hline 17 \\ -14 \\ \hline 03 \end{array}$	$\begin{array}{r} 7 \\ \hline 12 \\ \hline \text{5pts} \end{array}$				

BAREME DICTEE COMPOSITION N° 3 DU 03 MARS 2026 CE2

Dictée: La paix

Un pays, c'est comme une grande famille. Quand il y a des problèmes, il faut se parler et se pardonner pour vivre dans la paix.

Faute grammaticale (1pt)

Faute d'orthographe changeant le sens du mot (0,5pts)

Faute d'accent (0,5pts)

Un mot omis (1pt)

BAREME EVEILAU MILIEU

50/50

I- HISTOIRE / GEOGRAPHIE 20/20

- 1) Les Krou sont venus du Libéria 2pts
- 2) Les Attié - Les Agni - Les Baoulé - Les Abron 2pts/réponse juste (8pts)
- 3) Trois cultures vivrières : le manioc, le taro, l'igname, l'aubergine, la banane 6pts (2pts/réponse juste)
- 4) Deux cultures industrielles : l'anacarde, le cacao, le café, le coton, l'hévéa ... 4pts (2pts/réponse juste)

I- EDHC

- 1)
- a- Quand le feu est rouge, les voitures, les motos et les cyclistes s'arrêtent. 2pts
 - b- Quand le feu est vert, les voitures, les motos et les cyclistes passent. 2pts
 - c- Quand le feu est orange, les voitures, les motos et les cyclistes ralentissent. 2pts
- 2) aller à l'école - se faire soigner 2pts/réponse juste (4pts)

II- SCIENCES ET TECHNOLOGIES 20/20

I- 2pts/réponse juste (10pts)

L'œil	*	Le toucher
La langue	*	La vue
La peau	*	L'ouïe
Le nez	*	Le goût
L'oreille	*	L'odorat

II-

- a- Faire le sport est un danger pour les muscles. **Faux 1pt**
 - b- Le corps humain a quatre grandes parties. **Faux 1pt**
 - c- La jambe est reliée à la cuisse par le genou. **Vrai 1pt**
- III- Les mouvements respiratoires : L'expiration - l'inspiration 2pts/réponse juste (4pts)

IV-

- 1- la bouche 2- l'œsophage 3- l'estomac 4- l'intestin grêle 5- le gros intestin 6- l'anus

2pts/réponse juste (12pts)

Schéma de l'appareil digestif 1pt

I/ COMPREHENSION DE TEXTE (15pts)

- 1) Le texte parle de TIEOULE /On parle de TIEOULE dans le texte. (2 pts)
- 2) Les travaux que fait TIEOULE :
 - Les travaux domestiques (2 pts)
 - Il s'occupe des enfants (2pts)
- 3) Son visage ressemble à celui d'un vieux car les travaux le fatiguent beaucoup (3 pts)
- 4) a- les travaux domestiques = les travaux de la maison (2pts)
b- l'humiliation = la dévalorisation (2pts)
- 5) Un suffixe au mot "travail" (2pts)
Travailler – travaillisme - travailleur(euse) – travailliste– travaillé(e) - travaillé(e)....

II/ MANIEMENT DE LA LANGUE (20 pts)

- 1) Complète : (2 pts par réponse juste)
Ce jour-là le vainqueur a reçu la coupe, puis il l'a montrée les bras levés.
- 2) la nature de :
 - TIEOULE : nom propre (2pts)
 - il : pronom personnel (2pts)
 - Des enfants : groupe nominal (2pts)
- 3) « il subissait toutes les humiliations »
 - a- Subissait (2pts)
 - b- A l'imparfait de l'indicatif (2pts)
 - c- Subir (2pts)
 - d- Deuxième groupe (2pts)

III/ Expression écrite (15pts)

Est-ce que le travail des enfants est bon ?

- Respect des six lignes (3pts)
- Fond (10pts)
- Propreté (2pts)

EPREUVE DE DICTEE CM1/ COMPOSITION N° 03

DICTEE : le balayage des rues

Un dimanche, le chef de quartier a réuni tous les pères de famille. Ils ont longuement discuté de la propreté du quartier. Ils ont décidé d'organiser le dimanche suivant le nettoyage des rues et places publiques.

BAREME DICTEE CM1

- 1 faute grammaticale enlève (2 points)
- 1 faute d'orthographe conservant la prononciation du mot enlève (1 point)
- 1 faute d'orthographe changeant la prononciation du mot enlève (2 points)
- 1 faute de conjugaison enlève (2 points)
- 1 faute d'accent enlève (1/2 point)

BAREME : 50/50 EVEIL AU MILIEU CM1 Composition du 03 /03 /2026

I HISTOIRE GEOGRAPHIE 10 / 10

Exercice 1

1) Ecris vrai ou faux devant la bonne réponse

Les Agni- bafré sont venus du Ghana		VRAI (2)
Sékou OUATTARA a fondé le royaume de Kong	1 par bonne réponse	VRAI (2)
Amin N'doufou est le roi actuel du royaume de Krindjabo		VRAI (2)

- 2) Entoure les différentes formes du relief en côte d'Ivoire
La lagune, **les montagnes, la forêt, les plaines, les plateaux**
- 3) Complète par vrai ou faux

Le relief est l'ensemble des différentes formes de la surface de la terre (1)

II EDHC 10 / 10

1) Mets une croix dans la case qui correspond aux droits de l'enfant

L'enfant a droit :

- à la santé (2)
- à payer l'impôt (2)
- aux loisirs (2)
- à une vie familiale (2)



Vrai

2

2) Parmi les noms suivants, entoure le nom du premier président de la côte d'Ivoire :
Félix Houphouët Boigny, **Alassane OUATTARA** (2pts), Henri Konan BEDIE, Laurent GBAGBO

III SCIENCES ET TECHNOLOGIE 30 / 30

1) Classe les animaux selon leur mode reproduction :

La grenouille, la poule, la chèvre, la jument, la vipère, le requin

LES VIVIPARES	LES OVIPARES	LES OVOVIVIPARES
-La chèvre (2) -La jument (2)	-La grenouille (2) -La poule (2)	-Le requin (2) -La vipère(2)

- 2) Ecris vrai ou faux
- a) L'igname se reproduit par bouturage.....vrai... (2)
 - b) Les grenouilles sont des mammifères.....faux...(2)
 - c) La chauve-souris est un vivipare.....vrai... (2)
 - d) Le manioc se reproduit par marcottage.....faux... (2)

3) Reconstitue les différentes étapes de la reproduction chez les oiseaux

La ponte, la couvaison, l'éclosion, la fécondation, l'accouplement
L'accouplement, la fécondation, la ponte, la couvaison, l'éclosion

2
2
2
2
2

EXERCICE 2 20/20

Effectue les opérations suivantes

550, 542 5pts	54,032 5pts	415,5904 5 pts	391 4pts Reste 13 / 1pt
------------------	----------------	-------------------	----------------------------

EXERCICE 2 8 /8

a- 10% de 1700 c'est 170 1pt

b- Le triple de 30 c'est 90 1pt

c- Entoure les fractions décimales

$\frac{23}{10}$ 1 pt

$\frac{15}{6}$

$\frac{35}{7}$

$\frac{60}{100}$ 1 pt

e. Complète le tableau ci-dessous

$\div 7$ 1 pt	1	3	7 ^{1 pt}	10
	7	21 1 pt	49	70

X 7

EXERCICE 3 6./ 6

Ecris vrai ou faux en face de chaque affirmation

- a) Vrai 1,5 pts
- b) Faux 1,5 pts
- c) Vrai 1,5 pts
- d) Vrai 1,5 pts

EXERCICE 4 16 /16

Un fermier ramasse le dimanche matin 1340 œufs dans sa ferme. Il remplit les plateaux d'œufs qui comptent 30 œufs chacun.

1- Le nombre de plateaux d'œufs obtenu est : **la phrase (1 pt)**

$$1340 : 30 = 44 \text{ plateaux (4 pts)}$$

$$\begin{array}{r} 1340 \\ - 120 \downarrow \\ 0140 \\ - 120 \\ \hline 20 \end{array}$$

Opération 2 pts

$$\begin{array}{r} 30 \\ \hline 44 \end{array}$$

2- Il obtiendra comme somme : **la phrase (1 pt)**

$$1500 \times 44 = 66\,000 \text{ F (4 pts)}$$

Opération 2 pts

$$\begin{array}{r} 1500 \\ \times 44 \\ \hline + 6000 \\ 6000 \\ \hline 66\,000 \end{array}$$

3- Le nombre d'œuf qui lui reste est : **la phrase (0.5 p)**

20 œufs (2 pts)