



ENTRÉE EN

6^e

L

es sentiers

de la réussite

2026

10

Examens blancs
CORRIGÉS

OFFERT PAR LA DIRECTION
DE LA PÉDAGOGIE



NEI-CEDA
01 BP 1818 Abidjan 01
Côte d'Ivoire

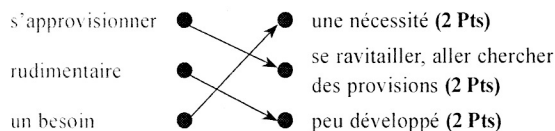
EXAMEN 1

EXPLOITATION DE TEXTE I / 50 Pts

I-COMPRÉHENSION

/20

1. Un texte épistolaire (3 Pts)
2. Kouadio Amenan Claire (3 Pts)
3. Elle demande du matériel d'élevage de moutons (3 Pts)
4. Relie chaque expression à son sens :



5. le suffixe de « favorablement » est : **ment** (2 Pts)
6. Une phrase correcte (3 Pts)

II- MANIEMENT DE LANGUE

/20

1. **On** (1 pt) se lève à (1 pt) l'aube. Les balais, les râtaux, les machettes et les brouettes **ont** été apprêtés. Tous ces outils vont servir à (1 pt) nettoyer et enlever les ordures qui sont autour des maisons et dans les rues. Les habitants de mon quartier se pressent et se mettent au travail. **On** (1 pt) balaie, ramasse les déchets. Les jeunes poussent **leurs** brouettes pleines de saletés. Ils sont heureux de participer à (1 pt) la propreté de **leur** (1 pt) environnement.

2. Trouve la nature et la fonction des mots et groupes de mots soulignés dans le texte :

les : Article défini, détermine « activités » (2 Pts)

des moyens rudimentaires : Groupe nominal, COD de « utilisent » (2 Pts)

un emploi : Groupe nominal, COD du verbe « trouveraient » (2 Pts)

3. « Notre circonscription administrative est très peuplée »

le groupe verbal de cette phrase est « est très peuplée » (2 Pts)

4. Relève dans le texte trois verbes au conditionnel présent et indique leur infinitif :

Verbe : **servirait** (1 pt) ; infinitif : **servir** (1 pt)

Verbe : **pourrait** (1 pt) ; infinitif : **pouvoir** (1 pt)

Verbe : **trouverait** (1 pt) ; infinitif : **trouver** (1 pt)

(Verbe : **serions** ; infinitif : **être**)

III- EXPRESSION ÉCRITE

/10

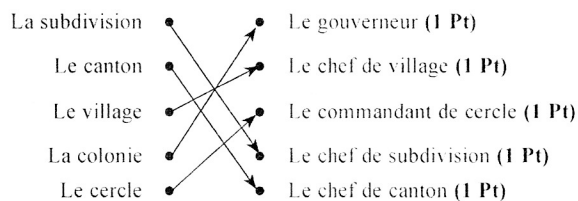
1. Une lettre à une autorité : un texte épistolaire (3 pts)
2. **Fond**(les informations pour convaincre (3 pts)
Forme(le nombre de fautes faites) (2 pts)
Présentation (la propreté du texte émis) (2 pts)

AEM I / 50 Pts

I/ HISTOIRE-GÉOGRAPHIE

/10

1. Relie chaque division administrative à son dirigeant pendant la colonisation



2. a) L'exploitation forestière est l'industrie qui se crée à partir de l'abattage des arbres. (1 Pt)
b) La transformation des arbres abattus procure de la richesse à la Côte d'Ivoire. (1 Pt)
c) Le bois est le 3^e produit d'exportation de la Côte d'Ivoire. (1 Pt)
d) La forêt ivoirienne est en voie de disparition à cause de l'abattage sauvage des arbres. (1 Pt)
e) Pour empêcher la forêt de disparaître, il faut la reboiser (1 Pt)

II- EDHC

/10

1. **maltraiter un étranger** (3 Pts)
2. L'hospitalité permet de renforcer : la cohésion sociale, les bonnes relations ; l'amitié (4 Pts)
3. La Côte d'Ivoire est un pays d'hospitalité : **Vrai** (3 Pts)

III- SCIENCES ET TECHNOLOGIE

/30

1. Une chaîne alimentaire est une suite d'êtres vivants liés les uns aux autres par des relations alimentaires : **Vrai** (3 Pts)
 - Un réseau alimentaire est constitué d'une seule chaîne alimentaire : **Faux** (3 Pts)
 - Les consommateurs sont des végétaux : **Faux** (3 Pts)
 - Les décomposeurs sont des consommateurs de premier ordre : **Faux** (3 Pts)
 - Les producteurs sont les végétaux chlorophylliens : **Vrai** (3 Pts)
 - Les décomposeurs sont les premiers maillons de la chaîne alimentaire : **Faux** (3 Pts)
 2. Cette image représente une structure de pyramide alimentaire (3 Pts)
 - Elle est équilibrée car il y a plus de producteurs que de consommateurs. (3 Pts)
- Feuilles → Chenilles → sauterelles → margouillats → serpents → aigle (6 Pts)

ORTHOGRAPHE I (20 PTS)

Dictée N°1 : Une partie de pêche au village.

Hier, j'ai passé une journée inoubliable au village avec mes amis. Nous avons décidé de faire une partie de pêche à la rivière. Après quelques heures, j'ai senti une forte traction sur ma ligne et j'ai crié de joie : j'avais attrapé un gros poisson ! Mes amis m'ont aidé à le sortir de l'eau. C'était une journée remplie de rires et de souvenirs inoubliables.

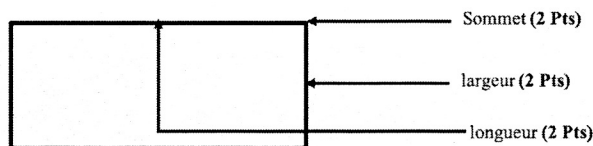
Barème : 1 faute grammaticale ou de conjugaison enlève 2 points ; 1 faute d'orthographe enlève 1 point

MATHEMATIQUES I (50 PTS)

Exercice 1 : Effectue les opérations (12 points)

$\begin{array}{r} 7895428 \\ + 578956 \\ + 47589 \\ \hline = 8521973 \end{array}$ <p>(3 pts)</p>	$\begin{array}{r} 77157 \\ - 9969 \\ \hline = 67188 \end{array}$ <p>(3 pts)</p>	$\begin{array}{r} 18254 \\ \times 7 \\ \hline = 127778 \end{array}$ <p>(3 pts)</p>	$\begin{array}{r} 78183 \\ - 72 \\ \hline 061 \\ - 54 \\ \hline 078 \\ - 72 \\ \hline 063 \\ - 54 \\ \hline 09 \end{array}$ <p>(3 pts)</p>	$\begin{array}{r} 9 \\ \hline 8686 \end{array}$
--	---	--	--	---

EXERCICE 2 (9 points) : Complète la figure ci-dessous avec : largeur, longueur, sommet, un carré, un triangle, un rectangle.



Un rectangle (3 Pts)

EXERCICE 3 (9 points) Complète.

- a) 7653,45 dm = 765,345 m (2 Pts) ;
 b) 98, 71 dam = 98710 cm (2 Pts) ;
 c) 76 hm 83 m = 7683 m (2 Pts) ;
 d) 0,45 km = 4500 cm (3 Pts)

EXERCICE 4 (20 points)

1. La longueur de l'enclos est 9,45 cm (1 Pt) et sa largeur est 3,5 cm (1 Pt)
 2. Le diamètre de l'abreuvoir est 3,5 cm (1 Pt) et son rayon est 1,75 cm (1 Pt)
 le périmètre de l'enclos est : $(9,45 + 3,5) \times 2 = 25,9$ (2 Pts)
 le périmètre de l'enclos est : 25,9 cm (1 Pt)
 3. l'aire de l'enclos est : $9,45 \times 3,5 = 33,075$ cm² (2 Pts)
 l'aire de l'enclos est : 33,075 cm² (2 Pts)

4. le périmètre de l'abreuvoir en prenant $r = 3$ est : $3,5 \times 3 = 10,5$ (2 Pts)

le périmètre de l'abreuvoir en prenant $r = 3$ est : 10,5 cm (1 Pt)

5. l'aire de de l'abreuvoir en prenant $r = 3$ est :
 $3 \times 1,75 \times 1,75 = 9,1875$ (2 Pts)

l'aire de de l'abreuvoir en prenant $r = 3$ est 9,1875 cm² (1 Pt)

6. l'aire de la partie de l'enclos où les animaux broutent est :
 $33,075 - 9,1875 = 23,8875$ (2 Pts)

l'aire de la partie de l'enclos où les animaux broutent est :
 23,8875 cm² (1 Pt)

EXAMEN 2

EXPLOITATION DE TEXTE 2 / 50 Pts

I-COMPRÉHENSION /20

1. un titre du texte peut être : l'école, temple du savoir ; accepter tout titre en rapport avec le texte (3 Pts)
2. Aller à l'école est important car l'on y apprend beaucoup de savoirs (2 Pts)
3. a) Ce qu'on apprend à l'école est la même chose qu'on apprend à la maison.
- b) Les leçons commencent à partir du CE1. (2 Pts)
- c) C'est à l'école qu'on raconte que le ciel était proche de la terre.
- d) C'est à l'école qu'on enseigne que la terre tourne autour du soleil. (2 Pts)
4. Souligne le synonyme de « maison » Une école - une habitation (2 Pts) - une chaise
5. Une classe vide est au sens **propre** (1,5 Pts) ; une tête vide est au sens **figuré** (1,5 Pts)
un esprit ouvert est au sens **figuré** (1,5 Pts) une bouche ouverte est au sens **propre** (1,5 Pts)
La chaleur du soleil est au sens **propre** (1,5 Pts) ; la chaleur de la discussion est au sens **figuré** (1,5 Pts)

II- MANIEMENT DE LANGUE /20

1. Écris le type de chacune des phrases suivantes :
 - a) Quelle belle classe ! est de type **exclamatif** (2 Pts)
 - b) Le Directeur arrive. est de type **affirmatif ou déclaratif** (2 Pts)
 - c) Où allez-vous ? est de type **interrogatif** (2 Pts)
2. Les élèves paresseux **ne** sont-ils pas toujours effrayés en rentrant en classe ? (2 Pts)
3. a) Le verbe de cette phrase est « porta » (2 Pts)
Il est conjugué au **passé simple de l'indicatif** (2 Pts)
 - b) 1^{ère} personne du singulier : **j'ai porté** (2 Pts) ; 3^{ème} personne du singulier : **il ou elle a porté** (2 Pts)
1^{ère} personne du pluriel : **Nous avons porté** (2 Pts) ; 2^{ème} personne du pluriel : **Vous avez porté** (2 Pts)

III- EXPRESSION ÉCRITE /10

Ordonne ces phrases pour en faire un texte.

- 3- Mon école s'appelle EPV MOAYE.
 - 2- Elle est située à Bouaké.
 - 4- Sa cour est parsemée de fleurs.
 - 5- Dans mon école, il y a six classes.
 - 1- Elles sont grandes et aérées avec des tables-bancs de deux places.
 - 6- Les maîtres sont gentils et travailleurs.
- Ou**
- 5- Dans mon école, il y a six classes.
 - 1- Elles sont grandes et aérées avec des tables-bancs de deux places.

6- Les maîtres sont gentils et travailleurs.

3- Mon école s'appelle EPV MOAYE.

2- Elle est située à Bouaké.

4- Sa cour est parsemée de fleurs.

Ou

5- Dans mon école, il y a six classes.

1- Elles sont grandes et aérées avec des tables-bancs de deux places.

3- Mon école s'appelle EPV MOAYE.

2- Elle est située à Bouaké.

4- Sa cour est parsemée de fleurs.

6- Les maîtres sont gentils et travailleurs.

Ou

2- Elle est située à Bouaké.

3- Mon école s'appelle EPV MOAYE.

4- Sa cour est parsemée de fleurs.

5- Dans mon école, il y a six classes.

1- Elles sont grandes et aérées avec des tables-bancs de deux places.

6- Les maîtres sont gentils et travailleurs.

BAREME

- La Première phrase dans le bon ordre (2 Pts)
- Les 2 premières phrases dans le bon ordre (4 Pts)
- Les 3 premières phrases dans le bon ordre (6 Pts)
- Les 4 premières phrases dans le bon ordre (8 Pts)
- Les 5 premières phrases dans le bon ordre (10 Pts)

AEM 2 / 50 Pts

I/ HISTOIRE-GÉOGRAPHIE /10

1. a) La France fait partie des nations qui pratiquaient la traite des Noirs : **Vrai** (1,5 Pts)
 - b) La traite négrière a causé le dépeuplement de la Côte d'Ivoire : **Vrai** (1,5 Pts)
 - c) Les Portugais sont les premiers Européens arrivés sur les côtes ivoiriennes : **Faux** (1 Pt)
 - d) Au XVII^e siècle, les missionnaires français faisaient du commerce en Côte d'Ivoire : **Faux** (1 Pt)
 - e) Karamoko Ouattara, le Roi de Kong a été l'un des explorateurs de la Côte d'Ivoire : **Faux** (1 Pt)
- 2.



II/ EDHC /10

1. Le député est élu aux élections législatives **Vrai** (2 Pts)
 - Le Président de la République est élu aux élections municipales **Faux** (2 Pts)
 - Le maire est élu aux élections législatives présidentielles **Faux** (2 Pts)

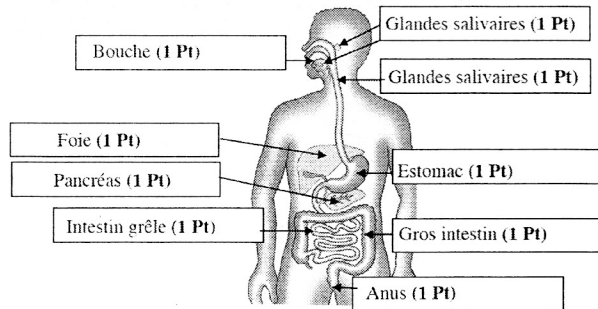
2. Coche la bonne réponse :

- Un enfant - soldat a moins de 18 ans. (1 Pt)
 L'ensemble des députés s'appelle l'Assemblée Nationale. (1 Pt)
 Un enfant-soldat est un orphelin de guerre.
 un enfant - soldat a plus de 18 ans.
 Le lieu de travail des députés est l'Assemblée nationale. (1 Pt)
 L'IGR est un impôt fixé par l'État. (1 Pt)
 Les députés détiennent le pouvoir exécutif.

III/SCIENCES ET TECHNOLOGIES /30

1. un réseau alimentaire (2 Pts) est un ensemble de chaînes alimentaires (1 Pt) qui sont reliées entre elles. Lorsqu'on représente graphiquement les relations de nutrition de plusieurs écosystèmes, on obtient une pyramide alimentaire (1 Pt)
2. Pour satisfaire ses besoins en protéides, l'homme doit manger des consommateurs de 1^{er} ordre : **Faux (2 Pts)**
- Les glandes intestinales produisent le suc gastrique **Faux (2 Pts)**
 - Les glandes intestinales produisent le suc intestinal **Vrai (2 Pts)**
 - Le pancréas produit la bile **Faux (2 Pts)**
 - Le pancréas produit le suc pancréatique **Vrai (2 Pts)**
 - Le foie produit la bile **Vrai (2 Pts)**
 - Les glandes de l'estomac produisent le suc gastrique **Vrai (2 Pts)**
3. Relie chaque élément a son lieu ou son moment de transformation :
- | | | |
|----------------------|---|---------------------|
| Le bol alimentaire ● | → | ● L'intestin (1 Pt) |
| Le chyme ● | → | ● La bouche (1 Pt) |
| Le chyle ● | → | ● L'estomac (1 Pt) |

4. Complète le schéma de l'appareil digestif à l'aide des noms suivants : anus - foie - intestin grêle - gros intestin - glandes salivaires - pancréas - bouche - œsophage - estomac.



ORTHOGRAPHE 2 (20 PTS)

Dictée N°2 : Mon premier jour à l'école

Je me souviens encore de mon premier jour à l'école. J'étais nerveux et excité à la fois. Ma mère m'a accompagné jusqu'à la porte de la classe et m'a encouragé. En entrant, mon regard a croisé de nouveaux visages souriants. Ma maîtresse m'a fait asseoir près de Nadia que je connaissais. Malgré ma timidité initiale, je me suis rapidement fait des amis cette première journée.

Barème : 1 faute grammaticale ou de conjugaison enlève 2 points : 1 faute d'orthographe enlève 1 point

MATHÉMATIQUES 2 (50 PTS)

EXERCICE 1 : Effectue les opérations (12 points)

$237,367$	$879,78$	$78,25$	78521	7
$+ 457,89$	$- 16,67$	$\times 8$	-7	$11217,2$
$+ 78,201$	$= 863,11$	$626,00$	08	
$= 773,458$			-7	
(3 Pts)	(3 Pts)	(3 Pts)	15	
			-14	
			012	
			-7	
			051	
			-49	
			020	
			-14	
			06	
			(3 Pts)	
			au dixième près	

EXERCICE 2 : (9 points)

a)

Sommet (2 Pts)
Côté (2 Pts)

b) Le périmètre du carré est : $C \times 4$ (2 Pts) :
 Son aire est : $C \times C$ (2 Pts).

EXERCICE 3 : (9 points)

- a) 8394 g = 8,394 kg (2 Pts) ; b) 0,87 dag = 8700 mg (2 Pts)
 c) 25,7 hg = 257000 cg (2 Pts) ; d) 7 kg 39 g = 73900 dg (3 Pts)

EXERCICE 4 : (20 points)

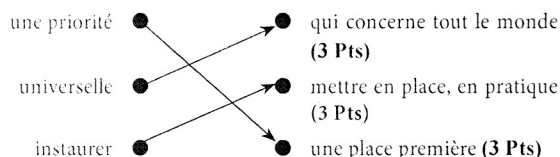
Qté	Désignat°	P U	Montant
3	Cahier T.P.	1500 F	4 500 F (2 Pts)
10 (3 Pts)	Stylos	100 F	1 000 F
4	Annales	1 200 F (3 Pts)	4 800 F
5	Cahier de 200 P	350 F	1 750 F (2 Pts)
Total : 12 050 F (3 Pts)			
Réduction de 10% : 1 205 F (3 Pts)			
Net à payer : 10 845 (4 Pts)			

EXAMEN 3

EXPLOITATION DE TEXTE 3 / 50 Pts

I-COMPRÉHENSION /20

1. Le texte est de type narratif (4 Pts)
2. Le personnage principal du texte est le Ministre de l'Éducation nationale et de l'Enseignement technique (4 Pts)
3. Le thème abordé est « l'école » (3 Pts)
4. Relie chaque expression à son sens :



II- MANIEMENT DE LANGUE /20

1. a) Le préfixe de « prévu » : « pré » (2 Pts)
 b) Un mot de la même famille que : « **scolarisation** » est :
 scolariser, scolarité, scolaire etc... (2 Pts)
 2. Une phrase correcte (2 Pts)
 3. Trouve la nature et la fonction des mots et groupes de mots soulignés dans le texte :
- Les enfants** : Groupe nominal, sujet du verbe « terminent » (2 Pts)
une : Article indéfini, déterminant de « priorité » (3 Pts)
des amendes : Groupe nominal, COD de prévu (3 Pts)
4. « Elle a défendu avec succès le projet de loi instaurant l'école obligatoire des enfants de 6 à 16 ans. »
 a) Le verbe cette phrase est : **défendu** ; Son infinitif est **défendre**. (3 Pts)
 b) Elle **défendrait** avec succès le projet de loi instaurant l'école obligatoire des enfants de 6 à 16 ans. (3 Pts)

III- EXPRESSION ÉCRITE /10

Au cours de la réunion de rentrée, l'Inspecteur avertit les parents de ce qui pourrait leur arriver s'ils ne respectaient pas la mesure de l'école obligatoire pour tous les enfants de 6 à 16 ans.

1. Un texte injonctif (3 pts)
2. Fond (les informations pour convaincre) (3 pts)
 Forme (le nombre de fautes faites) (2 pts)
 Présentation (la propreté du texte émis) (2 pts)

AEM 3 / 50 Pts

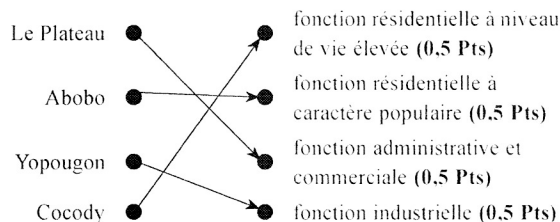
I-HISTOIRE-GÉOGRAPHIE /10

1. a) Les Français furent les premiers Européens à s'installer sur les côtes ivoiriennes : **Vrai (1 Pt)**
 b) Les premiers missionnaires français voulaient évangéliser la Côte d'Ivoire : **Vrai (1 Pt)**
 c) Le premier contact des Français avec les Ivoiriens se situe au XVII^e siècle : **Vrai (1 Pt)**

- d) La France a aboli l'esclavage dans ses colonies en 1848 sous la pression de Victor Schoelcher : **Vrai (1 Pt)**
- e) L'Amérique du Nord, les Antilles et le Brésil se sont développés grâce à la traite atlantique : **Vrai (1 Pt)**
2. Parmi les localités suivantes, souligne celles qui ont été les premières à avoir des contacts avec les Français :

Bouaké ; Adzopé ; Assinie (0,5 Pts) ; Agboville ; Abengourou ; Dabou (0,5 Pts)

3. Relie chaque commune d'Abidjan à sa fonction :

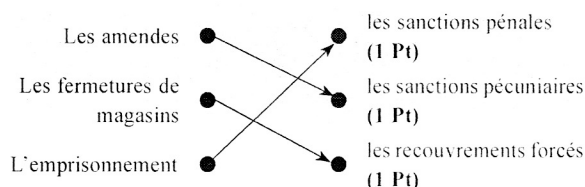


4. Coche les cases qui indiquent les problèmes de la population ivoirienne :

- Elle est jeune (0,5 Pts)
 Elle est confrontée au chômage (0,5 Pts)
 Elle manque de logement (0,5 Pts)
 Elle est confrontée à l'exode rural (0,5 Pts)

II/ EDHC /10

1. Relie la sanction au groupe de sanctions auxquels s'expose le mauvais contribuable :



2. Coche les cases pour indiquer les pratiques démocratiques :
- le respect des institutions (1 Pt)
 La liberté d'exercer son droit de vote (1 Pt)
 la séparation des pouvoirs (1 Pt)
 l'alternance du pouvoir (1 Pt)

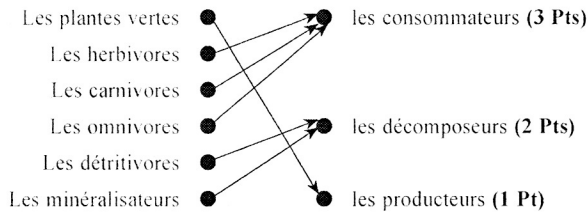
3. Les membres de l'Assemblée nationale portent le titre de Députés : **Vrai (0,5 Pts)**

Les membres de l'Assemblée nationale votent les lois : **Vrai (1 Pt)**

Les membres de l'Assemblée nationale sont nommés par le Président de la République : **Faux (0,5 Pts)**

Le DIH recommande de recruter les enfants de moins de 18 ans dans les groupes armés : **Faux (1 Pt)**

1. Relie chaque groupe donné au niveau trophique qui lui correspond :



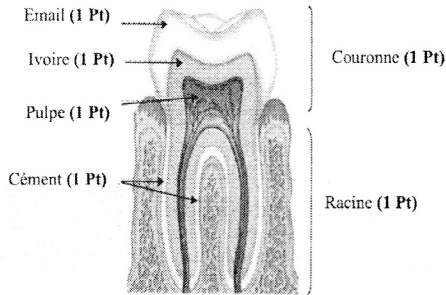
2. les végétaux → les gazelles → les lions → les hommes (4 Pts)

3.

Les aliments de construction et de réparation	Les aliments énergétiques	Les aliments de protection
les protides (3 Pts)	les glucides (3 Pts)	les vitamines, les sels minéraux (3 Pts)

4. la bouche, l'œsophage, l'estomac, l'intestin grêle, le gros intestin, l'anus (5 Pts)

5. Complète le schéma de la coupe d'une dent à l'aide des noms suivants : couronne, racine, émail, ivoire, pulpe, cément.



ORTHOGRAPHE 3 (20 PTS)

Dictée N°3 : Une finale de football

La finale de football entre notre école et notre rivale a été un match épique. Les gradins étaient remplis de supporters enthousiastes. Le coup d'envoi a été donné, et le match a commencé. Les deux équipes ont joué avec détermination et passion. Finalement, notre équipe a réussi à marquer un but dans les dernières minutes du match. La joie et les célébrations ont éclatées sur le terrain et dans les tribunes.

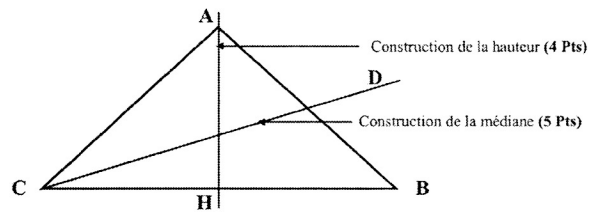
BARÈME :

1 faute grammaticale ou de conjugaison enlève 2 points ; 1 faute d'orthographe enlève 1 point

Exercice 1 : Pose ou effectue les opérations suivantes (12 points)

$\begin{array}{r} 354 \\ + 7,315 \\ + 79,8 \\ \hline 441,115 \end{array}$ <p>(3 pts)</p>	$\begin{array}{r} 275,42 \\ - 57,6 \\ \hline = 217,82 \end{array}$ <p>(3 pts)</p>	$\begin{array}{r} 9825 \\ \times 35 \\ \hline 49125 \\ 29475 \\ \hline 343875 \end{array}$ <p>(3 pts)</p>	$\begin{array}{r} 413,274 \\ - 36 \\ \hline 053 \\ - 48 \\ \hline 052 \\ - 48 \\ \hline 047 \\ - 42 \\ \hline 054 \\ - 54 \\ \hline 00 \end{array}$ <p>(3 pts)</p>	$\begin{array}{r} 6 \\ \hline 68,879 \end{array}$
--	---	---	--	---

Exercice 2 : (9 points)



Exercice 3 : Complète (9 points)

- a) 215,45 cl = 2,1545 l (2 pts) ; b) 33,32 dam = 333200 mm (3 pts)
- c) 1,2 hl = 1200 dl (2 pts) ; d) 5,93 l = 593 cl (2 pts)

Exercice 4 : (20 points)

- le prix d'achat du riz est : $20 \times 500 = 10\,000$ (3 Pts) ;
le prix d'achat du riz est : 10 000 F (1,5 Pts)
- la dépense effectuée en achetant le poisson et les tomates est :
 $13\,500 + 2\,850 = 16\,350$ (3 Pts)
la dépense effectuée en achetant le poisson et les tomates est :
16 350 F (1,5 Pts)
- la dépense totale est : $10\,000 + 16\,350 = 26\,350$ (3 Pts)
la dépense totale est : $10\,000 + 16\,350 = 26\,350$ (1,5 Pts)
- la somme restante après toutes ces dépenses est :
 $30\,000 - 26\,350 = 3\,650$ (3 Pts)
la somme restante après toutes ces dépenses est : 3 650 F (1,5 Pts)
- Non on ne peut pas acheter un bidon d'huile qui coûte 5 000 francs car $5\,000 > 3\,650$ (2 Pts)

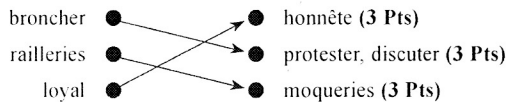
EXAMEN 4

EXPLOITATION DE TEXTE 4 / 50 Pts

I-COMPRÉHENSION

/20

1. C'est un texte **descriptif** (3 Pts)
2. Ce texte fait le portrait **Raoul** (2 Pts)
3. a) « Son nez bien droit rehausse sa beauté. » exprime son portrait **physique** (3 Pts)
- b) « un garçon calme au regard loyal » exprime son portrait **moral** (3 Pts)
4. Relie chaque expression à son sens :



II- MANIEMENT DE LANGUE

/20

1. découpé : recoupé (2 Pts)
2. **clair** : Adjectif qualificatif (1,5 Pts), épithète de « teint » (1,5 Pts)
il : Pronom personnel (1,5 Pts), sujet du verbe « peut » (1,5 Pts)
maître : Nom commun (1,5 Pts), masculin singulier, complément du nom « Conseils » (1,5 Pts)
3. « Raoul est arrivé dans notre école au cours de l'année »
Le verbe de cette phrase est : **arrivé** ; Son infinitif est « **arriver** » (3 Pts)
4. présent : **Raoul arrive dans notre école au cours de l'année** (3 Pts)
futur simple : **Raoul arrivera dans notre école au cours de l'année** (3 Pts)

III- EXPRESSION ÉCRITE

/10

1. Fond les informations pour convaincre (4 pts)
2. Forme (le nombre de fautes faites) (3 pts)
3. Présentation (la propreté du texte émis) (3 pts)

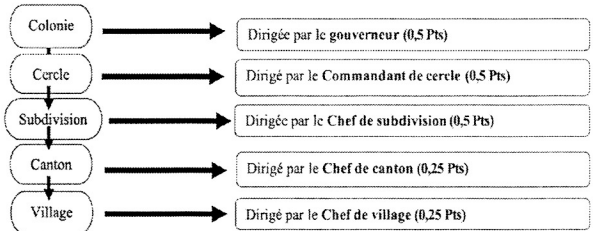
AEM 4 / 50 Pts

I- HISTOIRE-GÉOGRAPHIE

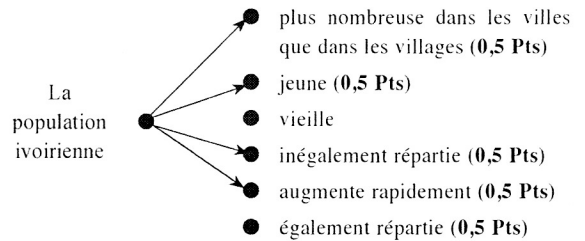
/10

1. Écris dans la case **Vrai** si l'affirmation est juste et **Faux** dans le cas contraire :
- a) La pénétration pacifique des Français en Côte d'Ivoire a duré de 1893 à 1908 : **Vrai** (0,5 Pts)
- b) Le gouverneur Angoulvant a pratiqué cette pénétration pacifique : **Faux** (0,5 Pts)
- c) La résistance ivoirienne à la pénétration française a été vaincue en 1916 : **Faux** (0,5 Pts)
- d) Binger et Clozel ne sont pas les planificateurs de la pacification brutale : **Vrai** (0,5 Pts)
- e) Marcel Treich-Laplène est l'une des figures ivoiriennes de la résistance : **Faux** (0,5 Pts)

- f) La Côte d'Ivoire est devenue colonie française le 10 mars 1893 : **Vrai** (0,5 Pts)
- g) L'exploitation économique de la colonie a favorisé la puissance économique de la France **Vrai** (0,5 Pts)
2. Complète le schéma de l'organisation administrative de la colonie de Côte d'Ivoire en 1912.



3. Relie la population ivoirienne à ses caractéristiques :



4. Coche les cases qui indiquent les problèmes auxquels la ville d'Abidjan est confrontée :
- L'insécurité (0,5 Pts) le transport (0,5 Pts)
- Le manque de logements (0,5 Pts) le chômage (0,5 Pts)

II/ EDHC

/10

1. Écris **Vrai** ou **Faux** dans la case suivante :
 - Les droits à la participation de l'enfant lui permettent de jouer un rôle actif dans sa communauté **Vrai** (2 Pts)
 - L'Assemblée nationale est aussi appelée Parlement **Vrai** (2 Pts)
2. Coche les cases pour indiquer les droits à la participation de l'enfant :
la liberté d'expression (2 Pts) La liberté d'association (2 Pts)
Le droit aux loisirs, activités récréatives et culturelles (2 Pts)

III/ SCIENCES ET TECHNOLOGIES

/30

1. **globules rouges** (1,5 Pts) ; **globules blancs** (1,5 Pts), **plaquettes sanguines** (1,5 Pts)
2. Pour satisfaire ses besoins en protides, l'homme peut manger des consommateurs de 1^{er} ordre : **Vrai** (1,5 Pts)
3. Souligne les gaz respiratoires de la liste suivante : **oxygène** (1 Pt) ; **gaz carbonique** (1 Pt)
4. Souligne les maladies respiratoires contenues dans cette liste : **le cancer des poumons** (1 Pt), **l'asthme** (1 Pt), **les pneumonies** (1 Pt) ; **la tuberculose pulmonaire**, (1 Pt)

5. Souligne les qualités d'une balance :

La justesse (2 Pts) la sensibilité (2 Pts)

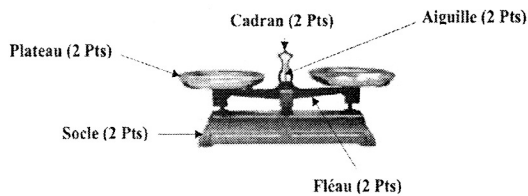
6. a) Souligne la position de l'aiguille de la balance de Roberval avant chaque pesée :

une position verticale (2 Pts) ; une position horizontale

b) Souligne le point que l'aiguille de la balance indique lorsque le plateau est vide :

le point A ; le point zéro (2 Pts) ; le point C

7.



Dictée N°4 : Dimanche à la maison

Dimanche dernier, j'ai passé une journée très relaxante à la maison. Je me suis réveillé tard et j'ai pris un délicieux petit-déjeuner préparé par ma mère. Ensuite, je me suis mis à lire un livre captivant de contes pendant que mon frère jouait au football dans le jardin. La soirée s'est terminée par un film familial, un moment de détente parfait pour clôturer cette journée.

BARÈME :

1 faute grammaticale ou de conjugaison enlève 2 points ; 1 faute d'orthographe enlève 1 point

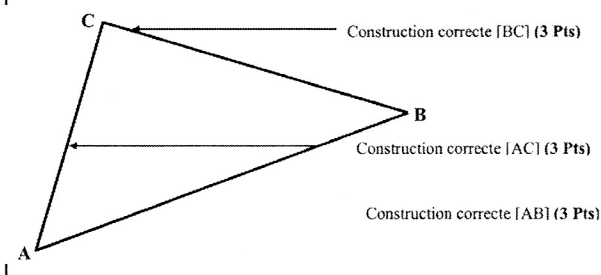
MATHÉMATIQUES 4 (50 PTS)

Exercice 1 : Effectue les opérations suivantes (12 points)

$8\text{h } 37\text{min } 15\text{s}$ + $7\text{h } 22\text{min } 54\text{s}$	$\frac{275}{27} + \frac{98}{27} = \frac{177}{27}$	$47,65$ x $3,4$	87107 - 82	82
$15\text{h } 60\text{min } 69\text{s}$ $15\text{h } 61\text{min } 09\text{s}$ 1h $16\text{h } 01\text{min } 09\text{s}$	(3 Pts)	19060 14295 $162,010$	051 -00 510 -492 0187 -164 0230 -164 066	$1062,2$
(3 Pts)		(3 Pts)	Au $1/10$ près (3 Pts)	

Exercice 2 : (9 points)

AB = 10 cm , AC = 8 cm , BC = 6 cm



Exercice 3 : Complète (9 points)

- a) $215,45 \text{ cm}^2 = 0,021545 \text{ m}^2$ (2 Pts) ;
- b) $0,7564 \text{ dam}^2 = 7564 \text{ dm}^2$ (2 Pts) ;
- c) $85,3210 \text{ hm}^2 = 853210 \text{ m}^2$ (2 Pts) ;
- d) $7 \text{ km}^2 32 \text{ dam}^2 = 7003200 \text{ m}^2$ (3 Pts).

Exercice 4 : (20 points)

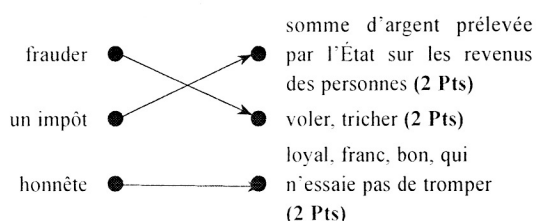
- 1. la quantité de lait produite par vache chaque jour est :
 $120 : 20 = 6$ (3 Pts)
la quantité de lait produite par vache chaque jour est : 6 litres (2 Pts)
- 2. la quantité de lait produite par vache chaque semaine est :
 $7 \times 6 = 42$ (3 Pts)
la quantité de lait produite par vache chaque semaine est : 42 litres (2 Pts)
- 3. la quantité totale de lait produite au cours du mois de Février est :
 $42 \times 4 \times 20 = 3360$ (3 Pts)
la quantité totale de lait produite au cours du mois de Février est 3360 litres (2 Pts)
- 4. le revenu de Sidibé à la fin du mois de Février est :
 $3360 \times 850 = 2856000$ (3 Pts)
le revenu de Sidibé à la fin du mois de Février est : 2 856 000 F (3 Pts)

EXAMEN 5

EXPLOITATION DE TEXTE 5 / 50 Pts

I-COMPRÉHENSION /20

1. C'est un texte **injonctif** (3 Pts)
2. Au présent de l'**impératif** (3 Pts)
3. On s'**expose à des pénalités** (3 Pts)
4. Relie chaque expression à son sens :



5. a) Trouve un mot de la même famille que « **impôt** » : Une imposition (1Pt)
- b) Trouve le contraire de « **honnête** » : **Malhonnête** (1Pt)
6. Une phrase correcte avec le mot « **frauder** » : (3 Pts)

II- MANIEMENT DE LANGUE /20

1. **bon** : Adjectif qualificatif (1 Pt), épithète du nom « citoyen » (1 Pt)
biens : Nom commun (1 Pt), COD du verbe « déclarez » (1 Pt)
service des impôts : Groupe nominal (1 Pt), COD de « déclarez » (1 Pt)
2. **Payez vos impôts** : Proposition principale (2 Pts)
Dès que vous recevez vos avis d'imposition : Proposition subordonnée conjonctive, introduite par la locution conjonctive « dès que », Complément Circonstanciel de temps de « recevez » (3 Pts)
3. a) La voix active (1 Pt)
b) **Vous y être obligés par la loi** (2 Pts)
4. a) **Être un bon citoyen** : Que je sois un bon citoyen (2 Pts)
b) **Aider l'Etat à se développer** : Que j'aide l'Etat à se développer. (2 Pts)
c) **Éviter de s'exposer à des pénalités** : Que j'évite de m'exposer à des pénalités (2 Pts)

III-EXPRESSION ÉCRITE /10

- 1- Un texte **injonctif** (3 pts)
- 2- Fond (les informations pour convaincre (3 pts)
Forme (le nombre de fautes faites) (2 pts)
Présentation (la propreté du texte émis) (2 pts)

AEM 5 / 50 Pts

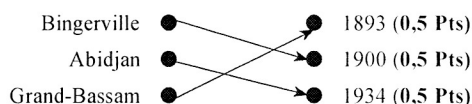
I-HISTOIRE-GÉOGRAPHIE /10

1. **les plantations** (0,5 Pts) ; **les corvées** (0,5 Pts) ; **les maisons de commerce** (0,5 Pts) ; **les grands travaux** (0,5 Pts) ; **le travail forcé** (0,5 Pts) ; **l'impôt de capitation** (0,5 Pts)

2. Écris dans la case **Vrai** si l'affirmation est juste et **Faux** dans le cas contraire :

- a) La révolte des Abbéys contre les Français s'est déclenchée le 8 janvier 1910 : **Vrai (0,5 Pts)**
- b) La résistance ivoirienne est vaincue en 1916 parce qu'elle est mal organisée : **Vrai (0,5 Pts)**
- c) Le nom Bingerville a été donnée en souvenir de Treich-Laplène : **Faux (0,5 Pts)**

3. Relie les différentes capitales de la colonie de Côte d'Ivoire à leur année d'érection :



- 4.

	cultures vivrières	cultures industrielles
localisées au nord	Le fonio, le mil (0,5 Pts)	Le tabac (0,5 Pts)
localisées au sud	La banane plantain, le manioc (1 Pt)	Le cacao, le café, l'hévéa (1 Pt)

5. L'élevage **transhumant traditionnel** détruit les cultures et crée des litiges entre les éleveurs et agriculteurs. (1 Pt)

II-EDHC /10

1. **Coche les cases qui traduisent la vraie hospitalité.**
- a) La Côte d'Ivoire est un pays d'hospitalité car elle accueille une forte population d'étrangers (2 Pts)
- b) Les étrangers en Côte d'Ivoire sont obligés de respecter les lois du pays (2 Pts)
- c) A cause de notre hospitalité nous devons accepter les étrangers qui violent notre constitution
- d) Au nom de cette hospitalité, nous devons permettre les mariages hétérosexuels entre les Ivoiriens et les étrangers (2 Pts)

1. **Coche la case qui indique ce qui est juste :**

- a) L'intersection est le parking où l'on gare la voiture
- b) L'intersection est le lieu où deux voies ne se croisent pas (2 Pts)
- c) L'intersection est le lieu de croisement de deux ou plusieurs chaussées (2 Pts)
- d) La sécurité routière concerne uniquement les automobilistes

III-SCIENCES ET TECHNOLOGIE /30

1. a) Les groupes sanguins possibles de KRACK sont A ; AB ; B ; O (2 Pts)
b) O (1 Pt) ; B ; AB ; A (1 Pt)
2. a) Les convulsions, la fièvre, les crampes musculaires, les raideurs (2 Pts)
b) KRACK souffre du SIDA **Faux** (1 Pt) ; -KRACK souffre de la tuberculose **Faux** (1 Pt)

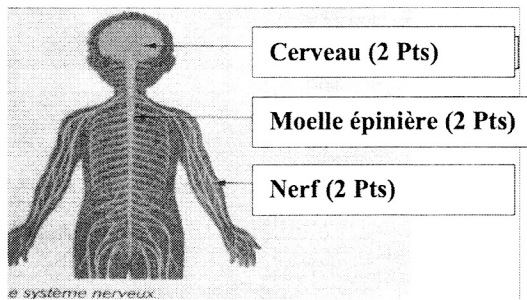
-KRACK souffre du tétanos Vrai (1 Pt) ; -KRACK souffre de la méningite Faux (1 Pt)

- c) Le tétanos est causé par le bacille de Nicolaier (2 Pts)
- Le vaccin du tétanos est DTPolio (1 Pt) qui est utilisé à titre préventif. (1 Pt)
 - Le sérum du tétanos est le sérum antitétanique (1 Pt) qui est utilisé à titre curatif (1 Pt)
 - La tuberculose est causée par le bacille de Koch (1 Pt)
 - Les antibiotiques (1 Pt) qui soignent la tuberculose sont utilisés à titre curatif (1 Pt)
 - Le vaccin de la tuberculose est le BCG (1 Pt) qui est utilisé à titre préventif. (1 Pt)

3. Souligne dans cette liste les composantes du système nerveux :

Encéphale (1 Pt) moelle épinière (1 Pt) nerfs (1 Pt)

4. Complète ce schéma avec les noms : moelle épinière - cerveau - nerf .



ORTHOGRAPHE 5 (20 PTS)

Dictée N°5 : Papa, un bon éducateur (Texte à dicter aux élèves)

Mon père est un excellent éducateur. Il m'enseigne toujours des valeurs importantes comme le respect, la persévérance et l'honnêteté. Il m'encourage à poursuivre mes rêves et à travailler dur pour les atteindre. Chaque fois que j'ai des difficultés, il est là pour m'aider à trouver des solutions. Il me montre l'importance de l'effort et de la responsabilité.

BARÈME :

1 faute grammaticale ou de conjugaison enlève 2 points ; 1 faute d'orthographe enlève 1 point

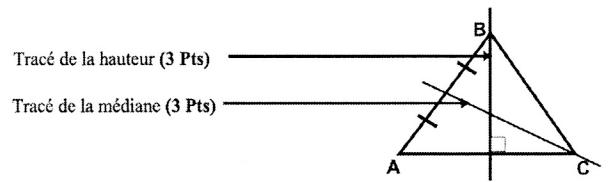
MATHÉMATIQUES 5 (50 PTS)

Exercice 1 : Effectue les opérations suivantes (12 points)

$8h\ 37\ min\ 55s$	$\frac{877}{107} + \frac{98}{107} = \frac{975}{107}$	$7,46$	129450	$3,1$
$- 5h\ 15\ min\ 34s$		$\times 8,5$	$\begin{array}{r} -124 \\ 0054 \\ -34 \\ 205 \\ -186 \\ 0190 \\ -186 \\ 0040 \\ -31 \\ 09 \end{array}$	$4166,1$
$3h\ 22\ min\ 21s$	(3 Pts)	3730		
		5968		
		$63,410$		
	(3 Pts)	(3 Pts)		
			Au 1/10 près	
			(3 Pts)	

Exercice 2 : (9 points)

a) Observe cette figure. A l'aide de ton compas, complète avec : un triangle isocèle - un triangle rectangle - un triangle équilatéral



b) Cette figure est un triangle équilatéral (3 Pts)

Exercice 3 : Complète. (9 points)

- a) $5,077\ cm^3 = 5077\ mm^3$ (3 Pts) ;
 b) $76,32\ hm^3 = 76320\ dam^3$ (3 Pts)
 c) $9\ dam^3\ 213\ dm^3 = 29000213\ dm^3$ (3 Pts) ;
 d) $78,392\ dm^3 = 78392\ cm^3$ (3 Pts)

Exercice 4 (20 points)

1. le nombre total d'invités à cette cérémonie est :
 $16 + 60 + 92 = 168$ (2 Pts)
 - le nombre total d'invités à cette cérémonie est :
 $16 + 60 + 92 = 168$ (2 Pts)

2. Écris les opérateurs et complète le tableau ci-dessous.

X 4 (2 Pts)	Nombre de poulets	2	8 (2 Pts)	15 (2 Pts)	23 (2 Pts)	27 (2 Pts)	: 4 (2 Pts)
	Nombre d'invités	8	16	60	92	168	

3. le nombre total de poulets qu'elle achètera est de :
 $168 : 4 = 27$ (2 Pts)
 - le nombre total de poulets qu'elle achètera est de :
 $168 : 4 = 27$ (2 Pts)

EXAMEN 6

EXPLOITATION DE TEXTE 6 / 50 Pts

I-COMPRÉHENSION /20

1. Propose un titre au texte : La COVID-19 (3 Pts)
2. Le port du masque, la distanciation, le lavage des mains, l'interdiction d'accolades de salutation, le rassemblement de cinquante personnes furent exigés (4 Pts)
3. L'enseignement à la télévision suivi à la maison est **L'école à la maison** (3 Pts)
4. Rester à la maison c'est se confiner (3 Pts)
5. La limitation des contacts physiques pour éviter une maladie est **La distanciation sociale** (3 Pts)
6. Le contraire de « se confiner » : **se libérer ; sortir ; sortir de l'isolement, etc.** (4 Pts)

II-MANIÈMENT DE LANGUE /20

1. Trouve la nature et la fonction des mots soulignés dans le texte.
a) **Cette** : Adjectif démonstratif (1 Pt), déterminant de « maladie » (1 Pt)
b) **Dangereuse** : Adjectif qualificatif (1 Pt), attribut du sujet « maladie » (1 Pt)
c) **Couvre-feu** : Groupe nominal ou nom commun (1 Pt), COD de « instaurer » (1 Pt)
2. « La COVID-19 est une pandémie » : Proposition principale (2 Pts)
« qui touche qui touche presque tous les pays du monde entier » : Proposition subordonnée relative introduite par le pronom relatif « qui » complément de l'antécédent « pandémie » (2 Pts)
3. a) Le verbe est « comptait » (2 Pts) à l'imparfait de l'indicatif (2 Pts)
b) Présent : On compte des milliers de morts (2 Pts)
Passé simple : On compta des milliers de morts (2 Pts)
Futur simple : On comptera des milliers de morts (2 Pts)

III-EXPRESSION ÉCRITE /10

1. Un texte injonctif (3 pts)
2. Fond (les informations pour convaincre) (3 pts)
Forme (le nombre de fautes faites) (2 pts)
Présentation (la propreté du texte émis) (2 pts)

EXEM 6 / 50 Pts

I-HISTOIRE-GÉOGRAPHIE /10

1. a) Les plantations en Côte d'Ivoire appartiennent aux colons français jusqu'en 1945 : **Vrai. (0,5 Pts)**
b) Les corvées servaient à procurer gratuitement aux Français une main-d'œuvre agricole gratuite : **Vrai. (0,5 Pts)**
c) L'installation des maisons de commerce coloniales en Côte d'Ivoire a duré de 1905 à 1930 : **Faux (1 Pt)**
d) Les principales maisons coloniales de commerce sont la RAN et la SOTRA : **Faux (1 Pt)**

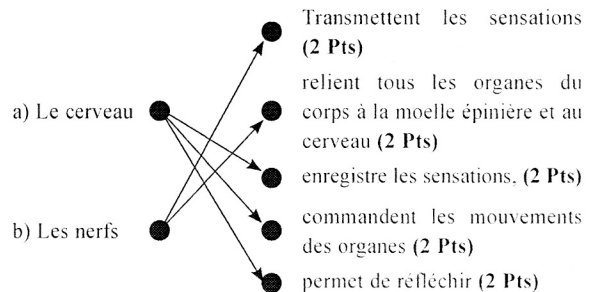
- e) JAG est une maison de commerce coloniale : **Faux (1 Pt)**
2. Souligne l'intrus : En Côte d'Ivoire, les principales cultures vivrières sont :
le manioc, la banane plantain, l'igname, le palmier à huile (1 Pt), le taro, le riz, le fonio, le sorgho et toutes sortes de fruits et légumes.
3. Coche la case qu'il faut : **Pour accroître la production des produits vivriers en Côte d'Ivoire, il faut :**
a) retenir les jeunes dans les campagnes en modernisant l'agriculture (1 Pt)
b) améliorer le circuit de transport et de distribution des produits vivriers (1 Pt)
c) lutter contre les maladies du bétail
4. Coche la case qu'il faut : **Les causes de l'insuffisance de la production vivrière sont :**
a) La population s'accroît sans cesse
b) Les cultures vivrières ne sont pas diversifiées (1 Pt)
c) Les agriculteurs utilisent de l'engrais en vue d'une meilleure productivité
d) Les agriculteurs utilisent des outils archaïques (1 Pt)
e) L'exode rural (1 Pt)

II-EDHC /10

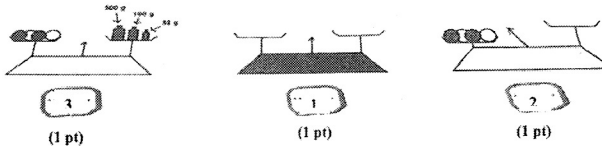
- a) Les Ivoiriens chantent leur hospitalité pendant la montée du drapeau : **Vrai (2 Pts)**
- b) Les Ivoiriens chantent leur hospitalité pendant la descente du drapeau : **Faux (2 Pts)**
- c) L'hospitalité permet à un pays de se développer : **Vrai (2 Pts)**
- d) L'hospitalité ne permet aux étrangers de vivre en paix : **Faux (2 Pts)**
- e) Les pays qui n'accueillent pas les migrants pratiquent l'hospitalité : **Faux (2 Pts)**

III-SCIENCES ET TECHNOLOGIE /30

1. Relie les organes à leur fonction :



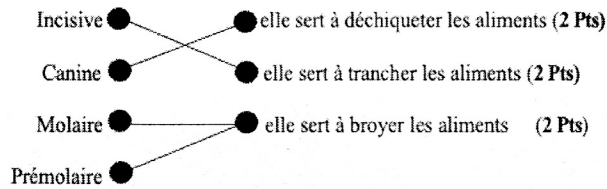
2. Observe ces images et traite les consignes. Numérote dans l'ordre les étapes de la pesée des objets :



- a) Complète les points par la numérotation dans l'ordre les étapes de la pesée des oranges (1 Pt)
 b) La masse des oranges est : $500g + 100g + 50g = 650g$ (2 Pts)
 3. a) Complète avec : Canine, Molaire, Prémolaire, Incisive

Canine (2 Pts)	Incisive (2 Pts)	Prémolaire (2 Pts)	Molaire (2 Pts)

b) Relie chaque dent à son rôle



ORTHOGRAPHE 6 (20 PTS)

Dictée N°6 : J'aime maman

J'aime ma maman de tout mon cœur. Elle est toujours là pour moi, quoi qu'il arrive. Elle m'a appris à être gentil, à partager et à prendre soin des autres. Elle me soutient dans toutes mes activités et me motive à donner le meilleur de moi-même. Je suis reconnaissant pour tout ce qu'elle fait pour moi et je ferai tout pour la rendre fière.

BARÈME :

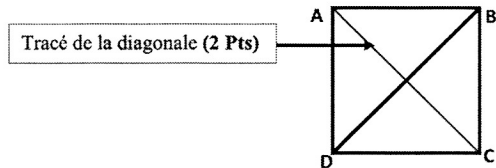
1 faute grammaticale ou de conjugaison enlève 2 points. 1 faute d'orthographe enlève 1 point

MATHÉMATIQUES 6 (50 PTS)

Exercice 1 : Effectue les opérations (12 points)

$784,59$ $- 39,0079$ <hr/> $745,5821$	$8\,784,787$ $+ 776,4499$ <hr/> $9\,561,2369$	$87,79$ $\times 79$ <hr/> 79011 61453 <hr/> $6935,41$	$79,45$ $- 7,5$ <hr/> 44 $- 3,0$ <hr/> 145 $- 1,35$ <hr/> 0100 $- 90$ <hr/> 10	$0,15$ <hr/> $529,6$
(3 Pts)	(3 Pts)	(3 Pts)	(3 Pts)	(3 Pts)

Exercice 2 : (9 points)



- a) $23\,l = 23\,dm^3$ (2,5 Pts) ; b) $2875\,dm^3 = 2,875\,dal$ (2,5 Pts)
 c) $723\,dam^3 \div 5\,dm^3 = 72\,300\,005\,dm^3$ (2 Pts) = $72\,300\,005\,l$ (2 Pts)

Exercice 4 : (20 points)

- 1) le nombre de poulets est : 35 car il y a le même nombre de poulets que de moutons. (3 Pts)
 2) le prix de vente des 13 moutons est : $13 \times 65\,000 = 845\,000$ (2,5 Pts)
 le prix de vente des 13 moutons est 845 000 F (2 Pts)
 3) le prix de vente des 20 poulets est :
 $20 \times 2\,500 = 50\,000$ (2,5 Pts)
 le prix de vente des 20 poulets est : 50 000 F (2 Pts)
 4) la somme totale recueillie par la coopérative après la vente est :
 $845\,000 + 50\,000 = 895\,000$ (3 Pts)
 la somme totale recueillie par la coopérative après la vente est :
 895 000 F (1,5 Pts)
 5) L'organisation de la fête n'est pas possible car
 $895\,000\,F < 1.650.000\,F$ (3,5 Pts)

EXAMEN 7

EXPLOITATION DE TEXTE 7 / 50 Pts

I-COMPRÉHENSION /20

- 1- Avec Ibrahim (4 Pts)
- 2- Ils jouent avec Ibrahim sur sa tablette (4 Pts)
- 3- Ibrahim, lui, est comme fasciné par son écran, il ne s'arrête jamais. (4 Pts)
- 4- Les différentes parties qui forment le mot « exactement » sont : Exacte / ment (4 Pts)
- 5- Coche par une croix le synonyme de « fasciné » dans cette liste :
Joyeux : Attiré (4 Pts) Repoussé

II-MANIÈREMENT DE LA LANGUE /20

- 1- Ils : Pronom personnel (1 Pt), sujet de « iront » (1 Pt)
- les : Pronom personnel (1 Pt) , COD de « menant » (1 Pt)
- une biche : Nom commun (1 Pt), féminin singulier, COD de « montre » (1 Pt)
- 2- « On a même vu une biche » : Proposition principale (2 Pts)
« qui a failli se faire renverser par la voiture » : Proposition subordonnée relative, introduite par le pronom relatif « qui » Complément de « biche » (3 Pts)
- 3- a) le verbe conjugué est : fini (1 Pt)
b) l'infinitif de ce verbe est : finir (1 Pt)
c) le temps de ce verbe est : passé composé de l'indicatif (1 Pt)
d- Nous finissons (1 Pt) , Ils /elles finissent (1 Pt)
-: Je finis (1 Pt) ; il / elle fini (1 Pt)
-: vous finîtes (1 Pt); ils / elles finirent. (1 Pt)

III-EXPRESSION ECRITE /10

- 1- Un texte explicatif (3 pts)
- 2- Fond(les informations pour convaincre (3 pts)
Forme(le nombre de fautes faites) (2 pts)
Présentation (la propreté du texte émis) (2 pts)

AEM 7 / 50 Pts

I-HISTOIRE-GÉOGRAPHIE /10

1. Souligne les éléments intrus :
a) Les ressources naturelles de la colonie de Côte d'Ivoire exploitées par les Français sont : l'arachide (1 Pt)
b) Les principales cultures industrielles sont : le fonio (1 Pt) , la banane plantain (1 Pt)
2. Écris dans la case Vrai ou Faux:
a) Les grands travaux ont facilité l'exploitation économique de la colonie ivoirienne : Vrai (0,5 Pts)

- b) Les grands travaux en Côte d'Ivoire ont commencé en 1905 : Vrai (0,5 Pts)
 - c) Les colonisés mouraient en grand nombre pendant les grands travaux : Vrai (0,5 Pts)
 - d) Les colons Français ont réalisé les grands travaux à des coûts très élevés grâce au travail forcé : Vrai (1 Pt)
3. Écris dans la case Vrai ou Faux :
- a) La Côte d'Ivoire importe les cultures industrielles : Faux (0,5 Pts)
 - b) Les cultures industrielles fournissent de l'emploi aux jeunes : Vrai (0,5 Pts)
 - c) Si la Côte d'Ivoire réussit à transformer sur place ses produits industriels, elle serait riche : Vrai (0,5 Pts)
 - d) Nestlé transforme une partie du cacao ivoirien : Faux (0,5 Pts)
4. Complète les phrases avec les termes justes : moderne, traditionnel, du petit bétail, industriels
- a) L'élevage traditionnel (0,5 Pts) est pratiqué dans le Nord et le Centre par les paysans et les peuls venus des pays du Sahel.
 - b) Dans l'élevage moderne (0,5 Pts), l'herbe des pâturages est riche et épaisse. Les bêtes vivent dans des bâtiments. Leur alimentation est surveillée. Des vétérinaires les soignent.
 - c) Près des villes, des élevages du petit bétail, se sont installés pour satisfaire la demande des consommateurs. (0,5 Pts)
 - d) L'élevage industriel, se pratique partout dans le pays. (1 Pt)

II-EDHC /10

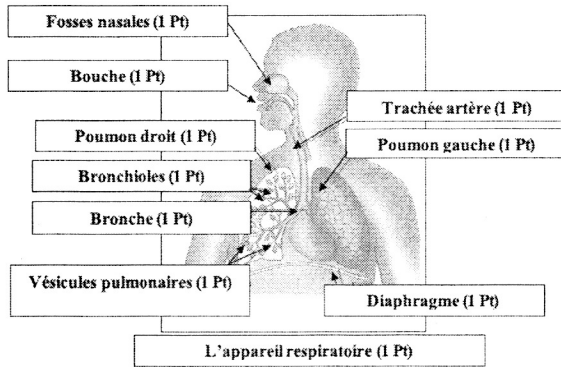
- 1- Écris dans la case Vrai ou Faux:
- a) Il est dangereux de traverser à une intersection sans observer des règles Vrai (2,5 Pts)
 - b) Pour traverser à une intersection, il ne faut pas prendre de précautions Faux (2,5 Pts)
 - c) Il n'est pas important de respecter les règles de la traversée à une intersection Faux (2,5 Pts)
 - d) Quand deux voies se croisent, elles ne forment pas d'intersections Faux (2,5 Pts)

III-SCIENCES ET TECHNOLOGIE /30

- 1- Écris dans la case Vrai ou Faux : Pour prendre soin du système nerveux :
a) il faut consommer des boissons alcoolisées fumer la pipe ou la cigarette et s'exposer aux agressions sonores Faux (2,5 Pts)
b) il faut pratiquer du sport, organiser son temps de travail et de repos Vrai (2,5 Pts)
- 2- Range dans l'ordre les étapes suivantes : L'organe du sens est excité- le cerveau enregistre la sensation - les muscles réagissent - l'excitation parcourt les nerfs et arrive au cerveau - Le cerveau donne l'ordre de retour qui arrive aux muscles en passant par les nerfs et la moelle épinière.

- ① L'organe du sens est excité (3 Pts) ;
- ② l'excitation parcourt les nerfs et arrive au cerveau (3 Pts)
- ③ le cerveau enregistre la sensation (3 Pts) ;
- ④ Le cerveau donne l'ordre de retour qui arrive aux muscles en passant par les nerfs et la moelle épinière (3 Pts) ;
- ⑤ les muscles réagissent (3 Pts)

3- Complète le schéma à l'aide des noms suivants : l'appareil respiratoire, bronche, poumons droit, bouche, fosses nasales, bronchioles, vésicules pulmonaires, diaphragme, trachée artère, poumon gauche



ORTHOGRAPHE 7 (20 PTS)

Dictée N°7 : L'épreuve de mathématiques à l'examen de CEPE

L'épreuve de mathématiques à l'examen de CEPE était un défi pour beaucoup d'entre nous. Les questions couvraient divers domaines tels que les opérations arithmétiques, les mesures et la géométrie. J'ai passé des semaines à réviser et à m'entraîner pour être prêt. Grâce à ma préparation, j'ai pu répondre calmement et avec précision à la plupart des questions. J'espère avoir obtenu de bons résultats.

BARÈME : 1 faute grammaticale ou de conjugaison enlève 2 points ; 1 faute d'orthographe enlève 1 point

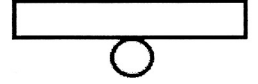
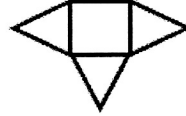
MATHÉMATIQUES 7 (50 PTS)

Exercice 1 : Effectue les opérations suivantes (12 points)

79,509	78965	107,33	102,459	2,50
+ 748	- 38637	x 204,3	-1000	409,8
+ 0,7985	40328	32199	00245	
<u>828,3075</u>		42932	-00000	
		00000	002459	
		21466	- 2250	
		<u>21927,519</u>	02090	
(3 Pts)	(3 Pts)	(3 Pts)	- 2000	
			0090	
				(3 Pts)

Exercice 2 (9 points) :

- a) Il manque une base au patron du cylindre pour être complet. (2 Pts)
- b) Il manque une face latérale au patron de la pyramide pour être complet. (2 Pts)



Le patron incomplet d'une pyramide (2 Pts)
Le patron incomplet d'un cylindre (3 Pts)

Exercice 3 : (9 points)

- a) 1 an = 52 semaines (2 Pts) ; b) 1 semaine = 7 jours (2 Pts)
- c) 1 jour = 24 h (2 Pts) ; d) 336 h = 14 j (1,5 Pts) = 2 semaines (1,5 Pts)

Exercice 4 : (20 points)

LIBRAIRIE DE France		15 septembre 2025	
BP : 417 Abidjan 03		Tél : 20 27 35 76 12	
Articles	Quantité	Prix unitaire	Montant
Cahier 200 pages	3	1200	3 600 (2 Pts)
Livres de lecture	4 (2 Pts)	2300	9 200
Livres de mathématiques	5	2500	12 500 (2 Pts)
Mon cahier d'excellent	3 (2 Pts)	2500	7 500
Les sentiers de réussite	2	1800	3 600 (2 Pts)
MONTANT TOTAL			28 900 (2 Pts)

- b) la monnaie que le caissier rendra est :
 $(2 \times 10\,000 + 3 \times 5\,000 + 2\,000) - 28\,900 = 8\,100$ (2 Pts)
la monnaie que le caissier rendra à Akaffou est 8 100 F (2 Pts)
- c) Le prix d'achat des 7 stylos est : $100 \times 7 = 700$ (1 Pt)
Le prix d'achat des 7 stylos est 700 F (1 Pt)
 $700\text{ F} < 8\,100\text{ F}$ donc il peut acheter les 7 stylos à billes (2 Pts)

EXAMEN 8

EXPLOITATION DE TEXTE 8 / 50 Pts

I-COMPRÉHENSION /20

- Le petit hérisson et l'éléphant (3 Pts)
- «Le plus grand de tous les animaux, le plus fort, le plus puissant» (3 Pts)
- Coche par une croix, ce qui caractérise l'éléphant dans cette liste.
La sagesse L'humilité l'orgueil (2 Pts)
- a) apaiser un peu sa soif : **Faux (3 Pts)**
b) apaiser complètement sa soif : **Vrai (3 Pts)**
- a) Un mot de la même famille que « piquant » est : **piquer (3 Pts)**
b) Une phrase correcte (3 Pts)

II-MANIEMENT DE LA LANGUE /20

- Indique la nature et la fonction des mots soulignés dans le texte.
a) **On** : Pronom personnel (1 Pt), sujet de « pouvait » (1 Pt)
b) **Piqué** : participe passé (1 Pt), épithète de « l'éléphant » (1 Pt)
c) **Son arrivée** : Groupe nominal (1 Pt), COD de « attendaient » (1 Pt)
- « Les autres animaux dirent à l'éléphant » Proposition principale (2 Pts)
« qui attendaient son arrivée » Proposition subordonnée relative (2 Pts), introduite par le pronom relatif « qui », complément de l'antécédent « les autres animaux » (2 Pts)
- a) Le verbe conjugué est « écouta » (1 Pt)
b) Son infinitif est : « écouter » (1 Pt)
c) Au passé simple de l'indicatif (1 Pt)
d) Le futur simple de l'indicatif : l'éléphant ne les écoutera pas. (2 Pts)
-l'imparfait de l'indicatif : l'éléphant ne les écoutait pas. (1,5 Pt)
-Le passé composé de l'indicatif : l'éléphant ne les a pas écoutés. (1,5 Pt)

III/EXPRESSION ÉCRITE /10

- Un texte argumentatif (3 pts)
- Fond (les informations pour convaincre (3 pts)
Forme (le nombre de fautes faites) (2 pts)
Présentation (la propreté du texte émis) (2 pts)

AEM 8 / 50 Pts

I-HISTOIRE-GÉOGRAPHIE /10

Exercice 1 :

- Coche les bonnes réponses en te basant sur ce texte historique d'André Clérici
Les raisons de l'exploration du territoire ivoirien par les Français sont :
a) occuper le territoire ivoirien avant les Anglais (0,25 Pts)

- b) découvrir l'intérieur du pays (0,25 Pts)
c) se lier d'amitié avec les habitants de la région
d) tirer profit des richesses de la région (0,5 Pts)

2. Écris Vrai ou Faux

- Binger et Treich-Laplène ont parcouru ensemble la Côte d'Ivoire en 1889 **Faux (0,5 Pts)**
- Le premier nom que les Français ont donné à la Côte d'Ivoire est la Côte-de-l'Or **Faux (0,5 Pts)**
- Le premier gouverneur de la Côte d'Ivoire est Arthur Verdier **Faux (0,5 Pts)**
- La Côte d'Ivoire est devenue colonie française le 10 mars 1983 **Vrai (0,5 Pts)**
- Angoulvant a signé un traité de protectorat avec le roi de Kong **Vrai (0,5 Pts)**

- Coche les bonnes réponses en te basant sur ce texte extrait du Livre-élève 3e, CEDA/Hatier, 1999

L'élevage d'appoint : Dans le but de développer toutes les espèces entrant dans les habitudes alimentaires des Ivoiriens, la Côte d'Ivoire a tenté des expériences dans l'héliciculture et l'apiculture **Vrai (0,5 Pts)**

L'héliciculture est l'élevage des escargots, mollusques très riches en protéines **Vrai (0,5 Pts)**

L'apiculture est l'élevage des abeilles pour la production du miel et de la cire **Vrai (0,5 Pts)**

Elle constitue une activité complémentaire pour les paysans **Vrai (0,5 Pts)**

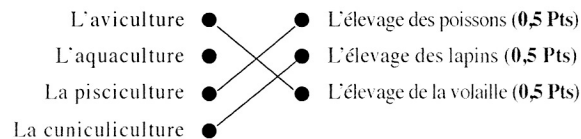
- L'apiculture est l'élevage des abeilles (0,5 Pts)
- L'héliciculture est l'élevage des abeilles
- Un élevage d'appoint complète un autre élevage qui existe déjà
- Les produits de l'héliciculture sont le miel et la cire
- L'escargot est un mollusque riche en protéine (0,5 Pts)

4. Écris Vrai ou Faux :

En dehors de l'élevage d'appoint, la Côte d'Ivoire pratique :

- L'élevage des bovins **Vrai (0,5 Pts)** ;
- L'élevage des caprins **Vrai (0,5 Pts)** ;
- L'élevage des ovins **Vrai (0,5 Pts)** ;
- L'élevage de la volaille **Vrai (0,25 Pts)** ;
- L'élevage des porcins **Vrai (0,25 Pts)**

5. Relie chaque type d'élevage à sa définition :



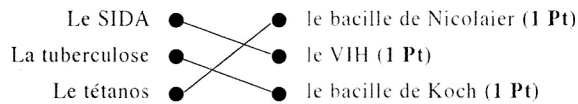
Coche les cases qui traduisent la bonne réponse :

Les droits à la participation de l'enfant le protègent contre :

- a) La maltraitance (2 Pts) :
- b) La privation de liberté (2 Pts) :
- c) L'exploitation dans le travail (2 Pts)
- d) la paix : e) L'éducation pour tous
- f) Pour régler la circulation aux intersections, on utilise les feux de signalisation (2 Pts)
- g) Pour régler la circulation à une intersection, on y place un agent de police (2 Pts)
- h) Les pays européens qui ferment leurs frontières aux étrangers pratiquent l'hospitalité

III-SCIENCES ET TECHNOLOGIE

1. Relie chaque maladie à son agent pathogène :



2. Souligne les intrus dans la liste des maladies liées au sang :

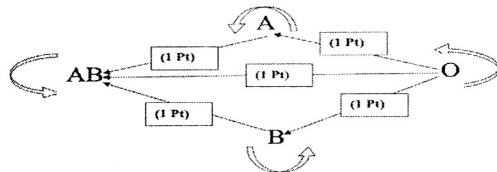
La drépanocytose, l'hémophilie, l'anémie, la leucémie, le SIDA (2 Pts), le tétanos (2 Pts)

3. Souligne dans cette liste les maladies respiratoires :

Les pneumonies (2 Pts), la tuberculose pulmonaire (2 Pts), le cancer des poumons (2 Pts), le SIDA, l'asthme (2 Pts)

4. Entoure les maladies liées à la digestion : le marasme (2 Pts), la tuberculose pulmonaire, le kwashiorkor (2 Pts), l'avitaminose (2 Pts), le scorbut (2 Pts), le rachitisme, le bérubéri (2 Pts), l'anémie, les lipides

5. Complète le schéma des possibilités de transfusion sanguine par les flèches qu'il faut :



ORTHOGRAPHE 8 (20 PTS)

Dictée N°8 : Un élève exemplaire

Mon ami Moussa est un élève exemplaire. Il est toujours attentif en classe et participe activement aux discussions. Ses notes sont excellentes dans toutes les matières, et il aide souvent ses camarades qui ont des difficultés. Il montre un excellent esprit d'équipe et inspire les autres par son dévouement et sa discipline. Moussa est véritablement un modèle pour nous tous.

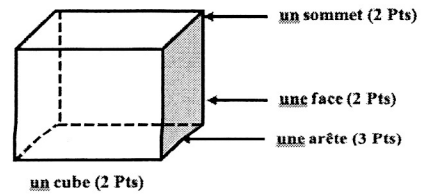
BARÈME : 1 faute grammaticale ou de conjugaison enlève 2 points ; 1 faute d'orthographe enlève 1 point

MATHÉMATIQUES 8

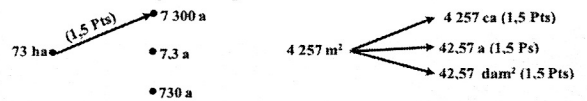
Exercice 1 : Effectue les opérations suivantes (12 points)

8 2 3 9 7 2 + 7 6 9 1 5 ----- 9 0 0 8 8 7	7 8 - 9,1119 ----- 6 8,8881	1 0 0 5 5 x 9,9 ----- 9 0 4 9 5 9 0 4 9 5 ----- 9 9 5 4 4,5	9 7 3,9 3 1 - 7 5 ----- 2 2 3 - 1 5 0 ----- 0 7 3 9 - 6 7 5 ----- 0 6 4 3 - 6 0 0 ----- 0 4 3 1 - 3 7 5 ----- 0 5 6 0 - 5 2 5 ----- 0 3 5 0 - 3 0 0 ----- 0 5 0	7 5 ----- 1 2,9 8 5 7 4
(3 Pts)	(3 Pts)	(3 Pts)	(3 Pts)	(3 Pts)

Exercice 2 : Complète la figure ci-dessous avec : une face, une arête, un sommet, un cube. (9 points)



Exercice 3 : Complète (9 points) :



4791 mn = 3 j 7 h 51 mn (3 Pts)

Exercice 4 : (20 points)

A) Coche la case de la bonne réponse.

1 - Le demi-périmètre d'un terrain carré est 408m. Son périmètre est : 516m 716m 816m

2 - Le périmètre d'un cercle de diamètre 35 m avec π = 3 est : 105 m² 105 m 105 m³

B) a) Je convertis en Kg : 3,5 t = 3500 kg et 2 t = 2000 kg. (2 Pts)

la masse des marchandises en kg est : 3500 - 2000 = 1500 (3 Pts)
la masse des marchandises en kg est 1 500 kg (2 Pts)

b) Manioc 150 } 1 500 kg (3 Pts)
Banane 150 }

c) la masse de la manioc est : (1 500 + 150) : 2 = 825 (2 Pts)
la masse du manioc est 825 kg (1,5 Pts)

d) la masse de la banane est : 825 - 150 = 675 (2 Pts)
la masse de la banane est : 675 kg (1,5 Pts)


EXAMEN 9

EXPLOITATION DE TEXTE 9 / 50 Pts

I-COMPRÉHENSION

/20

1. C'est un texte descriptif (1 Pt)
2. le parc national du Banco (2 Pts)
3. Une forêt classée, un cadre exotique et un lieu de détente. (3 Pts)
4. Relie chaque expression à son sens :



5. a) Ajoute un suffixe au mot «national» pour former un nom féminin : nationalité (3 Pts)

b) Une phrase correcte avec le mot « nouveau » (2 Pts)

II-MANIÈRE DE LANGUE

/20

1. La coiffeuse du village est installée (1 Pt) non loin d'une case. Son corps est caché (Caché) (1 Pt) par un pagne. Son visage est orné (orné) (1 Pt) de traits blancs tracés (1 Pt) avec du kaolin. Son cou est cerclé (cerclé) (1 Pt) de perles.

2. II : Pronom personnel (1 Pt), sujet du verbe « existe » (1 Pt)

Aux visiteurs : GN (1 Pt), COI du verbe « procure » (1 Pt)

larges : Adjectif qualificatif (1 Pt), épithète de « marres » (1 Pt)

3. a) Un discours direct (2 Pts)

b)- « Le guide explique aux touristes que c'était un cadre plaisant qui offrait un ombrage toujours frais même pendant les mois de sécheresse. » (2 Pts)

4. a) Le verbe est « procurer » (1 Pt)

b) Futur simple : « Le Parc National du Banco procurera beaucoup de plaisir aux visiteurs » (1 Pt)

L'imparfait : « Le Parc National du Banco procurait beaucoup de plaisir aux visiteurs » (1,5 Pts)

Passé simple : « Le Parc National du Banco procura beaucoup de plaisir aux visiteurs » (1,5 Pts)

III-EXPRESSION ÉCRITE

/10

- 1- Un texte informatif (1 pt)

- 2- a) La ville d'Abidjan (1 pt)

b) Ville urbanisée : Ville industrielle : ville touristique (2 pts)

Fond (les informations pour convaincre) (2 pts)

Forme (le nombre de fautes faites) (2 pts)

Présentation (la propreté du texte émis) (2 pts)

AEM 9 / 50 Pts

I - HISTOIRE-GÉOGRAPHIE

/10

- 1 - Écris Vrai ou Faux :

a) Félix Houphouët-Boigny est le premier Président de la République de Côte d'Ivoire : **Vrai (1 Pt)**

b) La Côte d'Ivoire est devenue indépendante le 7 août 1960 : **Vrai (1 Pt)**

c) La constitution ivoirienne a été adoptée avant l'indépendance de la Côte d'Ivoire : **Faux (1 Pt)**

- 2 - Écris Vrai ou Faux:

a) L'exploitation forestière et le bois sont une richesse pour la Côte d'Ivoire : **Vrai (1 Pt)**

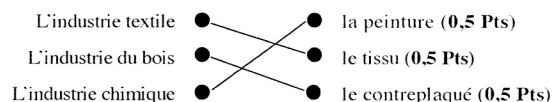
b) Une trop forte exploitation et les défrichements constituent un danger pour la forêt ivoirienne : **Vrai (1 Pt)**

c) L'exploitation forestière est nulle dans le Nord de la Côte d'Ivoire : **Faux (1 Pt)**


d) la SODEFOR est chargée d'organiser le reboisement : **Vrai (1 Pt)**

e) Le gouvernement a créé un permis d'exploitation de la forêt : **Vrai (0,5 Pts)**

- 3- Relie le type d'industrie à son produit :



- 4- Relie le type de commerce à son mode opératoire :



II - EDHC

/10

- 1- Coche les bonnes réponses : On parle d'une grossesse précoce:

a) Quand les seins et le ventre de la femme enceinte augmentent de volume

b) Quand la femme enceinte dort beaucoup

c) Quand la femme enceinte vomit beaucoup

d) Quand la jeune fille enceinte a moins de 18 ans (2 Pts)

- 2- Trouve des noms de métiers à partir des mots suivants :

Agriculture : **agriculteur/ agricultrice; (1,5 Pt)**

coiffure : **coiffeur / coiffeuse (1,5 Pt)**

Sculpture : **sculpteur/ sculptrice (1,5 Pt);**

couture : **couturier/ couturière (1 Pt)**

Style : **styliste (1,5 Pt);**

football : **footballeur/ footballeuse (1 Pt)**

1- a) Les moyens naturels de défense de l'organisme : les globules blancs, la peau, l'hygiène corporelle (2 Pts)

b) Les moyens artificiels de défense de l'organisme : les sérums, les vaccins, les autres médicaments (2 Pts)

2 - Écris Vrai ou Faux :

-l'asthme est une maladie de l'appareil respiratoire : **Vrai (2 Pts)**
 -le cancer des poumons est une maladie de l'appareil respiratoire **Vrai (2 Pts)**

-la pratique du sport est une règle d'hygiène de l'appareil respiratoire **Vrai (2 Pts)**

-la cigarette permet à l'appareil respiratoire d'éviter des maladies : **Faux (2 Pts)**

3- Complète la phrase avec le mot qui convient : un ennemi - une anémie

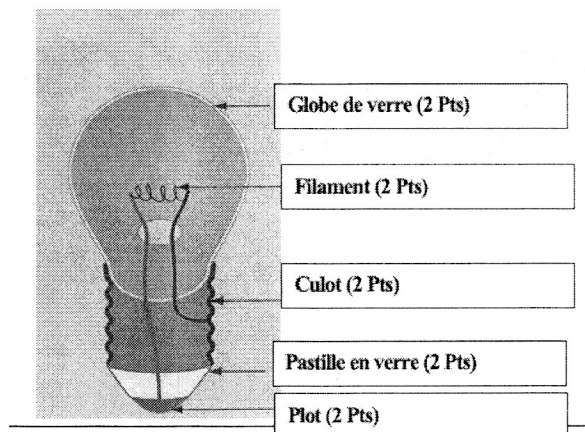
-Le manque de sang dans le corps s'appelle **une anémie (2 Pts)**

4- Écris Vrai ou Faux : Lors d'une défense naturelle de l'organisme,

a) la plaie cicatrise vite quand les globules blancs capturent et tuent les microbes : **Vrai (3 Pts)**

b) la plaie s'infecte davantage quand les microbes sont vainqueurs : **Vrai (3 Pts)**

5- Complète le schéma de l'ampoule à l'aide des noms suivants : filament – plot – globe de verre - culot – pastille en verre



ORTHOGRAPHE 9 (20 PTS)

Dictée N°9 : Une bonne maîtresse

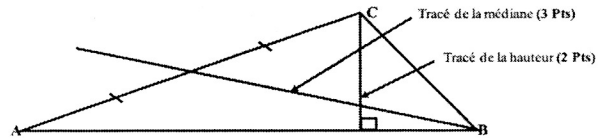
Notre maîtresse, Mme Jeanne, est vraiment exceptionnelle. Elle explique les leçons de manière claire et engageante. ce qui nous aide à mieux comprendre les concepts. Elle est patiente et encourageante, toujours prête à aider ceux qui ont des difficultés. Elle s'intéresse également à notre bien-être et nous soutient dans nos projets personnels. Grâce à elle, nous nous sentons motivés et en confiance pour apprendre chaque jour davantage.

BARÈME : 1 faute grammaticale ou de conjugaison enlève 2 points ; 1 faute d'orthographe enlève 1 point

Exercice 1 : Effectue les opérations (12 points)

102459 +767625 ----- 870084 (3 Pts)	$\frac{78}{7} \times 7 = \frac{546}{7}$ (3 Pts)	$\frac{78}{23} \times \frac{7}{5} = \frac{546}{115}$ (3 Pts)	20075 -17 ----- 030 -17 ----- 137 -136 ----- 0015 -00 ----- 150 -136 ----- 140 -136 ----- 4 (3 Pts)	17 ----- 1180,88 (3 Pts)
---	--	---	--	---------------------------------------

Exercice 2 : (9 points)

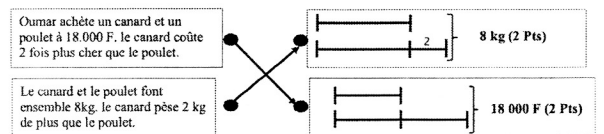


- a) Un triangle rectangle a un angle droit **vrai (1 Pt)**
- b) Un triangle isocèle a deux côtés de même mesure **vrai (1 Pt)**
- c) Un triangle isocèle a trois côtés de même mesure **faux (1 Pt)**
- d) Un triangle équilatéral à trois angles de même mesure **vrai (1 Pt)**

Exercice 3 : (9 points) Complète.

- a) 68945,45 dm = **6,894545 km (1 Pt) = 68,94545 hm (1 Pt) = 689,4545 dam (1 Pt) = 6894,545 m (1 Pt)**
- b) 9854,32 dam² = **98,5432 hm² (1,5 Pts) = 985432 m² (1,5 Pts)**
- c) 678.34 m² = **6783400 cm² (1 Pt) ;**
- d) 2.05 km = **205000 cm (1 Pt)**

Exercice 4 : (20 points)



- 1. le prix du poulet est : 18 000 : 3 = 6 000 (2,5 Pts) ; le prix du poulet est : 6 000 F (1,5 Pts)
- 2. le prix du canard est : 6 000 × 2 = 12 000 (2,5 Pts) ; le prix du canard est : 12 000 F (1,5 Pts)
- 3. la masse du poulet est : (8 - 2) : 2 = 3 (2,5 Pts) ; la masse du poulet est : 3 kg (1,5 Pts)
- 4. la masse du canard est : 3 - 2 = 5 (2,5 Pts) ; la masse du canard est : 5 kg (1,5 Pts)

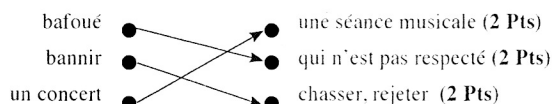
EXAMEN 10

EXPLOITATION DE TEXTE 10 / 50 Pts

I-COMPRÉHENSION /20

- C'est un texte informatif (3 Pts)
- L'enfant de la rue ; Le non-respect des droits des enfants (3 Pts)
- Il faut respecter les droits de l'enfant de la rue parce que c'est un être comme les autres. (3 Pts)

4. Relie chaque expression à son sens :



5-a) Le contraire du mot «infranchissable» : Franchissable (3 Pts)

b) Une phrase correcte avec le mot « décent (e) » : (2 Pts)

II-MANIEMENT DE LANGUE /20

1- Ce matin, les marchandes ont vendus (vendu) (1 Pt) beaucoup de légumes. Elles ont offert (1 Pt) quelques fruits à leurs meilleures clientes. Une cliente a (a) (1 Pt) marchandée (marchandé). (1 Pt)

2-Trouve la nature et la fonction des mots et groupes de mots soulignés dans le texte :

bafoués : Participe passé, attribut de « les droits de l'homme » (2 Pts)

rue : Nom commun (1 Pt). COD de « l'enfant » (2 Pts)

une vie décente : Groupe nominal (1 Pt). COD de « assure » (1 Pt)

3- a) Cette phrase est à la voix active (1 Pt)

b) La phrase à la voix passive est : **Il est séparé des autres enfants par un mur infranchissable** (2 Pts)

4- « L'enfant de la rue a besoin du soutien de l'adulte.»

a)- l'infinitif du verbe de cette phrase est : « avoir » (1 Pt)

b)- Futur simple : « L'enfant de la rue **aura** besoin du soutien de l'adulte.» (1 Pt)

Imparfait : « L'enfant de la rue **avait** besoin du soutien de l'adulte.» (2 Pts)

Passé simple : « L'enfant de la rue **eut** besoin du soutien de l'adulte.» (2 Pts)

III - EXPRESSION ÉCRITE /10

1-Un texte informatif (1 pt)

2-a) Le titre proposé est : **La population de la Côte d'Ivoire** (1pt)

b) **La composition de la population ivoirienne ; Les ethnies de la Côte d'Ivoire ; La jeunesse ivoirienne** (2 pts)

Fond (les informations pour convaincre) (2 pts)

Forme (le nombre de fautes faites) (2 pts)

Présentation (la propreté du texte émis) (2 pts)

AEM 10 / 50 Pts

I - HISTOIRE-GÉOGRAPHIE /10

1- a) La conférence de Brazzaville :1944 (0,5 Pts) ; b- L'Union

française :1946 (0,5 Pts) ; c) La loi cadre :1956 (0,5 Pts) d)

La Communauté franco-africaine : 1958 (0,5 Pts) : e)

L'indépendance : 7/8/1960 (0,5 Pts)

2- Parmi les étapes de la décolonisation ci-dessus, relève la lettre qui désigne :

- l'étape qui a permis à Félix Houphouët-Boigny d'être nommé ministre dans le gouvernement Français : **b (0,5 Pts)**

- l'étape qui a interdit de façon absolue le travail forcé : **b (0,5 Pts)**

- l'étape qui a été préparée par Gaston Defferre et Félix Houphouët-Boigny : **c (0,5 Pts)**

- l'étape qui affirme que les Africains et les Européens sont égaux en droit et ont les mêmes devoirs : **c (0,5 Pts)**

3- Classe les différents exemples d'industries :

a)- Les industries chimiques : **les parfumeries (0,5 Pts)**

b)- Les industries mécaniques : **les montages de véhicules (0,5 Pts)**

c)- Les industries agro - alimentaires : **les huileries (0,5 Pts)**

d)- Les industries textiles : **les filatures de coton (0,5 Pts)**

e)- Les industries du bois et du bâtiment : **les scieries (0,5 Pts)**

4-Classe les éléments suivants en deux groupes : le cacao, le café, les automobiles, les machines, le bois, les engrais, la banane, l'anacarde, le caoutchouc.

a) **Les importations ivoiriennes** : les automobiles, les machines, les engrais, le caoutchouc. (1,5 Pts)

b) **Les exportations ivoiriennes** : le cacao, le café, le bois, la banane, l'anacarde, (1,5 Pts)

II-EDHC /10

1-Ecris Vrai ou Faux :

a) Un agriculteur ne peut jamais devenir éleveur **Faux (2 Pts)**

b) L'agropastorale associe l'agriculture à l'élevage pour une même exploitation **Vrai. (2 Pts)**

2- Coche la bonne réponse : **Pour monter un projet d'élevage, il faut...**

a) faire une étude de marché (2 Pts); b) déterminer le site (2 Pts) ; c) estimer la durée du projet (2 Pts)

III- SCIENCES ET TECHNOLOGIE / 30

1- Nettoyer la plaie en utilisant du coton mouillé et du savon (2 Pts):

- désinfecter la plaie avec du mercurochrome ou de l'alcool à 90° (2 Pts) :

- protéger la plaie avec un pansement : maintenir le pansement par un bandage (2 Pts)

2- Complète le tableau des éléments d'un circuit électrique :

pile	Ampeule	Interrupteur (2 Pts)	fil conducteur

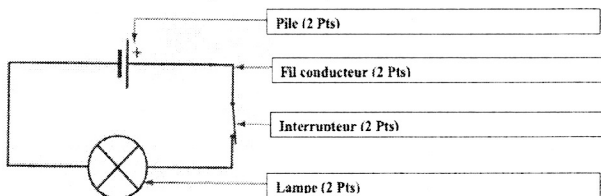
3- Souligne les intrus : Les éléments d'un circuit électrique domestique sont : **le compteur, le disjoncteur, les fusibles,**

le pylône, (2 Pts) les barrages hydroélectriques, (2 Pts)
les appareils électrique (2 Pts)

4- le fer (1 Pt) ; le cuivre (1 Pt)

5- Complète la phrase : Lorsque le plateau de la balance est vide, l'aiguille est au point Zéro (2 Pts)

6- Complète le schéma du montage électrique avec les noms suivants : Pile, Interrupteur ; Lampe, Fil conducteur



ORTHOGRAPHE 10 (20 PTS)

Dictée N°10 : La récompense

La Directrice est toute étonnée et toute heureuse de constater que le dernier de la classe fait désormais de véritables progrès. L'encourageant, elle décide de le récompenser en changeant ses chaussures toutes usées. A la vue de ses nouvelles chaussures toutes brillantes, son élève est tout content et lui promet de faire tous ses efforts pour progresser davantage.

BARÈME : 1 faute grammaticale ou de conjugaison enlève 2 points ; 1 faute d'orthographe enlève 1 point

MATHÉMATIQUES 10 (50 PTS)

Exercice 1 : Effectue les opérations (12 points)

$\begin{array}{r} 989\ 899 \\ + 898\ 989 \\ \hline 1\ 888\ 888 \end{array}$	$\begin{array}{r} 100\ 010 \\ - 98\ 989 \\ \hline 1\ 021 \end{array}$	$\begin{array}{r} 786\ 789 \\ \times 505 \\ \hline 3933945 \\ 000000 \\ \hline 3933945 \\ \hline 397328445 \end{array}$	$\begin{array}{r} 57,97 \\ - 43,4 \\ \hline 14,57 \\ - 13,02 \\ \hline 01,550 \\ - 1,519 \\ \hline 0,031 \end{array}$	$\begin{array}{r} 2,17 \\ 26,7 \\ \hline \end{array}$
(3 Pts)	(3 Pts)	(3 Pts)	(3 Pts)	

Exercice 2 : (9 points)

- Le point O est le centre du cercle (3 Pts) ; Le segment [OB] est un rayon du cercle (2 Pts)

- Le segment [CF] est un diamètre du cercle (2 Pts) ; Le segment [CE] est une corde du cercle (2 Pts)

Exercice 3 : (9 points)

a) 215,45 cm = 2,1545 m (2 Pts) ; b) 33,32 dam = 333 200 mm (3 Pts)

c) 1,2 hm = 1 200 dm (2 Pts) ; d) 2,05 km = 205 000 cm (2 Pts)

Exercice 4 : (20 points)

1- Oui (2 Pts) ;

2- car sa représentation est une droite qui passe par 0 (2 Pts)

3- En te servant du graphique, complète le tableau de proportionnalité suivant :

: 2	Temps en minutes	10 (2 Pts)	30	20 (2 Pts)	40	60 (2 Pts)	X 2
	Nombre d'œufs pondus	2	6 (2 Pts)	4	8 (2 Pts)	30	

(1 Pt)

(1 Pt)

4- En utilisant les opérateurs, calcule :

a) Le nombre d'œufs pondus en 50 minutes est $50 : 2 = 25$ (2 Pts)

b) Le temps de ponte de 70 œufs est $\frac{70 \times 10}{2} = 350$ (2 Pts)