



SUJETS

mon journal de compositions

Primaire
CP2



Fomesoutra.com
ça soutra !



Fomesoutra.com

COMPOSITION N°1 DU 6 décembre 2018

1 - ECRITURE

tr.....

ur.....

2 - COPIE : je copie le mot

Un livre.....

3 - EXPRESSION ECRITE

a- Complète les phrases avec les mots suivants : **sucre** - **fruits**

Papa met du dans son café.

Maman achète des au marché.

b- **Reconstruis la phrase avec les mots suivants :**

L'herbe - la chèvre - de - broute

4 - ORTHOGRAPHE

Complète les mots avec : pr - tr - vr - br

Une mon...e - une chè...e - la ...ison - une ...ebis.

5-DICTEE

.....
.....

6-EDHC

Mets une croix (X) devant la bonne réponse.

L'hymne national de la Côte d'Ivoire s'appelle.

On chante l'hymne national à l'école.

On chante l'hymne national au champ.

On chante l'hymne national au camp militaire.

MATHEMATIQUES

1- J'écris en chiffres ou en lettres

12=.....

Treize=.....

14=.....

Seize=.....

2- Range les nombres du plus petit au plus grand

6 – 16 – 3

.....

3- Mets le signe < ; >

15.....9

4.....11

4- calcule.

4+8=.....

9+8=.....

6+5+5=.....

COMPOSITION N°1 DU 19 novembre 2019

1 - ECRITURE

br.....

pr.....

2 - COPIE : je copie le mot

Un prêtre.....

3 - EXPRESSION ECRITE

a- Complète les phrases avec les mots suivants : **ouvre** - **propre**

L'apprenti porte une tenue

Lavri son livre.

b- Remets les syllabes en ordre pour obtenir des mots

pre - té - pro \longrightarrow la

fet - pré \longrightarrow le

4 - ORTHOGRAPHE

a- Complète les mots avec : br - pr - vr

Un ap...enti - un ...as - un ar...e

b- Classe les mots dans le tableau ci-dessous

Un livre - un trottoir - un prêt - une brebis

Tr	Pr		Vr	br

5-DICTEE

.....
.....

6-EDHC

Mets une croix (X) devant la bonne réponse.

L'hymne national de la Côte d'Ivoire s'appelle.

Salut ô terre

L'Abidjanaise

MATHEMATIQUES

1- J'écris en chiffres ou en lettres

12=.....

quinze=.....

17=.....

onze=.....

2- Calcule

$9 + 8 =$

$10 + 6 =$

3- Complète

$13 + \dots = 20$

$\dots + 4 = 16$

4- Ecris les nombres suivants dans les tableaux de numérations.

6 dizaines et 4 unités

D	u

5 dizaines et 0 unité

d	U

COMPOSITION N°1 DU 1^{er} décembre 2020

1 - ECRITURE

ê.....

u.....

vrai.....

2 - COPIE : je copie le mot

la tête.....

ali a un ami.....

3 - EXPRESSION ECRITE

a- Reconstitue la phrase.

papa – pipe – une – fume .

.....

b- Complète les mots avec : *d – p – n – m*

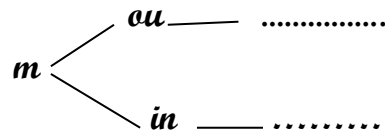
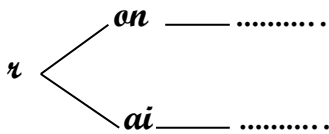
Une gour....e ; uneatte ; unot ; un a....i

4 - ORTHOGRAPHE

a- Complète les syllabes où il y a « ai » ou « ê »

Ve - vrai - ta - têt

b- Ecris les syllabes



5-DICTEE

.....
.....

6-EDHC

Mets une croix (X) devant la case qui montre la bonne réponse.

- 1) Un enfant a droit à aller à l'école.
- 2) Un enfant a droit à s'opposer au cher de la classe.
- 3) Un enfant a droit à se soigner lorsqu'il est malade.

MATHEMATIQUES

1- Ecris en chiffres

treize =

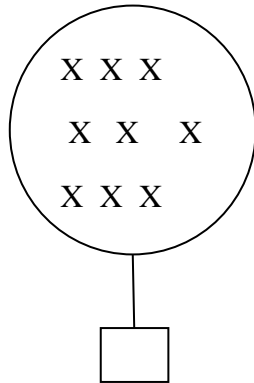
dix = *

2- Ecris en lettres

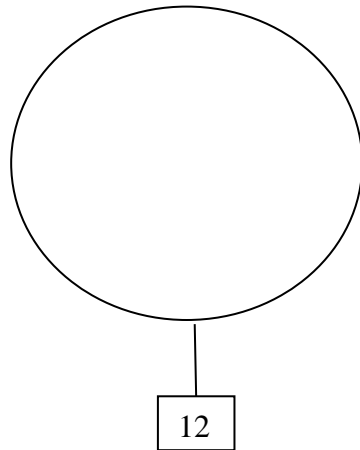
16 =

11 =

3- Ecris l'étiquette nombre.



4- Lis l'étiquette nombre et dessine le nombre de croix.



COMPOSITION N°1 DU 30 novembre 2021

1 - ECRITURE

fr.....

un coffre.....

2 - COPIE : je copie le mot

le tige sort ses griffes.

.....

3 - EXPRESSION ECRITE

a- Entoure le mot où tu vois « dr »

Un drapeau le sucre un dromadaire

b- Complète les mots avec : *vre – cra – tri*

Unbe ; le li... ; uncot

4 - ORTHOGRAPHE

Classe les mots suivants dans le tableau

Un arbre - le premier - le sucre - un tigre

gr	Cr	Pr	br

5-DICTEE

.....

.....

6-EDHC

Mets une croix (X) devant la case qui montre la bonne réponse.

- 4) la couleur du drapeau ivoirien est orange blanc vert.
- 5) Je dois respecter le règlement intérieur.
- 6) je viens en classe en retard.

MATHEMATIQUES

1- Ecris en chiffres

treize =

vingt-six =

2- Ecris en lettres

12 =

37 =

3- Ecris l'étiquette nombre.

4 dizaines et 7 unités

D	U

6 dizaines et 5 unités

d	U

0 dizaines et 5 unités

d	U

COMPOSITION N°2 DU 29 janvier 2019

1 - ECRITURE

cl.....

une cloche.....

2 - COPIE : je copie la phrase

la clé est sur la table.

.....

3-EXPRESSION ECRITE

a- Complète les phrases avec les mots suivants : *une table - une perdrix - un flacon*

Papa a tué

Le menuisier fabrique

Flavie pose *Sur la table.*

b- Ecris une phrase avec les mots suivants :

bruno - une - fabrique - table

.....

4 - ORTHOGRAPHE

Complète les mots avec : *dr - gr - cl - ll*

Une per...ix - une ...é - la ta...e - un ...is.

5-DICTEE

.....

.....

6-EDHC

Je dessine une croix (X) dans la case qui montre le bon comportement.

Fofié jette des papiers dans la classe.

Beda ne mange jamais en classe.

MATHEMATIQUES

1- J'écris en chiffres ou en lettres

Soixante-dix=.....

Quatre-vingt-six=.....

50=.....

100=.....

2- Ecris le nombre dans le tableau.

--	--	--	--	--	--	--	--	--	--

dizaines	unités

3- Complète

73=.....dizainesunités

8=dizainesunités

..... = 4 dizaines 6 unités

4- Mets le signe < ; > ou = .

22.....40

75.....53

14.....12+2

COMPOSITION N°2 DU 21 janvier 2020

1 - ECRITURE

cl.....

bl.....

2 - COPIE : je copie la phrase

une flèche

.....

3-EXPRESSION ECRITE

a- Complète les phrases avec les mots suivants : *cloche - sucre - drapeau*

Drissa met du dans son café.

André monte le

Il est midi, la sonne.

b- Reconstitue la phrase avec les mots suivants :

ses - sort - griffes - tigre - le

.....

4 - ORTHOGRAPHE

Complète les mots avec : *cin - bl - cl - gr*

Une on...e - une ta...e - la p...ture - un ti...e.

5-DICTEE

.....

.....

6-EDHC

Mets une croix (X) devant le bon comportement.

Nina demande la parole avant de parler.

Bolou bavarde en classe.

MATHEMATIQUES

1- J'écris en chiffres ou en lettres

Trente-six=.....

Cinquante-et-un=.....

27=.....

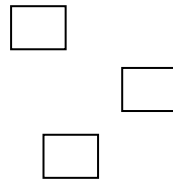
42=.....

2- Ecris le nombre dans le tableau.

--	--	--	--	--	--	--	--	--	--

--	--	--	--	--	--	--	--	--	--

--	--	--	--	--	--	--	--	--	--



d	u

3- Complète

69 =dizainesunités

4- Mets le signe < ; > ou = .

40 + 1.....41

60.....63

49.....44

COMPOSITION N°2 DU 19 janvier 2021

1 - ECRITURE

pl.....

fl.....

2 - COPIE : je copie la phrase

une cloche

.....

3-EXPRESSION ECRITE

c- Complète les phrases avec les mots suivants : *goudron - glace - classe*

Les élèves entrent en

Les ouvriers versent lesur la route.

Gladissee mange une

d- Reconstitue la phrase avec les mots suivants :

ses - sort - griffes - tigre - le

.....

4 - ORTHOGRAPHE

a) Entoure « **fla** » dans les mots suivants :

Une flamme - le flacon

b) Ecris les syllabes : *cl - ll - pl - gl*

Une ...ace - une ...ante - le cer...e - du sa...e.

5-DICTEE

.....

.....

6-EDHC

Mets une croix (X) devant le bon comportement.

Nina demande la parole avant de parler.

Bolou bavarde en classe.

MATHEMATIQUES

5- J'écris en chiffres ou en lettres

Vingt-sept=.....

Quarante-deux=.....

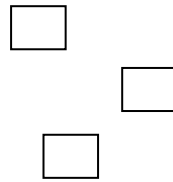
36=.....

51=.....

6- Ecris le nombre dans le tableau.

--	--	--	--	--	--	--	--	--	--

--	--	--	--	--	--	--	--	--	--



d	u

7- Complète

96 =dizainesunités

8- Mets le signe < ; > ou = .

69.....96

27.....13

70.....60 + 10

COMPOSITION N°2 DU 18 janvier 2022

1 - ECRITURE

ex.....

un
boucher.....

.....

2 - COPIE : je copie la phrase

Blandine arrose les fleurs.

.....

.....

3-EXPRESSION ECRITE

Complète les phrases avec les mots suivants : *ain - in - eu - ein*

Un d....don - un av.....gle - la p.....ture - la m.....

4 - ORTHOGRAPHE

Classe les mots suivants dans le tableau : *ex - ez*

Un boucher - le nez - partager - dansez - un goyavier

<i>Ex</i>	<i>ez</i>

5-DICTEE

.....

.....

6-EDHC

Mets une croix (X) devant la case de la bonne réponse.

- a- lever le doigt avant de prendre la parole.
- b- Bavarder lorsque son camarade parle.
- c- Se taire pour écouter son camarade qui parle.
- d- Enfant, ma place est à l'école.

MATHEMATIQUES

1- Range du plus grand au plus petit :

36 - 86 - 46

.....

2- Range du plus petit au plus grand :

36 - 86 - 46

.....

3- Barre les intrus dans le rangement suivant :

52 - 54 - 43 - 56 - 58 - 22

4- Ecris en chiffres ou en lettres

Quatre-vingt-deux =

76 =

COMPOSITION N°3 DU 25 mars 2019

1 - ECRITURE

ien.....

un chien.....

2 - COPIE : je copie la phrase

Alain va à la pompe.

.....

3-EXPRESSION ECRITE

c- Complète avec : *œu – eu*

Une s...x

un pn...

d- J' écris une phrase correcte avec les mots suivants :

balaie - mère - ma - maison - la

.....

4 - ORTHOGRAPHE

e- Complète les mots avec : *om – am – ion – iè*

L'...bulance – un p...pier - un cam... - des p ...ces.

f- Je complète avec « *boutiquier* » ou « *boulangier* »

Le Vend des biscuits.

5-DICTEE

.....

.....

6-EDHC

Mets une croix (X) dans la case qui montre le bon comportement.

1-Je respecte la servante.

2-Je mange en bavardant.

3-Je ne participe pas aux travaux de la maison.

4-Je dis bonjour à papa et à maman au réveil.

MATHEMATIQUES

4- J'écris en chiffres ou en lettres

Soixante-dix=.....

95=.....

5- Trouve ce qui manque.

$$75 = 50 + \dots\dots\dots$$

6- Compare les nombres à l'aide de < ; > ou =

73.....70

70+7.....77

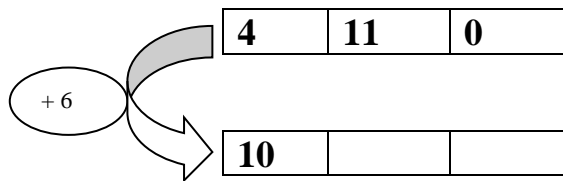
7- Calcule

$$\begin{array}{r} 35 \\ + 11 \\ \hline \end{array}$$

$$\begin{array}{r} 42 \\ + 33 \\ \hline \end{array}$$

$$\begin{array}{r} 45 \\ + 22 \\ \hline \end{array}$$

8- Complète le tableau



COMPOSITION N°3 Du 10 mars 2020

1 - ECRITURE

œu

un œuf

2 - COPIE : je copie la phrase

Apo ramasse des plumes.

.....

3-EXPRESSION ECRITE

a- Complète avec : *ain – ion*

Une tém.....

la composit.....

b- J' écris une phrase correcte avec les mots suivants :

ses - kati – ongles – coupe

.....

4 - ORTHOGRAPHE

Complète les mots avec : *gl – fl – bl – gi*

Uneèche – le ta....eau - une bou....e - la rèe.

5-DICTEE

.....

.....

6-EDHC

a- Mets une croix (X) dans la case qui montre le bon comportement.

Yao refuse de nettoyer la cour de l'école.

Kalou respecte la décision du groupe.

Irié traverse la route en passant par les bandes blanches.

b- Entoure les symboles de la Côte d'Ivoire dans la liste.

L'école – l'Abidjanaise – le drapeau national – la girafe

MATHEMATIQUES

1- J'écris en chiffres ou en lettres

Soixante-seize=.....

85=.....

2- Trouve ce qui manque.

$$75 = 50 + \dots\dots\dots$$

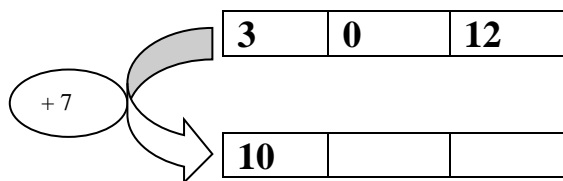
3- Mets le signe < ; > ou =

23.....20 ; 25 20 + 5 ; 3883

4- Calcule

$$\begin{array}{r} 40 \\ + \\ 15 \\ \hline \end{array} \qquad \begin{array}{r} 73 \\ + \\ 12 \\ \hline \end{array}$$

5- Complète le tableau



COMPOSITION N°3 Du 9 mars 2021

1 - ECRITURE

gl

une glace

2 - COPIE : je copie la phrase

dolo jongle avec le ballon .

.....

3-EXPRESSION ECRITE

a- Entoure les mots où on voit: *gl*

Une glace - un groupe - un aigle

b- Complète les mots avec : *dr - fr - gr - gl*

Une rè.....e ; unapeau ; du vinai.....e ; unont

4 - ORTHOGRAPHE

Classe les mots suivants dans le tableau : *gl - fl - bl - gi*

Un dragon - un aigle - un groupe - un coffre - un front

<i>dr</i>	<i>gr</i>	<i>fr</i>	<i>gl</i>

5-DICTEE

.....
.....

6-EDHC

Mets une croix (X) dans la case qui montre le bon comportement.

1- dire bonjour à papa et à maman au réveil.

2- tirer la queue des chiens.

3- Lorsque je vois un fil électrique qui prend, je le touche.

MATHEMATIQUES

1- Ecris en chiffres ou en lettres

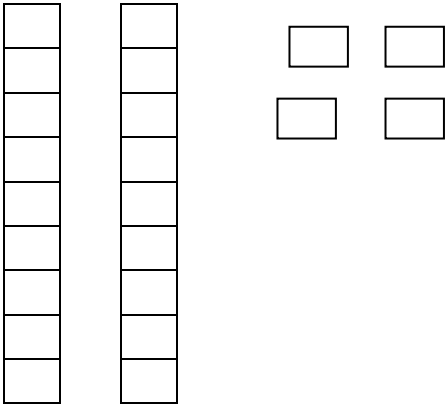
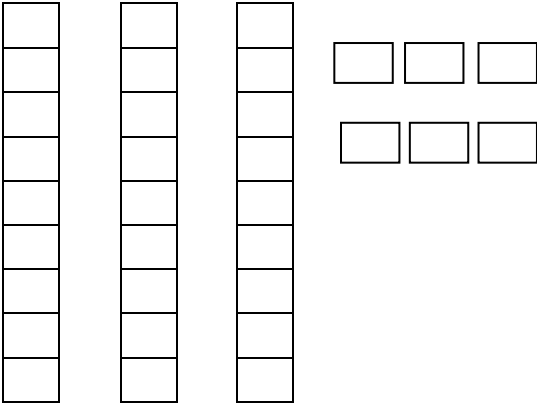
Soixante = Soixante-quinze =

2- Ecris en lettres

80 =

100 =

3- Ecris le nombre de dizaines et d'unité.

	
.....dizaines etunitésdizaines etunités

COMPOSITION N°3 Du 8 mars 2022

1 - ECRITURE

qu

une boutique

2 - COPIE : je copie la phrase

Blandine arrose les fleurs.

.....

3-EXPRESSION ECRITE

Complète les mots avec : *gi - ké - ge - zon - que*

Une ca..... ; unpi ; bou.....e ; le ga..... ; une bouti.....

4 - ORTHOGRAPHE

Classe les mots suivants dans le tableau :

Une moustiquaire – la kora – un perroquet – un kangourou – un képi

<i>k</i>	<i>que</i>

5-DICTEE

.....
.....

6-EDHC

Mets une croix (X) dans la case qui montre le bon comportement.

1- avoir du respect pour la servante.

2- manger en barvadant.

3- Ne pas participant aux activités de la maison.

4- Dire bonjour à papa et à maman au réveil.

MATHEMATIQUES

EXERCICE 1

$$\begin{array}{r} 21 \\ + \\ \hline 64 \end{array}$$

$$\begin{array}{r} 75 \\ + \\ \hline 23 \end{array}$$

$$\begin{array}{r} 14 \\ + \\ \hline 3 \end{array}$$

EXERCICE 2

1- Ecris en chiffres ou en lettres

Soixante-quinze =

80 =

2- complète.

$$8 + \dots = 18$$

$$\dots + 6 = 10$$

COMPOSITION N°4 DU 25 Mai 2018

1 - ECRITURE

ien.....

un chien.....

2 - COPIE : je copie la phrase

Ali pousse une brouette.

.....

3-EXPRESSION ECRITE

a- Je complète les phrases avec les mots suivants :

l'ambulance - une opération - la viande

Ali achète de

.....*conduit le blessé à l'hôpital.*

Dion pose

b- écris correctement la phrase correcte avec les mots suivants :

il - une - monte - sur - échelle

.....

4 - ORTHOGRAPHE

Complète les mots avec : *ien - eille - ier - elle - in*

Un ch..... - un cah..... - une ab..... - un chem..... - une p.....

5-DICTEE

.....

.....

6-EDHC

Réponds par VRAI ou FAUX.

1-Je traverse la route quand le feu est rouge.

2- Je traverse la route quand le feu est vert ou orange.

MATHEMATIQUES

1- J'écris en chiffres ou en lettres

Soixante-dix-neuf =

quatre-vingt-dix =

59 =

36 =

2- Compare les nombres à l'aide de < ; > ou =

42.....32

35.....34+1

59.....69

3- J'écris la somme en produit

.....	50	51
-------	-------	----	----	-------

4- Je calcule

$$\begin{array}{r} 23 \\ + \\ 6 \\ \hline \end{array}$$

$$\begin{array}{r} 35 \\ + \\ 30 \\ \hline \end{array}$$

$$\begin{array}{r} 57 \\ + \\ 32 \\ \hline \end{array}$$

COMPOSITION N°4 DU 25 juin 2019

1 - ECRITURE

ein.....

une peinture.....

2 - COPIE : je copie la phrase

Le peintre peint mon école.

.....

3-EXPRESSION ECRITE

c- Je Complète les phrases avec les mots suivants : *du sable - un drapeau - la récréation*

Il est 10 heures, la cloche sonne c'est

Le maçon utilise le ciment etpour construire une maison.

Tous les lundis les élèves saluentavant d'entrer en classe.

d- écris correctement la phrase correcte avec les mots suivants :

au malade - l'infirmier - une piqûre - fait

.....

4 - ORTHOGRAPHE

a- Complète les mots avec : *ier - ien - ion - erre - elle*

Une tru..... - un polic..... - un v...à boire - une plantat..... un ivoir

b- Je complète avec « *boutiquier* » ou « *boulangier* »

Le Vend des biscuits.

5-DICTEE

.....

.....

6-EDHC

Réponds par VRAI ou FAUX.

1-Saluer le drapeau est une obligation pour tous les élèves.

2-L'élève doit saluer que son maître.

MATHEMATIQUES

3- J'écris en chiffres ou en lettres

Soixante-dix=.....

Soixante-dix-sept=.....

80=.....

58=.....

4- Compare les nombres à l'aide de < ; > ou =

60+7.....89

70+8.....78

40+5.....35

5- J'écris la somme en produit

5 + 5 + 5 + 5 = X

6- Je complète le tableau

67	71

7- Je calcule

$$\begin{array}{r} 45 \\ + \\ 12 \\ \hline \end{array}$$

$$\begin{array}{r} 60 \\ + \\ 7 \\ \hline \end{array}$$

$$\begin{array}{r} 36 \\ + \\ 23 \\ \hline \end{array}$$

COMPOSITION N°4 DU 30 juin 2020

1 - ECRITURE

ain.....

un lapin.....

2 - COPIE : je copie la phrase

ali dessine un cartable au tableau.

.....

3-EXPRESSION ECRITE

a- Classe ces mots dans le tableau : *un cheveu - une clôture - le terrain - dessin*

<i>ain</i>	<i>eu</i>	<i>cl</i>	<i>in</i>

b- Reconstitue cette phrase : *Kipré - la peinture - de - apporte*

.....

4 - ORTHOGRAPHE

Complète les mots avec les syllabes suivants : *œu - ein - ble - gle*

La p.....ture - une ta..... - unf - un on

5-DICTEE

.....
.....

6-EDHC

Mets une croix dans la case qui correspond au bon comportement.

1-Konan laisse allumée l'ampoule de sa chambre quand il sort.

2-A table, il prend juste ce qu'il faut.

3-Yao éteint l'ampoule de sa chambre quand il sort.

4-Au repas, il sert beaucoup et mange peu.

MATHEMATIQUES

1- J'écris en chiffres ou en lettres

17 =

35 =

Quarante-deux =

2- Ecris ces sommes sous forme d'un produit.

$5 + 5 + 5 =$

$6 + 6 + 6 + 6 =$

3- Trouve le nombre qui vient juste après ou avant.

	40
--	----

67	
----	--

4- Complète par le signe : < ; > ou =

57.....38

35.....30+6

69.....60+9

COMPOSITION N°4 DU 27 Mai 2021

1 - ECRITURE

œu.....

un manoeuvre.....

2 - COPIE : je copie la phrase

fatou prépare un plat de foutou.

.....

3-EXPRESSION ECRITE

Reconstitue cette phrase : *Le maître – la craie – prend*

.....

4 - ORTHOGRAPHE

Entoure « cr » dans les mots suivants :

Le cercle - un crapaud - la corde - la craie

5-DICTEE

.....

.....

6-EDHC

Mets une croix dans la bonne réponse.

1-je dois venir tous les jours ouvrables en classe.

2-En présence du maître, il faut bavarder.

3-Tout enfant doit avoir un acte de naissance.

4-Un enfant n'a pas droit à l'éducation.

MATHEMATIQUES

EXERCICE 1

$$\begin{array}{r} 12 \\ + \\ 23 \\ \hline \end{array}$$

$$\begin{array}{r} 51 \\ + \\ 42 \\ \hline \end{array}$$

$$\begin{array}{r} 13 \\ + \\ 61 \\ \hline \end{array}$$

$$\begin{array}{r} 25 \\ + \\ 42 \\ \hline \end{array}$$

EXERCICE 2

1/ Ecris en chiffres :

dix-neuf :

soixante-dix-huit :

2/Ecris en lettres.

21 :

46 :

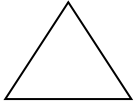
3/ Complète

$8 + \dots = 10$

$5 + \dots = 9$

EXERCICE 3

Indique le nombre de côté de chaque figure ci-dessous.



Cette figure plane acôtés.



Cette figure plane acôtés.

EXERCICE 4

Tu as 3 bâtons de craies. Maman te donne encore 4 autres bâtons de craie.

Trouve le nombre de bâtons de craies que tu as maintenant.

.....
.....

COMPOSITION N°4 DU 26 Mai 2022

1 - ECRITURE

dr.....

le sucre.....

2 - COPIE : je copie la phrase

toto salue le drapeau.

.....
.....

3-EXPRESSION ECRITE

- a) Entoure le mot où voit : pl
Une plante - un buffle - le drapeau - le couple - un plat
- b) Complète les mots avec pr - cl
un couver....e - unéfet

4 - ORTHOGRAPHE

Classe les mots dans le tableau :

Une proie - du sucre - le préfet - un crabe

Cr	pr
.....
.....

5-DICTEE

.....
.....

6-EDHC

Mets une croix dans la bonne réponse.

- a) venir en retard à l'école
- b) Ne pas bavarder en classe.

MATHEMATIQUES

EXERCICE 1

Décompose ces nombres selon l'exemple.

$$17 = 10 + 7 \text{ et } 91 = 80 + 11$$

a) $25 = \dots + \dots$

b) $72 = \dots + \dots$

EXERCICE 2

Complète :

56 c'estdizaines etunités

16 c'estdizaines etunités

EXERCICE 3

Ecris en lettres :

41 :

9 :

EXERCICE 4

Calcul les additions suivantes :

$$5 + 8 = \dots$$

$$9 + 4 = \dots$$