



# COLLÈGE PRIVÉ MERLAN-ADJAMÉ

Secondaire Général de la 6<sup>ème</sup> à la Tle / Tél : 01 02 24 02 54

E-mail : [collegeprivemerlan@yahoo.com](mailto:collegeprivemerlan@yahoo.com) / Code : 049577

Nom		Visa du Directeur	Visa Parent	Note	...../.....
Prénoms					
Classe	5 <sup>ème</sup> .....			Appréciation	
Date					

## INTERROGATION ECRITE DE MATHS N° ...

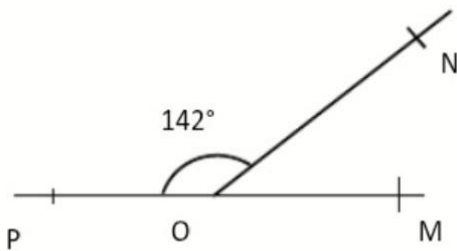
Durée : 10 min  
Coefficient : 03  
Prof. : M. TEHUA

Cette épreuve comporte une (01) page.

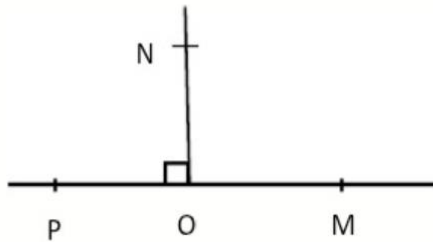
### EXERCICE

10 points

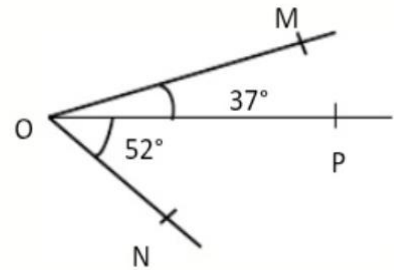
Trouve la mesure de l'angle  $\widehat{MON}$  dans chacun des cas ci-dessous.



mes  $\widehat{MON}$  = .....



mes  $\widehat{MON}$  = .....



mes  $\widehat{MON}$  = .....

**NB** : Chaque réponse juste est notée sur trois (03) points et pour une copie propre le correcteur vous attribuera un (01) point supplémentaire sur le total de vos points.