



LEÇON 14 : ISOMETRIES DU PLAN

1. SITUATION D'APPRENTISSAGE

En architecture, dans les promotions immobilières, dans le revêtement de sol ou de mur, en art plastique, dans le textile, dans la broderie ou la couture, les professionnels reproduisent plusieurs fois une figure dans les mêmes dimensions. Ces figures semblables de mêmes dimensions sont dites isométriques. Donc les isométries sont couramment utilisées dans la vie.

PLAN DU COURS

I. DÉFINITION ET PROPRIÉTÉS

1. Définition
2. Propriétés

II. DÉCOMPOSITION D'UNE TRANSLATION ET D'UNE ROTATION

1. Décomposition d'une translation.
2. Décomposition d'une rotation

III. COMPOSÉES D'ISOMÉTRIES

1. Composée d'une translation et d'une rotation.
2. Composée d'une translation et d'une symétrie orthogonale.
3. Composée d'une rotation et d'une symétrie orthogonale

IV. CLASSIFICATION DES ISOMÉTRIES

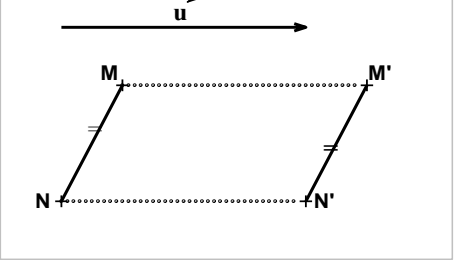
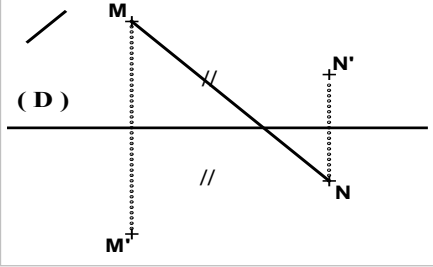
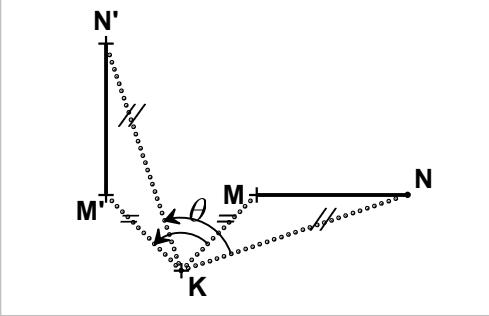
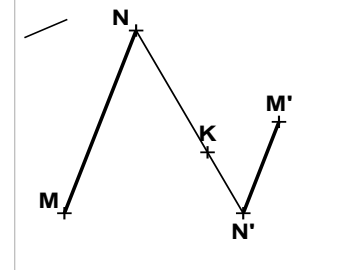
1. Ensemble des points invariants
2. Déplacement et antidéplacement

V. DÉTERMINATION D'UNE ISOMÉTRIE

1. Détermination d'un déplacement
2. Détermination d'un antidéplacement

2. RESUMES DE COURS

Le tableau suivant présente des applications du plan que nous avons vues dans des classes antérieures.

Applications du plan dans lui même	Représentation de l'image d'un segment	Caractérisation ou Conséquence						
<p>Translation de vecteur \vec{u}</p>	 <p>$t_{\vec{u}}(M) = M' \Leftrightarrow \overrightarrow{MM'} = \vec{u}$</p>	<table border="1" style="margin-left: auto; margin-right: auto;"> <tr><td colspan="2" style="text-align: center;">$t_{\vec{u}}$</td></tr> <tr><td style="text-align: center;">M</td><td style="text-align: center;">M'</td></tr> <tr><td style="text-align: center;">N</td><td style="text-align: center;">N'</td></tr> </table> <p>$\overrightarrow{M'N'} = \overrightarrow{MN}$ Par suite $M'N' = MN$. Toute translation conserve la distance.</p>	$t_{\vec{u}}$		M	M'	N	N'
$t_{\vec{u}}$								
M	M'							
N	N'							
<p>Symétrie orthogonale $s_{(D)}$ d'axe la droite (D)</p>	 <p>$s_{(D)}(M) = M' \Leftrightarrow (D)$ est la médiatrice du segment $[MM']$.</p>	<table border="1" style="margin-left: auto; margin-right: auto;"> <tr><td colspan="2" style="text-align: center;">$s_{(D)}$</td></tr> <tr><td style="text-align: center;">M</td><td style="text-align: center;">M'</td></tr> <tr><td style="text-align: center;">N</td><td style="text-align: center;">N'</td></tr> </table> <p>Les segments $[M'N']$ et $[MN]$ ont la même longueur. Par suite $M'N' = MN$. Toute symétrie orthogonale conserve la distance.</p>	$s_{(D)}$		M	M'	N	N'
$s_{(D)}$								
M	M'							
N	N'							
<p>K étant un point et θ un réel</p> <p>Rotation r de centre K et d'angle de mesure θ</p>	 <p>$r(M) = M' \Leftrightarrow (KM' = KM \text{ et } \widehat{(\overrightarrow{KM}, \overrightarrow{KM'})} = \theta)$</p>	<table border="1" style="margin-left: auto; margin-right: auto;"> <tr><td colspan="2" style="text-align: center;">R</td></tr> <tr><td style="text-align: center;">M</td><td style="text-align: center;">M'</td></tr> <tr><td style="text-align: center;">N</td><td style="text-align: center;">N'</td></tr> </table> <p>On a : $M'N' = MN$ et $\widehat{(\overrightarrow{MN}, \overrightarrow{M'N'})} = \theta$. Toute rotation conserve la distance.</p>	R		M	M'	N	N'
R								
M	M'							
N	N'							
<p>K étant un point et λ un réel</p> <p>Homothétie h de centre K et de rapport λ</p>	 <p>$h(M) = M' \Leftrightarrow \overrightarrow{KM'} = \lambda \overrightarrow{KM}$</p> <p>Figure pour $\lambda = -\frac{1}{2}$.</p>	<table border="1" style="margin-left: auto; margin-right: auto;"> <tr><td colspan="2" style="text-align: center;">H</td></tr> <tr><td style="text-align: center;">M</td><td style="text-align: center;">M'</td></tr> <tr><td style="text-align: center;">N</td><td style="text-align: center;">N'</td></tr> </table> <p>$\overrightarrow{M'N'} = \lambda \overrightarrow{MN}$ Par suite $M'N' = \lambda MN$ Toute homothétie de rapport différent de 1 et de -1 ne conserve pas la distance.</p>	H		M	M'	N	N'
H								
M	M'							
N	N'							

I. DÉFINITION ET PROPRIÉTÉS

1. Définition

Une isométrie plane est une application du plan dans le plan qui conserve la distance.

Exemples et contre-exemples :

- Les translations, les symétries orthogonales, les rotations sont des isométries planes.
- Les homothéties de rapport différent de 1 et de -1 ne sont pas des isométries planes.

2. Propriétés

Toute isométrie plane est une transformation du plan, c'est-à-dire une bijection du plan dans le plan.

Images de figures simples :

Toute isométrie f transforme :

- une droite (D) en une droite (D') , un segment $[AB]$ en un segment $[f(A)f(B)]$;
- un cercle (C) de centre O en un cercle (C') de centre $f(O)$ et de même rayon ;

Propriétés de conservation :

Toute isométrie f conserve :

- le produit scalaire : si $f(A) = A'$, $f(B) = B'$, $f(C) = C'$ et $f(D) = D'$, alors $\overrightarrow{AB} \cdot \overrightarrow{CD} = \overrightarrow{A'B'} \cdot \overrightarrow{C'D'}$;
- le barycentre : si $G = \text{bar}\{ (A_i, \alpha_i)_{1 \leq i \leq n} \}$ alors $f(G) = \text{bar}\{ (f(A_i), \alpha_i)_{1 \leq i \leq n} \}$;
- le parallélisme, l'orthogonalité, les angles géométriques, le contact.

Exercice 1 (3 min)

Réponds par vrai ou par faux à chacune des affirmations suivantes.

Toute isométrie transforme :

- un carré en un carré.
- un triangle équilatéral en un triangle équilatéral.
- Un angle droit en un angle plat.

Solution

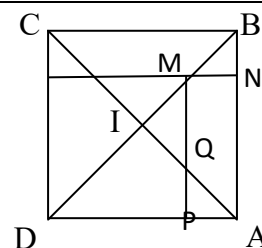
- a) Vrai ; b) Vrai ; c) Faux

Exercice 2 (15 min)

Dans le plan orienté, on considère un carré $ABCD$ de centre I , tel que $\text{Mes}(\overrightarrow{AB}, \overrightarrow{AD}) = \frac{\pi}{2}$.

Etant donné un point M du segment $[BD]$ distinct de B et de D , on appelle N et P les projetés orthogonaux de M respectivement sur les droites (AB) et (AD) . Q est le point du $[MP]$ tel que le triangle IMQ est rectangle isocèle en I et de sens indirect.

On considère la rotation r de centre I et d'angle $-\frac{\pi}{2}$.



- a) Détermine $r(B)$ et $r(M)$.
 b) Démontre que $r(N) = P$.
 c) Dédus-en que: $\vec{NA} \cdot \vec{NB} = \vec{PA} \cdot \vec{PD}$.
 d) Justifie que : $(NC) \perp (BP)$ et $NC=BP$.

Corrigé

	<p>a) $r(B)=A$ et $r(M)=Q$. b) $r(AB) = (AD)$ et $r(MN) = (MP)$ car M, Q et P sont alignés. Or $\{N\} = (MN) \cap (AB)$ et $\{P\} = (MP) \cap (AD)$ donc $r(N) = P$ c) r conserve le produit scalaire donc</p> $\vec{NA} \cdot \vec{NB} = r(N)r(A) \cdot r(N)r(B) = \vec{PD} \cdot \vec{PA} = \vec{PA} \cdot \vec{PD}.$														
<table border="1" style="margin-left: auto; margin-right: auto;"> <tr><td colspan="2" style="text-align: center;">r</td></tr> <tr><td>N</td><td>P</td></tr> <tr><td>A</td><td>D</td></tr> <tr><td>B</td><td>A</td></tr> </table> <p>d)</p> <table border="1" style="margin-left: auto; margin-right: auto;"> <tr><td colspan="2" style="text-align: center;">r</td></tr> <tr><td>C</td><td>B</td></tr> <tr><td>N</td><td>P</td></tr> </table>	r		N	P	A	D	B	A	r		C	B	N	P	<p>Donc $(NC) \perp (BP)$ et $NC=BP$ car r est une rotation d'angle $-\frac{\pi}{2}$</p>
r															
N	P														
A	D														
B	A														
r															
C	B														
N	P														

Exercices de maison

Exercice 1

- f et g sont deux isométries planes.
 Justifie que :
- 1) la composée $g \circ f$ est une isométrie.
 - 2) la réciproque f^{-1} de f est une isométrie.

Exercice 2

Soit f une application du plan dans lui-même qui conserve le barycentre et transforme tout repère orthonormé du plan en un repère orthonormé du plan.
 Démontre que f est une isométrie plane.

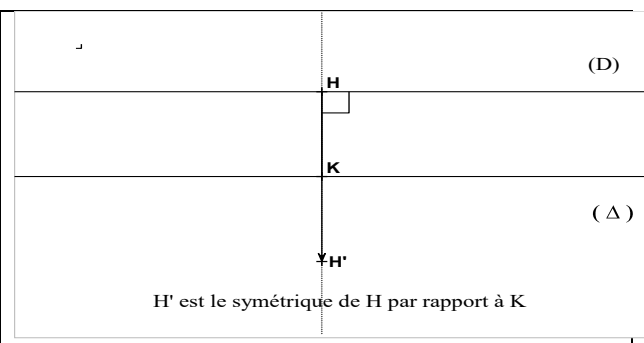
II. DÉCOMPOSITION D'UNE TRANSLATION ET D'UNE ROTATION

1. Décomposition d'une translation.

a) Composée de deux symétries orthogonales d'axes parallèles (rappel de 1ère C)

Propriété

Si (D) et (Δ) sont deux droites parallèles, alors la composée de la symétrie orthogonale d'axe (D) et de la symétrie orthogonale d'axe (Δ) est une translation.
 $S_{(\Delta)} \circ S_{(D)} = t_{2\vec{HK}}$,
 où H est un point quelconque de la droite (D) et K est le projeté orthogonal du point H sur la droite (Δ) .

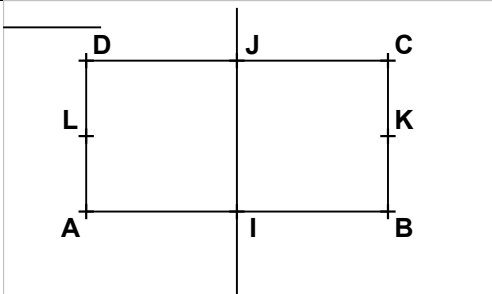


Cas particulier

Pour toute droite (D), la composée de la symétrie d'axe (D) par elle-même est l'application identité du plan.

On a : $s_{(D)} \circ s_{(D)} = Id_{(\mathcal{P})}$.

Exercice (4 min)

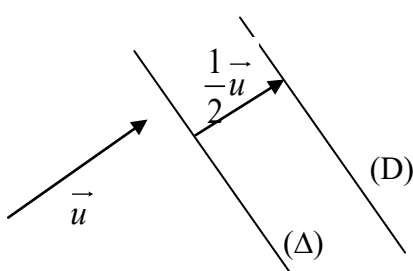
<p>$ABCD$ est un rectangle. I, J, L et K sont les milieux respectifs des segments $[AB]$, $[DC]$, $[AD]$ et $[BC]$. Détermine les composées $s_{(IJ)} \circ s_{(AD)}$ et $s_{(IK)} \circ s_{(IK)}$.</p>	
--	--

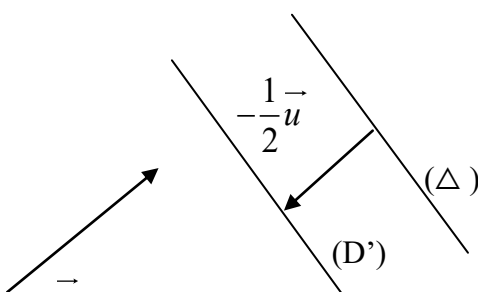
Corrigé

$$s_{(IJ)} \circ s_{(AD)} = t_{2\vec{AI}} = t_{\vec{AB}}$$

$$s_{(IK)} \circ s_{(IK)} = Id_{(\mathcal{P})}$$

b) Décomposition d'une translation

<p>Propriété 1 Soit $t_{\vec{u}}$ une translation de vecteur non nul \vec{u}. Pour toute droite (Δ) de vecteur normal \vec{u}, il existe une unique droite (D) telle que : $t_{\vec{u}} = s_{(D)} \circ s_{(\Delta)}$.</p> <p>On a : $(D) = t_{\frac{1}{2}\vec{u}}(\Delta)$.</p>	<p>Illustration graphique</p> 
--	--

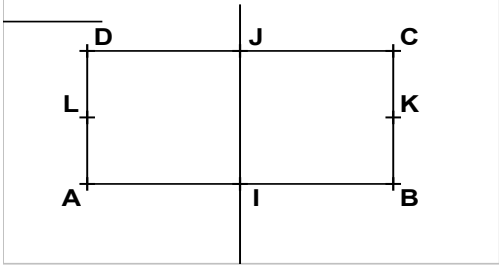
<p>Propriété 2 Soit $t_{\vec{u}}$ une translation de vecteur non nul \vec{u}. Pour toute droite (Δ) de vecteur normal \vec{u}, il existe une unique droite (D') telle que : $t_{\vec{u}} = s_{(\Delta)} \circ s_{(D')}$.</p> <p>On a : $(D') = t_{-\frac{1}{2}\vec{u}}(\Delta)$.</p>	<p>Illustration graphique</p> 
--	---

Remarque

Soit \vec{u} un vecteur non nul tel que : $t_{\vec{u}} = s_{(D')} \circ s_{(D)}$:

- Si la droite (D) est donnée alors $(D') = t_{\frac{1}{2}\vec{u}}(D)$;
- Si la droite (D') est donnée alors $(D) = t_{-\frac{1}{2}\vec{u}}(D')$.

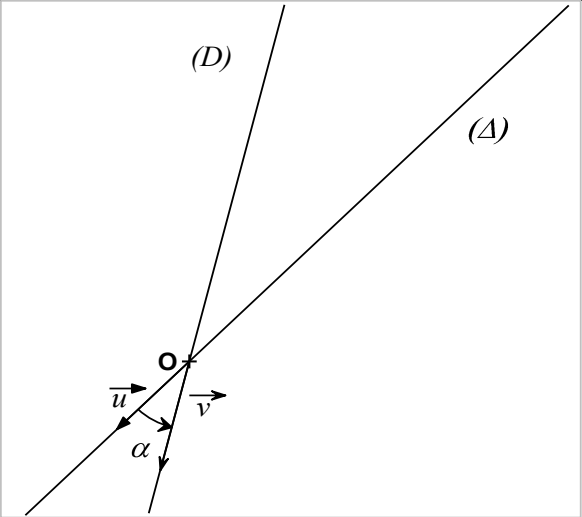
Exercice 6 min

<p>ABCD est un rectangle. I, J, L et K sont les milieux respectifs des segments [AB], [DC],[AD] et [BC]. Réponds par vrai ou par faux à chacune des affirmations suivantes :</p> <ol style="list-style-type: none"> 1. $t_{\overline{AB}} = S_{(AD)} \circ S_{(IJ)}$; 2. $t_{\overline{AB}} = S_{(BC)} \circ S_{(IJ)}$; 3. $t_{\overline{AB}} = S_{(IJ)} \circ S_{(AD)}$; 4. $t_{\overline{AD}} = S_{(AB)} \circ S_{(KL)}$; 5. $t_{\overline{AD}} = S_{(CD)} \circ S_{(KL)}$; 6. $t_{\overline{AD}} = S_{(KL)} \circ S_{(AB)}$; 	
---	--

Corrigé: 1-F ; 2-V ; 3. V ; 4-F ; 5-V ; 6-V.

2. Décomposition d'une rotation

a) Composée de deux symétries orthogonales d'axes sécants (rappel 1^{ère} C)

<p>Propriété : Le plan est orienté. (Δ) et (D) sont deux droites de vecteurs directeurs respectifs \vec{u} et \vec{v}. On pose : $\alpha = Mes(\widehat{\vec{u}, \vec{v}})$. Si (Δ) et (D) sont sécantes en un point O, alors la composée de la symétrie orthogonale d'axe (D) et de la symétrie orthogonale d'axe (Δ) est une rotation. Le centre de cette rotation est O et son angle a pour mesure 2α. $S_{(D)} \circ S_{(\Delta)} = r_{(O, 2\alpha)}$</p>	
---	---

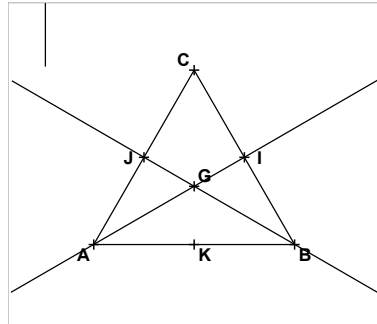
Cas particulier

Lorsque les droites (Δ) et (D) sont perpendiculaires en O , la composée de la symétrie orthogonale d'axe (D) et de la symétrie orthogonale d'axe (Δ) est la symétrie centrale de centre O .

$$S_{(D)} \circ S_{(\Delta)} = S_{(\Delta)} \circ S_{(D)} = S_O$$

Exercice (5 min)

Dans le plan orienté, on considère un triangle équilatéral ABC de sens direct et de centre G. I, J et K sont les milieux respectifs des segments [BC], [CA] et [AB].



Détermine les composées

1 - $S_{(AI)} \circ S_{(AB)}$

2 - $S_{(AI)} \circ S_{(CK)}$

3 - $S_{(CB)} \circ S_{(AI)}$

Corrigé

1. $r_{(A, \frac{\pi}{3})}$; 2. $r_{(G, -\frac{2\pi}{3})}$; 3. s_I

b) Décomposition d'une rotation

Propriété 1

Le plan est orienté.

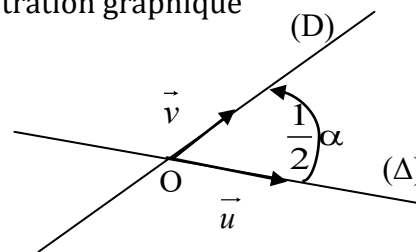
Soit r une rotation de centre O et d'angle α .

Pour toute droite (Δ) passant par O, il existe une unique droite (D) telle que :

$$r = S_{(D)} \circ S_{(\Delta)}$$

(D) est l'image de la droite (Δ) par la rotation de centre O et d'angle $\frac{1}{2}\alpha$.

Illustration graphique



\vec{u} est un vecteur directeur de la droite (Δ).

\vec{v} est un vecteur directeur de la droite (D).

On a ; $\text{mes}(\vec{u}, \vec{v}) = \frac{1}{2}\alpha + k\pi ; k \in \mathbb{Z}$.

Propriété 2

Le plan est orienté.

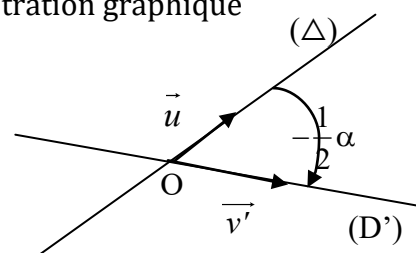
Soit r une rotation de centre O et d'angle α .

Pour toute droite (Δ) passant par O, il existe une unique droite (D') telle que :

$$r = S_{(\Delta)} \circ S_{(D')}$$

(D') est l'image de la droite (Δ) par la rotation de centre O et d'angle $-\frac{1}{2}\alpha$.

Illustration graphique



\vec{u} est un vecteur directeur de la droite (Δ).

\vec{v}' est un vecteur directeur de la droite (D').

On a ; $\text{mes}(\vec{u}, \vec{v}') = -\frac{1}{2}\alpha + k\pi ; k \in \mathbb{Z}$.

Remarque

Soit la rotation r de centre O et d'angle α tel que $r_{(O; \alpha)} = S_{(D')} \circ S_{(D)}$:

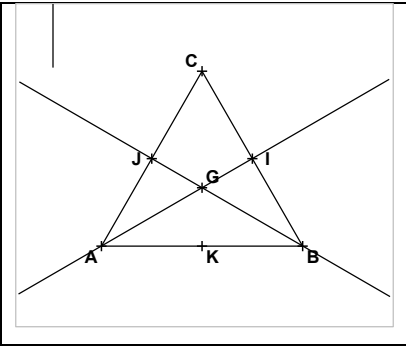
• Si (D) est une droite donnée alors : $(D') = r_{(O; \frac{1}{2}\alpha)}(D)$;

• Si (D') est une droite donnée alors : $(D) = r_{(O; -\frac{1}{2}\alpha)}(D')$.

Exercice (5 min)

Dans le plan orienté, on considère un triangle équilatéral ABC de sens direct et de centre G .
 I, J et K sont les milieux respectifs des côtés [BC], [CA] et [AB].
 Détermine la droite (Δ) dans chacun des cas suivants.

- 1) $r_{\left(G; -\frac{2\pi}{3}\right)} = S_{(\Delta)} \circ S_{(AI)}$.
- 2) $r_{\left(B; \frac{\pi}{3}\right)} = S_{(BG)} \circ S_{(\Delta)}$.
- 3) $s_K = S_{(\Delta)} \circ S_{(CG)}$



Corrigé

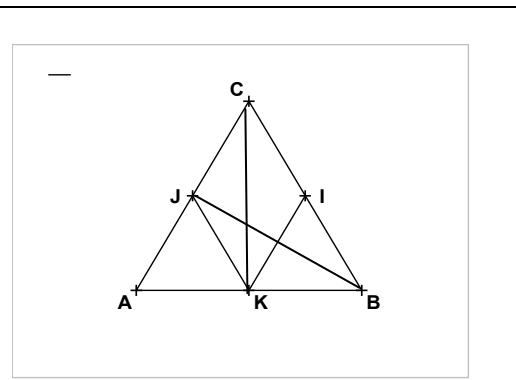
1). (JB) ; 2). (BC) ; 3). (AB)

Exercices à faire à la maison

EXERCICE 1

ABC est un triangle équilatéral.
 I, J et K sont les milieux respectifs des segments [BC], [CA] et [AB].
 Dans chacun des cas suivants, détermine la droite (Δ)

1. $t_{\overline{CK}} = S_{(\Delta)} \circ S_{(IJ)}$
2. $t_{\overline{JB}} = S_{(IK)} \circ S_{(\Delta)}$
3. $t_{\overline{IA}} = S_{(\Delta)} \circ S_{(BC)}$
4. $t_{\overline{AB}} = S_{(CK)} \circ S_{(\Delta)}$

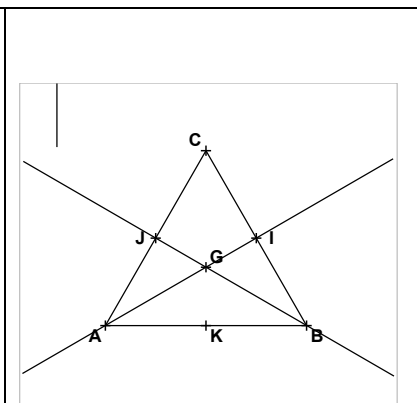


Réponses : 1. (AB) ; 2. (AC) ; 3. (JK) ; 4. La droite perpendiculaire à (AB) passant par le point A.

Exercice 2

Dans le plan orienté, on considère un triangle équilatéral ABC de sens direct et de centre G .
 I, J et K sont les milieux respectifs des côtés [BC],[CA] et [AB].
 Détermine la droite (Δ) dans chacun des cas suivants.

- 1) $r_{\left(G; \frac{2\pi}{3}\right)} = S_{(CK)} \circ S_{(\Delta)}$.
- 2) $r_{\left(A; -\frac{\pi}{3}\right)} = S_{(\Delta)} \circ S_{(AI)}$.
- 3) $r_{\left(G; -\frac{2\pi}{3}\right)} = S_{(BJ)} \circ S_{(\Delta)}$



Réponses : 1. (AI) 2. (AB) 3. (AI)

III. COMPOSÉES D'ISOMÉTRIES

1. Composée d'une translation et d'une rotation

Propriété

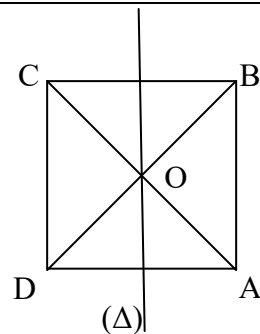
La composée d'une translation et d'une rotation d'angle non nul α est une rotation de même angle α .

Remarques

- Si r est une rotation d'angle nul, alors $r \circ t = t$.
- Si r est une rotation d'angle non nul α , alors $r \circ t$ et $t \circ r$ sont deux rotations d'angle α .
- En général $r \circ t \neq t \circ r$.

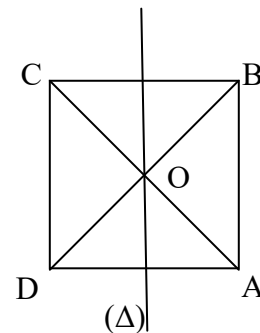
Exercice (5 min)

Dans le plan orienté, on considère un carré ABCD de centre O et de sens direct.
 (Δ) est la médiatrice du segment [CB],
 On pose : $f = t_{\overline{CB}} \circ r_{(D; \frac{\pi}{2})}$.
 Détermine la nature et les éléments caractéristiques de f .



Corrigé

- La nature de f .
 La composée d'une rotation d'angle non nul α et d'une translation est une rotation d'angle α . Donc f est une rotation d'angle $\frac{\pi}{2}$.
 - Déterminons le centre de f .
 On a : $f = t_{\overline{CB}} \circ r_{(D; \frac{\pi}{2})}$.
 Or $r_{(D; \frac{\pi}{2})} = s_{(DC)} \circ s_{(DO)}$ et $t_{\overline{CB}} = s_{(\Delta)} \circ s_{(DC)}$.
 On a : $f = s_{(\Delta)} \circ s_{(DC)} \circ s_{(DC)} \circ s_{(OD)} = s_{(\Delta)} \circ s_{(OD)}$
 (Δ) et (OD) se coupent en O. Donc $s_{(\Delta)} \circ s_{(OD)}$ est une rotation de centre O.
 En conclusion, $f = t_{\overline{CB}} \circ r_{(D; \frac{\pi}{2})} = r_{(O; \frac{\pi}{2})}$



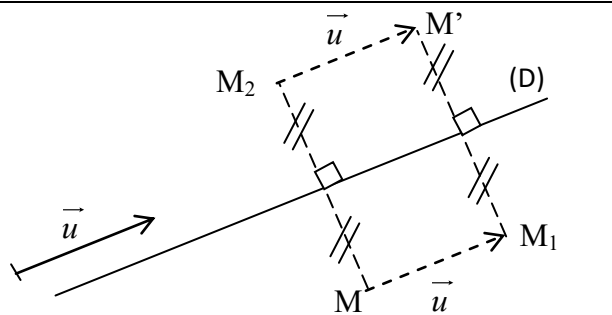
2. Composée d'une translation et d'une symétrie orthogonale

a) Symétrie glissée

Définition

Etant donné une droite (D) et \vec{u} est un vecteur directeur de (D), on appelle symétrie glissée d'axe (D) et de vecteur \vec{u} , la composée de la symétrie orthogonale d'axe (D) et de la translation de vecteur \vec{u} .

$$t_{\vec{u}} \circ s_{(D)} = s_{(D)} \circ t_{\vec{u}}$$



$$M' = s_{(D)}(M_1) = s_{(D)}(t_{\vec{u}}(M)) = s_{(D)} \circ t_{\vec{u}}(M)$$

$$M' = t_{\vec{u}}(M_2) = t_{\vec{u}}(s_{(D)}(M)) = t_{\vec{u}} \circ s_{(D)}(M)$$

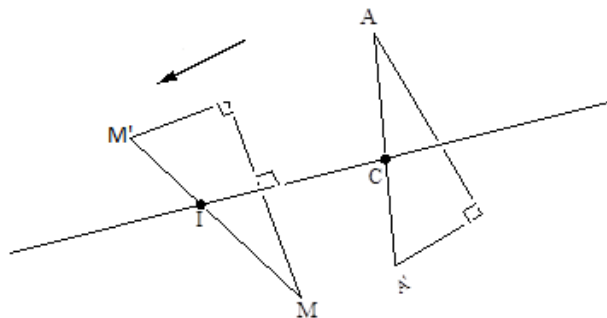
Propriétés

Propriété 1

Toute symétrie glissée n'admet pas de point invariant.

Propriété 2

Le milieu du segment formé par un point M et son image M' par une symétrie glissée f, d'axe (D), appartient à la droite (D).



$$f(M) = M' \text{ et } I \text{ milieu de } [MM']$$

$$f(A) = A' \text{ et } C \text{ milieu de } [AA']$$

$$(D) = (IC)$$

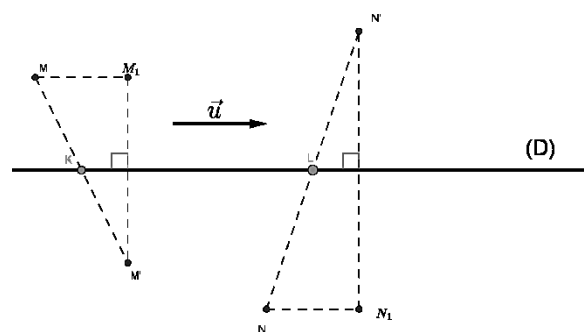
Point méthode

Détermination de l'axe (D) et du vecteur \vec{u} d'une symétrie glissée f

• M et N sont deux points distincts donnés, tels que : $M' = f(M)$ et $N' = f(N)$. K et L sont les milieux respectifs des segments $[MM']$ et $[NN']$. (D) est la droite (KL) .

• Soit f une symétrie glissée et \vec{u} son vecteur. Soit A un point donné d'image A'' par $f \circ f$.

On a : $\vec{u} = \frac{1}{2}\overrightarrow{AA''}$.



Exercice (5 min)

ABC est un triangle équilatéral de centre G. D est le symétrique du point B par rapport à la droite (AC).

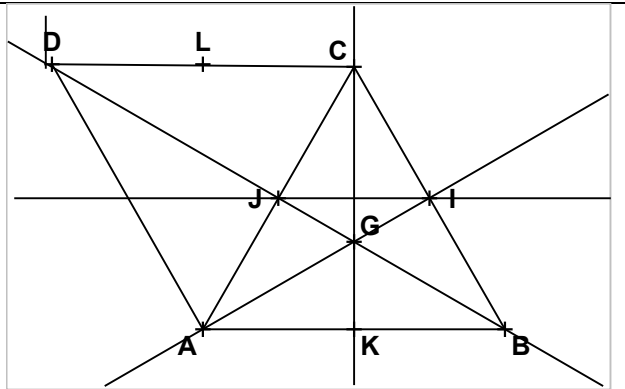
I, J, K et L sont les milieux respectifs des côtés [BC],[CA], [AB] et [CD].

1) Soit f la symétrie glissée d'axe (IJ) et de vecteur \vec{BK}

Détermine l'image de chacun des points A, B et I par f.

2) Soit g la symétrie glissée telle que : $g(C)=B$ et $g(L)=K$

Détermine l'axe et le vecteur de g.

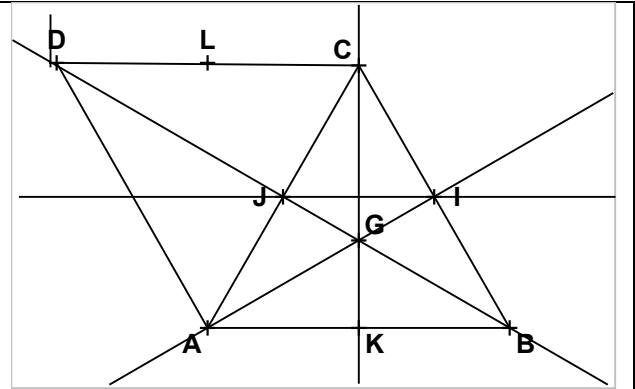


Corrigé

1) $f(A) = D$; $f(B) = C$ et $f(I) = J$

2) Axe de g passe par les milieux des segments [CB] et [LK], l'axe est (IJ)

Le vecteur de g est \vec{KB} .



b) Composée d'une translation et d'une symétrie orthogonale

Propriété

La composée d'une translation de vecteur \vec{u} non nul et d'une symétrie orthogonale d'axe (Δ) est :

- une symétrie orthogonale si \vec{u} est normal à (Δ) ;
- une symétrie glissée si \vec{u} n'est pas normal à (Δ) .

Remarques

- Si \vec{u} est normal à (Δ) , $s_{(\Delta)} \circ t_{\vec{u}}$ et $t_{\vec{u}} \circ s_{(\Delta)}$ sont deux symétries orthogonales.
- Si \vec{u} n'est pas normal à (Δ) , $s_{(\Delta)} \circ t_{\vec{u}}$ et $t_{\vec{u}} \circ s_{(\Delta)}$ sont deux symétries glissées.
- En général, $s_{(\Delta)} \circ t_{\vec{u}} \neq t_{\vec{u}} \circ s_{(\Delta)}$.

Illustration graphique

Premier cas : Le vecteur \vec{u} est normal à la droite (Δ) .

On décompose $t_{\vec{u}}$ en utilisant $s_{(\Delta)}$.

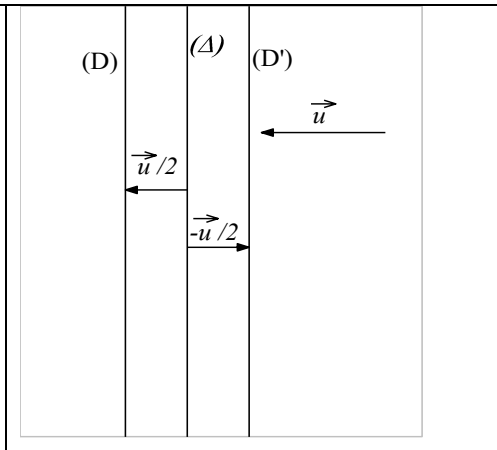
On a : $t_{\vec{u}} = S_{(\Delta)} \circ S_{(D')} = S_{(D)} \circ S_{(\Delta)}$.

On a : $(D) = t_{\frac{1}{2}\vec{u}}(\Delta)$ et $(D') = t_{-\frac{1}{2}\vec{u}}(\Delta)$.

Posons $f = t_{\vec{u}} \circ s_{(\Delta)}$ et $g = s_{(\Delta)} \circ t_{\vec{u}}$

$f = S_{(D)} \circ S_{(\Delta)} \circ S_{(\Delta)} = S_{(D)}$.

$g = S_{(\Delta)} \circ S_{(\Delta)} \circ S_{(D')} = S_{(D')}$



Deuxième cas : Le vecteur \vec{u} n'est pas normal à la droite (Δ)

On décompose le vecteur \vec{u} en la somme de deux vecteurs dont l'un est normal à (Δ) noté \vec{n} et l'autre, un vecteur directeur de (Δ) , noté $\vec{\tau}$.

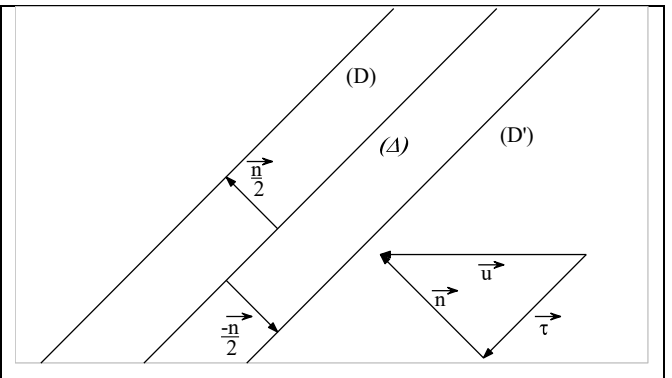
$\vec{u} = \vec{n} + \vec{\tau}$

On considère les droites (D) et (D') ,

$(D') = t_{-\frac{1}{2}\vec{n}}(\Delta)$ et

$(D) = t_{\frac{1}{2}\vec{n}}(\Delta)$

Posons $f = t_{\vec{u}} \circ s_{(\Delta)}$ et $g = s_{(\Delta)} \circ t_{\vec{u}}$



On sait que : $t_{\vec{u}} = t_{\vec{n} + \vec{\tau}} = t_{\vec{n}} \circ t_{\vec{\tau}} = t_{\vec{\tau}} \circ t_{\vec{n}}$ et que : $t_{\vec{n}} \circ s_{(\Delta)} = s_{(D)}$ et

$s_{(\Delta)} \circ t_{\vec{n}} = s_{(D')}$.

Posons : $f = t_{\vec{u}} \circ s_{(\Delta)}$ et $g = s_{(\Delta)} \circ t_{\vec{u}}$, alors : $f = t_{\vec{\tau}} \circ t_{\vec{n}} \circ s_{(\Delta)}$ et

$g = s_{(\Delta)} \circ t_{\vec{n}} \circ t_{\vec{\tau}}$

$f = t_{\vec{\tau}} \circ s_{(D)}$ et $g = s_{(D')} \circ t_{\vec{\tau}}$

f et g sont des symétries glissées.

Exercice (5 min)

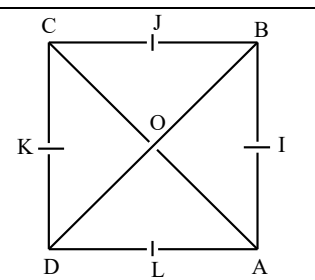
ABCD est un carré de centre O.

I, J, K et L sont les milieux respectifs de $[AB]$, $[BC]$, $[CD]$ et $[DA]$.

On pose : $k = t_{\vec{BC}} \circ s_{(JL)}$ et $f = t_{\vec{AC}} \circ s_{(KI)}$

a) Détermine la nature et les éléments caractéristiques de k .

b) Détermine la nature et les éléments caractéristiques de f .



Corrigé

a) **Nature de k** : Le vecteur \overrightarrow{BC} est normal à la droite (JL). Donc k est une symétrie orthogonale

Élément caractéristique de k : $k = t_{\overline{BC}} \circ s_{(JL)}$.

Or $t_{\overline{BC}} = s_{(CD)} \circ s_{(JL)}$, donc

$$k = s_{(CD)} \circ s_{(JL)} \circ s_{(JL)} = s_{(CD)}.$$

L'axe de k est la droite (CD).

Conclusion : k est la symétrie orthogonale d'axe (CD).

$$f = t_{\overline{AC}} \circ s_{(KI)}.$$

b) **Nature de f** : Le vecteur \overline{AC} n'est pas normal à la droite (KI), donc f est une symétrie glissée.

* **Éléments caractéristiques de f**

On décompose le vecteur \overline{AC} .

$$\overline{AC} = \overline{AB} + \overline{BC}$$

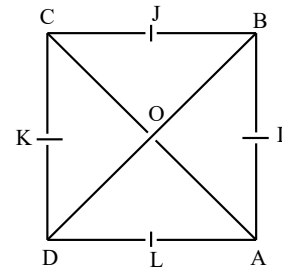
$$t_{\overline{AC}} = t_{\overline{AB}} \circ t_{\overline{BC}} = t_{\overline{BC}} \circ t_{\overline{AB}}$$

$$\text{On a : } f = t_{\overline{AC}} \circ s_{(KI)} = t_{\overline{BC}} \circ t_{\overline{AB}} \circ s_{(KI)}.$$

$$\text{Or : } t_{\overline{AB}} = s_{(BC)} \circ s_{(KI)}.$$

$$\text{Donc : } f = t_{\overline{BC}} \circ s_{(BC)} \circ s_{(KI)} \circ s_{(KI)} = t_{\overline{BC}} \circ s_{(BC)}$$

Conclusion : f est la symétrie glissée d'axe (BC) et de vecteur \overline{BC} .



Synthèse

Posons $f = t_{\vec{u}} \circ s_{(\Delta)}$ et $g = s_{(\Delta)} \circ t_{\vec{u}}$

• **Lorsque le vecteur \vec{u} est normal à (Δ)**

On décompose $t_{\vec{u}}$ en utilisant $s_{(\Delta)}$.

$$\text{On a : } t_{\vec{u}} = s_{(\Delta)} \circ s_{(D')} = s_{(D')} \circ s_{(\Delta)}.$$

$$\text{On a : } (D) = t_{\frac{1}{2}\vec{u}}(\Delta) \text{ et } (D') = t_{-\frac{1}{2}\vec{u}}(\Delta).$$

$$f = t_{\vec{u}} \circ s_{(\Delta)} = s_{(D)} \circ s_{(\Delta)} \circ s_{(\Delta)} = s_{(D)}$$

$$g = s_{(\Delta)} \circ t_{\vec{u}} = s_{(\Delta)} \circ s_{(\Delta)} \circ s_{(D')} = s_{(D')}$$

• **Lorsque le vecteur \vec{u} n'est pas normal à (Δ)**

On décompose le vecteur \vec{u} en la somme de deux vecteurs dont l'un est normal à (Δ) noté \vec{n} et l'autre, un vecteur directeur de (Δ) , noté $\vec{\tau}$.

$$\vec{u} = \vec{n} + \vec{\tau}$$

On considère les droites (D) et (D') telles que :

$$(D') = t_{-\frac{1}{2}\vec{n}}(\Delta) \text{ et } (D) = t_{\frac{1}{2}\vec{n}}(\Delta)$$

Comme \vec{n} est normal à (Δ) , on a : $t_{\vec{n}} \circ s_{(\Delta)} = s_{(D)}$ et $s_{(\Delta)} \circ t_{\vec{n}} = s_{(D')}$.

$$f = t_{\vec{u}} \circ s_{(\Delta)} = t_{\vec{\tau}} \circ t_{\vec{n}} \circ s_{(\Delta)} = t_{\vec{\tau}} \circ s_{(D)}$$

$$g = s_{(\Delta)} \circ t_{\vec{u}} = s_{(\Delta)} \circ t_{\vec{n}} \circ t_{\vec{\tau}} = s_{(D')} \circ t_{\vec{\tau}}$$

$$f = t_{\vec{\tau}} \circ s_{(D)} \text{ et } g = s_{(D')} \circ t_{\vec{\tau}}$$

f et g sont des symétries glissées.

3. Composée d'une symétrie orthogonale et d'une rotation

Propriété

Soient (D) une droite et K un point.

La composée d'une rotation de centre K et de la symétrie orthogonale d'axe (D) est :

- une symétrie orthogonale si $K \in (D)$;
- une symétrie glissée si $K \notin (D)$.

Remarque

Soit r une rotation de centre K .

- Si $K \in (D)$, $s_{(D)} \circ r$ et $r \circ s_{(D)}$ sont deux symétries orthogonales.
- Si $K \notin (D)$, $s_{(D)} \circ r$ et $r \circ s_{(D)}$ sont deux symétries glissées.
- En général: $r \circ s_{(D)} \neq s_{(D)} \circ r$.

Illustration graphique

Premier cas : $K \in (D)$

Soit r une rotation de centre K . Notons θ , l'angle de r .

Posons : $f = r \circ s_{(D)}$ et $g = s_{(D)} \circ r$

On décompose r en utilisant $s_{(D)}$.

On a : $r = s_{(D)} \circ s_{(\Delta_1)} = s_{(\Delta_2)} \circ s_{(D)}$

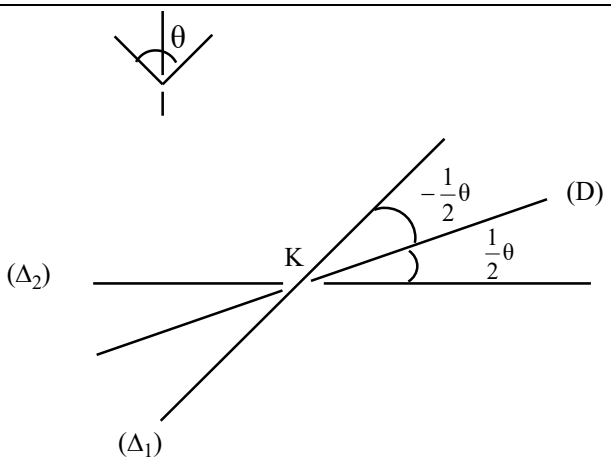
$(\Delta_2) = r_{(K; \frac{1}{2}\theta)}(D)$ et

$(\Delta_1) = r_{(K; -\frac{1}{2}\theta)}(D')$.

Alors :

$f = s_{(\Delta_2)} \circ s_{(D)} \circ s_{(D)} = s_{(\Delta_2)}$

et $g = s_{(D)} \circ s_{(D)} \circ s_{(\Delta_1)} = s_{(\Delta_1)}$



Deuxième cas : $K \notin (D)$

$r = r(K; \theta)$

Posons : $f = r \circ s_{(D)}$ et

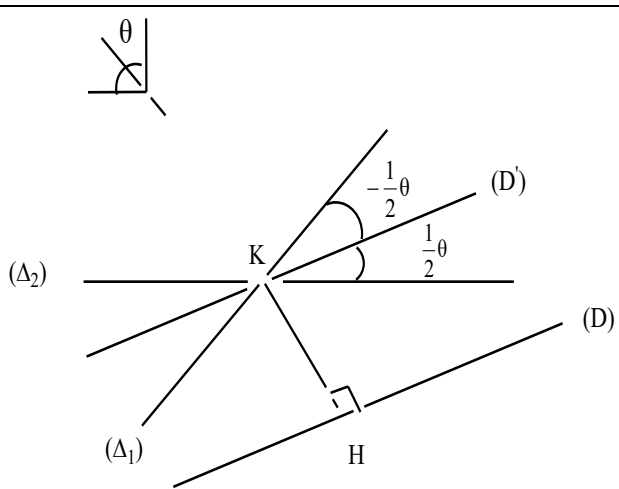
$g = s_{(D)} \circ r$

Soit H , le projeté orthogonal du point K sur la droite (D) et (D') , la droite passant par K et parallèle à (D) .

On considère les droites (Δ_1) et (Δ_2) (comme dans le premier cas).

$(\Delta_2) = r_{(K; \frac{1}{2}\theta)}(D)$ et

$(\Delta_1) = r_{(K; -\frac{1}{2}\theta)}(D')$.



On a : $r = s_{(D')} \circ s_{(\Delta_1)} = s_{(\Delta_2)} \circ s_{(D')}$

Alors : $f = r \circ s_{(D)} = s_{(\Delta_2)} \circ s_{(D')} \circ s_{(D)} = s_{(\Delta_2)} \circ t_{2\overline{HK}}$

f est une symétrie glissée car le vecteur \overline{HK} n'est pas normal à la droite (Δ_2) .

De même : $g = s_{(D)} \circ r = s_{(D)} \circ s_{(D')} \circ s_{(\Delta_1)} = t_{2\overline{KH}} \circ s_{(\Delta_1)}$

g est une symétrie glissée car le vecteur \overline{KH} n'est pas normal à la droite (Δ_1)

Exercice (5 min)

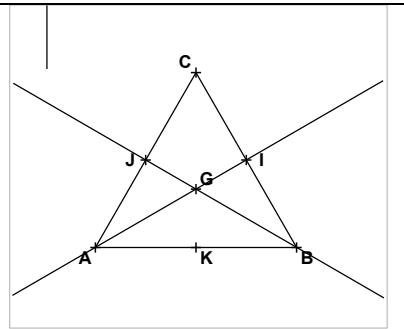
Le plan est orienté.

ABC est un triangle équilatéral de sens direct et de centre G. I, J et K sont les milieux respectifs des côtés [BC],[CA] et [AB].

On pose : $f = s_{(AG)} \circ r_{(G, \frac{2\pi}{3})}$ et $g = r_{(G, \frac{2\pi}{3})} \circ s_{(AB)}$.

a) Détermine $f(A)$ puis la nature et l'élément caractéristique de f .

b) Détermine $g(A)$ et $g(B)$ puis la nature et les éléments caractéristiques de g .



Corrigé

a) $f(A) = s_{(AG)} \circ r_{(G, \frac{2\pi}{3})}(A)$
 $= s_{(AG)}(B) = C.$

Nature : $G \in (AG)$ donc

f est une symétrie orthogonale.

Elément caractéristique : L'axe de f est la médiatrice du segment [AC] qui est la droite (GB).

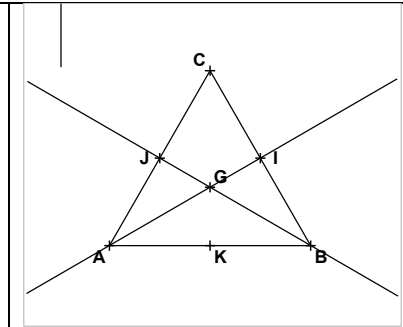
$g = r_{(G, \frac{2\pi}{3})} \circ s_{(AB)}$

b) $g(A) = B$ et $g(B) = C$

Nature : $G \notin (AB)$ donc g est une symétrie glissée.

Eléments caractéristiques :

Axe : la droite (KI) Vecteur : \overrightarrow{JC}



Exercices à faire à la maison

EXERCICE 1

Dans le plan est orienté ; On considère le carré ABCD de sens direct et de centre O, ci-contre.

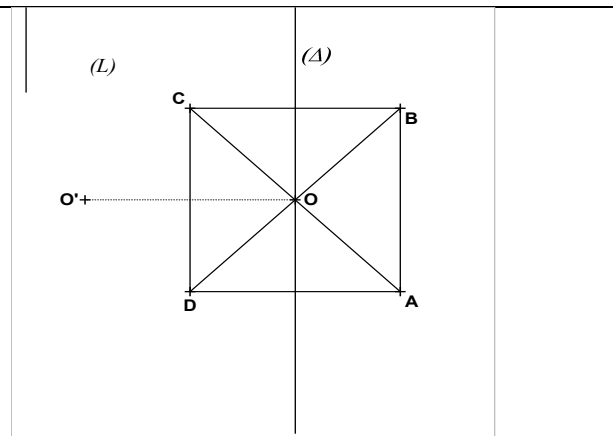
(Δ) est la médiatrice du segment [CB].

Détermine la nature et les éléments caractéristiques de chacune des transformations suivantes :

1. $f = r_{(D; \frac{\pi}{2})} \circ t_{\overline{CB}}$

2. $g = r_{(B; \frac{\pi}{2})} \circ t_{\overline{DC}}$

3. $h = t_{\overline{CD}} \circ r_{(O; \frac{\pi}{2})} \circ t_{\overline{DA}}$



Corrigé

1. f est une rotation d'angle $\frac{\pi}{2}$.

$$f = r_{(D; \frac{\pi}{2})} \circ t_{\overrightarrow{CB}} = S_{(DO')} \circ S_{(DC)} \circ S_{(DC)} \circ S_{(L)} = S_{(DO')} \circ S_{(L)} = r_{(O'; \frac{\pi}{2})}$$

On a (DO') est l'image de la droite (DC) par la rotation de centre D et d'angle $\frac{\pi}{4}$.

(L) est l'image de la droite (DC) par la translation $\frac{-1}{2}\overrightarrow{CB}$

2. g est une rotation.

$$g = r_{(B; \frac{\pi}{2})} \circ t_{\overrightarrow{DC}} = S_{(BO)} \circ S_{(BC)} \circ S_{(BC)} \circ S_{(OO')} = S_{(BO)} \circ S_{(OO')} = r_{(O; \frac{\pi}{2})}$$

3. h est une rotation

$$h = t_{\overrightarrow{CD}} \circ r_{(O; \frac{\pi}{2})} \circ t_{\overrightarrow{DA}} = t_{\overrightarrow{CD}} \circ S_{(AC)} \circ S_{(\Delta)} \circ S_{(\Delta)} \circ S_{(DC)} = t_{\overrightarrow{CD}} \circ r_{(C; \frac{\pi}{2})} \\ = S_{(OO')} \circ S_{(BC)} \circ S_{(BC)} \circ S_{(AC)} = S_{(OO')} \circ S_{(AC)} = r_{(O; \frac{\pi}{2})}$$

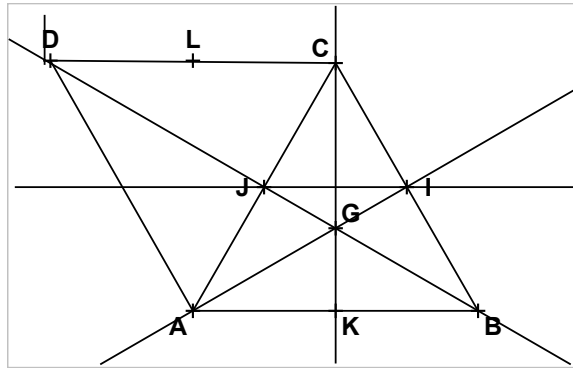
EXERCICE 2

ABC est un triangle équilatéral de centre G . D est le symétrique du point B par rapport à la droite (AC) .

I, J, K et L sont les milieux respectifs des côtés $[BC], [CA], [AB]$ et $[CD]$.

Soit f la symétrie glissée d'axe (IJ) et de vecteur \overrightarrow{AK} .

Détermine l'image de chacun des points A, C, J et L par f .



Corrigé

$f(A) = C$	$f(C) = B$	$f(J) = I$	$f(L) = K$
------------	------------	------------	------------

EXERCICE 3

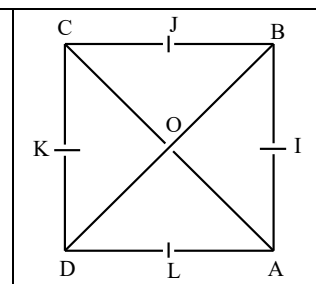
$ABCD$ est un carré de centre O .

I, J, K et L sont les milieux respectifs de $[AB], [BC], [CD]$ et $[DA]$.

On pose : $f = S_{(IL)} \circ t_{\overrightarrow{BC}}$ et $g = S_{(KI)} \circ t_{\overrightarrow{AC}}$

a) Détermine la nature et éléments caractéristiques de f .

b) Détermine la nature et éléments caractéristiques de g .



Corrigé

$f = S_{(AB)}$ et g est la symétrie glissée d'axe (AD) et de vecteur \overrightarrow{BC} .

IV. CLASSIFICATION DES ISOMÉTRIES

1. Ensemble des points invariants

Propriétés

- Une isométrie du plan qui laisse invariant trois points non alignés est l'application identique.
- Une isométrie du plan qui laisse invariant deux points distincts A et B et qui n'est pas l'application identique, est la symétrie orthogonale d'axe (AB).
- Une isométrie du plan qui laisse invariant un seul point A est une rotation de centre A.
- Une isométrie du plan qui ne laisse aucun point invariant est soit une translation, soit une symétrie glissée.

Exercice (5min)

Soit Γ un polygone régulier de centre O.

1. Démontre que si f est une isométrie laissant globalement invariant Γ , alors O est invariant par f .
2. Dédus-en que toute isométrie qui n'est pas l'application identique, laissant globalement invariant Γ , est une rotation ou une symétrie orthogonale.

Corrigé

1. Soit $\{A_i, 1 \leq i \leq n\}$ l'ensemble des sommets de Γ .

$O = \text{isobar}\{A_i, 1 \leq i \leq n\}$. f étant une isométrie, f conserve le barycentre d'un système de points pondérés en particulier $f(O) = \text{isobar}\{f(A_i), 1 \leq i \leq n\}$.

Or $f(\Gamma) = \Gamma$ c'est-à-dire $\{f(A_i), 1 \leq i \leq n\} = \{A_i, 1 \leq i \leq n\}$. Par suite $f(O) = O$.

2. Soit g une isométrie différente de l'identité et laissant globalement invariant Γ .

On a : O est un point invariant de g d'après 1). L'ensemble des points invariants de g est non vide. g est donc soit une symétrie orthogonale, soit une rotation.

2. Déplacement et antidéplacement

a) Définitions et propriétés

Définitions

- Un déplacement est une isométrie qui conserve les angles orientés.
- Un antidéplacement est une isométrie qui transforme tout angle orienté en son opposé.

Propriétés

- Toute isométrie est un déplacement ou un antidéplacement.
- Tout déplacement est une translation ou une rotation.
- Tout antidéplacement est une symétrie orthogonale ou une symétrie glissée.
- La transformation réciproque d'un déplacement est un déplacement.
- La transformation réciproque d'un antidéplacement est un antidéplacement.

Remarque :

L'application identique est un déplacement : c'est la translation de vecteur nul ou une rotation d'angle nul.

b) Composition de déplacements et d'antidéplacements

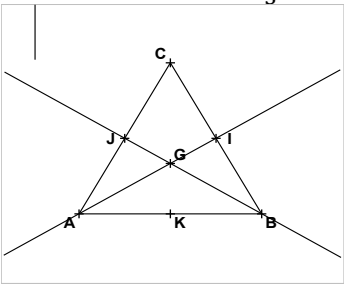
Propriété

- La composée de deux déplacements ou de deux antidéplacements est un déplacement.
- La composée d'un déplacement et d'un antidéplacement est un antidéplacement.

c) Tableau récapitulatif

Ensemble des points invariants	Le plan \mathcal{P}	La droite (D)	Le singleton $\{A\}$	\emptyset
Déplacement	$\text{Id}_{\mathcal{P}}$		Rotation de centre A et d'angle non nul	Translation de vecteur non nul.
Antidéplacement		$S_{(D)}$		Symétrie glissée

Exercice (3 min)

<p>Le plan est orienté. ABC est un triangle équilatéral de sens direct et de centre G. I, J et K sont les milieux respectifs des segments [BC], [CA] et [AB]. r est la rotation de centre G et d'angle de mesure $\frac{2\pi}{3}$.</p> 	<p>Complète le tableau suivant en mettant une croix dans la case qui convient, On pose : $r \circ r = r^2$.</p> <table border="1" style="width: 100%; text-align: center;"> <thead> <tr> <th>Isométries</th> <th>Déplacement</th> <th>Antidéplacement</th> </tr> </thead> <tbody> <tr> <td>r^2</td> <td></td> <td></td> </tr> <tr> <td>$S_{(AI)} \circ r$</td> <td></td> <td></td> </tr> <tr> <td>$S_{(BJ)} \circ S_I$</td> <td></td> <td></td> </tr> <tr> <td>$S_{(BJ)} \circ \text{Id}_{(\mathcal{P})}$</td> <td></td> <td></td> </tr> <tr> <td>$S_{(BJ)} \circ t_{\vec{AC}}$</td> <td></td> <td></td> </tr> <tr> <td>$S_{(AI)} \circ S_{(CK)}$</td> <td></td> <td></td> </tr> <tr> <td>$t_{\vec{AC}} \circ t_{\vec{GI}}$</td> <td></td> <td></td> </tr> </tbody> </table>	Isométries	Déplacement	Antidéplacement	r^2			$S_{(AI)} \circ r$			$S_{(BJ)} \circ S_I$			$S_{(BJ)} \circ \text{Id}_{(\mathcal{P})}$			$S_{(BJ)} \circ t_{\vec{AC}}$			$S_{(AI)} \circ S_{(CK)}$			$t_{\vec{AC}} \circ t_{\vec{GI}}$		
Isométries	Déplacement	Antidéplacement																							
r^2																									
$S_{(AI)} \circ r$																									
$S_{(BJ)} \circ S_I$																									
$S_{(BJ)} \circ \text{Id}_{(\mathcal{P})}$																									
$S_{(BJ)} \circ t_{\vec{AC}}$																									
$S_{(AI)} \circ S_{(CK)}$																									
$t_{\vec{AC}} \circ t_{\vec{GI}}$																									

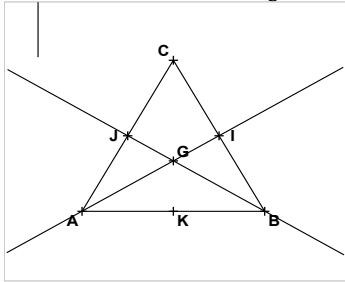
Corrigé

Isométries	Déplacement	Antidéplacement
r^2	X	
$S_{(AI)} \circ r$		X
$S_{(BJ)} \circ S_I$		X
$S_{(BJ)} \circ \text{Id}_{(\mathcal{P})}$		X
$S_{(BJ)} \circ t_{\vec{AC}}$		X
$S_{(AI)} \circ S_{(CK)}$	X	
$t_{\vec{AC}} \circ t_{\vec{GI}}$	X	

Exercice de maison

Le plan est orienté.

ABC est un triangle équilatéral de sens direct et de centre G.
I, J et K sont les milieux respectifs des segments [BC], [CA] et [AB].
r est la rotation de centre G et d'angle de mesure $\frac{2\pi}{3}$.



Complète le tableau suivant en déterminant la composée de chaque élément de la première colonne et de chaque élément de la première ligne.

On pose : $r \circ r = r^2$.

$\circ \sim$	$Id_{(\mathcal{P})}$	r	r^2	$S_{(AI)}$	$S_{(BJ)}$	$S_{(CK)}$
$Id_{(\mathcal{P})}$						
r						
r^2						
$S_{(AI)}$						
$S_{(BJ)}$						
$S_{(CK)}$						

V. DÉTERMINATION D'UNE ISOMÉTRIE

1. Détermination d'un déplacement

Propriété

Le plan est orienté.

A, B, A' et B' étant quatre points du plan tels que $AB=A'B'$ et $A \neq B$, il existe un unique déplacement f transformant A en A' et B en B'.

◇ Si $\overrightarrow{AB} = \overrightarrow{A'B'}$ alors f est la translation de vecteur $\overrightarrow{AA'}$;

◇ Si $\overrightarrow{AB} \neq \overrightarrow{A'B'}$ alors f est une rotation d'angle orienté $(\widehat{AB, A'B'})$.

Exercice (5 min)

Le plan est orienté.

Soit (Γ) un cercle de centre O et de diamètre [BC].

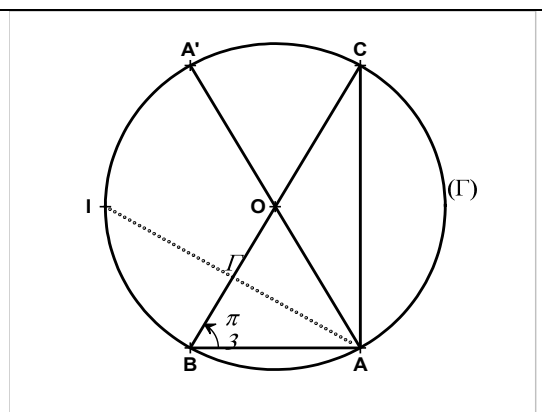
A le point de (Γ) tel que $\text{Mes}(\widehat{BA; BC}) = \frac{\pi}{3}$,

A' le point diamétralement opposé à A sur (Γ) et I = $S_{(BC)}(A)$.

1. Démontre qu'il existe une translation f telle que $f(A) = C$ et $f(B) = A'$.

2.a) Démontre qu'il existe un unique déplacement g tel que $g(A) = C$ et $g(B) = O$.

b) Démontre que g est une rotation dont on précisera l'angle.



Corrigé

1. $f(A)=C$ et $f(B)=A'$

$$\overrightarrow{AB} = -\overrightarrow{A'C} \text{ d'où } \overrightarrow{AB} = \overrightarrow{CA'}$$

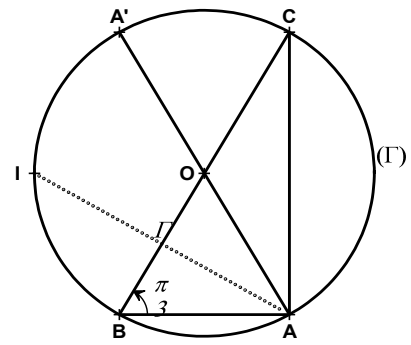
Donc il existe une translation qui applique A sur C et B sur A'. Son vecteur est \overrightarrow{AC} .

2.a) $g(A)=C$ et $g(B)=O$. $OA=OB$, le triangle OAB est isocèle et possède un angle de $\frac{\pi}{3}$, donc équilatéral.

D'où $OB=OC$ donc $AB=OC$, il existe un unique déplacement g tel que $g(A)=C$ et $g(B)=O$.

b) $\overrightarrow{AB} \neq \overrightarrow{CO}$, donc g est une rotation.

$$\text{Mes}(\overrightarrow{AB}; \overrightarrow{CO}) = \text{Mes}(\overrightarrow{CA'}; \overrightarrow{CO}) = \frac{\pi}{3}.$$



2. Détermination d'un antidéplacement

Propriété

Soit A, B, A' et B' quatre points du plan tels que $AB=A'B'$ et $A \neq B$.

Il existe un unique antidéplacement g transformant A en A' et B en B'.

◇ Si les segments $[AA']$ et $[BB']$ ont la même médiatrice (Δ), alors g est la symétrie orthogonale d'axe (Δ).

◇ Si les segments $[AA']$ et $[BB']$ ont des médiatrices différentes, alors g est une symétrie glissée.

Exercice (5 min)

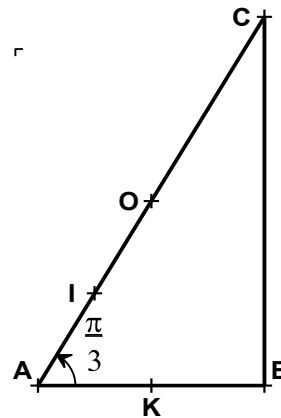
Dans le plan orienté, on considère un triangle ABC rectangle en B et tel que $\text{Mes}(\overrightarrow{AB}; \overrightarrow{AC}) = \frac{\pi}{3}$.

On désigne par O le milieu de $[AC]$ et par I le milieu de $[OA]$ et par K le milieu de $[AB]$.

1) Démontre qu'il existe une symétrie orthogonale f qui transforme B en O et K en I.

2) Soit g l'antidéplacement qui transforme B en A et A en O.

Démontre que g est une symétrie glissée puis détermine ses éléments caractéristiques.



Corrigé

1) $f(B)=O$ et $f(K)=I$

$KB = \frac{1}{2}AB$ et $OI = \frac{1}{2}AO$ or AOB est un triangle équilatéral (car isocèle et possède un angle de mesure $\frac{\pi}{3}$.) Donc $AB = AO$ d'où $KB = OI$.

Par ailleurs les segments $[KI]$ et $[BO]$ ont la même médiatrice. (En effet AIK et ABO sont des triangles équilatéraux et $(KI) \parallel (BO)$). Donc f est une symétrie orthogonale.

2) $g(B)=A$ et $g(A)=O$

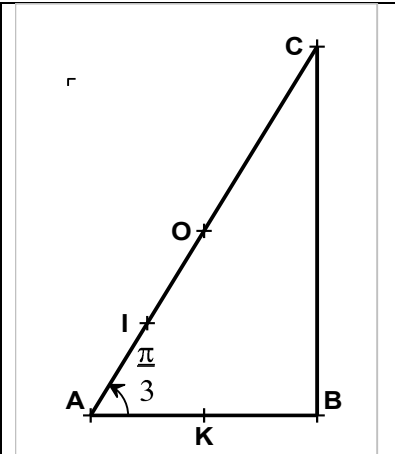
AOB est équilatéral, donc $AB=AO$.

Par ailleurs les segments $[AB]$ et $[AO]$ ont des médiatrices différentes.

Donc g est une symétrie glissée.

Axe : droite (KI)

Vecteur : $\frac{1}{2}\vec{BO} = \vec{KI}$



3 Exercices

EXERCICE 1

Pour chaque affirmation, écris le numéro de l'affirmation suivi de la lettre correspondant à la bonne réponse.

N°	Affirmation	A	B	C
1	Si $t_{\vec{u}}$ et $t_{\vec{v}}$ sont des translations alors $t_{\vec{u}} \circ t_{\vec{v}} =$	$t_{\vec{u}+\vec{v}}$	$t_{\vec{u}-\vec{v}}$	$t_{\vec{u}-\vec{v}}$
2	Si (D) et (D') sont des droites parallèles et que $S_{(D)}$ et $S_{(D')}$ sont des symétries orthogonales alors $S_{(D)} \circ S_{(D')}$ est une	Translation	Rotation	Symétrie orthogonale
3	Si r et t sont respectivement une rotation d'angle non nul et une translation alors $r \circ t$ est	Translation	Rotation	Symétrie orthogonale
4	Si $S_{(\Delta)}$ et $t_{\vec{u}}$ sont respectivement une symétrie orthogonale d'axe (Δ) et une translation de vecteur \vec{u} normal à (Δ) alors $S_{(\Delta)} \circ t_{\vec{u}}$ est	Translation	Symétrie glissée	Symétrie orthogonale
5	Si $S_{(\Delta)}$ et $t_{\vec{u}}$ sont respectivement une symétrie orthogonale d'axe (Δ) et une translation de vecteur \vec{u} alors $S_{(\Delta)} \circ t_{\vec{u}} = t_{\vec{u}} \circ S_{(\Delta)}$ lorsque	\vec{u} est normal à (Δ)	\vec{u} est un vecteur directeur de (Δ)	\vec{u} est ni un vecteur directeur de (Δ) et ni normal à (Δ)
6	Si $S_{(\Delta)}$ et r sont respectivement une symétrie orthogonale d'axe (Δ) et une rotation de centre $O \notin (\Delta)$, alors $S_{(\Delta)} \circ r$ est	Rotation	Symétrie glissée	Symétrie orthogonale

EXERCICE 2

ABCD est un rectangle direct de centre O. Déterminer la transformation f dans chacun des cas suivants :

1. $f = S_{(DC)} \circ S_{(AB)}$.	2. $f = S_{(AC)} \circ r_{(A; \pi/2)}$.	3. $f = S_{(DC)} \circ S_{(AC)}$.
4. $f = r_{(C; -\pi/2)} \circ r_{(A; \pi/2)}$	5. $f = t_{\overline{2AD}} \circ r_{(A; -\pi/2)}$	6. $f = t_{\overline{DC}} \circ t_{\overline{DA}}$.
7. $f = r_{(C; \pi/2)} \circ S_D \circ r_{(A; \pi/2)}$		

EXERCICE 3

Soit ABCD un quadrilatère convexe de sens direct. On construit, à l'extérieur de ce quadrilatère, les triangles rectangles isocèles IAB, JBC, KCD, LDA de sommets respectifs I, J, K, L. On désigne par O le milieu de [AC].

a) Soit r_I et r_J les rotations d'angles $\frac{\pi}{2}$ de centres respectifs I et J.

Étudier la transformation $r_I \circ r_J$. En déduire que le triangle OIJ est rectangle isocèle en O.

b) Démontrer de même que le triangle OKL est rectangle isocèle en O.

c) Démontrer que $IK = JL$ et que les droites (IK) et (JL) sont perpendiculaires.

EXERCICE 4

Soit (C) un cercle de centre O, A et B deux points tels que O n'appartienne pas à la droite (AB). Construire, au compas, les points d'intersection de la droite (AB) et du cercle (C).

EXERCICE 5

Soit (D₁); (D₂) et (D₃) trois droites distinctes parallèles.

Construire un triangle équilatéral ABC tel que : $A \in (D_1)$; $B \in (D_2)$ et $C \in (D_3)$.

EXERCICE 6

ABCD et AEFG sont des carrés de sens direct et H est le point tel que ADHE soit un parallélogramme.

Démontrer que les droites (BH) et (CG) sont perpendiculaires et que $BH = CG$.

EXERCICE 7

ABC est un triangle équilatéral de sens direct. On désigne par (C) le cercle circonscrit à ABC et O son centre. La médiatrice de [BC] coupe (C) en A et D. On note A' le point d'intersection des droites (BD) et (AC).

1) Démontrer que A' est le symétrique de A par rapport à C.

2) Déterminer la nature et les éléments caractéristiques des transformations suivantes :

a) $S_{(BD)} \circ S_{(DC)}$.

b) $S_{(CA)} \circ S_{(AB)}$.

c) $S_{(DC)} \circ S_{(CA)}$.

3) On note $f = S_{(BD)} \circ S_C \circ S_{(AB)}$.

a) Déterminer $f(A)$ puis la nature et les éléments caractéristiques de f .

b) En déduire la nature de la transformation $S_{(BD)} \circ S_C$.

EXERCICE 8

Dans un plan orienté on considère un losange ABCD tel que $AB = BC = CD = DA = 5$ et

$mes(\overrightarrow{AB}, \overrightarrow{AD}) = \frac{\pi}{3}$. On désigne par I, J, K, L et O les milieux respectifs des segments [AB], [BC], [CD], [DA] et [BD]. On note (Δ) la médiatrice de [AB] et (Δ') celle de [CD].

1. Soit f l'isométrie du plan définie par $f(A) = B$, $f(B) = D$ et $f(D) = C$.

2. a) Prouver que f est un antidéplacement.

b) Démontrer que f est une symétrie glissée.

3. Soit $S_{(\Delta)}$ la symétrie d'axe (Δ) et r la rotation de centre B et d'angle $-\frac{\pi}{3}$.

a) Démontrer que $f = r \circ S_{(\Delta)}$.

b) A-t-on $f = S_{(\Delta)} \circ r$?

4. Soit $S_{(BC)}$ la symétrie d'axe (BC). a) Déterminer l'axe de la symétrie orthogonale s telle que $r = S_{(BC)} \circ s$.

b) En déduire que f peut s'écrire sous la forme $f = S_{(BC)} \circ t_1$ où t_1 est une translation dont on précisera le vecteur.

5. Soit t_2 la translation de vecteur $\frac{1}{2}\overrightarrow{AD}$, on pose $g = t_2^{-1} \circ f$.

a) Déterminer $g(D)$, $g(I)$ et $g(O)$. Déterminer g .

b) En déduire l'axe et le vecteur de f .

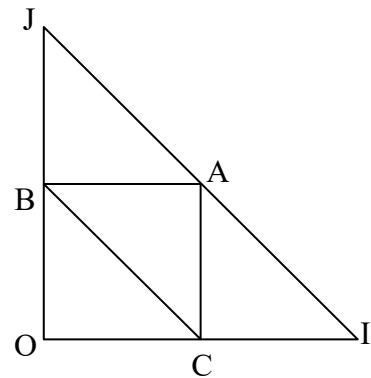
4. SITUATION COMPLEXE

Lors d'une sortie détente du club de Mathématiques d'un lycée, on propose un jeu dont le support est la figure ci-contre.

Dans cette figure, les triangles BAC , BOC , CIA , BAJ sont isocèles rectangles et superposables

Ce jeu consiste à trouver les transformations du plan permettant de transformer le triangle CIA en chacun des cinq triangles de la figure.

Aucun élève de terminale C n'ayant participé à cette sortie, les élèves présents éprouvent des difficultés pour trouver toutes les solutions.



En utilisant les outils mathématiques au programme, trouve la solution à ce jeu.