

BEPC
SESSION 2026
ZONE : III

Coefficient : 2
Durée : 2 h

HISTOIRE-GEOGRAPHIE

*Cette épreuve comporte deux (02) pages numérotées 1/2 et 2/2.
Le candidat recevra une feuille de papier millimétré.*

EXERCICE I (4 points)

A/ Reconstitue le texte à trous ci-dessous en mettant à la place qui convient, les mots ou groupes de mots suivants :

les végétations – le développement du secteur privé – les conflits sociopolitiques – grandes potentialités – l'agriculture – quelques industries – produits bruts – les plateaux.

L'Afrique dispose de Le relief est dominé par Les climats, et les sols sont variés. Le réseau hydrographique est dense et le sous-sol riche. La population, nombreuse et jeune, pratique surtout complétée par l'élevage, la pêche, le tourisme, les transports et Malgré ces atouts, l'Afrique ne représente qu'une faible part dans le commerce mondial parce qu'elle propose essentiellement des Son développement est freiné également La bonne gouvernance et constituent des voies de solutions.

B/ Associe, sur ta feuille de copie, le chiffre de l'affirmation à la lettre de la réponse juste.

1. Le Chancelier Otto Von Bismarck a été à l'initiative de :	<input type="checkbox"/> a. la ruée coloniale <input checked="" type="checkbox"/> b. le Congrès de Berlin <input type="checkbox"/> c. la conférence de Brazzaville
2. Le génocide du Rwanda est marqué par :	<input checked="" type="checkbox"/> a. le massacre des Tutsis <input type="checkbox"/> b. le massacre des Twa <input type="checkbox"/> c. le massacre des Hutus
3. L'Union Africaine a été créée au :	<input checked="" type="checkbox"/> a. sommet de Durban en juillet 2002 <input type="checkbox"/> b. sommet de Syrte en septembre 1999 <input type="checkbox"/> c. sommet de Lomé en juillet 2000
4. La durée du mandat du Secrétaire Général de l'ONU est de :	<input type="checkbox"/> a. 3 ans <input type="checkbox"/> b. 4 ans <input checked="" type="checkbox"/> c. 5 ans

EXERCICE II

(10 points)

Dans le cadre de la préparation de votre examen du BEPC, tes camarades de classe et toi suivez un débat télévisé sur le Rwanda diffusé sur la chaîne nationale RTI1. L'un des intervenants affirme : « La tragédie rwandaise est un crime contre l'Humanité ». Au cours des échanges, l'autre intervenant ajoute ceci : « le Rwanda qui a traversé une telle épreuve, renaît de ses cendres aujourd'hui ».

Consignes/Question :

- 1) Dis de quoi il est question dans la situation.
- 2) Explique le passage suivant de la situation : « La tragédie rwandaise est un crime contre l'Humanité ».
- 3) Partages-tu l'avis du second intervenant lorsqu'il dit : « le Rwanda qui a traversé une telle épreuve, renaît de ses cendres aujourd'hui » ? Justifie ta réponse.

EXERCICE III (6 points)

La part des principaux fournisseurs de la Côte d'Ivoire en janvier 2025

Pays	Nigeria	Chine	France
Part (%)	43,18	41,13	15,69

Source : document adapté à partir de ANSTAT, Note sur les échanges de marchandises de la Côte d'Ivoire-janvier 2025, p.09.

Consignes :

- 1) Construis dans un diagramme circulaire, la part des principaux fournisseurs de la Côte d'Ivoire en janvier 2025.
Echelle :
5 cm \longrightarrow rayon
- 2) Réalise une légende appropriée.
- 3) Donne un titre au diagramme circulaire réalisé.

BEPc SESSION 2026
CORRIGÉ - BAREME HISTOIRE - GEO ZONE III

CORRIGE	BAREME
<p><u>Exercice I</u></p>	<p>(24 points)</p>
<p>A</p> <p>L'Afrique dispose de grandes potentialités. Le relief est dominé par les plateaux. Les climats, les végétations et les sols sont variés. Le réseau hydrographique est dense et le sous-sol riche. La population, nombreuse et jeune, pratique surtout l'agriculture, complétée par l'élevage, la pêche, le tourisme, les transports et quelques industries. Malgré ces atouts, l'Afrique ne représente qu'une faible part dans le commerce mondial parce qu'elle propose essentiellement des produits bruts. Son développement est freiné également par les conflits sociopolitiques. La bonne gouvernance et le développement du secteur privé constituent des voies de solutions.</p>	<p>2,5 pt par réponse juste</p>
<p>B.</p> <p>1-b ; 2-a ; 3-a ; 4-c</p>	<p>0,50 pt par réponse juste</p>

DIRECTION DES EXAMENS ET CONCOURS
Ce barème est national. Seule la commission nationale des corrigés-barèmes est habilitée à le modifier.

1/5

BEPC-SESSION 2026
CORRIGE-BAREME : HISTOIRE-GEOGRAPHIE ZONE 3

CORRIGE	BAREME
<p>Exercice II</p>	(10 points)
<p>1. Le candidat propose l'une des réponses suivantes :</p> <ul style="list-style-type: none">- Dans la situation, il est question du génocide des Tutsi du Rwanda.- Dans la situation, il est question du génocide rwandais.	2 pts
<p>2. Le candidat expliquera le passage de la situation en montrant le désordre et le chaos qui ont débité au Rwanda à partir d'avril 1994. Cela s'est manifesté par :</p> <ul style="list-style-type: none">- l'assassinat massif des Tutsi du Rwanda qui a atteint environ 1 million de morts en trois (3) mois, d'avril à juin et 1994, est un génocide.- C'est "un acte qui a marqué négativement le monde.- C'est un génocide qui revêt plusieurs caractères : atroces, horrible, tragique, meurtrier, car les Hutu ont assassiné les Tutsi à l'aide d'armes sommaires.	4 pts

DIRECTION DES EXAMENS ET CONCOURS

Ce barème est national. Seule la commission nationale des corrigés-barèmes est habilitée à le modifier.

2/5

CORRIGE	BAREME
telles que les gourdiens cloutés, les machettes, les haches...	
3. Le candidat répondra par l'affirmative.	1 pt
Il justifiera sa réponse par: - la création du TPIR (Tribunal Pénal International pour le Rwanda) chargé de condamner les auteurs de crimes du génocide.	
- la mise en place des tribunaux locaux nommés les Gacaca pour la réconciliation des Rwandais.	3 pts
- la reconstruction et le développement économique du Rwanda.	
- le Rwanda est aujourd'hui un pays stable où règne la cohésion sociale entre Hutu, Tutsi et Twa.	

DIRECTION DES EXAMENS ET CONCOURS

Ce barème est national. Seule la commission nationale des corrigés-barèmes est habilitée à le modifier.

3/5

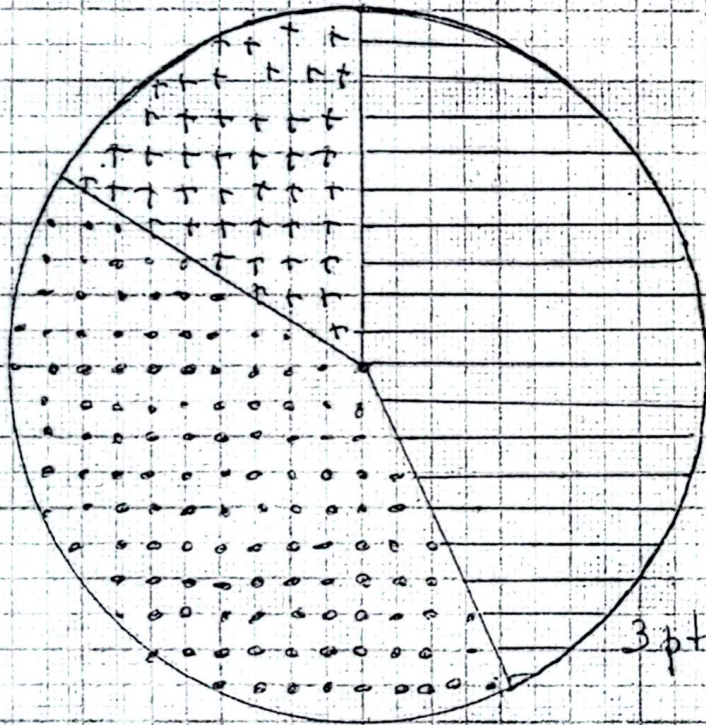
CORRIGE	BAREME
<u>Exercice III</u>	(6 points)
*Nigeria : 155° ; Chine : 148° ; France : 57°	
- Titre : 1 point	1 point
- Légende : 0,5 point par caisson	1,5 points
- Echelle : 0,5 point	0,5 point
- Justesse de la construction : 3 points	3 points

DIRECTION DES EXAMENS ET CONCOURS
Ce barème est national. Seule la commission nationale des corrigés-barèmes est habilitée à le modifier.


4/5

**PART DES PRINCIPAUX FOURNISSEURS
DE LA CÔTE D'IVOIRE EN JANVIER 2025**


1 pt




LEGENDE



: Nigeria 0,5 pt



: Chine 0,5 pt



: France 0,5 pt

ECHELLE

Rayon : 5 cm.

0,5 pt

3 pts

5/5