

Ablanian.com

Ablanian.com
Nos produits, vos solutions !

www.totale-reussite.com

+225 07 09 26 30 37

Fomesoutra.com
ça soutra !



PREPARATION CAFOP 2022

ANCIENS SUJETS CORRIGES DE CULTURE GENERALE

Tous les documents pour réussir vos concours sont sûrs www.totale-reussite.com

Toute reproduction ou vente illégale est passive de poursuite judiciaire. Tous droits réservés.

Table des matières

CONCOURS DIRECT D'ENTREE AU CAFOP (INSTITUTEUR ADJOINT) SESSION 2021(2^{ème} session)	3
CONCOURS DIRECT D'ENTREE AU CAFOP (INSTITUTEUR ADJOINT) SESSION 2021	5
CONCOURS DIRECT D'ENTREE AU CAFOP (INSTITUTEUR ADJOINT) SESSION 2019	8
CONCOURS DIRECT D'ENTREE AU CAFOP (INSTITUTEUR ADJOINT) SESSION 2019 RECRUTEMENT EXCEPTIONNEL.....	11
CONCOURS DIRECT D'ENTREE AU CAFOP (INSTITUTEUR ADJOINT) SESSION 2017	14
CONCOURS DIRECT D'ENTREE AU CAFOP (INSTITUTEUR ADJOINT) SESSION 2018	17
CONCOURS DIRECT D'ENTREE AU CAFOP (INSTITUTEUR ADJOINT) SESSION 2010	19
CONCOURS DIRECT D'ENTREE AU CAFOP (INSTITUTEUR ADJOINT) SESSION 2009	21
CONCOURS DIRECT D'ENTREE AU CAFOP (INSTITUTEUR ADJOINT) SESSION 2008	23
CONCOURS DIRECT D'ENTREE AU CAFOP (INSTITUTEUR ADJOINT) SESSION 2007	25
CONCOURS DIRECT D'ENTREE AU CAFOP (INSTITUTEUR ADJOINT) SESSION 2006	27
CONCOURS DIRECT D'ENTREE AU CAFOP (INSTITUTEUR ADJOINT) SESSION 2005	29
CONCOURS DIRECT D'ENTREE AU CAFOP (INSTITUTEUR ADJOINT) SESSION 2004	31
CONCOURS DIRECT D'ENTREE AU CAFOP (INSTITUTEUR ADJOINT) SESSION 2002	33
CONCOURS DIRECT D'ENTREE AU CAFOP (INSTITUTEUR ADJOINT) SESSION 2001	35
CONCOURS DIRECT D'ENTREE AU CAFOP (INSTITUTEUR ADJOINT) SESSION 2000	37
CORRECTION CONCOURS DIRECT D'ENTREE AU CAFOP (INSTITUTEUR ADJOINT) SESSION 2021 IA	40
CORRECTION CONCOURS DIRECT D'ENTREE AU CAFOP (INSTITUTEUR ADJOINT) SESSION 2019 IA	43
CORRECTION CONCOURS DIRECT D'ENTREE AU CAFOP (INSTITUTEUR ADJOINT) SESSION 2019 RECRUTEMENT EXCEPTIONNEL.....	46
CORRECTION CONCOURS DIRECT D'ENTREE AU CAFOP (INSTITUTEUR ADJOINT) SESSION 2018.....	49
CORRECTION CONCOURS DIRECT D'ENTREE AU CAFOP (INSTITUTEUR ADJOINT) SESSION 2017.....	51
CORRECTION CONCOURS DIRECT D'ENTREE AU CAFOP (INSTITUTEUR ADJOINT) SESSION 2010.....	54
CORRECTION CONCOURS DIRECT D'ENTREE AU CAFOP (INSTITUTEUR ADJOINT) SESSION 2009.....	57
CORRECTION CONCOURS DIRECT D'ENTREE AU CAFOP (INSTITUTEUR ADJOINT) SESSION 2008.....	60
CORRECTION CONCOURS DIRECT D'ENTREE AU CAFOP (INSTITUTEUR ADJOINT) SESSION 2007.....	62
CORRECTION CONCOURS DIRECT D'ENTREE AU CAFOP (INSTITUTEUR ADJOINT) SESSION 2006.....	64
CORRECTION CONCOURS DIRECT D'ENTREE AU CAFOP (INSTITUTEUR ADJOINT) SESSION 2005.....	66
CORRECTION CONCOURS DIRECT D'ENTREE AU CAFOP (INSTITUTEUR ADJOINT) SESSION 2004.....	68
CORRECTION CONCOURS DIRECT D'ENTREE AU CAFOP (INSTITUTEUR ADJOINT) SESSION 2002.....	71
CORRECTION CONCOURS DIRECT D'ENTREE AU CAFOP (INSTITUTEUR ADJOINT) SESSION 2001.....	73
CORRECTION CONCOURS DIRECT D'ENTREE AU CAFOP (INSTITUTEUR ADJOINT) SESSION 2000.....	75

SUJETS

CONCOURS DIRECT D'ENTREE AU CAFOP (INSTITUTEUR ADJOINT)
SESSION 2021(2^{ème} session)

I. ARTS — CULTURE — SPORT

1- Relie chaque danse à sa région d'origine :

- | | | |
|-----------|---|---------|
| Tématé ● | ● | Gagnoa |
| Zagrobi ● | ● | Facobly |
| Boloye ● | ● | Dabou |
| Soman ● | ● | Korhogo |
| | ● | Bouaflé |

2- Dans quel pays se dérouleront les jeux olympiques 2021?

3- Parmi les techniques suivantes: La radio ; la télévision ; le téléphone fixe ; le cinéma ; le magnétophone ; la photographie ; l'ordinateur multimédia, relève celles qui sont des techniques audiovisuelles.

II. LITTERATURE

1- Trouve deux homonymes de « sain » et emploie chacun d'eux dans une phrase.

2- Réécris la phrase suivante à la forme active : « De nombreuses maladies ont été vaincues »

3- Ecris au pluriel les groupes nominaux ci-dessous :

- Un genou
- Un pneu
- Un oiseau bleu
- Cache-nez
- Laisser-passer
- Coffre-fort
- Avant-scène.

III. SCIENCES

- 1- Que signifie le sigle BCG ?
- 2- Ecris la formule conventionnelle du poids.
- 3- Indique les différentes transformations subies par les lipides, les glucides et les protides dans le tube digestif.

IV. HISTOIRE

1- Situe les évènements suivants sur une frise chronologique :

- 10 mars 1893 : création de la colonie de côte d'ivoire
- 7 août 1960: Indépendance de la Côte d'Ivoire
- 1492: Découverte de l'Amérique.

2. Complète le tableau suivant :

Année	-----	1235	-----	1999	-----	649
Siècle	XIX	-----	IX	-----	XV	-----

V. GEOGRAPHIE

1- Définis :

- Le solde migratoire
- Accroissement naturel
- Emigration

2- Voici une liste de personnalités : Le Député — Le Président de la République - Le Président de l'Assemblée Nationale — Le Maire — Le Préfet — L'Inspecteur Général — Le Directeur de la DECO — Le Chef de circonscription de l'enseignement primaire. Classe-les dans le tableau ci-dessous :

Elus au suffrage universel direct	Elus au suffrage universel indirect	Nommés

CONCOURS DIRECT D'ENTREE AU CAFOP (INSTITUTEUR ADJOINT)
SESSION 2021

I. ARTS – CULTURE – SPORT

1- Donne le nom des pays des rythmes suivants :

- Zouglou
- Rumba
- Zouk
- Salsa
- Makossa

2- La Côte d'Ivoire a remporté la coupe d'Afrique de football en :
1970 – 2015 – 1995 – 1925 – 1982

Entoure les bonnes réponses

3- Donne le nombre de joueurs d'une équipe sur un terrain de :

- Football
- Hand-ball
- Volley-ball

4- Donne le nom de deux instruments à vent.

II. LITTERATURE

1- Dans les phrases ci-dessous, souligne le complément d'objet direct (COD) et entoure le complément d'objet indirect (COI).

- L'instituteur enseigne l'histoire à ses élèves.
- Elle informe les élèves de la prochaine composition.

2- Relie chaque œuvre à son auteur :

- | | |
|-------------------------|--------------------|
| L'ordonnance ● | ● Chinua Achébé |
| Les frasques d'Ebinto ● | ● Bernard B. Dadié |
| Le monde s'effondre ● | ● Soro Guéfala. |
| Monsieur Thogôgnini ● | ● Amadou Koné |

III. SCIENCES

1- Voici les différents groupes sanguins : O – A – B - AB

- a) Construis le schéma de groupe sanguin
- b) Indique le donneur universel et le receveur universel

2- Entoure les maladies provoquées par un virus dans la liste des maladies suivantes :

Tuberculose – Sida – choléra – Covid – 19 – Tétanos – fièvre typhoïde – grippe – Ebola

3- Enumère les différentes parties d'une fleur d'hibiscus.

IV. HISTOIRE

1- Entoure la bonne réponse :

La Côte d'Ivoire compte :

- a) 15 – 31 – 18 – 30 régions
- b) 4 – 7 – 3 – 2 – districts autonomes
- c) 201 – 108 – 120 – 110 départements

2- Parmi les noms suivants, indique deux explorateurs de la Côte d'Ivoire : Christophe Colombe – Louis Gustave Binger – Magellan – Arthur Verdier

3- Relie les changements politiques obtenus par les africains aux différentes années suivantes :

L'Union Africaine	•	• 1958
La Loi Cadre	•	• 1946
La communauté franco africaine	•	• 1956

V. GEOGRAPHIE

1. Voici une liste de personnalités : Le Député – Le Président de la République – Le Président de l'Assemblée Nationale – Le Maire – Le Préfet – L'Inspecteur Général – Le Directeur de la DECO – Le Chef de circonscription de l'enseignement primaire.

Classe-les dans le tableau ci-dessous

Elus au suffrage universel direct	Elus au suffrage universel indirect	Nommés

2. Relie les animaux au type de viande qu'ils produisent

- Le mouton •
- Le bœuf •
- Le cabri •
- La poule •
- La viande de volailles
- La viande d'ovins
- La viande de bovins
- La viande de caprins

CONCOURS DIRECT D'ENTREE AU CAFOP (INSTITUTEUR ADJOINT)
SESSION 2019

I. ARTS – CULTURE – SPORT

1- Donnez le nom du réalisateur du film “ **Au nom du Christ** ”.

Dites le nom de l'acteur principal de ce film.

2- Complétez le tableau ci-dessous :

Athlètes	Sports	Nationalité
Didier Drogba		
Marie-José Talou		
Ruth Gbagbi		
Murielle AHOURE		
Max brito		

3- Dans quelle ville se sont déroulés les derniers jeux de la Francophonie ?

II. LITTERATURE

1- Entoure la bonne expression :

- a) Avoir comme l'impression / Avoir l'impression
- b) A la suite de votre lettre / Suite à votre lettre.
- c) Le tran-tran quotidien / Le train-train quotidien.
- d) Pour finir / Par finir

2- Ecris correctement les verbes entre parenthèse :

- a) Les mangues que j'ai (manger) sont mûres.
- b) Les filles se sont (laver) les mains
- c) Elles se sont (regarder) méchamment.

d) La chanson que nous avons (entendre) chanter me plait.

3- Comment appelle-t-on un vers de :

- Huit (08) syllabes ?
- Dix (10) syllabes ?
- Cinq (05) syllabes ?

III. GEOGRAPHIE

Complétez le tableau ci-dessous

Régions	climat	Végétation	2 principales cultures vivrières	Relief
Centre de la Côte d'Ivoire				
Nord de la Côte d'Ivoire				
Ouest de la Côte d'Ivoire				

IV. EDHC

Indique " **Vrai** " ou " **Faux** " au regard de chaque affirmation.

1 - Le congé maladie est classé dans la catégorie ou type de congés administratifs

2 - La décentralisation est un procédé technique de développement qui octroie la liberté des collectivités territoriales pour régler leurs affaires considérées comme locales

3 - Le contribuable est le citoyen d'un pays

4 - Relie chaque couleur à sa symbolique.

- Le vert ● ● la gaité
- Le jaune ● ● La jeunesse vivace
- Le violet ● ● la dignité

Le rouge ● ● La violence

V. SCIENCES

1 - Complète la phrase suivante par les mots : **diminution**, **augmentation**

L'eau se solidifie avec de volume alors que la paraffine liquide se solidifie avec de volume.

2 - Il existe deux types de vaporisation. Nommez-les.

3 - Donnez les trois principales caractéristiques qui permettent de définir un écosystème.

**CONCOURS DIRECT D'ENTREE AU CAFOP (INSTITUTEUR ADJOINT)
SESSION 2019 RECRUTEMENT EXCEPTIONNEL**

I. ARTS – CULTURE – SPORT

1- Cite trois symboles de la République de Côte d'Ivoire.

2- Complète le tableau suivant :

Danse	Ville
Boloye	
	Bonoua
Kotou	
	Facobly
Goli	
	Zuénoula

3- Quelles sont les principes des droits de l'enfant ?

4- Donne le mode de désignation du

- Président de l'Assemblée Nationale.
- Président de la République.
- Président du Conseil Economique, Social et de l'Environnement.
- Maire.
- Préfet.
- Député.

II. LITTERATURE

1- Nomme les rimes suivantes :

- AABB
- ABAB
- ABBA

2- Cite trois écrivains ayant remporté le grand prix littéraire d'Afrique Noire.

3- Explique les expressions soulignées :

a) J'ai accepté son invitation du bout des lèvres.

b) Il réussira son projet car il a quelque chose dans le ventre.

4- Ecris correctement les mots entre parenthèses :

a) Nous découvrons les (vrai) délices de la région.

b) Peut-on oublier nos (anciens) amours ?

c) Les (nouveaux) trophées sont les vitrines.

5- Complète le tableau

Adjectifs	Adverbes
Savant	
Méchant	
Prudent	
Assidu	
Goulu	

III. GEOGRAPHIE

1- Cite les facteurs de la croissance démographique en Côte d'Ivoire.

2- Mets une croix dans la case correspondante.

Peuples \ Région	Nord	Centre	Sud	Est	Ouest
Sénoufo					
Malinké					
Yacouba					
Baoulé					
Koulango					
Abouré					
Adioukro					

3- Cite les voies de communication possibles pour aller d'Abidjan à Ferkessédougou. Pour chaque voie, indique les principales villes traversées.

IV. HISTOIRE

Classe dans l'ordre croissant les années suivantes dans le tableau ci-dessous et écris les siècles correspondantes : 1212 – 2019 – 675 – 1100 – 1801.

Années						
Siècles						

V. SCIENCES

- 1) Citez les organes purificateurs du sang.
- 2) Faire le schéma de la transfusion sanguine.

CONCOURS DIRECT D'ENTREE AU CAFOP (INSTITUTEUR ADJOINT)
SESSION 2017

I. ARTS – CULTURES – SPORTS

1- Qui détient le record du monde au 100 m.

2- Voici la liste des merveilles du monde ; mets une croix dans la case qui convient

Les Merveilles du Monde	Les anciennes Merveilles	Les nouvelles Merveilles
La statue du Christ Rédempteur		
Le Phare d'Alexandrie		
La Grande Muraille de Chine		
Le Colosse de Rhodes		

3- Nomme trois institutions de la République de Côte d'Ivoire et leur président.

II. LITTERATURE

1- Ecris correctement les mots entre parenthèses :

- Les oisillons sont (devenir) grands.
- Trois jeunes filles et deux garçonnetts se sont (blesser).

2- Analyse logique de la phrase suivante :

<< Cette école qui ne touchait en fait qu'une minorité, avait un caractère utilitaire >>.

3- Ecris vrai ou faux devant chaque réponse :

En littérature, une nouvelle est :

- Un court récit
- Un très long roman

- Une œuvre qui vient de paraître

III. SCIENCES

1- Annote le schéma ci-dessous en associant chaque organe au numéro correspondant.



2- Qu'appelle-t-on plante autotrophe ?

3- Indique le rôle des dents suivantes :

- Les incisives ;
- Les canines ;
- Les molaires ;

IV. HISTOIRE

1) Complète le tableau suivant :

Année	Nombre de jours
Civile	
Bissextile	
Astronomique	

2) Voici une liste de peuples de Côte d'Ivoire :

- Attié
- Gagou
- Baoulé
- Bakwé
- Nzima
- Lobi
- Krobou.

a) Lesquels sont appelés peuples lagunaires ?

b) Quelles sont leurs activités principales ?

VI. GEOGRAPHIE

1- Voici des villes de Côte d'Ivoire : Bingerville – Bouaké – Daloa – Ferkessédougou – Dimbokro – Yamoussoukro – Anyama.

Relève celles qui sont traversées par le chemin de fer.

2- Enumère les fleuves de la Côte d'Ivoire d'Est en Ouest.

CONCOURS DIRECT D'ENTREE AU CAFOP (INSTITUTEUR ADJOINT)
SESSION 2018

I. ARTS – CULTURE – SPORT

- 1- Donne le nom du joueur appelé " l'homme d'Asmara ".
- 2- Cite trois organismes de défense des droits de l'enfant.
- 3- Qu'appelle-t-on couleur secondaire ?
- 4- Voici une liste d'instruments de musique. Relie chaque instrument à sa famille.

- | | | | |
|---------|---|---|-------------------------|
| Piano | ● | ● | instrument à vent |
| Flute | ● | ● | instrument à corde |
| Tambour | ● | ● | instrument à percussion |

II. LITTERATURE

- 1- La publicité est dangereuse.
 - a) Identifie le type de cette phrase.
 - b) Réécris-la à la forme interrrogative.
- 2- Ecris la phrase ci-dessous au passé simple de l'indicatif :
« Face au modernisme, nous savons que notre santé est menacée. »
- 3- Complète le tableau suivant :

Adjectifs	Noms	Adverbes
Prompt		
frais		

III. SCIENCES

- 1- Voici une liste d'éléments du sang :
 - globules rouges
 - CO₂

- globules blancs
- O₂
- plaquettes sanguines
- plasma.

Relève ceux qui sont les éléments figurés du sang.

2- Cite deux maladies de l'œil et deux anomalies de l'œil.

3- Ecris faux ou vrai devant les affirmations suivantes :

- a) Dans un électrolyte, les porteurs de charge en mouvement sont les ions.
- b) Les ions positifs migrent dans le sens opposé à celui du courant.

IV. HISTOIRE

1- Que signifie CEI ?

2- Qui est le secrétaire général de l'ONU ? Indique sa nationalité.

V. GEOGRAPHIE

1- Enumère les principaux climats de la Côte d'Ivoire et localise-les.

2- Propose deux solutions pour lutter contre la déforestation.

CONCOURS DIRECT D'ENTREE AU CAFOP (INSTITUTEUR ADJOINT)
SESSION 2010

I. ARTS – CULTURE – SPORTS

- 1- Que veut dire chanter à “ cappella ” ?
- 2- Qu'est-ce qu'une couleur chaude ? Citez-en deux.
- 3- Dans quel pays se sont déroulés les derniers jeux de la Francophonie ?

II. LITTERATURE

1- Citez les écrivains ivoiriens ayant remporté le grand prix littéraire d'Afrique noire.

2- Ecrivez correctement les participes passés des verbes entre parenthèses :

- Elles se sont (sourire) en entrant en classe.
- J'ai reçu nos rapports, j'en ai déjà (parcourir).
- Les soldats que j'ai (voir) courir dans la plaine.
- Elles se sont (plaire).

3- Mettez ces noms composés au pluriel.

Un nouveau-né ;

Un garde-chasse ;

Un abat-jour ;

Un terre-plein.

III. SCIENCES

1 – Chaque mot ci-dessous peut être utilisé lorsqu'on parle de contraception.

Associez à chacun l'une de ces propositions suivante :

- a) Spermicide

b) Préservatif

c) Stérilet

d) Pilule

Empêche l'ovulation

Empêche la nidation

Détruit les spermatozoïdes

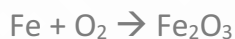
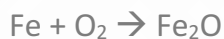
Empêche les spermatozoïdes de pénétrer dans les voies génitales de la femme

2- Calculez le poids d'un corps A de masse $M_a = 20$ Kg si l'intensité de la pesanteur $g = 10$ N / Kg ?

3-

a) Parmi les formules suivantes, entourez celle des hydrocarbures. H_2O , C_3H_8 – CH_4 – NH_3

b) Equilibrez les équations bilans suivantes.



IV. HISTOIRE

1- Comment appelait-on Zimbabwe et la Zambie avant leur indépendance ?

2- Quelles sont les grandes périodes de l'histoire telles que définies par les historiens français ?

3- Où et quand fut créée la première école en Côte d'Ivoire ?

V. GEOGRAPHIE

1- Quels sont les vents qui soufflent en Côte d'Ivoire du Sud au Nord, du Nord au Sud ?

2- Situez Daloa et Touba dans leur région administrative respective.

CONCOURS DIRECT D'ENTREE AU CAFOP (INSTITUTEUR ADJOINT)
SESSION 2009

I. ARTS – CULTURE – SPORTS

1- De quel instrument jouent Boncana Maïga, Anoma Brou Félix et Zadi Zaourou ?

2- Dans quelle discipline sportive parle-t-on de << drop >> et de << essai >> ? Donnez la valeur de chaque terme.

3- Quel est le vainqueur de l'édition CAN football 2004 ?

4- Quels sont les pays qui ont organisé ensemble la coupe du monde 2002 ?

- Quels sont les deux pays finalistes ?
- Dans quel pays s'est jouée la finale ?

II. LITTERATURE

1- a) Que signifie le sigle S.I.L.A

b) A quelle période a lieu l'édition de cette année ?

2- Donnez l'auteur et le genre littéraire des œuvres suivantes :

Togognini ; Petit Bodiel ; La Carte d'Identité ; Le sang de la République.

III. SCIENCES

1 - Quelle est la nouvelle appellation des sciences naturelles ?

2- Donnez le nom scientifique du gaz carbonique.

3- Faites le schéma d'une feuille.

4- Comment se fait le vaccin contre la poliomyélite ?

5- Quels sont les moyens de protection pour éviter de contracter le SIDA ?

IV. HISTOIRE

1 - En quelle année Yamoussoukro a été érigée en capitale administrative et politique de la Côte d'Ivoire ?

2- Combien de «casques bleus» l'ONU a-t-elle proposé pour le maintien de la paix en Côte d'Ivoire ? Rappelez la date du début de leur déploiement.

3- Que te rappellent les dates suivantes en Côte d'Ivoire ?

a) Du 09 octobre au 18 décembre 2001.

b) 07 décembre 1993. ;

c) 22 juillet 2000.

d) 19 septembre 2002.

V. GEOGRAPHIE

1- a) Combien de régions compte la Côte d'Ivoire ?

b) A quelles régions appartiennent les villes suivantes ? Aboisso - Bouaké - Bouna - Dabou.

2- a) Combien de tonnes de cacao transforme la Côte d'Ivoire ?

b) A quel rang mondial cela correspond-t-il ?

c) Depuis combien d'années la Côte d'Ivoire occupe-t-elle le premier rang mondial des pays producteurs de cacao ?

3- Situe les parcs et les curiosités touristiques ci-dessous dans les régions administratives qui conviennent :

a) Les silures de Sapia ;

b) Les cascades ;

c) Le parc naturel de Taï ;

d) Le parc animalier d'ABOKOUMEKRO

4- Quel est le nom et la longueur du plus long fleuve d'Afrique ?

**CONCOURS DIRECT D'ENTREE AU CAFOP (INSTITUTEUR ADJOINT)
SESSION 2008**

I. ARTS-CULTURE-SPORTS

- 1- Il y a combien de couleurs primaires et de couleurs binaires ? Citez-les.
- 2- Qui est le premier directeur de la maison de la culture de Treichville ?
- 3- Quelle est la première équipe ivoirienne à avoir remporté la Coupe d'Afrique des Clubs Champions ?

II. LITTERATURE

- 1- Donnez la nationalité des auteurs suivants.

Chinua Achebé ; Wolé Soyinka ; Henri Lopez ; Tidiane Dem ; Tatinga Pacéré.

- 2- A quel genre littéraire appartiennent les œuvres suivantes: Le pagne noir, Sous l'orage, une saison au Congo, le cahier d'un retour au pays natal, Masseni.

- 3- Mettez au pluriel les noms composés que voici : un garde-manger un bain-marie, un gratte-ciel, un souffre-douleur.

- 4- Accordez les adjectifs entre parenthèses après avoir mis les noms au pluriel : asile (nauséabond), oasis (perdu), épître (long), écritoire (doré), insigne (lumineux), antre (obscur), scolopendre (venimeux), armistice (partiel).

- 5- Ecrivez au futur simple de l'indicatif les verbes à [infinitif : je (asseoir) nous (s'en aller) tu (acquérir) vous (rompre) il (cueillir) ils (acheter)

III. SCIENCES

- 1 - Qui a découvert le virus du SIDA et de quelle nationalité est-il ?
- 2- Le paludisme a deux types d'agents. Lesquels ?
- 3- Qu'est-ce qui donne la couleur rouge aux globules rouges ? Indiquez sa nature.

4- Quels sont les éléments constitutifs du tube digestif ?

5- Présentez dans un tableau les différentes quantités des trois principaux gaz contenus dans 100 litres d'air inspiré puis expiré.

6- Donnez les symboles conventionnels en électricité d'une pile, un interrupteur, une lampe, un fil de connexion. A l'aide de ces symboles, réalisez un schéma du circuit de fonctionnement de la lampe.

IV. HISTOIRE

1- Citez dans l'ordre chronologique les quatre grands empires de la boucle du Niger.

Donnez leurs capitales respectives.

2- Quelle est la première organisation sous régionale en Afrique de l'Ouest ?

Citez-en les pays membres.

3- Voici pêle mêle des dates de l'histoire de la Côte d'Ivoire. Dites ce qu'elles vous rappellent : 1^{er} juillet 1934 ; 26 octobre 2000 ; 7 décembre 1993 ; 18 septembre 2002.

V. GEOGRAPHIE

1- De quoi est formé le système solaire ? Quelle distance sépare la terre du soleil ?

2- Les sont des cercles imaginaires parallèles à l'équateur.

- Les sont des demi-cercles égaux des deux pôles du globe terrestre.

3- Qu'appelle-t-on le mouvement de rotation de la terre ? Dans quel sens s'effectue-t-il ?

4- Que signifient les initiales suivantes : Le PAM ; Le FMI ; L'UA ; Le NEPAD.

CONCOURS DIRECT D'ENTREE AU CAFOP (INSTITUTEUR ADJOINT)
SESSION 2007

I. ARTS – CULTURE - SPORTS

1- Citez les couleurs secondaires dans le drapeau ivoirien.

2- Faites correspondre chaque personnalité à sa création

- a) Pablo Picasso La Joconde
- b) Michel-Ange Arlequin assis
- c) Léonard de Vinci Sainte Famille

3- Quelles sont les vainqueurs de ces éditions CAN Football 2002 et 2004

?

II. LITTERATURE

1- Donnez les définitions des termes suivants : - un alexandrin - lune strophe - un quatrain.

2- Quel est l'auteur de chacune des œuvres suivantes

- Tribaliques ?
- Le respect des morts ?
- Sous l'orage ?

III. SCIENCES

1- Citez les fonctions vitales de la plante.

2- Donnez un exemple de la :

- maladie bactérienne
- maladie virale ;
- maladie parasitaire.

IV. HISTOIRE

1- Quelle est la structure gouvernementale chargée de la démobilisation des ex-combattants ?

2- Citez les noms des différentes forces qui les composent.

V. GEOGRAPHIE

1- Quels sont les noms des principaux fleuves de la Côte d'Ivoire ?

2- Voici les sigles de certaines structures qui s'occupent du café et du cacao ivoirien : BCC – FDPCC

CONCOURS DIRECT D'ENTREE AU CAFOP (INSTITUTEUR ADJOINT)
SESSION 2006

I. ARTS - CULTURE-SPORTS

1- Quel genre de peinture pratique l'artiste-peintre Théodore Koudougnon ?

2- De quel instrument traditionnel joue Bernard Zadi Zaourou ?

3 - Que signifient les sigles : ONS - FIR- FIBB, dans le monde du sport ivoirien ?

II. LITTERATURE

1- Relie l'œuvre à son auteur.

- | | |
|-------------------------------------|-----------------------|
| a) Tribaliques | Amadou Koné |
| b) Le respect des morts | Seydou Badian |
| c) Les aventures de Tope l'araignée | Touré Théophile Minan |
| d) Sous l'orage | Henri Lopes |

2- Correction de langage Corrigez les expressions suivantes :

- a) Le chef a besoin de toi urgemment ;
- b) Mon ami m'a visité au village ;
- c) Je suis allé chez toi mais je t'ai absenté.

III. SCIENCES

1- a) L'œil humain a trois (3) membranes, Sur laquelle des membranes se forme l'image ?

b) Ecrivez : VRAI ou FAUX pour chaque énoncé suivant

	Vrai	Faux
Le virus est un microbe		
Le tubercule d'igname provient de la tige		
Le tubercule de manioc provient de la tige		
L'absorption de nutriments issus de la digestion a lieu dans l'estomac.		

2- On donne : $I = 5A$ $U_1 = 100V$ $U_2 = 120V$

Calculez les valeurs des résistances de conducteurs ohmiques R_1 et R_2

3- Le méthane est un hydrocarbure de formule CH_4 . Ecrivez l'équation-bilan de sa combustion complète.

IV. HISTOIRE

1- Que vous rappellent les dates suivantes : 10 mars 1883 — 10 juillet 1944 - 1076 - 1898

2- Où et quand fut créée la première école occidentale française ?

V. GEOGRAPHIE

1 - Citez de l'EST à l'OUEST les fleuves de la côte d'Ivoire et leur longueur respective.

2 - Citez les pays anglophones de la CEDEAO.

CONCOURS DIRECT D'ENTREE AU CAFOP (INSTITUTEUR ADJOINT) SESSION 2005

I. ARTS-CULTURE-SPORTS

1-Voici une liste de couleurs : violet, vert, rouge, bleu.

Classe-les en couleurs primaires et en couleurs secondaires.

2- Trouve le nom réel correspondant à chaque nom d'artiste:

- Professeur Awôlôwô
- Ben-Badi
- Ayatolah
- Alpha Blondy

3- Pour les équipes ci-dessous, trouve les noms des pays correspondants :
Les Eléphants, les Lions indomptables, les Lions de la Téranga, les Bafana-bafana.

II. LITTERATURE

1 - Trouve les noms d'une plantation : de bananiers, ananas, cacaoyers, caféiers, rosiers.

2- Complète les phrases suivantes par à ou au.

Puisque tu joues (....) la flûte, joue-moi cet air (....) la flûte.

C'est idiot ce que tu me demandes! Je joue (....) La guitare, mais je ne joue pas (.....) tous les instruments, Je ne peux donc pas te jouer cet air (.....) violon

3- Chantre de la négritude, membre de l'académie française et auteur de plusieurs œuvres, il est né à JOAL en 1906

- a) De qui s'agit-il ?
- b) Quel courant littéraire a-t-il légué au monde ?
- c) Cite deux de ses œuvres

III. SCIENCES

1- Qu'est-ce que la photosynthèse ?

2- a) L'os est vivant. Pourquoi ?

b) Précise les éléments de l'os qui assurent cette vie.

3- Voici des noms de corps liquides : jus d'orange, alcool, pétrole, huile.

Relève :

a) Les corps miscibles à l'eau.

b) Les corps non miscibles à l'eau.

IV. HISTOIRE

1- Date du début et de la fin du Forum de la Réconciliation Nationale.

2- Définis le sigle : UEMOA

V. GEOGRAPHIE

1 - Quelles sont les grandes zones désertiques de l'Afrique ?

a) Cite les départements qui composent la région des lagunes.

CONCOURS DIRECT D'ENTREE AU CAFOP (INSTITUTEUR ADJOINT)
SESSION 2004

I. ARTS – CULTURE – SPORTS

1- Trouve le nom du chant patriotique initié par la RTI ?

2- Qu'appelle-t-on couleurs primaires ? Cite-les.

3- Trouve la réponse qui convient :

Le baron Pierre De Coubertin est l'initiateur :

- du Prix Nobel de la Paix
- de la Coupe du monde de football
- des jeux olympiques
- des arts martiaux.

II. LITTERATURE

1- Indique si les mots de chaque paire sont des synonymes, des homonymes ou des contraires.

a) Entrer / sortir

b) Col / colle

c) Admirer / contempler

2- Faites une phrase avec chacun des pronoms relatifs suivants: dont, où, que.

3- Relie chaque auteur à son œuvre

- | | |
|-------------------|---------------------------|
| • Sembene Ousmane | Tribaliques |
| • Albert Camus | La Bible et le fusil |
| • Henri Lopes | La peste |
| • Maurice Bandama | Les bouts de bois de Dieu |

III. SCIENCES

1- Cite les groupes d'aliments organiques et donne un exemple d'aliment composé qui en contient.

2- a) Définis :

- un animal à sang froid
- un amphibien

b) Voici des noms d'animaux :

La grenouille, le serpent, le margouillat, la tortue, l'hippopotame, le crocodile, la chauve-souris, le tilapia.

Dites ceux qui sont à sang froid et ceux qui sont des amphibiens.

3- a) Quel est l'état de l'ozone' amphibiens.

b) Trouve la formule de sa molécule.

IV. HISTOIRE

1- Trouve les noms et les nationalités des différents africains qui ont dirigés l'ONU

2- Où et quand est née l'écriture ?

V. GEOGRAPHIE

1- Combien y a-t-il de régions administratives en Côte d'ivoire ?

2- Cite les régions qui touchent la frontière Ouest de la Cote d'ivoire et leur chef-lieu.

CONCOURS DIRECT D'ENTREE AU CAFOP (INSTITUTEUR ADJOINT)
SESSION 2002

I. ARTS - CULTURE - SPORTS

1- Classez les instruments de musique suivants dans le tableau en précisant leur catégorie : la flûte, la kora, la guitare, la senza, tambour, l'accordéon, le xylophone.

2- Dans quelle émission de la télévision joue chacun des artistes suivants
- Zoumana - Akissi Delta - Vieux Dosso

3- Quelles sont les équipes finalistes de la Coupe Nationale de Côte d'Ivoire 2001 ?

II. LITTERATURE

1 -Ecrivez au style indirect la phrase suivante:

2 -J'ai demandé à mon visiteur : «Etes-vous ici depuis longtemps ?

3- Comment appelle-t-on un vers de :

- a) huit syllabes
- b) dix syllabes
- c) douze syllabes

4- Donnez le pluriel de : - Un maximum ; un intérim ; un mass-média.

III. SCIENCES

1- Dans le système de transfusion sanguine, on parle de donneur universel et de receveur universel.

- a) Quel groupe est donneur universel ?
- b) Quel groupe est receveur universel ?

2- Donnez la formule d'expression du poids (P) (Sun corps connaissant sa masse (m) et l'intensité de la pesanteur (g).

3-a) Equilibrez la réaction-bilan de la combustion suivante :



b) Faites correspondre à chaque hydrocarbure sa formule

- Méthane C_3H_8
- Ethane C_4H_{10}
- Propane CH_4
- Butane C_2H_6

IV. HISTOIRE

1- Qu'est-ce que la préhistoire ?

2 - Dater les événements récents en Côte d'Ivoire :

- Referendum - Election Présidentielle.
- Election Législative.

V. GEOGRAPHIE

1- Dites le nombre de régions administratives de la Côte-d'Ivoire.

2- A quoi servent les instruments suivants : La girouette L'anémomètre.

CONCOURS DIRECT D'ENTREE AU CAFOP (INSTITUTEUR ADJOINT)
SESSION 2001

I. ARTS – CULTURE - SPORTS

1- Citez les couleurs nationales de la Cote d'ivoire et dites comment on obtient la troisième couleur.

2- Qui a réalisé le film («des trois bracelets») ?

3- Citez les cinq pays africains qualifiés pour la phase finale de la coupe du monde de football en 2002.

II. LITTERATURE

1- Précisez la nationalité des auteurs suivants :

- Maurice Bandama
- Seydou Badian
- Jean Marie Adiaffi
- Ferdinand Oyono

2- Donnez une définition de :

- Un quatrain
- Un tercet
- Un refrain

III. SCIENCES

1- En utilisant les chiffres d'une part et les lettres d'autre part, associez un aliment à grosses molécules au nutriment de sa simplification moléculaire.

1- amidon

2-lipide

3- protéine

a) acides aminés

b) glucose

c) acides gras

2- a) Donnez la relation qui traduit la loi d'ohm.

b) Calculez la tension aux bornes d'un dipôle de résistance 1.00 ohms traversé par un courant d'intensité de 5 A.

3- Ecrivez l'équation de synthèse de l'eau.

IV. HISTOIRE

1- Citez les capitales de la Cote d'ivoire par ordre chronologique.

2- Quels noms portaient ces Etats avant leur indépendance

- Ghana
- Burkina Faso
- R.D.C (République Démocratique du Congo)

V. GEOGRAPHIE

1- Situez ces villes dans leur région administrative

- Bouaké
- Abidjan
- Yamoussoukro

2- Citez les principaux sommets de la Cote d'ivoire par ordre croissant.

**CONCOURS DIRECT D'ENTREE AU CAFOP (INSTITUTEUR ADJOINT)
SESSION 2000**

I. ARTS - CULTURE-SPORTS

1- Citez deux artistes peintres, précurseurs du Vohou - vohou.

2- Qui sont les réalisateurs des films suivants :

- Visages de femmes
- Au nom du Christ
- Aboussouan
- Le groto

3- Que signifie SIAO dans le monde de l'artisanat ?

4- Pour chaque pays ci-dessous donnez le nom de l'équipe nationale de football.

- Algérie
- Ghana
- Afrique du Sud
- Cote d'Ivoire.

II. LITTERATURE

1- Redonnez à chacune ces œuvres suivantes leurs Auteurs.

- a) Ma joie en lui - Amadou Hampaté Bâ
- b) Kaidara - Paul Akoto Yao
- c) Jazz et Vin de palme - Isaïe Biton Coulibaly
- d) L'envol des tisserins - Emmanuel B.D.ongala

2- Comment appelle-t-on un vers de :

- a) douze syllabes
- b) huit syllabes
- c) dix syllabes

3- Dites à quel courant littéraire appartient chaque auteur : Emile Zola - Victor Hugo - André Breton.

III. SCIENCES

1- A partir de la liste de noms d'animaux suivants, constituez le groupe des insectes et celui des non-insectes : Criquet - araignée - crabe - grillon - moustique - scorpion.

2 - Quelles différences faites-vous entre une plante autotrophe et une plante hétérotrophe ? Donnez un exemple de chaque type de plante.

3- Quelles sont les différentes parties de

- a) les membranes
- b) les milieux transparents.

IV. HISTOIRE

1- Voici mêlé quelques grandes dates de l'évolution politique de la Côte d'Ivoire. 7 Août 1960 - 1893 - 4 décembre 1958 - 30 avril 1990 - 7 décembre 1993. Donnez pour chacune quelles événements correspondent.

En quelle année fut signée Lomé IV ?

Qu'entend-on par le projet Reagan dans la "Guerre des Étoiles" ?

V. GEOGRAPHIE

1- Expliquez les notions suivantes : La cryoclastie, L'hydroclastie. Citez trois parcs naturels de la Côte d'Ivoire en nommant la administrative dans laquelle ils se situent.

CORRECTIONS

www.totale-reussite.com
Nos produits, vos solutions !

CORRECTION CONCOURS DIRECT D'ENTREE AU CAFOP (INSTITUTEUR ADJOINT) SESSION 2021 IA

I. ARTS – CULTURE – SPORTS

1) Donne le nom des pays des rythmes suivants :

- Zouglou : Côte d'Ivoire
- Rumba : R.D.C.
- Zouk : Antilles
- Salsa : Cuba
- Makossa : Cameroun

2) La Côte d'Ivoire a remporté la coupe d'Afrique de football en : **2015**

3) Donne le nombre de joueurs d'une équipe sur un terrain de :

- Football **11 joueurs**
- Hand-ball **7 joueurs**
- Volley-ball **6 joueurs**

II. LITTERATURE

1- Dans les phrases ci-dessous, souligne le complément d'objet direct (COD) et entoure le complément d'objet indirect (COI).

- L'instituteur enseigne l'histoire à ses élèves. COD = l'histoire ; COI = à ses élèves.
- Elle informe les élèves de la prochaine composition. COD = élèves ; COI = de la prochaine composition

2- Relie chaque œuvre à son auteur :



III. SCIENCES

1- Voici les différents groupes sanguins : O – A – B – AB

a) Construis le schéma de groupe sanguin



b) Indique le donneur universel et le receveur universel

- Le donneur universel est : **O**
- le receveur universel **AB**

2- Entoure les maladies provoquées par un virus dans la liste des maladies suivantes :

Tuberculose – **Sida** – choléra – **Covid 19** – Tétanos – fièvre typhoïde – **grippe**
– **Ebola**

3- Enumère les différentes parties d'une fleur d'hibiscus

- Stigmate, Style, Ovule, ovaire : ils forment le pistil
- Pédoncule floral
- Anthère, filet : ils forment les étamines
- Pétales, sépales : ils forment la corolle
- Le réceptacle, le calice

IV. HISTOIRE

1. Entoure la bonne réponse :

La Côte d'Ivoire compte :

- a) **31** régions
- b) **2** – districts autonomes
- c) **108** départements

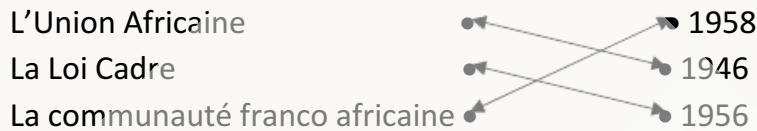
2. Parmi les noms suivants, indique deux explorateurs de la Côte d'Ivoire

:

Christophe Colomb – **Louis Gustave Binger** – Magellan – **Arthur**

Verdier

3. Relie les changements politiques obtenus par les africains aux différentes années suivantes :



V. GEOGRAPHIE

1. Voici une liste de personnalités : Le Député – Le Président de la République – Le Président de l'Assemblée Nationale – Le Maire – Le Préfet – L'Inspecteur Général – Le Directeur de la DECO – Le Chef de circonscription de l'enseignement primaire.

Elus au suffrage universel direct	Elus au suffrage universel indirect	Nommés
-Le Député -Le Président de la République	- Le Maire -Le Président de l'Assemblée Nationale	- Le Préfet - L'Inspecteur Général - Le Directeur de la DECO - Le Chef de circonscription de l'enseignement primaire.

2. Relie les animaux au type de viande qu'ils produisent



CORRECTION CONCOURS DIRECT D'ENTREE AU CAFOP (INSTITUTEUR ADJOINT) SESSION 2019 IA

I. ARTS - CULTURE - SPORT

1- le nom du réalisateur du film "Au nom du Christ" : **Roger Gnoan M'Balla**

Le nom de l'acteur principal de ce film est : **Gnamien Ato**

2- Complétez le tableau ci-dessous :

Athlètes	Sports	Nationalité
Didier Drogba	Football	Ivoirienne
Marie-José Talou	Athlétisme	Ivoirienne
Ruth Gbagbi	Taekwondo	Ivoirienne
Murielle AHOURE	Athlétisme	Ivoirienne
Max brito	rugby	Ivoirienne

3-la ville où se sont déroulés les derniers jeux de la Francophonie : **Abidjan**

II. LITTERATURE

1- Entoure la bonne expression :

- a) Avoir comme l'expression / **Avoir l'impression**
- b) A la suite de votre lettre / **Suite à votre lettre.**
- c) Le tran-tran quotidien / **Le train-train quotidien.**
- d) **Pour finir** / Par finir

2- Ecris correctement les verbes entre parenthèse :

- a) Les mangues que j'ai mangées sont mûres.
- b) Les filles se sont lavé les mains.
- c) Elles se sont regardées méchamment.
- d) La chanson que nous avons entendu chanter me plaît.

3- Comment appelle-t-on un vers de :

- Huit (08) syllabes = octosyllabe
- Dix (10) syllabes = décasyllabe
- Cinq (05) syllabes = pentasyllabe

III. GEOGRAPHIE

Complétez le tableau ci-dessous

Régions	climat	Végétation	2 principales cultures vivrières	Relief
Centre de la Côte d'Ivoire	Climat baouléen	Savane arborée	Igname, Aubergine	Plateau
Nord de la Côte d'Ivoire	Climat soudanais	Savane herbeuse	Mil, Maïs	Plaines
Ouest de la Côte d'Ivoire	Climat de montagne	Forêt	Manioc, Banane	Montagne

IV. EDHC

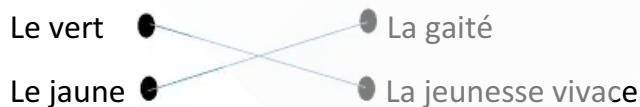
Indique "Vrai" ou "Faux" au regard de chaque affirmation.

1- Le congé maladie est classé dans la catégorie ou type de congés administratifs. **Faux**

2- La décentralisation est un procédé technique de développement qui octroie la liberté des collectivités territoriales pour régler leurs affaires considérées comme locales. **Vrai**

3- Le contribuable est le citoyen d'un pays. **Vrai**

4- Relie chaque couleur à sa symbolique.



Le violet ● ————— ● La dignité
Le rouge ● ————— ● La violence

VI. SCIENCES

1- Complète la phrase suivante par les mots : Diminution — augmentation.

L'eau se solidifie avec **augmentation** de volume alors que la paraffine liquide se solidifie avec **diminution** de volume.

2- Il existe deux types de vaporisation :

- **l'ébullition** : qui se produit lorsque la température de l'eau atteint 100°C.
- **l'évaporation** : qui se produit à la surface du liquide, à l'aide de la chaleur et du vent.

3- Les trois principales caractéristiques qui permettent de définir un écosystème :

- supports (sol, eaux)
- êtres vivants
- relations entre les êtres vivants

CORRECTION CONCOURS DIRECT D'ENTREE AU CAFOP (INSTITUTEUR ADJOINT) SESSION 2019 RECRUTEMENT EXCEPTIONNEL

I. ARTS - CULTURE - SPORT

1- Trois symboles de la République de Côte d'Ivoire : **le drapeau, l'hymne** et la **devise**.

2- Complète le tableau suivant :

Danse	Ville
Boloye	Sénofo
Fokwé	Bonoua
Kotou	Daoukro
Tematé Djouhodè	Facobly
Goli	Béoumi - Bouaké
Zaouli	Zuénoula

3- les principes des droits de l'enfant :

- Santé
- Besoins fondamentaux
- Education
- Nom et nationalité

4- Donne le mode désignation du :

- Président de l'Assemblée Nationale = **élu par les députés**.
- Président de la République = **élu par le peuple**.
- Président du Conseil Economique Social et de l'Environnement = **Nommé par le Président de la République**.
- Maire = **élu par le peuple**.
- Préfet = **nommé par le Président de la République**.
- Député = **élu par le peuple**.

II. LITTERATURE

1- Nomme les rimes suivantes :

- AABB = plates
- ABAB = croisées

- ABBA = embrassées

2- Trois écrivains ayant remporté le grand prix littéraire d'Afrique Noire :

- 1961 : Aké Loba (Côte d'Ivoire) pour Kocumbo, l'étudiant noir
- 1965 : Ex-aequo : Bernard Dadié (Côte d'Ivoire) pour Patron de New-York
- 1993 : Maurice Bandama (Côte d'Ivoire) pour le Fils de la femme mâle.

3- Explique les expressions soulignées :

a) J'ai accepté son invitation du bout des lèvres. = **sans conviction**

b) Il réussira son projet car il a quelque chose dans le ventre. = **il a du talent**

4- Ecris correctement les mots entre parenthèses :

a) Nous découvrons les vrais délices de la région.

b) Peut-on oublier nos anciennes amours ?

c) Les nouveaux trophées sont les vitrines.

5- Complète le tableau

Adjectifs	Adverbes
Savant	Savamment
Méchant	Méchamment
Prudent	Prudemment
Assidu	Assidûment
Goulu	Goulûment

III. GEOGRAPHIE

1- Les facteurs de la croissance démographique en Côte d'Ivoire : le **taux de naissance** élevé par rapport aux taux de décès, l'immigration des étrangers en Côte d'Ivoire, la population jeune.

2- Mets une croix dans la case correspondante.

Peuples \ Région	Nord	Centre	Sud	Est	Ouest
Sénoufo	✘				
Malinké	✘				
Yacouba					✘
Baoulé		✘			
Koulango				✘	
Abouré			✘		
Adioukro			✘		

3- les voies de communication possibles pour aller d'Abidjan à Ferkessédougou : la voie du chemin de fer - la route - la voie aérienne.

Les principales villes : Abidjan - Anyama - Agboville - Dimbokro - Bouaké - Katiola - Taféré - Kouroukona - Ferkessédougou

IV. HISTOIRE

Classe dans l'ordre croissant les années suivantes dans le tableau ci-dessous et écris les siècles correspondants 1212 – 2019 – 675 – 1100 – 1801.

Années	675	1100	1212	1801	2019
Siècles	VII ^e	XII ^e	XIII ^e	XIX ^e	XXI ^e

V. SCIENCES

1- les organes purificateurs du sang : **la peau, les reins, le foie et les poumons.**

2- Faire le schéma de la transfusion sanguine

**CORRECTION CONCOURS DIRECT D'ENTREE AU CAFOP (INSTITUTEUR
ADJOINT) SESSION 2018**

I. ARTS-CULTURE -SPORT

1- Le nom du joueur appelé « l'homme d'Asmara » est : **LAURENT N'DRI
POKOU**

2- Citons trois organismes de défense des droits de l'enfant : **UNICEF-
CIDE-UNESCO- OMS**

3- Une couleur secondaire est une couleur obtenue par mélange de deux couleurs primaires L'orange (mélange à partir du rouge et du jaune). Le vert (mélange à partir du jaune et du bleu). Le violet (mélange à partir du bleu et du rouge).

4- Relions chaque instrument à sa famille.

- Piano → à corde
- Flute → à vent
- Tambour → à percussion

II. LITTERATURE

1-

a) une phrase déclarative.

b) la publicité n'est t- elle pas dangereuse ?

2- face au modernisme nous sûmes que notre sante fut menacée

3-complète le tableau

Adjectifs	Noms	Adverbes
Prompt	promptitude	promptement
Frais	fraicheur	fraichement

III. SCIENCES

1- Ceux qui figurent dans le sang sont: **Globules blanc, globules rouge, plasma.**

2- Deux maladies de l'œil : **cataracte, glaucome.**

Deux anomalies : **L'hypermétropie, Myopie.**

3-

a) Faux

b) Vrai

IV. HISTOIRE

1- CEI : Commission Electorale Indépendante.

2- António Guterres PORTUGUAIS.

V. GEOGRAPHIE

1

- Le climat atteen au sud
- Le climat soudanais au nord
- Le climat baouleen au centre
- le climat de montagne à l'ouest.

2

- Reboisement
- Prévenir les feux de brousse

**CORRECTION CONCOURS DIRECT D'ENTREE AU CAFOP (INSTITUTEUR
ADJOINT) SESSION 2017**

I. ARTS - CULTURE - SPORTS

1) Le détenteur du record du monde au **100 m** est **USAIN BOLT**

2) Mettons une croix dans la case qui convient

Les merveilles du monde	Les anciennes merveilles	Les nouvelles merveilles
La statue du christ rédempteur		X
Le phare d'Alexandrie	X	
La grande muraille de Chine		X
Le colosse de Rhodes	X	

3) Nommons trois Institutions de la République de Côte d'Ivoire et leur président.

- Conseil Economique Social et Environnemental: **Charles Koffi DIBY**
- La Grande Médiature **N'Golo COULIBALY**
- L'Assemblée Nationale : **SORO KIGBAFORI Guillaume**

II. LITTERATURE

1) Ecrivons correctement les mots entre parenthèses:

- Les oisillons sont **devenus** grands.
- Trois jeunes filles et deux garçonnets se sont **blesés**.

2) Analyse logique de la phrase suivante : « Cette école qui ne touchait en fait qu'une minorité, avait un caractère utilitaire ».

Cette école avait un caractère utilitaire : **Proposition principale**

Qui ne touchait en fait qu'une minorité : **Proposition subordonnée relative, introduite par le pronom relatif « qui », complément de son antécédent « caractère ».**

3) Ecrivons vrai ou faux devant chaque réponse : En littérature,

- Une nouvelle est un court récit : **Vrai**
- Un très long roman : **Faux**
- Une œuvre qui vient de paraître : **Faux**

III. SCIENCES

1) Annote le schéma ci-dessous en associant chaque organe au numéro correspondant.

- 1- La bouche
- 2- L'œsophage
- 3- Le foie
- 4- La vésicule biliaire
- 5- L'intestin grêle
- 6- Les glandes salivaires
- 7- L'estomac
- 8- Le pancréas
- 9- Le gros intestin
- 10- L'anus

2) On appelle plante autotrophe, une plante capable de construire la matière organique à partir de substances minérales telles que l'eau, le gaz carbonique, l'ammoniac.

3) Indiquons le rôle des dents suivantes :

- Les incisives : servent à couper les aliments.

- Les canines : servent à déchirer les aliments.
- Les molaires : servent à broyer les aliments.

IV. HISTOIRE

1) Complétons le tableau suivant :

Année	Nombre de jours
Civile	365
Bissextile	366
Astronomique	365

2) Voici une liste de peuples de Côte d'Ivoire : Attié – Gagou – Baoulé – Bakwé – Nzima – Lobi – Krobou.

- Les peuples lagunaires sont appelés : **Attié – Nzima – Krobou**
- Leurs activités sont : **L'agriculture et la pêche.**

V. GEOGRAPHIE

1) Voici des villes de Côte d'Ivoire : Bingerville - Bouaké - Daloa - Ferkessédougou – Dimbokro - Yamoussoukro - Anyama.

Relevons celles qui sont traversées par le chemin de fer :

Bouaké - Ferkessédougou - Dimbokro - Anyama.

2) Enumérons les fleuves de la Côte d'Ivoire d'Est en Ouest : **La Comoé - le Bandama - le Sassandra - le Cavally**

CORRECTION CONCOURS DIRECT D'ENTREE AU CAFOP (INSTITUTEUR ADJOINT) SESSION 2010

I. ARTS-CULTURE-SPORTS

1- Chanter à "cappella" veut dire chanter sans accompagnement, sans instrument de musique.

2- Une couleur chaude est une couleur allant du jaune au rouge-violet sur le cercle chromatique. Ce sont : jaune, jaune-orangé, rouge-orangé, rouge, rouge violet.

3- Les derniers jeux de la Francophonie se sont déroulés à Beyrouth au Liban.

II. LITTERATURE

1- Les écrivains ivoiriens ayant remporté le grand prix littéraire d'Afrique noire. Ce sont :

- 1961 : Aké Loba pour Kocombo, L'étudiant noir
- 1964 : Bernard Dadié pour Patron de New-York
- 1968 : Bernard Dadié pour La ville où nul ne meurt
- 1969 : Ahmadou Kourouma pour Les Soleils des indépendances
- 1981 : Jean Marie Adiaffi pour La carte d'identité
- 1990 : Ahmadou Kourouma pour Monnet Outrages et Défis
- 2005 : Maurice Bandama pour Le fils de la femme male

2- Ecrire correctement les participes passés :

- Elles se sont souri en entrant en classe
- J'ai reçu nos rapports, j'en ai parcourus.
- Les soldats que j'ai vus courir dans la plaine.
- Elles se sont plu.

3- Noms composés au pluriel.

- Un nouveau-né : des nouveau-nés
- Un garde-chasse : des gardes-chasse ou gardes-chasses
- Un abat-jour : des abat-jour
- Un terre-plein : des terre-pleins

III. SCIENCES

1-

- Empêche L'ovulation → Pilule
- Empêche la nidation → Stérilet
- Détruit les spermatozoïdes → Spermicide
- De pénétrer dans les voies génitales de la femme → Préservatif

2- Le poids d'un corps A de masse $M_a = 20 \text{ Kg}$ et $g = 10 \text{ N/Kg}$

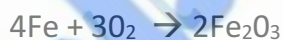
$$P_A = M_a \times g$$

$$P_A = 20 \text{ Kg} \times 10 \text{ N/Kg}$$

$$P_A = 200 \text{ N}$$

3- a) Les hydrocarbures : C_3H_8 - CH_4

b)



IV. HISTOIRE

1- Zimbabwe → Rhodésie du Sud

Zambie → Rhodésie du Nord

2- Les grandes périodes de l'histoire : La préhistoire, l'antiquité, le moyen âge, l'époque moderne et l'époque contemporaine.

3- La première école en Côte d'Ivoire a été créée à Elima au Sud du Pays.

V. GEOGRAPHIE

1-

Du Sud au Nord = mousson

Du Nord au Sud = harmattan

2-

Daloa → Région du Haut-Sassandra

Touba → Région du Bafing

www.totale-reussite.com
Nos produits, vos solutions !

CORRECTION CONCOURS DIRECT D'ENTREE AU CAFOP (INSTITUTEUR ADJOINT) SESSION 2009

I. ARTS-CULTURE-SPORTS

1- Les instruments :

- Boncana Maïga joue à la **flûte**.
- Anoma Brou Félix joue à la **guitare**.
- Zadi Zaourou joue au **dôdô**.

2- on parle de :

- "**drop**" au **Rugby**, sa valeur vaut : **3 points**
- "**d'essai**" au **Rugby**, sa valeur vaut : **5 points**

3- Le vainqueur de l'édition de la CAN 2004 est la **Tunisie**.

4- Les pays qui ont organisé la coupe du monde 2002 sont la Corée du Sud et le Japon. - Les deux pays finalistes: le Brésil et l'Allemagne - La finale s'est jouée au Japon.

II. LITTERATURE

1- S.I.L.A. signifie: Salon International du Livre d'Abidjan, il a eu lieu du 04 au 08 mai 2009.

2- L'auteur et le genre littéraire œuvres suivantes :

- Togognini (**théâtre**) = Bernard. B. Dadié
- Petit Bodiel (**conte**) = Amadou Hampaté Bâ
- La Carte d'identité (**roman**) = Jean-Marie Adiaffi
- Le sang de la République = Thireau Philippe

III. SCIENCES

1- La nouvelle appellation des sciences naturelles : S.V.T (Science de la Vie et de la Terre).

2- Le nom scientifique du gaz carbonique est : CO₂ (dioxyde de carbone)

3- Le schéma d'une feuille (voir page sciences-croquis)

4- Le vaccin contre la poliomyélite se fait par voie orale

5- Pour les moyens contraceptifs contre le SIDA, on peut citer :
l'abstinence, la fidélité et l'utilisation des préservatifs.

IV. HISTOIRE

1- Yamoussoukro a été érigée en capitale administrative et politique de la C.I en **1983**.

2- Le nombre de casques bleus proposé par l'ONU à la Côte d'Ivoire pour le maintien de la paix est : **6240**

La date de début de leur déploiement est : **4 Avril 2004**

3- a) La période du 09 octobre au 18 décembre 2001 : forum national de la réconciliation.

b) 07 décembre 1993 : décès du Président Félix Houphouët-Boigny

c) 22 juillet 2000 fin de la première République

d) 19 septembre 2002 : déclenchement de la guerre politico-militaire en Côte d'Ivoire.

V. GEOGRAPHIE

1- a) La Côte d'Ivoire compte 19 régions (31 actuellement).

b) - Aboisso : sud Comoé

- Bouaké la vallée de Bandama

- Bouna : le Zanzan

- Dabou : Lagune

2- a) Le nombre de tonnes de cacao transformé par la Côte d'Ivoire est de 1.200.000 tonnes (-20%).

b) La Côte d'Ivoire occupe le 1er rang depuis les années 80 (cacao).

- 3- a) Les silures de Sapia = Zanzan
 - b) Les cascades : dix-huit montagnes
 - c) Le parc naturel de Tai : Moyen Cavally
 - d) Le parc animalier d'Abokoumekro : la région des lacs
- 4- Le plus long fleuve d'Afrique est le Nil avec 6.700 Km

www.totale-reussite.com
Nos produits, vos solutions !

CORRECTION CONCOURS DIRECT D'ENTREE AU CAFOP (INSTITUTEUR ADJOINT) SESSION 2008

I. ARTS - CULTURE - SPORTS

1- Il existe 3 couleurs primaires qui sont le **rouge**, le **bleu** et le **jaune** et 3 couleurs binaires qui sont le **vert**, le **violet** et l'**orange**.

2- Le premier Directeur de la maison de La culture de Treichville s'appelle **SIDIKI BAKABA**

3- La première équipe ivoirienne à avoir remporté la Coupe d'Afrique des Clubs Champions est le **Stade d'Abidjan**.

II. LITTERATURE

1- La nationalité des auteurs suivants est:

- CHINUA ACHEBE : Nigériane
- WOLE SOYINKA : Nigériane
- HENRI LOPEZ : Congolaise
- TIDIANE DEM : Ivoirienne
- TITINGA PACERE : Burkinabé

2- Le genre littéraire des œuvres suivantes :

- **Le pagne noir** : Conte
- **Sous Forage** : Roman
- **Une saison au Congo** : Théâtre
- **Le cahier d'un retour au pays natal** : Poésie
- **Masseni** : Roman

3- Le pluriel des noms composés suivants : Des garde-mangers; des bains-marie; des gratte-ciels ; des souffre-douleurs

4- Asiles nauséabonds ; oasis perdues ; épîtres longues ; écritaires dorés ; insignes lumineux ; antres obscurs ; Scolopendres venimeuses ; armistices partiels.

5- Futur Simple de l'Indicatif J'assiérai ; Nous nous en irons ; Tu acquerras ; Vous romprez ; Il cueillera ; Ils achèteront

III. SCIENCES

1- Le virus du Sida a été découvert par le **Pr. Luc MONTAGNIER**, il est de nationalité française.

2- Plasmodium vivax (le plus fréquent), Plasmodium falciparum (le plus dangereux) et Plasmodium malariae (le plus rare)


3- Ce qui donne la couleur rouge aux globules rouges est l'hémoglobine. Il assure le transport de l'oxygène et du gaz carbonique entre l'appareil respiratoire et les cellules de l'organisme.

4- Les éléments constitutifs du tube digestif sont : - la bouche le pharynx, l'œsophage, l'estomac, l'intestin grêle, le gros intestin, le foie, le pancréas et les autres glandes.

5- L'air inspiré est composé principalement d'azote (78%) et d'oxygène (21%). Le dioxyde de carbone (CO₂) ne représente que 0,04% de l'air inhalé. L'air expiré ne contient plus que 17% d'oxygène.

6-

• Pile :



• Interrupteur :



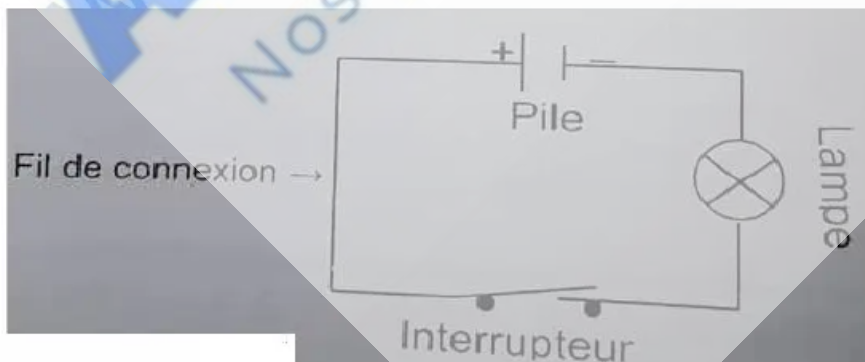
• Lampe :



• Fil de connexion :



Schéma du circuit de fonctionnement de la lampe



CORRECTION CONCOURS DIRECT D'ENTREE AU CAFOP (INSTITUTEUR ADJOINT) SESSION 2007

I. ARTS — CULTURE - SPORTS

1- Citons les couleurs secondaires:

- Vert (bleu + jaune)
- Orange (jaune + rouge)
- Violet (bleu + rouge)

2- a) Léonard de Vinci : La Joconde

b) Pablo Picasso : Arlequin assis

c) Michel-Ange : Sainte famille

3- Les vainqueurs des éditions CAN Football:

- 2002 : Cameroun
- 2004 : Tunisie

II. LITTERATURE

1- Définitions des termes :

- Un alexandrin : est, en métrique française classique, un vers composé formé de deux hémistiches de six syllabes chacun, soit un total de douze syllabes
- Une strophe : est un groupement organisé de vers pouvant comporter une disposition particulière de rimes.
- Un quatrain : Une strophe 4 vers

2- Les auteurs

- Tribaliques : Henri Lopes
- Le respect des morts : Amadou Koné
- Sous l'orage : Seydou Badian

III. SCIENCES

1- Les fonctions vitales de la plante :

- Les racines fixent la plante au sol et y puisent la nourriture (Eau et sels minéraux) nécessaire grâce aux polis absorbants.
- Les feuilles assurent les échangent entre la plante et son milieu. Elles sont le lieu de fabrication de la sève élaborée. Les feuilles sont les organes de fécondation

2- Exemple de :

- maladie bactérienne : Tétanos
- maladie virale : Sida
- maladie parasitaire : Paludisme

IV. HISTOIRE

1- La structure gouvernementale chargée de la démobilisation des ex-combattants est : la **CNDDR** (Comité National de Désarmement, de Démobilisation et de Réintégration)

2- Les noms des différentes forces qui les composent : **FDS, FAFN, OUNICI, LICORNE.**

V. GEOGRAPHIE

1- Les principaux fleuves de la Cote d'Ivoire sont : **Le Cavally, le Sassandra, le Bandama, le Comoé.**

2- La signification de certaines structures qui s'occupent de la filière Café-Cacao

- **BCC** : Bourse du Café et du Cacao
- **FDPCC** : Fonds de Développement et de Promotion des activités des Producteurs de Café et de Cacao.

CORRECTION CONCOURS DIRECT D'ENTREE AU CAFOP (INSTITUTEUR ADJOINT) SESSION 2006

I. ART- CULTURE-SPORT

1- Le genre de peinture pratiquée par Théodore Koudougnon est le **vohou-vohou**.

2- L'instrument traditionnel joué par Bernard Zadi Zaourou est: **le Harpe en Bouche (Dodo)**

3- Signification des sigles

- **ONS** : Office National du Sport
- **FIR** : Fédération Ivoirienne de Rugby
- **FIBB** : Fédération ivoirienne de Basket-Ball.

II. LITTERATURE

1 – Les auteurs

- Tribalique : Henry Lopes
- Le respect des morts : Amadou Koné
- Les aventures de Topée l'araignée : Toure Théophile Minan.
- Sous l'orage : Seydou Badian

2- a) Le chef te demande d'urgence.

b) Mon ami m'a rendu visite au village.

c) Je suis aillé chez toi mais tu étais absent.

III. SCIENCES

1- a) L'image se forme sur l'Iris

b) Vrai ou faux

Le virus est un microbe **vrai**

Le tubercule de manioc provient de la tige **faux**

L'absorption de nutriments de la digestion a lieu dans l'estomac

faux

2- Calculons les valeurs des résistances de conducteurs ohmiques R1 et R2.

$$U_1 = R_1 \times I \text{ et } U_2 = R_2 \times I$$

$$R_1 = \frac{U_1}{I} \text{ et } R_2 = \frac{U_2}{I}$$

$$R_1 = 20 \text{ ohms et } R_2 = 24 \text{ ohms}$$

IV. HISTOIRE

1- Les dates suivantes nous rappellent :

- 1076 : Les almoravides envahissent Koumbi Saleh
- 1898 : Arrestation de Samory Touré
- 10 Juillet 1944: Création du syndicat agricole africain
- 10 Mars 1883 : la Cote d'ivoire devient colonie française

2- La première école en Afrique occidentale française fut créée à **ELIMA**
1882

V. GEOGRAPHIE

1 – Citons de l'EST à l'OUEST les fleuves de Côte d'Ivoire et leur longueur.

- Comoé : 759 km
- Bandama : 800 km
- Sassandra : 650 km
- Cavally : 515 km

2 - les pays anglophones de la CEDEAO sont : le **Nigeria** et le **Ghana**.

CORRECTION CONCOURS DIRECT D'ENTREE AU CAFOP (INSTITUTEUR ADJOINT) SESSION 2005

I. ARTS — CULTURE - SPORTS

1- Couleurs primaires : **rouge - bleu.**

Couleurs secondaires : **violet - vert**

2- Le réel nom correspondant à chaque nom artiste:

- Professeur Awôlôwô : Frédéric Ehui Meiday
- Ben-Badi : Traoré Abdoulaye
- Ayatollah : N'guessan Albert Gniba
- Alpha Blondy : Koné Seydou

3 - Les pays et les noms de leur équipe nationale :

- Eléphants : Cote d'Ivoire.
- Les Lions indomptables : Cameroun
- les Lions de la Teranga : Sénégal
- Les Bafana-bafana : Afrique du Sud

II. LITTERATURE

1 - Noms d'une plantation de :

- Bananiers : bananeraie ;
- ananas : ananeraie
- cacaoyers : cacaoyère ou cacaotière ;
- caféiers : caféière ;
- rosiers : roseraie.

2 - Puisque tu joues à la flûte, joue-moi cet air à la flûte. C'est idiot ce que tu me demandes ! Je joue à la guitare, mais je ne joue pas à tous les instruments. Je ne peux donc pas te jouer cet air **au** violon.

3 - a) Il s'agit de : **Léopold Sédar Senghor**

b) Le courant littéraire est : **la négritude**

c) Citons deux de ces œuvres : **Chants d'ombre, Ethiopiques.**

III. SCIENCES

1- **La photosynthèse chez les plantes vertes et certaine bactéries** : C'est le processus de fabrication de matière organique à partir de l'eau et du gaz carbonique de l'atmosphère utilisant ainsi la lumière solaire comme source d'énergie et qui produit un dégagement d'oxygène.

2- a) L'os est vivant parce qu'il grandit et grossit.

b) **Le canilage de conjugaison** et le **périoste**.

3- a) Les corps miscibles à l'eau : **jus d'orange, l'alcool**.

b) Les corps non miscibles à l'eau : **pétrole, l'huile**.

IV. HISTOIRE

1- Date du début et de la fin du Forum de la Réconciliation Nationale est: **le 11 Septembre au 10 Décembre 2001**.

2- **UEMOA** : **Union Economique Monétaire Ouest Africain**

V. GEOGRAPHIE

1- Les grandes zones désertiques de l'Afrique sont : **La Sahara et Kalahari**.

2- Les départements qui composent la région des lagunes : Abidjan - Alépé - Dabou - Grand-Lahou - Jacqueville - Tiassalé – Sikensi.

CORRECTION CONCOURS DIRECT D'ENTREE AU CAFOP (INSTITUTEUR ADJOINT) SESSION 2004

I. ARTS - CULTURE - SPORTS

1- Le nom du chant patriotique initié par la R.T.1 est: **L'ODE A LA PATRIE**
Auteur : **KORAI BERNARD**.

2- On appelle couleurs primaires les couleurs fondamentales dont le mélange deux à deux permet d'obtenir les couleurs secondaires.

Les couleurs primaires sont : **le bleu, le jaune et le rouge**.

3 -Le baron **PERRE DE COUBERTIN** est l'initiateur des jeux olympiques.

II. LITTERATURE

1-a) Entrer /sortir contraires

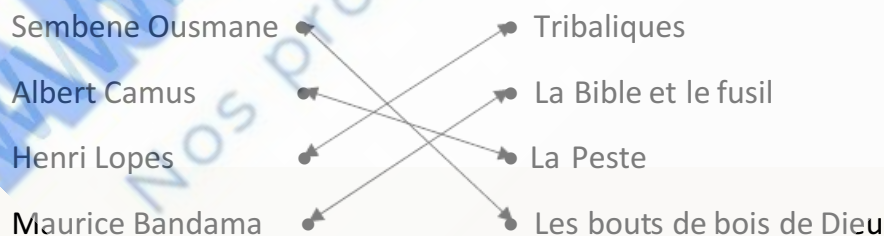
b) Col / colle homonyme

c) Admirer / contempler synonyme

2- Faire des phrases avec **dont** - **où** - **que**.

- La maison **dont** la porte est fermée est celle de mon père.
- **Où** et quand est née l'écriture ?
- On dit **que** la publicité est dangereuse.

3- Relie chaque auteur à son œuvre :



III. SCIENCES

1- Les groupes d'aliments organiques et un exemple d'aliment composé qui en contient

- Les glucides (le pain)
- les lipides (le beurre)
- les protides (le poisson)
- les vitamines (l'orange)

2- a) Définition

- **Un animal à sang froid** : est un animal dont la température du corps dépend du milieu extérieur. Ils adaptent la température à leur corps. Ceux-ci cherchent alternativement l'ombre où le soleil selon que leur corps est chaud ou froid.
- **Un amphibien batracien** : c'est un animal adapté à vivre dans deux milieux différents c'est à dire dans l'eau et sur la terre.

b) Classification

A sang froid : le serpent, le crocodile

Amphibien : la grenouille, L'hippopotame, la tortue

3- a) l'ozone est à l'état gazeux.

Formule moléculaire de l'Ozone est : O_3

IV. HISTOIRE

1- Les noms et les nationalités des différents africains qui ont dirigés l'ONU :

- Boutros Boutros Ghali (Egyptien)
- Koffi Anan (Ghanéen)

2- L'écriture est née en Egypte, 3000 ans avant Jésus- Christ.

V. GEOGRAPHIE

1- Il y a 19 régions administratives en Côte d'ivoire.

2- Les régions qui touchent la frontière Ouest de la Cote d'ivoire et leur chef-lieu.

REGIONS	CHEF-LIEU
Région de Denguélé	Odienné
Région du Bafing	Touba
Région des Montagnes	Man
Région du moyen Cavally	Guiglo
Région du Bas-Sassandra	San-Pedro

www.totale-reussite.com
Nos produits, vos solutions !

CORRECTION CONCOURS DIRECT D'ENTREE AU CAFOP (INSTITUTEUR ADJOINT) SESSION 2002

I. ARTS — CULTURE - SPORTS

1 - Les instruments de musique et leur catégorie.

INSTRUMENTS	CATEGORIES
La flûte	Aérophone
La Kora	Cordophone
La Guitare	Cordophone
La Sanza	Lamellophone
Le Xylophone	Lamellophone
Le Tambour	Membranophone
L'Accordéon	Aérophone

2- Les artistes et leur émission:

- Zoumana : Faut pas fâcher
- Akissi Delta : Qui fait ça et ma famille
- Vieux Dosso : Abidjan on dit quoi ?

3 - Les équipes finalistes de la Coupe Nationale de CI 2001 : Alliance Club de Bouake contre AS C Bouaké

II. LITTERATURE

1- Il dit qu'il a demandé à son visiteur s'il était ici depuis longtemps.

2- Le nom des vers :

- a) huit syllabes octosyllabes
- b) dix syllabes décasyllabes
- c) douze syllabes alexandrin.

3- Le pluriel de :

- Un maximum des maxima ou des maximums
- un intérim des intérim
- un mass-média des mass-médias.

III. SCIENCES

1- a) donneur universel groupe : **O**

b) receveur universel groupe : **AB**

2- La formule du poids (P) : **$P = m \times g$**

3- a) Equilibrez la réaction-bilan de la combustion suivante :



b) Faisons correspondre à chaque hydrocarbure sa formule.

NOM	FORMULES
Méthane	CH ₄
Éthane	C ₂ H ₆
Propane	C ₃ H ₈
Butane	C ₄ H ₁₀

IV. HISTOIRE

1- **La préhistoire** : c'est l'époque qui précède l'histoire, C'est une époque très ancienne dont les hommes ne sont connus que par les ossements, les outils, les vestiges et les œuvres qu'ils ont laissés.

2- Datons les événements récents en Côte d'Ivoire

- Référendum 23 au 24 juillet 2000
- Election Présidentielle 22 octobre 2000
- Election Législative 10 Décembre 2000

V. GEOGRAPHIE

1- La Côte d'Ivoire compte 19 régions administratives.

2- **La girouette** : appareil permettant de connaître direction du vent.

L'anémomètre : appareil servant à mesurer la vitesse du vent.

CORRECTION CONCOURS DIRECT D'ENTREE AU CAFOP (INSTITUTEUR ADJOINT) SESSION 2001

I. ARTS— CULTURE - SPORTS

1 - Les couleurs nationales de la Cote d'ivoire sont : **L'orange - le Blanc - le Vert.**

La 3ème couleur est obtenue par un mélange du **Jaune** et du **Bleu.**

2- Réalisateur des **trois bracelets** : **Yéo Kozoloa**

3 - Les cinq pays Africains qualifiés pour la phase finale de la coupe du monde de football en 2002 sont :

- le Cameroun
- le Sénégal
- l'Afrique du Sud
- la Tunisie
- le Nigeria.

II. LITTERATURE

1- Précisons la nationalité des auteurs:

- Maurice Bandama = Ivoirien
- Seydou Badian = Malien
- Jean Marie Adiaffi = Ivoirien
- Ferdinand Oyono = Camerounais

2- Donnons la définition de :

- **Un quatrain** : c'est une strophe composée de quatre vers
- **Un tercet** : c'est une strophe composée de trois vers,
- **Un refrain** : reprise de quelques mots ou vers à la fin de chaque couplet d'une chanson.

III. SCIENCES

1- Associons un aliment à grosses molécules au nutriment de sa simplification moléculaire.

- 1 : b
- 2 : c
- 3 : a

2 - a) Donnons la relation traduisant la loi d'ohm. $U = R \times I$

b) Calculons la tension aux bornes d'un dipôle de résistance 100 ohm traversé par un courant d'intensité 5 A

$$U = R \times I = 100 \times 5$$

$$U = 500 \text{ V}$$

3- Equation de la synthèse de l'eau est: $2 \text{ H}_2 + \text{ O}_2 \rightarrow 2 \text{ H}_2\text{O}$

IV. HISTOIRE

1 - Les capitales de la Cote d'ivoire par ordre chronologique.

- Grand-Bassam : **1893**
- Bingerville : **1900**
- Abidjan : **1933**
- Yamoussoukro : **1983**

2- Le nom de ces pays avant leur indépendance

- Ghana : **Gold Coast**
- Burkina Faso : **Haute Volta**
- RDC : **Zaïre**

V. GEOGRAPHIE

1 – Situons ces villes dans leur région administrative.

- Abidjan : **région des lagunes**
- Yamoussoukro : **région des lacs**
- Bouake : **région de la Vallée du Bandama**

CORRECTION CONCOURS DIRECT D'ENTREE AU CAFOP (INSTITUTEUR ADJOINT) SESSION 2000

I. ARTS - CULTURE- SPORTS

1- Citons deux artistes peintres précurseurs du Vohou – vohou :

Théodore Koudougnon, N'Guessan Kra, Yacouba Touré

2- Les réalisateurs des films :

- Visages de femmes : Désiré Ecaré
- Au nom du Christ : Roger Gnoan M'Bala
- Abusuan : Henri Duparc
- Le grotto : Sou Jacob

3- SIA0 : Salon International de l'Artisanat de Ouagadougou.

4- Le nom de l'équipe nationale de football des pays suivants

- Algérie: Les Fennecs
- Ghana : Les Black Stars
- Afrique du Sud : les Bafana-Bafana
- Cote d'ivoire : Les Eléphants

II. LITTERATURE

1- A chacune des œuvres sont auteur :

- a) Ma joie en lui : Issaïe Biton Coulibaly
- b) Kaidara : Amadou Hampaté Bâ
- c) Jazz et Vin de Palme Emmanuel Dongala
- d) l'envol des tisserins : Paul Akoto Yao

2- Les noms de vers :

- a) douze syllabes : alexandrin
- b) huit syllabes : octosyllabes
- c) dix syllabes : décasyllabes

3- A chaque auteur son courant littéraire :

- Emile Zola : Naturalisme
- Victor Hugo : Romantisme
- André Breton : Surréalisme

III. SCIENCES

1- Citons les insectes et les non insectes

- Les insectes : Criquet - grillon - moustique
- Les non-insectes : Crabe - scorpion - araignée

2 - Définitions

- **Une plante autotrophe** : plante qui produit ses propres matières organiques.
- **Une plante hétérotrophe** : plante qui utilise les matières organiques d'une autre espèce.

3 - Les parties de l'œil :

a) les membranes : sclérotique (résistante) - choroïde (noir) (membrane sensible)

b) les milieux transparents : humeur vitrée - humeur aqueuse - cristallin - la cornée - conjonctive.

IV. HISTOIRE

1 – Donnons pour chacune quel évènement correspond.

- 7 Août 1960 : indépendance de la Cote d'Ivoire
- 1893 : La Cote d'ivoire devient colonie Française
- 4 décembre 1958 : Proclamation de la Côte d'Ivoire en République
- 30 avril 1990: L'avènement du multipartisme
- 7 décembre 1993 : Décès d'Houphouët Boigny

Lomé IV fut signé en 1975.

Reagan (Wilson) a été gouverneur de Californie (1967 - 1975) et Président des USA (1980 -1988), Sa politique a été concrétisée par une remise en cause d' «Etat Providence» et par un interventionnisme marqué

parvient avec Gorbatchev au 1er accord de dénucléarisation jamais signé entre les deux (02) grandes puissances mondiales (USA - URSS)

V. **GEOGRAPHIE**

1- Définitions

La cryoclastie : fragmentation des roches par une succession de gels et de dégels.

L'hydroclastie : fragmentation des roches par l'eau.

- Trois parcs naturels de la Côte d'Ivoire

- **La marahoué** : région de la marahoué (Bouaflé)
- **Tai** : région du haut Sassandra Tai (Guiglo)
- **Parc national du Banco**: région des lagunes (Abidjan).

Ablanian.com
Nos produits, vos solutions !