



**ÉCOLE NATIONALE D'ADMINISTRATION**  
au cœur de la transformation de l'action publique

**CONCOURS DIRECT D'ENTRÉE EN 2027  
AU CYCLE MOYEN SUPÉRIEUR DE L'ENA**

SESSION : MAI 2026

**ÉTAPE DE PRÉSÉLECTION**

Épreuve écrite d'admissibilité.

Date : samedi 30 mai 2026.

Durée : 3 heures.

Coefficient : 2 par matière.

Barème de notation :

- Bonne réponse = 1 point ;
- Pas de réponse = 0 point ;
- Mauvaise réponse = - 1 point.

N°	QUESTIONS	RÉPONSES
<b>CULTURE GÉNÉRALE</b>		
<b>Choisissez la bonne réponse parmi celles proposées</b>		
01	Qui a conçu le premier moteur à explosion utilisé en automobile ?	a) - René PANHAROL ✓ b) - Rudolf DIESEL c) - Armand PEUGEOT
02	Lequel des mots est mal orthographié ?	a) - altitude b) - adocratie ✓ c) - ahuri
03	En quelle année la numérotation à dix (10) chiffres pour le téléphone est-elle entrée en vigueur en Côte d'Ivoire ?	a) - 2019 b) - 2020 c) - 2021 ✓
04	Les araignées possèdent	a) - des chélicères ✓ b) - des mandibules c) - des antenne
05	L'antonyme de feint est	a) - réuni b) - authentique ✓ c) - séparé
06	Nous ... un quart d'heure à trouver la réponse.	a) - mattâmes b) - mettîmes c) - mîmes ✓
07	De quel pays le KOMPA, danse et genre musical est-il originaire ?	a) - La Guyane b) - Le Guadeloupe c) - Haïti ✓
08	Comment s'appelle dans la mythologie grecque, le dieu romain Mercure ?	a) - Poséidon b) - Dionysos c) - Hermès ✓
09	Quelle est la phrase correcte à l'impératif ?	a) - Demande leur toi-même b) - Demande-leur-toi même ✓ c) - Demandes leurs toi-même
10	Qu'il (venir au subjonctif imparfait) vienne en Italie avec nous !	a) - vînt b) - vînt ✓

11	Quelle est la couleur du quartz nommé améthyste ?	a) - Violet <input checked="" type="checkbox"/> b) - Vert c) - Blanc
12	Quel pays est célèbre en Afrique pour son parc appelé le Parc National Kruger ?	a) - Afrique du Sud <input checked="" type="checkbox"/> b) - Kenya c) - Tanzanie
13	La nouvelle ... les journaux est fausse.	a) - qu'ont donnée <input checked="" type="checkbox"/> b) - qu'ont donné c) - qu'on donné
14	Tes frères ou ton cousin ... bien à la réunion.	a) - viendra b) - viendrons c) - viendront <input checked="" type="checkbox"/>
15	Lequel de ces animaux marins, n'a pas de sang ?	a) - L'étoile de mer <input checked="" type="checkbox"/> b) - Le calamar c) - La pieuvre
16	Son époux lui a offert une voiture ...	a) - flambante neuve <input checked="" type="checkbox"/> b) - flambant neuf c) - flambant neuve
17	Que tu (inclure au subjonctif présent) de l'ail dans ton régime alimentaire, est recommandé par le médecin.	a) - incluses <input checked="" type="checkbox"/> b) - inclus c) - inclu
18	A peine ... arrivé qu'il parlait de repartir.	a) - il était b) - était-il <input checked="" type="checkbox"/> c) - est-il
19	En Côte d'Ivoire l'âge requis pour être électeur est de 18 ans depuis ...	a) - 2015 b) - 2010 <input checked="" type="checkbox"/> c) - 2005
20	Qu'est-ce que la cynologie ?	a) - Etude du cinéma b) - traitement pour les seins c) - Etude et connaissance du chien <input checked="" type="checkbox"/>

### ÉPREUVE D'ANGLAIS

Complete these sentences with the correct grammatical form

21	The report concluded that not only ____ inefficient, but it was also economically unsustainable.	a) the system was b) was the system <input checked="" type="checkbox"/> c) the system had been
22	Had the evidence been disclosed earlier, the verdict ____ substantially different.	a) would have been <input checked="" type="checkbox"/> b) had been c) would be
23	The extent to which the hypothesis remains valid ____ difficult to ascertain.	a) are b) is <input checked="" type="checkbox"/> c) have been
24	Never again ____ such unrestricted access to classified archives.	a) researchers will be granted b) will researchers be granted <input checked="" type="checkbox"/> c) researchers granted

Choose the good possessive determiners

25	One cannot fully appreciate the novel without understanding ____ historical context.	a) its <input checked="" type="checkbox"/> b) hisselfs c) their
26	Every witness insisted that ____ testimony had been accurately recorded.	a) its b) theirselves c) his or her <input checked="" type="checkbox"/>
27	The agency reconsidered ____ position after receiving new evidence.	a) their b) its <input checked="" type="checkbox"/> c) hisselfs

Find the correct French translation of these sentences

28	To what extent technological progress contributes to social inequality remains highly contentious.	a) La mesure dans laquelle le progrès technologique contribue aux inégalités sociales demeure fortement controversée. <input checked="" type="checkbox"/> b) Jusqu'à quel point le progrès technologique contribue à l'inégalité sociale reste hautement contentieux. c) Le progrès technologique et sa contribution aux inégalités sociales demeurent un sujet très conflictuel.
----	--	---

29	Hardly had the negotiations commenced when mutual distrust began to undermine the process.	a) À peine les négociations ont commencé que la méfiance mutuelle a commencé à miner le processus. b) À peine les négociations avaient-elles commencé que la méfiance mutuelle commença à compromettre le processus. ✓ c) Les négociations avaient à peine commencé lorsque la défiance mutuelle compromettait déjà le procédé.
30	The author's interpretation, while intellectually stimulating, ultimately rests on speculative assumptions.	a) L'auteur propose une interprétation intellectuellement stimulante mais fondée sur des spéculations assumées. b) L'interprétation de l'auteur, tandis qu'intellectuellement stimulante, repose ultimement sur des suppositions spéculatives. c) L'interprétation de l'auteur, bien qu'intellectuellement stimulante, repose en définitive sur des hypothèses spéculatives. ✓

**Complete these statements with the correct compound adjectives.**

31	The policy was criticized for being excessively ____.	a) short-sighted ✓ b) shortly-sighted c) short-sighting
32	The researcher submitted a highly ____ critique of the methodology.	a) driven-data b) data-driven ✓ c) data-drive
33	The negotiations collapsed after several ____ exchanges.	a) ill-tempering b) badly-tempered c) ill-tempered ✓

**Complete these sentences with the good causative and resultant clauses**

34	The board had the proposal ____ without delay.	a) approved ✓ b) approving c) approval
35	The delay made the company ____ its entire strategy.	a) rethinking b) rethink ✓ c) rethinking
36	The CEO had the contract ____ by legal experts.	a) reviewable b) reviewing c) reviewed ✓

**Choose the correct comparatives to complete these sentences**

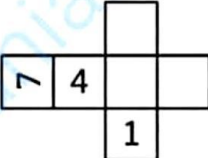



37	This theory is considerably ____ than its predecessor.	a) sophisticated b) more sophisticated ✓ c) most sophisticated
38	His explanation was even ____ than the original hypothesis.	a) clearer ✓ b) more clear c) clearest

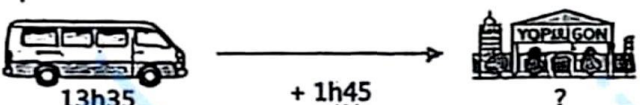
**Find the correct quantifiers in the following statements**

39	They ____ understood the implications of the revised model.	a) few b) bare c) barely ✓
40	There is ____ any consensus among theoretical frameworks.	a) scarcely ✓ b) scarce c) much

**ÉPREUVE DE LOGIQUE**

41.	Le tuyau A remplit le réservoir en 12 heures. Le tuyau B le remplit en 15 heures. Le tuyau C vide complètement le réservoir en 20 heures. Les trois tuyaux sont ouverts en même temps, alors que le réservoir est vide au départ. Combien de temps faudra-t-il pour que le réservoir soit plein ?	a) 12h b) 11h c) 10h ✓
42.	Alice donne 3 bonbons à Bob. Bob en donne 4 à Chloé. Chloé donne 2 bonbons à Alice. À la fin, chacun a 10 bonbons. Combien de bonbons avait Chloé au début ?	a) 9 b) 8 ✓ c) 10
43.	Trouvez l'intrus : ▲▲○○ / ○○▲▲ / ▲○▲○ / ▲○○▲	a) ▲○▲○ ✓ b) ▲○○▲ c) ○○▲▲
44.	Quelle lettre vient logiquement ensuite ? J F M A M J J A S O N ?	a) D ✓ b) J c) F

45.	Si 5 machines fabriquent 5 objets en 5 minutes, combien de temps faut-il à 100 machines pour fabriquer 100 objets ?	a) 5 min ✓ b) 20 min c) 100 min
46.	Un nombre de deux chiffres est tel que : La somme de ses chiffres est 11. Si on inverse les chiffres, le nouveau nombre est plus grand de 27. Quel est ce nombre ?	a) 38 b) 29 c) 47 ✓
47.	Complétez cette suite : ▲ ■ ○ ★ → ★ ▲ ■ ○ → ○ ★ ▲ ■ → ?	a) ■ ○ ★ ▲ b) ▲ ○ ★ ■ c) ★ ■ ○ ▲ ✓
48.	Une femme a 4 filles. Chaque fille a un frère. Combien d'enfants a la femme ?	a) 4 b) 5 ✓ c) 8
49.	Si ▲ avance de 1 place, ■ de 2 places, ○ de 3 places et ★ de 4 places dans ▲ ■ ○ ★, quelle est la figure suivante ?	a) ▲ ○ ★ ■ b) ★ ▲ ■ ○ ✓ c) ■ ★ ▲ ○
50.	Un père et son fils ont ensemble 66 ans. Le père a l'âge du fils inversé. Quel âge a le fils ?	a) 24 ✓ b) 33 c) 42
51.	Quelle est la prochaine valeur dans la suite suivante ? 3 ; 6 ; 11 ; 18 ; 27 ; ?	a) 36 b) 41 ✓ c) 38
52.	Tom possède un nouvel ensemble de clubs de golf. Il envoie la balle à une distance moyenne de 100 mètres à l'aide du club 8. Il envoie la balle à une distance moyenne de 108 mètres à l'aide du club 7. Il envoie la balle à une distance moyenne de 114 mètres à l'aide du club 6. Quelle distance la balle va-t-elle parcourir avec le club 5 ?	a) 122 mètres b) 118 mètres ✓ c) 120 mètres
53.	Lequel parmi les cinq cubes ci-dessous résulterait du pliage de ce papier ? 	a)  b)  c)  ✓
54.	Il y a 3 boîtes : Une contenant seulement des mandarines, Une contenant seulement des mangues, Une contenant un mélange des deux. Les étiquettes sont toutes incorrectes. Vous pouvez prendre un seul fruit dans une seule boîte pour corriger toutes les étiquettes. De quelle boîte prenez-vous un fruit ?	a) Celle marquée « Mangue » b) Celle marquée « Mélange » ✓ c) Peu importe, il faut 2 essais
55.	Trouvez le nombre manquant : 7 - 14 - 28 - 56 - ____	a) 96 b) 102 c) 112 ✓
56.	Quelle figure est différente des autres ? ① △ ② □ ③ ○ ④ ●	a) △ b) ○ c) ● ✓
57.	Complétez : B - D - G - K - ____	a) O b) P ✓ c) Q

58.	<p>À quelle heure arrivera le car ?</p> 	<p>a) 15 h 10 min  b) 15 h 20 min ✓  c) 15 h 30 min</p>
59.	<p>Vous dépassez le deuxième d'une course. Quelle est votre position ?</p>	<p>a) 1<sup>ère</sup>  b) 2<sup>ème</sup> ✓  c) 3<sup>ème</sup></p>
60.	<p>Un voleur entre dans une boutique et utilise un faux billet de 10 000 F CFA pour acheter un objet à 3000 F CFA. Le commerçant fait de la monnaie en demandant 10 000 F CFA à son voisin. Le voleur repart avec l'objet et 7 000 FCFA en monnaie. Plus tard, le commerçant apprend que le billet est faux et rembourse 10 000 F CFA à son voisin. Quelle est la perte réelle du commerçant ?</p>	<p>a) 10 000 F CFA ✓  b) 7 000 F CFA  c) 20 000 FCFA</p>