

# VERSION A

**NB : NE PAS DETACHER LES FEUILLES SVP**

9 ANATOMIE



Abidjan le 04 OCTOBRE 2023

Pr SALAMI KASSANYOU  
Dr KAMISSOKO YAYA  
Mr GBANE  
Mr ABO KROU

EPREUVE D'ANATOMIE - PHYSIOLOGIE DE L'INSTITUT NATIONALE DE  
FORMATION DES AGENTS DE SANTÉ (INFAS) ECOLE DE BASE (IDE-SFDE-M)

Durée : 30 Minutes

VERSION A

I. QUESTIONS A CHOIX DOUBLE (QCD) (1 à 25)

Réponse exacte = +1    Réponse fausse = -1    Pas de réponse = 0  
Enoncé vrai = A    Enoncé faux = B

1. L'orifice d'entrée du bol alimentaire dans l'estomac est le cardia **YA** *sach' pylor*
2. Le Hoquet est une contraction spasmodique du diaphragme **A**
3. L'urine est concentrée au cours de la production de l'hormone anti-diurétique (ADH). **A**
4. L'unité morphologique et fonctionnelle du système nerveux est l'axone **B** *neurone*
5. Une glande endocrine déverse son produit de sécrétion dans le sang **A**
6. Le calcaneum appartient aux os du carpe **B** *tarse.*
7. Au cours de la déglutition, la luette se soulève **A**
8. Le myosis est l'augmentation du calibre de la pupille **B** *rétrécissement*
9. Le pharynx communique avec l'oreille interne par la trompe d'Eustache **B** *mojen*
10. La veine céphalique longe le bord médial du membre supérieur **B** *latérale*
11. Les épithéliums qui recouvrent les cavités ouvertes sur l'environnement, sont appelés muqueuses. **V**
12. La mitose se réalise dans l'ordre chronologique suivant : Prophase-Métaphase-Anaphase-Télophase **V**
13. Les organes de sens sont au nombre de six (6) **B** *5*
14. Le diaphragme est un muscle expirateur principal **B** *inspiratoire.*
15. Le nœud sinusal est situé dans le ventricule droit. **B** *oreillette*

*myopie voir prêt avecit p... 2010*

## II. QUESTIONS A CHOIX MULTIPLE (QCM) 16 à 23

Réponse exacte = +2 (Tous les items exacts). Réponse fausse ou Pas de réponse = 0 Pas de pénalité

16. Le médecin annonce à votre grand-père que son nœud sinusal (stimulateur cardiaque) fonctionne très bien. Expliquez pourquoi son cœur bat toujours à une fréquence de 80 à 100 contractions par minute. Lesquelles des cavités sont stimulées actuellement ?

- A. Les ventricules
- B. Les oreillettes

17. Parmi ces éléments ci-dessous, deux font parti du système nerveux périphérique:

- A. Les nerfs craniens
- B. la moelle épinière
- C. les nerfs rachidiens
- D. la queue de cheval

18. Mettre les mots suivants dans l'ordre de leur utilisation dans le tube digestif :

a) estomac<sup>4</sup> b) jéjunum<sup>6</sup> c) œsophage<sup>3</sup> d) pharynx<sup>2</sup> e) iléon<sup>7</sup> f) rectum<sup>8</sup> g) duodénum<sup>5</sup> h) colon i) bouche<sup>1</sup> j) anus<sup>9</sup>

- A. a-c-d-e-f-g-h-i-j
- B. j-d-c-a-g-b-e-f-j
- C. i-d-e-c-a-g-b-e-f-j
- D. i-c-a-d-g-b-e-f-j
- E. i-d-c-a-g-j-e-f-b

19. Une température inférieure à 35°C est:

- A. Une hyperthermie
- B. Une normo thermie
- C. Une hypothermie
- D. Une thermie

20. Parmi les structures cérébrales suivantes, quelle est celle qui régule le rythme cardio-respiratoire ?

- A. Le tronc cérébral
- B. Le cervelet
- C. Le cerveau
- D. La moelle épinière
- E. Le nerf rachidien

21. Parmi les os suivants, quel est celui qui appartient au bras :

A. La clavicule

B. Le sternum

C. Le radius

D. L'Humérus

E. Le cubitus *ulna*

F.

22. Les os de la face sont au nombre de :

A. 16

B. 14 *13*

C. 12

D. 11

23. Votre ami Éric dit avoir mal au ventre. Vous lui demandez de vous indiquer précisément le siège de la douleur. Il pointe une zone creuse au-dessus de son ombilic, Vous pourriez aussi dire que la douleur se situe dans la région abdominale plus précisément... :

A. flanc droit

B. Hypochondre droite

C. Epigastre

D. Hypogastre

III. SCHÉMAS (Identifications) 24 à 25 : réponse juste = + 2 réponse fausse ou pas de réponse = 0

24. Veuillez indiquer la ou les légende(s) exacte(s) sur la figure ci-dessous

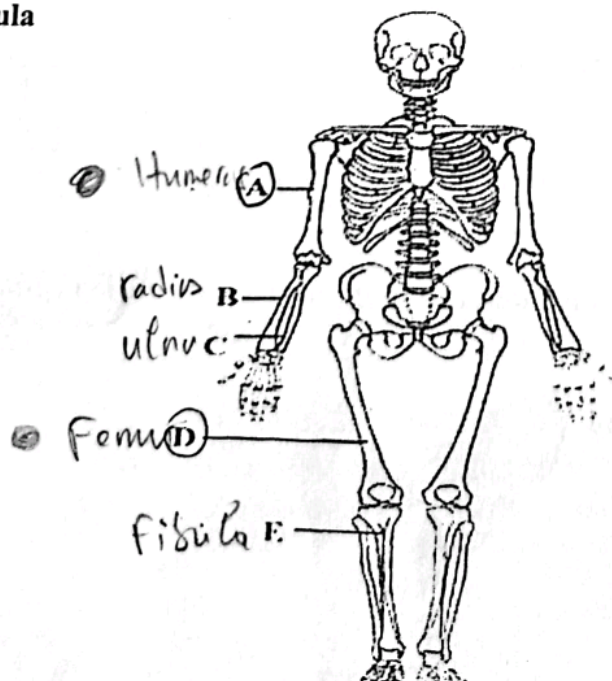
A. Humérus  
Fibula

B : Ulna (Cubitus)

C : Radius

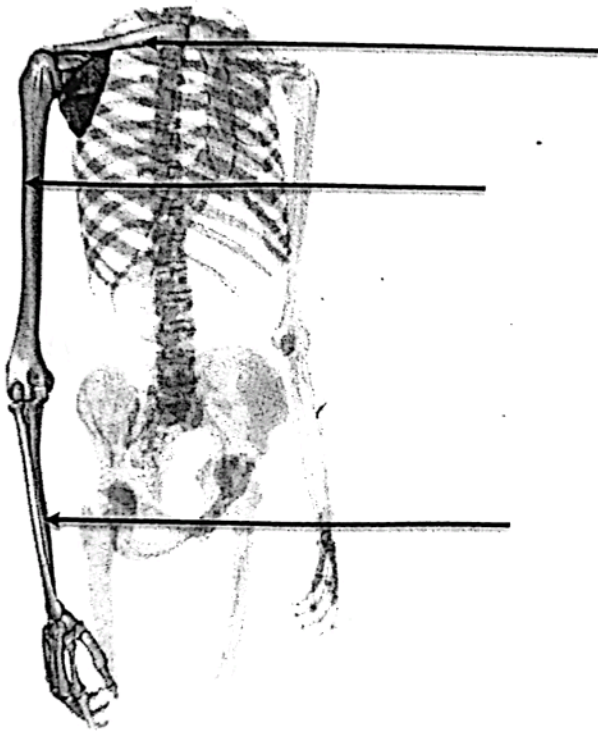
D : Fémur

E :



A 3/4

25. Cochez la lettre correspondant à l'os du bras



A

B

C

A 4/4

**BONNE CHANCE !!**



Abidjan le 19 JUILLET 2023

Pr SALAMI KASSANYOU  
Dr KAMISSOKO YAYA  
Mr GBANE  
Mr ABO KROU

EPREUVE D'ANATOMIE - PHYSIOLOGIE DE L'INSTITUT NATIONALE DE  
FORMATION DES AGENTS DE SANTÉ (INFAS) ECOLE DE BASE (IDE-SFDE-M)

Durée : 30 Minutes

VERSION C

I. QUESTIONS A CHOIX DOUBLE (QCD) (1 à 15)

Réponse exacte= + 1	Réponse fausse= -1	Pas de réponse =0
Enoncé vrai = A	Enoncé faux = B	

1. Le diaphragme est un muscle expirateur principal **V** *est un muscle*
- V** ② Le nœud sinusal est situé dans le ventricule droit **F**
3. Les poumons sont situés dans le médiastin postérieur **F** *est le médian*
4. Une muqueuse est un épithélium qui recouvre une surface ouverte sur l'extérieur **V**
5. Le Fémur appartient au squelette axial **F** *appartient à la*
6. La cavité de l'oreille interne s'ouvre dans le pharynx par la trompe d'Eustache. **F**
- V** ⑦ Les cônes qui servent à la vision précise sont concentrés dans la macula **V**
8. Les épithéliums qui recouvrent les cavités ouvertes sur l'environnement, sont appelés muqueuses. **V**
9. La mitose se réalise dans l'ordre chronologique suivant : Prophase-Métaphase-Anaphase-Télophase **V**
10. L'épiglotte reste abaissée au cours de la déglutition **V**
- X** 11. L'appareil locomoteur est en interdépendance avec l'appareil neurologique **F**
- X** 12. La myopie est une affection au cours de laquelle le patient présente une vision nette de près et vision floue de loin **V**
13. La trompe d'Eustache fait communiquer la caisse du tympan avec le larynx. **F** *pharynx*
14. Dans l'ordre chronologique, le tube digestif comprend : La cavité buccale-Le pharynx-  
L'œsophage-L'estomac-Le colon- Le grêle-Le rectum-Le canal anal **F**
15. Les organes de sens sont au nombre de six (6) **F** **S**

6 D  
D D

II. QUESTIONS A CHOIX MULTIPLE (QCM) 16 à 23 AD

Réponse exacte = +2 (Tous les items exacts). Réponse fausse ou Pas de réponse = 0 Pas de pénalité

16. Lequel de ces organes est situé dans l'hypochondre droit de l'abdomen ?

- A. Le Foie. ✓
- B. La rate.
- C. Le côlon descendant.
- D. L'appendice.

*Symptômes abdominaux*

17. Le médecin annonce à votre grand-père que son nœud sinusal (stimulateur cardiaque) a cessé de Fonctionner. Expliquez pourquoi son cœur bat toujours à une fréquence de 40 à 50 contractions par minute. Lesquelles des cavités sont stimulées actuellement ?

- A - Les ventricules
- B - Les oreillettes

18. La nourriture est dégradée mécaniquement dans la cavité buccale par ?

- A. Les dents ✓
  - B. La langue ✓
  - C. La salive ✓
  - D. A et B
- A - B

19. Les paires de côtes dans la cage thoracique sont au nombre de :

- A. 13
- B. 12 ✓
- C. 16
- D. 11

20. Les os de la ceinture scapulaire sont :

- A. La scapula (omoplate) et clavicule
- B. Le sternum et la clavicule
- C. La scapula (omoplate) et l'humérus
- D. Le carpe et l'humérus

21. Le poumon droit possède 3 lobes et le poumon gauche est doté de 2 lobes.

- A. 2, 3
- B. 3, 3
- C. 2, 2
- D. 3, 2

22. Les tuniques du cœur sont disposées de dedans en dehors :

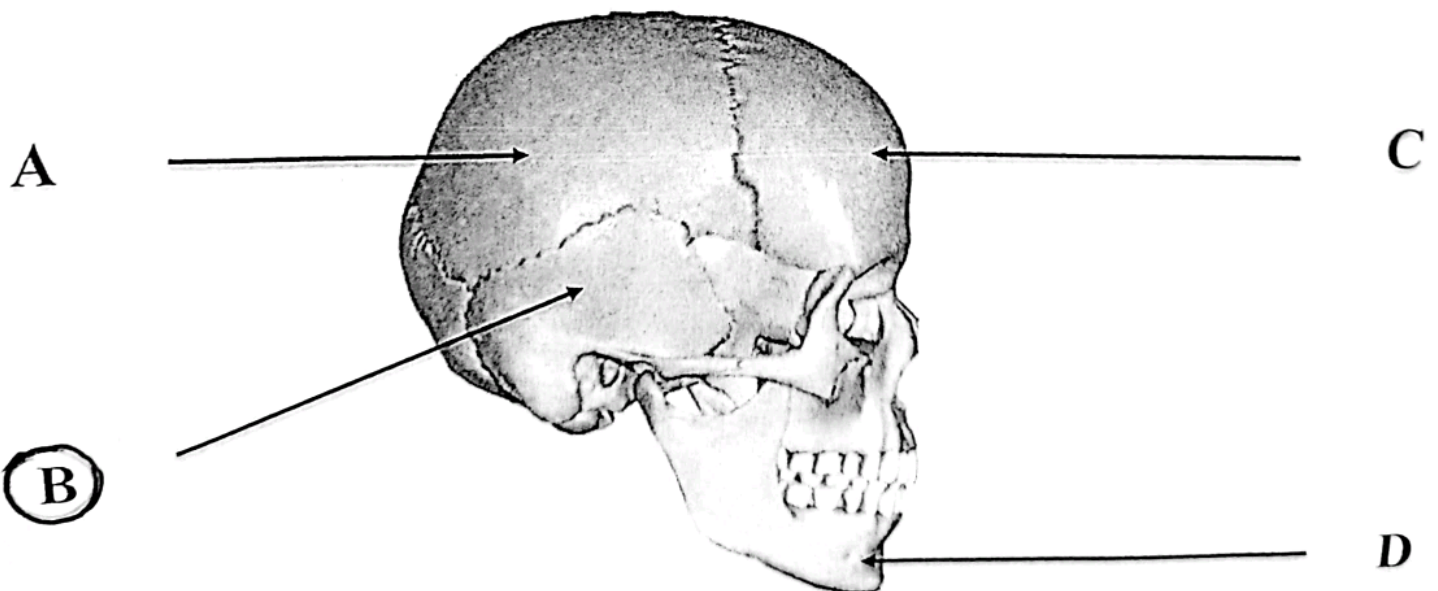
- A. Péricarde - Myocarde - Endocarde
- B. Péricarde - Endocarde - Myocarde
- C. Endocarde - Myocarde - Péricarde

23. Parmi les propositions suivantes, cochez celle qui contient les éléments du Bas appareil respiratoire.

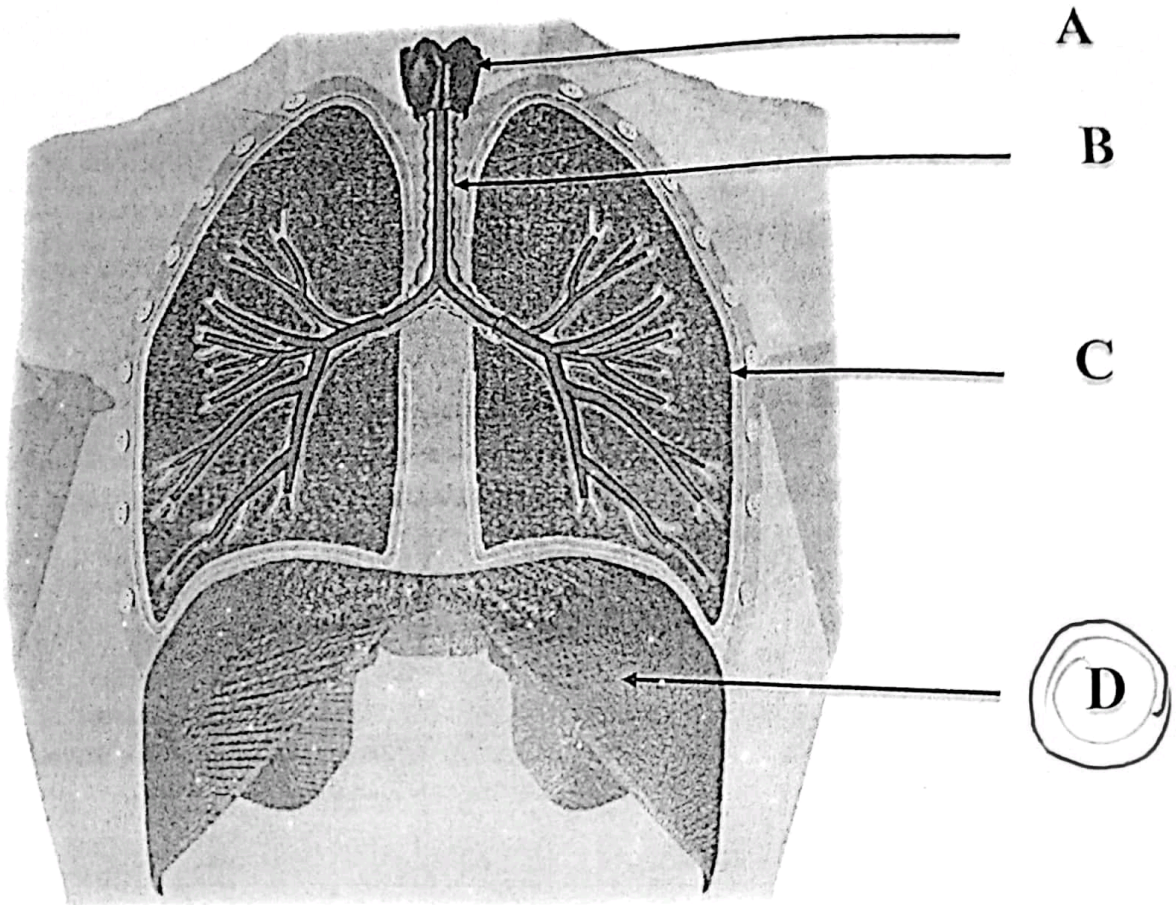
- A. Les bronches et les poumons
- B. Le larynx, la trachée, les bronches et les poumons
- C. Le pharynx, le larynx, la trachée, les poumons
- D. La trachée, les bronches, les bronchioles et les poumons

III. SCHÉMAS (Identifications) 24 à 25 : réponse juste = + 2 réponse fausse ou pas de réponse = 0

24. Cochez la lettre correspondant à l'os temporal



25. Cochez la lettre correspondant au diaphragme



**BONNE CHANCE !!**